

शिक्षा निदेशालय  
राष्ट्रीय राजधानी क्षेत्र, दिल्ली सरकार

सहायक सामग्री  
( 2023-2024 )

कक्षा : दसवीं

सामाजिक विज्ञान

मार्गदर्शन:

श्री अशोक कुमार  
सचिव (शिक्षा)

श्री हिमांशु गुप्ता  
निदेशक (शिक्षा)

डॉ. रीता शर्मा  
अतिरिक्त शिक्षा निदेशक (स्कूल एवं परीक्षा)

समन्वयक:

श्री संजय सुभास कुमार  
उप शिक्षा निदेशक (परीक्षा)

श्रीमती रितु सिंघल  
विशेष कार्याधिकारी (परीक्षा)

श्री राजकुमार  
विशेष कार्याधिकारी (परीक्षा)

श्री कृष्ण कुमार  
विशेष कार्याधिकारी (परीक्षा)

उत्पादन मंडल

अनिल कुमार शर्मा

---

दिल्ली पाठ्य पुस्तक ब्यूरो में राजेश कुमार, सचिव, दिल्ली पाठ्य पुस्तक ब्यूरो, 25/2, पंखा रोड, संस्थानीय क्षेत्र, नई दिल्ली द्वारा प्रकाशित तथा मुद्रक: सुप्रीम ऑफसेट, प्रेस, ग्रेटर नोएडा, उ. प्र.



अशोक कुमार, भा.प्र.से  
सचिव ( शिक्षा )

ASHOK KUMAR, IAS  
Secretary (Education)



राष्ट्रीय राजधानी क्षेत्र, दिल्ली सरकार

पुराना सचिवालय, दिल्ली-110054

दूरभाष : 23890187 टेलीफैक्स: 23890119

Government of National Capital Territory of Delhi

Old Secretariat, Delhi-110054

Phone : 23890187, Telefax : 23890119

e-mail : secyedu@nic.in

D.O. NO. : DE.5/228/Exam/Message/SM

Dated : 24.11.2023 / 2018/1095

### Message

"Children are like wet cement, whatever falls on them makes an impression."

Haim Ginott

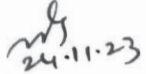
Embracing the essence of this quote, the Directorate of Education, GNCT of Delhi is unwavering in its commitment to its core mission of delivering high-quality education to all its students. With this objective in mind, DoE annually develops support materials meticulously tailored to suit the learning needs of students from classes IX to XII.

Every year, our expert faculty members shoulder the responsibility of consistently reviewing and updating the Support Material to synchronize it with the latest changes introduced by CBSE. This continuous effort is aimed at empowering students with innovative approaches and techniques, fostering their problem-solving skills and critical thinking abilities. I am confident that this year will be no exception, and the Support Material will greatly contribute to our students' academic success.

The support material is the result of unwavering dedication of our team of subject experts. The Support Material has been specially curated for our students, with the belief that its thoughtful and intelligent utilization will undoubtedly elevate the standards of learning and will continue to empower our students to excel in their examinations.

I wish to congratulate the entire team for their invaluable contribution in creating a highly beneficial and practical Support Material for our students.

I extend my best wishes to all our students for a promising and bright future.

  
24.11.23  
(Ashok Kumar)

**HIMANSHU GUPTA, IAS**  
Director, Education & Sports

No. PS/DE/2023/349  
Date: 29/11/2023



Directorate of Education  
Govt. of NCT of Delhi  
Room No. 12, Civil Lines  
Near Vidhan Sabha,  
Delhi-110054  
Ph.: 011-23890172  
E-mail: diredu@nic.in

### MESSAGE

It brings me immense pleasure to present the support material for students of classes IX to XII, meticulously crafted by our dedicated subject experts. Directorate of Education is committed to empower educators and students alike by providing these resources free of cost for students of all government and government aided schools of Delhi.

The support material is an appreciable effort to align the content with the latest CBSE patterns. It has been carefully designed as a resource to facilitate the understanding, acquisition and practice of essential skills and competencies outlined in the curriculum.

The core of this support material lies in providing a framework for adopting an analysis-based approach to learning and problem-solving. It aims to prompt educators to reflect on their teaching methodologies and create an interactive pathway between the child and the text.

In the profound words of Dr A.P.J. Abdul Kalam, **“Educationists should build the capacities of the spirit of inquiry, creativity, entrepreneurial and moral leadership among students and become their role model.”**

The journey of education is ongoing; it's the process, not just the outcome, which shapes us. This support material endeavours to be that catalyst of change for each student of Directorate of Education.

Let us embark on this transformative journey together, ensuring that every student feels equipped not only with the knowledge but also, with the skills and mindset to thrive in the 21st century.

I wish you all the best for all your future endeavours.

  
(HIMANSHU GUPTA)

**Dr. RITA SHARMA**  
Additional Director of Education  
(School/Exam)



Govt. of NCT of Delhi  
Directorate of Education  
Old Secretariat, Delhi-110054  
Ph.: 23890185

D.O. No. DE:5/22.8/Exam/Mexay/SH/  
2013/1096  
Dated: ....24.11.2023.....

### **MESSAGE**

The persistent efforts of the Directorate in making the course material more accessible and student-friendly are evident in the conscientious preparation of the Support Material. Our team consistently adapts to the evolving educational landscape, ensuring that the Support Material for the various subjects of classes 9 to 12 align with the latest CBSE guidelines and syllabi prescribed for the annual examinations.

The Support Material encapsulates crucial subject-specific points and facts, tailored to suit the students, all presented in a lucid language. It is our firm belief that these resources will significantly augment the academic prowess of our students, empowering them to excel in their upcoming examinations.

I extend my heartfelt congratulations to the diligent officials and teachers whose dedication and expertise have played a pivotal role in crafting this invaluable content/resource.

I convey my best wishes to all our students for a future brimming with success. Remember, every page you read is a step towards an enlightened tomorrow.

*Rita Sharma*

**(Dr Rita Sharma)**



शिक्षा निदेशालय  
राष्ट्रीय राजधानी क्षेत्र, दिल्ली सरकार

सहायक सामग्री  
( 2023-2024 )

सामाजिक विज्ञान  
कक्षा : दसवीं

निःशुल्क वितरण हेतु

---

दिल्ली पाठ्य-पुस्तक ब्यूरो द्वारा प्रकाशित



# भारत का संविधान

## उद्देशिका

हम, भारत के लोग, भारत को एक <sup>1</sup>[संपूर्ण प्रभुत्व-संपन्न समाजवादी पंथनिरपेक्ष लोकतंत्रात्मक गणराज्य] बनाने के लिए, तथा उसके समस्त नागरिकों को :

सामाजिक, आर्थिक और राजनैतिक न्याय,  
विचार, अभिव्यक्ति, विश्वास, धर्म  
और उपासना की स्वतंत्रता,  
प्रतिष्ठा और अवसर की समता

प्राप्त कराने के लिए,  
तथा उन सब में

व्यक्ति की गरिमा और <sup>2</sup>[राष्ट्र की एकता

और अखंडता] सुनिश्चित करने वाली बंधुता

बढ़ाने के लिए

दृढ़संकल्प होकर अपनी इस संविधान सभा में आज तारीख  
26 नवंबर, 1949 ई. को एतद्वारा इस संविधान को  
अंगीकृत, अधिनियमित और आत्मार्पित करते हैं।

1. संविधान (बयालीसवां संशोधन) अधिनियम, 1976 की धारा 2 द्वारा (3.1.1977 से) "प्रभुत्व-संपन्न लोकतंत्रात्मक गणराज्य" के स्थान पर प्रतिस्थापित।
2. संविधान (बयालीसवां संशोधन) अधिनियम, 1976 की धारा 2 द्वारा (3.1.1977 से) "राष्ट्र की एकता" के स्थान पर प्रतिस्थापित।



# THE CONSTITUTION OF INDIA

## PREAMBLE

**WE, THE PEOPLE OF INDIA**, having solemnly resolved to constitute India into a <sup>1</sup>**[SOVEREIGN SOCIALIST SECULAR DEMOCRATIC REPUBLIC]** and to secure to all its citizens :

**JUSTICE**, social, economic and political;

**LIBERTY** of thought, expression, belief, faith and worship;

**EQUALITY** of status and of opportunity; and to promote among them all

**FRATERNITY** assuring the dignity of the individual and the <sup>2</sup>[unity and integrity of the Nation];

**IN OUR CONSTITUENT ASSEMBLY** this twenty-sixth day of November, 1949 do **HEREBY ADOPT, ENACT AND GIVE TO OURSELVES THIS CONSTITUTION.**

1. Subs. by the Constitution (Forty-second Amendment) Act, 1976, Sec.2, for "Sovereign Democratic Republic" (w.e.f. 3.1.1977)
2. Subs. by the Constitution (Forty-second Amendment) Act, 1976, Sec.2, for "Unity of the Nation" (w.e.f. 3.1.1977)



# भारत का संविधान

## भाग 4क

### नागरिकों के मूल कर्तव्य

#### अनुच्छेद 51 क

**मूल कर्तव्य** - भारत के प्रत्येक नागरिक का यह कर्तव्य होगा कि वह -

- (क) संविधान का पालन करे और उसके आदर्शों, संस्थाओं, राष्ट्रध्वज और राष्ट्रगान का आदर करे;
- (ख) स्वतंत्रता के लिए हमारे राष्ट्रीय आंदोलन को प्रेरित करने वाले उच्च आदर्शों को हृदय में संजोए रखे और उनका पालन करे;
- (ग) भारत की संप्रभुता, एकता और अखंडता की रक्षा करे और उसे अक्षुण्ण बनाए रखे;
- (घ) देश की रक्षा करे और आह्वान किए जाने पर राष्ट्र की सेवा करे;
- (ङ) भारत के सभी लोगों में समरसता और समान भ्रातृत्व की भावना का निर्माण करे जो धर्म, भाषा और प्रदेश या वर्ग पर आधारित सभी भेदभावों से परे हो, ऐसी प्रथाओं का त्याग करे जो महिलाओं के सम्मान के विरुद्ध हों;
- (च) हमारी सामासिक संस्कृति की गौरवशाली परंपरा का महत्त्व समझे और उसका परिरक्षण करे;
- (छ) प्राकृतिक पर्यावरण की, जिसके अंतर्गत वन, झील, नदी और वन्य जीव हैं, रक्षा करे और उसका संवर्धन करे तथा प्राणिमात्र के प्रति दयाभाव रखे;
- (ज) वैज्ञानिक दृष्टिकोण, मानववाद और ज्ञानार्जन तथा सुधार की भावना का विकास करे;
- (झ) सार्वजनिक संपत्ति को सुरक्षित रखे और हिंसा से दूर रहे;
- (ञ) व्यक्तिगत और सामूहिक गतिविधियों के सभी क्षेत्रों में उत्कर्ष की ओर बढ़ने का सतत् प्रयास करे, जिससे राष्ट्र निरंतर बढ़ते हुए प्रयत्न और उपलब्धि की नई ऊँचाइयों को छू सके; और
- (ट) यदि माता-पिता या संरक्षक है, छह वर्ष से चौदह वर्ष तक की आयु वाले अपने, यथास्थिति, बालक या प्रतिपाल्य को शिक्षा के अवसर प्रदान करे।



# Constitution of India

## Part IV A (Article 51 A)

### Fundamental Duties


It shall be the duty of every citizen of India —

- (a) to abide by the Constitution and respect its ideals and institutions, the National Flag and the National Anthem;
- (b) to cherish and follow the noble ideals which inspired our national struggle for freedom;
- (c) to uphold and protect the sovereignty, unity and integrity of India;
- (d) to defend the country and render national service when called upon to do so;
- (e) to promote harmony and the spirit of common brotherhood amongst all the people of India transcending religious, linguistic and regional or sectional diversities; to renounce practices derogatory to the dignity of women;
- (f) to value and preserve the rich heritage of our composite culture;
- (g) to protect and improve the natural environment including forests, lakes, rivers, wildlife and to have compassion for living creatures;
- (h) to develop the scientific temper, humanism and the spirit of inquiry and reform;
- (i) to safeguard public property and to abjure violence;
- (j) to strive towards excellence in all spheres of individual and collective activity so that the nation constantly rises to higher levels of endeavour and achievement;
- \* (k) who is a parent or guardian, to provide opportunities for education to his child or, as the case may be, ward between the age of six and fourteen years.

---

**Note:** The Article 51A containing Fundamental Duties was inserted by the Constitution (42nd Amendment) Act, 1976 (with effect from 3 January 1977).

\* (k) was inserted by the Constitution (86th Amendment) Act, 2002 (with effect from 1 April 2010).



डॉ. निधि शर्मा

समूह प्रमुख

उपप्रधानाचार्य

राजकीय सह-शिक्षा उच्चतर माध्यमिक विद्यालय, डी.डी.ए. फ्लैट्स,  
फेज़ II, कालकाजी -1925041

**हेमेन्द्र मोहन खाँ**

प्रवक्ता इतिहास

सदस्य कोर अकादमिक यूनिट

सर्वोदय (सह-शिक्षा) उच्चतर माध्यमिक विद्यालय, आई.पी. एक्सटेंशन-1105008

**तरूण मिश्रा**

टी.जी.टी. सामाजिक विज्ञान

सदस्य (कोर अकादमिक यूनिट)

राजकीय वरिष्ठ बाल विद्यालय मुकुंदपुर - 1207236

**मंजू बी. कुमार**

टी.जी.टी. सामाजिक विज्ञान

राजकीय प्रतिभा विकास विद्यालय, राजनिवास मार्ग

**भूपेन्द्र कुमार तिवारी**

टी.जी.टी. सामाजिक विज्ञान

राजकीय प्रतिभा विकास विद्यालय, रोहिणी सेक्टर-21

**नूरुद्दीन**

टी.जी.टी. सामाजिक विज्ञान

एंग्लो एरेबिक उ.मा. विद्यालय, अजमेरी गेट



**CLASS X**  
**COURSE STRUCTURE**

History (India and the Contemporary World - II)		Suggestive no. of periods = 60	20 inclusive of map pointing
Section	Chapter No.	Chapter name	Marks allocated
I Events and processes	I	The Rise of Nationalism in Europe	17
	II	Nationalism In India	
II Livelihoods, Economies and Societies	III	The Making of a Global World <b>(To be evaluated in the Board Examination - Subtopics: 1 to 1.3 Pre Modern World to Conquest, Disease and Trade)</b>	6
	IV	<b>Interdisciplinary project as part of multiple assessments</b> (Internally assessed for 5 marks Sub topics 2 to 4.4 The nineteenth century (1815-1914) to end of Bretton Woods & the beginning of "Globalisation.")	
III Everyday Life, Culture and Politics	IV	The Age of Industrialization <b>(To be assessed as part of Periodic Assessments only)</b>	6
	V	Print Culture and the Modern World	
			18 + 2 map pointing *
			* Marks as mentioned above

Geography (Contemporary India - II)		Suggestive no. of periods = 55	20 inclusive of map pointing
Chapter No.	Chapter Name	No. of Periods	Marks allocated
1	Resources and Development	7	17 + 3 map pointing
2	Forest and Wildlife Resources	7	
3	Water Resources	7	
4	Agriculture	10	
5	Minerals and Energy Resources	10	
6	Manufacturing Industries	10	
7	Lifelines of National Economy <b>Only map pointing to be evaluated in the Board Examination</b>	2	
	<b>Interdisciplinary project as part of multiple assessments</b> (Internally assessed for 5 marks)	2	
<b>Political Science (Democratic Politics - II)</b>		<b>Suggestive no. of periods = 50</b>	<b>20</b>
Unit no	Chapter No	Chapter Name	Marks allocated
I	1	Power - sharing	15
	2	Federalism	

II	3	Gender, Religion and Caste	12	20
III	4	Political Parties	12	
IV	5	Outcomes of Democracy	11	
<b>Economics (Understanding Economic Development)</b>			<b>Suggestive no. of periods = 50</b>	<b>20</b>
<b>Chapter No.</b>		<b>Chapter name</b>	<b>No. of Periods</b>	<b>Marks allocated</b>
1	Development		12	
2	Sectors of the Indian Economy		12	
3	Money and Credit		12	20
	Globalisation and The Indian Economy			
	<b>To be evaluated in the Board Examination:</b>		<b>8</b>	
	<ul style="list-style-type: none"> <li>• What is Globalization?</li> <li>• Factors that have enabled Globalisation</li> </ul>			
4	<b>Interdisciplinary project as part of multiple assessments</b> (Internally assessed for 5 marks)			
	<ul style="list-style-type: none"> <li>• Production across the countries</li> <li>• Chinese toys in India</li> <li>• World Trade Organisation</li> <li>• The Struggle for a Fair Globalisation</li> </ul>		<b>6</b>	
5	Consumer Rights (Project Work)			

**CLASS X  
COURSE CONTENT**

History: India and the Contemporary World - II			
Chapter No. and Name	Specific Learning Objectives	Suggested Teaching Learning Process	Learning Outcome with Specific Competencies
I <b>The Rise of Nationalism in Europe</b>	<ul style="list-style-type: none"> <li>Examine the impact of the French Revolution on the European countries in the making of the Nation state.</li> <li>Explore the nature of the diverse social movements of the time. (1830-1848)</li> <li>Examine the ways by which the idea of nationalism emerged and led to the formation of nation states.</li> <li>Comprehend how the World War I was triggered by the scramble for colonies in the Balkan states</li> </ul>	<ul style="list-style-type: none"> <li>Watch Videos/ read Textual materials/ read related novels on the French revolution followed by a Class room discussion and presentation.</li> <li>World café/ Panel discussion/ debate using Collaborative learning, to explore the diverse social groups and present it as a group.</li> <li>Use of graphic organizers to explain the idea of unification of states to form one nation. (Italy/ Germany/ Greece)</li> <li>Visual representation of the map of Pre-First World War Europe followed by the Class discussion and reflection activity based on the map of Post First World War Europe</li> </ul>	<ul style="list-style-type: none"> <li>Infer how the French Revolution had an impact on the European countries in the making of nation state.</li> <li>Enumerate and evaluate the validity of the nature of the diverse social movements of the time</li> <li>Analyse and infer how the idea of nationalism emerged and led to the formation of nation states in Europe and elsewhere.</li> <li>Illustrate that, the quest for imperialism triggered the First World War.</li> </ul>
II	<ul style="list-style-type: none"> <li>Explore various facets of Nationalistic movements that ushered in the sense of Collective Belonging</li> </ul>	<ul style="list-style-type: none"> <li>Sequence chart/ story Board/ Story telling pedagogy to illustrate various facets of Nationalistic movements that ushered in the sense of Collective Belonging</li> </ul>	<ul style="list-style-type: none"> <li>Illustrate various facets of Nationalistic movements that ushered in the sense of Collective Belonging</li> </ul>



<p><b>Nationalism in India</b></p>	<ul style="list-style-type: none"> <li>• Discuss the impact of the first world war on triggering two defining movements (Khilafat &amp; Non-cooperation Movement) in India.</li> <li>• Assess/ appraise the role of Mahatma Gandhi and other leaders in the two movements (NCM &amp; CDM)</li> </ul>	<ul style="list-style-type: none"> <li>• Students will examine textual content and other references and Present through PPT.</li> <li>• Viewing the relevant Snippets from the movies/ video clippings depicting various events involving Gandhiji and other leaders and present findings through a panel discussion or seminars.</li> </ul>	<ul style="list-style-type: none"> <li>• Summarize the aspects of the First World War that triggered two defining movements (Khilafat &amp; Non-cooperation Movement) in India</li> <li>• Evaluate the effectiveness of the strategies applied by Gandhiji and other leaders in the Two movements.</li> </ul>
<p><b>III</b></p> <p><b>The Making of a Global World</b></p>	<ul style="list-style-type: none"> <li>• Explore various aspects of how the world changed profoundly in the 19th century in terms of Economic, Political, Social, Cultural and technological areas.</li> </ul>	<ul style="list-style-type: none"> <li>• Initiate an Inquiry based learning using world café' strategy and present your findings through café conversation strategy of each area (transformed the world in terms of economy, political, cultural and technological aspects.)</li> <li>• Art integration and gallery walk to depict the interconnectedness.</li> <li>• Students examine the photographic display/ new paper cutting that depict the destructive impact of colonialism on the livelihoods of colonised people and present their understandings in the form of Newsletter/ cartoon strips/ Inter Disciplinary Project</li> </ul>	<ul style="list-style-type: none"> <li>• Summarize the changes that transformed the world in terms of economy, political, cultural and technological areas.</li> <li>• Depict the global interconnectedness from the Pre modern to the present day.</li> <li>• Enumerate the destructive impact of colonialism on the livelihoods of colonised people</li> </ul>
<p><b>Sub topic 1</b></p> <p>The pre modern world</p>	<ul style="list-style-type: none"> <li>• Analyse the destructive impact of colonialism on the economy and the livelihoods of colonised people.</li> </ul>	<p>Refer Annexure IV</p>	<p>Refer Annexure IV</p>
<p><b>Sub topic 2</b></p> <p>19<sup>th</sup> century 1815 -1914</p> <p><b>Sub topic 3</b></p>	<p><b>Inter disciplinary Project</b> with chapter 7 of Geography: Life lines of National Economy and chapter 4 of Economics:</p>	<p>Refer Annexure IV</p>	<p>Refer Annexure IV</p>

<p>The inter-war economy <b>Sub topic 4</b> Rebuilding of world economy: the post war era.</p>	<p>Globalization and the Indian Economy</p>		
<p><b>IV</b> <b>The Age of Industrialisation</b></p>	<ul style="list-style-type: none"> <li>Examine economic, political, social features of Pre and Post Industrialization.</li> <li>Analyse the impact of Industrialisation in the colonies with specific focus on India.</li> </ul>	<ul style="list-style-type: none"> <li>Watch relevant Videos/ Visuals/ documentaries/ the movie clippings on features of Pre &amp; Post economic, political, social features of Pre and Post Industrialization</li> <li>Debate on the impact of Industrialisation in the colonies with specific focus on India.</li> </ul>	<ul style="list-style-type: none"> <li>Enumerate economic, political, social features of Pre and Post Industrialization.</li> <li>Analyse and infer how the industrialization impacted colonies with specific focus on India.</li> </ul>
<p><b>V</b> <b>Print culture and the Modern World.</b></p>	<ul style="list-style-type: none"> <li>Examine the development of Print from its beginnings in East Asia to its expansion in Europe and India</li> <li>Analyse the impact of the spread of technology and consider how social life and culture changed with coming of print</li> </ul>	<ul style="list-style-type: none"> <li>Flow chart to depict the development of Print</li> <li>Declaration on the profound transformation of people due to the print revolution.</li> <li>Use of Venn diagram to compare the advantages of hand written books and the printed books</li> <li>Interpret and infer from pictures, cartoons, extracts from propaganda literature on important events and issues with focus on print culture.</li> </ul>	<ul style="list-style-type: none"> <li>Enumerate the development of Print from its beginnings in East Asia to its expansion in Europe and India.</li> <li>Comment on the statement that the print revolution was not just a way of producing book but profound transformation of people.</li> <li>Compare and contrast the old tradition of hand written manuscripts versus the print technology.</li> <li>Summarise the role of Print revolution and its impact on World &amp; India 's political, social and economic condition.</li> </ul>

Political Science: Democratic Politics - II			
Chapter No. and Name	Specific Learning Objectives	Suggested Teaching Learning Process	Learning Outcome With Specific Competencies
1 Power - sharing	<ul style="list-style-type: none"> <li>Examines and comprehends how democracies handle demands and need for power sharing.</li> <li>Analyse the Challenges faced by countries like Belgium and Sri Lanka ensuring effective power sharing</li> </ul>	<ul style="list-style-type: none"> <li>Read relevant Newspaper articles/ clippings on Power sharing and present the findings in the form of flow chart</li> <li>Discuss various forms of power-sharing</li> <li>Classroom discussion on challenges faced by Belgium &amp; Sri Lanka in ensuring effective power sharing</li> <li>Socratic discussion on Power Sharing Techniques used by India, Sri Lanka and Belgium</li> <li>Read Textual resource and other resources and present findings through graphic organizers</li> </ul>	<ul style="list-style-type: none"> <li>Enumerate the need for power sharing in democracy.</li> <li>Analyse and infer the challenges faced by Belgium and Sri Lanka in ensuring Power sharing.</li> <li>Compare and contrast the power sharing of India with Sri Lanka and Belgium</li> <li>Summarize the purpose of power sharing in preserving the unity and stability of a country.</li> </ul>
2 Federalism	<ul style="list-style-type: none"> <li>Comprehend the theory and Practice of Federalism in India.</li> <li>Analyse the policies and politics that has strengthened federalism in practice.</li> </ul>	<ul style="list-style-type: none"> <li>Group discussion on the distribution of powers between Union and state Government and present the outcomes through presentations.</li> <li>Debate on policies and politics that strengthens Federalism in practice and present through mind map</li> </ul>	<ul style="list-style-type: none"> <li>Analyse and infer how federalism is being practised in India.</li> <li>Analyse and infer how the policies and politics that has strengthens federalism in practice.</li> </ul>
3 Gender, Religion and Caste	<ul style="list-style-type: none"> <li>Examines the role and differences of Gender, religion and Caste in practicing Democracy in India.</li> <li>Analyse the different expressions based on these</li> </ul>	<ul style="list-style-type: none"> <li>Skit/ street play to enumerate how the differences in gender, religion and caste impact the practicing healthy or otherwise in a Democracy.</li> <li>Graphic method to Analyse and infer how different expressions based on</li> </ul>	<ul style="list-style-type: none"> <li>Enumerates how the differences in gender, religion and caste impact the practicing healthy or otherwise in a Democracy</li> <li>Analyse and infers how different expressions based on</li> </ul>

	<p>differences are healthy or otherwise in a democracy</p>	<p>differences in Gender, Religion and Caste are healthy or unhealthy in a democracy</p>	<p>the differences in Gender, Religion and Caste are healthy or unhealthy in a democracy</p>
<b>4</b>	<p><b>Political Parties</b></p> <ul style="list-style-type: none"> <li>Examine the role, purpose and no. of Political Parties in Democracy</li> <li>Evaluates the contributions made by national and regional political parties in making or otherwise of Indian democracy.</li> </ul>	<p>differences in Gender, Religion and Caste are healthy or unhealthy in a democracy.</p> <ul style="list-style-type: none"> <li>Role play the role, purpose and no. of Political Parties in Democracy</li> <li>Reads newspapers, watches video clippings to justify the contributions /non contributions made by national and regional political parties in successful functioning of Indian democracy.</li> </ul>	<ul style="list-style-type: none"> <li>Enumerates the role, purpose, and no. of Political Parties in Democracy</li> <li>Justifies the contributions /non contributions made by national and regional political parties in successful functioning of Indian democracy.</li> </ul>
<b>5</b>	<p><b>Outcomes of Democracy</b></p> <ul style="list-style-type: none"> <li>Comprehends the expected and actual outcomes of democracy in view of quality of government, economic wellbeing, in equality, social differences, conflict, freedom and dignity.</li> <li>Analyses the reasons behind gap that occurs in conversion of expected outcomes into actual outcomes of democracy in various respects: quality of government, economic wellbeing, inequality, social differences and conflict and finally freedom and dignity</li> </ul>	<p>differences in Gender, Religion and Caste are healthy or unhealthy in a democracy.</p> <ul style="list-style-type: none"> <li>Graphic organizer to enumerates how a success of democracy depends on quality of government, economic wellbeing, in equality, social differences, conflict, freedom and dignity</li> <li>Case study to Analyses and infers why sometimes the gap occurs between expected outcome and actual outcome effects the success of Democracy.</li> </ul>	<ul style="list-style-type: none"> <li>Enumerates how a success of democracy depends on quality of government, economic wellbeing, in equality, social differences, conflict, freedom and dignity.</li> <li>Analyses and infers why sometimes the gap occurs between expected outcome and actual outcome effects the success of Democracy.</li> </ul>

Geography: Contemporary India - II			
Chapter No. and Name	Specific Learning Objectives	Suggested Teaching Learning Process	Learning Outcome with Specific Competencies
1 Resources and Development	<ul style="list-style-type: none"> <li>Examine the significance, interdependence, utilization development need of Planning of resources in India.</li> <li>Summarise the rationale for development of resources</li> <li>Comprehends the reasons for non-optimal utilization of land in India.</li> <li>Analyse the need to conserve all the resources</li> <li>Examine the significant role for resource planning in the light of the present requirements in India</li> </ul>	<ul style="list-style-type: none"> <li>Brainstorming on how the resources are interdependent in nature and the need to develop them in India and present in the form of Venn diagram</li> <li>Use of maps, charts, and other tools to identify patterns and trends of land utilization</li> <li>Case study and debate on the topic "Is the development acting as an adversary for conservation" and present a report in the form of PPT.</li> </ul>	<ul style="list-style-type: none"> <li>Enumerates how the resources are interdependent, justify how planning is essential judicious utilization of resources and the need to develop them in India</li> <li>Infers the rationale for development of resources</li> <li>Analyse and evaluate data and information related to non-optimal land, utilization in India</li> <li>Appraise and infer the need to conserve all resources available in India suggest remedial measures for optimal utilization of underutilized resources</li> </ul>
2 Forest and Wildlife Resources	<ul style="list-style-type: none"> <li>Examine the importance of conserving forests and wild life and their interdependency in maintaining the ecology for the sustainable development of India.</li> <li>Analyse the role of grazing and wood cutting in the development and degradation</li> </ul>	<ul style="list-style-type: none"> <li>Read newspaper articles/ watch videos on deforestation and need for conservation and through world café strategy present your findings.</li> <li>Debate how developmental works, grazing wood cutting have impacted on the survival or otherwise of the forests.</li> <li>Use art integration strategy to summarize and present the reasons for</li> </ul>	<ul style="list-style-type: none"> <li>Enumerate how conservation of forests and wildlife are interdependent in nature and in maintain the ecology of India.</li> <li>Analyse and infer how some of the developmental works, grazing wood cutting have impacted on the survival or otherwise of the forests.</li> </ul>

	<ul style="list-style-type: none"> <li>Comprehends the reasons for conservation of biodiversity in India under sustainable development.</li> <li>Examine the reasons for conservation of water resource in India.</li> <li>Analyse and infer how the Multipurpose projects are supporting the requirement of water in India.</li> <li>Examine the crucial role played by agriculture in our economy and society.</li> <li>Analyses the challenges faced by the farming community in India.</li> <li>Comprehends the various aspects of agriculture, including crop production, types of farming, modern agricultural practices, and the impact of agriculture on the environment.</li> <li>Comprehends the formation of different types of minerals, location, their uses, importance for human life and the economy.</li> </ul>	<p>conservation of biodiversity in India under sustainable development.</p> <ul style="list-style-type: none"> <li>Brainstorming session to discuss the scarcity of water and present through graphic organizers</li> <li>Prepare a PPT to Summarize the roles of Multipurpose projects in supporting the water requirement of India.</li> <li>Discusses the challenges faced by farmers, such as low productivity, lack of modern technology, inadequate irrigation facilities, and post-harvest losses and presents the findings through PPT</li> <li>Reads Newspapers and panel discusses the challenges faced by the farming community in India</li> <li>Use of graphic organizers to distinguish the traditional and modern farming methods</li> <li>Usage of textual resource, mind maps, pie charts to Analyse and infer how different types of minerals are formed, where they are found, their uses, importance for human life and the economy</li> </ul>	<ul style="list-style-type: none"> <li>Summarizes the reasons for conservation of biodiversity in India under sustainable development.</li> <li>Enumerate why the water resource of India to be conserved.</li> <li>Summarize the roles of Multipurpose projects in supporting the water requirement of India.</li> <li>Enumerate how agriculture plays a contributory role in Indian economy</li> <li>Analyses and infers the challenges faced by the farming community in India</li> <li>Identifies and summarizes various aspects of agriculture, including crop production, types of farming, modern agricultural practices, and the impact of agriculture on the environment.</li> <li>Analyses and infers how different types of minerals are formed, where they are found, their uses, importance for human life and the economy</li> </ul>
<b>3</b> <b>Water Resources</b>			
<b>4</b> <b>Agriculture</b>			
<b>5</b>			

<p><b>Minerals and Energy Resources</b></p>	<ul style="list-style-type: none"> <li>Analyses the importance of minerals and natural resources for economic development of the country their distribution, and sustainable use.</li> <li>Distinguishes between the conventional and non-conventional sources of energy .</li> </ul>	<ul style="list-style-type: none"> <li>Use graphic organizers to infer the resource distribution to real-world situations and proposes strategies for sustainable use of natural resources</li> <li>Use of flow chart to Differentiate between the conventional and non-conventional sources of energy</li> </ul>	<ul style="list-style-type: none"> <li>Infers the resource distribution to real-world situations and proposes strategies for sustainable use of natural resources</li> <li>Differentiates between the conventional and non-conventional sources of energy.</li> </ul>
<p><b>6</b></p> <p><b>Manufacturing Industries</b></p>	<ul style="list-style-type: none"> <li>Distinguishes between various types of manufacturing industries based on their input materials, processes, and end products, and analyse their significance in the Indian economy.</li> <li>Examines the impact of manufacturing industries on the environment, and develop strategies for sustainable development of the manufacturing sector.</li> <li>Analyses the relation between the availability of raw material and location of the Industry</li> </ul>	<ul style="list-style-type: none"> <li>Use of flow chart to differentiate between various types of manufacturing industries based on their input materials, processes, and end products.</li> <li>Utilizes the textual information (data given through various maps/ graphs) to Enumerates the impact of manufacturing industries on the environment, and develop strategies for sustainable development of the manufacturing sector.</li> <li>Uses Case Studies to infer the relation between availability of raw material and location of the Industry</li> </ul>	<ul style="list-style-type: none"> <li>Differentiates between various types of manufacturing industries based on their input materials, processes, and end products, and analyse their significance in the Indian economy.</li> <li>Enumerates the impact of manufacturing industries on the environment, and develop strategies for sustainable development of the manufacturing sector.</li> <li>Infers the relation between availability of raw material and location of the Industry</li> </ul>

7 <b>Life Lines of National Economy</b>	<b>Inter disciplinary project</b> with chapter 3 of History: The making of a Global world and chapter 4 of Economics: Globalization and the Indian Economy	Refer Annexure IV	Refer Annexure IV
<b>Economics: Understanding Economic Development</b>			
<b>Chapter No. and Name</b>	<b>Specific Learning Objectives</b>	<b>Suggested Teaching Learning Process</b>	<b>Learning Outcome with Specific Competencies</b>
<b>1 Development</b>	<ul style="list-style-type: none"> <li>• Examine the significance of designing suitable developmental goals in shaping the nation.</li> <li>• Examine the importance of per capita income and compare the per capita income of various countries to infer about reasons for the variance</li> <li>• Analyse the HDI in relation to PCI.</li> <li>• Examine the need for Sustainable development</li> </ul>	<ul style="list-style-type: none"> <li>• Hot seat strategy to enumerate different developmental Goals that helps in nation building</li> <li>• Case study to analyse and infer how the per capita income depicts the economic condition of the nation.</li> <li>• Graphic organizer to compare and contrast the t relation between HDI and PCI</li> <li>• Declamation to Analyses the multiple perspectives on the need development</li> </ul>	<ul style="list-style-type: none"> <li>• Enumerate different and examine the different processes involved in setting developmental Goals that helps in nation building</li> <li>• Analyse and infer how the per capita income depicts the economic condition of the nation.</li> <li>• Evaluate the development goals that have been set for the nation by the Planning commission of India -with specific reference to their efficacy, implemental strategies, relevance to current requirements of the nation</li> <li>• Compare and contrast how the per capita income of some countries and infer reasons for the variance</li> <li>• Analyses the multiple perspectives on the need development.</li> </ul>



<p><b>2</b></p> <p><b>Sectors of the Indian Economy</b></p>	<ul style="list-style-type: none"> <li>Analyse and evaluate the economic activities in different sectors and how they contribute to the overall growth and development of the Indian economy.</li> <li>Identify problems in different sectors and propose solutions based on their understanding of the sectors.</li> <li>Analyse the major employment generating sectors and observe the challenges faced in an effort to provide employment to all.</li> <li>Examines the role of Unorganised sector in impacting PCI currently and proposes suggestive steps to reduce the unorganised sector for more productive contributions to GDP</li> <li>Examine and infer the essential role of the Public and Private sectors the present trends of PPP and efficacy of the initiative</li> </ul>	<ul style="list-style-type: none"> <li>Data analyse various sectors and their contribution in GDP and NDP.</li> <li>Research based strategy to propose solutions to identified problems in different sectors based on their understanding.</li> <li>Read Newspaper articles and group discuss to Summarize how the organised and unorganised sectors are providing employment and the challenges faced by them</li> </ul>	<ul style="list-style-type: none"> <li>Analyse and infer how the economic activities in different sectors contribute to the overall growth and development of the Indian economy.</li> <li>Propose solutions to identified problems in different sectors based on their understanding</li> <li>Summarize how the organised and unorganised sectors are providing employment and the challenges faced by them</li> <li>Enumerates the role of unorganised sector in impacting PCI currently and proposes suggestive steps to reduce the unorganised sector for more productive contributions to GDP</li> <li>Enumerates and infer the essential role of the Public and Private sectors the present trends of PPP and efficacy of the initiative</li> </ul>
<p><b>3</b></p> <p><b>Money and Credit</b></p>	<ul style="list-style-type: none"> <li>Examine money as a medium of exchange in all transactions of goods and services since ancient times to the present times.</li> </ul>	<ul style="list-style-type: none"> <li>Group discussion to Enumerate how money plays as a medium exchange in all transactions of goods and services since ancient times to the present times</li> </ul>	<ul style="list-style-type: none"> <li>Enumerate how money plays as a medium exchange in all transactions of goods and services since ancient times to the present times</li> </ul>

	<ul style="list-style-type: none"> <li>Analyse the different sources of credit</li> <li>Identify the significance and role of self-help groups in the betterment of the economic condition of rural people/women.</li> </ul>	<ul style="list-style-type: none"> <li>Case based study to Analyse and infer various sources of Credit</li> <li>Guest Speaker Programme (bank manager/ a self-help group member) to Summarizes the significance and role of self-help groups in the betterment of the economic condition of rural people/ women.</li> </ul>	<ul style="list-style-type: none"> <li>Analyse and infer various sources of Credit</li> <li>Summarizes the significance and role of self-help groups in the betterment of the economic condition of rural people/ women.</li> </ul>
<p><b>4</b></p> <p><b>Globalization and the Indian Economy</b></p> <p><b>Sub topics:</b> What is Globalization? Factors that have enabled Globalisation</p>	<ul style="list-style-type: none"> <li>Examine the concept of globalization and its definition, evolution, and impact on the global economy.</li> <li>Explore the details of the key drivers of globalization and their role in shaping the global economic landscape in various countries</li> <li>Examines the significance of role of G20 and its significance in the light of India's present role</li> </ul>	<ul style="list-style-type: none"> <li>Watch videos on globalisation followed by an interactive group discussion to enumerate the concept of globalization and its definition, evolution, and impact on the global economy</li> <li><b>Read Textual and other resources to analyse and infer the key drivers of globalization and their role in shaping the global economic landscape.</b></li> </ul>	<ul style="list-style-type: none"> <li>Enumerate the concept of globalization and its definition, evolution, and impact on the global economy.</li> <li>Evaluate the key role of the key major drivers of globalization and their role in shaping the global economic landscape in various countries</li> <li>Enumerates the significance of role of G20 and its significance in the light of India's present role</li> </ul>
<p><b>Sub topics:</b> Production across the countries</p>	<p><b>Inter disciplinary Project with chapter 3 of History: "The making of a Global World" and chapter 7 of Geography: "Lifelines of National Economy"</b></p>	<p>Refer Annexure IV</p>	<p>Refer Annexure IV</p>

Chinese toys in India World Trade Organisation The Struggle For A Fair Globalisation				
5 Consumer Rights OR Social Issues OR Sustainable Development	<b>Project work</b>	Refer Annexure III	Refer Annexure III	Refer Annexure III

**CLASS X**  
**LIST OF MAP ITEMS**

Subject	Name of the Chapter	List of areas to be pointed on the Map
History	Nationalism in India	<b>I. Congress sessions:</b> <ul style="list-style-type: none"> <li>• 1920 Calcutta</li> <li>• 1920 Nagpur.</li> <li>• 1927 Madras session,</li> </ul> <b>II. 3 Satyagraha movements:</b> <ul style="list-style-type: none"> <li>• Kheda</li> <li>• Champaran.</li> <li>• Ahmedabad mill workers</li> </ul> <b>III. Jallianwala Bagh</b> <b>IV. Dandi March</b>
Geography	Resources and Development	Identify: Major Soil Types
	Water Resources	<b>Locating and Labelling:</b> <ul style="list-style-type: none"> <li>• Salal</li> <li>• Bhakra Nangal</li> <li>• Tehri</li> <li>• Rana Pratap Sagar</li> <li>• Sardar Sarovar</li> <li>• Hirakud</li> <li>• Nagarjuna Sagar</li> <li>• Tungabhadra</li> </ul>
	Agriculture	<b>Identify:</b> <ul style="list-style-type: none"> <li>• Major areas of Rice and Wheat</li> </ul>

		<ul style="list-style-type: none"> <li>• Largest/ Major producer states of Sugarcane, Tea, Coffee, Rubber, Cotton and Jute</li> </ul>
	Minerals and Energy Resources	<p><b>Identify:</b></p> <p><b>a. Iron Ore mines</b></p> <ul style="list-style-type: none"> <li>• Mayurbhanj</li> <li>• Durg</li> <li>• Bailadila</li> <li>• Bellary</li> <li>• Kudremukh</li> </ul> <p><b>b. Coal Mines</b></p> <ul style="list-style-type: none"> <li>• Raniganj</li> <li>• Bokaro</li> <li>• Talcher</li> <li>• Neyveli</li> </ul> <p><b>c. Oil Fields</b></p> <ul style="list-style-type: none"> <li>• Digboi</li> <li>• Naharkatia</li> <li>• Mumbai High</li> <li>• Bassien</li> <li>• Kalol</li> <li>• Ankaleshwar</li> </ul> <p><b>Locate &amp; label: Power Plants</b></p> <p><b>a. Thermal</b></p> <ul style="list-style-type: none"> <li>• Namrup</li> <li>• Singrauli</li> <li>• Ramagundam</li> </ul>

		<b>b. Nuclear</b> <ul style="list-style-type: none"> <li>• Narora</li> <li>• Kakrapara</li> <li>• Tarapur</li> <li>• Kalpakkam</li> </ul>
	Manufacturing Industries	<b>I. Manufacturing Industries (Locating and Labelling only)</b> <ul style="list-style-type: none"> <li>• Cotton Textile Industries: a. Mumbai b. Indore c. Surat d. Kanpur e. Coimbatore</li> <li>• Iron and Steel Plants: a. Durgapur b. Bokaro c. Jamshedpur d. Bhilai e. Vijayanagar f. Salem</li> <li>• Software Technology Parks: a. Noida b. Gandhinagar c. Mumbai d. Pune e. Hyderabad, f. Bengaluru g. Chennai. h. Thiruvananthapuram</li> </ul>
	Lifelines of National Economy	<b>Locating and Labelling:</b> <p><b>a. Major sea ports</b></p> <ul style="list-style-type: none"> <li>• Kandla</li> <li>• Mumbai</li> <li>• Marmagao</li> <li>• New Mangalore</li> <li>• Kochi</li> <li>• Tuticorin</li> <li>• Chennai</li> <li>• Vishakhapatnam</li> <li>• Paradip</li> <li>• Haldia</li> </ul>
		<b>b. International Airports:</b> <ul style="list-style-type: none"> <li>• Amritsar (Raja Sansi - Sri Guru Ram Dass jee)</li> <li>• Delhi (Indira Gandhi)</li> <li>• Mumbai (Chhatrapati Shivaji)</li> <li>• Chennai (Meenam Bakkam)</li> <li>• Kolkata (Netaji Subhash Chandra Bose)</li> <li>• Hyderabad (Rajiv Gandhi)</li> </ul>

**Note: Items of Locating and Labelling may also be given for Identification.**

**CLASS X**  
**QUESTION PAPER DESIGN**

**Subject Wise Weightage**

Subject	Syllabus	Marks (80)	Percentage
History	<ul style="list-style-type: none"> <li>• The Rise of Nationalism in Europe.</li> <li>• Nationalism in India:</li> <li>• The Making of a Global World</li> <li>• Sub topics 1 to 1.3</li> <li>• Print Culture and the Modern World</li> <li>• Map pointing</li> </ul>	18+2	25%
Political Science	<ul style="list-style-type: none"> <li>• Power - sharing</li> <li>• Federalism</li> <li>• Gender, Religion and Caste</li> <li>• Political Parties</li> <li>• Outcomes of Democracy</li> </ul>	20	25%
Geography	<ul style="list-style-type: none"> <li>• Resources and Development</li> <li>• Forest and Wildlife Resources</li> <li>• Water Resources</li> <li>• Agriculture</li> <li>• Mineral &amp; Energy resources</li> <li>• Manufacturing industries.</li> <li>• Lifelines of National Economy (map pointing)</li> <li>• Map pointing</li> </ul>	17+3	25%
Economics	<ul style="list-style-type: none"> <li>• Development</li> <li>• Sectors of the Indian Economy</li> </ul>	20	25%

	<ul style="list-style-type: none"> <li>• Money and Credit</li> <li>• Globalization and The Indian Economy Sub topics: <ul style="list-style-type: none"> <li>▪ What is Globalization?</li> <li>▪ Factors that have enabled Globalisation</li> </ul> </li> </ul>	
--	---	--

#### Weightage to Type of Questions

Type of Questions	Marks (80)	Percentage
<b>1 Mark MCQs (20x1)</b> (Inclusive Of Assertion, Reason, Differentiation & Stem)	20	25%
<b>2 Marks Narrative Questions (4x2)</b> (Knowledge, Understanding, Application, Analysis, Evaluation, Synthesis & Create)	8	10%
<b>3 Marks Narrative Questions (5x3)</b> (Knowledge, Understanding, Application, Analysis, Evaluation, Synthesis & Create)	15	18.75%
<b>4 MARKS Case Study Questions (3x4)</b> (Knowledge, Understanding, Application, Analysis, Evaluation, Synthesis & Create)	12	15%
<b>5 Mark Narrative Questions (4x5)</b> (Knowledge, Understanding, Application, Analysis, Evaluation, Synthesis & Create)	20	25%
<b>Map Pointing</b>	5	6.25%



### Weightage to Competency Levels

Sr. No.	Competencies	Marks (80)	Percentage
1	Remembering and Understanding: Exhibiting memory of previously learned material by recalling facts, terms, basic concepts, and answers; Demonstrating understanding of facts and ideas by organizing, translating, interpreting, giving descriptions and stating main ideas.	24	30%
2	Applying: Solving problems to new situations by applying acquired knowledge, facts, techniques and rules in a different way.	11	13.25%
3	Formulating, Analysing, Evaluating and Creating: Examining and breaking information into parts by identifying motives or causes; Making inferences and finding evidence to support generalizations; Presenting and defending opinions by making judgments about information, validity of ideas, or quality of work based on a set of criteria; Compiling information together in a different way by combining elements in a new pattern or proposing alternative solutions.	40	50%
4	Map Skill	5	6.25%
<b>Total</b>		<b>80</b>	<b>100%</b>

**CLASS X**  
**GUIDELINES FOR INTERNAL ASSESSMENT: 20 MARKS**

Type of Assessment	Description	Marks Allocated
Periodic Assessment	Pen Paper Test.	5
Multiple Assessment	Quiz, debate, role play, viva, group discussion, visual expression, interactive bulletin boards, gallery walks, exit cards, concept maps, peer assessment, Self-assessment etc. through Inter disciplinary project	5
Subject Enrichment Activity	Project Work on Consumer Rights OR Social Issues OR Sustainable Development	5
Portfolio	Classwork, Work done (activities/ assignments) reflections, narrations, journals, etc. Achievements of the student in the subject throughout the year Participation of the student in different activities like heritage India quiz	5

**CLASS X**  
**PRESCRIBED TEXTBOOKS**

Subject	Name of the Book	Publisher
History	India and the Contemporary World - II	NCERT
Political Science	Democratic Politics	NCERT
Geography	Contemporary India	NCERT
Economics	Understanding Economic Development	NCERT
Disaster Management	Together Towards a Safer India -Part III (A text book on Disaster Management)	CBSE
<a href="https://ncert.nic.in/textbook.php?jess1=0-7">learning outcomes.pdf (ncert.nic.in)</a>		

Links for NCERT rationalised 2023-24 textbooks:

- <https://ncert.nic.in/textbook.php?jess1=0-7>
- <https://ncert.nic.in/textbook.php?jess2=0-5>
- <https://ncert.nic.in/textbook.php?jess3=0-5>
- <https://ncert.nic.in/textbook.php?jess4=ps-5>



# विषय सूची

क्रम सं.	अध्याय	पृष्ठ संख्या
<b>भारत और समकालीन विश्व-2 ( इतिहास )</b>		
1.	यूरोप में राष्ट्रवाद का उदय	1
2.	भारत में राष्ट्रवाद	23
3.	भूमंडलीकृत विश्व का बनना	44
4.	औद्योगीकरण का युग (केवल आवधिक परीक्षा हेतु)	56
7.	मुद्रण संस्कृति और आधुनिक दुनिया	72
<b>समकालीन भारत ( भूगोल )</b>		
1.	संसाधन एवं विकास	86
2.	वन और वन्य जीव संसाधन	105
3.	जल संसाधन	125
4.	कृषि	143
5.	खनिज तथा ऊर्जा संसाधन	155
6.	विनिर्माण उद्योग	171
7.	राष्ट्रीय अर्थव्यवस्था की जीवन रेखाएँ	185

## राजनीति-II ( राजनीति-विज्ञान )

1. सत्ता में साझेदारी	187
2. संघवाद	199
3. जाति, धर्म और लैंगिक मसले	220
4. राजनीतिक दल	231
5. लोकतंत्र के परिणाम	249

## आर्थिक विकास की समझ ( अर्थशास्त्र )

1. विकास	257
2. भारतीय अर्थव्यवस्था के क्षेत्रक	271
3. मुद्रा और साख	285
4. वैश्वीकरण और भारतीय अर्थव्यवस्था	296

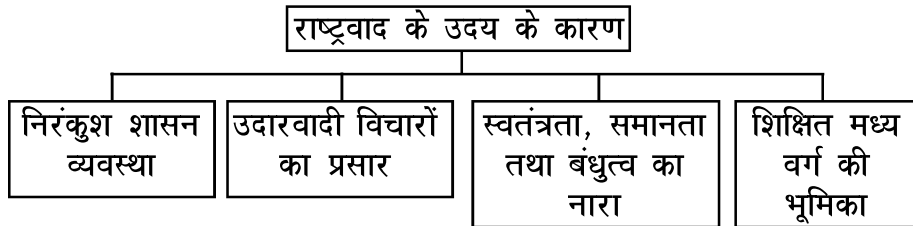
### अभ्यास प्रश्न पत्र

• अभ्यास प्रश्न पत्र-1 ( हल सहित)	303
• अंक योजना	319
• अभ्यास प्रश्न पत्र-2	336
• अभ्यास प्रश्न पत्र-3	346

# 1. यूरोप में राष्ट्रवाद का उदय

स्मरणीय तथ्य

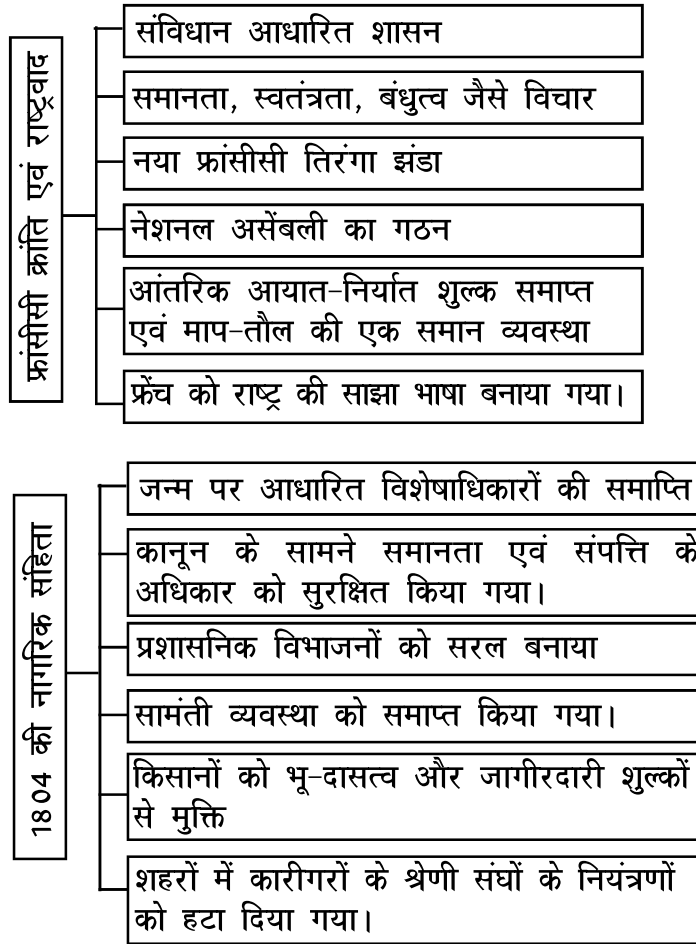
<p><b>राष्ट्रवाद पर फ्रेड्रिक सॉरयू के विचार</b></p> <p>1848 में, एक फ्रांसीसी कलाकार फ्रेड्रिक सॉरयू ने चार चित्रों की एक शृंखला बनाई। इनमें उसने सपनों का एक संसार रचा जो उसके शब्दों में जनतांत्रिक और सामाजिक गणतंत्रों से मिल कर बना था। इस शृंखला के पहले चित्र में यूरोप और अमेरिका के लोग दिखाए गए हैं—सभी उम्र और सामाजिक वर्गों के स्त्री-पुरुष एक लंबी कतार में स्वतंत्रता की प्रतिमा की वंदना करते हुए जा रहे हैं। प्रतिमा के एक हाथ में ज्ञानोदय की मशाल और दूसरे में मनुष्य के अधिकारों का घोषणापत्र। प्रतिमा के सामने जमीन पर निरंकुश संस्थानों के ध्वस्त अवशेष बिखरे हुए हैं।</p>	<p><b>1789 फ्रांसीसी क्रांति एवं राष्ट्रवाद</b></p> <p>राष्ट्रवाद की पहली स्पष्ट अभिव्यक्ति 1789 में फ्रांसीसी क्रांति के साथ हुई। फ्रांसीसी क्रांति से जो राजनीतिक और संवैधानिक बदलाव हुए उनसे प्रभुसत्ता राजतंत्र से निकल कर फ्रांसीसी नागरिकों के समूह में हस्तांतरित हो गई। क्रांति ने घोषणा की कि अब लोगों द्वारा राष्ट्र का गठन होगा और वे ही उसकी नियति तय करेंगे। उन्नीसवीं सदी के दौरान राष्ट्रवाद एक ऐसी ताकत बन कर उभरा जिसने यूरोप के राजनीतिक और मानसिक जगत में भारी परिवर्तन ला दिए। इन परिवर्तनों से अंततः यूरोप के बहु-राष्ट्रीय वंशीय साम्राज्यों के स्थान पर राष्ट्र-राज्य का उदय हुआ। राष्ट्र-राज्य में न केवल उसके शासकों बल्कि उसके अधिकांश नागरिकों में एक साझा पहचान का भाव और साझा इतिहास या विरासत की भावना थी।</p>
---	--



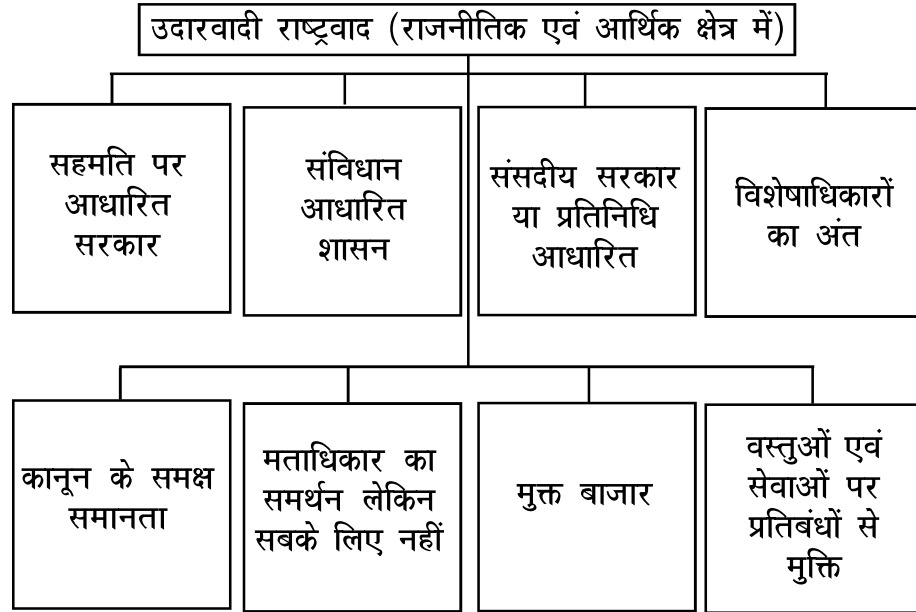
## यूरोप में राष्ट्रवाद का क्रमिक विकास

फ्रांसीसी क्रांति 1789	नागरिक संहिता 1804	वियना की संधि 1815	उदारवादियों की क्रांति 1848	जर्मनी का एकीकरण 1866-1871	इटली का एकीकरण 1859-1871
------------------------------	--------------------------	--------------------------	-----------------------------------	----------------------------------	--------------------------------

फ्रांसीसी क्रांति के आरंभ से ही फ्रांसीसी क्रांतिकारियों ने ऐसे अनेक कदम उठाए जिनसे फ्रांसीसी लोगों में एक सामूहिक पहचान (राष्ट्रवाद) की भावना पैदा हो सकती थी। बाद में, नेपोलियन ने प्रशासनिक क्षेत्र में क्रांतिकारी सुधारों को प्रारंभ किया जिसे 1804 की नागरिक संहिता (नेपोलियन की संहिता) के नाम से जाना जाता है। इसके अलावा, यूरोप में उन्नीसवीं सदी के शुरूआती दशकों में राष्ट्रीय एकता से संबंधित विचार उदारवाद से करीब से जुड़े थे।







**1815 के उपरांत यूरोप में रूढ़िवाद**

1815 में नेपोलियन की हार के उपरांत यूरोप की सरकारों का झुकाव पुनः रूढ़िवाद की तरफ बढ़ गया। अपनी राजनीतिक विचारधारा के अनुरूप रूढ़िवादियों ने स्थापित संस्थाओं, रीति-रिवाजों, परंपराओं को मान्यता दी एवं तीव्र परिवर्तन के स्थान पर क्रमिक विकास पर जोर दिया। इस परिप्रेक्ष्य में, एक शिखर सम्मेलन (जिसे कांग्रेस कहा गया) का आयोजन वियना में किया गया। इस कांग्रेस का आयोजन आस्ट्रियन चांसलर ड्युक मैटरनिख ने किया। इस कांग्रेस में वियना संधि पर हस्ताक्षर किए गए।

## 1815 की वियना संधि की विशेषताएँ

फ्रांस में बुर्बों राजवंश की पुनर्स्थापना	इसका मुख्य उद्देश्य यूरोप में एक नई रूढ़िवादी व्यवस्था कायम करना था।	फ्रांस ने उन इलाकों पर से आधिपत्य खो दिया जो उसने नेपोलियन के समय जीते थे।	फ्रांस के सीमा विस्तार पर रोक हेतु नए राज्यों की स्थापना
---	--	--	--



क्लैमन्स मैटरनिख

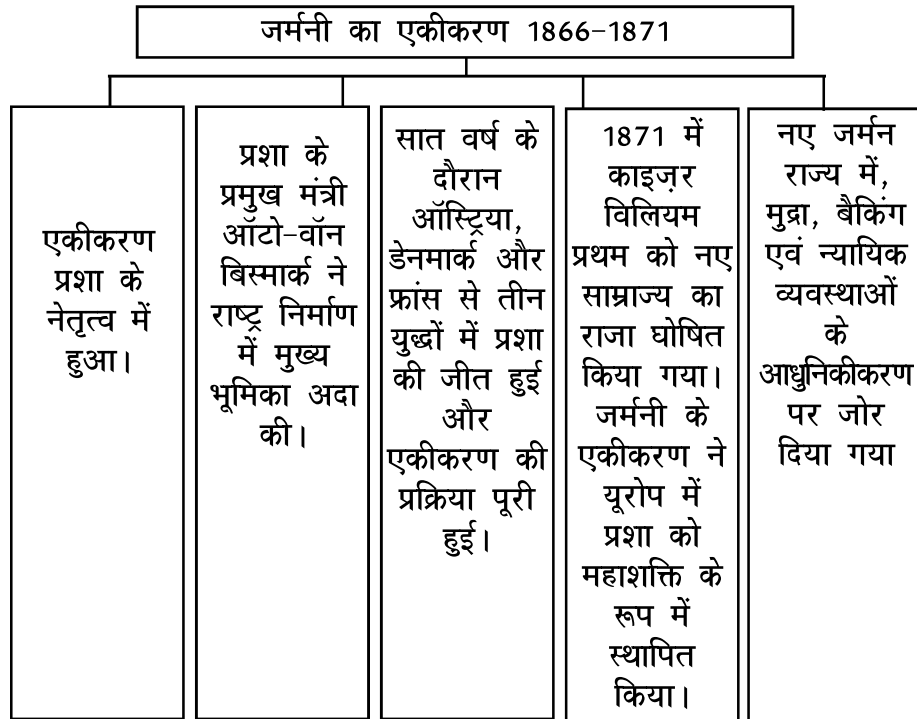
इनका जन्म 15 मई 1773 को हुआ। वे आस्ट्रिया के चांसलर थे। 1814 से 1848 तक के काल में इन्होंने यूरोप की राजनीति में महत्वपूर्ण भूमिका निभाई। यूरोप के राजनीतिक हालातों पर टिप्पणी करते हुए इन्होंने कहा था कि “यदि फ्रांस छींकता है तो पूरे यूरोप को जुकाम हो जाता है।” वियना संधि में इनकी महत्वपूर्ण भूमिका थी। नेपोलियन युद्ध के उपरांत यूरोप की पुनर्चना एवं पुराने राजतंत्र (रूढ़िवादी तंत्र) की पुनर्स्थापना में उन्होंने सक्रिय भूमिका निभाई।

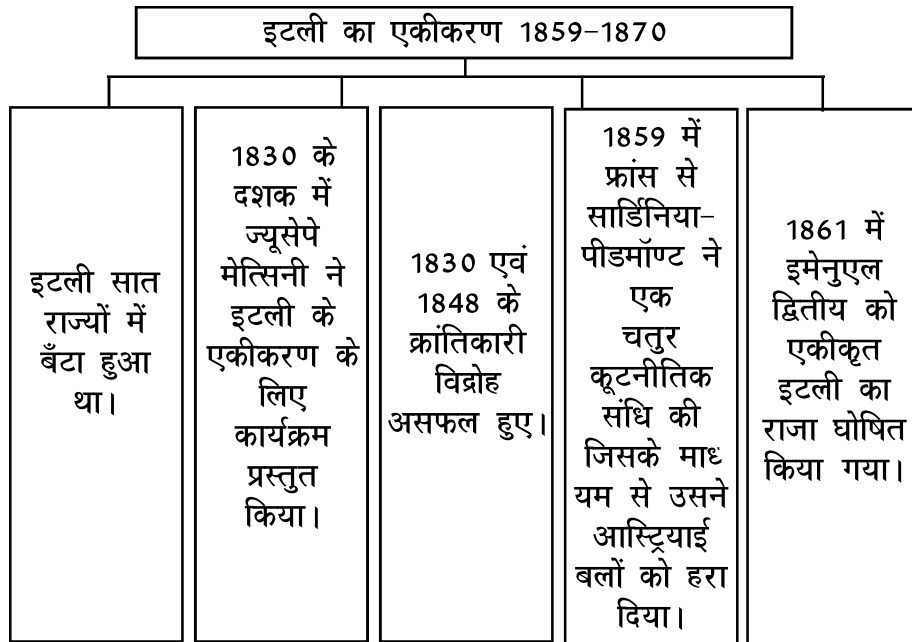


ज्युसेपी मेट्सिनी


इनका जन्म 1807 में जेनोआ में हुआ था और कुछ समय पश्चात् वह कार्बोनारी में गुप्त संगठन के सदस्य बन गए। चौबीस साल की युवावस्था में लिगुरिया में क्रांति करने के लिए उन्हें 1831 में देश निकाला दे दिया गया। तत्पश्चात् उन्होंने दो और भूमिगत संगठनों की स्थापना की। पहला था मार्सेई में यंग इटली और दूसरा बर्न में यंग यूरोप। मेट्सिनी द्वारा राजतंत्र का जोरदार विरोध एवं उसके प्रजातांत्रिक सपनों ने रूढ़िवादियों के मन में भय भर दिया। “मैटरनिख ने उसे हमारी सामाजिक व्यवस्थाओं का सबसे खतरनाक दुश्मन बताया।”

1848 के बाद यूरोप में राष्ट्रवाद का जनतंत्र एवं क्रांति से अलगाव होने लगा। राज्य की सत्ता को बढ़ाने के लिए रूढ़िवादियों ने अक्सर राष्ट्रवादी भावनाओं का इस्तेमाल किया। यद्यपि, मध्यवर्गीय जर्मन लोगों ने 1848 में जर्मन महासंघ के विभिन्न इलाकों को जोड़कर एक राष्ट्र- राज्य बनाने का प्रयास किया था मगर इसे राजशाही और फौज की ताकत द्वारा मिलकर दबा दिया गया। इसके पश्चात् प्रशा ने राष्ट्रीय एकीकरण के आंदोलन का नेतृत्व संभाल लिया।





काउंट कैमिलो दे कावूर सार्डिनिया-पीडमॉण्ट का प्रमुख मंत्री था। इटली के प्रदेशों को एकीकृत करने वाले आंदोलन का नेतृत्व किया हालाँकि वह स्वयं न तो एक क्रांतिकारी था और न ही जनतंत्र में विश्वास रखने वाला। फ्रांस के साथ की गई चतुर संधि के पीछे कावूर का हाथ था जिसके कारण आस्ट्रिया को हराया जा सका एवं इटली का एकीकरण संभव हो सका।



### ज्यूसेपे गैरीबॉल्डी

वह नियमित सेना का हिस्सा नहीं था। उसने इटली के एकीकरण के लिए सशस्त्र स्वयंसेवकों का नेतृत्व किया।

1860 में वे दक्षिण इटली और दो सिसिलियों के राज्य में प्रवेश कर गए और स्पेनी शासकों को हटाने के लिए स्थानीय किसानों का समर्थन पाने में सफल रहे।

उसने दक्षिणी इटली एवं सिसली को राजा इमेनुएल द्वितीय को सौंप दी और इस प्रकार इटली का एकीकरण संभव हो सका।

### यूनान का स्वतंत्रता संघर्ष

- यूनान ऑटोमन साम्राज्य का हिस्सा 15वीं शताब्दी से था। क्रांतिकारी राष्ट्रवाद (1789 में फ्रांसीसी क्रांति के उपरांत) के उदय ने यूनानी लोगों के मन में स्वतंत्रता की भावना को प्रज्वलित किया।
- 1821 से वहाँ स्वतंत्रता के लिए संघर्ष शुरू हुआ। यूनान के लोगों को निर्वासन में रह रहे यूनानियों के साथ साथ पश्चिमी यूरोप के लोगों का भी समर्थन मिला।
- विभिन्न कवियों और कलाकारों ने भी स्वतंत्रता के लिए जनमत निर्माण में अपनी महत्वपूर्ण भूमिका निभाई। अंग्रेजी के कवि लार्ड बायरन ने धनराशि एकत्र की एवं वह युद्ध के लिए भी गए, जहाँ 1824 में बुखार से उनकी मृत्यु हो गई।
- 1832 में कुस्तुनतुनिया की संधि ने यूनान को एक स्वतंत्र राज्य के रूप में मान्यता प्रदान की।

राष्ट्रवाद किसी उथल-पुथल या क्रांति का परिणाम नहीं अपितु एक लम्बी चलने वाली प्रक्रिया का परिणाम था।

18वीं शताब्दी से पूर्व ब्रिटेन एक राष्ट्र-राज्य नहीं था।

आंग्ल-राष्ट्र ने अपनी शक्ति में विस्तार के साथ-साथ अन्य राष्ट्रों व द्वीप समूहों पर विस्तार आरंभ किया।

1688 में संसद ने राजतंत्र से शक्तियों को ले लिया।

1707 में इंग्लैण्ड और स्कॉटलैंड को मिलाकर यूनाइटेड किंगडम ऑफ ब्रिटेन का गठन किया गया।

1798 में हुए असफल विद्रोह के बाद 1801 में आयरलैंड को बलपूर्वक यूनाइटेड किंगडम में शामिल कर लिया गया।

नए ब्रिटेन के प्रतीक - चिह्नों, को खूब बढ़ावा दिया गया।

### राष्ट्रवाद और साम्राज्यवाद (बाल्कन समस्या)

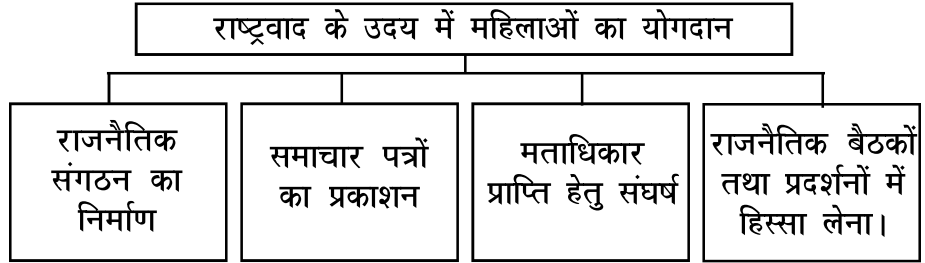
- बाल्कन भौगोलिक एवं नृजातिय रूप से विभिन्नताओं का क्षेत्र था जिसमें आधुनिक रूमनिया, बल्गारिया, अल्बेनिया, ग्रीस, मकदूनिया, क्रोएशिया, स्लोवानिया, सर्बिया आदि शामिल थे।
- इन क्षेत्रों में रहने वाले मूल निवासियों को स्लाव कहा जाता था। बाल्कन क्षेत्र का एक बड़ा हिस्सा ऑटोमन साम्राज्य के नियंत्रण में था।
- बाल्कन राज्य में रूमानी राष्ट्रवाद के फैलने और ऑटोमन साम्राज्य के विघटन से स्थिति काफी विस्फोटक हो गई। एक के बाद एक उसके अधीन यूरोपीय राष्ट्रियताएँ उसके चंगुल से निकल कर स्वतंत्रता की घोषणा करने लगीं। जैसे-जैसे विभिन्न स्लाव राष्ट्रिय समूहों ने अपनी पहचान और स्वतंत्रता की परिभाषा तय करने की कोशिश की, बाल्कन क्षेत्र गहरे टकराव का क्षेत्र बन गया। हर एक बाल्कन प्रदेश अपने लिए ज्यादा इलाके की चाह रखता था।
- इस समय यूरोपीय शक्तियों के बीच इस क्षेत्र पर कब्जा जमाने के लिए यूरोपीय शक्तियों के मध्य जबरदस्त प्रतिस्पर्धा रहीं। जिससे यह समस्या गहराती चली गई व जिस कारण यहाँ विभिन्न युद्ध हुए। जिसकी परिणति प्रथम विश्व युद्ध के रूप में हुई।

### राज्य की दृश्य कल्पना

अठाहरवीं एवं उन्नीसवीं शताब्दी में कलाकारों ने राष्ट्र को कुछ यूँ चित्रित किया जैसे वह कोई व्यक्ति हों। राष्ट्रों को नारी भेष में प्रस्तुत किया जाता था। राष्ट्र को व्यक्ति का जामा पहनाते हुए जिस नारी रूप को चुना गया वह असल जीवन में कोई खास महिला नहीं थी। यह तो राष्ट्र के अमूर्त विचार को ठोस रूप प्रदान करने का प्रयास था। यानि नारी की छवि राष्ट्र का रूपक बन गई। फ्रांस में उसे लोकप्रिय ईसाई नाम **मारिआना** दिया गया जिसने जन-राष्ट्र के विचार को रेखांकित किया। इसी प्रकार **जर्मनिया**, जर्मन राष्ट्र का रूपक बन गई।

### फ्रैंकफर्ट संसद


- जर्मन इलाकों में बड़ी संख्या में राजनीतिक संगठनों ने फ्रैंकफर्ट शहर में मिल कर एक सर्व-जर्मन नेशनल एसेंबली के पक्ष में मतदान का फैसला लिया।
- 18 मई 1848 को, 831 निर्वाचित प्रतिनिधियों ने एक सजे-धजे जुलूस में जा कर फ्रैंकफर्ट संसद में अपना स्थान ग्रहण किया। यह संसद सेंट पॉल चर्च में आयोजित हुई।
- उन्होंने एक जर्मन राष्ट्र के लिए एक संविधान का प्रारूप तैयार किया। इस राष्ट्र की अध्यक्षता एक ऐसे राजा को सौंपी गई जिसे संसद के अधीन रहना था।
- जब प्रतिनिधियों ने प्रशा के राजा फ़ैडरीख विल्हेम चतुर्थ को ताज पहनाने की पेशकश की तो उसने उसे अस्वीकार कर उन राजाओं का साथ दिया जो निर्वाचित सभा के विरोधी थे।
- जहाँ कुलीन वर्ग और सेना का विरोध बढ़ गया, वहीं संसद का सामाजिक आधार कमजोर हो गया।
- संसद में मध्य वर्गों का प्रभाव अधिक था जिन्होंने मजदूरों और कारीगरों की माँगों का विरोध किया जिससे वे उनका समर्थन खो बैठे।
- अंत में सैनिकों को बुलाया गया और एसेंबली भंग कर ही गई



विभिन्न प्रतीक चिन्ह और उनका अर्थ

प्रतीक	महत्त्व
टूटी हुई बेड़ियाँ	आजादी मिलना
बाज छाप वाला कवच	जर्मन समुदाय की प्रतीक शक्ति
बलूत पत्तियों का मुकुट	वीरता
तलवार	मुकाबले की तैयारी
तलवार पर लिपटी जैतून की डाली	शांति की चाह
काला, लाल और सुनहरा तिरंगा	उदारवादी राष्ट्रवादियों का झण्डा
उगते सूर्य की किरणें	एक नए युग की शुरूआत





1850 का डाक टिकट इसमें मारीआना की तस्वीर बनाई गई है जो फ्रांसीसी गणराज्य का प्रतिनिधित्व करती है।

चित्रकार फिलिप वेट ने जर्मनिया का यह चित्र 1848 में बनाया। इसे सेंट पॉल चर्च की छत से लटकना था जहाँ फ्रैंकफर्ट संसद बुलाई गई।

विभिन्न प्रतीक चिन्ह जिनका उपयोग राष्ट्रवाद के विकास के लिए किया गया।

### प्रमुख कथन

जब फ्रांस छींकता है तो बाकी यूरोप को सर्दी जुकाम हो जाता है। (मैटरनिख)  
मेत्सिनी हमारी सामाजिक व्यवस्था का सबसे खतरनाक दुश्मन है। (मैटरनिख)

**यूरोप में राष्ट्रवाद का उदय**  
**बहुविकल्पीय प्रश्न**

**1. सूची I का मिलान सूची II से कीजिए**

सूची I	सूची II
A. टूटी हुई बेड़ियाँ	I. एक नए युग की शुरुआत
B. बलूत पतियों का मुकुट	II. आजादी मिलना
C. तलवार	III. बहादुरी
D. उगते सूरज की किरणें	IV. मुकाबले की तैयारी

**नीचे दिए गए सही विकल्प को चुनें:**

- |                            |                            |
|----------------------------|----------------------------|
| (1) A-1, B-II, C-III, D-IV | (2) A-II, B-III, C-IV, D-I |
| (3) A-II, B-IV, C-III, D-I | (4) A-1, B-III, C-II, D-IV |

**2. सूची I का सूची II से मिलान करें**

सूची I	सूची II
A. ज्यूसेपी मेत्सिनी	I. वाटरलू की लड़ाई
B. ओटो वॉन बिस्मार्क	II. इटली का एकीकरण
C. नेपोलियन बोनापार्ट	III. यंग इटली
D. कावूर	IV. जर्मनी का एकीकरण

**नीचे दिए गए विकल्पों में से सही विकल्प चुनिए:**

- |                            |                            |
|----------------------------|----------------------------|
| (1) A-III, B-IV, C-I, D-II | (2) A-III, B-I, C-IV, D-II |
| (3) A-II, B-I, C-IV, D-III | (4) A-II, B-IV, C-I, D-III |

**3. निम्नलिखित को सही अनुक्रम में व्यवस्थित कीजिए:**

1. कॉन्स्टेंटिनोपल की संधि
2. पहली उथल पुथल फ्रांस में
3. लॉर्ड बायरन की मृत्यु
4. स्वतंत्रता के लिए ग्रीक संघर्ष शुरू

**विकल्प:**

- (a) 1,2,3 और 4 (b) 2,4,1 और 3  
(c) 4,3, 2 और 1 (d) 3, 4, 2 और 1

4. 1848 के दौरान यूरोप में उदारवादियों की क्रांति के बारे में तथ्यों को पढ़ें और सही विकल्प चुनें

- (1) सम्राट का त्याग  
(2) सार्वभौमिक पुरुष मताधिकार घोषित किया गया  
(3) महिलाओं को राजनीतिक अधिकार दिए गए  
(4) प्रेस की स्वतंत्रता मांगी गई थी

**विकल्प:**

- (a) केवल (1) और (2) सही हैं  
(b) केवल (1), (2) और (3) सही हैं.  
(c) केवल (1) और (4) सही हैं  
(d) केवल (1), (2) और (4) सही हैं

5. फ्रेडरिक सॉर्यू की सही राष्ट्रियता का चयन करें, जिसने अपनी पेटिंग में लोकतांत्रिक और सामाजिक गणराज्य से बने समाज की कल्पना की थी

- (a) जर्मन (b) स्विस  
(c) फ्रेंच (d) अमेरिकी

6. 9वीं सदी के अंत में एक ताकत के रूप में उभरे राष्ट्रवाद का अर्थ है

- (a) अपने देश और उसके इतिहास और संस्कृति के लिए मजबूत भक्ति  
(b) अन्य राष्ट्रों की सराहना के बिना अपने देश के लिए मजबूत भक्ति  
(c) अपने देश के लिए मजबूत प्रेम और दूसरों के लिए घृणा  
(d) विश्व के सभी देशों के लिए समान रूप से दृढ़ भक्ति

7. पहली महान क्रांति जिसने अपने मूल शब्दों के साथ राष्ट्रवाद का स्पष्ट विचार दिया, स्वतंत्रता, समानता और बंधुत्व क्या था ?

- (a) रूसी क्रांति (b) फ्रांसीसी क्रांति  
(c) अमेरिकी क्रांति (d) भारत का प्रथम स्वतंत्रता संग्राम

8. फ्रांसीसी क्रांतिकारियों ने घोषणा की कि फ्रांसीसी राष्ट्र का मिशन और भाग्य क्या था ?
- यूरोप के लोगों को जीतने के लिए
  - यूरोप के लोगों को निरंकुशता से मुक्त कराना
  - यूरोप के सभी देशों में पूर्ण राजतंत्र को सुदृढ़ करना
  - दुनिया के हर हिस्से में स्वतंत्रता, समानता और बंधुत्व के आदर्शों का प्रचार करना
9. 1804 के नागरिक संहिता के बारे में निम्नलिखित में से कौन सा कथन, जिसे आमतौर पर नेपोलियन कोड के रूप में जाना जाता है, सत्य है ?
- संपत्ति का अधिकार सुरक्षित
  - कानून के समक्ष समानता स्थापित करना
  - जन्म के आधार पर सभी विशेषाधिकारों को हटा दिया
  - उपरोक्त सभी
10. फ्रांसीसी क्रांति के समय के कलाकारों ने ..... को एक महिला आकृति के रूप में चित्रित किया
- समाजवाद
  - स्वतंत्रता
  - निरंकुशता
  - उपरोक्त में से कोई नहीं
11. उदार राष्ट्रवाद का अर्थ है:
- व्यक्ति के लिए स्वतंत्रता और कानून के समक्ष समानता
  - निरंकुशता और लिपिक विशेषाधिकारों का संरक्षण
  - समाज के केवल पुरुष सदस्यों के लिए स्वतंत्रता और कानून के समक्ष समानता
  - स्वतंत्रता केवल वरिष्ठ नागरिकों के लिए
12. वह संधि जिसने ग्रीस को एक स्वतंत्र राष्ट्र के रूप में मान्यता दी:
- वियना 1815
  - कॉन्स्टेंटिनोपल 1832
  - वारसा 1814
  - लीपजिग 1813

13. किसने कहा कि 'जब फ्रांस छींकता है, तो शेष यूरोप को सर्दी-जुकाम हो जाता है' ?
- (a) गैरीबाल्डी (b) बिस्मार्क  
(c) मेत्सिनी (d) ड्यूक मैटरनिख
14. ला पैट्री के विचार का अर्थ ..... है।
- (a) मातृभूमि (b) पितृभूमि  
(c) नागरिक (d) राजतंत्र
15. 1861 में संयुक्त इटली का राजा कौन बना ?
- (a) ज्यूसेप गैरीबाल्डी (b) विक्टर इमैनुएल द्वितीय  
(c) काउंट काबूर (d) ज्यूसेपे मेत्सिनी
16. ब्रिटेन में राष्ट्र राज्य के गठन में किस बात ने सहायता की ?
- (a) ब्रिटेन में राष्ट्र राज्य का गठन अचानक उथल पुथल का परिणाम था  
(b) सन् 1688 में ब्रिटेन में राजशाही ने अंग्रेजी संसद से सत्ता छीन ली थी  
(c) संसद ने रक्तहीन क्रांति के माध्यम से राजशाही से सत्ता छीन ली, जिससे धीरे धीरे एक राष्ट्र राज्य का उदय हुआ  
(d) ब्रिटिश राष्ट्र का गठन स्कॉटलैंड और वेल्स के साथ युद्ध के परिणामस्वरूप हुआ था
- निर्देश. नीचे दिए गए प्रश्नों में, कथन (A) और कारण (R) के रूप में चिह्नित दो कथन दिए गए हैं। कथनों को पढ़िए और सही विकल्प चुनिए
- (a) A और R दोनों सत्य हैं और R, A का सही स्पष्टीकरण है  
(b) A और R दोनों सत्य हैं और लेकिन R, A का सही स्पष्टीकरण नहीं है  
(c) A सही है और R गलत है  
(d) A और R दोनों गलत हैं
17. कथन (A): रूढ़िवादियों का मानना था कि राज्य और समाज के स्थापित पारंपरिक संस्थानों को संरक्षित किया जाना चाहिए

कारण (R): जॉलवराइन का गठन रूढ़िवाद को संरक्षित करने के लिए किया गया था

18. कथन (A) अठारहवीं और उन्नीसवीं शताब्दी के कलाकारों ने किसी राष्ट्र को मूर्त रूप देकर एक रास्ता खोज लिया

कारण (R): वे एक देश का प्रतिनिधित्व करते थे जैसे कि वह एक व्यक्ति था

19. कथन (A): ज्यूसेपे मेत्सिनी ने राजशाही के लिए रूढ़िवादियों के साथ काम किया

कारण (B): इटली को छोटे राज्यों और राज्यों का पैचवर्क जारी रखना पड़ा

20. कथन (A) साम्राज्यवाद के साथ गठबंधन राष्ट्रवाद ने 1914 में यूरोप को आपदा की ओर अग्रसर किया

कारण (R): दुनिया के कई देश जो 19 वीं शताब्दी में यूरोपीय शक्तियों द्वारा उपनिवेशित किए गए थे, ने शाही प्रभुत्व का विरोध करना शुरू कर दिया

### उत्तर कुंजी

1. (2) A-II, B-III, C-IV, D-I
2. (1) A-III, B-IV, C-1, D-II
3. (C) 4,3,2 और 1.
4. D. केवल (1), (2) और (4) सही हैं
5. (c) फ्रेंच
16. (A) अपने देश और उसके इतिहास और संस्कृति के प्रति दृढ़ समर्पण
7. (B) फ्रांसीसी क्रांति
8. (B) यूरोप के लोगों को निरंकुशता से मुक्ति दिलाना
9. (D) उपरोक्त सभी
10. (B) स्वतंत्रता
11. (A) व्यक्ति के लिए स्वतंत्रता और कानून के समक्ष समानता

12. (B) कॉन्स्टेंटिनोपल 1832
13. (D) इयूक मैटरनिख
14. (B) पितृभूमि
15. (B) विक्टर इमैनुएल द्वितीय
16. (C) संसद ने रक्तहीन क्रांति के माध्यम से राजशाही से सत्ता छीन ली,  
जिससे धीरे धीरे एक राष्ट्र राज्य का उदय हुआ
17. (c) A सही है और R गलत है
18. B A और R दोनों सत्य हैं और लेकिन R, A का सही स्पष्टीकरण नहीं है।
19. D. A और दोनों गलत है
20. A. A और R दोनों सत्य है और R, A का सही स्पष्टीकरण है।

## 2 अंकों के प्रश्न

1. संवैधानिक राजतंत्र शब्द का क्या अर्थ है ?
2. यूरोप में नए मध्यम वर्ग उदारवाद को कैसे देखते थे ?
3. कई यूरोपीय राज्यों में गुप्त समाज क्यों स्थापित किए गए थे ?
4. ज्यूसेप मेत्सिनी द्वारा स्थापित दो गुप्त समाज कौन से थे ?
5. रूढ़िवादियों ने क्या माना ?
6. राष्ट्र राज्य का क्या अर्थ है ?
7. उन्नीसवीं शताब्दी के दौरान यूरोप में उभरते मध्यम वर्गों की मजबूत मांग क्या थी ?
8. आर्थिक क्षेत्र में उदारवाद का तात्पर्य था ?
9. क्रांतियों के युग में रोमांटिकतावाद क्या थी ?
10. जोलवेरिन का गठन क्यों किया गया था ?

## उत्तर कुंजी

1. यह सरकार की एक प्रणाली है जिसमें एक सम्राट संवैधानिक रूप से संगठित सरकार के साथ सत्ता साझा करता है

2. नए मध्यम वर्गों के लिए, उदारवाद व्यक्ति के लिए स्वतंत्रता और कानून के समक्ष सभी की समानता के लिए खड़ा था
3. क्रांतिकारियों को प्रशिक्षित करने और उनके विचारों को फैलाने के लिए कई यूरोपीय राज्यों में गुप्त समाज स्थापित किए गए थे
4. मार्सिले में यंग इटली और बर्न में यंग यूरोप
5. रूढ़िवादियों का मानना था कि राज्य और समाज के स्थापित, पारंपरिक संस्थानों जैसे राजशाही, चर्च, सामाजिक पदानुक्रम, संपत्ति और परिवार को संरक्षित किया जाना चाहिए
6. एक राष्ट्र राज्य वह था जिसमें इसके अधिकांश नागरिक और न केवल इसके शासक, सामान्य पहचान और साझा इतिहास या वंश की भावना विकसित करने के लिए आए थे
7. यूरोप में उभरते मध्यम वर्ग की मजबूत मांग बाजारों की स्वतंत्रता और माल और पूंजी की आवाजाही पर राज्य द्वारा लगाए गए प्रतिबंधों का उन्मूलन था
8. आर्थिक क्षेत्र में, उदारवाद बाजारों की स्वतंत्रता और माल और पूंजी की आवाजाही पर राज्य द्वारा लगाए गए प्रतिबंधों के उन्मूलन के लिए खड़ा था
9. रोमांटिकतावाद एक सांस्कृतिक आंदोलन था जिसने राष्ट्रवादी भावना के एक विशेष रूप को विकसित करने की मांग की
10. जोलवेरिन वास्तव में 1834 में गठित एक कस्टम यूनियन थी संघ ने टैरिफ बाधाओं को समाप्त कर दिया और मुद्राओं की संख्या को तीस से दो तक कम कर दिया

### लघु/दीर्घ प्रश्न (3/5 अंक वाले)

- प्र.1 फ्रांसीसी क्रांतिकारियों ने फ्रांसीसी लोगों में सामूहिक पहचान की भावना किस प्रकार पैदा की ?
- प्र.2 नेपोलियन ने प्रशासनिक क्षेत्र में क्रांतिकारी सिद्धांतों का समावेश किया जिसने पूरी व्यवस्था को अधिक कुशल व तर्कसंगत बना दिया। समीक्षा कीजिए।



- प्र.3 यूरोप में राष्ट्र के विचार के निर्माण में संस्कृति ने किस प्रकार महत्वपूर्ण भूमिका निभाई ?
- प्र.4 जर्मनी के एकीकरण की प्रक्रिया का वर्णन कीजिए।
- प्र.5 इटली के एकीकरण की प्रक्रिया का वर्णन करें। इसके मार्ग में आने वाली मुख्य बाधाएँ क्या थीं ?
- प्र.6 ब्रिटेन में राष्ट्र राज्य का निर्माण एक लंबी प्रक्रिया का परिणाम था। चर्चा कीजिए।
- प्र.7 यूरोप में राष्ट्रवाद के उत्थान के लिए कौन से कारण उत्तरदायी थे ?
- प्र.8 फ्रांसीसी क्रांति का न केवल फ्रांस पर अपितु पूरे विश्व पर गहरा प्रभाव पड़ा। समीक्षा कीजिए।
- प्र.9 1804 की नागरिक संहिता के प्रावधानों का उल्लेख कीजिए।
- प्र.10 यूरोप के कुलीन वर्ग की विशेषताएँ लिखिए।
- प्र.11 1815 की वियना संधि के प्रमुख उद्देश्य बताइए। इसके प्रमुख प्रस्तावों व व्यवस्थाओं का वर्णन कीजिए।
- प्र.12 यूरोप में उदारवादियों द्वारा समर्थित राजनैतिक, सामाजिक और आर्थिक आदर्श क्या थे ?
- प्र.13 औद्योगिकीकरण की वृद्धि ने किस प्रकार यूरोप के सामाजिक और राजनैतिक समीकरण बदल दिए ?
- प्र.14 यूरोप के राष्ट्रवादी संघर्षों में महिलाओं की क्या भूमिका थी ?
- प्र.15 उन्नीसवीं शताब्दी में महिलाओं के चित्र किस प्रकार राष्ट्रवाद के रूपक में परिवर्तित हो गए। उदाहरण सहित व्याख्या कीजिए।

### लघु दीर्घ प्रश्न (3/5 अंक वाले)

- सामूहिक पहचान का भाव निम्न प्रकार से विकसित हुआ।
  - पितृभक्ति और नागरिकता के विचार
  - नए राष्ट्र चिन्ह
  - केन्द्रीकृत प्रशासनिक व्यवस्था
  - राष्ट्रीय भाषा
  - एक समान भार व मान की व्यवस्था।
- नेपोलियन की संहिता
  - ग्रामीण प्रशासनिक व्यवस्था में सुधार
  - शहरी क्षेत्र में सुधार
  - व्यापार में सुधार
- राष्ट्र निर्माण में संस्कृति का योगदान
  - कला, काव्य, कहानियों, संगीत ने राष्ट्रवादी भावनाओं को विकसित किया।

- लोकगीत, जन- काव्य व लोक नृत्य
  - स्थानीय बोलियों व लोक साहित्य पर बल
  - भाषा
  - जनश्रुतियों पर आधारित संस्कृति का निर्माण
4. देखें स्मरणीय तथ्य।
  5. देखें स्मरणीय तथ्य।
  6. देखें स्मरणीय तथ्य।
  7. राष्ट्रवाद के उदय के उत्तरदायी कारक।
    - राष्ट्र- राज्यों का उदय
    - लोकतंत्रीय सिद्धांत को बढावा।
    - सामाजिक, राजनैतिक, आर्थिक समानता पर बल।
    - अन्य राष्ट्रों में मानवीय अधिकारों की मांग।
    - निरंकुश राजतंत्रों में क्रांतिकारी प्रतिक्रियाएँ।
  8. फ्रांसीसी क्रांति का प्रभाव
    - लोकतांत्रिक शासन की स्थापना।
    - समानता, स्वतंत्रता, भ्रातृत्व से भरे नए समाज की नींव।
    - नवीन कानून संहिता।
    - मध्यम वर्ग का उदय।
    - उदारवादी विचारधारा का प्रारंभ।
  9. देखें स्मरणीय तथ्य।
  10. देखें स्मरणीय तथ्य।
  11. देखें स्मरणीय तथ्य।
  12. देखें स्मरणीय तथ्य।
  13. देखें स्मरणीय तथ्य।
  14. देखें स्मरणीय तथ्य।
  15. देखें स्मरणीय तथ्य।

### स्रोत आधारित प्रश्न (4 अंक)

1. नीचे दिए गए अनुच्छेद को पढ़िए एवं पूछे गए प्रश्नों के उत्तर दीजिए। फ्रांसीसी दार्शनिक अन्स्ट रेनन (1823-92) ने 1882 में सॉबॉन (Sorbonne) विश्वविद्यालय में दिए एक व्याख्यान में राष्ट्र की अपनी समझ को प्रस्तुत किया। बाद में यह व्याख्यान एक प्रसिद्ध निबंध के रूप में छपा जिसका शीर्षक था (Qu'est-ce qu' une nation राष्ट्र क्या है) इस निबंध में रेनन अन्य लोगों द्वारा प्रस्तावित इस विचार की आलोचना करता है कि राष्ट्र समान भाषा, नस्ल, या क्षेत्र से बनता है। एक राष्ट्र लंबे प्रयासों, त्याग और निष्ठा का चरम बिंदु होता है। शौर्य-वीरता से युक्त अतीत,

महान पुरुषों के नाम और गौरव यह वह सामाजिक पूंजी है जिस पर एक राष्ट्रीय विचार आधारित किया जाता है। अतीत में समान गौरव का होना, वर्तमान में एक समान इच्छा, संकल्प का होना, साथ मिल कर महान काम करना और आगे, ऐसे काम और करने की इच्छा - एक जनसमूह होने की यह सबसे जरूरी शर्तें हैं। अतः राष्ट्र एक बड़ी और व्यापक एकता (Large-Scale Solidarity) है.. उसका अस्तित्व रोज होने वाला जनमत संग्रह है...। प्रांत उसके निवासी हैं अगर सलाह लिए जाने का किसी का अधिकार है तो वह निवासी ही है, किसी देश का विलय करने या किसी देश पर उसकी इच्छा के विरुद्ध कब्जा जमाए रखने में एक राष्ट्र की वास्तव में कोई दिलचस्पी होती नहीं है। राष्ट्र का अस्तित्व में होना एक अच्छी बात है, बल्कि यह एक जरूरत भी है। उनका होना स्वतंत्रता की गारंटी है और अगर दुनिया में केवल एक कानून और उसका केवल एक मालिक होता तो स्वतंत्रता का लोप हो जाएगा।

a. अर्न्स्ट रेनन कौन था ?

b. अर्न्स्ट रेनन के अनुसार राष्ट्र की मुख्य विशेषताएँ क्या हैं ?

c. स्वतंत्रता के अस्तित्व के लिए राष्ट्र की क्या भूमिका है ?

d. राष्ट्र को अपने शब्दों में परिभाषित कीजिए।

2. नीचे दिये गये अनुच्छेद को पढ़िए तथा प्रश्नों के उत्तर दें।

1815 में नेपोलियन की हार के बाद यूरोपीय सरकारें रूढ़िवाद की भावना से प्रेरित थीं। रूढ़िवादी मानते थे कि राज्य और समाज की स्थापित पारंपरिक संस्थाएँ; जैसे-राजतंत्र, चर्च, सामाजिक ऊँच-नीच, संपत्ति और परिवार को बनाए रखना चाहिए। फिर भी अधिकतर रूढ़िवादी लोग क्रांति से पहले के दौर में वापसी नहीं चाहते थे। नेपोलियन द्वारा शुरू किए गए परिवर्तनों से उन्होंने यह जान लिया था कि आधुनिकीकरण, राजतंत्र जैसी पारंपरिक संस्थाओं को मजबूत बनाने में सक्षम था। वह राज्य की ताकत को ज्यादा कारगर और मजबूत बना सकता था। एक आधुनिक सेना, कुशल नौकरशाही, गतिशील अर्थव्यवस्था, सामंतवाद और भूदासत्व की समाप्ति-यूरोप के निरंकुश राजतंत्रों को शक्ति प्रदान कर सकते थे।

3. नीचे दिए गए अनुच्छेद को पढ़िए एवं पूछे गए प्रश्नों के उत्तर दीजिए।

लुइजे ऑटो-पीटर्स (1819-95) एक राजनैतिक कार्यकर्ता थी जिसने महिलाओं की पत्रिका और तत्पश्चात एक नारीवादी राजनीतिक संगठन की स्थापना की। उसके अखबार (21 अप्रैल, 1849) के प्रथम अंक में निम्नलिखित संपादकीय छपा:

आइए हम यह पूछें कि कितने पुरुष जो स्वतंत्रता के लिए जीने-मरने के विचारों से ओत-प्रोत हैं, सभी लोगों, सभी इंसानों की आजादी के

लिए तैयार होंगे जब उनसे यह प्रश्न पूछा जाएगा, वे बड़ी आसानी से जवाब देंगे। हालाँकि उनके अथक प्रयास केवल आम मानवजाति के फायदे के लिए हैं यानी पुरुष । मगर स्वतंत्रता तो अविभाज्य है। अतः स्वतंत्र पुरुषों को परतंत्रता से घिरे रहना मंजूर नहीं होना चाहिए... ।

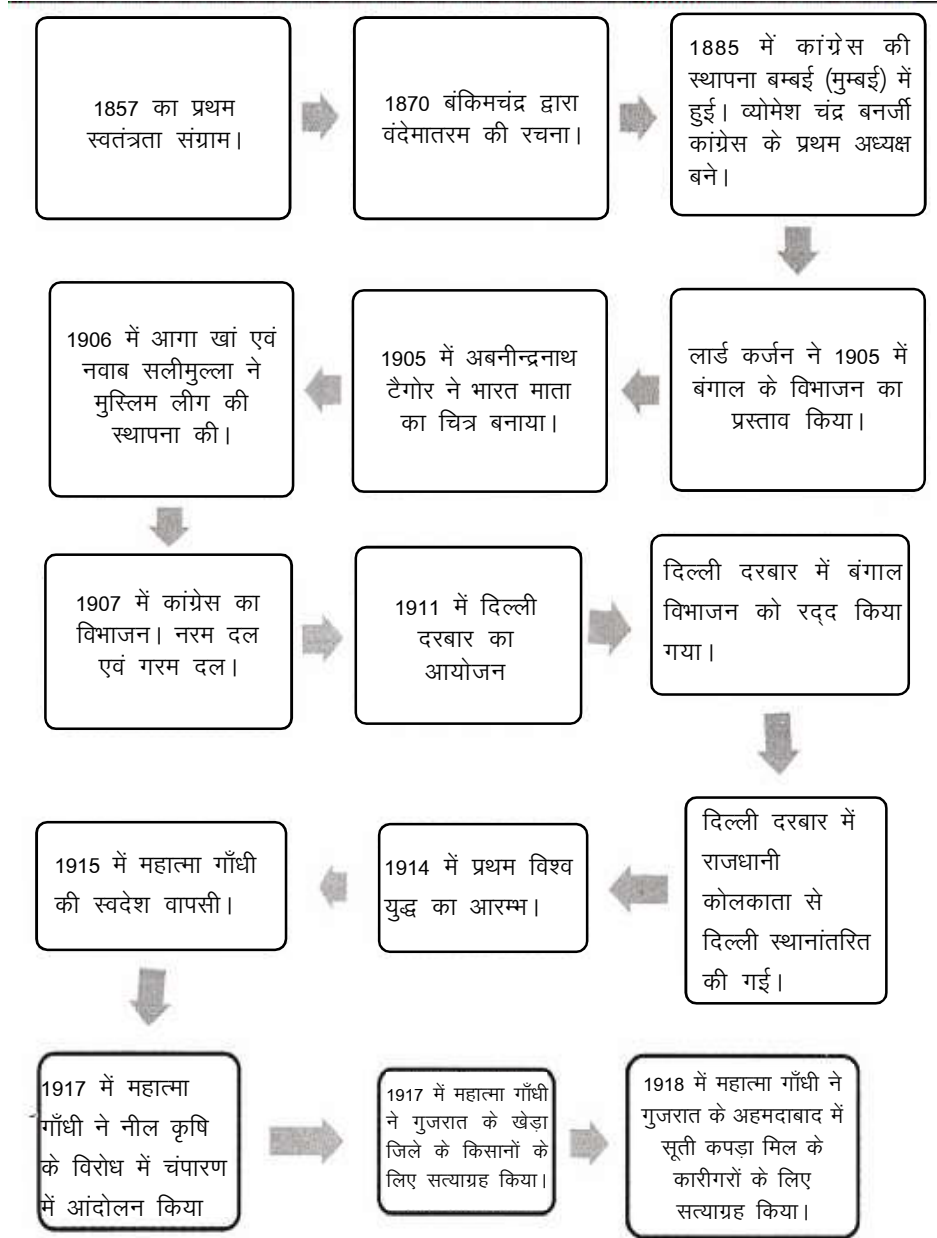
उसी अखबार के एक अनाम पाठक ने 25 जून, 1850 को संपादक को निम्नलिखित पत्र भेजा- महिलाओं को राजनैतिक अधिकारों से वंचित रखना वाकई बेतुका और अविवेकपूर्ण है जबकि उन्हें संपत्ति का अधिकार है जिसका वे इस्तेमाल करती हैं और जिम्मेदारियाँ भी उठाती हैं हालाँकि उन्हें वे लाभ नहीं मिलते जो उसी के लिए पुरुषों को मिलते हैं.. यह अन्याय क्यों क्या यह लज्जा की बात नहीं कि सबसे मूर्ख मवेशी-पालक को मत देने का अधिकार सिर्फ इसलिए है क्योंकि वह एक पुरुष है जबकि अत्यंत काबिल महिलाओं को, जो काफी संपत्ति की मालकिन होती हैं, इसी हक से वंचित रखा जाता है यद्यपि वे राज्य के रख-रखाव में इतना ज्यादा योगदान देती हैं।

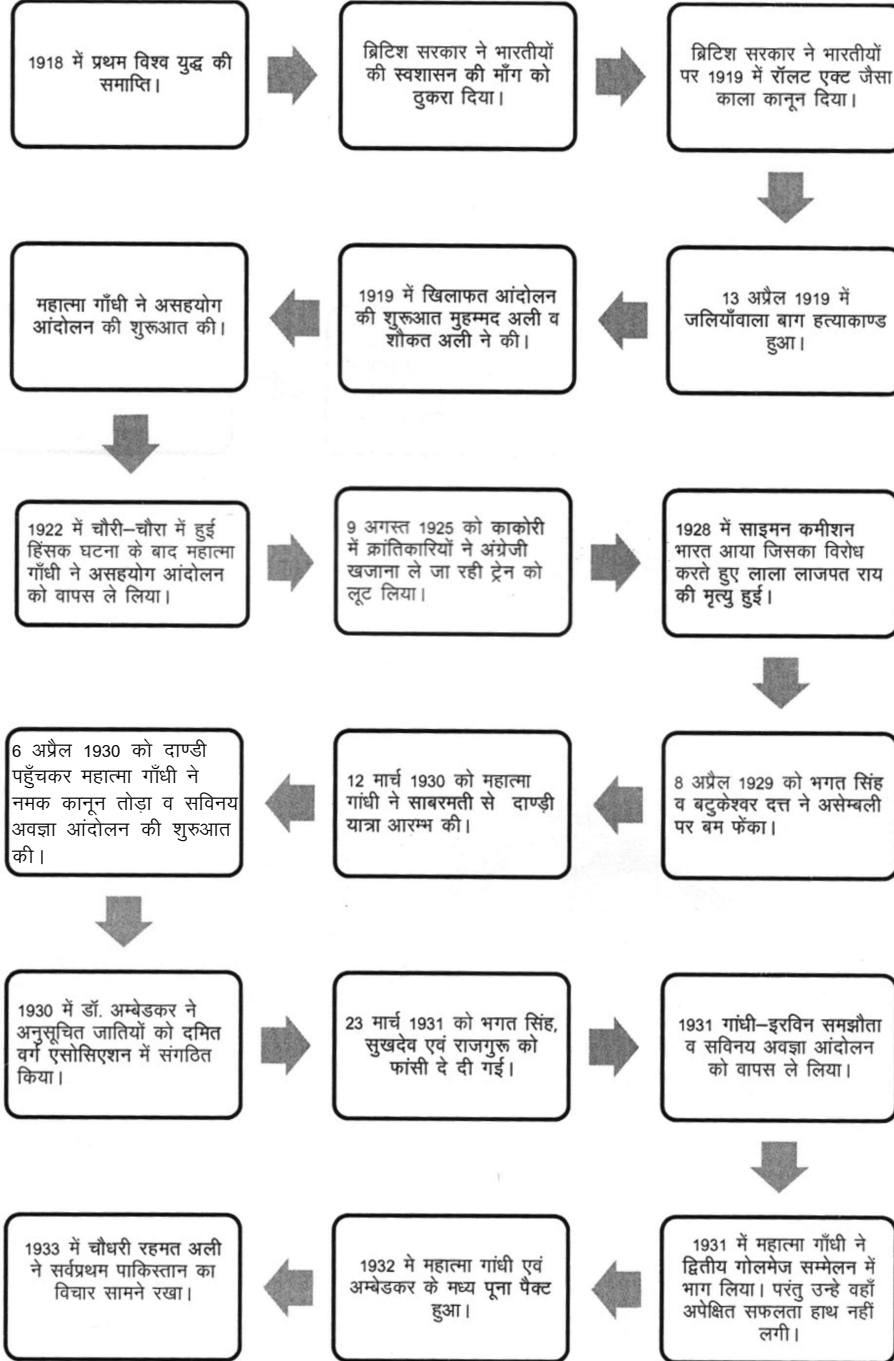
- a. लुइजे ऑटो-पीटर्स कौन थे ?
- b. लुइजे ऑटो-पीटर्स के महिला स्वतंत्रता पर क्या विचार थे ?
- c. महिला स्वतंत्रता पर अपने विचारों को लिखिए।

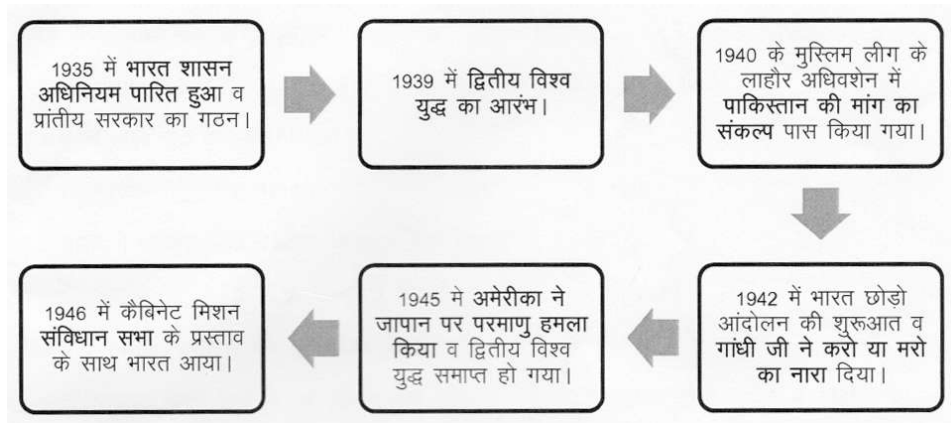
स्रोत आधारित प्रश्न (4 अंक)

1. a. फ्रांसीसी दार्शनिक  
b. समान भाषा, नस्ल, धर्म  
c. राष्ट्र का होना स्वतंत्रता की गारंटी है।  
d. विद्यार्थी स्वयं परिभाषित करेंगे।
2. इन अनुच्छेद का अध्ययन करके विद्यार्थी स्वयं हल करेंगे।
3. स्वयं हल करें।

## 2. भारत में राष्ट्रवाद





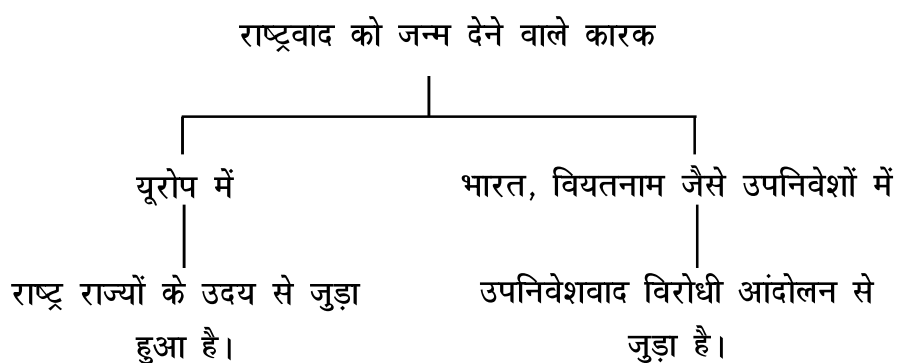


**15 अगस्त 1947 को भारत आज़ाद हुआ।**

### कुछ रोचक तथ्य

- जब भारत आजाद हुआ तब ब्रिटेन के प्रधानमंत्री क्लाइमेंट एटली थे।
- सुभाष चंद्र बोस ने- 'दिल्ली चलो' एवं 'तुम मुझे खून दो मैं तुम्हें आजादी दूंगा' का नारा दिया।
- बाल गंगाधर तिलक ने 'स्वराज मेरा जन्मसिद्ध अधिकार है, मैं इसे लेकर रहूंगा' का नारा दिया।
- रामप्रसाद बिस्मिल ने सरफरोशी की तमन्ना अब हमारे दिल में है, देखना है जोर कितना बाजुएं कातिल में है का नारा दिया।
- भगत सिंह ने 'इंकलाब जिंदाबाद' का नारा दिया।

राष्ट्रवाद का अर्थ:- अपने राष्ट्र के प्रति प्रेम की भावना एकता की भावना तथा एक समान चेतना राष्ट्रवाद कहलाती है। यह लोग समान ऐतिहासिक, राजनीतिक तथा सांस्कृतिक विरासत साझा करते हैं। कई बार लोग विभिन्न भाषाई समूह के हो सकते हैं (जैसे भारत) लेकिन राष्ट्र के प्रति प्रेम उन्हें एक सूत्र में बांधे रखता है।



### प्रथम विश्व युद्ध, खिलाफत तथा असहयोग

प्रथम विश्वयुद्ध का भारत पर प्रभाव तथा युद्ध पश्चात् परिस्थितियाँ

- एक नई आर्थिक और राजनीतिक स्थिति का जन्म
- रक्षा बजट में भारी बढ़ोतरी जिसकी भरपाई कर्जा लेकर व करों में वृद्धि करके।
- सीमा शुल्क बढ़ा दिया गया तथा आयकर शुरू किया गया।
- ब्रिटिश सेना के लिए सिपाहियों की जबरन भर्ती।
- फसल नष्ट हो जाने की वजह से खाद्यान्न की भारी कमी।



फतू की महामारी तथा अकाल की वजह से लाखों लोगों की मृत्यु।

### सत्याग्रह का विचार

अर्थ:- यह सत्य तथा अहिंसा पर आधारित एक नए तरह का जन आंदोलन करने का रास्ता था।

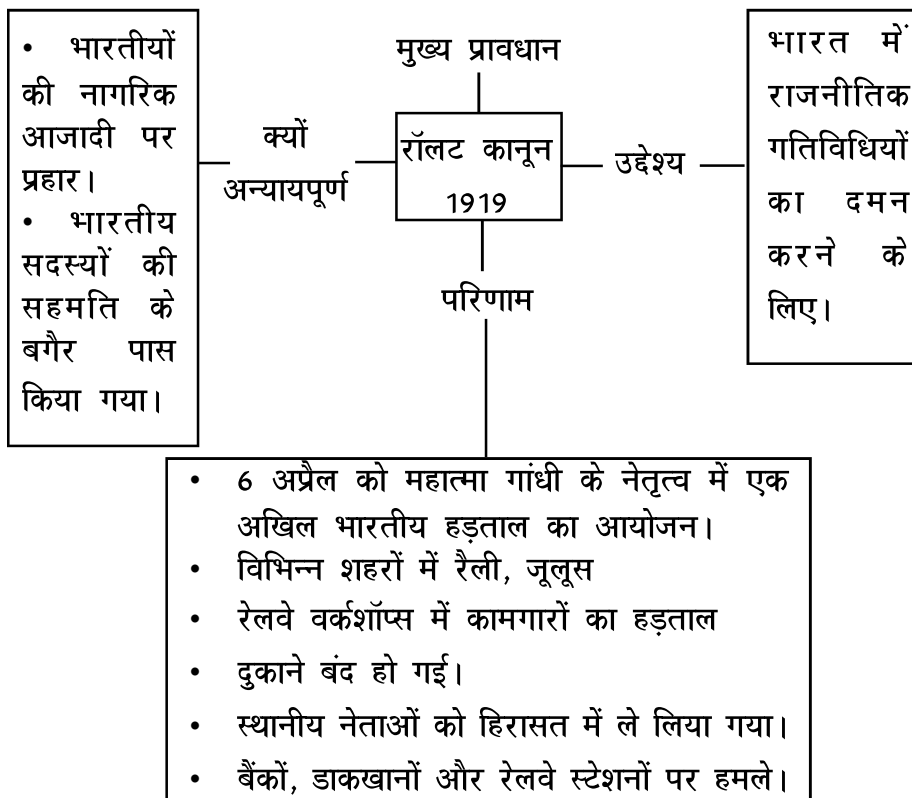
सत्याग्रह के मुख्य बिंदु:-

- अगर आपका उद्देश्य सच्चा है, यदि आपका संघर्ष अन्याय के खिलाफ है तो उत्पीड़क से लड़ने के लिए किसी शारीरिक बल की आवश्यकता नहीं है।
- सत्याग्रही केवल अहिंसा के सहारे बिना किसी प्रतिशोध की भावना या आक्रमकता का सहारा लिए बिना भी सफल हो सकता है।
- उत्पीड़क की चेतना को झिझोड़कर उसे सच्चाई को स्वीकार करने तथा दमन का अंत करने के लिए प्रेरित किया जा सकता है।

महात्मा गाँधी द्वारा भारत में किए गए सत्याग्रह के आरंभिक प्रयोग।

चंपारण (बिहार) 1917 में दमनकारी बागान व्यवस्था के खिलाफ नील की खेती करने वाले किसानों को प्रेरित किया।	1917 में खेड़ा (गुजरात) किसानों को कर में छूट दिलवाने के लिए उनके संघर्ष में समर्थन दिया।	अहमदाबाद (गुजरात) 1918 में कपड़ा कारखाने में काम करने वाले मजदूरों के समर्थन में सत्याग्रह आंदोलन
--	---	---

राजनीतिक कैदियों को बिना मुकदमा चलाए दो साल तक जेल में बंद रखने का प्रावधान।



### जलियाँवाला बाग हत्याकांड

- **मुख्य घटनाएँ:-** 13 अप्रैल 1919 को अमृतसर में घटित हुआ। सालाना वैसाखी मेले में शिरकत करने एवं कानून का विरोध प्रकट करने के लिए ग्रामीणों की भारी भीड़ जलियाँवाला बाग में एकत्रित हुई थी।
- शहर से बाहर के होने के कारण वहाँ जुटे लोगों को ये पता नहीं था कि इलाके में मार्शल लॉ लागू किया जा चुका था।
- जनरल डायर वहाँ पहुँचा, मैदान से बाहर निकलने के सभी रास्ते बंद कर दिये तथा भीड़ पर अंधाधुंध गोलियाँ चला दीं।
- सैकड़ों लोग मारे गए।

### जलियावाला बाग हत्याकांड का प्रभाव:-

- उतर भारत के बहुत सारे शहरों में लोग सड़कों पर उतर आए।
- हड़ताले होने लगी, लोग पुलिस से मोर्चा लेने लगे और सरकारी इमारतों पर हमला करने लगे।
- सरकार ने निर्ममतापूर्ण रवैया अपनाया तथा लोगों को अपमानित और आतंकित किया।
- सत्याग्रहियों को जमीन पर नाक रगड़ने के लिए, सड़क पर घिसटकर चलने और सारे 'साहिबों' (अंग्रेजों) को सलाम करने के लिए मजबूर किया गया।
- लोगों को कोड़े मारे गए तथा गुजरावाला (पंजाब) के गांवों पर बम बरसाये गए।

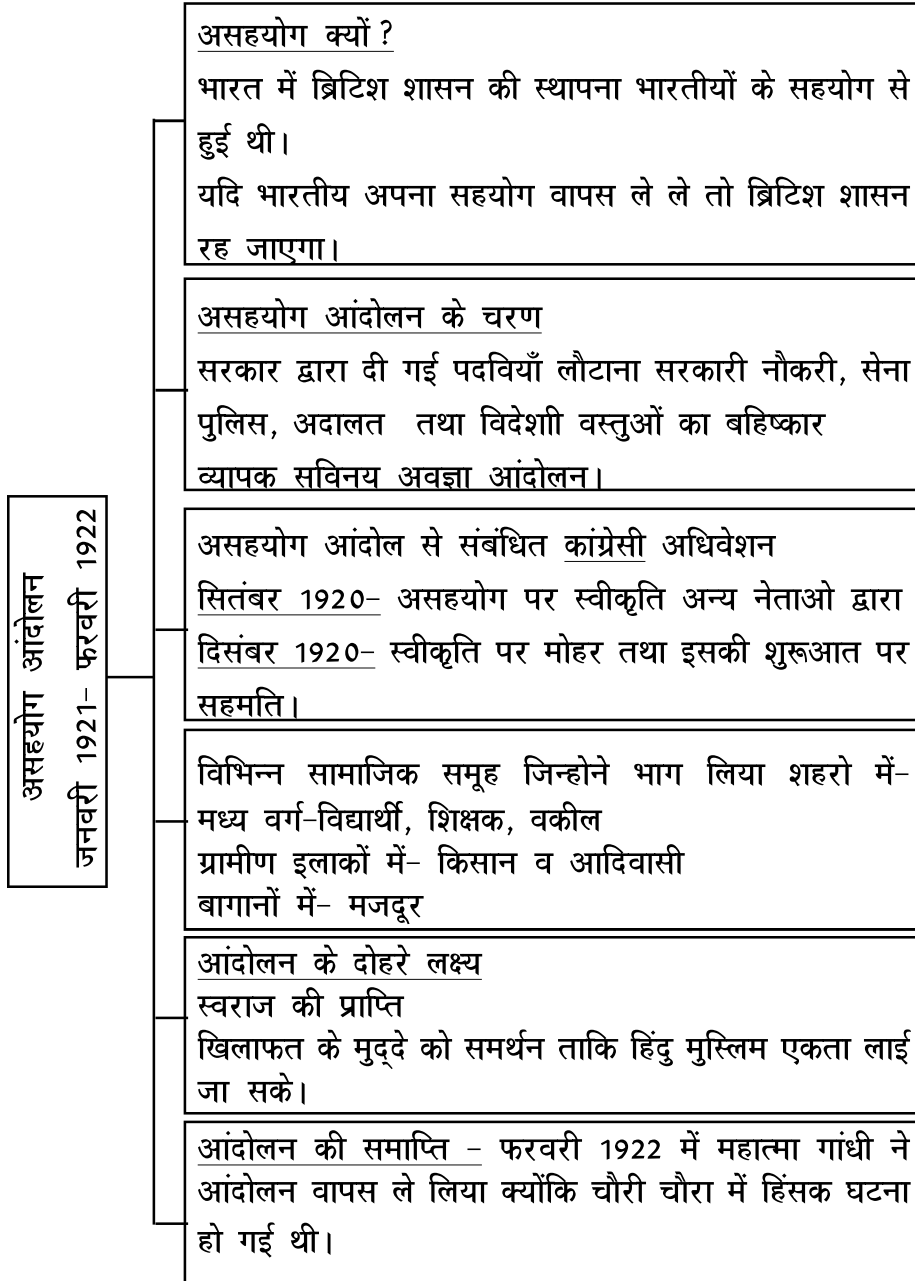
हिंसा फैलते देख महात्मा गांधी ने रॉलट सत्याग्रह वापस ले लिया।

**खिलाफत का मुद्दा:-** खिलाफत शब्द 'खलीफा' से निकला हुआ है जो ऑटोमन तुर्की का सम्राट होने के साथ-साथ इस्लामिक विश्व का आध्यात्मिक नेता भी था। प्रथम विश्व युद्ध में तुर्की की हार हुई थी यह अफवाह फैल गई थी कि तुर्की पर एक अपमानजनक संधि थोपी जाएगी। इसलिए खलीफा की तात्कालिक शक्तियों की रक्षा के लिए मार्च 1919 में अली बंधुओं द्वारा बम्बई में एक खिलाफत समिति का गठन किया गया।

**महात्मा गांधी ने क्यों खिलाफत का मुद्दा उठाया:-** रॉलट सत्याग्रह की असफलता के बाद से ही महात्मा गांधी पूरे भारत में और भी ज्यादा जनाधार वाला आंदोलन खड़ा करना चाहते थे।

उन्हे विश्वास था कि बिना हिंदू और मुस्लिम को एक दूसरे के समीप लाए ऐसा कोई अखिल भारतीय आंदोलन खड़ा नहीं किया जा सकता इसलिए उन्होने खिलाफत का मुद्दा उठाया।

## असहयोग आंदोलन



### आंदोलन के भीतर अलग-अलग धाराएँ-

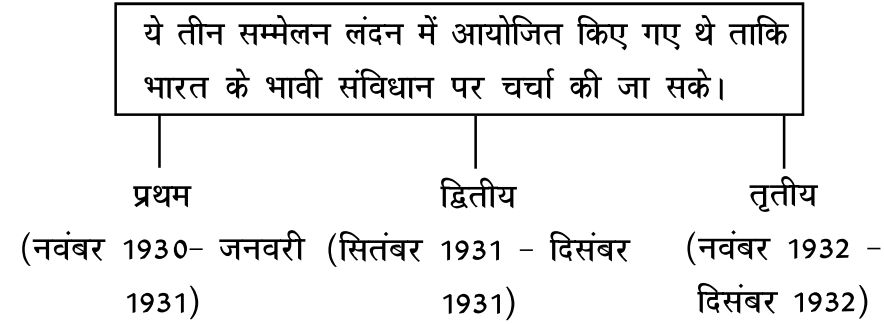
- विभिन्न सामाजिक समूहों ने आंदोलन में हिस्सा लिया परंतु प्रत्येक वर्ग की अपनी अपनी आकांक्षाएँ थी।
- सभी के लिए 'स्वराज' का अर्थ भिन्न था।
- प्रत्येक सामाजिक समूह ने आंदोलन में भाग लेते हुए 'स्वराज' का मतलब एक ऐसा युग लिया जिसमें उनके सभी कष्ट और सारी मुसीबतें खत्म हो जाएंगी।

#### सविनय अवज्ञा आंदोलन की ओर

### असहयोग आंदोलन की समाप्ति से लेकर सविनय अवज्ञा आंदोलन के शुरू होने तक की मुख्य घटनाएँ

- फरवरी 1922- गांधी जी द्वारा असहयोग आंदोलन वापस लेना।
- प्रांतीय परिषद चुनाव में हिस्सा लेने को लेकर कांग्रेस के नेताओं में आपसी मतभेद।
- सी. आर दास तथा मोती लाल नेहरू द्वारा 'स्वराज पार्टी' (जनवरी 1923) का गठन ताकि प्रांतीय परिषद के चुनाव में हिस्सा ले सकें।
- विश्वव्यापी आर्थिक मंदी की वजह से कृषि उत्पाद की कीमतों में भारी गिरावट।
- 1930 तक ग्रामीण इलाकों में भारी उथल पुथल।
- 1927 में ब्रिटेन में साइमन कमिशन का गठन ताकि भारत में संवैधानिक व्यवस्था की कार्यशैली का अध्ययन किया जा सके।
- 1928- साइमन कमीशन का भारत आना- पूरे भारत में विरोध प्रदर्शन।
- 1929- लॉर्ड इरविन द्वारा 'डोमिनियन स्टेटस' का ऐलान।
- कांग्रेस के भीतर जवाहर लाल नेहरू तथा सुभाष चंद्र बोस जैसे तेज तर्रार व आक्रामक तेवर वाले नेताओं का उदय।
- 1929 लाहौर अधिवेशन में 'पूर्ण स्वराज' की मांग।
- कांग्रेस के अंदर जवाहर लाल नेहरू और सुभाषचंद्र बोस जैसे तेज तर्रार नेताओं के द्वारा 1929 के कांग्रेस के लाहौर अधिवेशन में पूर्ण स्वराज की माँग।

## गोलमेज सम्मेलन



भारतीय राष्ट्रीय कांग्रेस द्वारा सिर्फ द्वितीय गोलमेज सम्मेलन में भाग लिया गया।

### नमक यात्रा और असहयोग आंदोलन (1930)

#### पृष्ठभूमि-

- जनवरी 1930 में महात्मा गांधी ने लार्ड इरविन के समक्ष अपनी 11 मांगें रखीं।
- ये मांगें उद्योगपतियों से लेकर किसान तक विभिन्न तबकों से जुड़ी हुई थीं।
- इनमें सबसे महत्वपूर्ण मांग नमक कर को खत्म करने की थी।
- लार्ड इरविन इनमें से किसी भी मांग को मानने के लिए तैयार नहीं थे।
- 12 मार्च 1930 को महात्मा गांधी द्वारा नमक यात्रा की शुरुआत।
- 6 अप्रैल 1930 को नमक बनाकर नमक कानून का उल्लंघन।
- यह घटना सविनय अवज्ञा आंदोलन की शुरुआत थी।

<p>सविनय अवज्ञा आंदोलन</p> <p>6 अप्रैल 1930 - मार्च-1931 (गांधी इरविन समझौते की वजह से स्थगित)</p> <p>1932 दुबारा शुरूआत</p> <p>1934 स्वतः समाप्त</p>	
	<p>मुख्य घटनाएँ:-</p> <ul style="list-style-type: none"> <li>★ देश के विभिन्न हिस्से में नमक कानून का उल्लंघन</li> <li>★ विदेशी वस्तुओं का बहिष्कार</li> <li>★ शराब की दुकानों की पिकेटिंग</li> <li>★ वन कानूनों का उल्लंघन</li> </ul>
	<p>ब्रिटिश सरकार की प्रतिक्रिया:-</p> <ul style="list-style-type: none"> <li>★ कांग्रेस नेताओं का हिरासत में लिया गया।</li> <li>★ निर्मम दमन</li> <li>★ शांतिपूर्ण सत्याग्रहियों पर आक्रमण।</li> <li>★ महिलाओं व बच्चों की पिटाई</li> <li>★ लगभग 1,00,000 गिरफ्तार</li> </ul>
	<p>आंदोलन में भाग लेने वाले:-</p> <ul style="list-style-type: none"> <li>★ अमीर किसान- ऊँचे लगान के विरोध में</li> <li>★ गरीब किसान- ऊँचा भाड़ा तथा ऊँचा लगान</li> <li>★ व्यवसायी वर्ग- औपनिवेशिक सरकार की व्यावसायिक नीतियों के खिलाफ</li> <li>★ महिलाएं- महात्मा गांधी से प्रेरित होकर</li> <li>★ कुछ स्थानों पर मजदूर</li> </ul>
	<p>यह कैसे असहयोग आंदोलन से अलग था:-</p> <ul style="list-style-type: none"> <li>★ असहयोग आंदोलन में लक्ष्य 'स्वराज' इस बार 'पूर्ण स्वराज'</li> <li>★ असहयोग में कानून का उल्लंघन शामिल नहीं था जबकि इस आंदोलन में कानून तोड़ना शामिल था।</li> </ul>

सविनय अवज्ञा आंदोलन की सीमाएँ:-

- ★ अनुसूचित वर्ग की भागीदारी नहीं थी क्योंकि लंबे समय से कांग्रेस इनके हितों की अनदेखी कर रही थी।
- ★ मुस्लिम संगठनों द्वारा सविनय अवज्ञा के प्रति कोई खास उत्साह नहीं था क्योंकि 1920 के दशक के मध्य से कांग्रेस 'हिंदू महासभा' जैसे हिंदू धार्मिक संगठनों के करीब आने लगी थी।
- ★ दोनो समुदायों के बीच संदेह और अविश्वास का माहौल बना हुआ था।

### सामूहिक अपनेपन का भाव

वे कारक जिन्होंने भारतीय लोगों में सामूहिक अपनेपन की भावना को जगाया तथा सभी भारतीय लोगों को एक किया।

चित्र व प्रतीक:- भारत माता की प्रथम छवि बंकिम चन्द्र द्वारा बनाई गई। इस छवि के माध्यम से राष्ट्र को पहचानने में मदद मिली।

लोक कथाएँ:- राष्ट्रवादी घूम घूम कर इन लोक कथाओं का संकलन करने लगे ये कथाएँ परंपरागत संस्कृति की सही तस्वीर पेश करती थी तथा अपनी राष्ट्रीय पहचान को ढूढने तथा अतीत में गौरव का भाव पैदा करती थी।

चिन्ह:- उदाहरण झंडा- बंगाल में 1905 में स्वदेशी आंदोलन के दौरान सर्वप्रथम एक तिरंगा (हरा, पीला, लाल) जिसमें 8 कमल थे। 1921 तक आते आते महात्मा गांधी ने भी सफेद, हरा और लाल रंग का तिरंगा तैयार कर लिया था।

इतिहास की पुर्नव्याख्या:- बहुत से भारतीय महसूस करने लगे थे कि राष्ट्र के प्रति गर्व का भाव जगाने के लिए भारतीय इतिहास को अलग ढंग से पढ़ाना चाहिए बाकि भारतीय गर्व का अनुभव कर सकें।

गीत जैसे वंदे मातरम:- 1870 के दशक में बंकिम चन्द्र ने यह गीत लिखा मातृभूमि की स्तुति के रूप में। यह गीत बंगाल के स्वदेशी आंदोलन में खूब गाया गया।



## भारत में राष्ट्रवाद

### बहुविकल्पीय प्रश्न (1 अंक वाले प्रश्न)

1. साइमन कमीशन भारत क्यों भेजा गया था ?
  - A. संवैधानिक मामले को देखना और सुधारों का सुझाव देना।
  - B. कांग्रेस नेताओं के बीच विवादों को निपटाने के लिए।
  - C. खिलाफत आंदोलन का समर्थन करने के लिए।
  - D. आदिवासी और किसानों की मांगों का समर्थन करने के लिए।
2. नीचे दिए गए कथनों पर विचार कीजिए और सही उत्तर चुनिए  
**कथन 1** व्यापक हिंसा के कारण महात्मा गांधी को रोलेट सत्याग्रह वापस लेना पड़ा  
**कथन 2** सितंबर 1932 के पूना पैक्ट ने दलित वर्गों को प्रांतीय और केंद्रीय विधान परिषदों में सीटें दी।
  - A. कथन (i) गलत है और (ii) सही है।
  - B. कथन (i) सही है और (ii) गलत है।
  - C. दोनों (i) और (ii) गलत हैं।
  - D. दोनों (i) और (ii) सही हैं।
3. जलियांवाला बाग त्रासदी के कारण हुई घटनाओं के आधार पर निम्नलिखित कथनों को क्रम में व्यवस्थित करें।
  - (i) मार्शल लॉ लगाया गया था।
  - (ii) जनरल डायर उस क्षेत्र में घुस गया और बाहर निकलने के रास्तों को बंद कर दिया और भीड़ पर गोलियां चलानी शुरू कर दी।
  - (iii) वार्षिक बैसाखी मेले में भाग लेने के लिए जलियावाला बाग के मैदान में बड़ी भीड़ जमा हुई।
  - (iv) 10 अप्रैल को पुलिस ने अमृतसर में एक शांतिपूर्ण जुलूस पर गोली चलाई।

**विकल्प:**

- A. (i), (iii), (iv), (ii)                      B. (iv), (i), (ii), (iii)  
C. (iv), (i), (iii), (ii)                      D. (i), (iv), (iii), (ii)

4. निम्नलिखित में से कौन सा कथन सविनय अवज्ञा आंदोलन और असहयोग आंदोलन के बीच सटीक अंतर करता है ?

- (i) असहयोग की शुरुआत उपाधियों के समर्पण, ब्रिटिश संस्थाओं और वस्तुओं के बहिष्कार से हुई, जबकि सविनय अवज्ञा आंदोलन औपनिवेशिक कानूनों को तोड़ने के साथ शुरू हुआ।  
(ii) असहयोग आंदोलन ने दलितों के लिए अलग निर्वाचक मंडल की मांग की, सविनय अवज्ञा आंदोलन का उद्देश्य स्वशासन था।  
(iii) जलियांवाला बाग त्रासदी के गुस्से के कारण असहयोग आंदोलन चलाया गया, साइमन कमीशन के खिलाफ सविनय अवज्ञा आंदोलन चलाया गया।  
(iv) असहयोग आंदोलन को ब्रिटिश सरकार का समर्थन प्राप्त था, सविनय अवज्ञा आंदोलन को तब समाज के लगभग सभी वर्गों का समर्थन प्राप्त था।

**विकल्प:**

- A. कथन (i) और (iii) उपयुक्त हैं।  
B. कथन (i), (ii) और (iii) उपयुक्त हैं।  
C. सभी कथन उपयुक्त हैं।  
D. केवल कथन (iv) उपयुक्त है।

5. बेगार का क्या अर्थ है ?

- (a) कोई किराया अभियान नहीं                      (b) बेघर मजदूर  
(c) बिना किसी भुगतान के बल श्रम                      (d) भिखारी

6. इस प्रसिद्ध पेंटिंग के चित्रकार को पहचानिए



- (a) रवि वर्मा (b) अवनीन्द्रनाथ टैगोर  
(c) बंकिम चंद्र चट्टोपाध्याय (d) नटेशा शास्त्री

7. भारतीय राष्ट्रीय कांग्रेस के किस अधिवेशन में 'पूर्ण स्वराज' की औपचारिक मांग की गई थी ?

- (a) लाहौर अधिवेशन, 1929  
(b) कलकत्ता अधिवेशन, 1890  
(c) मद्रास अधिवेशन, 1927-  
(d) बंबई अधिवेशन, 1915

8. निम्नलिखित का मिलान कीजिए

- (a) नटेशा शास्त्री (i) असहयोग आंदोलन को रोकना  
(b) चौरी चौरा (ii) जमींदारों और तालुकदारों के खिलाफ आंदोलन  
(c) बाबा राम चंद्र (iii) आनंदमठ  
(d) बंकिम चंद्र (iv) दक्षिणी भारत की लोक कथाएँ

विकल्प:

- A. A-(iv), B-(i), C-(ii), D-(iii)  
B. A- (iv), C-(ii), B-(i), D-(iii)

- C. B-(i), A-(iv), C-(ii), D-(iii)  
 D. C- (ii), B-(i), D-(iii), A-(iv)
9. .... अधिनियम ने बागान श्रमिकों को बिना अनुमति के चाय बागान छोड़ने की अनुमति नहीं दी।  
 A. अंतर्देशीय आप्रवासन अधिनियम  
 B. रोलेट अधिनियम  
 C. वर्नाक्यूलर प्रेस एक्ट  
 D. भारत सरकार अधिनियम
10. निम्नलिखित दो नेताओं में से किसने खिलाफत आंदोलन का नेतृत्व किया था।  
 A. शौकत अली और मोहम्मद अली।  
 B. गांधीजी और सरदार पटेल।  
 C. मोहम्मद अली जिन्ना और अब्दुल कलाम आजाद  
 D. अब्दुल कलाम आजाद और जवाहरलाल नेहरू ।

#### अभिकथन / कारण

अभिकथन (A) और कारण (R) के रूप में चिह्नित दो कथन हैं। नीचे दिए गए कूटों के अनुसार अपना उत्तर दें:

- A. (A) और (R) दोनों सत्य हैं और (R) (A) की सही व्याख्या है।  
 B. (A) और (R) दोनों सत्य हैं लेकिन (R), (A) की सही व्याख्या नहीं है।  
 C. (A) सही है लेकिन (R) गलत है  
 D. (A) गलत है लेकिन (R) सही है
11. **अभिकथन (A):** बंकिम चंद्र चट्टोपाध्याय ने वंदे मातरम को मातृभूमि के लिए एक भजन के रूप में लिखा था।  
**कारण (R):** अवनीन्द्रनाथ टैगोर ने लोक कथाओं को पुनर्जीवित करने के लिए एक आंदोलन शुरू किया।

12. **अभिकथन (A):** अवध में किसानों का नेतृत्व बाबा रामचंद्र ने सन्यासी के रूप में किया, जो पहले एक गिरमिटिया मजदूर के रूप में फिजी गए थे।

**कारण (R):** बागान श्रमिकों को बिना अनुमति के चाय बागान छोड़ने की अनुमति नहीं थी, और वास्तव में उन्हें शायद ही कभी ऐसी अनुमति दी गई हो।

13. **अभिकथन (A):** विभिन्न कारणों से शहरों में असहयोग आंदोलन धीरे-धीरे धीमा पड़ गया।

**कारण (R):** जैसे-जैसे बहिष्कार के क्षण फैलते गए और लोगों ने आयातित कपड़ों को त्यागना शुरू कर दिया और भारतीय कपड़ा मिलों और हथकरघा का उत्पादन बढ़ने के बाद केवल भारतीय कपड़ा पहनना शुरू कर दिया।

14. **अभिकथन (A):** प्रत्येक सामाजिक समूह के लिए स्वतंत्रता की धरणा भिन्न थी।

**कारण (R):** हर वर्ग और समूह ने उपनिवेशवाद के प्रभाव को अलग तरह से महसूस किया।

15. **अभिकथन (A):** 1917 में गांधी जी ने गुजरात के खेड़ा जिले के किसानों के समर्थन के लिए सत्याग्रह का आयोजन किया।

**कारण (R):** किसान फसल की विफलता और महामारी से प्रभावित थे; वे राजस्व का भुगतान नहीं कर सकते थे और राजस्व वसूली में ढील देने की मांग कर रहे थे।

#### उत्तरमाला (प्रश्न संख्या 1-15)

1. A. संवैधानिक मामले को दे ना और सुधारों का सुझाव देना।
2. D. दोनों (i) और (ii) सही हैं।
3. C. (iv), (i), (iii), (ii)
4. A. कथन (i) और (iii) उपयुक्त हैं।

5. C. बिना किसी भुगतान के बल श्रम
6. B. अरुनीनुदुरनरथ ठरगुर
7. A. लरहरर अधरवेशन, 1929
8. A. A-(iv), B-(i), C-(ii), D-(iii)
9. A. अंतर्देशीय अडुरवरस अधरनरडड
10. A. शुरकत अली और डुरहुडुड अली
11. B. (A) और (R) दुनुनु सतुड है लेकन (R), (A) की सही वुडरखुडर नही है
12. B. (A) और (R) दुनुनु सतुड है लेकन (R), (A) की सही वुडरखुडर नही है
13. A. (A) और (R) दुनुनु सतुड है और (R) (A) की सही वुडरखुडर है
14. A. (A) और (R) दुनुनु सतुड है और (R) (A) की सही वुडरखुडर है।
15. A. (A) और (R) दुनुनु सतुड हैं और (R) (A) की सही वुडरखुडर है

**लघु दीर्घ डुरशन (2,3 एवं 5 अंक वरले डुरशन)**

- डुर1. डुरथड वरशुव डुडुध ने डुररत डें कनस डुरकर नडुी आरुथरक सुथरतन उतुडनुन कर दी थी ? दुु उदरहरण दीऑर। (2)
- डुर2. सवरनड अवरऑर आनुदुलन डें धनी कनसन समूह और वुडरडररी वरुग समूह कुडुु शरडुडल हुए ? (2)
- डुर3. असहडुुग आंदुलन कुडुु शुरु कनडर गडर ? सडरऑ डें वरडुडनुन सुतरुुं दुवरर ररऑ की धरणर कुु कैसे डरनर गडर ? (3)
- डुर4. सवरनड अवरऑर आंदुलन कन डुररसुथरतनरुु डें वरडुस लनडर गडर ? (3)
- डुर5. गरंधुीऑी ने अडुने सवरनड अवरऑर आंदुलन के डुरतीक के रूड डें नडक कुु कुडुु ऑुनर ? (3)
- डुर6. खलरररुत आंदुलन शुरु करने के कुडर कररुण थे ? (3)
- डुर7. डुरथड वरशुव डुडुध ने डुररत डें ररषुुतुवरदी आंदुलन के वरकरस डें कनस डुरकर डदद की ? (5)

- प्र8. “सविनय अवज्ञा आंदोलन असहयोग आंदोलन से अलग था।” उदाहरणों के साथ कथन का समर्थन करें। (5)
- प्र9. अल्लूरी सीताराम राजू कौन थे? गांधीजी के विचारों से विद्रोहियों को प्रेरित करने में उनकी भूमिका की व्याख्या कीजिए। (5)
- प्र10. “सामूहिक अपनेपन की भावना आंशिक रूप से लोककथाओं, गीतों, प्रतीकों और छवियों के संयुक्त संघर्षों के अनुभवों के माध्यम से आई।” कथन का विश्लेषण करें। (5)

**उत्तरमाला लघु / दीर्घ प्रश्न (2,3 एवं 5 अंक वाले प्रश्न )**

1. (i) रक्षा व्यय में भारी वृद्धि  
(ii) औद्योगीकरण की प्रक्रिया को गति दी.
2. (i) धनी किसानों ने राजस्व में कमी की मांग की  
(ii) व्यवसायी वर्ग समूह - विदेशी वस्तुओं के आयात और रुपये स्टर्लिंग विनिमय अनुपात के विरुद्ध सुरक्षा चाहता था और आयातित वस्तुओं को बेचने से इनकार कर दिया।
3. स्मरणीय तथ्यों को देखें।
4. स्मरणीय तथ्यों को देखें।
5. स्मरणीय तथ्यों को देखें।
6. स्मरणीय तथ्यों को देखें।
7. स्मरणीय तथ्यों को देखें।
8. स्मरणीय तथ्यों को देखें।
9. स्मरणीय तथ्यों को देखें।
10. स्मरणीय तथ्यों को देखें।

**स्रोत आधारित प्रश्न**

1. नीचे दिए गए अनुच्छेद को पढ़िए एवं पूछे गए प्रश्नों के उत्तर दीजिए।

प्र1. महात्मा गांधी को नमक में एक शक्तिशाली प्रतीक मिला जो राष्ट्र को एकजुट कर सकता था 31 जनवरी 1930 को उन्होंने वायसराय इरविन को ग्यारह माँगें बताते हुए एक पत्र भेजा। इनमें से कुछ सामान्य रुचि के थे; अन्य उद्योगपतियों से लेकर किसानों तक विभिन्न वर्गों की विशिष्ट माँगें थीं। विचार यह था कि माँगों को व्यापक बनाया जाए, ताकि भारतीय समाज के भीतर सभी वर्ग उनके साथ पहचान बना सकें और सभी को एक संयुक्त अभियान में एक साथ लाया जा सके।

(i) वायसराय इरविन को भेजे पत्र में महात्मा गांधी ने कितनी माँगों का उल्लेख किया था ?

(ii) इन माँगों के पीछे मुख्य विचार क्या था ?

(iii) “महात्मा गांधी ने राष्ट्र को एक करने के लिए नमक को एक शक्तिशाली प्रतीक के रूप में प्रयोग किया।” इस कथन की पुष्टि कीजिए।

2. नीचे दिए गए अनुच्छेद को पढ़िए एवं पूछे गए प्रश्नों के उत्तर दीजिए।

प्र2. गांधीजी के नमक मार्च के दौरान, हजारों महिलाएं उन्हें सुनने के लिए अपने घरों से बाहर निकलीं। उन्होंने विरोध मार्च में भाग लिया, नमक का निर्माण किया और विदेशी कपड़े और शराब की दुकानों पर धरना दिया। कई जेल गए। शहरी क्षेत्रों में ये महिलाएं उच्च जाति के परिवारों से थीं; ग्रामीण क्षेत्रों में वे धनी किसान परिवारों से आते थे। गांधीजी के आहवान से प्रेरित होकर वे राष्ट्र की सेवा को महिलाओं के पवित्र कर्तव्य के रूप में देखने लगे। फिर भी, इस बड़ी हुई सार्वजनिक भूमिका का मतलब महिलाओं की स्थिति की कल्पना के तरीके में कोई आमूल-चूल परिवर्तन नहीं था। गांधीजी का मानना था कि महिलाओं का यह कर्तव्य है कि वे घर और चूल्हा संभालें, अच्छी मां और अच्छी पत्नियां बनें और लंबे समय तक कांग्रेस महिलाओं को संगठन के भीतर किसी भी



अधिकार की स्थिति में रखने की अनुमति देने में अनिच्छुक थी। यह केवल उनकी सांकेतिक उपस्थिति के लिए उत्सुक था।

- (i) महिलाओं ने आंदोलन में किस प्रकार भाग लिया किन्हीं दो तरीकों का उल्लेख कीजिए।
- (ii) शहरी और ग्रामीण क्षेत्रों में महिलाओं की सामाजिक स्थिति क्या थी ?
- (iii) क्या इस क्षण में महिलाओं की भागीदारी ने महिलाओं की स्थिति में कोई आमूल-चूल परिवर्तन किया। टिप्पणी करें।

### उत्तर (स्रोत आधारित प्रश्न)

उत्तर 1.

- (i) 11
- (ii) विचार यह था कि मांगों को व्यापक बनाया जाए, ताकि भारत के भीतर सभी वर्ग समाज को एक संयुक्त अभियान में एक साथ लाया जा सकता है।
- (iii) नमक एक ऐसी सामान्य वस्तु थी जिसका उपयोग समाज के प्रत्येक वर्ग द्वारा किया जाता था महात्मा गांधी ने घोषणा की कि नमक पर कर और सरकार का एकाधिकार खत्म हो गया है। इसके उत्पादन से अंग्रेजों का सबसे दमनकारी चेहरा सामने आया।

उत्तर 2. विद्यार्थी अनुच्छेद को पढ़कर स्वयं हल करेंगे।

### 3. भूमंडलीकृत विश्व का बनना

परिचय- वैश्विक दुनिया के निर्माण का एक लंबा इतिहास है - व्यापार का, प्रवास का, काम की तलाश में लोगों का, पूंजी की आवाजाही का, और बहुत कुछ। जैसा कि हम आज हमारे जीवन में वैश्विक अंतर्संबंध के नाटकीय और दृश्य संकेतों के बारे में सोचते हैं, हमें उन चरणों को समझने की आवश्यकता है जिनके माध्यम से यह दुनिया जिसमें हम रहते हैं, उभरा है।

चरण विशेषताएँ

प्राचीन काल
1. यात्रियों, व्यापारियों, पुजारियों और तीर्थयात्रियों ने जान, अवसर और आध्यात्मिक पूर्ति के लिए या उत्पीड़न से बचने के लिए विशाल दूरी तय की।
2. वे अपने साथ सामान, पैसा, मूल्य, कौशल, विचार, आविष्कार और यहां तक कि रोगाणु और बीमारियां भी ले गए।
3. 3000 ईसा पूर्व , एक सक्रिय तटीय व्यापार ने सिंधु घाटी की सभ्यताओं को वर्तमान पश्चिम एशिया के साथ जोड़ा
4. रेशम मार्ग ने चीन को पश्चिम से जोड़ा
5. भोजन ने अमेरिका से यूरोप और एशिया की यात्रा की
6. नूडल्स चीन से इटली की यात्रा करते हुए स्पेगेटी बन गया
7. यूरोपीय विजेता अमेरिका में चेचक के रोगाणु ले गए। एक बार प्रस्तुत किए जाने के बाद, यह महाद्वीप में गहरे फैल गया

### 19वीं शताब्दी (1815-1914)

- वैश्विक कृषि अर्थव्यवस्था का विकास हुआ।
- 2- ब्रिटिश मांग को पूरा करने के लिए रूस, अमेरिका, आस्ट्रेलिया में खाद्य उत्पादन का विस्तार।
- 3- ब्रिटेन में कॉर्न लॉ लागू, उद्योगपतियों और शहरी निवासियों ने सरकार को कॉर्न लॉ को खत्म करने के लिए मजबूर किया
- 4- टेक्नोलॉजी जैसे रेलवे, स्टीम शिप, टेलीग्राफ ने वैश्वीकरण में महत्वपूर्ण भूमिका निभाई
- 5- यूरोप ने अफ्रीका और एशिया को उपनिवेश के रूप में जीत लिया
- 6- भारत से गिरमिटिया श्रमिकों का पलायन

### अंतर युद्ध अर्थव्यवस्था (दो विश्व युद्धों के बीच)

- 1-प्रथम विश्व युद्ध ने अमेरिका को कर्जदार की बजाय कर्जदाता में बदल दिया
- 2-यूरोप में गेहूं का उत्पादन कम हुआ लेकिन कनाडा, अमेरिका और में बढ़ा
- 3- बड़े पैमाने पर उत्पादन और खपत का उदय
- 4- संयुक्त राज्य अमेरिका में 1929 की आर्थिक महामंदी ने पूरी दुनिया को प्रभावित किया
- 5- भारत का निर्यात और आयात गिर गया, किसानों को सबसे ज्यादा नुकसान हुआ
- 6-शहरी क्षेत्र में औद्योगिक निवेश बढ़ा

### युद्ध के बाद का युग (द्वितीय विश्व युद्ध के बाद)

- 1- सयुक्त राष्ट्र अमेरिका और सोवियत संघ विश्व शक्ति के रूप में उभरे
- 2- ब्रेटन वुड्स सम्मेलन ने अंतर्राष्ट्रीय मुद्रा कोष (IMF) और विश्व बैंक की स्थापना की।
- 3- एशियाई और अफ्रीकी देशों का अनौपनिवेशीकरण और स्वतंत्रता
- 4- जी -77 का गठन, जिसने नए आर्थिक विश्व व्यवस्था की मांग की
- 5- ब्रेटन वुड्स प्रणाली का अंत और बहुराष्ट्रीय कंपनियों की शुरुआत और वैश्वीकरण।

स्मरणीय तथ्य-----

- 1) **भूमंडलीकरण-** दुनिया भर में आर्थिक, सांस्कृतिक, राजनीतिक, धार्मिक और सामाजिक प्रणालियों का एकीकरण। इसका मतलब यह है कि वस्तुओं और सेवाओं, पूंजी और श्रम का व्यापार दुनिया भर में किया जाता है, देशों के बीच सूचना और शोध के परिणाम आसानी से प्रवाहित होते हैं।
- 2) **रेशम मार्ग** - सिल्क रूट (रेशम मार्ग) एक ऐतिहासिक व्यापार मार्ग था जो कि दूसरी शताब्दी ई.पू. 14 वीं शताब्दी तक, यह चीन, भारत, फारस, अरब, ग्रीस और इटली को पीछे छोड़ते हुए एशिया से भूमध्यसागरीय तक फैला था। उस दौरान हुए भारी रेशम व्यापार के कारण इसे सिल्क रूट करार दिया गया था।
- 3) **कॉर्न लॉ** - सरकार (यू.के.) को मक्के के आयात को प्रतिबंधित करने की अनुमति देने वाले कानूनों को आमतौर पर कॉर्न लॉ के रूप में जाना जाता था।
- 4) **रिंडरपेस्ट प्लेग** - रिंडरपेस्ट एक तेजी से फैलने वाला पशु प्लेग है जो अफ्रीका में 1880 के दशक के अंत में फैला था।
- 5) **ब्रेटन वुड्स संस्थान** - अंतर्राष्ट्रीय मुद्रा कोष (आईएमएफ), और विश्व

बैंक को द्वितीय विश्व युद्ध के बाद के युग में विश्व अर्थव्यवस्था के क्रमिक विकास के लिए बनाया गया था।

- 6) गिरमिटिया (अनुबंधित) श्रमिक- अनुबंध के तहत एक बंधुआ मजदूर जो अपने नियोक्ता या मालिक के पास एक निश्चित समय काम करने के बाद अपने देश लौटने को आजाद होता है।
- 7) श्रम का प्रवाह - काम की तलाश में नए क्षेत्रों में लोगों का प्रवासन।
- 8) होसे - त्रिनिदाद वार्षिक मुहर्रम के जुलूस को 'होसे' (इमाम हुसैन के लिए) नामक एक विशाल उत्सवी मेले में बदल दिया गया, जिसमें सभी जातियों और धर्मों के कार्यकर्ता शामिल हुए।
- 9) G-77- G77 विकासशील देशों द्वारा एक नए अंतर्राष्ट्रीय आर्थिक व्यवस्था (NIEO) की मांग करने वाला एक समूह था जो इन देशों को उनके राष्ट्रीय संसाधनों, कच्चे माल, निर्मित वस्तुओं और उनके बाजारों पर वास्तविक नियंत्रण प्रदान करेगा।
- 10) वीटो- एक कानून या निकाय द्वारा किए गए प्रस्ताव को अस्वीकार करने का संवैधानिक अधिकार।
- 11) टैरिफ - एक देश के आयात या निर्यात पर दूसरे देश द्वारा लगाया जाने वाला कर। प्रवेश के बिंदु पर शुल्क लगाया जाता है, अर्थात्, सीमा या हवाई अड्डे पर।
- 12) विनिमय दरें - वे अंतर्राष्ट्रीय व्यापार के प्रयोजनों के लिए राष्ट्रीय मुद्राओं को जोड़ती हैं। मोटे तौर पर दो प्रकार की विनिमय दरें हैं: निश्चित विनिमय दर और अस्थायी विनिमय दर।

### बहुविकल्पीय प्रश्न:

1. उन्नीसवीं सदी की शुरुआत में भारत से ब्रिटेन को कपास के वस्त्र निर्यात में गिरावट का कारण था-
  - (a) ब्रिटेन में कपास आयात पर सीमा शुल्क लगाना
  - (b) वस्त्रों की गुणवत्ता का खराब होना

- (c) भारत में कच्चे कपास की कमी
- (d) कपास उत्पादकों को अन्य खरीदार का मिल जाना
2. यूरोप में प्रथम विश्वयुद्ध के दौरान महिलाओं द्वारा नौकरी करने का मूल कारण था-
- (a) पुरुषों का लड़ाई पर जाना
- (b) पुरुषों का व्यवसाय की खोज में विदेश जाना
- (c) समाज में महिलाओं के उदारीकरण का परिणाम
- (d) पुरुषों द्वारा घरेलू काम का प्रभार लेने का फैसला लेना
3. प्रथम विश्वयुद्ध में निम्नलिखित में से किस देश ने भाग नहीं लिया था ?
- (a) डेनमार्क (b) जर्मनी
- (c) फ्रांस (d) ब्रिटेन
4. ऑटोमोबाइल निर्माण के लिए 'असेंबली लाइन' की अवधारणा को किसने अपनाया ?
- (a) राहुल बजाज (b) हेनरी फोर्ड
- (c) सैमुअल मोर्स (d) माइकल शूमेकर
5. उन्नीसवीं सदी में हजारों लोगों के यूरोप से अमेरिका के लिए भागने का कारण था-
- (a) गरीबी एवं व्यापक घातक बीमारियाँ
- (b) प्राकृतिक आपदा
- (c) राष्ट्रों के बीच युद्ध का प्रकोप
- (d) प्लेग का प्रकोप
6. अमेरिका की खोज किसने की थी ?
- (a) वास्को डी गामा (b) क्रिस्टोफर कोलंबस
- (c) अब्दुल रज्जाक (d) डोमिगो पायस
7. निम्नलिखित में से किस देश में कॉर्न लॉ लागू किया गया था ?
- (a) अमेरिका (b) फ्रांस
- (c) स्पेन (d) ब्रिटेन

8. 'रास्ताफारियानवाद' नामक विद्रोही धर्म को किस गायक ने प्रसिद्धि पर पहुंचा दिया ?
- (a) बॉब मार्ले (b) माइकल जैक्सन  
(c) एल्टन जॉन (d) बाबा सहगल
9. नीचे दो कथन, संकल्पना (स) एवं कारण (क) दिए गए हैं। इन कथनों को पढ़कर नीचे दिए गए विकल्पों में से सही उत्तर चुनिए:  
संकल्पना (स) प्राचीन काल में अफ्रीका में वेतन के बदले काम का चलन नहीं था। कारण (क) अफ्रीका में शुरुआत से ही जमीन की कोई कमी नहीं थी और आबादी काफी कम थी।
- (a) कथन एवं कारण दोनों सत्य है एवं कारण, कथन की सही व्याख्या करता है।  
(b) कथन एवं कारण दोनों सत्य है परंतु कारण, कथन की सही व्याख्या नहीं करता है।  
(c) कथन सही है परन्तु कारण गलत है।  
(d) कारण सही है परंतु कथन गलत है।
10. नीचे दो कथन, संकल्पना (स) एवं कारण (क) दिए गए हैं। इन कथनों को पढ़कर नीचे दिए गए विकल्पों में से सही उत्तर चुनिए—  
**संकल्पना (स):** हेनरी फोर्ड के कारखाने में हर तीन मिनट में एक कार तैयार होने लगी।  
**कारण (क):** हेनरी फोर्ड ने गिरमिटिया मजदूरों को अपने कारखानों में श्रमिक के रूप में लगाया।
- (a) कथन एवं कारण दोनों सत्य है एवं कारण, कथन की सही व्याख्या करता है।  
(b) कथन एवं कारण दोनों सत्य है परंतु कारण, कथन की सही व्याख्या नहीं करता है।  
(c) कथन सही है परन्तु कारण गलत है।  
(d) कारण सही है परंतु कथन गलत है।

11. नीचे दो कथन, संकल्पना (स) एवं कारण (क) दिए गए हैं। इन कथनों को पढ़कर नीचे दिए गए विकल्पों में से सही उत्तर चुनें:
- संकल्पना (स):** प्रथम विश्व युद्ध ने अमेरिका को कर्जदार से कर्जदाता में बदल दिया।
- कारण (क):** प्रथम विश्वयुद्ध मुख्य रूप से यूरोप के शक्तिशाली देशों के बीच लड़ा गया जिनसे उनकी आर्थिक स्थिति कमजोर हो गयी।
- (a) कथन एवं कारण दोनों सत्य हैं एवं कारण कथन की सही व्याख्या करता है।
- (b) कथन एवं कारण दोनों सत्य हैं परंतु कारण, कथन की सही व्याख्या नहीं करता है।
- (c) कथन सही है परन्तु कारण गलत है।
- (d) कारण सही है परंतु कथन गलत है।
12. निम्नलिखित में से कौन-सा सिल्क मार्ग के बारे में सही कथन नहीं है ?
- I. यह चीन को यूरोप के बाजार तक जोड़ता था।
- II. चीनी रेशम इस मार्ग का प्रमुख व्यापार था।
- III. चीनी रेशम की यूरोप में भारी माँग थी।
- (a) केवल II (b) केवल I एवं II
- (c) सभी I, II एवं III (d) केवल III
13. निम्नलिखित में से कौन सा गिरमिटिया श्रमिकों के संबंध में सही है ?
- I. 19वीं सदी में भारत एवं चीन से लाखों मजदूरों को बागानों, खदानों आदी में काम करने दूर देशों में ले जाया करता था।
- II. इन श्रमिकों को खास तरह के अनुबंध के तहत ले जाया जाता था।
- III. मजदूरों को 10 वर्ष मालिक के बागानों में काम करने के पश्चात ही स्वदेश लौटने की अनुमति होती थी।



IV. इन मजदूरों का जीवन इस अनुबंध के तहत काफी सुखमय था।

- (a) केवल I, II एवं III                      (b) केवल II, III एवं IV  
(c) केवल III                                      (d) केवल I एवं II

14. किस व्यवस्था को नई दास प्रथा कहा जाता था ?

- (a) होसे    (b) रास्ताफेरियानवाद  
(c) गिरमिटिया                                      (d) ब्रेटन वुड्स समझौता

15. निम्नलिखित में से कौन सा देश द्वितीय विश्वयुद्ध में धुरी शक्तियों की ओर से लड़ा था ?

- (a) ब्रिटेन    (b) फ्रांस  
(c) इटली    (d) अमेरिका

#### बहुविकल्पीय प्रश्न (उत्तर)

1. A. ब्रिटेन में कपास आयात पर सीमा शुल्क लगाना
2. A. पुरुषों का लड़ाई पर जाना
3. A. डेनमार्क
4. B. हेनरी फोर्ड
5. A. गरीबी एवं व्यापक घातक बीमारियों
6. B. क्रिस्टोफर कोलंबस
7. D. ब्रिटेन
8. A. बॉब मार्ले
9. A. कथन एवं कारण दोनों सत्य हैं एवं कारण, कथन की सही व्याख्या करता है।
10. C. कथन सही है परन्तु कारण गलत है।
11. A. कथन एवं कारण दोनों सत्य हैं एवं कारण कथन की सही व्याख्या करता है।
12. C. सभी I, II एवं III
13. D. केवल एवं II

14. C. गिरमिटिया

15. C. इटली

**अतिलघु/ लघु/ दीर्घ उत्तरीय प्रश्न:**

1. नहर बस्ती (कैनाल कॉलोनी) क्या था ?
2. प्रथम विश्व युद्ध जैसा युद्ध उससे पहले कभी नहीं हुआ था। कथन की समीक्षा कीजिए।
3. उन्नीसवीं शताब्दी में यूरोपीय लोग अमेरिका की तरफ पलायन क्यों करने लगे ? वर्णन कीजिए।
4. मवेशियों की बीमारियों ने भी हजारों लोगों का जीवन और भाग्य बदल कर रख दिया। उचित उदाहरणों के द्वारा कथन की पुष्टि कीजिए।
5. ब्रिटेन की अर्थव्यवस्था पर प्रथम विश्वयुद्ध के प्रभावों का वर्णन कीजिए।
6. कॉर्न लॉ क्या था ? इसे समाप्त करने की मांग क्यों की जाने लगी ?
7. वैश्वीकरण को संभव बनाने वाले कारकों की व्याख्या कीजिए
8. उन्नीसवीं शताब्दी के अंत तक दुनिया में खाद्य उपलब्धता को सुलभ बनाने में तकनीक ने किस प्रकार सहायता की उदाहरणों सहित वर्णन कीजिए।
9. ब्रेटन वुड्स सम्मेलन के मुख्य उद्देश्यों की चर्चा कीजिए।
10. 1929 की आर्थिक मंदी ने भारत में किसानों एवं मध्यम वर्गों को किस प्रकार प्रभावित किया। व्याख्या कीजिए।
11. पूर्व आधुनिक दुनिया में बीमारी के वैश्विक स्थानांतरण ने अमेरिका के उपनिवेशीकरण में किस प्रकार मदद की ? वर्णन कीजिए।
12. अधिशेष व्यापार से क्या अभिप्राय है ? भारत के संदर्भ में व्यापार संतुलन हमेशा ब्रिटेन के लिए अनुकूल क्यों था ?
13. अंतर्राष्ट्रीय आर्थिक विनिमय के तीन प्रकार की गतियों या प्रवाहों की व्याख्या कीजिए।
14. 1929 में आए वैश्विक आर्थिक महामंदी के कारणों का उल्लेख कीजिए।
15. बहुराष्ट्रीय कंपनियों द्वारा अपने उत्पादन को एशियाई देशों में स्थानांतरित करने के कारणों का विश्लेषण कीजिए)

**अतिलघु/ लघु/ दीर्घ उत्तरीय प्रश्न (उत्तर):**

1. स्मरणीय तथ्यों को देखिए।
2. स्मरणीय तथ्यों को देखिए।
3. स्मरणीय तथ्यों को देखिए।
4. स्मरणीय तथ्यों को देखिए।
5. स्मरणीय तथ्यों को देखिए।
6. स्मरणीय तथ्यों को देखिए।
7. स्मरणीय तथ्यों को देखिए।
8. स्मरणीय तथ्यों को देखिए।
9. स्मरणीय तथ्यों को देखिए।
10. स्मरणीय तथ्यों को देखिए।
11. स्मरणीय तथ्यों को देखिए।
12. स्मरणीय तथ्यों को देखिए।
13. स्मरणीय तथ्यों को देखिए।
14. स्मरणीय तथ्यों को देखिए।
15. स्मरणीय तथ्यों को देखिए।

**स्रोत आधारित प्रश्न:**

1. अनुच्छेद को पढ़कर निम्नलिखित प्रश्नों के उत्तर दीजिए-  
युद्ध के बाद आर्थिक स्थिति को पटरी पर लाने का रास्ता काफी मुश्किल साबित हुआ। युद्ध से पहले ब्रिटेन दुनिया की सबसे बड़ी अर्थव्यवस्था था। युद्ध के बाद सबसे लंबा संकट उसे ही झेलना पड़ा। जिस समय ब्रिटेन युद्ध से जूझ रहा था उसी समय भारत और जापान में उद्योग विकसित होने लगे थे। युद्ध के बाद भारतीय बाजार में पहले वाली वर्चस्वशाली स्थिति प्राप्त करना ब्रिटेन के लिए बहुत मुश्किल हो गया था। अब उसे जापान से भी मुकाबला करना था सो अलग। युद्ध के खर्च की भरपाई करने के लिए ब्रिटेन ने अमेरिका से जम कर कर्जे लिए थे। इसका परिणाम यह हुआ कि युद्ध खत्म होने तक ब्रिटेन भारी विदेशी

कर्ज में दब चुका था। युद्ध के कारण आर्थिक उछाह का माहौल पैदा हो गया था क्योंकि माँग उत्पादन और रोजगारों में भारी इजाफा हुआ था। पर जब युद्ध के कारण पैदा हुआ उछाह शांत होने लगा तो उत्पादन गिरने लगा और बेरोजगारी बढ़ने लगी। दूसरी ओर सरकार ने भारी-भरकम युद्ध संबंधी व्यय में भी कटौती शुरू कर दी ताकि शांतकालीन करो के सहारे ही उनकी भरपाई की जा सके। इन सारे प्रयासों से रोजगार भारी तादाद में खत्म हुए। 1921 में हर पाँच में से एक ब्रिटिश मजदूर के पास काम नहीं था रोजगार के बारे में बेचैनी और अनिश्चितता युद्धोत्तर वातावरण का अंग बन गई थीं।

- (a) युद्ध के बाद ब्रिटेन को लम्बा संकट क्यों झेलना पड़ा ? (1)
- (b) युद्ध के कारण रोजगार में इजाफा किस प्रकार हुआ था ? (1)
- (c) युद्धोत्तर वातावरण में ब्रिटेन में रोजगार की अनिश्चितता क्यों बन गयी ? (2)

## 2. अनुच्छेद को पढ़कर निम्नलिखित प्रश्नों के उत्तर दीजिए-

### भारतीय व्यापार, उपनिवेशवाद और वैश्विक व्यवस्था

भारत में पैदा होने वाली महीन कपास का यूरोपीय देशों को निर्यात किया जाता था। औद्योगीकरण के बाद ब्रिटेन में भी कपास का उत्पादन बढ़ने लगा था। इसी कारण वहाँ के उद्योगपतियों ने सरकार पर दबाव डाला कि वह कपास के आयात पर रोक लगाए और स्थानीय उद्योगों की रक्षा करे। फलस्वरूप ब्रिटेन में आयातित कपड़ों पर सीमा शुल्क थोष दिए गए। वहाँ महीन भारतीय कपास का आयात कम होने लगा उन्नीसवीं शताब्दी की शुरुआत से ही ब्रिटिश कपड़ा उत्पादक दूसरे देशों में भी अपने कपड़े के लिए नए-नए बाजार ढूँढ़ने लगे थे। सीमा शुल्क की व्यवस्था के कारण ब्रिटिश बाजारों से बेदखल हो जाने के बाद भारतीय कपड़ों को दूसरे अंतर्राष्ट्रीय बाजारों में भी भारी प्रतिस्पर्धा का सामना करना पड़ा। यदि भारतीय निर्यात के आँकड़ों का अध्ययन करें तो पता चलता है कि सूती कपड़े के निर्यात में लगातार गिरावट का ही

रुझान दिखाई देता है। सन् 1800 के आसपास निर्यात में सूती कपड़े का प्रतिशत 30 था जो 1815 में घट कर 15 प्रतिशत रह गया। 1870 तक तो यह अनुपात केवल 3 प्रतिशत रह गया था।

- (a) ब्रिटेन में कपास के आयातित कपड़ों पर सीमा शुल्क क्यों थोप दिए गए ?
- (b) भारतीय कपड़ों को दूसरे अंतर्राष्ट्रीय बाजारों में भी प्रतिस्पर्ध का सामना क्यों करना पड़ा ?
- (c) ब्रिटेन द्वारा आयात शुल्क लगाने के बाद भारत के सूती कपड़ा निर्यात पर क्या प्रभाव पड़ा है ?

**स्रोत आधारित प्रश्न (उत्तर):**

1. (a) युद्ध के कारण ब्रिटेन की आर्थिक स्थिति जर्जर हो गयी थी।  
(b) युद्ध के कारण माँग एवं उत्पादन में वृद्धि के कारण रोजगार में इजाफा हो गया था।  
(c) (i) जब युद्ध के कारण पैदा हुआ उछाह शांत होने लगा तो उत्पादन गिरने लगा और बेरोजगारी बढ़ने लगी।  
(ii) दूसरी ओर सरकार ने भारी-भरकम युद्ध संबंधी व्यय में भी कटौती शुरू कर दी ताकि शांतिकालीन करों के सहारे ही उनकी भरपाई की जा सके। इन सारे प्रयासों से रोजगार भारी तादाद में खत्म हुए और अनिश्चतता का माहौल बन गया था।
2. विद्यार्थी स्वयं हल करेंगे।

## 4. औद्योगीकरण का युग

स्मरणीय तथ्य

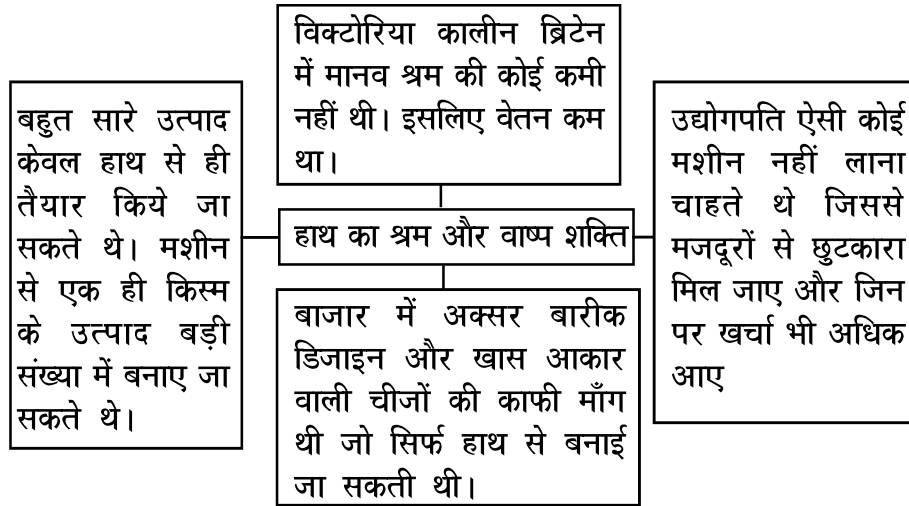
औद्योगीकरण का युग	
औद्योगिक क्रांति से पूर्व (आदि औद्योगीकरण)	<ul style="list-style-type: none"> <li>• फैक्ट्री पर आधारित नहीं थी।</li> <li>• उत्पादन व्यापारिक गिल्ड्स द्वारा नियंत्रित।</li> <li>• गाँवों में किसानों एवं दस्तकारों द्वारा वस्तुओं का उत्पादन।</li> <li>• गाँवों और शहरों के बीच घनिष्ठ संबंध।</li> </ul>
यूरोप में औद्योगीकरण	<ul style="list-style-type: none"> <li>• फैक्ट्रियों का निर्माण / उदय</li> <li>• औद्योगिक परिवर्तन की रफ्तार</li> <li>• हाथ का श्रम और वाष्प शक्ति</li> <li>• मजदूरों की दयनीय स्थिति</li> </ul>
उपनिवेशों में औद्योगीकरण (उदाहरण-भारत)	<ul style="list-style-type: none"> <li>• भारतीय कपड़े का युग</li> <li>• 18वीं शताब्दी में बुनकरों की स्थिति।</li> <li>• भारत में फैक्ट्रियों का उदय।</li> <li>• भारत में औद्योगिक विकास का अनूठापन।</li> <li>• वस्तुओं का बाजार।</li> </ul>

### फैक्ट्रियों का आना:-

- विश्व में सबसे पहले कारखाने 1730 के दशक में इंग्लैंड में खुले।
- इस नए युग का पहला प्रतीक कपास था।
- कारक जिन्होंने इसे संभव बनाया - कई आविष्कार तथा बदलावों की श्रृंखला से उत्पादन प्रक्रिया में सुधार
- उत्पादन की सारी प्रक्रियाओं तथा प्रबंधन का एक छत के नीचे आना।

### औद्योगिक परिवर्तन की रफ्तार

- औद्योगीकरण का मतलब सिर्फ फैक्ट्री उद्योग का विकास नहीं था।
- कपास तथा सूती वस्त्र उद्योग एवं लोहा व स्टील उद्योग में बदलाव काफी तेजी से हुए और ये ब्रिटेन के सबसे फलते फूलते उद्योग थे।  
कपास 1840 के दशक में इंग्लैंड में रेलवे के विस्तार से
- लोहा एवं इस्पात उद्योग का तेजी से विकास हुआ 1840 के दशक में इंग्लैंड में रेलवे के विस्तार से तथा 1860 के दशक में उपनिवेशों में रेलवे के विस्तार से।
- नए उद्योग परंपरागत उद्योग को आसानी से हाशिये पर ढकेल नहीं सकें। 19वीं सदी के आखिर में भी तकनीकी रूप से विकसित औद्योगिक क्षेत्र में काम करने वाले मजदूरों की संख्या 20 प्रतिशत से ज़्यादा नहीं थी।
- परंपरागत उद्योग भाप से चलने वाले या लोहा एवं इस्पात उद्योग से प्रभावित नहीं थे परंतु ये पूरी तरह से ठहराव की अवस्था में भी नहीं थे। बहुत सारे साधारण और छोटे-छोटे आविष्कार इन गैर-मशीनी उद्योगों का आधार थी।



### इंग्लैंड में मजदूरों का जीवन:-

- कुल मिलाकर मजदूरों का जीवन दयनीय था।
- श्रम की बहुतायत की वजह से नौकरियों की भारी कमी।
- नौकरी मिलने की संभावना यारी-दोस्ती कुनबे-कुटुंब के जरिए जान पहचान पर निर्भर करती थी।
- बहुत सारे उद्योगों में मौसमी काम की वजह से कामगारों को बीच-बीच में बहुत समय तक खाली बैठना पड़ता था।
- मजदूरों की आय के वास्तविक मूल्य में भारी कमी इसलिए गरीबी।
- बेरोजगारी की आशंका की वजह से मजदूर नई प्रौद्योगिकी से चिढ़ने लगे तथा मशीनों पर हमला करने लगे।
- 1840 के दशक के बाद रोजगार के अवसरों में वृद्धि हुई क्योंकि सड़कों को चौड़ा किया गया, नए रेलवे स्टेशन बनें, रेलवे लाइनों का विस्तार किया गया।



## उपनिवेशों में औद्योगिकरण

### भारतीय कपड़े का युग

#### मशीन उद्योग से पहले का युग

- अंतर्राष्ट्रीय कपड़ा बाजार में भारत के रेशमी और सूती उत्पादों का दबदबा
- उच्च किस्म का कपड़ा भारत से आर्मीनियन और फारसी सौदागर पंजाब से अफगानिस्तान, पूर्वी फारस और मध्य एशिया लेकर जाते थे।
- सूरत, हुगली और मछली पट्णम प्रमुख बंदरगाह
- विभिन्न प्रकार के भारतीय व्यापारी तथा बैंकर इस व्यापार नेटवर्क में शामिल थे।
- दो प्रकार के व्यापारी:- आपूर्ति सौदागर तथा निर्यात सौदागर
- बंदरगाहों पर बड़े जहाज मालिक तथा निर्यात व्यापारी दलाल के साथ कीमत पर मोल भाव करते थे और आपूर्ति सौदागर से माल खरीद लेते थे।

#### मशीन उद्योग के बाद का युग (1780 के बाद)

- 1750 के दशक तक भारतीय सौदागरों के नियंत्रण वाला नेटवर्क टूटने लगा।
- यूरोपीय कंपनियों की ताकत बढ़ने लगी।
- सूरत तथा हुगली जैसे पुराने बंदरगाह कमजोर पड़ गए।
- बंबई (मुंबई) तथा कलकत्ता (कलकत्ता) एक नए बंदरगाह के रूप में उभरे
- व्यापार यूरोपीय कंपनियों द्वारा नियंत्रित होता था तथा यूरोपीय जहाजों के जरिए होता था।
- शुरूआत में भारत के कपड़ा व्यापार में कोई कमी नहीं।
- 18 वीं सदी यूरोप में भी भारतीय कपड़े की भारी मांग

### बुनकारों का क्या हुआ (यूरोपीय कंपनियों के आने से)

- ईस्ट इंडिया कंपनी द्वारा सत्ता स्थापित करने से पहले बुनकर बेहतर स्थिति में थे क्योंकि उनका उत्पाद खरीदने वाले बहुत खरीदार थे तथा वे मोल भाव करके सबसे अधिक कीमत देने वाले को अपना सामान बेच सकते थे।

### ईस्ट इंडिया कंपनी द्वारा राजनीतिक सत्ता स्थापित करने के बाद बुनकारों की स्थिति (1760 के बाद)

- भारतीय व्यापार पर ईस्ट इंडिया कम्पनी का एकाधिकार
- कपड़ा व्यापार में सक्रिय व्यापारियों तथा दलालों को खत्म करके बुनकरो पर प्रत्यक्ष नियंत्रण।
- बुनकारों को अन्य खरीदारों के साथ कारोबार करने पर पाबंदी।
- बुनकारों पर निगरानी रखने के लिए गुमाश्ता नाम के वेतनभोगी कर्मचारी की नियुक्ति। बुनकरो व गुमाश्ता के बीच अक्सर टकराव।
- बुनकारों को कंपनी से मिलने वाली कीमत बहुत ही कम।

मेनचेस्टर (ब्रिटिश कपड़े) का भारत आना



19वीं सदी के आते आते बुनकारों के सामने नई समस्याओं का जन्म



19वीं सदी के शुरुआत में - भारत से सूती वस्त्र के निर्यात में भारी कमी।



ब्रिटेन में कपड़ा उद्योग का विकास आयातित कपड़े पर आयात शुल्क का लगना तथा भारतीय बाजार में ब्रिटिश कपड़े की बिक्री



भारतीय बुनकारों की समस्याएँ:- नियति बाजार का ढह जाना, स्थानीय बाजार का संकुचित हो जाना, अच्छी कपास का ना मिल पाना तथा ऊँची कीमत पर कपास खरीदने के लिए मजबूर होना।



19वीं सदी के अंत तक भारत में फैक्ट्रियों द्वारा उत्पादन शुरू तथा भारतीय बाजार में मशीनी उत्पाद की बाढ़

## आरंभिक फैक्ट्रियां

- ★ पहली सूती कपड़ा मिल बम्बई - 1854
- ★ पहली जूट मिल - बंगाल - 1855
- ★ 1860 - कानपुर में एल्लिगन मिल की स्थापना
- ★ 1874 - मद्रास में प्रथम कटाई और बुनाई मिल



भारत में फैक्ट्रियों का आना (19वीं सदी)



### भारतीय मजदूरों की दशा

- ★ ज्यादातर मजदूर अस्थायी तौर पर रखे जाते थे।
- ★ फसलों की कटाई के समय गाँव लौट जाते थे
- ★ नौकरी मिलना कठिन था।
- ★ जॉबर मजदूरों की जिंदगी को पूरी तरह से नियंत्रित करते थे।

### प्रारंभिक उद्यमी

- ★ ये सभी चीन के साथ व्यापार में शामिल थे। उदाहरण के लिए बंगाल में द्वारकानाथ टैगोर। इन्होंने 6 संयुक्त उद्यम कंपनियाँ लगाई।
- ★ बम्बई में डिनशाँ पेटिट और जे. एन टाटा।
- ★ सेठ हुकुमचंद ने कलकत्ता में पहली जूट मिल लगाई।
- ★ जी. डी बिड़ला ने भी यही किया।
- ★ मद्रास के कुछ सौदागर जो बर्मा मध्य पूर्व तथा पूर्वी अफ्रीका से व्यापार करते थे।
- ★ कुछ वाणिज्यिक समूह जो भारत के भीतर ही व्यापार करते थे।

### प्रारंभिक मजदूर

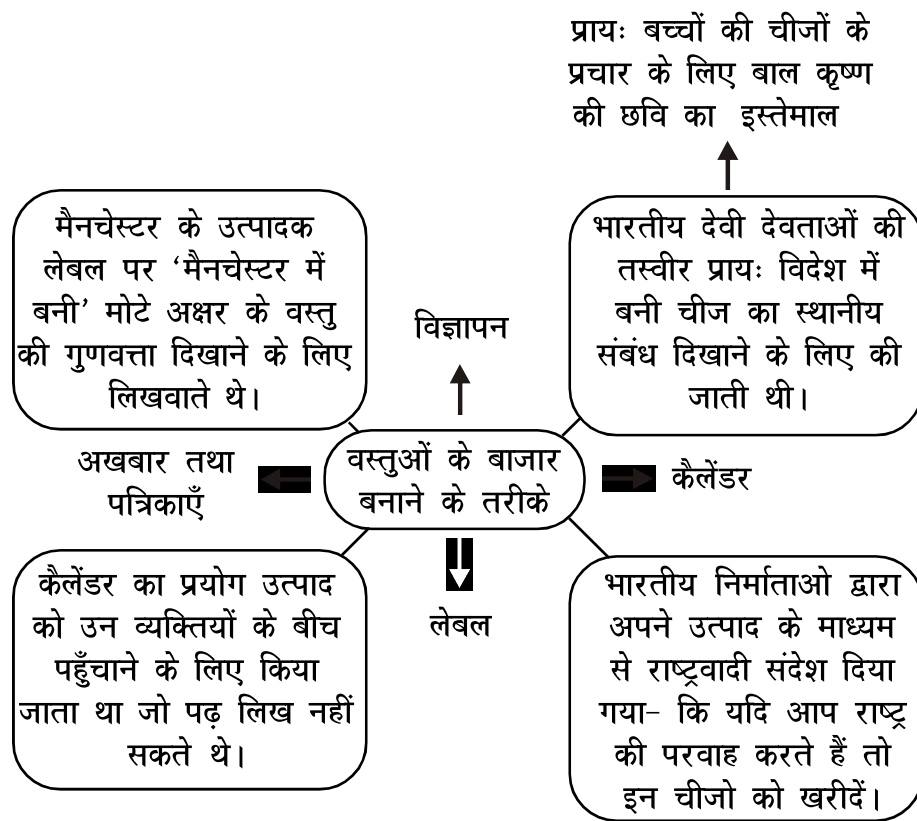
- ★ ज्यादातर मजदूर आसपास के जिले से आते थे।
- ★ अधिकांशतः वे किसान तथा कारीगर जिन्हे गाँव में काम नहीं मिलता था।
- ★ उदाहरण के लिए बंबई के सूती कपड़ा मिल में काम करने वाले ज्यादा मजदूर पास के रत्नागिरी जिले से आते थे।

### औद्योगिक विकास का अनूठापन:-

- ★ भारत में औद्योगिक उत्पादन पर वर्चस्व रखने वाले यूरोपीय प्रबंधकीय एजेंसियों की कुछ खास तरह के उत्पादन में ही दिलचस्पी थी खासतौर पर उन चीजों में जो निर्यात की जा सकें, भारत में बेचने के लिए नहीं जैसे- चाय, कॉफी, नील, जूट, खनन उत्पाद।
- ★ भारतीय व्यवसायियों ने वे उद्योग लगाए (19वीं सदी के आखिर में) जो मैनचेस्टर उत्पाद से प्रतिस्पर्धा नहीं करते थे। उदाहरण के लिए धागा- जो कि आयात नहीं किया जाता था तो कपड़े की बजाय धागे का उत्पादन किया गया।
- ★ 20वीं सदी के पहले दशक में भारत में औद्योगीकरण का ढर्रा बदल गया। स्वदेशी आंदोलन लोगों को विदेशी वस्तुओं के बहिष्कार के लिए प्रेरित किया। इस वजह से भारत में कपड़ा उत्पादन शुरू हुआ। आगे चलकर चीन को धागे का निर्यात घट गया इस वजह से भी धागा उत्पादक कपड़ा बनाने लगे। 1900-1912 के बीच सूती कपड़े का उत्पादन दुगुना हो गया।
- ★ प्रथम विश्व युद्ध ने भारत में औद्योगिक उत्पादन को तेजी से बढ़ाया। नई फैक्ट्रियों की स्थापना की गई क्योंकि ब्रिटिश मिले युद्ध के लिए उत्पादन में व्यस्त थी।

## लघु उद्योगों की बहुतायत

- ★ फैक्ट्रियों के विकास के बावजूद, बहुत कम औद्योगिक केंद्र मुख्यतः बंगाल और बंबई में।
- ★ श्रमिकों का बहुत छोटा प्रतिशत फैक्ट्रियों में काम करता था। 1911 में 5 प्रतिशत, 1931 में 10 प्रतिशत केवल।
- ★ ज्यादातर श्रमिक अभी भी गली, मौहल्लों में स्थित छोटी-छोटी वर्कशॉप और घरेलू इकाई में काम करते थे।
- ★ कई आविष्कारों की वजह से हथकरघा उद्योग की तकनीक में सुधार तथा हथकरघा वस्त्र के उत्पादन में लगातार वृद्धि। ऐसा ही एक आविष्कार था- फ्लाई शटल।
- ★ कुछ बुनकर मिलों के साथ प्रतिस्पर्धा का मुकाबला बेहतर तरीके से कर पाए उदाहरण के लए महीन किस्म का कपड़ा बनाने वाले क्योंकि इस किस्म के कपड़े की माँग में खराब फसल की स्थिति में भी उतार चढ़ाव नहीं आते है।



## महत्वपूर्ण घटनाक्रम

- 1600 ईस्ट इंडिया कंपनी का भारत आगमन ।
- 1730 इंग्लैंड में फैक्ट्रियों की शुरुआत ।
- 1760 ब्रिटेन ने अपनी सूती मिलों की खपत के लिए कपास का आयात प्रारंभ किया ।
- 1764 स्पिनिंग जेनी का आविष्कार (जेम्स हरग्रीव्स) ।
- 1767 रिचार्ज आर्कराइट द्वारा सूती कपड़ा मिल की रूपरेखा ।
- 1781 जेम्स वाट द्वारा स्टीम इंजन का आविष्कार एवं पेटेंट होना ।
- 1785 कार्ट राइट ने बिजली से चलने वाले करघों का आविष्कार किया जो भाप का इस्तेमाल कातने और बुनने के लिए करते थे ।
- 1830-40 द्वारकानाथ टैगोर द्वारा बंगाल में 6 संयुक्त उद्यम कंपनियों की शुरुआत ।
- 1840 औद्योगिकरण के पिछले चरण में ब्रिटेन अग्रणी उत्पादक बना ।
- 1850 लंदन में रेलवे स्टेशनों का विकास
- 1854 मुंबई में पहली कपास मिल (कपड़ा मिल) की स्थापना ।
- 1855 बंगाल में पहली जूट मिल का खुलना ।
- 1860 अमेरिकी गृहयुद्ध से कपास की आमद बंद और कानपुर में एल्लिगन मिल खुली ।
- 1861 अहमदाबाद में पहली कपड़ा मिल की स्थापना ।
- 1863 लंदन में भूमिगत रेलवे की शुरुआत ।
- 1873 ब्रिटेन से लौह इस्पात का निर्यात प्रारंभ ।
- 1874 मद्रास में पहली करघा मशीन द्वारा उत्पादन प्रारंभ ।
- 1900 ई. टी. पॉल म्यूजिक कंपनी ने किताब प्रकाशित की थी जिसकी जिल्द पर तस्वीर में नयी सदी के उदय (Dawn of Century) का ऐलान था

- 1912 पहली लोहा इस्पात कंपनी के शुरुआत जे.एन. टाटा द्वारा (जमशेदपुर में)।
- 1917 कोलकाता में पहली जूट मिल लगाने वाले मारवाड़ी सेठ हुकुमचंद ने चीन से व्यापार किया।
- 1941 35 प्रतिशत से ज्यादा हथकरघा में फ्लाई शटल का प्रयोग।

### याद रखने की बातें

- 1 प्राच्य-यह शब्द उन देशों के लिए प्रयोग किया जाता है जो यूरोप के पूर्व में स्थित हैं।
- 2 पूंजी - यह मुद्रा की बड़ी मात्रा है जिसका निवेश किया जाता है या व्यापार या उद्योग में इस्तेमाल किया जाता है।
- 3 समाजवादी- जिसमें देश के प्रत्येक व्यक्ति का समान हिस्सा होता है तथा मुख्य उद्योगों का स्वामित्व और नियंत्रण सरकार का होता है।
- 4 स्पिनिंग जैनी - एक सूत काटने की मशीन जो जेम्स हरग्रीव्स लीवर्स द्वारा 1764 में बनाई गई थी।
- 5 स्टेपल - एक व्यक्ति जो रेशों के हिसाब से ऊन को “स्टेपल” करता है या उसे छांटता है।
- 6 फुलर्ज - चुन्नटों के सहारे कपड़े को समेटता है।
- 7 कार्डिंग- वह प्रक्रिया जिसमें कपास या ऊन आदि के रेशों को कटाई के लिए तैयार किया जाता है।
- 8 भारत - में सबसे पहले आने वाले यूरोपीय पुर्तगाली थे।

#### **नए आविष्कार**

1. फ्लाई शटल
2. भाप इंजन
3. स्पिनिंग जैनी

#### **आविष्कारक**

1. जॉन के
2. न्यूकॉमेन और जेम्स वाट
3. जेम्स हरग्रीव्स

1. सूती कपड़ा मिल की रूपरेखा सबसे पहले किसने रखी ?  
 (a) योहान गुटेन्बर्ग (b) मार्टिन लूथर  
 (c) इरेस्मस (d) रिचर्ड आर्कराइट
2. जेम्स वाट ने किसके द्वारा बनाए गए भाप के इंजन में सुधार किए और 1871 में नए इंजन को पेटेंट करा लिया ?  
 (a) इरेस्मस (b) न्यकॉमेन  
 (c) थॉमस वुड (d) रोबर्ट हॉर्नटन
3. किस मशीन ने कताई की प्रक्रिया तेज कर दी और मजदूरों की माँग घटा दी ?  
 (a) प्रिंटिंग प्रेस (b) मैकमीटर  
 (c) स्पिनिंग जेनी (d) बेरोमीटर
4. ब्रिटिश ईस्ट इंडिया कंपनी ने भारत में बुनकरों पर निगरानी रखने और कपड़ों की गुणवत्ता जांचने के लिए किसकी नियुक्ति की थी ?  
 (a) गुमाश्ता (b) फुलर्ज  
 (c) स्टेप्लर्स (d) जॉबर
5. फ्लाई शटल का इस्तेमाल होता था-  
 (a) लोहा एवं इस्पात उद्योग में (b) वस्त्र उद्योग में  
 (c) एल्युमिनियम प्रगलन में (d) विज्ञापन में
6. गिल्ड्स थे-  
 (a) उत्पादकों के संगठन (b) जूट मिल में काम करने मजदूर  
 (c) बुनकर (d) कंपनी के वेतनभोगी कर्मचारी
7. ब्रिटेन के कपड़ा व्यवसायी ऊन खरीदते थे ?  
 (a) फुलर्ज से (b) स्टेप्लर्स से  
 (c) गुमाश्ता से (d) गिल्ड्स से
8. नीचे दो कथन, संकल्पना (स) एवं कारण (क) दिए गए हैं। इन कथनों को पढ़कर नीचे दिए गए विकल्पों में से सही उत्तर चुनिए-  
**संकल्पना (स)** 1860 के दशक में बुनकरों को अच्छे किस्म के कपास नहीं मिल रहे थे।



**कारण (क):** अमेरिकी गृहयुद्ध के कारण ब्रिटेन भारत से कच्चा माल मँगाने लगा।

(a) संकल्पना एवं कारण दोनों सत्य हैं एवं कारण, संकल्पना की सही व्याख्या करता है।

(b) संकल्पना एवं कारण दोनों सत्य है परंतु कारण संकल्पना की सही व्याख्या नहीं करता है।

(c) संकल्पना सही है परन्तु कारण गलत है।

(d) कारण सही है परंतु संकल्पना गलत है।

9. नीचे दो कथन, संकल्पना (स) एवं कारण (क) दिए गए हैं। इन कथनों को पढ़कर नीचे दिए गए विकल्पों में से सही उत्तर चुनिए-

**संकल्पना (स):** विक्टोरिया कालीन ब्रिटेन में उच्च वर्ग के लोग हाथों से बनी चीजों को तरजीह देते थे।

**कारण (क):** मशीनों से बनने वाले उत्पादों को उपनिवेशों में निर्यात कर दिया जाता था। संकल्पना एवं कारण दोनों सत्य है एवं कारण, संकल्पना की सही व्याख्या करता है।

(a) संकल्पना एवं कारण दोनों सत्य है परंतु कारण संकल्पना की सही व्याख्या नहीं करता है।

(b) संकल्पना एवं कारण दोनों सत्य हैं परंतु कारण, संकल्पना की सही व्याख्या नहीं करता है।

(c) संकल्पना सही है परन्तु कारण गलत है।

(d) कारण सही है परंतु संकल्पना गलत है।

10. नीचे दो कथन संकल्पना (स) एवं कारण (क) दिए गए हैं। इन कथनों को पढ़कर नीचे दिए गए विकल्पों में से सही उत्तर चुनिए-

**संकल्पना (स):** औद्योगिकरण के आरंभिक काल में मजदूर नयी प्रौद्योगिकी से चिढ़ते थे।

**कारण (क):** प्रौद्योगिकी के इस्तेमाल के कारण मजदूरों को बेरोजगारी की आशंका होने लगी थी।

- (a) संकल्पना एवं कारण दोनों सत्य है एवं कारण, संकल्पना की सही व्याख्या करता है।
- (b) संकल्पना एवं कारण दोनों सत्य है परंतु कारण, संकल्पना की सही व्याख्या नहीं करता है।
- (b) संकल्पना सही है परन्तु कारण गलत है।
- (d) कारण सही है परंतु संकल्पना गलत है।
11. नीचे दो कथन, संकल्पना (स) एवं कारण (क) दिए गए हैं। इन कथनों को पढ़कर नीचे दिए गए विकल्पों में से सही उत्तर चुनिए-
- संकल्पना (स):** उन्नीसवीं सदी के अंत तक भारत में बुनकरों का स्थानीय बाजार फैलने लगा।
- कारण (क):** स्थानीय बाजार में मैनचेस्टर के आयातित मालों की भरमार हो गयी थी।
- (a) संकल्पना एवं कारण दोनों सत्य हैं एवं कारण, संकल्पना की सही व्याख्या करता है।
- (b) संकल्पना एवं कारण दोनों सत्य है परंतु कारण, संकल्पना की सही व्याख्या नहीं करता है।
- (c) संकल्पना सही है परन्तु कारण गलत है।
- (d) कारण सही है परंतु संकल्पना गलत है।
12. वस्तुओं के लिए बाजार बनाने के लिए निम्नलिखित में से विज्ञापन का कौन-सा तरीका मैनचेस्टर के निर्माताओं ने प्रयोग किया ?
- I. वस्तुओं के बंडल पर लेबल लगाना।
- II. कैलेंडर छपवाना।
- III. राष्ट्रवादी संदेश लिखवाना।
- (a) केवल I एवं II                      (b) केवल II
- (c) केवल II एवं III                      (d) केवल I एवं III

13. स्तंभों का मिलान कर सही विकल्प चुनिए-

स्तंभ क	स्तंभ ख
I. पहला कपड़ा मिल	(a) मद्रास (1874)
II. पहला जूट मिल	(b) बंगाल (1855)
III. पहली कताई और बुनाई मिल	(c) बंबई (1854)
IV. एल्लिगन मिल	(d) कानपुर (1860 के दशक में)

विकल्प:

- (a) I-a, II-b, III-c, IV-d      (b) I-c, II-b, III-a, IV-d  
(c) I-c, II-b, III-d, IV-a      (d) I-b, II-c, III-a, IV-d

14. नीचे दिए गए चित्र को ध्यानपूर्वक देखिए



उपरोक्त प्रदर्शित चित्र की मूल भावना को निम्नलिखित में से कौन-सा सबसे उपयुक्त रूप से निरूपित करता है ?

- (a) दो जादूगरों की कहानी  
(b) औद्योगीकरण की तकनीकी प्रगति  
(c) शिकागो शहर में होने वाले जादू का शो  
(d) अलादीन का चिराग का नाटय मंचन

### बहुविकल्पीय प्रश्न (उत्तर):

1. D. रिचर्ड आर्कराईट
2. B. न्यकॉमेन
3. C. स्पिनिंग जेनी
4. A. गुमाश्ता
5. B. वस्त्र उद्योग में
6. A. उत्पादकों के संगठन
7. B. स्टेप्लर्स से
8. A. संकल्पना एवं कारण दोनों सत्य हैं एवं कारण, संकल्पना की सही व्याख्या करता है।
9. B. संकल्पना एवं कारण दोनों सत्य हैं परंतु कारण, संकल्पना की सही व्याख्या नहीं करता है।
10. A. संकल्पना एवं कारण दोनों सत्य हैं एवं कारण, संकल्पना की सही व्याख्या करता है।
11. D. कारण सही है परंतु संकल्पना गलत है।
12. A. केवल I एवं II
13. B. I-c, II-b, III-a, IV-d
14. B. औद्योगीकरण की तकनीकी प्रगति

### अतिलघु/ लघु दीर्घ उत्तरीय प्रश्न:

1. मैनचेस्टर के आगमन से भारतीय बुनकरों के सामने क्या समस्याएँ आयी ? विस्तार पूर्वक समझाइए।
2. प्रथम विश्वयुद्ध के समय भारत के औद्योगिक उत्पादन बढ़ने के क्या कारण थे ?
3. नए सौदागरों का शहरों में व्यापार करना कठिन था। कथन की समीक्षा कीजिए।
4. नये उद्योगपति परंपरागत उद्योगों की जगह क्यों नहीं ले सके
5. भारतीय सौदागरों के नियंत्रण वाला नेटवर्क क्यों टूटने लगा था ? वर्णन कीजिए।

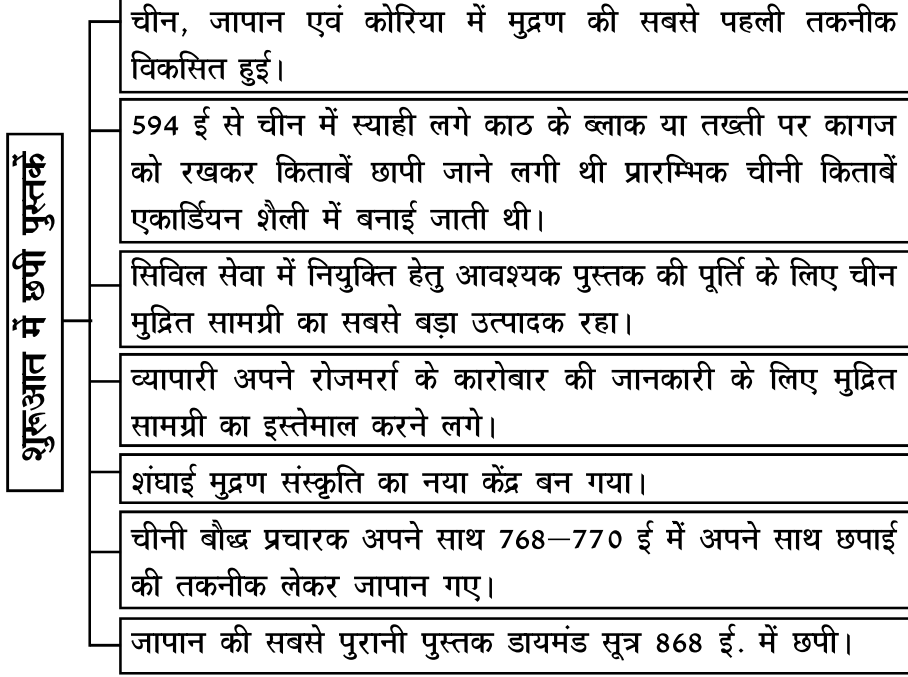
6. ईस्ट इंडिया कंपनी ने गुमाशतों को क्यों नियुक्त किया।
7. जॉबर कौन थे ? नई कारखाना प्रणाली में उनकी भूमिका का वर्णन कीजिए।
8. ब्रिटिश निर्माताओं ने विज्ञापनों की मदद से भारतीय व्यापार पर किस प्रकार कब्जा किया ?
9. ब्रिटेन में बाजार में श्रम की अधिक उपलब्धता ने श्रमिकों के जीवन को किस प्रकार प्रभावित किया ?
10. उन्नीसवीं सदी में यूरोप के उद्योगपति मशीनों की अपेक्षा मजदूरों को काम पर रखना अधिक पसंद क्यों करते थे ?
11. आद्य-औद्योगीकरण का क्या अर्थ है ? यह औद्योगीकरण से किस प्रकार भिन्न है ?
12. काम के लिए पेशगी की व्यवस्था ने बुनकरों को किस प्रकार प्रभावित किया ?
13. गिल्ड्स क्या थे ? वे उत्पादन व्यवस्था पर किस प्रकार नियंत्रण रखते थे ?

**अतिलघु/ लघु/ दीर्घ उत्तरीय प्रश्न (उत्तर):**

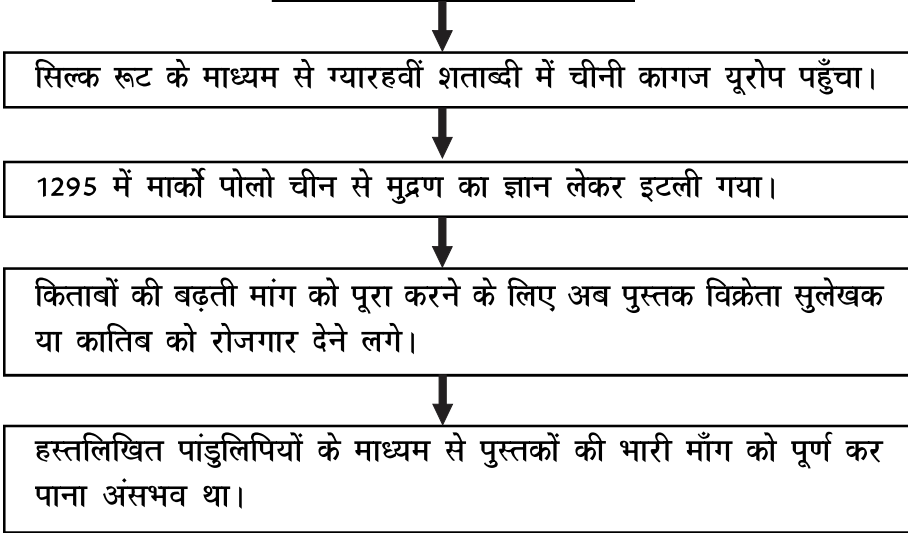
1. स्मरणीय तथ्यों को देखिए।
2. स्मरणीय तथ्यों को देखिए।
3. स्मरणीय तथ्यों को देखिए।
4. स्मरणीय तथ्यों को देखिए।
5. स्मरणीय तथ्यों को देखिए।
6. स्मरणीय तथ्यों को देखिए।
7. स्मरणीय तथ्यों को देखिए।
8. स्मरणीय तथ्यों को देखिए।
9. स्मरणीय तथ्यों को देखिए।
10. स्मरणीय तथ्यों की देखिए।
11. स्मरणीय तथ्यों को देखिए।
12. स्मरणीय तथ्यों को देखिए।
13. स्मरणीय तथ्यों को देखिए।

## अध्याय-5

# मुद्रण संस्कृति और आधुनिक दुनिया



### मुद्रण का यूरोप जाना



योहान गुटेन्वर्ग के पिता व्यापारी थे और वह खेती की एक बड़ी रियासत में पल-बढ़कर बड़ा हुआ। वह बचपन से ही तेल और जैतून पेरने की मशीनें देखता आया था। बाद में उसने पत्थर पर पॉलिश करने की कला सीखी, फिर सुनारी और अंत उसने शीशे की इच्छित आकृतियों में गढ़ने में महारत हासिल कर ली। अपने ज्ञान और अनुभव का इस्तेमाल उसने अपने नए अविष्कार में किया। जैतून प्रेस ही प्रिंटिंग प्रेस का आदर्श बनी और साँचे का उपयोग अक्षरों की धातुई आकृतियों को गढ़ने के लिए किया गया। गुटेनवर्ग ने 1448 तक अपना यह यंत्र मुकम्मल कर लिया और इससे सबसे पहली जो पुस्तक छपी वह थी बाइबिल। शुरू-शुरू में छपी किताबें अपने रंग रूप में और साज सज्जा में हस्तलिखित जैसी ही थी। 1440-1550 के मध्य यूरोप के ज्यादातर देशों में छापेखाने लग गए थे।



योहान गुटेन्वर्ग

### मुद्रण क्रांति और उसका असर

1. छापेखाने के आने से एक नया पाठक वर्ग पैदा हुआ।
2. छपाई में लगने वाली लागत व श्रम कम हो गया।
3. छपाई से किताबों की कीमत गिरी।
4. बाजार किताबों से पट गई, पाठक वर्ग भी बृहत्तर होता गया।
5. मुद्रण क्रांति के कारण पहले जो जनता श्रोता थी वह अब पाठक में बदल गई।
6. अब किताबे समाज के व्यापक तबकों तक पहुँच चुकी थी।

### धार्मिक विवाद एवं प्रिंट का डर

अधिकांश लोगो को यह भय था कि अगर मुद्रण पर नियंत्रण नहीं किया गया तो विद्रोही एवं अधार्मिक विचार पनपने लगेंगे।	धर्म सुधारक मार्टिन लुथर किंग ने अपने लेखों के माध्यम से कैथोलिक चर्च की कुरीतियों का वर्णन किया।	न्यूटेस्टामेंट के लुथर के तजुर्ब के कारण चर्च का विभाजन हो गया एवं और प्रोटेस्टेंट धर्मसुधार की शुरुआत हुई।	धर्म-विरोधियों को सुधारने हेतु रोमन चर्च ने इल्कवीजीशन आरंभ किया।	1558 में रोमन चर्च ने प्रतिबंधित किताबों की सूची प्रकाशित की।
---	---	---	---	---

## पढ़ने का जुनून

- अलग-अलग संप्रदायों के चर्चों ने गाँवों में स्कूल खोले और किसानों-कारीगरों को शिक्षित करने लगे।
- यूरोप के कुछ हिस्सों में तो साक्षरता 60 से 80 प्रतिशत तक हो गई।
- इंग्लैंड में पेनी चैपबुक्स या एकपैसिया किताबें बेचनेवालों को चैपमैन कहा जाता था।
- फ्रांस में बिब्लियोथीक ब्ल्यू का चलन था, जो सस्ते कागज़ पर छपी और नीली जिल्द में बँधी छोटी किताबें हुआ करती थीं।
- फ्रांस में 1857 में सिर्फ बाल पुस्तकों को छापने के लिए एक मुद्रणालय की स्थापना की गई।
- जर्मनी के गिब्र बंधुओं ने बरसों लगाकर किसानों के बीच से लोक कथाओं को एकत्र कर 1812 में उन्हें छपा।
- सत्रहवीं शताब्दी में ही किराए पर पुस्तक देने वाले कई पुस्तकालयों के उपयोग मजदूरों आदि को शिक्षित करने के लिए किए जाने लगे।
- 18वीं शताब्दी में पत्रिकाओं का प्रकाशन शुरू हुआ, जिनमें समसामयिक घटनाओं की खबर के साथ मनोरंजन भी परोसा जाने लगा।
- टॉमस पेन, वॉल्टेयर और ज्या ज़ाक रूसो जैसे दार्शनिकों की किताबें भी भारी मात्रा में छपी व पढ़ी जाने लगी जिससे विज्ञान तर्क और विवेकवाद के उनके विचार लोकप्रिय साहित्य में जगह पाने लगे।
- इंग्लैंड में 1920 के दशक में लोकप्रिय किताबें एक सस्ती श्रृंखला-शिलिंग श्रृंखला के तहत छपी गईं।
- 1930 की आर्थिक मंदी के आने से प्रकाशकों को ब्रिकी गिरने का भय हुआ इसलिए उन्होंने सस्ते पेपरबैक संस्करण छापे।

## भारत का मुद्रण संसार

- भारत में संस्कृत, अरबी, फारसी और विभिन्न क्षेत्रीय भाषाओं में हस्त-लिखित पांडुलिपियों की पुरानी और समृद्ध परंपरा थी।



- पांडुलिपियाँ ताड़ के पत्तों या हाथ से बने कागज पर नकल कर बनाई जाती थी
- उनकी उम्र बढ़ाने के विचार से उन्हें जिल्द या तख्तियों में बाँध दिया जाता था।
- पूर्व औपनिवेशिक काल में बंगाल में ग्रामीण क्षेत्रों में प्राथमिक पाठशालाओं का बड़ा जाल था, लेकिन विद्यार्थी आमतौर पर किताबें नहीं पढ़ते थे। गुरु अपनी याद्दाश्त से किताबें सुनाते थे, और विद्यार्थी उन्हें लिख लेते थे। इस तरह कई सारे लोग बिना कोई किताब पढ़े साक्षर बन जाते थे।

### मुद्रण संस्कृति का भारत आना

प्रिंटिंग प्रेस पहले- पहल सोलहवीं सदी में भारत के गोवा में पुर्तगाली धर्म-प्रचारक के साथ आया।

1674 ई. तक कोकणी एवं कन्नड़ भाषाओं में लगभग 50 पुस्तकें छपी जा चुकी थी।

कैथोलिक पुजारियों ने 1579 में कोचीन में पहली तमिल किताब छपी और 1713 में उन्होंने ही पहली मलयालम पुस्तक छपी।

जेम्स ऑगस्टस हिक्की ने 1780 से बंगाल गज़ट नामक एक साप्ताहिक पत्रिका का संपादन आरम्भ किया।

गंगाधर भट्टाचार्य ने बंगाल गजट का प्रकाशन आरंभ किया।

### महिलाएँ, मुद्रण एवं सुधार

- जेन ऑस्टिन, ब्राण्ट बहनें, जार्ज इलियट आदि के लेखन से नयी नारी की परिभाषा उभरी: जिसका व्यक्तित्व सुदृढ़ था, जिसमें गहरी सूझ-बूझ थी, और जिसका अपना दिमाग था, अपनी इच्छाशक्ति थी।
- महिलाओं की जिंदगी और उनकी भावनाएँ बड़ी साफगोई और गहनता से लिखी जाने लगी। इसलिए मध्यवर्गीय घरों में महिलाओं का पढना भी पहले से बहुत ज्यादा हो गया।
- राजा राममोहन रॉय ने 1821 से संवाद कौमुदी प्रकाशित किया और रूढिवादियों ने उनके विचारों से टक्कर लेने के लिए समाचार चंद्रिका का सहारा लिया।
- दो फ़ारसी अखबार-जाम-ए-जहाँ नामा और शम्सुल अखबार-1882 में प्रकाशित हुए।
- 1867 में स्थापित देवबंद सेमिनरी ने मुसलमान पाठकों को रोजमर्रा का जीवन जीने का सलीका और इस्लामी सिद्धांतों के मायने समझाते हुए हजारों फ़तवे जारी किए।
- 1876 में राससुन्दरी देवी की आत्मकथा आमार जीवन प्रकाशित हुई।
- 1880 में ताराबाई शिंदे और पंडित रमाबाई ने उच्च जाति की नारियों की दयनीय हालत पर रोष जाहिर किया।
- राम चड्ढा ने औरतों को आज्ञाकारी बीवियाँ बनने की सीख देने से उद्देश्य से अपनी बेस्ट सेलिंग कृति स्त्री धर्म विचार लिखी।
- 1871 ज्योतिबा फूले ने अपनी पुस्तक गुलामगिरी में जाति प्रथा के अत्याचारों पर लिखा।
- कानपुर के मिल मजदूर काशीबाबा ने 1938 में छोटे और बड़े का सवाल लिख और छाप कर जातीय एवं वर्गीय शोषण के बीच का रिश्ता समझाने की कोशिश की।
- आइरिश प्रेस एक्ट की तर्ज पर 1878 में भारत में वर्नाक्युलर प्रेस एक्ट लागू हुआ।

प्रमुख कथन

‘मुद्रण ईश्वर की दी हुई महानतम देन है, सबसे बड़ा तोहफा।’

(मार्टिन लूथर किंग)

‘छापाखाना प्रगति का सबसे ताकतवर औजार है, इसमें बन रही जनमत की आँधी में निरंकुशवाद उड़ जाएगा।’

(लुई सेबेस्तिऑ मर्सिए)

‘हे निरंकुशवादी शासकों, अब तुम्हारे काँपने का वक्त आ गया है। आभासी लेखक की कलम के जोर के आगे तुम हिल उठोगे।’

(लुई सेबेस्तिऑ मर्सिए)

नए शब्द

खुशनवीसी: सुलेखन

वेलम : चर्म- पत्र या जानवरों के चमड़े से बनी लेखन की सतह।

प्लाटेन : लेटरप्रेस छपाई में प्लाटेन बोर्ड होता है, जिसे कागज के पीछे दबाकर टाइप की छाप ली जाती थी। पहले सह बोर्ड काठ का होता था, बाद में इस्पात का बनने लगा।

कम्पोजीटर: छपाई के लिए इबारत कम्पोज़ करने वाले व्यक्ति।

गैली : धातुई फ्रेम, जिसमें टाइप इबारत बनाई जाती थी।

गाथा-गीत : लोकगीत का ऐतिहासिक आख्यान जिसे गाया या सुनाया जाता है।

इन्क्वीजीशन : विधर्मियों की शिनाख्त करने और सजा देने वाली रोमन कैथोलिक संस्था

धर्म-विरोधी : इंसान या विचार जो चर्च की मान्यताओं से असहमत हो।

संप्रदाय : किसी धर्म का एक उप समूह।

चैपबुक : पॉकेट बुक के आकार की किताबों के लिए इस्तेमाल किया जाने वाला शब्द।

इन्हें आमतौर पर फेरीवाले बेचते थे।

## मुद्रण संस्कृति और आधुनिक दुनिया

### वस्तुनिष्ठ प्रश्न (1 अंक वाले प्रश्न)

- जापान में छपी सबसे पुरानी पुस्तक का नाम बताइए ।
  - बाइबिल
  - डायमंड सूत्रा
  - द लॉस्ट वर्ल्ड
  - मिडनाइट चिल्ड्रन
- ज्योतिबा फुले द्वारा रचित पुस्तक गुलामगिरी का मुख्य विषय क्या है ?
  - जाति प्रथा
  - आधुनिकता का प्रभाव
  - भारत की आर्थिक अवस्था
  - जनसंख्या एक समस्या
- मिलान कीजिए।

#### स्तंभ क

#### स्तंभ ख

- |  |            |
|--|------------|
| A. प्रेस की आजादी को नियंत्रित करने वाले कानून पास किए गए। | (i) 1780   |
| B. प्रेस कानून की पुनर्समीक्षा                             | (ii) 1878  |
| C. वर्नाक्युलर प्रेस एक्ट                                  | (iii) 1835 |
| D. बंगाल गजट नामक साप्ताहिक पत्रिका का प्रकाशन             | (iv) 1820  |

- |                           |                           |
|---------------------------|---------------------------|
| A. A-I, B-II, C-III, D-IV | B. A-II, B-I, C-IV, D-III |
| C. A-IV, B-III, C-II, D-I | D. A-III, B-II, C-I, D-IV |

- निम्नलिखित घटनाओं को उनके कालक्रमानुसार व्यवस्थित कीजिए।
  - बंगाल गजट
  - संवाद कौमुदी
  - जाम ए जहाँ
  - रामचरितमानस का पहला मुद्रित संस्करण

- (a) 1, 2, 3, 4                      (b) 4, 3, 2, 1  
 (c) 3, 2, 4, 1                      (d) 1, 4, 2, 3
5. निम्नलिखित में से सही कथन की पहचान कीजिए।
1. छापेखाने के आने पर एक नए पाठक वर्ग का उदय हुआ।
  2. छपाई से पुस्तकों की कीमत कम हो गई।
  3. छापखाने के प्रभाव के कारण पुस्तकें समाज के विभिन्न वर्गों तक सुलभ हुईं।
- (a) केवल 1                              (b) केवल 1 व 2  
 (c) केवल 3                              (d) सभी कथन सत्य हैं।
6. किसने कहा था कि मुद्रण ईश्वर की महानतम देन है, सबसे बड़ा तोहफा।
- (a) योहान गुटनबर्ग                      (b) मार्टिन लूथर किंग  
 (c) लुई सेबेस्तिऑँ मार्सिए                      (d) जेम्स हिक्की
7. किसने कहा था कि 'छापाखाना प्रगति का सबसे ताकतवर औजार है, इनमें बन रही जनमत की आँधी से निरंकुशवाद उड़ जाएगा।'
- (a) जेम्स मिल                              (b) योहान गुटनबर्ग  
 (c) मार्टिन लूथर किंग                      (d) लुई सेबेस्तिऑँ मार्सिए
8. किसने कहा था कि 'निरंकुशवादी शासकों, अब तुम्हारे काँपने का वक्त आ गया है। आभासी लेखक की कलम के जोर के आगे तुम हिल उठोगे।'
- (a) लुई सेबेस्तिऑँ मार्सिए                      (b) जेम्स हिक्की  
 (c) जेम्स मिल                              (d) रूसों
9. यूरोप में पहली प्रिंटिंग प्रेस का अविष्कार किसने किया ?
- (a) रूसों                                      (b) जेम्स मिल  
 (c) मार्टिन लूथर किंग                      (d) योहान गुटनबर्ग

10. सही मिलान की पहचान कीजिए।

- (a) मार्टिन लूथर किंग जापान
- (b) मार्को पोलो-इटली
- (c) लुई सेबेस्टिएँ मासिए-ब्रिटेन
- (d) राजा राममोहन राय फ्रांस

प्रश्न संख्या 11 से 15 तक संकल्पना एवं कारण आधारित प्रश्न है। जिनके लिए निम्नलिखित विकल्पों का चयन कीजिए।

**विकल्प:**

- A. संकल्पना (स) एवं कारण (क) दोनों सही है एवं कारण संकल्पना की सही व्याख्या है।
  - B. संकल्पना (स) एवं कारण (क) दोनों सही है परन्तु कारण, संकल्पना की सही व्याख्या नहीं है।
  - C. संकल्पना (स) सही है एवं कारण (क) गलत है।
  - D. संकल्पना (स) गलत है परन्तु कारण (क) सही है।
11. **संकल्पना (स):** मुद्रण क्रांति के कारण पहले जो जनता श्रोता थी वह अब पाठक में बदल गई।  
**कारण(क):** अब किताबें समाज के व्यापक तबकों तक पहुँच चुकी थी।
12. **संकल्पना (स):** जापान की सबसे पुरानी पुस्तक डायमंड सूत्रा 868 ई. में छपी।  
**कारण(क):** योहान गुटनबर्ग एक फ्रांसीसी यात्री था।
13. **संकल्पना (स):** राससुन्दरी देवी की बंगाली भाषा में पहली संपूर्ण आत्म कर आमार जीवन 1876 में प्रकाशित हुई।  
**कारण(क):** छापेखाने के प्रयोग ने पुस्तकों की संख्या में भारी इजाफा किया।

14. **संकल्पना (स):** मार्टिन लूथर किंग को लगता था कि छापेखाने के उपयोग से धर्म नष्ट हो सकता है।  
**कारण (क):** मार्टिन लूथर किंग ने रोमन कैथोलिक चर्च की कुरीतियों की आलोचना की।
15. **संकल्पना (स):** पांडुलिपियों की उम्र बढ़ाने के विचार से उन्हें जिल्द या तख्तियों में बाँध दिया जाता था।  
**कारण (क):** पांडुलिपियाँ ताड़ के पत्तों या हाथ से बने कागज या नकल कर बनाई जाती थी।

#### उत्तरमाला

1. B. डायमंड सूत्र
2. A. जाति प्रथा
3. C. A-IV, B-III, C-II, D-I
4. D. 1, 4, 2, 3
5. D. सभी कथन सत्य हैं।
6. B. मार्टिन लूथर किंग
7. D. लुई सेबेस्टिएँ मार्सिए
8. A. लुई सेबेस्टिएँ मार्सिए
9. D. योहान गुटनबर्ग
10. B. मार्को पोलो - इटली
11. A. संकल्पना (स) एवं कारण (क) दोनों सही हैं एवं कारण, संकल्पना की सही व्याख्या है।
12. C. संकल्पना (स) सही है एवं कारण (क) गलत है।
13. C. संकल्पना (स) सही है एवं कारण (क) गलत है।
14. D. संकल्पना (स) गलत है परंतु कारण (क) सही है।

15. B. संकल्पना (स) एवं कारण (क) दोनों सही है एवं कारण, संकल्पना की सही व्याख्या है।

**लघु / दीर्घ प्रश्न (2.3 एवं 5 अंक वाले प्रश्न)**

- प्र.1 मुद्रण क्रांति के प्रभावों की व्याख्या कीजिए।
- प्र.2 कृष्ण लोगों को आसानी से उपलब्ध मुद्रित पुस्तकों के प्रभाव का डर क्यों लगा? यूरोप से एक और भारत से एक उदाहरण को चुनिए।
- प्र.3 मुद्रित सामग्रियों की तुलना में हस्तलिखित पाण्डुलिपियों की कमियों का वर्णन कीजिए।
- प्र.4 हस्तलिखित पाण्डुलिपियों का उत्पादन पुस्तकों की बढ़ती मांग को पूरा क्यों नहीं कर सका? कारण बताइए।
- प्र.5 यूरोप में मुद्रण संस्कृति के उदय में मदद करने वाले कारकों की व्याख्या कीजिए।
- प्र.6 भारत में प्रेस स्वतंत्रता को रोकने के लिए ब्रिटिश द्वारा क्या-क्या कदम उठाए गए।
- प्र.7 भारतीय महिलाओं पर मुद्रण संस्कृति का प्रभाव क्या था? उदाहरण के साथ बताइए।
- प्र.8 मुद्रण संस्कृति ने भारत में राष्ट्रवाद को बढ़ावा देने के लिए किस प्रकार योगदान दिया?
- प्र.9 पाण्डुलिपियाँ क्या हैं? इनके प्रयोग की सीमाओं का वर्णन कीजिए।
- प्र.10 मुद्रण क्रांति ने किस प्रकार पढ़ने के जुनून को बढ़ावा दिया?

**लघु/ दीर्घ प्रश्न (2,3 एवं 5 अंक वाले प्रश्न)**

1. स्मरणीय तथ्यों को देखें।
2. स्मरणीय तथ्यों को देखें।
3. स्मरणीय तथ्यों की देखें।



4. स्मरणीय तथ्यों को देखें।
5. 1857 के विद्रोह के बाद, क्रुद्ध अंग्रेजों ने देशी प्रेस पर शिंकजा कसने की मांग की।
  - 1878 में वर्नाक्यूलर प्रेस एक्ट पारित किया।
  - रिपोर्टों को सेंसर करने का प्रयास किया गया।
  - सरकार नियमित रूप से समाचार पत्रों पर नजर रखने लगी।
  - प्रेस की संपत्ति को जब्त करने का प्रयास।
6. स्मरणीय तथ्यों को देखें।
7. स्मरणीय तथ्यों को देखें।
8. स्मरणीय तथ्यों को देखें।
9. स्मरणीय तथ्यों को देखें।
10. स्मरणीय तथ्यों को देखें।

#### स्रोत आधारित प्रश्न (4 अंक)

1. नीचे दिए गए अनुच्छेद को पढ़िए एवं पूछे गए प्रश्नों के उत्तर दीजिए।

मुद्रण की सबसे पहली तकनीक चीन, जापान और कोरिया में विकसित हुई। यह छपाई हाथ से होती थी। तकरीबन 504 ई. से चीन में स्याही लगे काठ के ब्लॉक या सख्ती पर कागज को रगड़कर किताबें छपी जाने लगी थी। चूंकि पतले, छिद्रित कागज के दोनों तरफ छपाई संभव नहीं थी, इसलिए पारंपरिक चीनी किताब 'एकॉर्डियन' शैली में किनारों को मोड़ने के बाद सिल कर बनाई जाती थी किताबों का सुलेखन या खुशानवीसी करनेवाले लोग दक्ष सुलेखक या खुशखत होते थे, जो हाथ से बड़े सुंदर-सुडौल अक्षरों में सही-सही कलात्मक लिखाई करते थे। एक लंबे अरसे तक मुद्रित सामग्री का सबसे बड़ा उत्पादक चीनी राजतंत्र

था। सिविल सेवा परीक्षा से नियुक्त चीन की नौकरशाही भी विशालकाय थी तो चीनी राजतंत्र इन परीक्षाओं के लिए बड़ी तादाद में किताबें छपवाता था। सोलहवीं सदी में परीक्षा देने वालों की तादाद बढ़ी, लिहाजा, छपी किताबों की मात्रा भी उसी अनुपात में बढ़ गई।

- A. एकोर्डियन शैली से आप क्या समझते हैं ?
- B. चीन बड़ी मात्रा में मुद्रित सामग्री का उत्पादन क्यों करता था ?
- C. मुद्रण संस्कृति के प्रभावों की व्याख्या कीजिए।

2. नीचे दिए गए अनुच्छेद को पढ़िए एवं पूछे गए प्रश्नों के उत्तर दीजिए।

पूरे सत्रहवीं और अठारहवीं सदी के दौरान यूरोप के ज्यादातर हिस्सों में साक्षरता बढ़ती रही। अलग-अलग संप्रदाय के चर्चों ने गाँवों में स्कूल स्थापित किए और किसानों-कारीगरों को शिक्षित करने लगे। अठारहवीं सदी के अंत तक यूरोप के कुछ हिस्सों में तो साक्षरता दर 60 से 80 प्रतिशत तक हो गई थी। यूरोपीय देशों में साक्षरता और स्कूलों के प्रसार के साथ लोगों में पढ़ने का जैसे जुनून पैदा हो गया। लोगों को किताबें चाहिए थीं। इसलिए मुद्रक ज्यादा से ज्यादा किताबें छापने लगे। नए पाठकों की रुचि का ध्यान रखते हुए किस्म-किस्म का साहित्य छपने लगा। पुस्तक विक्रेताओं ने गाँव-गाँव जाकर छोटी-छोटी किताब बेचने वाले पफेरीवालों को काम पर लगाया। ये किताबें मुख्यतः पंचांग के अलावा लोकगाथाएँ और लोकगीतों की हुआ करती थी लेकिन जल्द ही मनोरंजन-प्रधान सामग्री भी आम पाठकों तक पहुँचने लगी। इंग्लैंड में पेनी चैपबुक्स या एकपैसिया किताबें बेचनेवालों को चोपमेन कहा जाता था। इन किताबों को गरीब तबके भी खरीदकर पढ़ सकते थे। फ्रांस में *बिब्लियोथीक ब्ल्यू* का चलन था, जो सस्ते कागज पर छपी और नीली जिल्द में बंधी छोटी किताबें हुआ करती थीं। इसके अलावा चार-पाँच

पन्ने की प्रेम कहानियाँ थीं, और अतीत की थोड़ी गाथाएँ थीं, जिन्हें 'इतिहास' कहते थे आप देख सकते हैं कि अलग-अलग उद्देश्य और दिलचस्पी के हिसाब से किताबों के कई आकार-प्रकार थे।

(a) चैपबुक्स क्या थी ?

(b) बिब्लियोथीक ब्ल्यू क्या थी ?

(c) साक्षरता एवं स्कूलों के प्रसार से मुद्रण संस्कृति पर क्या प्रभाव पड़ा ?

#### स्रोत आधारित प्रश्न (4 अंक)

1. नीचे दिए गए अनुच्छेद को पढ़िए एवं पूछे गए प्रश्नों के उत्तर दीजिए।

1. पतले, छिद्रित कागज के दोनों तरफ छपाई संभव नहीं थी. इसलिए पारंपरिक चीनी किताब 'एकॉर्डियन' शैली में किनारों को मोड़ने के बाद सिल कर बनाई जाती थी।

2. सिविल सेवा परीक्षा से नियुक्त चीन की नौकरशाही भी विशालकाय भी तो चीनी राजतंत्र इन परीक्षाओं के लिए बड़ी तादाद में किताबें छपवाता था। सोलहवीं सदी में परीक्षा देने वालों की तादाद बढ़ी, लिहाजा, छपी किताबों की मात्रा भी उसी अनुपात में बढ़ गई।

3. (i) पाठकों की संख्या में भारी इजाफा हुआ।

(ii) पुस्तकों की कीमत कम हो गई।

(iii) पुस्तकें सुलभ हो गईं।

2. नीचे दिए गए अनुच्छेद को पढ़िए एवं पूछे गए प्रश्नों के उत्तर दीजिए।

विद्यार्थी अनुच्छेद को पढ़कर स्वयं हल करेंगे।

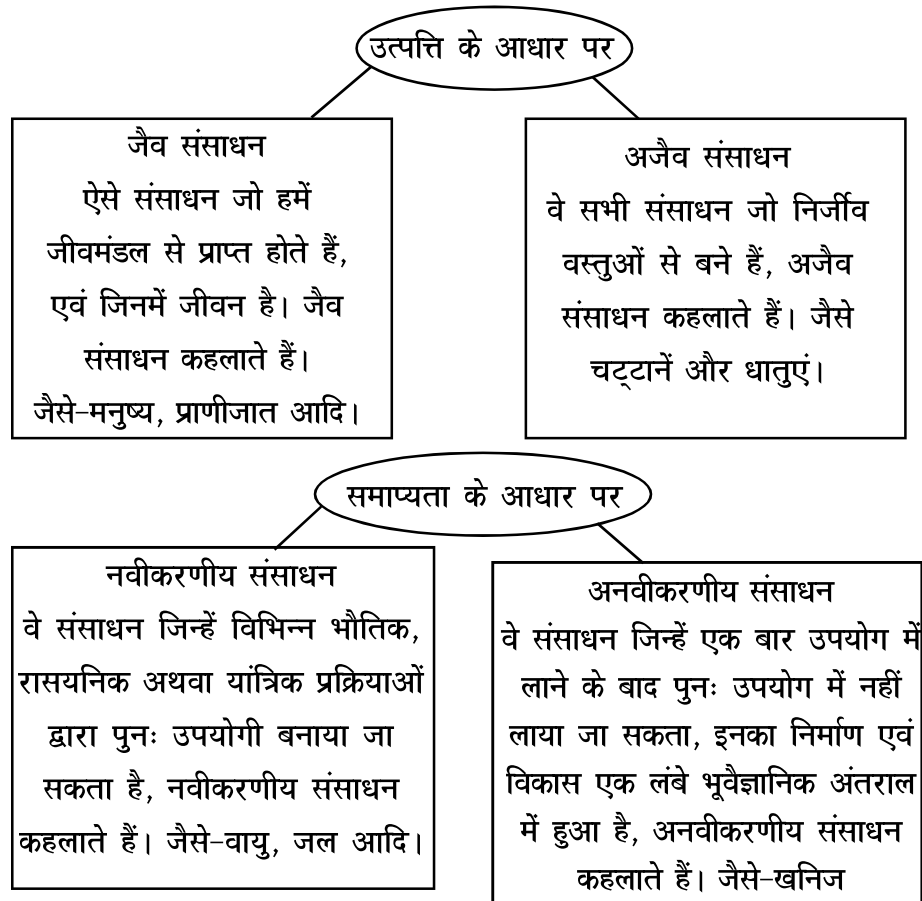
## भूगोल कक्षा 10वीं

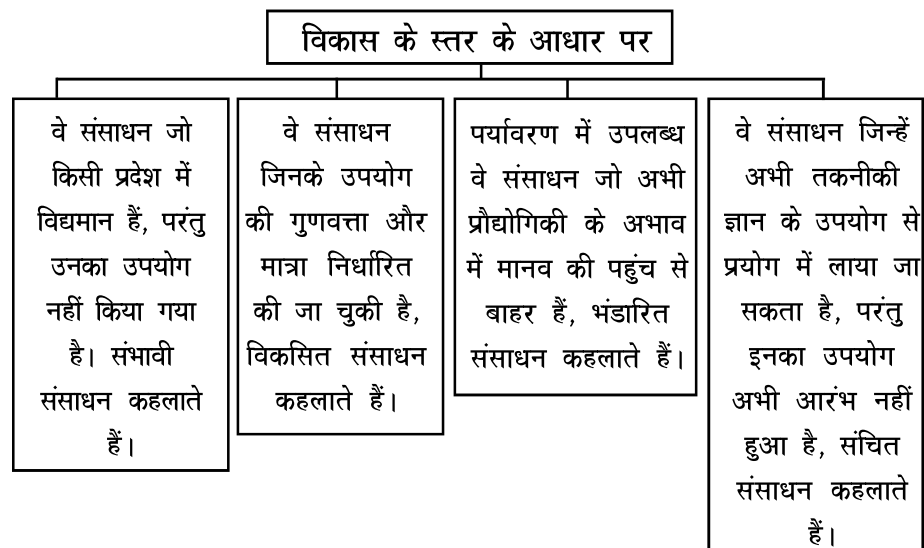
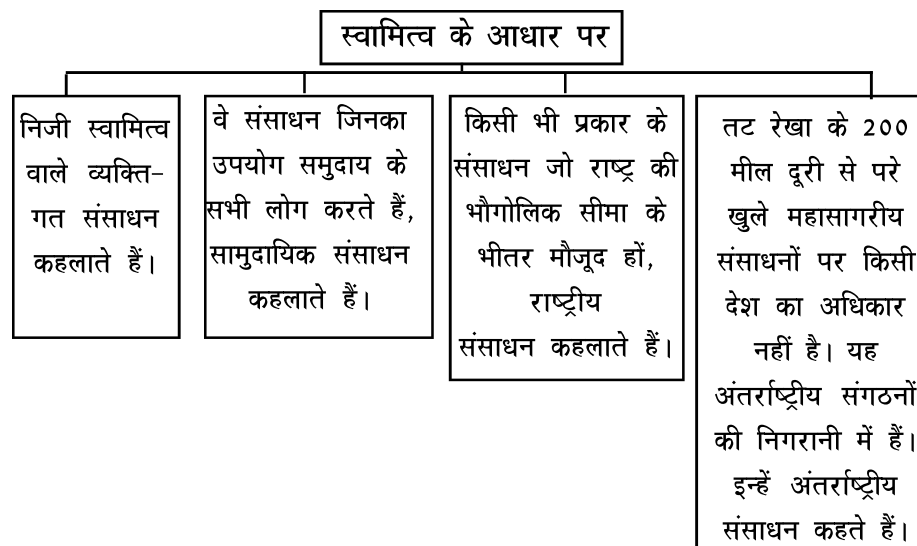
### 1. संसाधन एवं विकास

स्मरणीय तथ्य :-

1. हमारे पर्यावरण में उपलब्ध प्रत्येक वस्तु जो हमारी आवश्यकताओं को पूरा करने में प्रयुक्त की जा सकती है और जिसको बनाने के लिए प्रौद्योगिकी उपलब्ध है जो आर्थिक रूप से संभाव्य और सांस्कृतिक रूप से मान्य है संसाधन कहलाती है।

संसाधनों के प्रकार



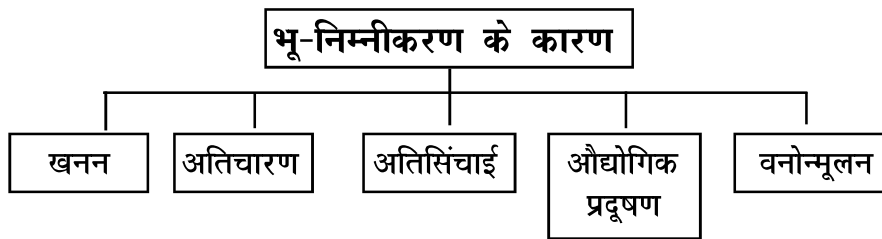


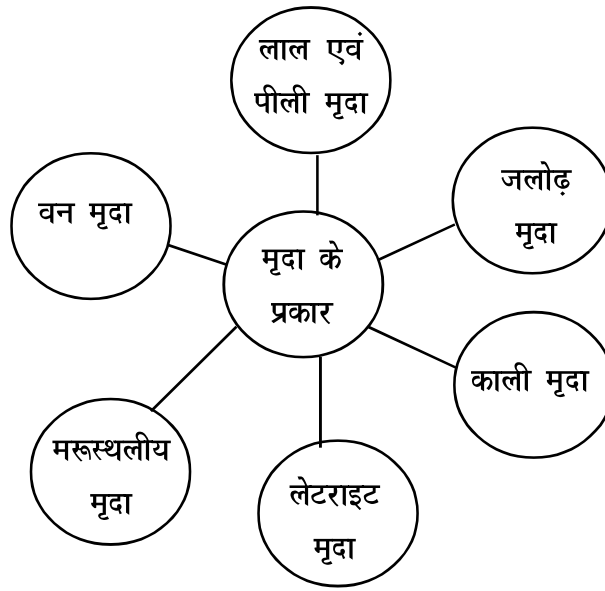
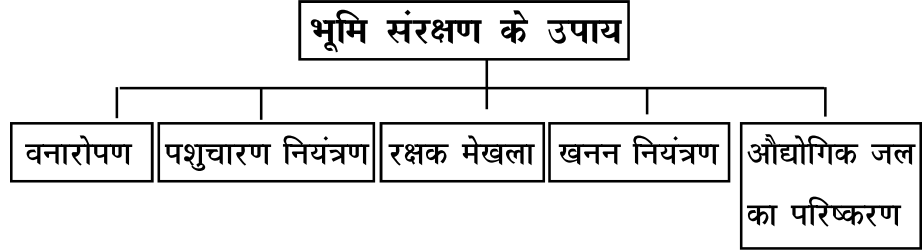
2. संसाधनों का ऐसा विवेकपूर्ण प्रयोग ताकि न केवल वर्तमान पीढ़ी की अपितु भावी पीढ़ियों की आवश्यकताएं भी पूरी होती रहें, सतत् पोषणीय विकास कहलाता है।
3. ऐसे उपाय अथवा तकनीक जिसके द्वारा संसाधनों का उचित उपयोग सुनिश्चित किया जा सकता है संसाधन नियोजन कहलाता है।

4. 1992 में ब्राजील के शहर रियो डी जेनेरो में संयुक्त राष्ट्र पर्यावरण और विकास सम्मेलन के तत्वाधान में राष्ट्राध्यक्षों ने एजेंडा 21 पारित किया जिसका उद्देश्य समान हितों, पारस्परिक आवश्यकताओं एवं सम्मिलित जिम्मेदारियों के अनुसार विश्व सहयोग के द्वारा पर्यावरणीय क्षति, गरीबी और रोगों से निपटना है।
5. महात्मा गाँधी ने कहा था कि - हमारे पास व्यक्ति की आवश्यकता पूर्ति के लिए बहुत कुछ है, लेकिन किसी के लालच की संतुष्टि के लिए नहीं।

### भू-उपयोग

1. वन
2. कृषि के लिए अनुपलब्ध भूमि
3. परती भूमि
4. परती भूमि के अतिरिक्त अन्य कृषि योग्य भूमि
5. शुद्ध बोया गया क्षेत्र

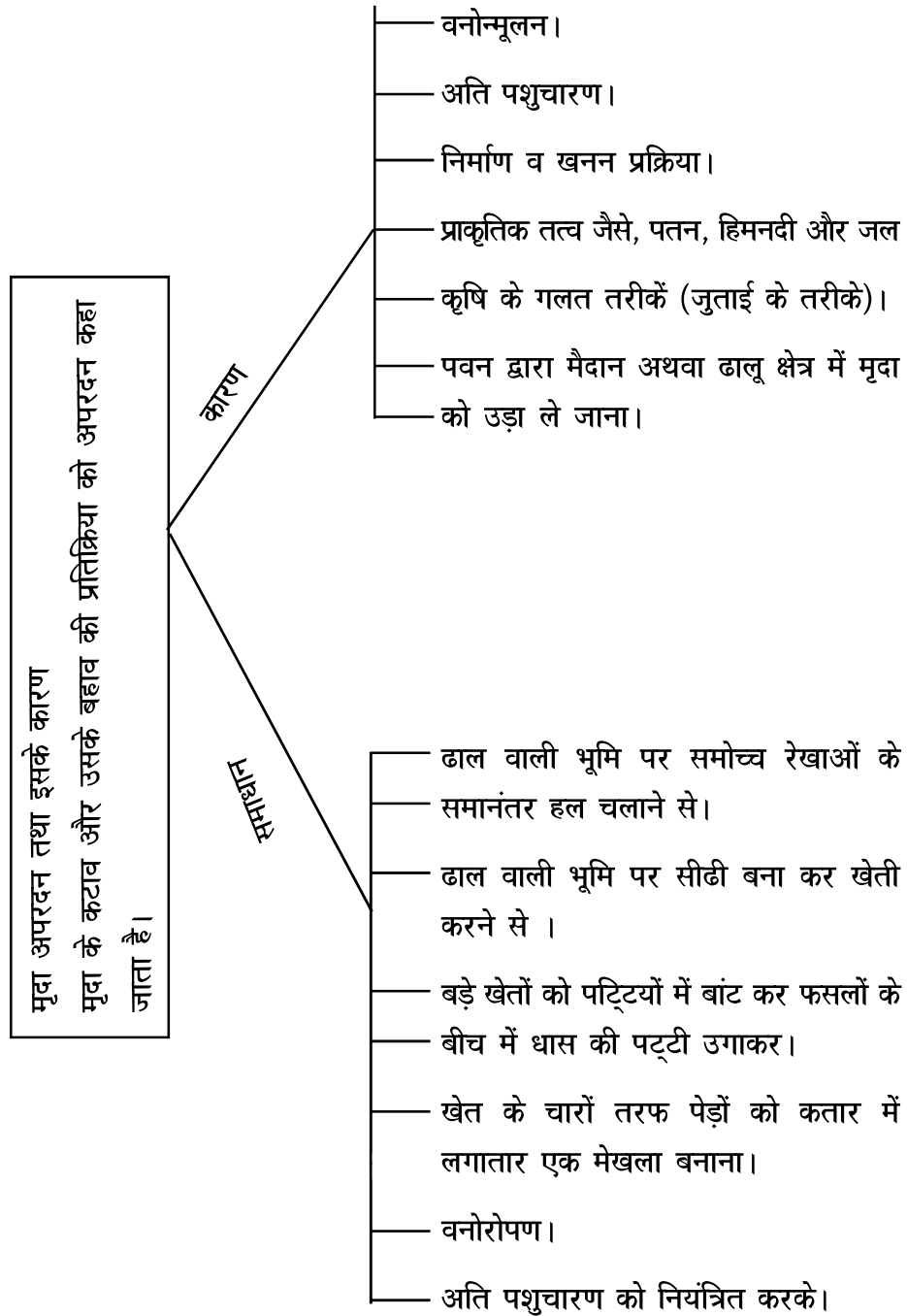


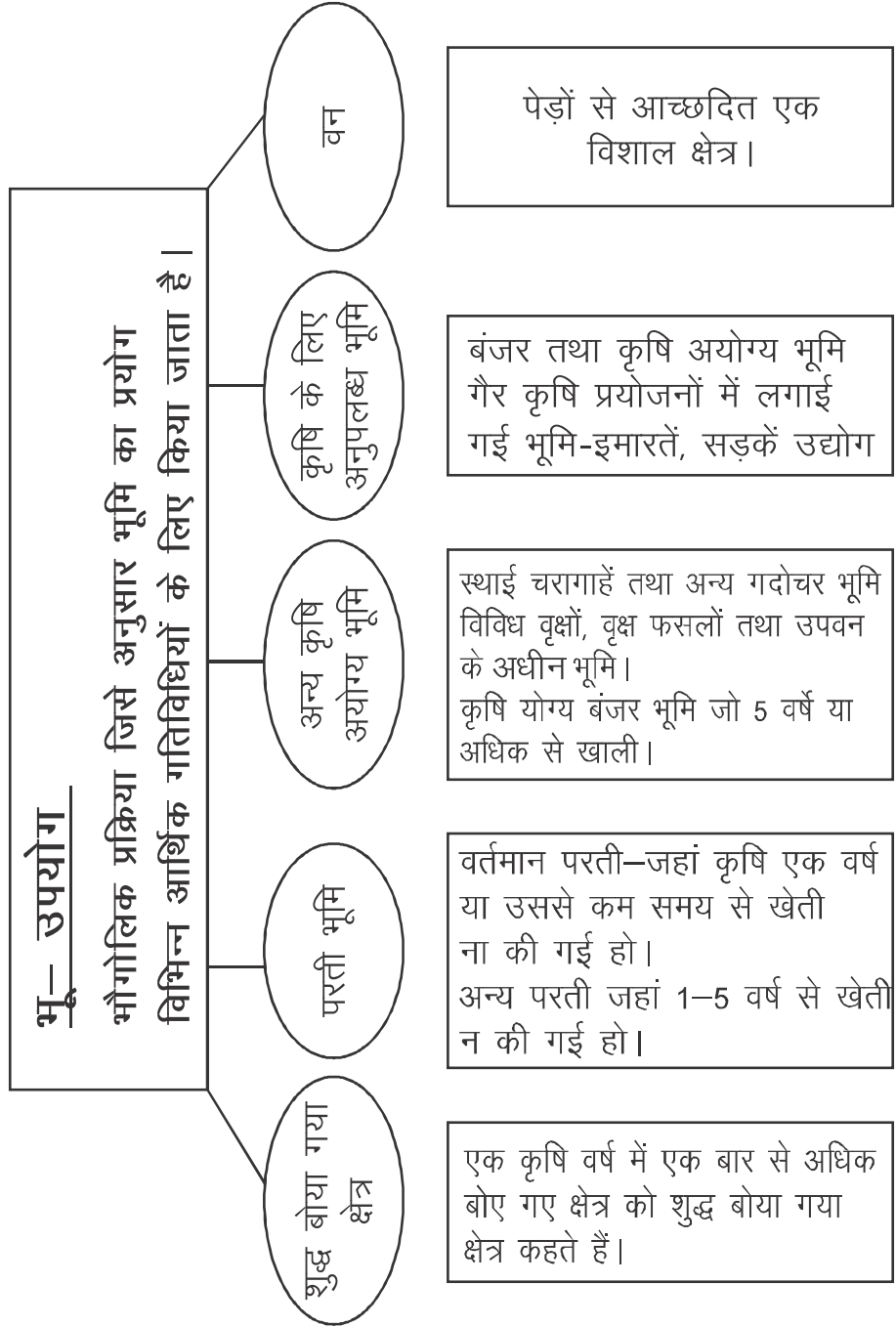


**मृदा का वर्गीकरण**  
**(रंग, मोटाई, बनावट, उम्र, रासायनिक व भौतिक गुण के आधार)**

क्र. सं.	मृदा के प्रकार	निर्माण प्रक्रिया	वितरण	मुख्य लक्षण	मुख्य फसलें
1	जलोढ खादर बांगर	हिमालय की तीन महत्वपूर्ण नदी तंत्रों सिंधु, गंगा और ब्रह्मपुत्र नदियों द्वारा लाए गए निक्षेप से बनी है।	समूचा उत्तरी मैदान तथा राजस्थान गुजरात का कुछ भाग और पूर्वी तटीय मैदान	बहुत उपजाऊ तथा सबसे अधिक विस्तृत	गेहूँ, धान, गन्ना दालें व अन्य अनाज
2	काली मृदा (रेगर भी कहते हैं)	जलवायु दर्रा तथा जनक शैलों का महत्वपूर्ण योगदान	महाराष्ट्र, सौराष्ट्र, मालवा, मध्य प्रदेश तथा छत्तीसगढ़ के पठार	बहुत महीन कण, नमी, धारण करने की क्षमता बहुत अधिक फास्फोरस की कम मात्रा / गर्म और शुष्क मौसम में दरार	कपास, तंबाकू, तिलहन तथा गन्ना
3	लाल और पीली मृदा	रबे दाखानेय शैल के अपरदन से	उड़ीसा, छत्तीसगढ़ के कुछ भाग तथा मध्य गंगा मैदान का दक्षिणी भाग	लौह धातु के प्रसार के कारण लाल रंग। जलयोजन के बाद पीला रंग। रवेदार	उचित खाद व सिंचाई के बाद कपास, दालें, मोटा अनाज, तंबाकू
4	लेटराइट मृदा	भारी वर्षा से अधिक निक्षालन का परिणाम। अत्यधिक वर्षा तथा तापमान के क्षेत्र में	कर्नाटक, केरल, तमिलनाडु, मध्यप्रदेश तथा असम का पर्वतीय प्रदेश।	छुमस की मात्रा कम उचित तकनीक से खाद व उर्वरक का प्रयोग करके खेती योग्य	चाय, कॉफी, काजू
5	शुष्क मृदा या मरुस्थली मृदा	रेत के द्वारा शैल के अपरदन से	उत्तर पश्चिमी भाग राजस्थान तथा उत्तरी गुजरात।	लाल से भूरे रंग की रेतीली व लवणीय सही तरीके से सिंचित करके कृषि योग्य	मोटा अनाज, मक्का जौ।
6	वन मृदा या पर्वतीय मृदा	वन विकास की प्रक्रिया में प्राप्त जैव पदार्थ के निक्षेपण से	हिमाचल प्रदेश के पहाड़ी क्षेत्र में तथा उत्तराखण्ड, मेघालय, अरुणाचल प्रदेश।	दोमट और सिल्टदार घाटियों में ऊपरी ढाल पर मोटे कणों वाली।	फल, मसाले व लकड़ी देने वाले पेड़।







## प्रमुख शब्द

1. **पहाड़ी पद (पीडमाऊंट जोन):-** किसी पर्वत या पर्वत श्रृंखला के तल पर पाया जाने वाला क्षेत्र। उदाहरण के लिए पश्चिमी घाट का पहाड़ी पद अर्थात् पश्चिमी घाट के तल पर पाया जाने वाला क्षेत्र
2. **दक्कन ट्रेप:-** प्रायद्वीपीय पठार का काली मृदावाला क्षेत्र। इसका निर्माण लावा मिट्टी के द्वारा हुआ है। बहुत ही उपजाऊ क्षेत्र तथा कपास की खेती के लिए उपयुक्त।
3. **द्वार चो और तराई:-**  
**द्वार:-** पूर्वी हिमालय के क्षेत्र में उत्तरपूर्वी भारत में भूटान के आसपास स्थित मैदान व पहाड़ की तलहटी का क्षेत्र।  
**चो:-** पंजाब तथा हिमाचल के शिवालिक की श्रृंखला का दक्षिणी ढाल जो वनस्पति विहीन है, बहुत ही कटा हुआ है तथा जहाँ मौसमी धार बहती है जिसे चो कहते हैं।  
**तराई:-** पहाड़ के नीचे की भूमि जो तर रहती है। तथा दलदली होती है। मुख्यतः उत्तर भारत के हिमालय क्षेत्र में।
4. **सतत पोषणीय आर्थिक विकास:-** ऐसा विकास जो पर्यावरण को बिना नुकसान पहुँचाए तथा भावी पीढ़ी की आवश्यकताओं से समझौता किए बगैर विकास करना।
5. **संसाधन नियोजन:-** संसाधनों के उचित उपयोग के लिए अपनाई गई तकनीक या कौशल, संसाधन नियोजन कहलाता है।
6. **संसाधन संरक्षण:-** संसाधनों का उचित प्रबंधन ताकि जल, भूमि तथा वनस्पति एवं मृदा का इस प्रकार से प्रयोग करना कि भावी पीढ़ी की जरूरतों का भी ख्याल रखा जाए।
7. **वनरोपण:-** किसी क्षेत्र में पेड़ लगाकर उसे वन में परिवर्तित करना।
8. **जलोढ़ मैदान:-** एक समतल भूमि जो नदियों द्वारा बहाकर लाई गई जलोढ़ या महीन मृदा से बनी होती है।
9. **कृषि योग्य भूमि:-** वर्तमान में जोती गई व फसलों से बोई हुई खेती योग्य जमीन।

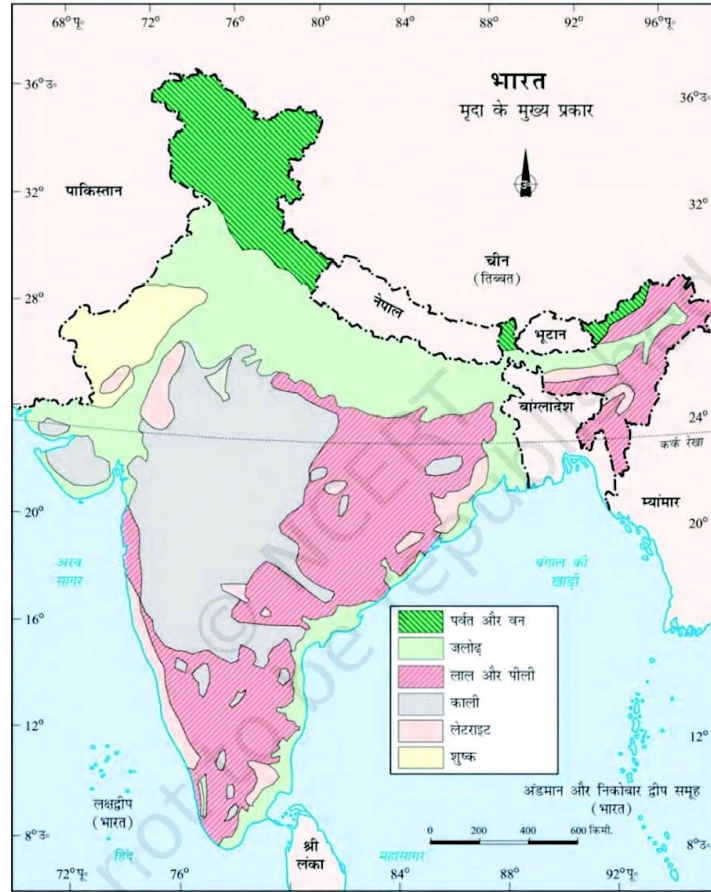
10. **बांगर:-** पुरानी जलोढ़ जो ज्यादा उपजाऊ नहीं होती।
11. **खादर:-** नई जलोढ़ जो बाढ़ के समय लाई गई मृदा से बनती है। बहुत ही उपजाऊ होती है।
12. **मृदा अपरदन:-** मृदा की उपरी परत का एक स्थान से दूसरे स्थान पर प्राकृतिक कारकों के द्वारा या मानवीय क्रियाओं के द्वारा चले जाना मृदा अपरदन कहलाता है।
13. **शुद्ध बोया हुआ क्षेत्र:-** वह भूमि जो वास्तविक तौर पर कृषि के लिए प्रयोग में आई है। जिस पर कम से कम एक बार खेती की गई है।
14. **सकल बोया गया क्षेत्र:-** शुद्ध बोये गए क्षेत्र में जब एक से अधिक बार बोए गए क्षेत्र को जोड़ दिया जाता है।
15. **मरूस्थलीकरण:-** वह प्रक्रिया जिसके द्वारा कोई क्षेत्र मरूस्थल में तब्दील हो जाता है।

### कुछ रोचक तथ्य :-

भारत में सामाजिक व राजनीतिक आंदोलनों के साथ ही विभिन्न पर्यावरणीय आंदोलन भी चलाए गए। जैसे-

1. खेजड़ी आंदोलन 1700 में राजस्थान में चलाया गया।
2. चिपको आंदोलन 1973 में टिहरी गढ़वाल में चलाया गया।
3. साइलेंट वैली आंदोलन 1978 में केरल में चलाया गया।
4. अपिष्को आंदोलन 1983 में कर्नाटक में चलाया गया।
5. नर्मदा बचाओ आंदोलन 1985 में गुजरात में चलाया गया।

### भारत में मृदा का वर्गीकरण



## संसाधन और विकास

### बहुविकल्पीय प्रश्न (1 अंक वाले प्रश्न)

- बहता हुआ जल चिकनी मिट्टी को काटकर बना देता है ?
  - उत्खात भूमि
  - चादर अपरदन
  - डेल्टा
  - इनमें से कोई नहीं
- निम्नलिखित में से कौन सा कथन खादर मिट्टी का सही वर्णन नहीं करता है ?
  - यह नई जलोढ़ मिट्टी है
  - इसमें महीन कण कम होते हैं
  - कंकड़ पिंड की कम सांद्रता
  - यह अधिक उपजाऊ है
- निम्नलिखित का मिलान कीजिए
  - जलोढ़ मिट्टी
  - लाल वा पीली मृदा
  - काली मिट्टी
  - लैटेराइट मिट्टी
  - अत्यंत महीन कण
  - कम वर्षा वाले भागों में विकसित
  - कम ह्यूमस
  - बहुत उपजाऊ

A. (a)-(iii), (b)-(ii), (c)-(i), (d)-(iv)  
B. (a)-(i), (b)-(ii), (c)-(iii), (d)-(iv)  
C. (a)-(iv), (b)-(ii), (c)-(i), (d)-(iii)  
D. (a)-(iv), (b)-(iii), (c)-(ii), (d)-(i)
- निम्नलिखित में से कौन पहाड़ी क्षेत्रों में मिट्टी के कटाव को नियंत्रित करने का तरीका नहीं है ?
  - समोच्च जुताई
  - रक्षक मेखला
  - सीढ़ीदार खेती
  - वनों की कटाई
- नीचे दिए गए कथनों पर विचार कीजिए और सही उत्तर चुनिए  
कथन 1: स्टॉक वे संसाधन हैं जिन तक प्रौद्योगिकी की कमी के कारण पहुंच नहीं है।

**कथन 2:** संभावित संसाधन वे संसाधन हैं जिनका उपयोग या विकास नहीं किया गया है।

(a) कथन (i) सही है और (ii) गलत है।

(b) कथन (i) गलत है और (ii) सही है

(c) दोनों (i) और (ii) गलत हैं

(d) दोनों (i) और (ii) सही हैं

6. गांधी जी संसाधनों के संरक्षण के प्रति अपनी चिंता इन शब्दों के माध्यम से व्यक्त करते हैं “सबकी आवश्यकता के लिए पर्याप्त है लेकिन किसी के लालच के लिए नहीं”।

**निम्नलिखित विकल्पों में से कौन सा गांधीजी के उदाहरण के लिए सबसे उपयुक्त स्पष्टीकरण है**

(a) लालची और स्वार्थी व्यक्ति और आधुनिक तकनीक की शोषणकारी प्रकृति वैश्विक स्तर पर संसाधनों की कमी का मूल कारण है।

(b) समग्र राष्ट्रीय विकास योजनाओं के साथ संसाधन विकास योजनाओं का मिलान करना।

(c) मनुष्य संसाधनों का एक अनिवार्य घटक है क्योंकि वह पर्यावरण में उपलब्ध सामग्रियों को संसाधनों में परिवर्तित करता है और उनका उपयोग करता है।

(d) वन प्राथमिक उत्पादक हैं जिन पर अन्य सभी जीवित जीव जीवित रहते हैं।

7. .... को पुनः पूर्ति योग्य संसाधन भी कहा जाता है।

(a) संभावित संसाधन (b) विकसित संसाधन

(c) नवीकरणीय संसाधन (d) गैर नवीकरणीय संसाधन

8. निम्नलिखित में से किस राज्य में सीढ़ीदार खेती की जाती है ?

(a) पंजाब (b) उत्तर प्रदेश के मैदान

(c) हरियाणा (d) उत्तराखण्ड

9. निम्नलिखित में से कौन-सा कथन लाल मिट्टी और लैटेराइट मिट्टी के बीच सटीक अंतर करता है।
- (a) लाल मिट्टी महीन चिकनी मिट्टी से बनी होती है, लैटेराइट मिट्टी चिकनी बलुई मिट्टी और रेतीली होती है।
- (b) लाल मिट्टी गुजरात के पूर्वी तटीय मैदानों में पाई जाती है, लैटेराइट मिट्टी पहाड़ी और पहाड़ी क्षेत्रों में पाई जाती है।
- (c) लाल मिट्टी लोहे की उपस्थिति के कारण लाल रंग की होती है, लैटेराइट मिट्टी लाल बलुआ पत्थर की अधिक बजरी के कारण लाल रंग की होती है।
- (d) लाल मिट्टी नमी धरण करने की अपनी क्षमता के लिए जानी जाती है, लैटेराइट मिट्टी में ह्यूमस और नमी की कमी होती है।
10. किस राज्य में जल संसाधनों की प्रचुरता है लेकिन बुनियादी ढांचे के विकास में इसका अभाव है ?
- (a) झारखंड (b) मध्य प्रदेश  
(c) अरुणाचल प्रदेश (d) छत्तीसगढ़

### अभिकथन/कारण

अभिकथन (A) और कारण (R) के रूप में चिह्नित दो कथन हैं। नीचे दिए गए कूटों के अनुसार अपना उत्तर दें:

- (a) (A) और (R) दोनों सत्य हैं और (R) (A) की सही व्याख्या है
- (b) (A) और (R) दोनों सत्य हैं लेकिन (R), (A) की सही व्याख्या नहीं है।
- (c) (A) सही है लेकिन (R) गलत है
- (d) (A) गलत है लेकिन (R) सही है
11. **अभिकथन:** जलोढ़ मिट्टी धन, गेहूं, अनाज और दलहनी फसलों की वृद्धि के लिए आदर्श है।
- कारण:** जलोढ़ मिट्टी नमी धरण करने की अपनी क्षमता के लिए प्रसिद्ध है।



12. **अभिकथन:** संसाधनों की उपलब्धता किसी भी देश के विकास के लिए एकमात्र आवश्यक शर्त नहीं है।  
**कारण:** किसी भी देश के विकास के लिए उसके अनुरूप तकनीक में बदलाव भी जरूरी है।
13. **अभिकथन:** राजस्थान और गुजरात में पवन और सौर ऊर्जा के विकास की अपार संभावनाएं हैं, लेकिन अभी तक उनका ठीक से विकास नहीं हो पाया है।  
**कारण:** पर्यावरण में ऐसी सामग्री जो मानव की जरूरतों को पूरा करने की क्षमता रखती है लेकिन मनुष्य के पास इन तक पहुंचने के लिए उपयुक्त तकनीक नहीं है, विकसित संसाधनों में शामिल हैं।
14. **अभिकथन:** सीढ़ीदार खेती मिट्टी के कटाव को नहीं रोकती है।  
**कारण:** बहता हुआ पानी मिट्टी को काटता है और गहरे नालों को नालियों के रूप में बनाता है।
15. **अभिकथन:** भूमि अत्यंत महत्वपूर्ण प्राकृतिक संसाधन है।  
**कारण:** भूमि का उपयोग विभिन्न उद्देश्यों के लिए किया जा सकता है।

### उत्तरमाला (प्रश्न संख्या 1-15)

1. A. उत्खात भूमि
2. B. इसमें महीन कण कम होते हैं
3. B. A-(iv), B-(ii), C-(i), D-(iii)
4. D. वनों की कटाई
5. D. दोनों (i) और (ii) सही हैं
6. A. लालची और स्वार्थी व्यक्ति और आधुनिक तकनीक की शोषणकारी प्रकृति वैश्विक स्तर पर संसाधनों की कमी का मूल कारण है।
7. C. नवीकरणीय संसाधन

8. D. उत्तराखण्ड
9. C. लाल मिट्टी में लोहे की उपस्थिति के कारण इसका रंग लाल होता है, लैटेराइट मिट्टी लाल बलुआ पत्थर की अधिक बजरी के कारण लाल रंग की होती है
10. C. अरुणाचल प्रदेश
11. C. (A) सही है लेकिन (R) गलत है।
12. A. (A) और (R) दोनों सत्य हैं और (R) (A) की सही व्याख्या है
13. C. (A) सही है लेकिन (R) गलत है
14. D. (A) गलत है लेकिन (R) सही है
15. A. (A) और (R) दोनों सत्य हैं और (R) (A) की सही व्याख्या है

**लघु/दीर्घ प्रश्न (2,3 एवं 5 अंक वाले प्रश्न)**

- प्र1. एजेंडा 21 क्या है? इसके किसी एक सिद्धांत की सूची बनाइए। (2)
- प्र2. “रेगुर” मिट्टी की कोई दो विशेषताएँ लिखिए। (2)
- प्र3. भारत में भूमि निम्नीकरण की समस्या के समाधान के लिए उठाए गए किन्हीं तीन कदमों की व्याख्या कीजिए। (3)
- प्र4. भूमि के निम्नीकरण के लिए मानवीय गतिविधियाँ किस प्रकार उत्तरदायी हैं। (3)
- प्र5. “देश में वन क्षेत्रा वांछित 33% भौगोलिक क्षेत्रा की तुलना में बहुत कम है राष्ट्रीय वन नीति 1952 में इसकी रूपरेखा थी।” इस कथन को रेखांकित करते हुए न्यायोचित ठहराइए पर्यावरण और वन के मूल्य।
- प्र6. मनुष्य द्वारा संसाधनों के अंधधुंध प्रयोग से उत्पन्न समस्याओं की सूची बनाइए। (3)
- प्र7. “भारत में कुछ क्षेत्रा कुछ प्रकार के संसाधनों से समृद्ध हैं लेकिन कुछ अन्य संसाधनों में कमी हैं” क्या आप इस कथन से सहमत हैं? उदाहरणों के साथ अपने उत्तर का समर्थन करें। (5)

प्र8. संसाधनों को उनके विकास की स्थिति के आधार पर विभिन्न प्रकारों में कैसे वर्गीकृत किया जाता है? (5)

प्र9. पहाड़ी क्षेत्रों में मिट्टी के कटाव को नियंत्रित करने के लिए क्या कदम लिए जा सकते हैं? (5)

प्र10. रियो डी जनेरियो पृथ्वी शिखर सम्मेलन 1992 के बारे में लिखिए। (5)

**उत्तरमाला लघु/दीर्घ प्रश्न (2,3 एवं 5 अंक वाले प्रश्न )**

1. (i) एजेंडा 21 को 1992 में रियो डी जनेरियो ब्राजील में आयोजित पहले अंतर्राष्ट्रीय पृथ्वी शिखर सम्मेलन में अपनाया गया था।  
(ii) वैश्विक निगम के माध्यम से पर्यावरणीय क्षति गरीबी रोग को परिवर्तित करना।
2. स्मरणीय तथ्यों को देखें
3. स्मरणीय तथ्यों को देखें
4. स्मरणीय तथ्यों को देखें
5. (i) पारिस्थितिक संतुलन बनाए रखने के लिए आवश्यक  
(ii) कई पौधों और जानवरों की प्रजातियों की रक्षा करते हैं  
(iii) प्राथमिक उत्पादक जिन पर अन्य सभी जीव जीवित रहते हैं।
6. (i) भविष्य की आवश्यकता को पूरा करने के लिए संसाधनों की कमी  
(ii) चंद हाथों में संसाधनों का संचय  
(iii) पारिस्थितिक समस्याएं जैसे ग्लोबल वार्मिंग, ओजोन परत की कमी
7. स्मरणीय तथ्यों को देखें
8. स्मरणीय तथ्यों को देखें
9. स्मरणीय तथ्यों को देखें
10. स्मरणीय तथ्यों को देखें

### स्रोत आधारित प्रश्न (4 अंक)

1. नीचे दिए गए अनुच्छेद को पढ़िए एवं पूछे गए प्रश्नों के उत्तर दीजिए।
  1. संसाधन नियोजन एक जटिल प्रक्रिया है जिसमें शामिल है: (i) देश के क्षेत्रों में संसाधनों की पहचान और सूची। इसमें संसाधनों का सर्वेक्षण, मानचित्र और गुणात्मक और मात्रात्मक अनुमान और माप शामिल है। (ii) संसाधन विकास योजनाओं को लागू करने के लिए उपयुक्त प्रौद्योगिकी, कौशल और संस्थागत ढांचे से संपन्न एक योजना संरचना का विकास करना। (iii) समग्र राष्ट्रीय विकास योजनाओं के साथ संसाधन विकास गोजसों का निलान करना। आजादी के बाद शुरू की गई पहली पंचवर्षीय योजना से ही भारत ने संसाधन विज्ञान के तहतों को प्राप्त करने के लिए ठोस प्रयास किए हैं। संसाधनों की उपलब्धता किसी भी क्षेत्र के विकास के लिए एक आवश्यक शर्त है, लेकिन प्रौद्योगिकी और संस्थानों में तदनु रूप परिवर्तन के अभाव में संसाधनों की उपलब्धता विकास में बाध बन सकती है। हमारे देश कई ऐसे क्षेत्र हैं जो संसाधनों से समृद्ध हैं लेकिन ये आर्थिक रूप से पिछड़े क्षेत्रों में शामिल हैं। इसके कुछ ऐसे क्षेत्र हैं जिनका संसाधन आधार कमजोर है लेकिन वे आर्थिक रूप से विकसित हैं।
    1. संसाधन क्या है
    2. संसाधन नियोजन कारण क्या है ?
    3. संसाधन नियोजन बताइए क्यों महत्वपूर्ण है ? कोई दो कारण स्पष्ट कीजिए।
2. नीचे दिए गए अनुच्छेद को पढ़िए एवं पूछे गए प्रश्नों के उत्तर दीजिए।

2. मिट्टी के आवरण का अनाच्छादन और बाद में घुल जाने को मिट्टी का क्षरण कहा जाता है। मृदा निर्माण और अपरदन की प्रक्रियाएँ साथ-साथ चलती हैं और सामान्यतः दोनों के बीच संतुलन बना रहता है। कभी-कभी वनों की कटाई, अति-चराई, निर्माण और खनन आदि जैसी मानवीय गतिविधियों के कारण यह संतुलन बिगड़ जाता है, जबकि प्राकृतिक बल जैसे हवा, ग्लेशियर और पानी से मिट्टी का क्षरण होता है। बहता हुआ पानी मिट्टी की मिट्टी को काटता है और गहरे नालों के रूप में चैनल बनाता है। भूमि खेती के लिए अनुप्रयुक्त हो जाती है और खराब भूमि के रूप में जानी जाती है। चंबल बेसिन में ऐसी भूमि को बीहड़ कहा जाता है। कभी-कभी पानी एक ढलान के नीचे बड़े क्षेत्रों में चादर के रूप में बहता है। ऐसे में ऊपरी मिट्टी बह जाती है। इसे चादर अपरदन के रूप में जाना जाता है। हवा ढीली मिट्टी को समतल या ढलान वाली भूमि से उड़ा देती है जिसे वायु अपरदन कहते हैं। खेती के दोषपूर्ण तरीकों के कारण भी मिट्टी का कटाव होता है। गलत तरीके से जुताई करने से यानी ढलान के ऊपर और नीचे पानी के तेज प्रवाह के लिए चैनल बन जाते हैं जिससे मिट्टी का क्षरण होता है ।

1. मृदा अपरदन क्या है ?
2. मृदा अपरदन के कारणों का वर्णन कीजिए।
3. मृदा को संसाधन क्यों माना जाता है ? दो तर्कों के साथ व्याख्या कीजिए।

### उत्तरमाला स्रोत आधारित प्रश्न

उत्तर 1. हमारे पर्यावरण में उपलब्ध हर चीज जिसका उपयोग हमारी जरूरतों को पूरा करने के लिए किया जा सकता है, बशर्ते कि यह तकनीकी रूप से सुलभ, आर्थिक रूप से व्यवहार्य और सांस्कृतिक रूप से स्वीकार्य हो, इसे 'संसाधन' कहा जा सकता है।

- (ii) समग्र राष्ट्रीय विकास योजनाओं के साथ संसाधन विकास योजनाओं का मिलान करना ।
- (iii) (1) संसाधनों के विवेकपूर्ण, तर्कसंगत वितरण के लिए आवश्यक ।  
(2) सतत विकास के लिए आवश्यक । 1, संसाधनों के अंधधुंध दोहन ने पारिस्थितिक असंतुलन को जन्म दिया है ।

उत्तर 2. विद्यार्थी अनुच्छेद को पढ़कर स्वयं हल करेंगे ।

## अध्याय - 2

### वन और वन्य जीव संसाधन

---

#### स्मरणीय तथ्य:-

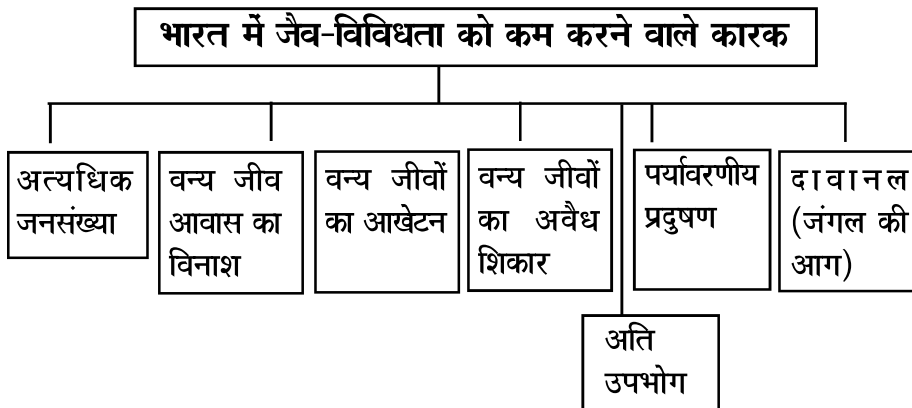
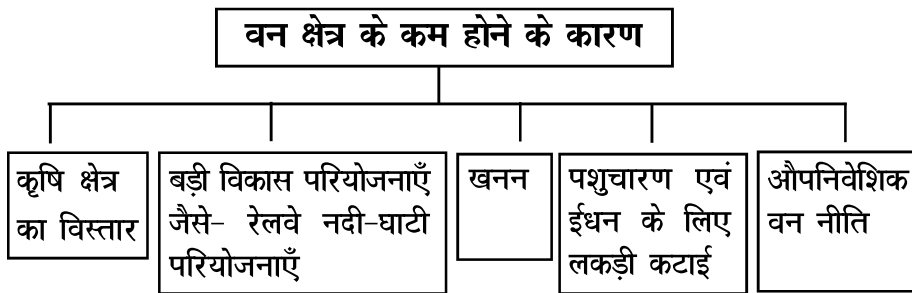
- भारत अपने फ्लोरा में अति समृद्ध है। भारत में लगभग 47000 पादप प्रजातियाँ तथा लगभग 15,000 पुष्प प्रजातियाँ स्थानिक है।
- भारत अपने प्राणिजात (फौना) में भी अति समृद्ध है यहाँ 81000 से अधिक प्राणि प्रजातियां हैं। यहां पक्षियों की 1200 से अधिक और मछलियों की 2500 से अधिक प्रजातियाँ है।
- भारत में पांच प्रकार के वन पाये जाते हैं।
  1. उष्णकटिबंधीय सदाबहार वन
  2. उष्णकटिबंधीय पर्णपाती
  3. कंटीले वन
  4. पर्वतीय वन और
  5. मैग्रोव वन
- 'प्रोजेक्ट टाईगर' विश्व की बेहतरीन वन्य जीवन परियोजनाओं में से एक है। इसकी शुरूआत 1973 में हुई।
- भारतीय वन्यजीवन (रक्षण) अधिनियम 1972 में लागू किया गया और बाद में 1980, 1986 और 1991 में इसमें कुछ नए प्रावधान शामिल किए गये।
- वनों और वन्य जीवन का विनाश मात्र जीवन विज्ञान का विषय ही नहीं है।

- भारत में बड़े प्राणियों में से स्तनधरियों की 79 जातियाँ, पक्षियों की 44 जातियाँ, सरीसृपों की 15 जातियाँ और जलस्थलचरों की 3 जातियाँ लुप्त होने का खतरा झेल रही है।
- लगभग 1500 पादप जातियों के भी लुप्त होने का खतरा बना हुआ है।
- टकसोल नामक रयासन जो कि हिमालय से निकाला जाता है, विश्व में सबसे अधिक बिकने वाली कैंसर औषधि है।
- निकोबारी मेगापोड एक संकटग्रस्त पक्षी प्रजाति है।
- एक अमेरिकी नागरिक का औसत संसाधन उपभोग एक सोमाली नागरिक के औसत उपभोग से 40 गुना ज्यादा है।
- संयुक्त राष्ट्र संघ की एक रिपोर्ट के अनुसार भारत में प्रति व्यक्ति केवल 28 वृक्ष हैं। जबकि कनाडा में यह संख्या 8953, रूस में 4461, अमेरिका में 716 और चीन में 102 हैं।
- प्रत्येक पाँच वर्ष में हमारा पर्यावरण 1 सेल्सियस अधिक गर्म हो जाता है।  
अंतर्राष्ट्रीय प्राकृतिक संरक्षण और प्राकृतिक संसाधन संरक्षण संघ (IUCN) के अनुसार पौधों एवं प्राणियों को निम्नलिखित श्रेणियों में विभाजित किया जा सकता है—

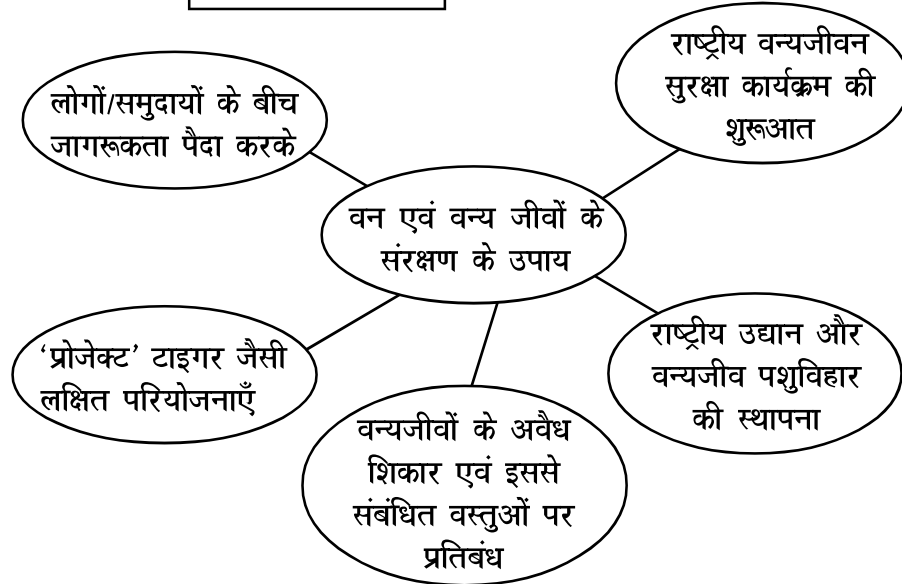
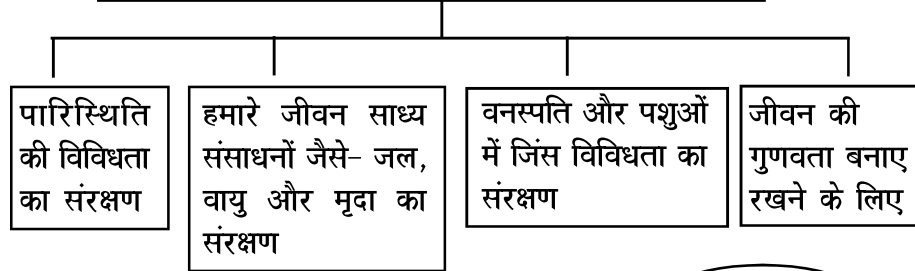


<ul style="list-style-type: none"> <li>• सामान्य जातियाँ</li> </ul>	<ul style="list-style-type: none"> <li>• ये वे जातियाँ है जिनकी संख्या जीवित रहने के लिए सामान्य मानी जाती है।</li> <li>• जैसे— पशु, साल, चीड़, कृन्तक (रोडेंट्स) आदि</li> </ul>
<ul style="list-style-type: none"> <li>• संकटग्रस्त जातियाँ</li> </ul>	<ul style="list-style-type: none"> <li>• ये वे जातियाँ है जिनके लुप्त होने का खतरा है।</li> <li>• जिन विषय परिस्थितियों के कारण इनकी संख्या कम हुई है, यदि वे जारी रहती है तो इन जातियों का जीवित रहना कठिन है। उदाहरण—काला हिरण, मगरमच्छ, भारतीय जंगली गधा, गैंडा, शेर-पूँछ वाला बंदर, संगई आदि।</li> </ul>
<ul style="list-style-type: none"> <li>• सुभेद्य जातियाँ</li> </ul>	<ul style="list-style-type: none"> <li>• ये वे जातियाँ है जिनकी संख्या घट रही है। यदि इनकी संख्या पर विपरीत प्रभाव डालने वाली परिस्थितियाँ नहीं बदली जाती और इनकी संख्या घटती रहती है तो यह संकटग्रस्त जातियाँ की श्रेणी में शामिल हो जाएगी।</li> <li>• उदाहरण- नीली भेड़, एशियाई हाथी, गंगा नदी की डॉल्फिन आदि।</li> </ul>
<ul style="list-style-type: none"> <li>• दुर्लभ जातियाँ</li> </ul>	<ul style="list-style-type: none"> <li>• इन जातियों की संख्या बहुत कम या सुभेद्य है और यदि इनकी प्रभावित करने वाली विषम परिस्थितियाँ नहीं परिवर्तित होती है तो यह संकटग्रस्त जातियों की श्रेणी में आ सकती है।</li> <li>• उदाहरण— हिमालची भूरे भालू, एशियाई जंगली भैसे, रेगिस्तानी लोमड़ी आदि।</li> </ul>

<ul style="list-style-type: none"> <li>स्थानिक जातियाँ</li> </ul>	<ul style="list-style-type: none"> <li>प्राकृतिक या भौगोलिक सीमाओं से अलग विशेष क्षेत्रों में पाई जाने वाली जातियों को स्थानिक जाति कहा जाता है।</li> <li>उदाहरण— अंडमानी टोल, निकोबारी कबूतर अंडमानी जंगली सुअर और अरूणाचल के मिथुन</li> </ul>
<ul style="list-style-type: none"> <li>लुप्त जातियाँ</li> </ul>	<ul style="list-style-type: none"> <li>ये वे जातियाँ हैं जो इनके रहने के आवासों में खोज करने पर अनुपस्थित पाई गई हैं। ये उपजातियाँ स्थानीय क्षेत्र प्रदेश, देश, महाद्वीप या पूरी पृथ्वी से ही लुप्त हो गई हैं।</li> <li>उदाहरण— एशियाई चीता, गुलाबी सिरवाली बत्ख</li> </ul>



## जैव-विविधता के संरक्षण की आवश्यकता क्यों है?



## वनों का वर्गीकरण

<b>आरक्षित वन</b> <ul style="list-style-type: none"> <li>वन एवं वन्य प्राणियों के संरक्षण में सर्वाधिक मूल्यवान।</li> <li>देश में आधे से अधिक वनक्षेत्र आरक्षित वन घोषित किए गए हैं।</li> </ul>	<b>रक्षित वन</b> <ul style="list-style-type: none"> <li>वन विभाग के अनुसार देश के कुल वन क्षेत्र का एक तिहाई हिस्सा रक्षित है।</li> <li>इन वनों को और अधिक नष्ट होने से बचाने के लिए इनकी सुरक्षा की जाती है।</li> </ul>	<b>अवर्गीकृत वन</b> <ul style="list-style-type: none"> <li>अन्य सभी प्रकार के वन और बंजर भूमि जो सरकार, व्यक्तियों और समुदायों के स्वामित्व में होते हैं अवर्गीकृत वन कहे जाते हैं।</li> </ul>
---	--	--

## समुदाय और वन संरक्षण

1. हमारे देश के कई समुदायों में प्रकृति पूजन की बहुत पुरानी मान्यताएँ हैं।
2. हममें से कई लोग पीपल और बरगद के पेड़ों को पवित्र मानते हैं।  
सरिस्का बाघ रिजर्व में राजस्थान के गाँवों के लोग वन्य जीव रक्षण अधिनियम के तहत वहाँ से खनन कार्य बंद करवाने के लिए संघर्षरत हैं।
3. हिमालय में प्रसिद्ध चिपको आंदोलन कई क्षेत्रों में वन कटाई रोकने में ही कामयाब नहीं रहा बल्कि स्थानीय पौधों की प्रजातियों को प्रयोग करके सामुदायिक वनीकरण अभियान को सफल बनाया।
4. टिहरी में किसानों का बीज बचाओ आंदोलन और 'नवदानय' ने दिखा दिया कि रासायनिक उर्वरकों के प्रयोग के बिना भी विविध फसल उत्पादन द्वारा आर्थिक रूप से व्यवहार्य कृषि उत्पादन संभव है।
5. भारत में प्रयुक्त वन प्रबंधन कार्यक्रम क्षति वनों के प्रबंध और पुनर्निर्माण में स्थानीय समुदायों की भूमिका के महत्व को उजागर करते हैं। संयुक्त वन प्रबंधन का प्रस्ताव पास करने वाले में उड़ीसा पहला राज्य था।

## **वन और वन्य जीवन**

### **बहुविकल्पीय प्रश्न**

1. निम्नलिखित में से किस प्रकार की कृषि ने उत्तर-पूर्वी और मध्य भारत में बड़े पैमाने पर वनों की कटाई और वनों का क्षरण किया है?  
(a) वृक्षारोपण (b) गहन निर्वाह कृषि  
(c) झूम खेती (d) वाणिज्यिक कृषि
2. .... को 1952 में भारत में विलुप्त घोषित किया गया था।  
(a) अंडमानी जंगली सूअर (b) अंडमानी टील  
(c) एशियाई चीता (d) रेगिस्तानी लोमड़ी
3. हिमालयन यीव (टैक्सस वालिचियाना) एक औषधीय पौधा है जो ..... और ..... के विभिन्न हिस्सों में पाया जाता है।

- (a) हिमाचल प्रदेश और अरुणाचल प्रदेश  
 (b) उत्तराखंड और असम  
 (c) उत्तराखंड और लद्दा  
 (d) जम्मू और कश्मीर और सिक्किम
4. भारतीय वन्यजीव (संरक्षण) अधिनियम को आवासों की सुरक्षा के लिए विभिन्न प्रावधानों के साथ ..... में लागू किया गया था ?  
 (a) 1972 (b) 1975  
 (c) 1971 (d) 1974
5. .... का स्थायी वनों के तहत सबसे बड़ा क्षेत्र है, जो इसके कुल वन क्षेत्र का 75 प्रतिशत है।  
 (a) उड़ीसा (b) मध्य प्रदेश  
 (c) छत्तीसगढ़ (d) असम
6. निम्नलिखित में से किस बाघ अभयारण्य में स्थानीय समुदायों ने वनों के संरक्षण के लिए लड़ाई लड़ी है ?  
 (a) मानस टाइगर रिजर्व (b) पेरियार टाइगर रिजर्व  
 (c) सिमलीपाल बायो रिजर्व (d) सरिस्का टाइगर रिजर्व
7. सूची I का मिलान सूची II से कीजिए
- | सूची I                  | सूची II           |
|-------------------------|-------------------|
| A. सुंदरवन टाइगर रिजर्व | I. बाघ परियोजना   |
| B. चिपको आंदोलन         | II. पश्चिम बंगाल  |
| C. प्रोजेक्ट टाइगर      | III. एक औषधीय पौध |
| D. हिमालयन यीव          | IV. जनआंदोलन      |
- सही विकल्प चुनिए
- |                           |                           |
|---------------------------|---------------------------|
| A. A-II, B-I, C-IV, D-III | B. A-II, B-IV, C-I, D-III |
| C. A-III, B-IV, C-I, D-II | D. A-III, B-II, C-IV, D-I |

8. निम्नलिखित में से कौन से दो कारक वन संसाधनों की कमी के लिए प्रमुख रूप से जिम्मेदार हैं ?
- (a) ईंधन की लकड़ी का संग्रह (b) खनन और चराई  
(c) बाढ़ और चराई (d) चराई और धन लकड़ी का संग्रह
9. प्रजातियां जो कुछ विशेष क्षेत्रों में पाई जाती है, आमतौर पर प्राकृतिक या भौगोलिक बाधाओं द्वारा अलग-अलग होती हैं, उन्हें किस रूप में जाना जाता है ?
- (a) सुभेद्य (Vulnerable) (b) स्थानिक (Endemic)  
(c) विलुप्त (Extinct) (d) संकटापन्न (Endangered)
10. निम्नलिखित में से कौन सी विलुप्त प्रजाति है ?
- (a) नीली भेड़ें (b) एशियाई चीता  
(c) काला हिरण (d) एशियाई हाथी
11. निम्नलिखित में से कौन-सा वनों के क्षरण के कारणों में से एक नहीं है ?
- (b) खनन (b) बहुउद्देश्यीय नदी घाटी परियोजनाएं  
(c) चराई (d) शेल्टर बेल्ट का निर्माण
12. सूची I का सूची II से मिलान करें।
- | सूची I                      | सूची II           |
|-----------------------------|-------------------|
| A. मानस टाइगर रिजर्व        | I. दुर्लभ प्रजाति |
| B. सरिस्का वन्यजीव अभयारण्य | II. एशियाई चीता   |
| C. विलुप्त प्रजातियां       | III. राजस्थान     |
| D. हिमालयन भूरा भालू        | IV. असम           |
- सही विकल्प चुनें
1. A-I, B-II, C-III, D-IV      2. A-I, B-III, C-II, D-IV  
3. A-IV, B-III, C-II, D-I      4. A-IV, B-II, C-III, D-I

13. निम्नलिखित में से किस राज्य में स्थायी वनों के अंतर्गत सबसे बड़ा क्षेत्र है ?
- (a) बिहार (b) केरल  
(c) मध्य प्रदेश (d) उत्तर प्रदेश
14. चिपको आंदोलन का उद्देश्य क्या था ?
- (a) मानव अधिकार (b) राजनीतिक अधिकार  
(c) कृषि विस्तार (d) वन संरक्षण
15. बांधवगढ़ राष्ट्रीय उद्यान निम्नलिखित में से किस राज्य में स्थित है ?
- (a) गुजरात (b) असम  
(c) मध्य प्रदेश (d) केरल
16. आरक्षित और संरक्षित वनों को भी कहा जाता है-
- (a) अवर्गीकृत वन (b) स्थायी वन  
(c) खुला वन (d) मैंग्रोव वन

**निर्देश-** नीचे दिए गए प्रश्नों में कथन (A) और कारण (R) के रूप में चिह्नित दो कथन दिए गए हैं। कथनों को पढ़िए और सही विकल्प चुनिए

A. A और R दोनों सत्य हैं और R, A का सही स्पष्टीकरण है।

A. A और R दोनों सत्य हैं और लेकिन R, A का सही स्पष्टीकरण नहीं है।

C. A सही है और R गलत है।

D. A और R दोनों गलत हैं

17. **कथन (A):** वन पारिस्थितिक प्रणाली में महत्वपूर्ण भूमिका निभाते हैं।  
**कारण (R):** वन प्राथमिक उत्पादक हैं जिन पर अन्य सभी जीवित प्राणी निर्भर करते हैं।
18. **कथन (A):** बड़े पैमाने पर विकास परियोजनाओं ने भी वनों के नुकसान में महत्वपूर्ण योगदान दिया है।

**कारण (R):** बड़े पैमाने पर विकास परियोजनाएं जंगल को जलमग्न नहीं करती हैं।

19. **कथन (A):** वनों और वन्य जीवों के विनाश के परिणामस्वरूप सांस्कृतिक विविधता का नुकसान हुआ।

**कारण (R):** जीवन की बेहतर गुणवत्ता प्रदान करने के लिए वनों और वन्यजीवों का संरक्षण आवश्यक है।

20. **कथन (A):** हमें अपने जंगलों और वन्यजीवों के संरक्षण की आवश्यकता है।

**कारण (R):** वन्यजीवों की आबादी और वानिकी में तेजी से गिरावट देखी गई है।

### उत्तर कुंजी

1. (C) झूम खेती (Shifting Cultivation)
2. (C) एशियाई चीता
3. (A) हिमाचल प्रदेश और अरुणाचल प्रदेश
4. (A) 1972
5. (B) मध्य प्रदेश
6. (D) सरिस्का टाइगर रिजर्व
7. (B) A-II, B-IV, C-I, D-III
8. (D) चराई और ईंधन लकड़ी संग्रह
9. (B) स्थानिक
10. (B) एशियाई चीता
11. (D) शेल्टर बेल्ट का निर्माण
12. 3. A-IV, B-III, C-II, D-I
13. (C) मध्य प्रदेश



14. (D) वन संरक्षण
15. (C) मध्य प्रदेश
16. (B) स्थायी बन
17. A. A और R दोनों सत्य हैं और R, A का सही स्पष्टीकरण है।
18. C. A सही है और R गलत है।
19. B. A और R दोनों सत्य हैं और लेकिन R, A का सही स्पष्टीकरण नहीं है।
20. B. A और R दोनों सत्य हैं और R, A का सही स्पष्टीकरण है।

### 2/3/5 अंकों के प्रश्न

1. जैव विविधता क्या है ?
2. आईयूसीएन क्या है ?
3. स्थानिक (Endemic) प्रजातियां क्या है ?
4. लुप्तप्राय (Endangered) प्रजातियां क्या है ?
5. सुभेद्य (Vulnerable) प्रजातियां क्या है ?
6. विलुप्त (Extinct) प्रजातियां कौन सी है ?
7. किन्हीं दो आंदोलनों के नाम बताइए जो स्थानीय समुदायों द्वारा वनों या वन्यजीवों की सुरक्षा के लिए शुरू किए गए थे।
18. भारत में वन का क्षेत्रफल बढ़ाना क्यों आवश्यक है ?
9. वनों की हानि में बड़े पैमाने पर विकास परियोजनाओं का भी महत्वपूर्ण योगदान रहा है। कथन की व्याख्या कीजिए।
10. प्रजातियों को विलुप्त होने से बचाने के लिए सरकार द्वारा उठाए गए कदमों का वर्णन कीजिए।
11. वनों को विभिन्न श्रेणियों में कैसे वर्गीकृत किया जाता है ? उदाहरणों से समझाइए।

12. भारतीय वन्यजीव संरक्षण अधिनियम कब लागू किया गया था? इसके मुख्य उद्देश्यों का वर्णन कीजिए।
13. वन आच्छादन में कमी के चार प्रमुख कारण लिखिए।
14. उन छह कारकों की सूची बनाइए जिनके कारण भारत की जैव विविधता में गिरावट आई है।
15. वन्यजीवों के संरक्षण के लिए सरकार द्वारा उठाए गए चार कदम लिखिए।
16. संयुक्त वन प्रबंधन कार्यक्रम की दो विशेषताएं और समुदाय के लिए इसके दो लाभ लिखिए। किस भारतीय राज्य ने इस कार्यक्रम को सबसे पहले और कब शुरू किया?
17. भारत में वनों और वन्यजीवों के संरक्षण की आवश्यकता का आकलन करें।
18. किसी भी देश के वन्यजीव अभयारण्य किन मूल्यों को बढ़ावा देते हैं?
19. बताइए कि समुदायों ने भारत में आरक्षित बनों और वन्यजीवों का संरक्षण कैसे किया है। आपने इससे क्या नैतिक सबक सीखा है?
20. पर्यावरण क्षरण के किन्हीं तीन उदाहरणों को सूचीबद्ध करें जो आपने अपने आसपास देखे होंगे।

### उत्तर कुंजी

1. अध्याय के महत्वपूर्ण बिंदुओं को देखें।
2. प्रकृति और प्राकृतिक संसाधनों के संरक्षण के लिए अंतर्राष्ट्रीय संघ (इंटरनेशनल यूनियन फॉर कन्सेर्वेटिव ऑपफ नेचर एंड नेचुरल रिसोर्सेज)
3. अध्याय के महत्वपूर्ण बिंदुओं को देखें
4. अध्याय के महत्वपूर्ण बिंदुओं को देखें

5. अध्याय के महत्वपूर्ण बिंदुओं को देखें
6. अध्याय के महत्वपूर्ण बिंदुओं को देखें
7. (क) चिपको आंदोलन (ख) नर्मदा बचाओ आंदोलन
8. (i) वन पारिस्थितिक प्रणाली में महत्वपूर्ण भूमिका निभाते हैं क्योंकि ये प्राथमिक उत्पादक हैं। जिन पर अन्य सभी जीवित प्राणी निर्भर हैं।  
(ii) अनेक वनों पर निर्भर समुदाय भोजन, पेय, चिकित्सा, संस्कृति, अध्यात्म आदि के लिए उन पर सीधे निर्भर है।  
(iii) वन हमें लकड़ी प्रदान करते हैं।  
(iv) वन बाँस, इंधन के लिए लकड़ी, पास, लकड़ी का कोयला, फल, फूल आदि भी प्रदान करते हैं।
9. (i) 1951 से, नदी घाटी परियोजनाओं के लिए 5,000 वर्ग किलोमीटर से अधिक वनों की फटाई कर दी गयी है।  
(ii) सरदार सरोवर परियोजना, रणजीत मागर बांध परियोजना आदि जैसी नई परियोजनाओं के कारण वनों की सफाई अभी भी जारी है।  
(iii) बड़े पैमाने पर खनन कार्यकलापों के कारण कई वन्यजीव अभयारण्यों को गंभीर खतरा है।
10. प्रजातियों को विलुप्त होने से बचाने के लिए सरकार द्वारा उठाए गए कदम निम्नलिखित हैं।
  - 1972 में भारतीय वन्यजीव (संरक्षण) अधिनियम का लागू किया जाना।
  - वन्यजीवों के शिकार और व्यापार पर प्रतिबंध लगा दिया गया है।
  - विलुप्त होने का सामना कर रही प्रजातियों को प्राकृतिक आवास देने के लिए विभिन्न राष्ट्रीय उद्यानों और वन्यजीव अभयारण्यों की स्थापना की गई है।

11. अध्याय के महत्वपूर्ण बिंदुओं को देखें
12. आवासों की सुरक्षा के लिए भारतीय वन्यजीव (संरक्षण) अधिनियम 1972 में लागू किया गया था। संरक्षित जानवरों की एक अखिल भारतीय सूची भी प्रकाशित की गई थी।
- इसके मुख्य उद्देश्य इस प्रकार हैं।
- शिकार पर प्रतिबंध लगाकर उनके आवासों को कानूनी सुरक्षा देकर और वन्यजीवों के व्यापार को रोककर कुछ प्राय प्रजातियों की शेष आबादी की रक्षा करना।
  - केंद्र और राज्य सरकारों ने राष्ट्रीय उद्यानों और वन्यजीव अभयारण्यों की स्थापना की।
  - केंद्र सरकार ने विशिष्ट जानवरों की रक्षा के लिए प्रोजेक्ट टाइगर और प्रोजेक्ट राइनो जैसी विभिन्न परियोजनाओं की भी घोषणा की, जो गंभीर रूप से खतरे में थे।
13. 1. कृषि प्रयोजनों के लिए बनों की कटाई।
2. स्थानांतरित खेती जो अभी भी आदिवासी क्षेत्रों के पर्याप्त हिस्सों में प्रचलित है।
3. नदी घाटी परियोजनाओं का बड़े पैमाने पर विकास।
4. खनन गतिविधियों के परिणामस्वरूप बनों की कटाई भी हुई है। उदाहरण के लिए पश्चिम बंगाल में टाइगर रिजर्व को चल रहे डोलोमाइट खनन से गंभीर खतरा है।
5. पर्यावरण प्रदूषण और जंगल की आग ने भी जंगलों को हानि पहुँचाया।

14. 1. आवास का विनाश
  2. अति-शीषण
  3. पर्यावरण प्रदूषण
  4. जंगल की आग
  5. शिकार और अवैध शिकार
  6. विषाक्ता
15. भारत में वन्यजीवों की सुरक्षा के लिए पांच कदम उठाए गए हैं-
1. भारतीय वन्यजीव संरक्षण अधिनियम 1972 के तहत संरक्षित प्रजातियों की एक अखिल भारतीय सूची प्रकाशित की गई थी। कुछ लुप्तप्राय प्रजातियों की शेष आबादी की रक्षा करने पर जोर दिया गया था।  
शिकार पर प्रतिबंध,  
उनके आवासों को कानूनी सुरक्षा प्रदान करना और वन्यजीवों के व्यापार को प्रतिबंधित करना।
  2. कई वन्यजीव अभयारण्य विकसित किए गए हैं और राष्ट्रीय उद्यान स्थापित किए गए हैं।
  3. उन विशिष्ट जानवरों की रक्षा के लिए कई परियोजनाएं शुरू की गई हैं, जिन्हें गंभीर रूप से खतरा था, उदा प्रोजेक्ट टाइगर, एक सींग वाला गैंडा, कश्मीर स्टैग (हंगुल), तीन प्रकार के मगरमच्छ ताजा पानी, खारा पानी और घड़ियाल, एशियाई शेर आदि।
  4. हाल ही में कुछ जानवरों को पूरे भारत में शिकार और व्यापार के खिलाफ पूर्ण या आंशिक कानूनी सुरक्षा दी गई है, जैसे भारतीय हाथी, काला हिरण, महान भारतीय बस्टर्ड और हिम तेंदुआ, आदि।

5. वनस्पतियों और जीवों के प्राकृतिक परिवेश में संरक्षण के लिए बायोस्फीयर रिजर्व की स्थापना और आर्द्रभूमि पारिस्थितिक तंत्र की सुरक्षा इस दिशा में उठाया गया एक और कदम है।
16. संयुक्त वन प्रबंधन कार्यक्रम में अवक्रमित वनों के प्रबंधन और पुनरुद्धार में स्थानीय समुदायों को शामिल किया गया है। यह पहली बार 1988 में उड़ीसा में शुरू किया गया था।

दो विशेषताएं: यह इस पर निर्भर करता है

1. स्थानीय (ग्राम) संस्थानों का गठन जो ज्यादातर वन विभाग द्वारा प्रबंधित अवक्रमित वन भूमि पर सुरक्षा गतिविधियों का संचालन करते हैं और
2. स्थानीय समुदाय भी ऐसे अवक्रमित वनों की बहाली की दिशा में काम करते हैं।

दो लाभ

1. इन समुदायों के सदस्य गैर-लकड़ी बन उत्पादों जैसे मध्यस्थ लाभों के हकदार हैं।
  2. वे 'सफल संरक्षण' द्वारा काटी गई लकड़ी में हिस्सा लेने के भी हकदार हैं।
17. भारत में वनों और अन्य जीवों के संरक्षण की आवश्यकता है:
- जैव विविधता का संरक्षण आवश्यक है क्योंकि यह पारिस्थितिक विविधता को संरक्षित करता है।
  - वन और वन्यजीव हमारे जीवन समर्थन प्रणालियों, अर्थात्, पानी, हवा और मिट्टी को संरक्षित करते हैं।
  - यह प्रजातियों के बेहतर विकास और प्रजनन के लिए पौधों और जानवरों की आनुवंशिक विविधता को भी संरक्षित करता है।
  - मत्स्य पालन भी जलीय जैव विविधता के रखरखाव पर बहुत अधिक निर्भर है।

- वन प्राथमिक उत्पादक हैं जिन पर अन्य सभी जीवित प्राणी न केवल भोजन के लिए बल्कि अप्रत्यक्ष रूप से कई अन्य वन उत्पादों के लिए निर्भर करते हैं जिनका उपयोग विभिन्न उद्देश्यों के लिए किया जाता है।
18. (i) प्राकृतिक विरासत की विविधता और अखंडता के संरक्षण और रखरखाव के लिए वन्यजीव अभयारण्यों का गठन किया गया है।
- (ii) वे प्राकृतिक पारिस्थितिकी तंत्र को संरक्षित करने में मदद करते हैं।
- (iii) वे हमें साझा करने का मूल्य सिखाते हैं क्योंकि हम मनुष्य सभी जीवित जीवों के साथ पारिस्थितिक प्रणाली का एक जटिल जाल बनाते हैं जिसमें हम केवल एक हिस्सा हैं और अपने अस्तित्व के लिए इस प्रणाली पर बहुत अधिक निर्भर हैं।
19. (i) सरिस्का टाइगर रिजर्व में राजस्थानी ग्रामीणों ने वन्यजीव संरक्षण अधिनियम का हवाला देकर खनन के खिलाफ लड़ाई लड़ी है। कई क्षेत्रों में ग्रामीण स्वयं आवासों की रक्षा कर रहे हैं और स्पष्ट रूप से सरकारी भागीदारी को अस्वीकार कर रहे हैं।
- (ii) राजस्थान के अलवर जिले के पांच गांवों के निवासियों ने लगभग 1,200 हेक्टेयर वन क्षेत्रों को भैरोदेव डाकाव सोचूरी के रूप में घोषित किया है। समुदाय ने अपने स्वयं के नियमों और विनियमों की घोषणा की है जो शिकार की अनुमति नहीं देते हैं और किसी भी बाहरी अतिक्रमण के खिलाफ वन्यजीवों की रक्षा कर रहे हैं।
- (iii) कई राज्यों ने अवक्रमित बनों के प्रबंधन और पुनरुद्धार में स्थानीय समुदायों को शामिल करने के लिए संयुक्त वन प्रबंधन कार्यक्रम शुरू किया है। ओडिशा इस कार्यक्रम को शुरू करने वाला पहला राज्य था।
- (iv) अनुचित कृषि तकनीकें खेती के दोषपूर्ण तरीके भी हमारी जैव विविधता के हास के लिए जिम्मेदार हैं। टिहरी और नवदान्य में कई

किसान और नागरिक समूह मधुमक्खी बचाओ आंदोलन का समर्थन करते हैं या विभिन्न फसल उत्पादन विधियों का उपयोग कर रहे हैं जो फसल उगाने के लिए सिंथेटिक रसायनों का उपयोग नहीं करते हैं।

(v) प्रसिद्ध चिपको आंदोलन उत्तरी भारत में चमोली की महिलाओं द्वारा शुरू किया गया था जिसने पेड़ों को गले लगाकर 12,000 किमी से अधिक बनों को बचाया था जब लकड़हारे उन्हें काटने का प्रयास कर रहे थे।

20. (i) प्रदूषित वायु और जल: उद्योग और वाहन हानिकारक गैसों और रसायनों को छोड़ते हैं जो पानी और हवा के क्षरण के लिए जिम्मेदार हैं।

(ii) भूमि अवक्रमण: उर्वरकों और रसायनों के अत्यधिक उपयोग के परिणामस्वरूप भूमि क्षरण हुआ है।

(iii) जैव विविधता की हानि पर्यावास विनाश, शिकार, अवैध शिकार के कारण जैव विविधता में गिरावट आई है।

### स्त्रोत आधारित प्रश्न

1. निम्नलिखित गद्यांश को पढ़ें और प्रश्नों के उत्तर दें:

1960 और 1970 के दशकों के दौरान, पर्यावरण संरक्षकों ने राष्ट्रीय वन्यजीवन सुरक्षा कार्यक्रम की पुरजोर माँग की। भारतीय वन्यजीवन (रक्षण) अधिनियम 1972 में लागू किया गया जिसमें वन्य जीवों के आवास रक्षण के अनेक प्रावधान थे। सारे भारत में रक्षित जातियों की सूची भी प्रकाशित की गई। इस कार्यक्रम के तहत बची हुई संकटग्रस्त जातियों के बचाव पर, शिकार प्रतिबंधन पर, वन्यजीव आवासों का कानूनी रक्षण तथा जंगली जीवों के व्यापार पर रोक लगाने आदि पर प्रबल जोर दिया गया है। तत्पश्चात् केंद्रीय सरकार व कई राज्य सरकारों ने राष्ट्रीय उद्यान और



वन्य जीव पशुविहार (sanctuary) स्थापित किए जिनके बारे में आप पहले पढ़ चुके हैं। केंद्रीय सरकार ने कई परियोजनाओं की भी घोषणा की जिनका उद्देश्य गंभीर खतरे में पड़े कुछ विशेष वन प्राणियों को रक्षण प्रदान करना था। इन प्राणियों में बाघ, एक सींग वाला गैंडा, कश्मीरी हिरण अथवा हंगुल (hangul), तीन प्रकार के मगरमच्छ - स्वच्छ जल मगरमच्छ, लवणीय जल मगरमच्छ और घड़ियाल, एशियाई शेर, और अन्य प्राणी शामिल हैं। इसके अतिरिक्त, कुछ समय पहले भारतीय हाथी, काला हिरण, चिंकारा, भारतीय गोडावन (Bustard) और हिम तेंदुओं आदि के शिकार और व्यापार पर संपूर्ण अथवा आंशिक प्रतिबन्ध लगाकर कानूनी रक्षण दिया है।

1. राष्ट्रीय वन्यजीव संरक्षण कार्यक्रम का मुख्य उद्देश्य क्या है ?
2. राष्ट्रीय वन्यजीव संरक्षण कार्यक्रम कब लागू किया गया था ?
3. राष्ट्रीय वन्यजीव संरक्षण कार्यक्रम के अंतर्गत किस प्रकार की गतिविधियों को रखा गया है ?

उत्तर 1. जंगली पौधों और जंगली जानवरों की रक्षा करना

उत्तर 2. 1972

उत्तर 3. शिकार का प्रतिषेध, विनिदष्ट पौधों को काटने का निषेध आदि।

2. निम्नलिखित गद्यांश को पढ़ें और प्रश्नों के उत्तर दें।

हिमालय में प्रसिद्ध चिपको आंदोलन कई क्षेत्रों में वन कटाई रोकने में ही कामयाब नहीं रहा अपितु यह भी दिखाया कि स्थानीय पौधों की जातियों को प्रयोग करके सामुदायिक वनीकरण अभियान को सफल बनाया जा सकता है। पारंपरिक संरक्षण तरीकों को पुनर्जीवित अथवा परिस्थिकी कृषि के नए तरीकों का विकास अब व्यापक हो गया है। टिहरी में किसानों का बीज बचाओ आंदोलन और नवदानय ने दिखा दिया है कि रासायनिक

उर्वरकों के प्रयोग के बिना भी विविध फसल उत्पादन द्वारा आर्थिक रूप से व्यवहार्य कृषि उत्पादन संभव है।

1. चिपको आंदोलन का मुख्य उद्देश्य क्या था ?
2. चिपको आंदोलन के अलावा, वन्यजीवों की सुरक्षा के लिए दो अन्य आंदोलनों के नाम बताएं।
3. वन्यजीव संरक्षण क्यों आवश्यक है ?

उत्तर 1-3 अपने आप हल करें

## अध्याय - 3

### जल संसाधन

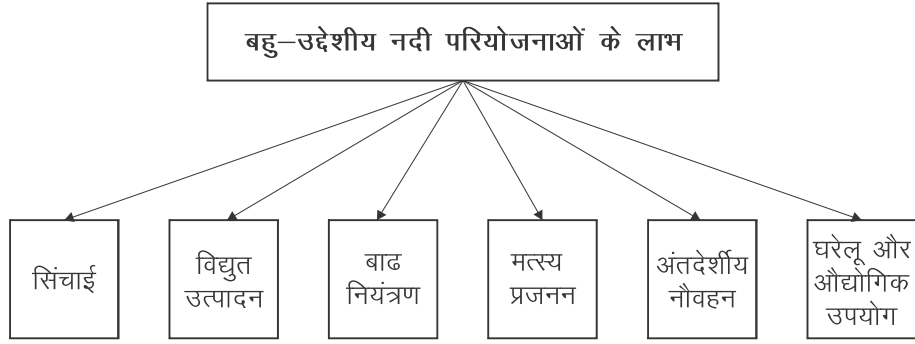
---

#### मुख्य बिन्दु और परिभाषाएँ-

- (1) दुनिया में पानी की कुल मात्रा का 96.5 प्रतिशत समुद्र के रूप में मौजूद है और केवल 2.5 प्रतिशत मीठे पानी के रूप में अनुमानित है।
- (2) भारत को वैश्विक वर्षा का लगभग 4 प्रतिशत प्राप्त होता है और पानी की प्रति व्यक्ति प्रति वर्ष उपलब्धता के मामले में दुनिया में 133 वें स्थान पर है।
- (3) ऐसी आशंका व्यक्त की जाती है कि 2025 तक, भारत के बड़े हिस्से पानी की कमी वाले देशों या क्षेत्रों में शामिल हो जाएंगे।
- (4) ज्यादातर मामलों में पानी की कमी अति-शोषण, अत्याधिक उपयोग और पानी तक विभिन्न सामाजिक समूहों की असमान पहुंच के कारण होती है।
- (5) सिंचित क्षेत्रों और शुष्क-ऋतु में कृषि का विस्तार करने के लिए जल संसाधनों का अत्यधिक दोहन किया जा रहा है।
- (6) गहन औद्योगीकरण और शहरीकरण ने मौजूदा मीठे पानी के संसाधन पर दबाव बढ़ाकर मामलों को बदतर बना दिया है।
- (7) जल निकायों में प्रदूषण, घरेलू और औद्योगिक कचरे, रसायनों, कीटनाशकों और कृषि में प्रयुक्त होने वाले उर्वरकों द्वारा हो रहा है।
- (8) पहली शताब्दी ईसा पूर्व में, इलाहाबाद के पास शृंगवेरपुरा में गंगा नदी के बाढ़ के पानी को संरक्षित करने के लिए एक उत्कृष्ट जल संग्रहण तंत्र बनाया गया था।
- (9) 11 वीं शताब्दी में, भोपाल झील, अपने समय की सबसे बड़ी कृत्रिम झीलों में से एक थी।
- (10) डैम बहते पानी के बीच एक अवरोध है जो प्रवाह को बाधित निर्देशित या पीछे करता है, अक्सर एक जलाशय, झील का निर्माण करता है।
- (11) जवाहरलाल नेहरू ने बांधों को 'आधुनिक भारत के मंदिर' कहा।

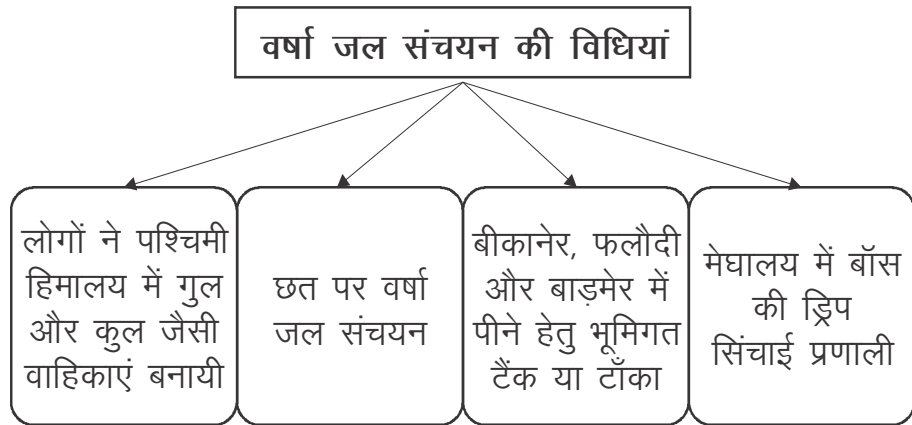
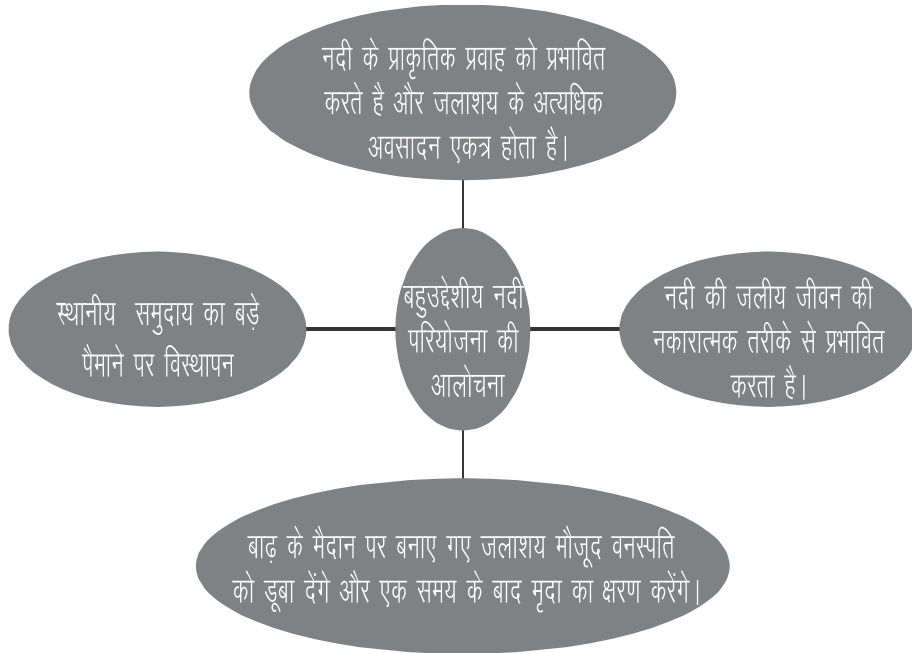
(12) नर्मदा बचाओं आंदोलन और टिहरी बांध अंदोलन बड़े बहुउद्देशीय नदी परियोजनाओं के खिलाफ शुरू किए गए थे।

(13) बहु-उद्देशीय नदी परियोजनाओं के लाभ





Map is not on scale



**जल संसाधन**  
**बहुविकल्पीय प्रश्न**

1. निम्न में से कौन जल के प्रभाव का कारण नहीं है ?
- (a) बढ़ती जनसंख्या                      (b) सिंचाई सुविधाओं का विस्तार  
(c) उद्योग                                      (d) जल संरक्षण तकनीक
2. सूची I को सूची II में सुमेलित करें—
- | सूची I               | सूची II         |
|----------------------|-----------------|
| बांध                 | नदी             |
| A. भाखड़ा नांगल बांध | I. महानदी नदी   |
| B. हीराकुंड बांध     | II. चेनाब नदी   |
| C. टिहरी बांध        | III. सतलज नदी   |
| D. सलाल              | IV. भागीरथी नदी |
- नीचे दिए गए विकल्पों में से सही उत्तर चुनें:
1. A-II, B-I, C-III, D-IV                      2. A-II, B-IV, C-III, D-I  
3. A-III, B-IV, C-I, D-II                      4. A-III, B-I, C-IV, D-II
3. सूची I को सूची II से सुमेलित करें:
- | सूची I       | सूची II                       |
|--------------|-------------------------------|
| A. बाड़मेर   | I. वर्षाजल                    |
| B. जैसलमेर   | II. बांस ड्रिप सिंचाई प्रणाली |
| C. पालर पानी | III. खादीन                    |
| D. मेघालय    | IV. टाँका                     |
- नीचे दिए गए विकल्पों में से सही उत्तर चुनें:
1. A-II, B-I, C-III, D-IV                      2. A-IV, B-I, C-III, D-II  
3. A-IV, B-III, C-I, D-II                      4. A-II, B-III, C-IV, D-II

4. पश्चिमी हिमालय में देखे जाने वाली वाहिकाओं को कहा जाता है।  
 (a) गुल अथवा कुल (b) खादीन  
 (c) जोहड (d) रिचार्ज पिट्स
5. प्राचीन काल से नागार्जुनकोंडा में परिष्कृत सिंचाई कार्यों के प्रमाण भी मिलते रहे हैं। यह ..... में स्थित है।  
 (a) आंध्र प्रदेश (b) उड़ीसा  
 (c) कर्नाटक (d) तमिलनाडु
6. .... ने गर्व से बांधों को 'आधुनिक भारत के मंदिरों' के रूप में घोषित किया क्योंकि वे तेजी से औद्योगिकीकरण और शहरी अर्थव्यवस्था के विकास के साथ कृषि और ग्रामीण अर्थव्यवस्था के विकास को एकीकृत करेंगे।  
 (a) सरदार पटेल (b) जवाहरलाल नेहरू  
 (c) महात्मा गांधी (d) डॉ बी आर अम्बेडकर
7. नर्मदा बचाओ आंदोलन एक गैर-सरकारी संगठन (एनजीओ) है जिसने नर्मदा नदी पर बनाए जा रहे - बांध के खिलाफ आदिवासी लोगों, किसानों, पर्यावरणविदों और मानवाधिकार कार्यकर्ताओं को जुटाया।  
 (a) सरदार सरोवर (b) टिहरी बांध  
 (c) नागार्जुन सागर बांध (d) भाखड़ा नांगल बांध
8. रिहंद बांध रिहंद नदी पर स्थित है, जो ..... की सहायक नदी है।  
 (a) सतलज नदी (b) सोन नदी  
 (c) गोदावरी नदी (d) ब्रह्मपुत्र नदी
9. फलोदी और बाड़मेर में, लगभग सभी घरों में पारंपरिक रूप से पीने के पानी के भंडारण के लिए भूमिगत टैंक या टंका थे। बाड़मेर और फलोदी. .... में स्थित हैं।  
 (a) गुजरात (b) हिमाचल प्रदेश  
 (c) उत्तराखंड (d) राजस्थान



10. बांस ड्रिप सिंचाई निम्नलिखित में से किस राज्य में प्रचलित है ?  
 (a) राजस्थान (b) मेघालय  
 (c) कर्नाटक (d) मध्य प्रदेश
11. प्राचीन भारत में हाइड्रोलिक संरचनाओं का निर्माण क्यों किया गया था ?  
 (a) सौंदर्यीकरण के लिए (b) स्नान के लिए  
 (c) कपड़े धेने के लिए (d) जल भंडारण के लिए
12. 14 वीं शताब्दी में, गिरी किला क्षेत्र में पानी की आपूर्ति के लिए इल्लुमिश द्वारा ..... में टैंक का निर्माण किया गया था।  
 (a) जयपुर, राजस्थान (b) हौज खास, दिल्ली  
 (c) भोपाल मध्य प्रदेश (d) सूरत, गुजरात
13. महानदी बेसिन में ..... बाढ़ नियंत्रण के साथ पानी के संरक्षण को एकीकृत करता है।  
 (a) कृष्णराजसागर परियोजना (b) देरी परियोजना  
 (c) हीराकुंड परियोजना (d) भाखड़ा नांगल परियोजना
14. कोयना बांध ..... में स्थित सबसे बड़े बांधों में से एक है।  
 (a) उत्तर प्रदेश (b) हिमाचल प्रदेश  
 (c) राजस्थान (d) महाराष्ट्र
15. कृष्णा-गोदावरी विवाद एक बहुउद्देशीय परियोजना के लिए ..... सरकार द्वारा कोयना में अधिक पानी के दिशा परिवर्तन के संबंध में कर्नाटक और आंध्र प्रदेश सरकारों द्वारा उठाई गई आपत्तियों के कारण है।  
 (a) तमिलनाडु (b) मध्य प्रदेश  
 (c) महाराष्ट्र (d) केरल
16. दुनिया के पानी की कुल मात्रा का 96.5 प्रतिशत ..... के रूप में और केवल 2.5 प्रतिशत ..... के रूप में मौजूद होने का अनुमान है।

- (a) मीठे पानी महासागर      (b) महासागर, ताजे पानी  
(c) भूजल, महासागर      (d) उपरोक्त में से कोई नहीं

**निर्देश**-नीचे दिए गए प्रश्नों में, कथन (A) और कारण (R) के रूप में चिह्नित दो कथन दिए गए हैं। कथनों को पढ़िए और सही विकल्प चुनिए।

- (क) A और R दोनों सत्य हैं और R, A का सही स्पष्टीकरण है।  
(ख) A और R दोनों सत्य हैं और लेकिन R, A का सही स्पष्टीकरण नहीं है।  
(ग) A सही है और R गलत है।  
(घ) A और R दोनों गलत हैं।

7. **कथन (A):** स्थानीय समुदाय बांधों का विरोध करते हैं।

**कारण (R):** बांधों से कृषि भूमि जलमग्न हो सकती है और विस्थापितों का जीवन बाधित हो सकता है।

18. **कथन (A):** भारत की नदियों, विशेष रूप से छोटी, सभी जहरीली धराओं में बदल गई हैं।

**कारण (R):** बांध परंपरागत रूप से नदियों और वर्षा जल को बचाने के लिए बनाए गए थे जिनका उपयोग बाद में कृषि क्षेत्र में सिंचाई के लिए किया जा सकता था।

19. **कथन (A):** जैविक संसाधन वे वस्तुएँ हैं जो जीवमंडल से प्राप्त होती हैं और उनमें जीवन होता है।

**कारण (R):** संसाधन मानव के अस्तित्व के साथ-साथ जीवन की गुणवत्ता को बनाए रखने के लिए महत्वपूर्ण है।

20. **कथन (A):** लेटराइट लैटिन शब्द लेटर (later) से लिया गया है जिसका अर्थ ईट है।

**कारण (R):** वे आम तौर पर बनावट में रेतीले और प्रकृति में खारे होते हैं।

### उत्तर कुंजी-

1. (घ) जल संरक्षण तकनीक
2. (घ) A-III, B-I, C-IV, D-II
3. (ग) A-IV, B-III, C-I, D-II
4. (क) गुल अथवा कुल
5. (क) आंध्र प्रदेश
6. (च) जवाहरलाल नेहरू
7. (क) सरदार सरोवर
8. (ख) सोन नदी
9. (घ) राजस्थान
10. (ख) मेघालय
11. (घ) पानी के भंडारण के लिए।
12. (ख) हौज खास, दिल्ली
13. (ग) हीराकुंड परियोजना
14. (घ) महाराष्ट्र
15. (ग) महाराष्ट्र
16. (ख) महासागर, ताजा पानी
17. (क) A और R दोनों सत्य हैं और R, A का सही स्पष्टीकरण है।
18. (ख) A और R दोनों सत्य हैं लेकिन R, A का सही स्पष्टीकरण नहीं है।
19. (ख) A और R दोनों सत्य हैं और लेकिन R, A का सही स्पष्टीकरण नहीं है।
20. (ग) A सही है और R गलत है।

(2/3/5 अंक)

1. जल चक्र से क्या तात्पर्य है ?
2. उद्योगों की बढ़ती संख्या ने पानी का अभाव कैसे उत्पन्न किया ?
3. कृषि गतिविधियों के लिए जल संसाधनों का दोहन कैसे किया जा रहा है
4. भाखड़ा नांगल परियोजना के पानी से क्या उद्देश्य पूरा होता है ?
5. छतों पर वर्षा जल संचयन की दो तकनीकों का उल्लेख कीजिए।
6. ताजे पानी के तीन स्रोत लिखिए।
7. जल दुर्लभता क्या है ? जल दुर्लभता के मुख्य कारण लिखिए।
8. जल प्रदूषण का मुख्य कारण लिखिए।
9. जल संसाधनों के संरक्षण की क्या आवश्यकता है ?
10. जल संसाधनों के संरक्षण के लिए अपनाए गए कुछ उपायों को लिखिए।
11. प्राचीन भारत में जल संरक्षण कैसे हुआ था ? अपने उत्तर के समर्थन में कोई चार उदाहरण दीजिए।
12. भारत में बहुउद्देशीय परियोजनाओं पर एक संक्षिप्त टिप्पणी लिखिए।
13. पानी के चार प्रमुख उपयोग बताएं।
14. पालर पानी क्या है ? राजस्थान के शुष्क क्षेत्रों में इसका क्या महत्व है ?
15. भारत में प्रचलित किन्हीं तीन अलग-अलग वर्षा जल संचयन प्रणालियों का वर्णन करें।
16. बांधों को अब बहुउद्देशीय परियोजना क्यों कहा जाता है ?
17. अत्यधिक सिंचाई के नकारात्मक प्रभाव का उल्लेख कीजिए।

उत्तर कुंजी...

1. हाइड्रोलॉजिकल चक्र, जिसे जल चक्र के रूप में भी जाना जाता है, वाष्पीकरण, संघनन और वर्षा के माध्यम से पृथ्वी की सतह पर ऊपर और नीचे पानी की निरंतर गति का वर्णन करता है।

2. उद्योगों की लगातार बढ़ती संख्या, मौजूदा ताजे पानी के संसाधनों पर दबाव डालकर पानी की कमी का कारण बनी है। उद्योगों को पानी के भारी उपयोगकर्ता होने के अलावा उन्हें चलाने के लिए बिजली की भी आवश्यकता होती है। इस ऊर्जा का अधिकांश हिस्सा पनबिजली से आता है।
3. खाद्यान्न उत्पादन बढ़ाने के लिए सिंचित क्षेत्र का विस्तार करने के लिए जल संसाधनों का दोहन किया जा रहा है।
4. भाखड़ा नांगल परियोजना के पानी का उपयोग पनबिजली उत्पादन और सिंचाई दोनों के लिए किया जा रहा है।
5. ये दो तकनीकें हैं।
  - हैंडपंप के माध्यम से रिचार्ज और
  - परित्यक्त खोदे गए कुएं के माध्यम से रिचार्ज
6. (1) वर्षा से  
(2) सतह जल नदियों, झीलों आदि में।  
(3) भूजल भूमि में संग्रहित जल, जो बारिश से रिचार्ज हो जाता है।
7. जल दुर्लभता का अर्थ है पानी की कमी।  
जल दुर्लभता के कारण ----
  1. बड़ी आबादी
  2. सिंचित क्षेत्रों का विस्तार करने के लिए जल संसाधनों का अत्यधिक दोहन किया जा रहा है
  3. बढ़ते शहरीकरण और औद्योगीकरण के साथ पानी की अधिक माँग ।
  4. विभिन्न सामाजिक समूहों के बीच पानी की असमान पहुंच
  5. उद्योगों द्वारा पानी का अत्यधिक उपयोग
  6. शहरी क्षेत्रों में पानी का अधिक दोहन
8. 1. घरेलू अपशिष्ट,

2. औद्योगिक कचरे को उचित उपचार के बिना पानी में बहा दिया जाता है।
  3. उद्योगों और कृषि क्षेत्र से रासायनिक अपशिष्ट।
  4. कृषि में उपयोग किए जाने वाले कीटनाशक और उर्वरक।
  5. कई मानवीय गतिविधियाँ, जैसे, धार्मिक अनुष्ठान और मूर्तियों का विसर्जन, आदि भी पानी को प्रदूषित करता है।
9. (1) जल संसाधन सीमित हैं और हमारी आवश्यकताएं दिन-प्रतिदिन बढ़ती जा रही हैं।
- (2) हमारे अधिकांश संसाधन पीने और अन्य उद्देश्यों के लिए प्रदूषित और अनुपयुक्त हैं।
- (3) स्वास्थ्य खतरों से स्वयं को सुरक्षित रखना।
- (4) खाद्य सुरक्षा सुनिश्चित करना और हमारी आजीविका को जारी रखना।
- (5) हमारे जलस्रोतों के प्राकृतिक पारिस्थितिकी तंत्र के क्षरण को रोकना।
10. (1) भूजल को अति-दोहन न करें भूजल को रिचार्ज करें।
- (2) हर स्तर पर पानी की बर्बादी से बचें।
- (3) पानी को प्रदूषित न करें।
- (4) जलाशयों, वाटरशेड विकास कार्यक्रमों, आदि में वर्षा जल का दोहन।
- (5) विशेष रूप से शुष्क क्षेत्रों में सिंचाई और छिड़काव आदि।
11. (1) पहली शताब्दी ईसा पूर्व में, इलाहाबाद में परिष्कृत जल संचयन प्रणाली थी।
- (2) चंद्रगुप्त मौर्य के समय में बाँध, झीलें और सिंचाई प्रणालियाँ बड़े पैमाने पर बनायी गयी थी।
- (3) ओडिशा के कलिंग, नागार्जुनकोंडा में परिष्कृत सिंचाई कार्य पाए गए हैं, आंध्र प्रदेश, कर्नाटक में बेन्नूर और महाराष्ट्र में कोल्हापुर।

- (4) 11 वीं शताब्दी में बनी भोपाल झील अपने समय की सबसे बड़ी त्रिभुज झीलों में से एक थी।
- (5) 14 वीं शताब्दी में, इल्तुतमिश ने पानी की आपूर्ति के लिए दिल्ली के हौज खास में एक टैंक का निर्माण किया सिरी किला क्षेत्र में।
12. 1. स्वतंत्रता के बाद उनके एकीकृत जल संसाधन प्रबंधन दृष्टिकोण के साथ लॉन्च किया गया।
2. जवाहरलाल नेहरू ने बांधों को गर्व से आधुनिक भारत के मंदिरों के रूप में घोषित किया
3. यह कृषि और ग्राम अर्थव्यवस्था के विकास को तेजी से औद्योगिकीकरण और शहरी अर्थव्यवस्था के विकास के साथ एकीकृत करेगा।
13. 1. पेयजल और घरेलू खपत जैसे कपड़े धोना।
2. खेत की सिंचाई।
3. जल विद्युत का उत्पादन।
4. औद्योगिक प्रतिष्ठानों में उपयोग।
14. वर्षा का पानी जो भूमिगत टैंकों में जमा होता है, पीने योग्य पानी है। इसे पालर पानी कहा जाता है।
- राजस्थान के शुष्क क्षेत्रों में, यह निम्नलिखित तरीकों से महत्वपूर्ण है।
1. यह पेयजल का मुख्य स्रोत है, जब अन्य सभी स्रोत सूख गए हों।
2. इसे पेयजल का शुद्धतम रूप माना जाता है।
3. गर्मियों में, ये टैंक भूमिगत कमरों और उनसे जुड़े कमरों को ठंडा, साफ रखते हैं।
15. 1. पहाड़ी क्षेत्रों में, लोगों ने कृषि के लिए गुल और कुल जैसी वाहिकाएं बनायीं हैं।
2. बंगाल के बाढ़ क्षेत्रों में बाढ़ जल वाहिकाएं बनायीं गयीं।

3. राजस्थान के शुष्क और अर्ध-शुष्क क्षेत्रों में कृषि क्षेत्रों को बरसाती भंडारण संरचनाओं में परिवर्तित किया गया।
16. (1) बाँध से एकत्र जल का उपयोग एक दूसरे पर निर्भर है।  
 (2) बाँधों का निर्माण बाढ़ नियंत्रण, सिंचाई, बिजली उत्पादन और वितरण के लिए किया जाता है।  
 (3) जल, वनस्पति और मिट्टी के संरक्षण के लिए बाँधों का निर्माण किया जाता है।  
 (4) यह पर्यटन को बढ़ावा देने में भी मदद करता है।
17. (1) इससे मिट्टी के लवणीकरण जैसे बड़े पारिस्थितिक परिणाम हो सकते हैं।  
 (2) मिट्टी की उर्वरता में कमी।  
 (3) इससे पानी की कमी हो जाती है।

#### स्रोत आधारित प्रश्न (4 अंक)

#### 1. निम्नलिखित गद्यांश को पढ़ें और अंत में प्रश्नों के उत्तर दें।

बहु उद्देशीय परियोजनाएं और बड़े बांध नए पर्यावरणीय आन्दोलनों जैसे नर्मदा बचाओ आंदोलन 'और 'टिहरी बांध आंदोलन के कारण भी बन गए हैं। इन परियोजनाओं का विरोध मुख्य रूप से स्थानीय समुदायों के वृहद स्तर पर विस्थापन के कारण है। आमतौर पर स्थानीय लोगों को उनकी जमीन आजीविका और संसाधनों से लगाव एवं नियंत्रण देश की बेहतर के लिए कुर्बान करना पड़ता है। इसलिए, अगर स्थानीय लोगों को इन परियोजनाओं का लाभ नहीं मिल रहा है तो किसको मिल रहा है? शायद जमींदारों और बड़े किसानों को या उद्योगपतियों और और कुछ नगरीय केंद्रों को गाँव के भूमिहीनों को लीजिये क्या वे वास्तव में ऐसी परियोजनाओं से लाभ उठाते हैं?



(क) नर्मदा बचाओ आंदोलन के पीछे क्या कारण था ?

(ख) बहुउद्देश्यीय परियोजनाओं से किसे लाभ होता है ?

(ग) स्थानीय लोगों के बड़े बांध के खिलाफ प्रतिरोध पर आपकी क्या राय है। अपने उत्तर के समर्थन में तर्क दीजिए।

2. निम्नलिखित गद्यांश को पढ़ें और अंत में प्रश्नों के उत्तर दें।

जल के विशाल भंडार और इसके नवीकरण योग्य गुणों के होते हुए यह सोचना भी मुश्किल है कि हमें जल दुर्लभता का सामना करना पड़ सकता है। जैसे ही हम जल की कमी की बात करते हैं तो हमें तत्काल ही कम वर्षा वाले क्षेत्रों या सूखाग्रस्त इलाकों का ध्यान आता है। हमारे मानस पटल पर तुरंत राजस्थान के मरुस्थल और जल से भरे मटके संतुलित करती हुई और जल भरने के लिए लम्बा रास्ता तय करती पानिहारियों के चित्र चित्रित हो जाते हैं। यह सच है कि वर्षा में वार्षिक और मौसमी परिवर्तन के कारण जल संसाधनों की उपलब्धता में समय और स्थान के अनुसार विभिन्नता है। परन्तु अधिकतया जल की कमी इसके अतिशोषण अत्यधिक प्रयोग और समाज के विभिन्न वर्गों में जल के असमान वितरण के कारण होती है। फिर पानी की कमी कहाँ होने की संभावना है? जैसा कि आपने जल चक्र में पढ़ा है। ताजा पानी सीधे वर्षा सतह के प्रवाह और भूजल से प्राप्त किया जा सकता है।

(क) जल चक्र से आप क्या समझते हैं ?

(ख) राजस्थान में जल संरक्षण की किन्हीं दो विधियों का उल्लेख कीजिए ?

(ग) पानी की कमी के लिए मनुष्य मुख्य रूप से जिम्मेदार है। स्पष्ट कीजिए।

3. निम्नलिखित गद्यांश को पढ़ें और अंत में प्रश्नों के उत्तर दें।

राजस्थान के अर्द्ध शुष्क और शुष्क क्षेत्रों विशेषकर बीकानेर, फलोदी और बाड़मेर में लगभग हर घर में पीने का पानी संग्रहित करने के लिए भूमिगत टैंक अथवा 'टॉका' हुआ करते थे। इसका आकार एक बड़े कमरे

जितना हो सकता है। फलोदी में एक घर में 6.1 मीटर गहरा 4.27 मीटर लम्बा और 2.44 मीटर चौड़ा टॉका था। टांका यहाँ सुविकसित छतः वर्षाजल संग्रहण तंत्र का अभिन्न हिस्सा होता है जिसे मुख्य घर या आँगन में बनाया जाता था। वे घरों की ढलवां छतों से पाइप द्वारा जुड़े हुए थे। छत से वर्षा का पानी इन नलों से होकर भूमिगत टांका तक पहुँचता था जहाँ इसे एकत्रित किया जाता था। वर्षा का पहला जल छत और नलों को साफ करने में प्रयोग होता था और उसे संग्रहित नहीं किया जाता था। इसके बाद होने वाली वर्षा का जल संग्रह किया जाता था।

(क) राजस्थान के किन क्षेत्रों में 'टॉक' पाए जाते हैं ?

(ख) छत पर जल संचयन प्रणाली से आप क्या समझते हैं ?

(ग) 'टॉका' में वर्षा का पहला जल संग्रहित क्यों नहीं करते हैं ?

### संकेत आधारित प्रश्नों की उत्तर कुंजी

उत्तर 1. (क) वृहद पैमाने पर स्थानीय लोगों का विस्थापन

(ख) जमींदारों और बड़े किसानों को या उद्योगपतियों और और कुछ नगरीय केंद्रों को

(ग) सरकार को विस्थापित लोगों को क्षतिपूर्ति देना चाहिए और लाभ के बँटवारे में हिस्सेदार बनाना चाहिए

उत्तर 2. (क) स्वयं हल करें।

(ख) स्वयं हल करें।

(ग) स्वयं हल करें।

उत्तर 3 (क) नोटों का संदर्भ लें।

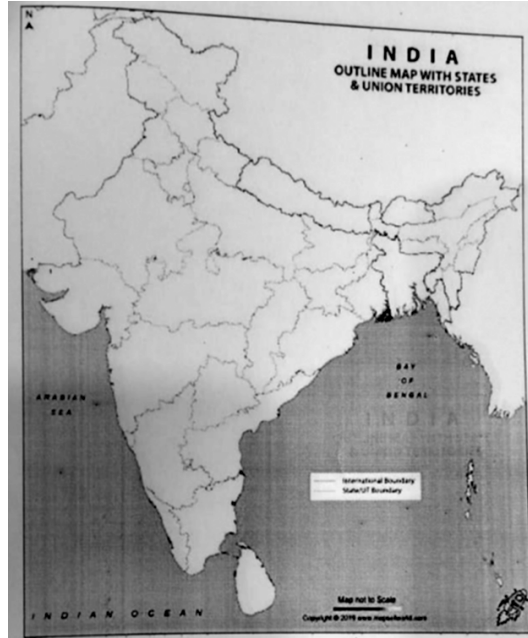
(ख) नोटों का संदर्भ लें।

(ग) नोटों का संदर्भ लें।

## मानचित्र आधारित प्रश्न

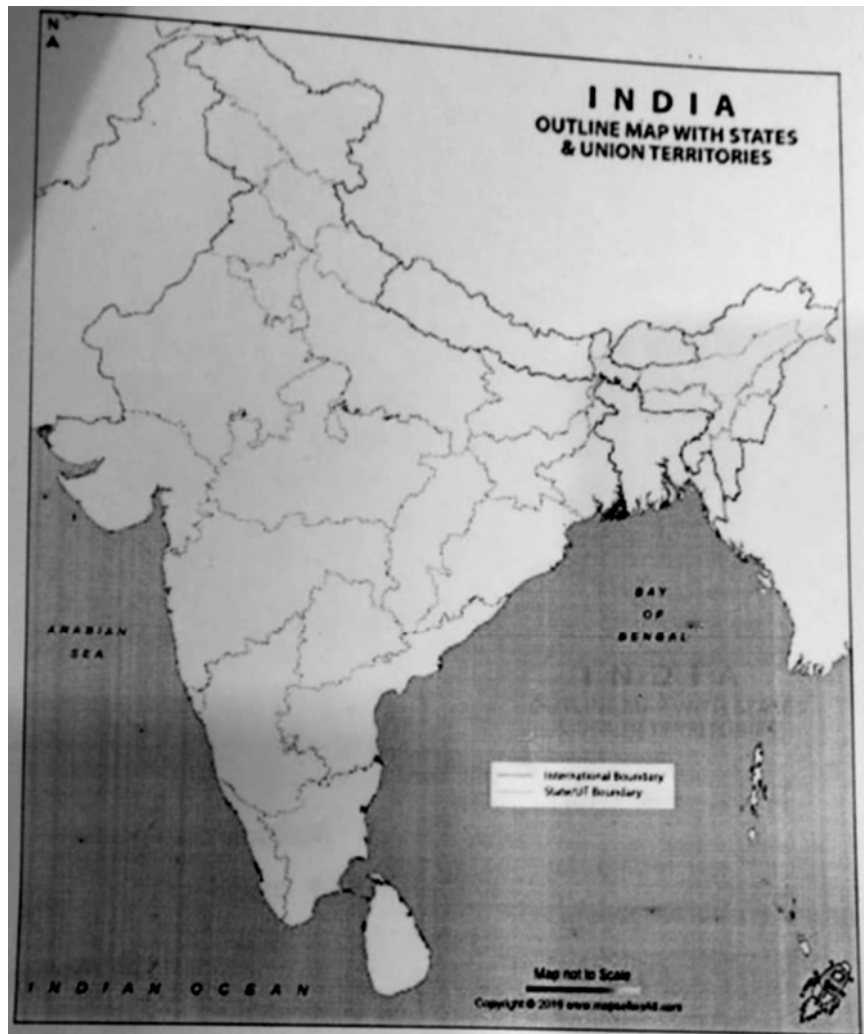
प्र.1 दिए गए नक्शे पर निम्नलिखित वस्तुओं को उपयुक्त चिन्हों के साथ लगाएँ और लेबल करें।

1. टिहरी बांध
2. भाखड़ा नांगल बांध
3. राणा प्रताप सागर बांध
4. सलाल बांध



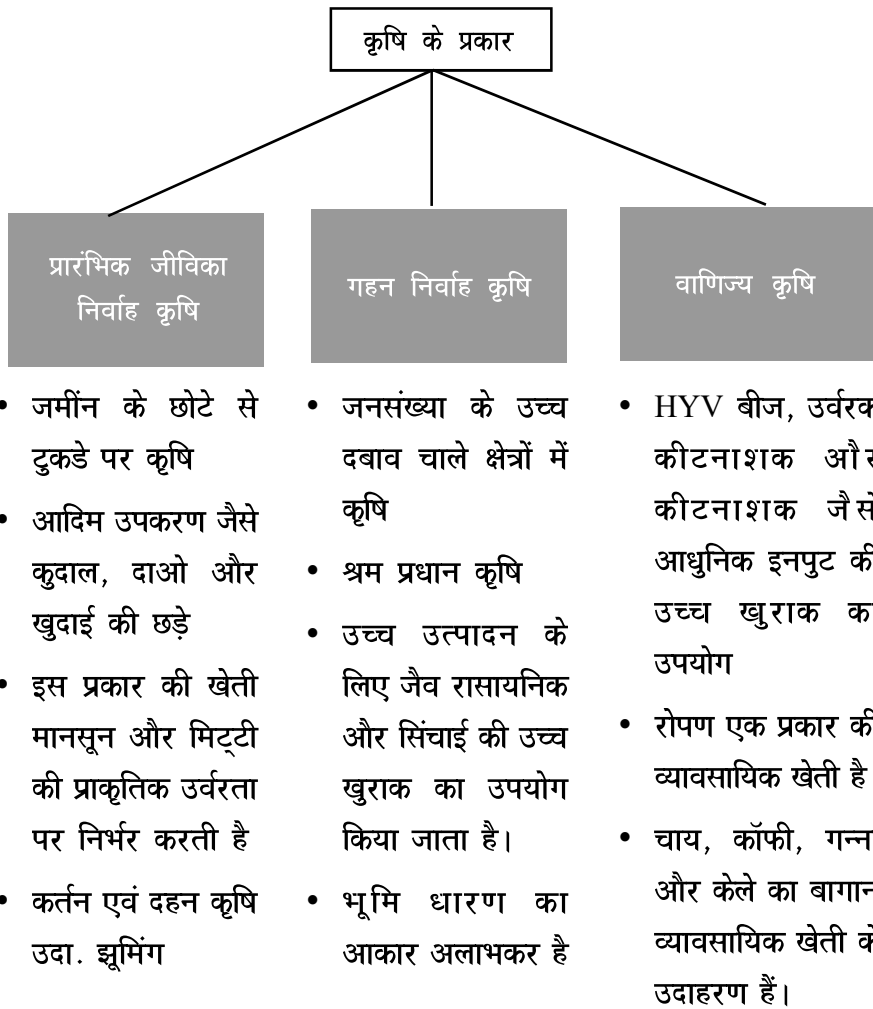
प्र.2 दिए गए नक्शे पर निम्नलिखित वस्तुओं को उपयुक्त चिन्हों के साथ लगाएँ और लेबल करें।

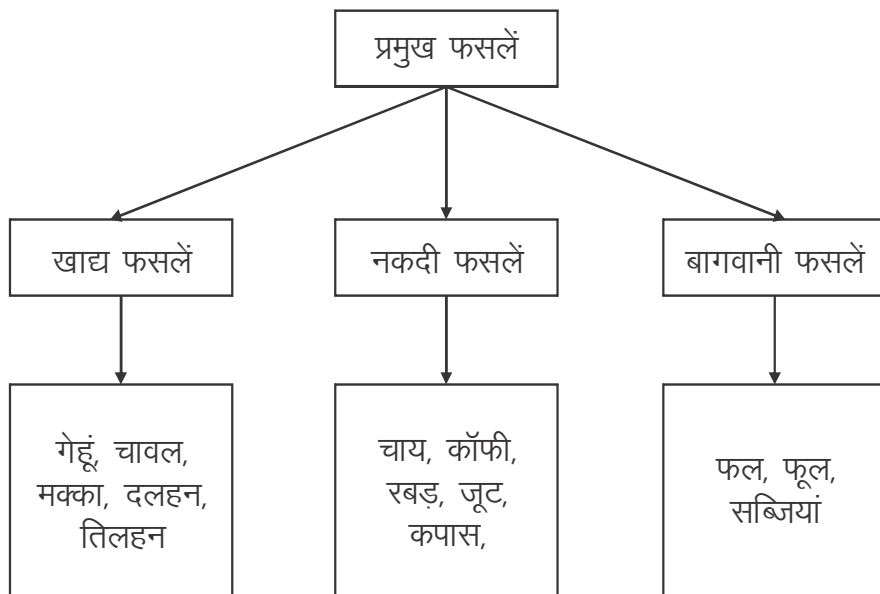
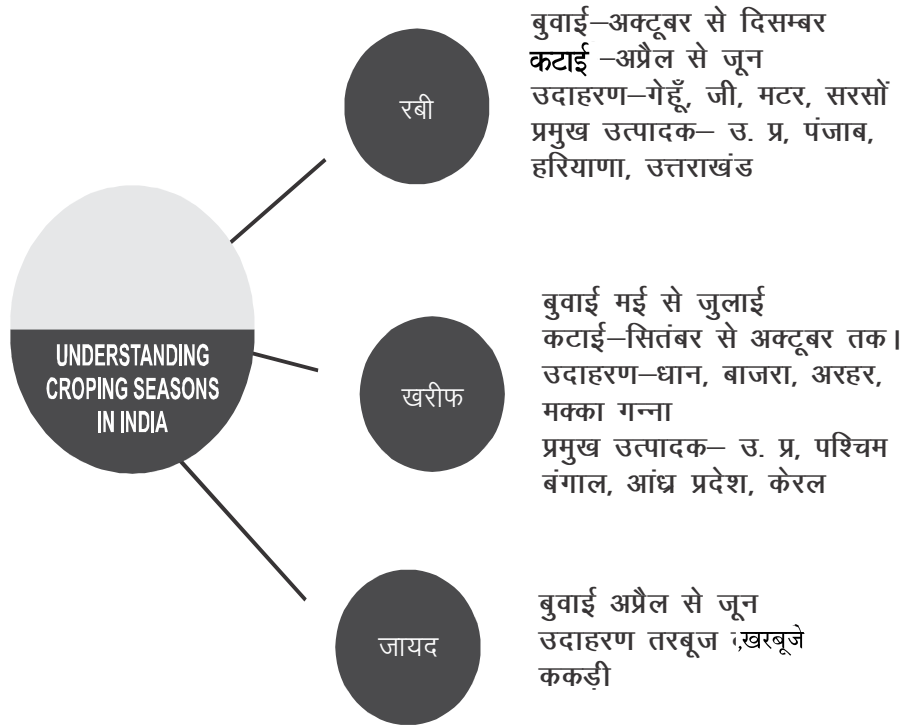
1. तुंगभद्रा
2. हीराकुंड
3. नागार्जुन सागर बाँध
4. सरदार सरोवर बाँध



## अध्याय 4

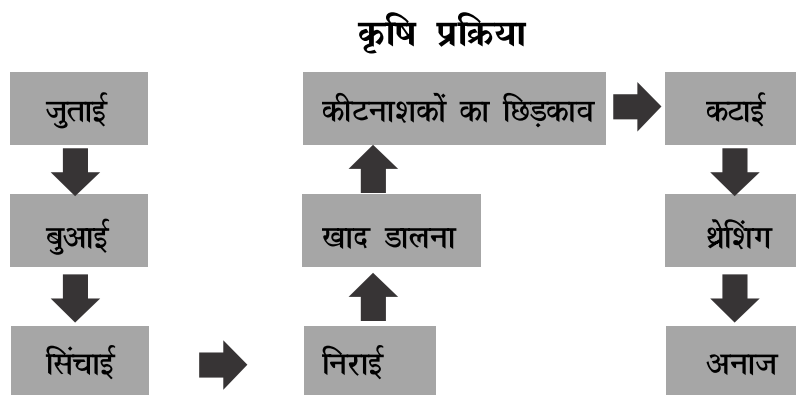
### कृषि





प्रमुख फसलें और जलवायु परिस्थितियां —

फसलें	बुआई	कटाई	तापमान	वार्षिक- वर्षा	उत्पादक राज्य
1-चावल	जून - जुलाई	सितंबर-अक्टूबर	25 ° C से ऊपर	100 सेमी से ऊपर	पश्चिम बंगाल, यू.पी. पंजाब
2-गेहूं	नवंबर-दिसंबर	अप्रैल- मई	21 ° C - 24 ° C	50 से 75 से.मी.	पंजाब, हरियाणा, उत्तर प्रदेश, बिहार
3-मक्का	जून - जुलाई	सितम्बर- अक्टूबर	21 ° C से 27 ° C	50-100 सेमी	कर्नाटक, यू.पी., बिहार, आंध्र प्रदेश
4-गन्ना	जनवरी - मार्च	दिसंबर - मार्च	21 ° C से 27 ° C	75 - 100 सेमी।	यू.पी., महाराष्ट्र, कर्नाटक, तमिलनाडु
5-चाय	अप्रैल-जून और अक्टूबर-दिसंबर	हर 7 -12 दिन	21 ° C से 29 ° C	150-200 से.मी.	असम और पश्चिम बंगाल
6- कपास	देश के विभिन्न भागों में भिन्न-भिन्न है	देश के विभिन्न भागों में भिन्न-भिन्न है	21 ° C से 30 ° C	50-120 सें.मी.	महाराष्ट्र, गुजरात, मध्य प्रदेश, कर्नाटक
7-जूट	फरवरी में निम्न भूमि में और मार्च-मई में उच्च भूमि में बोया जाता है	जुलाई - अक्टूबर।	25 ° C से ऊपर	160-200 से.मी.	पश्चिम बंगाल, असम और बिहार



### प्रमुख बिन्दु:-

1. चावल हरियाणा और पंजाब में एक वाणिज्यिक फसल है, लेकिन ओडिशा में, यह एक जीविका फसल है।
2. रोपण एक प्रकार की वाणिज्यिक कृषि है। इस प्रकार की खेती में एक बड़े क्षेत्र में एक ही फसल उगाई जाती हैं।
3. भारत में महत्वपूर्ण रोपण फसलें - चाय, कॉफी, रबर, गन्ना, केला आदि।
4. चावल भारत के अधिकांश लोगों की मुख्य फसल है। हमारा देश दुनिया में चीन के बाद चावल का दूसरा सबसे बड़ा उत्पादक है।
5. असम, पश्चिम बंगाल और ओडिशा जैसे राज्यों में एक साल में धान की तीन फसलें उगाई जाती हैं। ये हैं- आस, अमन और बोरो।
6. गेहूं दूसरी सबसे महत्वपूर्ण खाद्य फसल है। यह उत्तर में और देश के उत्तर पश्चिमी भाग में मुख्य खाद्य फसल हैं।
7. मक्का एक ऐसी फसल है जिसका उपयोग भोजन ओर चारे दोनों के रूप में किया जाता है।
8. ज्वार, बाजरा और रागी भारत में उगाए जाने वाले महत्वपूर्ण मोटे अनाज हैं। हालांकि, इनकी अनाज के रूप में जाना जाता हैं। किन्तु इनमें पोषक तत्वों की मात्रा बहुत अधिक हैं।



9. ज्वार, क्षेत्र और उत्पादन के संबंध में तीसरी सबसे महत्वपूर्ण खाद्य फसल है।
10. भारत दुनिया में दालों का सबसे बड़ा उत्पादक और उपभोक्ता है।
11. ब्राजील के बाद भारत गन्ने का दूसरा सबसे बड़ा उत्पादक है।
12. दुनिया में मूंगफली का उत्पादन-चीन (प्रथम), भारत (दूसरा) और रेपसीड उत्पादन में कनाडा, प्रथम, चीन, दूसरा और भारत- दुनिया में तीसरा।
13. दुनिया में चाय उत्पादन में 2020 में चीन-प्रथम और भारत - दूसरा।
14. 2013 में, भारत दुनिया में फलों और सब्जियों का चीन के बाद दूसरा सबसे बड़ा उत्पादक था।
15. **फसल चक्र:-** फसल की उत्पादकता और भूमि की उर्वरता बढ़ाने के लिए भूमि के एक टुकड़े पर विभिन्न फसलों को उगाना।
16. **कर्तन दहन प्रणाली/स्थानांतरित कृषि:-** किसान जंगल की भूमि के टुकड़े को साफ करके अर्थात् पेड़ काटकर जलाते हैं, परिवार के जीविका निर्वाह के लिए खेती करते हैं और उस जमीन की उर्वरता कम होने के बाद किसी और जमीन के टुकड़े को साफ करके खेती करते हैं।

कर्तन एवं दहन कृषि का देश एवं विदेश में अन्य नाम

भारत में		विश्व में
1. मध्यप्रदेश	- वेबर या दाहिया	1. मेक्सिको तथा - मिलपा
2. आंध्र प्रदेश	- पोडु या पेंडा	मध्य अमेरिका
3. ओडिशा	- पामाडाबी या कोमान या बरीगाँ	2. बेनेजुएला - कोनुको
4. पश्चिमी घाट	- कुमारी	3. ब्राजील - रोका
5. दक्षिण-पूर्वी राजस्थान	- वालटे या वाल्टरे	4. मध्य अफ्रीका- मसोले
6. हिमालयन क्षेत्र	- खिल	5. इंडोनेशिया - लदांग
7. झाड़खंड	- कुरुवा	6. वियतनाम - रे
8. उत्तर-पूर्वी प्रदेश	- झूम	
9. मणिपुर	- पामलु	
10. अंडमान निकोबार द्वीप समूह	- दीपा	

17. श्वेत क्रांति:- दूध उत्पादन में वृद्धि के लिए पशुओं की नस्लों में सुधर करने के लिए आधुनिक तकनीक का उपयोग। इसे ऑपरेशन फ्लड भी कहा जाता है।
18. हरित क्रांति:- उत्पादन बढ़ाने, विशेष रूप से गेहूँ का उत्पादन बढ़ाने के लिए HYV बीजों के उपयोग, आधुनिक प्रौद्योगिकी, उर्वरक तथा कीटनाशकों का प्रयोग।
19. जूट को “सुनहरा रेशा” (गोल्डन फाइबर) के रूप में जाना जाता है।

### वस्तुनिष्ठ प्रश्न (1 अंक वाले प्रश्न)

1. निम्नलिखित में से कौन-सी एक नकदी फसल नहीं है ?
- (a) चाय (b) कॉफी  
(c) गेहूँ (d) तिलहन
2. निम्नलिखित में कौन-सी एक खरीफ फसल का उदाहरण है ?
- (a) गेहूँ (b) चावल  
(c) तरबूज (d) सरसों
3. मिलान कीजिए।
- | स्तंभ क                   | स्तंभ ख                   |
|---------------------------|---------------------------|
| A. रबी                    | i. जूट                    |
| B. खरीफ                   | ii. खरबूज                 |
| C. जायद                   | iii. बाजरा                |
| D. नकदी                   | iv. मटर                   |
| A. A-I, B-II, C-III, D-IV | B. A-II, B-I, C-IV, D-III |
| C. A-IV, B-III, C-II, D-I | D. A-III, B-II, C-I, D-IV |
4. गेहूँ की कृषि के लिए आवश्यक कदमों को क्रमानुसार लगाइए।
1. बुवाई 2. जुताई  
3. कटाई 4. सिंचाई

A. 1, 2, 3, 4                      B. 2, 1, 4, 3

C. 3, 2, 4, 1                      D. 2, 1, 4, 3

5. निम्नलिखित में से सही कथन की पहचान कीजिए।

1. कर्तन एवं दहन कृषि को मध्यप्रदेश में वेबर या दाहिया भी कहा जाता है।

2. कर्तन एवं दहन कृषि को मणिपुर में पामलू भी कहा जाता है।

3. कर्तन एवं दहन कृषि को पश्चिमी घाट में कुमारी भी कहा जाता है।

A. केवल 1

B. केवल 1 व 2

C. केवल 3

D. सभी कथन सत्य है।

6. चावल उत्पादन में भारत का कौन-सा स्थान है ?

(a) प्रथम

(b) द्वितीय

(c) तृतीय

(d) चतुर्थ

7. उस फसल का नाम बताइए कि जिसका उपयोग खाद्यान्न एवं चारा दोनों रूपों में होता है ?

(a) मक्का

(b) तरबूज

(c) खरबूज

(d) चावल

8. निम्नलिखित जानकारी के आधार पर फसल की पहचान कीजिए।

1. यह एक रोपण फसल है।

2. भारत में इसका उत्पादन बाबा बूदन की पहाड़ियों पर आरंभ किया गया था।

3. भारत में इसकी खेती आज भी नीलगिरी की पहाड़ियों के आस-पास किया जाता है।

4. भारत में इसकी अरेबिक किस्म का उत्पादन किया जाता है।

(a) चावल

(b) चाय

(c) जूट

(d) कॉफी

9. निम्नलिखित में से कौन-सी एक रेशेदार फसल नहीं है ?

- (a) बाजरा (b) कपास  
(c) जूट (d) सन

10. सही मिलान की पहचान कीजिए।

- (a) सुनहरा रेशा-जूट (c) खाद्य फसल-रबड़  
(c) अखाद्य फसल-चावल (d) नकदी पफसल गेहूँ

प्रश्न संख्या 11 से 15 तक संकल्पना एवं कारण आधारित प्रश्न हैं। जिनके लिए निम्नलिखित विकल्पों का चयन कीजिए।

**विकल्प:**

- A. संकल्पना (स) एवं कारण (क) दोनों सही हैं एवं कारण संकल्पना की सही व्याख्या है।  
B. संकल्पना (स) एवं कारण (क) दोनों सही हैं परन्तु कारण, संकल्पना की सही व्याख्या नहीं है।  
C. संकल्पना (स) सही है एवं कारण (क) गलत है।  
D. संकल्पना (स) गलत है परन्तु कारण (क) सही है।
11. संकल्पना (स) चावल की बुवाई जून जुलाई में की जाती है।  
कारण (क) भारत में जून-जुलाई में मानसूनी मौसम होती है।
12. संकल्पना (स) गेहूँ की कटाई अप्रैल मई में की जाती है।  
कारण (क) गेहूँ का प्रमुख उत्पादक राज्य पंजाब है।
13. संकल्पना (स) बाजरा एक खरीफ की फसल है।  
कारण (क) बाजरे की बुवाई अप्रैल से जून के मध्य की जाती है।
14. संकल्पना (स) चाय का उत्पादन भारत में नहीं होता है।  
कारण (क) चाय एक नकदी फसल है।
15. संकल्पना (स) ज्वार को मोटा अनाज माना जाता है।  
कारण (क) ज्वार में पोषक तत्वों की भारी मात्रा होती है।

## उत्तरमाला

1. C गेहूँ
2. B चावल
3. C A-IV, B-III, C-II, D-I
4. D 2, 1, 4, 3
5. D सभी कथन सत्य है।
6. B द्वितीय
7. A मक्का
8. D कॉफी
9. A बाजरा
10. A सुनहरा रेशा - जूट
11. A संकल्पना (स) एवं कारण (क) दोनों सही है एवं कारण, संकल्पना की सही व्याख्या है।
12. B संकल्पना (स) एवं कारण (क) दोनों सही है परन्तु कारण, संकल्पना की सही व्याख्या नहीं है।
13. C संकल्पना (स) सही है एवं कारण (क) गलत है।
14. D संकल्पना (स) गलत है परन्तु कारण (क) सही है।
15. A संकल्पना (स) एवं कारण (क) दोनों सही हैं एवं कारण, संकल्पना की सही व्याख्या है।

### लघु / दीर्घ प्रश्न (2.3 एवं 5 अंक वाले प्रश्न )

- प्र.1 रबी एवं खरीफ की फसल में अंतर स्पष्ट कीजिए।
- प्र.2 गहन निर्वाह खेती एवं वाणिज्यिक खेती के अंतर स्पष्ट कीजिए।
- प्र.3 रोपण कृषि पर संक्षिप्त टिप्पणी लिखिए।
- प्र.4 चाय की फसल के लिए आवश्यक भौगोलिक एवं जलवायवी विशेषताओं पर संक्षिप्त निबंध लिखिए।

- प्र.5 चावल की फसल के लिए आवश्यक भौगोलिक एवं जलवायवी विशेषताओं का वर्णन कीजिए।
- प्र.6 गेहूं की फसल के लिए आवश्यक भौगोलिक एवं जलवायवी विशेषताओं की विवेचना कीजिए।
- प्र.7 सुमित कपास की कृषि करना चाहता है। बताइए उसे किन भौगोलिक एवं जलवायवी विशेषताओं को ध्यान में रखना होगा ?
- प्र.8 उत्कर्ष गन्ने की कृषि करना चाहता है। बताइए उसे किन भौगोलिक एवं जलवायवी विशेषताओं को ध्यान में रखना होगा।
- प्र.9 भारत में कृषि में सुधार हेतु कुछ आवश्यक संस्थागत सुधारों का उल्लेख कीजिए।
- प्र.10 भारत में कृषि में सुधार हेतु कुछ आवश्यक प्रौद्योगिकीय सुधारों का वर्णन कीजिए।
- प्र.11 कृषि भारतीय अर्थव्यस्था की रीढ़ की हड्डी है। कथन के समर्थन में तर्क दीजिए।

### उत्तरमाला लघु / दीर्घ प्रश्न

1. स्मरणीय तथ्यों को देखें।
2. स्मरणीय तथ्यों को देखें।
3. स्मरणीय तथ्यों को देखें।
4. स्मरणीय तथ्यों को देखें।
5. स्मरणीय तथ्यों को देखें।
6. स्मरणीय तथ्यों को देखें।
7. स्मरणीय तथ्यों को देखें।
8. स्मरणीय तथ्यों को देखें।
9. भारत में कृषि में सुधार हेतु कुछ आवश्यक संस्थागत सुधारः
  - चकबंदी

- भूमि अधिग्रहण के लिए सख्त कानून।
  - ग्रामीण क्षेत्रों में सहकारी बैंकों की स्थापना।
  - न्यूनतम समर्थन मूल्य की घोषणा।
  - किसान क्रेडिट कार्ड फसल बीमा।
10. भारत में कृषि में सुधार हेतु कुछ आवश्यक प्रौद्योगिकीय सुधार:
- आकाशवाणी एवं दूरदर्शन के जरिए मौसम की जानकारी
  - उन्नत बीजों का उपयोग
  - आवश्यक उर्वरकों की जानकारी
  - सिंचाई के साधनों का विकास
11. कृषि भारतीय अर्थव्यवस्था की रीढ़ की हड्डी है-
- सकल घरेलू उत्पादन में कृषि का महत्वपूर्ण योगदान
  - रोजगार प्रदान करने में कृषि की महत्वपूर्ण भूमिका
  - भारत एक कृषि प्रधान अर्थव्यवस्था
  - बढ़ती जनसंख्या का पेट भरने में सहायक

#### स्रोत आधारित प्रश्न (4 अंक)

1. नीचे दिए गए अनुच्छेद को पढ़िए एवं पूछे गए प्रश्नों के उत्तर दीजिए।

भूमि सुधार के कानून तो बने परंतु इनके लागू करने में ढील की गई। 1960 और 1970 के दशकों में भारत सरकार ने कई प्रकार के कृषि सुधारों की शुरुआत की। पैकेज टेक्नोलॉजी पर आधारित हरित क्रांति तथा श्वेत क्रांति (ऑपरेशन फ्रलड) जैसी कृषि सुधार के लिए कुछ रणनीतियों आरंभ की गई थीं। परंतु इसके कारण विकास कुछ क्षेत्रों तक ही सीमित रह गया। इसलिए 1980 तथा 1990 के दशकों में व्यापक भूमि विकास कार्यक्रम शुरू किया गया जो संस्थागत और तकनीकी सुधारों पर आधारित था। इस दिशा में उठाए गए कुछ महत्वपूर्ण कदमों में सूखा, बाढ़, चवफदात आग तथा बीमारी के लिए फसल बीमा के प्रावधान और किसानों को कम दर पर ऋण की सुविधाएँ प्रदान करने के लिए ग्रामीण बैंकों, सहकारी समितियों और बैंकों की स्थापना सम्मिलित थे।

- (a) कृषि के लिए उठाए गए किसी एक संस्थागत सुधर का वर्णन कीजिए।
- (b) फसल बीमा का महत्व बताइए।
- (c) हरित क्रांति के प्रभावों का विश्लेषण कीजिए।

**2. नीचे दिए गए अनुच्छेद को पढ़िए एवं पूछे गए प्रश्नों के उत्तर दीजिए।**

किसान जमीन के टुकड़े साफ करके उन पर अपने परिवार के भरण-पोषण के लिए अनाज व अन्य खाद्य फसलें उगाते हैं। जब मृदा की उर्वरता कम हो जाती है तो किसान उस भूमि के टुकड़े से स्थानांतरित हो जाते हैं और कृषि के लिए भूमि का दूसरा टुकड़ा साफ करते हैं। कृषि के इस प्रकार के स्थानांतरण से प्राकृतिक प्रक्रियाओं द्वारा मिट्टी की उर्वरता शक्ति बढ़ जाती है। चूंकि किसान उर्वरक अथवा अन्य आधुनिक तकनीकों का प्रयोग नहीं करते इसलिए इस प्रकार की कृषि में उत्पादकता कम होती है। देश के विभिन्न भागों में इस प्रकार की कृषि को विभिन्न नामों से जाना जाता है।

- A. स्थानारित कृषि की प्रक्रिया बताइए।
- B. भूमि उर्वरता कब कम होती है ?
- C. स्थानांतरित कृषि के किन्हीं अन्य दो नामों को बताइए

**उत्तरमाला स्रोत आधारित प्रश्न**

**नीचे दिए गए अनुच्छेद को पढ़िए एवं पूछे गए प्रश्नों के उत्तर दीजिए।**

- 1. किसान क्रेडिट कार्ड अथवा पफसल बीमा
- 2. किसानों की आर्थिक सुरक्षा हेतु
- 9. (i) अधिक उत्पादन
- (ii) उन्नत बीजों का उपयोग
- (iii) धीरे धीरे भूमि बंजर हो रही है।
- 1. नीचे दिए गए अनुच्छेद को पढ़िए एवं पूछे गए प्रश्नों के उत्तर दीजिए।
- विद्यार्थी अनुच्छेद को पढ़कर स्वयं हल करेंगे।



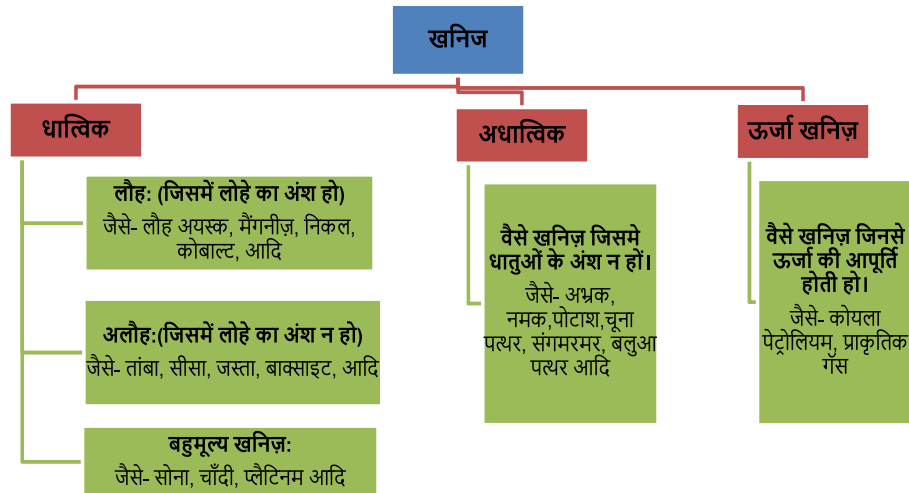
## अध्याय - 5 खनिज तथा ऊर्जा संसाधन

### स्मरणीय तथ्य:-

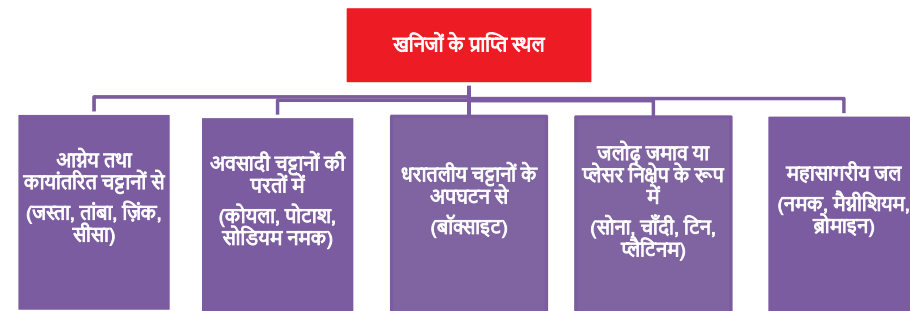
**खनिज**- प्राकृतिक रूप से विद्यमान समरूप तत्व जिसकी एक निश्चित संरचना होती है।

**अयस्क**- प्राकृतिक रूप से पाए जाने वाले जैसे शैल जिनसे पर्याप्त मात्रा में खनिज लाभपूर्वक प्राप्त किए जा सकते हैं।

### खनिजों का वर्गीकरण: -

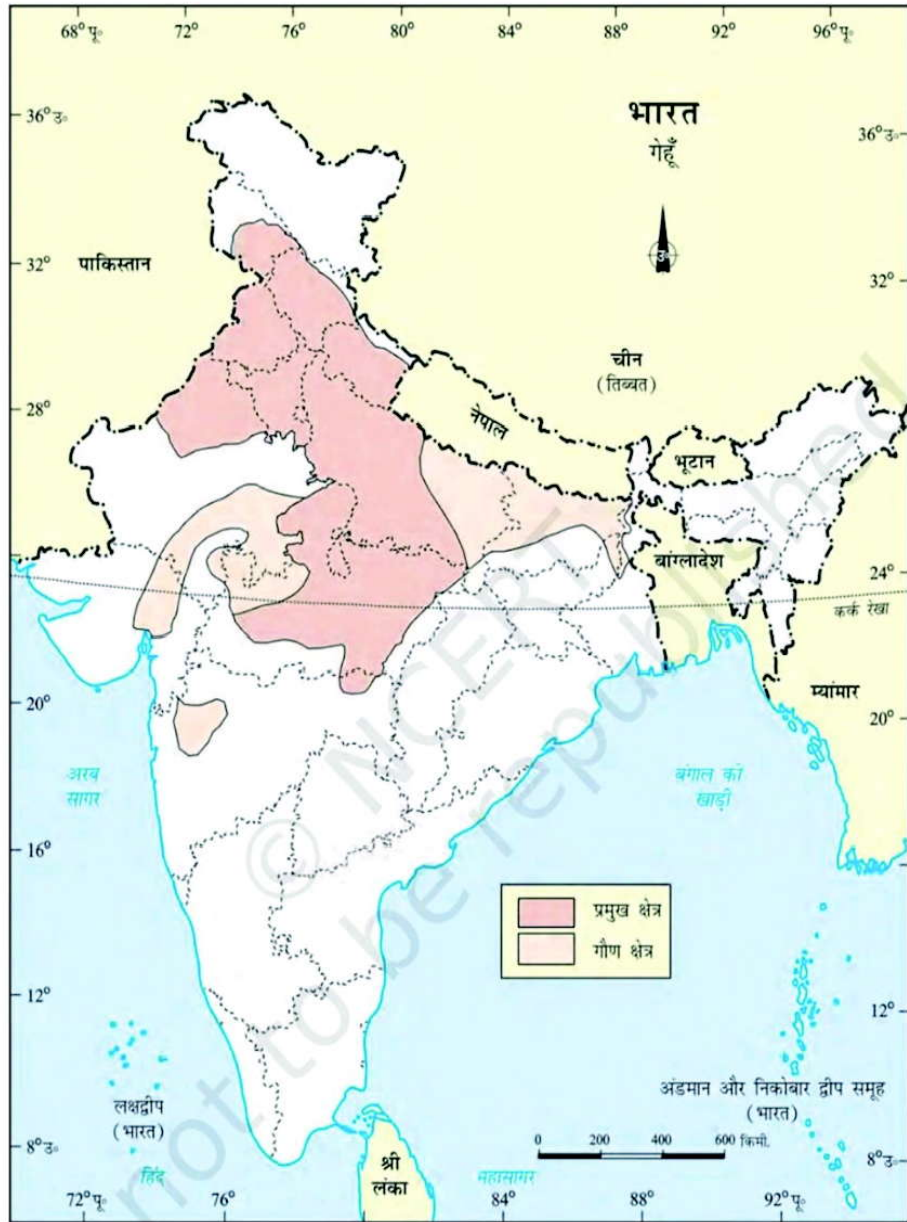


### खनिजों के प्राप्ति स्थल: -





भारत - चावल का वितरण



भारत - गेहूँ का वितरण

- **खनन**— पृथ्वी के गर्भ से धातुओं, अयस्कों तथा अन्य उपयोगी खनिजों को बाहर निकालना खनन कहलाता है
- यह एक जोखिम वाला उद्योग है क्योंकि इसमें संसधानों को बाहर निकालने के लिए पृथ्वी के अंदर सुरंग बनाकर जाना पड़ता है। इस दौरान खानों में जहरीली गैसों के रिसाव, आग लगना, खदान में पानी भरने या खदान की छत के धँसने के कारण जान माल के हानी की आशंका बनी रहती है। इसके अलावा यहाँ काम करने वाले लोगों को स्वास्थ्य संबंधी समस्याओं का भी सामना करना पड़ता है।

क्र.स.	खनिज	प्रमुख उत्पादक राज्य	उपयोग
1.	लोहा	ओडिशा (52%) छत्तीसगढ़ (16%) कर्नाटक (14%) झारखंड (11%) 1. ओडिशा—झारखंड पेटी 2. दुर्ग—बस्तर—चंद्रपुर पेटी 3. बल्लारि—घिन्नगुप्त, चिकमगतरू— तुमकुह देही 4. महाराष्ट्र—गोवा पेटी	1. आधारभूत खनिज 2. विकास की रीढ़ 3. मेग्नेटाइट अयस्क (70% लोहरा) सर्वोत्तम चुम्बकीय गुण, विद्युत उद्योग में उपयोग 4. हेमटाइट अयस्क (50-60% लोहाश) सबसे महत्वपूर्ण औद्योगिक लौह अयस्क।
2.	मैगनीज	मध्य प्रदेश (27%), महाराष्ट्र (25%), ओडिशा (25%), कर्नाटक (11%), आंध्र प्रदेश (10%)	1. इस्पात निर्माण में प्रयोग 2. ब्लीचिंग पाउडर, कीटनाशक दवाइयाँ, व पेट बनाने में प्रयोग
3.	तांबा	मध्य प्रदेश (बालघाट), झारखंड (सिघमूस), राजस्थान (खेतड़ी)	1. धातवर्ध तन्त्र और ताप सुचालक होने के कारण बिजली के तार बनाने में 2. इलेक्ट्रॉनिक्स व रसायन उद्योग में
4.	एलुमिनियम	ओडिशा (49%), गुजरात (24%), झारखंड (9%), छत्तीसगढ़ (8%) सुचालक	1. अयस्क बाक्साइट 2. लोहे जैसा शक्तिशाली परंतु अत्यधिक हल्का एवं 3. अत्यधिक धातवर्ध
5.	अभ्रक	बिहार—झारखंड की कोडरमा—गया हजारीबाग पेटी, राजस्थान का अजमेर, आंध्र प्रदेश का नेल्लौर	1. सर्वोच्च परावदयुत शक्ति, उर्जा हास का निम्न गुणांक, 2. विसवाहन गुण उच्च वोल्टेज की प्रतिरोधिता के कारण विद्युत व इलेक्ट्रॉनिक उद्योग में प्रयोग
6.	चूना पत्थर	राजस्थान (21%), मध्यप्रदेश (11%), छत्तीसगढ़ (11%), कर्नाटक (10%)	1. अधिकांशतः अवसादी चट्टानों से प्राप्त 2. सीमेंट उद्योग का आधारभूत कच्चा माल 3. लौह पगलन में
<b>उर्जा खनिज</b>			
उर्जा के परंपरागत स्रोत—			
1.	कोयला	गोडवाना कोयला (आयु—200 लाख वर्ष से अधिक पश्चिम बंगाल, झारखंड, टरशिखरी कोयला (आयु—55 लाख वर्ष)— मेघालय, असम, अरुणाचल प्रदेश, नागालैंड	1. जीवाश्म ईंधन 2. लिग्नाइट कोयला का प्रयोग विद्युत उत्पादन में होता है 3. बिटुमिनस कोयला वाणिज्यिक प्रयोग में सबसे अधिक लोकप्रिय है 4. एथेमाइट कोयला सर्वोत्तम गुण वाला कठोर कोयला है।
2.	पेट्रोलियम	मुंबई हाई, गुजरात (अकेलेश्वर), असम (डिगबोर्ड, नहरकटिया, मोरन—हुगरिजन)	1. मशीनों स्नेहक और अनेक विनिर्माण उद्योगों का कच्चा माल 2. संश्लेषित वस्त्र 3. उर्वरक तथा अनेक रसायन उद्योगों में प्रयोग
3.	प्राकृतिक गैस	कृष्ण—गोदावरी नदी बेसिन, मुंबई	1. स्वच्छ उर्जा का स्रोत

		हाई-खभावत की खाड़ी, अंडमान- निकोबार	2.पेट्रो रसायन में कच्चे माल के रूप में प्रयोग, 3- वाहनों में ईंधन के रूप में 4- प्रमुख गैस पाइपलाइन (गैस पाइपलाइन की धमनी)- 1700 कि.मी हाजीरा - विजयपुर -जगदीशपुर (HVJ) जो मुंबई हाई और बेसिन को पश्चिम व उत्तर भारत के उर्वरक, विद्युत, व अन्य औद्योगिक क्षेत्रों से जोड़ती है।
4	विद्युत ऊर्जा		
	ताप विद्युत	दिल्ली (बदरपुर, इंद्रप्रस्थ), उत्तर प्रदेश (पनकी), तमिलनाडू(नेवेली) आदि।	1-इसमें कोयला, पेट्रोलियम या गैस की शक्ति (ताप से) से पानी को भाप बनाकर टरबाइन चलाया जाता है जिससे विद्युत ऊर्जा उत्पन्न होती है। 2-विद्युत ऊर्जा के सभी उपयोग
	जल विद्युत	भाखरा नांगल, दामोदर घाटी परियोजना, कोपिली हाइडल परियोजना	1-इसमें नदियों के ऊपर बाँध बनाकर ऊर्जा से गिरते हुए। पानी की शक्ति से टरबाइन चलकर विद्युत ऊर्जा उत्पन्न की जाती है। 2- विद्युत ऊर्जा के सभी उपयोग

ऊर्जा के गैर परंपरागत स्रोत

1	1. आणविक ऊर्जा	उत्तर प्रदेश(नरोरा), गुजरात काकरापार), महाराष्ट्र (तारापुर), कर्नाटक (कैगा), तमिलनाडू (कलपक्कम)	1-इसमें यूरेनियम या थोरियम जैसे पदार्थों के अणुओं की संरचना को रसायनिक रूप से बदल कर उच्च मात्र में ऊष्मा प्राप्त की जाती है जिससे टरबाइन को चलकर विद्युत ऊर्जा उत्पन्न की जाती है।
2	सौर ऊर्जा		1-फोटोवोल्टाइक प्रौद्योगिकी के द्वारा सूर्य की किरणों को विद्युत में परिवर्तित किया जाता है। 2- ऊर्जा का स्वच्छ साधन, 3- विद्युत ऊर्जा के सभी उपयोग
3	पवन ऊर्जा	तमिलनाडु (नागरकोइल से मदुरै राजस्थान (जैसलमेर), आंध्र प्रदेश, कर्नाटक, गुजरात, केरल, लक्षद्वीप	1-पवन की शक्ति से पवनचक्की को चलाकर जिससे टरबाइन जुड़े हुए होते हैं विद्युत ऊर्जा उत्पन्न की जाती है। 2-ऊर्जा का स्वच्छ साधन 3- विद्युत ऊर्जा के सभी उपयोग
4	बायो गैस		1-जैविक पदार्थों के अपघटन के द्वारा गैस उत्पन्न की जाती है जिसकी तापीय क्षमता उपर्ला, चारकोल या मिट्टी के तेल से अधिक होती है, 2- ग्रामीण क्षेत्रों के लिए एक तरदान 3-इसके अपशिष्ट पदार्थों का उपयोग उर्वरक के रूप 4- गैस लैम्प के द्वारा रोशनी के रूप में
5	ज्वारीय ऊर्जा	खंभात की खाड़ी, कच्छ की खाड़ी, पश्चिम बंगाल के सुंदरवन डेल्टा के क्षेत्र,	1- महासागरीय तरंगों का उपयोग विद्युत उत्पादन में, 2- ऊर्जा का स्वच्छ साधन, 3-विद्युत ऊर्जा के सभी उपयोग
6	भूतापीय ऊर्जा	हिमाचल प्रदेश (मणिकरण), लद्दाख (पुगा घाटी)	1. पृथ्वी के आंतरिक भाग के ताप का प्रयोग कर विद्युत उत्पादन 2- ऊर्जा का स्वच्छ साधन, 3- विद्युत ऊर्जा के सभी उपयोग

### संसाधनों/ खनिजों के संरक्षण की आवश्यकता-

- उपभोग की अत्यधिक दर
- सीमित भंडार
- पुनर्भरण की निम्न दर
- पर्यावरण पर दुष्प्रभाव

### संसाधनों / खनिजों के संरक्षण की विधियाँ

- कम उपयोग करना
- पुनः उपभोग करना
- पुनर्चक्रण
- स्थापन्न (एक के स्थान पर दूसरा) का प्रयोग

### रोचक तथ्य:-

<p><b>कुद्रेमुख-</b> कन्नड भाषा में कुदरे शब्द का अर्थ होता है 'घोड़ा'। कर्नाटक के पश्चिमी घाट की सबसे ऊंची चोटी के मुख से मिलती जुलती है।</p> <p>इसी तरह छत्तीसगढ़ स्थित 'बेलाडीला' की पहाड़ियाँ बैल के डील (हम्प) से मिलती-जुलती है जिसके कारण इसका यह नाम पड़ा।</p>	<p><b>रैट होल खनन:</b> भारत के उत्तर पूर्व के जोवाई और चेरापूँजी में कोयला खनन परिवार के सदस्य द्वारा एक लंबी संकीर्ण सुरंग के रूप में किया जाता है, तो इसे नेशनल ग्रीन ट्रिव्यूनल ने अवैध घोषित कर दिया है।</p>	<p>एलुमिनियम की खोज के बाद सम्राट <b>नेपोलियन तृतीय</b> अपने कपड़े पर एलुमिलियम के बने हुए हुक व बटन पहनता था तथा खास मेहमानों को एलुमिनियम से बने बर्तनों में खाना खिलाता था, जबकि तीस वर्ष बाद पेरिस में भिखारियों के पास एलुमिनियम के बर्तन एक आम बात थी।</p>
--	--	--

**खनिज एवं ऊर्जा संसाधन**  
**वस्तुनिष्ठ प्रश्न (1 अंक वाले प्रश्न)**

1. निम्नलिखित में से कौन-सा खनिज अपक्षयित पदार्थ के अवशिष्ट भार को त्यागता हुआ चट्टानों के अपघटन से बनता है ?  
 (a) कोयला (b) बॉक्साइट  
 (c) सोना (d) जिंक
2. निम्नलिखित में से किस खनिज का सर्वाधिक उत्पादन झारखण्ड में अवस्थित कोडरमा जिले में होता है ?  
 (a) बॉक्साइट (b) अभक  
 (c) लौह अयस्क (d) ताँबा
3. मिलान कीजिए।  

स्तंभ क	स्तंभ ख
A. कोयला खाने	i. कलपक्कम
B. तेल क्षेत्र	ii. रामागुडम
C. आणविक ऊर्जा	iii. मुंबई हाई
D. तापीय ऊर्जा	iv. बोकारो

 (a) A-I, B-II, C-III, D-IV (b) A-II, B-I, C-IV, D-III  
 (c) A-IV, B-III, C-I, D-II (d) A-III, B-II, C-I, D-IV
4. निम्नलिखित में कौन-सा ऊर्जा का गैर परंपरागत स्रोत है ?  

1. ज्वारीय ऊर्जा	2. पवन ऊर्जा
3. सौर ऊर्जा	4. जैविक ऊर्जा

 (a) केवल 1 (b) केवल 1 व 2  
 (c) केवल 3 (d) सभी 1, 2, 3 एवं 4
5. निम्नलिखित में से सही कथन की पहचान कीजिए।  
 1. प्राकृतिक गैस एक महत्वपूर्ण स्वच्छ ऊर्जा संसाधन है जो पेट्रोलियम के साथ अथवा अलग भी पाई जाती है।

2. कार्बनडाई ऑक्साइड के कम उत्सर्जन के कारण प्राकृतिक गैस को पर्यावरण- अनुवृफल माना जाता है।
3. कृष्णा-गोदावरी नदी बेसिन में प्राकृतिक गैस के विशाल भंडार खोजे गए हैं।
  - (a) केवल 1
  - (b) केवल 1 व 2
  - (c) केवल 3
  - (d) सभी कथन सत्य है।
6. निम्नलिखित चट्टानों में से किस चट्टान के स्तरों में खनिजों का निक्षेपण और संचयन होता है ?
  - (a) तलछटी चट्टानें
  - (b) कायांतरित चट्टानें
  - (c) आग्नेय चट्टानें
  - (d) इनमें से कोई नहीं।
7. मोनाजाइट रेत में निम्नलिखित में से कौन-सा खनिज पाया जाता है ?
  - (a) खनिज तेल
  - (b) यूरेनियम
  - (c) थोरियम
  - (d) कोयला
8. निम्नलिखित जानकारी के आधार पर खनिज की पहचान कीजिए।
  1. भारत में ऊर्जा का दूसरा प्रमुख संसाधन
  2. भारत में कुल उत्पादन 63 प्रतिशत मुंबई हाई से।
  3. भारत में सबसे पुराना उत्पादक राज्य असम है।
  4. ऊर्जा का अनवीकरणीय संसाधन
  - (a) पेट्रोलियम
  - (b) कोयला
  - (c) पवन ऊर्जा
  - (d) प्राकृतिक गैस
9. निम्नलिखित में से कौन सा कोयला सर्वोत्तम गुण वाला कठोर कोयला है ?
  - (a) बिटुमिनस
  - (b) एन्त्रसाइट
  - (c) लिग्नाइट
  - (d) इनमें से कोई नहीं।
10. गलत मिलान की पहचान कीजिए।
  - (a) धात्विक खनिज-निकल
  - (b) धात्विक खनिज-कोबाल्ट
  - (c) धात्विक खनिज-पोटाश
  - (d) धात्विक खनिज-प्लेटिनम



प्रश्न संख्या 11 से 15 तक संकल्पना एवं कारण आधारित प्रश्न हैं जिनके लिए निम्नलिखित विकल्पों का चयन कीजिए।

### विकल्प

- A. संकल्पना (स) एवं कारण (क) दोनों सही हैं एवं कारण संकल्पना की सही व्याख्या है।
- B. संकल्पना (स) सही है एवं कारण (क) गलत है।
- C. संकल्पना (स) एवं कारण (क) दोनों सही हैं परन्तु कारण, संकल्पना की सही व्याख्या नहीं है।
- D. संकल्पना (स) गलत है परन्तु कारण (क) सही है।
11. संकल्पना (स) एक खनिज विशेष जो निश्चित तत्त्वों का योग है, उन तत्त्वों का निर्माण उस समय के भौतिक व रासायनिक परिस्थितियों का परिणाम है।  
कारण(क) खनिजों में विविध रंग, कठोरता, चमक, घनत्व तथा विविध क्रिस्टल पाए जाते हैं।
12. संकल्पना (स) मैग्नेटाइट सर्वोत्तम प्रकार का लौह अयस्क है।  
कारण (क) मैग्नेटाइट में सर्वश्रेष्ठ चुंबकीय गुण होते हैं, जो विद्युत उद्योगों में विशेष रूप से उपयोगी हैं।
13. संकल्पना (स) तांबे का प्रयोग बिजली के तार बनाने में किया जाता है।  
कारण (क) तांबा विद्युत का कुचालक है।
14. संकल्पना (स) सौर ऊर्जा परंपरागत ऊर्जा का एक उदाहरण है।  
कारण (क) सौर ऊर्जा स्वच्छ ऊर्जा का उदाहरण है।
15. संकल्पना (स) सोना, चांदी प्लेसर निक्षेप के रूप में प्राप्त होता है।  
कारण (क) ये कम क्रियाशील धातु हैं।

### उत्तरमाला

1. A. कोयला
2. B. अभ्रक
3. C. A-IV, B-III, C-I, D-II

4. D. सभी 1,2,3 एवं 4
5. D. सभी कथन सत्य है।
6. A. तलछटी चट्टानें
7. A. कोयला
8. A. पेट्रोलियम
9. B. एन्थ्रेससाइट
10. C. धात्विक खनिज-पोटाश
11. A. संकल्पना (स) एवं कारण (क) दोनों सही हैं एवं कारण, संकल्पना की सही व्याख्या है।
12. B. संकल्पना (स) एवं कारण (क) दोनों सही हैं परन्तु कारण, संकल्पना की सही व्याख्या नहीं है।
13. C. संकल्पना (स) सही है एवं कारण (क) गलत है।
14. D. संकल्पना (स) गलत है परन्तु कारण (क) सही है।
15. A. संकल्पना (स) एवं कारण (क) दोनों सही हैं एवं कारण, संकल्पना की सही व्याख्या है।

### लघु / दीर्घ प्रश्न (2.3 एवं 5 अंक वाले प्रश्न)

- प्र.1 खनिज हमारे लिए किस प्रकार उपयोगी है? उदाहरण देकर समाझिए।
- प्र.2 आग्नेय तथा कायांतरित चट्टानों में खनिजों का निर्माण किस प्रकार होता है?
- प्र.3 लीह और अलौह खनिजों में अंतर स्पष्ट कीजिए।
- प्र.4 ताप विद्युत और जलविद्युत ऊर्जा में क्या अंतर है।
- प्र.5 खनिजों का संरक्षण आवश्यक है। कथन का औचित्य सिद्ध कीजिए।
- प्र.6 खनिजों के संरक्षण की विभिन्न विधियों के बारे में संक्षेप लिखिए।
- प्र.7 भारत में कोयला भंडारण के वितरण पर एक संक्षिप्त नोट तैयार कीजिए।

- प्र.8 उत्कर्ष लौह खनिज के वितरण की प्रमुख पेटियों का अध्ययन करना चाहता है। उसकी सहायता के लिए संक्षिप्त नोट तैयार कीजिए।
- प्र.9 विकास का मानना है कि सौर ऊर्जा का भविष्य उज्ज्वल है जबकि सुमित का मानना है कि सौर ऊर्जा भारत के लिए उचित नहीं है। आप किससे सहमत है एवं क्यों ?
- प्र.10 खनन उद्योग एक खतरें वाला उद्योग है। कथन की पुष्टि कीजिए।
- प्र.11 किस गैस पाइपलाइन को गैस यातायात की घमनी कहा जाता है और क्यों ?
- प्र.12 “बायोगैस ग्रामीण क्षेत्रों के लिए वरदान है।” कथन की व्याख्या कीजिए।

### उत्तरमाला लघु/दीर्घ प्रश्न

1. स्मरणीय तथ्यों को देखें।
2. आग्नेय और कायांतरित चट्टानों में खनिज दरारों, जोड़ों, भ्रंशों व विदरों में मिलत है। छोटे जमाव शिराओं के रूप में और बृहत् जमाव परत के रूप में पाए जाते है। इनका निर्माण भी अधिकतर उस समय होता है जब ये तरल अथवा गैसीय अवस्था में दरारों के सहारे भू-पृष्ठ की ओर धकेल जाते है ऊपर आते हुए ये ठंडे होकर जम जाते हैं। मुख्य धत्विक खनिज जैसे जस्ता, तांबा, जिंक और सीसा आदि इसी तरह शिराओं व जमाओं के रूप में प्राप्त होते है।
3. स्मरणीय तथ्यों को देखें।
4. स्मरणीय तथ्यों को देखें।
5. स्मरणीय तथ्यों को देखें।
6. स्मरणीय तथ्यों को देखें।
7. स्मरणीय तथ्यों को देखें।
8. स्मरणीय तथ्यों को देखें।
9. स्मरणीय तथ्यों को देखें।
10. स्मरणीय तथ्यों को देखें।

11. स्मरणीय तथ्यों को देखें।
12. स्मरणीय तथ्यों को देखें।

### स्त्रोत आधारित प्रश्न (4 अंक)

1. नीचे दिए गए अनुच्छेद को पढ़िए एवं पूछे गए प्रश्नों के उत्तर दीजिए।

हम अपनी रोजमर्रा की जिंदगी में धातु से बनी विभिन्न वस्तुओं का प्रयोग करते हैं। हमने पढ़ा है कि भू-पर्पटी (पृथ्वी की ऊपरी परत) विभिन्न खनिजों के योग से बनी चट्टानों से निर्मित है। इन खनिजों का उपयुक्त शोधन करके ही ये धातुएँ निकाली जाती हैं। खनिज हमारे जीवन के अति अनिवार्य भाग हैं। लगभग हर चीज जो हम इस्तेमाल करते हैं एक छोटी सूई से लेकर एक बड़ी इमारत तक या फिर एक बड़ा जहाज आदि सभी खनिजों से बने हैं।

- A. खनिजों ने मनुष्य के विकास की अवस्थाओं पर किस प्रकार प्रभावित किया है ?
- B. धरती से प्राप्त किन्हीं दो ऊर्जा के साधनों के नाम लिखिए।
- C. अपने दैनिक जीवन में खनिजों के कोई दो उपयोग लिखिए।

2. नीचे दिए गए अनुच्छेद को पढ़िए एवं पूछे गए प्रश्नों के उत्तर दीजिए।

प्राकृतिक गैस एक महत्वपूर्ण स्वच्छ ऊर्जा संसाधन है जो पेट्रोलियम के साथ अथवा अलग भी पाई जाती है। इसे ऊर्जा के एक साधन के रूप में तथा पेट्रो रासायन उद्योग के एक औद्योगिक कच्चे माल के रूप में प्रयोग किया जाता है। कार्बनडाई ऑक्साइड के कम उत्सर्जन के कारण प्राकृतिक गैस को पर्यावरण-अनुवृफल माना जाता है। इसलिए यह वर्तमान शताब्दी का ईंधन है। कृष्णा-गोदावरी नदी बेसिन में प्राकृतिक गैस के विशाल भंडार खोजे गए हैं।

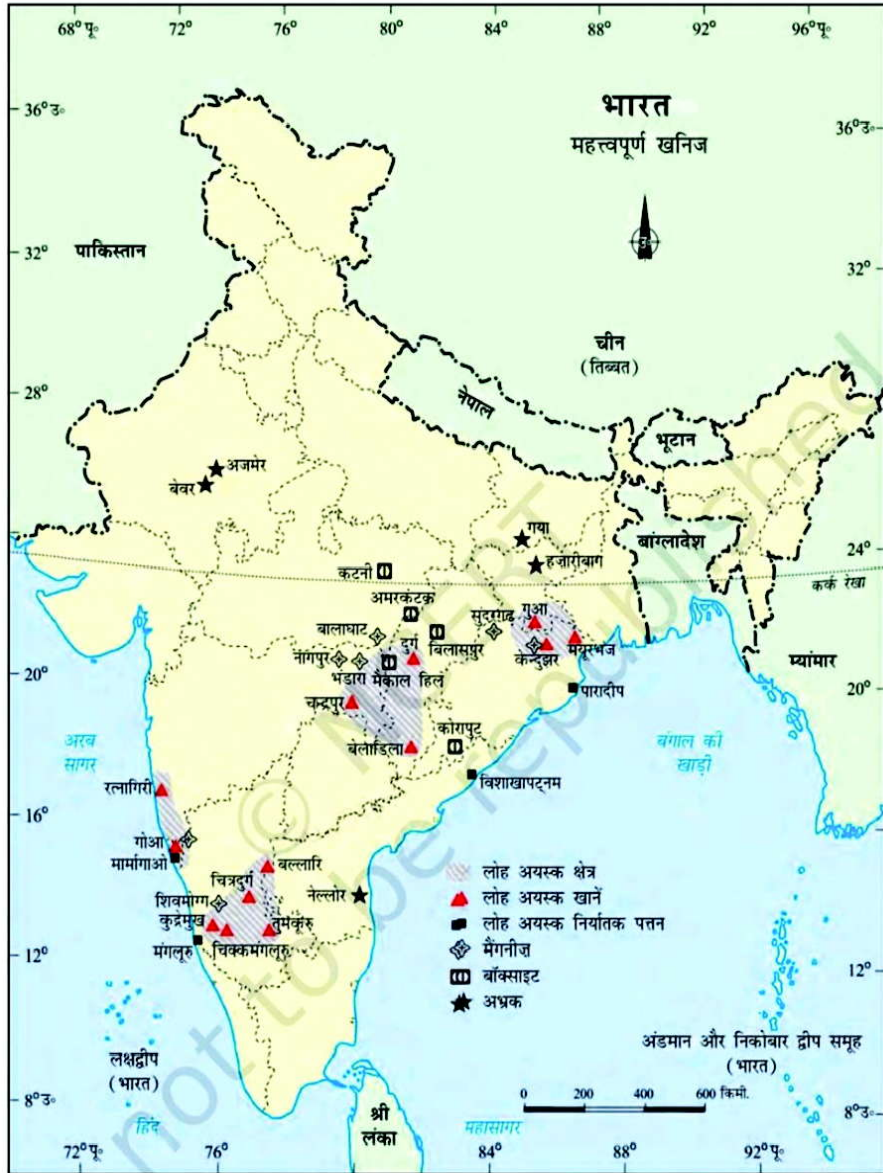
- A. ऊर्जा के किसी एक अनवीकरणीय संसाधन का नाम बताइए।
- B. भारत में प्राकृतिक गैस के भंडार कहा पाए जाते हैं ?

C. ऊर्जा के स्वच्छ संसाधनों की आवश्यकता क्यों है ? कोई दो कारण बताइए।

**उत्तरमाला स्रोत आधारित प्रश्न**

1. नीचे दिए गए अनुच्छेद को पढ़िए एवं पूछे गए प्रश्नों के उत्तर दीजिए।
  2. मनुष्यों की आवश्यकताओं को पूरा करके।
  3. कोयला, पेट्रोलियम अथवा कोई अन्य
  4. (i) दंतमंजन  
(ii) ऊर्जा के विभिन्न स्रोत  
(iii) भवन निर्माण आदि।
2. नीचे दिए गए अनुच्छेद को पढ़िए एवं पूछे गए प्रश्नों के उत्तर दीजिए।

विद्यार्थी अनुच्छेद को पढ़कर स्वयं हल करेंगे।



भारत - महत्त्वपूर्ण खनिजों का वितरण



भारत - परंपरागत ऊर्जा स्रोत

Map is not on scale



भारत - ऊर्जा संयंत्र

Map is not on scale



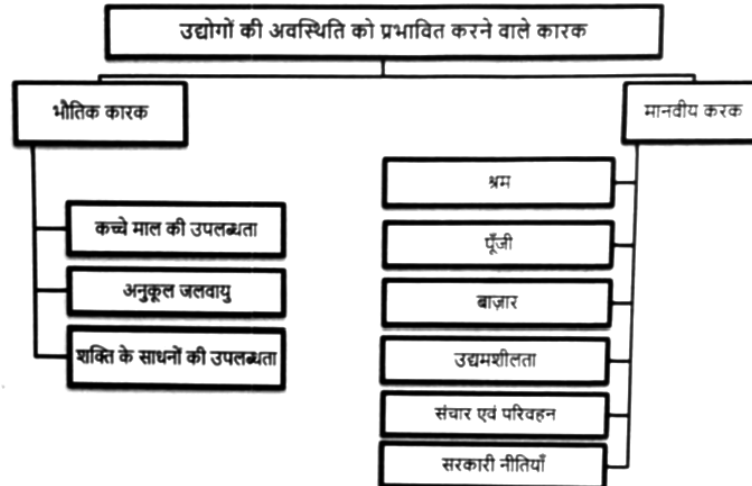
## अध्याय - 6 विनिर्माण उद्योग

### स्मरणीय तथ्य

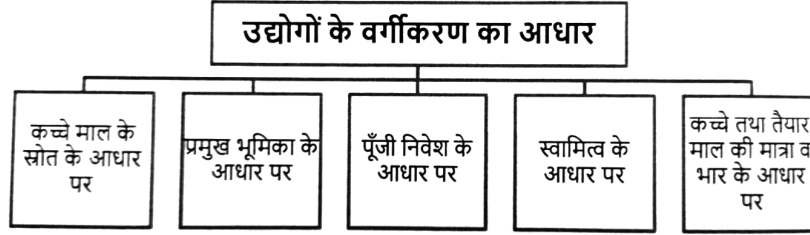
- कच्चे पदार्थ को मूल्यवान उत्पाद में परिवर्तित कर अधिक मात्र में वस्तुओं के उत्पादन को विनिर्माण कहा जाता है।
- विनिर्माण का महत्व:



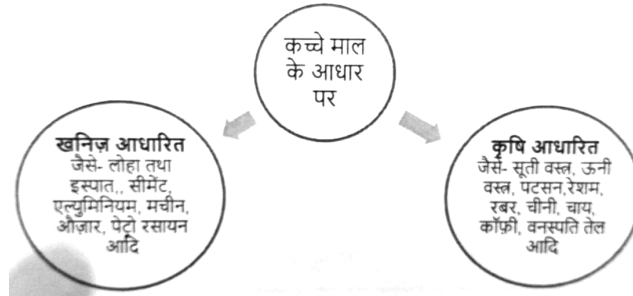
- उद्योगों की अवस्थिति को प्रभावित करने वाले कारक—



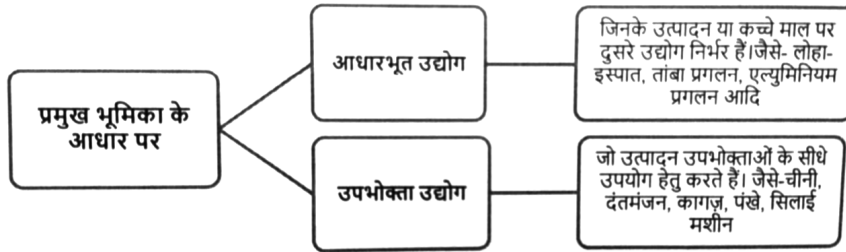
- उद्योगों का वर्गीकरण निम्न आधारों पर किया जा सकता है-



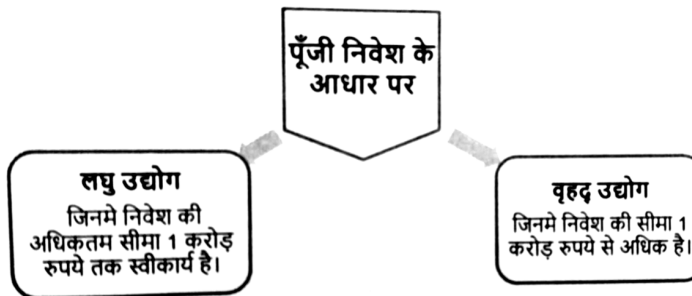
- कच्चे माल के आधार पर:



- प्रमुख भूमिका के आधार पर:



- पूँजी निवेश के आधार पर:



- स्वामित्व के आधार पर:



- कच्चे एवं तैयार माल की मात्रा व भार के आधार पर:



### लोहा तथा इस्पात उद्योग:

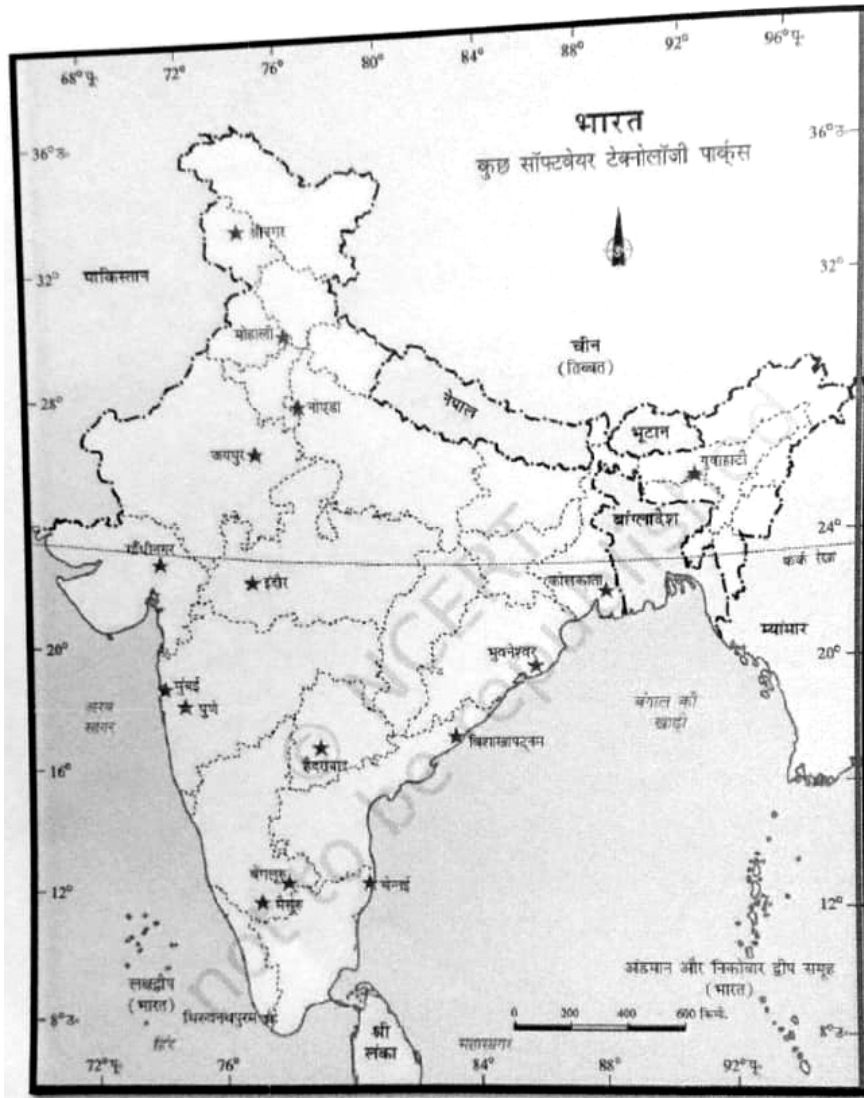
- यह एक आधारभूत उद्योग है क्योंकि अन्य सभी भारी, हल्के एवं मध्यम उद्योग इससे बनी मशीनरी पर निर्भर है।
- इस्पात के उत्पादन तथा खपत को प्रायः एक देश के विकास का पैमाना माना जाता है।
- इसके लिए लौह-अयस्क, कोकिंग कोल तथा चूना पत्थर का अनुपात 4:2:1 का होता है।
- इस्पात को कठोर बनाने के लिए इसमें मैंगनीज की कुछ मात्रा भी आवश्यकता होती है।
- मुख्य क्षेत्र—

- झारखंड-बोकारो, जमशेदपुर
- पश्चिम बंगाल - बर्गपुर, दुर्गापुर
- ओडिशा-राउरकेला
- छत्तीसगढ़-भिलाई
- आंध्रप्रदेश-विशाखपट्टनम
- कर्नाटक-विजयनगर, भद्रावती
- कर्नाटक-विजयनगर, भद्रावती
- तमिलनाडु-सेलम

### सीमेंट उद्योग

- घर, कारखाने, पुल, सड़क, बाँध तथा अन्य प्रतिष्ठानों के निर्माण में सीमेंट की आवश्यकता होती है।
- इसके निर्माण के लिए चूना पत्थर, सिलिका और जिप्सम की आवश्यकता होती है।
- परिवहन के साधन के अतिरिक्त इसमें कोयला तथा विद्युत ऊर्जा भी आवश्यक है।
- मुख्य क्षेत्र-अधिकांश इकाइयाँ गुजरात में लगाई गई है क्योंकि यहाँ से इसे खाड़ी देशों के बाजार की उपलब्धता है।





**बहुविकल्पीय प्रश्न:**

1. निम्नलिखित में से कौन सा उद्योग कृषि आधारित उद्योग है ?  
(a) लोहा तथा इस्पात उद्योग (b) सीमेंट उद्योग  
(c) चीनी उद्योग (d) मोटरगाड़ी उद्योग
2. निम्नलिखित में से कौन-सा एल्युमिनियम प्रगलन में कच्चे माल के रूप में प्रयोग किया जाता है ?  
(a) बॉक्साइट (b) लोहा  
(c) चूना पत्थर (b) तांबा
3. कृत्रिम रबर उद्योग सम्बंधित है-  
(a) कृषि आधारित उद्योग से (b) रसायन उद्योग से  
(c) सीमेंट उद्योग से (d) उर्वरक उद्योग से
4. निम्नलिखित में से कौन सा भारत की इलेक्ट्रॉनिक राजधानी के रूप में उभरा है ?  
(a) ईटानगर (b) सूरत  
(c) रामेश्वरम (d) बेंगलुरु
5. निम्नलिखित में से कौन सा उद्योग दूरभाष कंप्यूटर आदि संयंत्र का निर्माण करते हैं ?  
(a) लोहा तथा इस्पात उद्योग  
(b) सूचना प्रौद्योगिकी तथा इलेक्ट्रॉनिक उद्योग  
(c) एल्युमिनियम प्रगलन  
(d) सीमेंट उद्योग
6. दुर्गापुर लोहा तथा इस्पात संयंत्र किस राज्य में स्थित है ?  
(a) बिहार (b) पश्चिम बंगाल  
(c) झारखंड (d) कर्नाटक
7. केरल का नारियल उद्योग उदाहरण है-  
(a) सार्वजनिक क्षेत्र के उद्योग का  
(b) निजी क्षेत्र के उद्योग का  
(c) संयुक्त क्षेत्र के उद्योग का  
(d) सहकारी क्षेत्र के उद्योग का

8. भारत में पहला सफल सूती वस्त्रा उद्योग की स्थापना 1854 में कहाँ की गई ?
- (a) मुंबई (b) दिल्ली  
(c) कोलकाता (d) चेन्नई
9. नीचे दो कथन, संकल्पना (स) एवं कारण (क) दिए गए हैं। इन कथनों को पढ़कर नीचे दिए गए विकल्पों में से सही उत्तर चुनिए—  
**संकल्पना (स):** सीमेंट उद्योग की इकाइयाँ मुख्य रूप से गुजरात में लगाई गयी है।  
**कारण (क):** यहाँ से इसे खाड़ी देशों के बाजार की उपलब्धता है।
- A. कथन एवं कारण दोनों सत्य हैं एवं कारण कथन की सही व्याख्या करता है।  
B. कथन एवं कारण दोनों सत्य है परंतु कारण, कथन की सही व्याख्या नहीं करता है।  
C. कथन सही है परन्तु कारण गलत है।  
D. कारण सही है परंतु कथन गलत है।
10. नीचे दो कथन, संकल्पना (स) एवं कारण (क) दिए गए हैं। इन कथनों को पढ़कर नीचे दिए गए विकल्पों में से सही उत्तर चुनिए—  
**संकल्पना (स):** लोहा तथा इस्पात उद्योग एक आधारभूत उद्योग है।  
**कारण (क):** अन्य सभी भारी हल्के एवं मध्यम उद्योग इससे बनी मशीनरी पर निर्भर है।
- A. कथन एवं कारण दोनों सत्य है एवं कारण कथन की सही व्याख्या करता है।  
B. कथन एवं कारण दोनों सत्य है परंतु कारण कथन की सही व्याख्या नहीं करता है।  
C. कथन सही है परन्तु कारण गलत है।  
D. कारण सही है परंतु कथन गलत है।
11. नीचे दो कथन संकल्पना (स) एवं कारण (क) दिए गए हैं। इन कथनों को पढ़कर नीचे दिए गए विकल्पों में से सही उत्तर चुनिए—  
**संकल्पना (स):** पिछले कुछ वर्षों में चीनी मिलों की संख्या दक्षिणी और पश्चिमी राज्यों में विशेषकर महाराष्ट्र में बढ़ी है।



**कारण (क):** यहाँ के गन्ने में सुक्रोस की मात्रा अधिक है।

- A. कथन एवं कारण दोनों सत्य हैं एवं कारण, कथन की सही व्याख्या करता है।
- B. कथन एवं कारण दोनों सत्य है परन्तु कारण कथन की सही व्याख्या नहीं करता है।
- C. कथन सही है परन्तु कारण गलत है।
- D. कारण सही है परन्तु कथन गलत है।
12. निम्नलिखित में से कौन सा लोहा तथा इस्पात उद्योग के लिए कच्चा माल नहीं है ?
- I. लौह-अयस्क                      II. जिप्सम
- III. चूना पत्थर                      IV. मैगनीज
- (a) केवल II                      (b) केवल II, III एवं IV
- (c) केवल I, II एवं III                      (d) केवल III
13. निम्नलिखित विशेषताओं के आधार पर उद्योग की पहचान कीजिए-
- I. भारत का दूसरा सर्वाधिक महत्वपूर्ण धातुशोधन उद्योग है।
- II. यह हल्का, जग अवरोधि, उष्मा का सुचालक, लचीला होता है।
- III. इसका उपयोग बर्तन बनाने से लेकर हवाई जहाज बनाने तक में किया जाता है।
- (a) लोहा तथा इस्पात उद्योग
- (b) एल्युमिनियम प्रगलन
- (c) सूचना प्रौद्योगिकी तथा इलेक्ट्रॉनिक उद्योग
- (d) रसायन उद्योग
14. तमिलनाडु में स्थित लोहा और इस्पात संयंत्र है-
- (a) भद्रावती                      (b) राउरकेला
- (c) सेलम                      (d) भिलाई
15. स्टील अथॉरिटी ऑफ इंडिया लिमिटेड कंपनी उदाहरण है-
- (a) सार्वजनिक क्षेत्र का                      (b) निजी क्षेत्र का
- (c) संयुक्त क्षेत्र का                      (d) सहकारी क्षेत्र का

### बहुविकल्पीय प्रश्न (उत्तर);

1. C. चीनी उद्योग
2. A. बॉक्साइट
3. B. रसायन उद्योग से
4. D. बेंगलुरु
5. B. सूचना प्रौद्योगिकी तथा इलेक्ट्रॉनिक उद्योग।
6. B. पश्चिम बंगाल
7. D. सहकारी क्षेत्रा के उद्योग का
8. A. मुंबई
9. A. कथन एवं कारण दोनों सत्य है एवं कारण, कथन की सही व्याख्या करता है।
10. A. कथन एवं कारण दोनों सत्य है एवं कारण कथन की सही व्याख्या करता है।
11. A. कथन एवं कारण दोनों सत्य है एवं कारण कथन की सही व्याख्या करता है।
12. A. केवल II
13. B. एल्युमिनियम प्रगलन
14. C. सेलम
15. A. सार्वजनिक क्षेत्रा का

### अतिलघु/ लघु/ दीर्घ उत्तरीय प्रश्न:

1. विनिर्माण का क्या अर्थ है? इसका क्या महत्त्व है। वर्णन कीजिए।
2. 'विनिर्माण उद्योग आर्थिक विकास की रीढ़ समझे जाते हैं। कथन की पुष्टि कीजिए।
3. उद्योगों की अवस्थिति को प्रभावित करने वाले कारकों का वर्णन कीजिए।
4. कृषि एवं उद्योग एक दूसरे के पूरक है। कथन की समीक्षा कीजिए।
5. कच्चे माल के स्रोतों के आधार पर उद्योगों का उदाहरण सहित वर्गीकरण कीजिए।
6. सार्वजनिक एवं निजी क्षेत्रा के उद्योगों के बीच अंतर स्पष्ट कीजिए।
7. 'सूती वस्त्रा उद्योग एक कृषि आधारित उद्योग है। कथन की पुष्टि कीजिए।

8. भारत में पटसन उद्योग के हुगली तट के निकट स्थित होने के कारणों का वर्णन कीजिए।
9. आरंभिक वर्षों में सूती वस्त्रा उद्योग महाराष्ट्र तथा गुजरात के कपास उत्पादन क्षेत्रों तक ही सीमित थे। क्यों ?
10. लोहा तथा इस्पात उद्योग को आधारभूत उद्योग क्यों कहा जाता है ?
11. भारत में उदारीकरण एवं प्रत्यक्ष विदेशी निवेश ने किस प्रकार मोटरगाड़ी उद्योग में अत्यधिक वृद्धि की है ? वर्णन कीजिए।
12. सूचना प्रौद्योगिकी का किसी देश की आर्थिक विकास में योगदान की चर्चा कीजिए।
13. औद्योगिकीकरण एवं शहरीकरण साथ-साथ चलते हैं। कथन की व्याख्या कीजिए।
14. औद्योगिक इकाइयों द्वारा होने वाले विभिन्न प्रकार के प्रदूषणों की चर्चा कीजिए।
15. औद्योगिक इकाइयों द्वारा होने वाले विभिन्न प्रकार के प्रदूषणों को कम करने के विभिन्न प्रयासों का वर्णन कीजिए।

**अतिलघु/ लघु/ दीर्घ उत्तरीय प्रश्न (उत्तर):**

1. स्मरणीय तथ्यों को देखिए।
2. स्मरणीय तथ्यों को देखिए।
3. स्मरणीय तथ्यों को देखिए।
4. स्मरणीय तथ्यों को देखिए।
5. स्मरणीय तथ्यों को देखिए।
6. स्मरणीय तथ्यों को देखिए।
7. स्मरणीय तथ्यों को देखिए।
8. स्मरणीय तथ्यों को देखिए।
9. स्मरणीय तथ्यों को देखिए।
10. स्मरणीय तथ्यों को देखिए।
11. स्मरणीय तथ्यों को देखिए।
12. स्मरणीय तथ्यों को देखिए।
13. स्मरणीय तथ्यों को देखिए।
14. स्मरणीय तथ्यों को देखिए।
15. स्मरणीय तथ्यों को देखिए।

### स्त्रोत आधारित प्रश्न:

#### 1. अनुच्छेद को पढ़कर निम्नलिखित प्रश्नों के उत्तर दीजिए-

भारत पटसन व पटसन निर्मित समान का सबसे बड़ा उत्पादक है तथा बांग्लादेश के पश्चात् दूसरा बड़ा निर्यातक भी है। इनमें अधिकांश पश्चिम बंगाल में हुगली नदी तट पर एक सँकरी मेखला में स्थित है। हुगली नदी तट पर इनके स्थित होने के निम्न कारण हैं- पटसन उत्पादक क्षेत्रों की निकटता, सस्ता जल परिवहन सड़क, रेल व जल परिवहन का जाल, कच्चे माल का मिलों तक ले जाने में सहायक होना, कच्चे पटसन को संसाधित करने में प्रचुर जल पश्चिम बंगाल तथा समीपवर्ती राज्य उड़ीसा, बिहार व उत्तर प्रदेश से सस्ता श्रमिक उपलब्ध होना, कोलकाता का एक बड़े नगरीय केंद्र के रूप बैंकिंग, बीमा और जूट के सामान के निर्यात के लिए पत्तन की सुविधाएँ प्रदान करना आदि सम्मिलित है।

- (a) कौन सा देश पटसन का सबसे बड़ा निर्यातक देश है।
- (b) पटसन उत्पादन में भारत का विश्व में कौन सा स्थान है ?
- (c) पटसन उद्योग के हुगली नदी के तट पर स्थित होने के कारणों का उल्लेख कीजिए।

#### 2. अनुच्छेद को पढ़कर निम्नलिखित प्रश्नों के उत्तर दीजिए-

वायु में निर्लंबित प्रदूषण को कम करने के लिए कारखानों में ऊँची चिमनियाँ चिमनियों में एलेक्ट्रोस्टैटिक अवक्षेपण, स्क्रबर उपकरण तथा गैसीय प्रदूषक पदार्थों को जड़त्वीय रूप से पृथक करने के लिए उपकरण होना चाहिये। कारखानों में कोयले की अपेक्षा तेल व गैस के प्रयोग से धुएँ के निष्कासन में कमी लायी जा सकती है। मशीनों व उपकरणों का उपयोग किया जा सकता है तथा जेनरेटरों में साइलेंसर लगाया जा सकता है। ऐसी मशीनरी का प्रयोग किया जाए जो ऊर्जा सक्षम हों तथा कम ध्वनि प्रदूषण करे। ध्वनि अवशोषित करने वाले उपकरणों के इस्तेमाल के साथ कानों पर शोर नियंत्रण उपकरण भी पहनने चाहिये। जहाँ भूमिगत

जल का स्तर कम है, वहाँ उद्योगों द्वारा इसके अधिक निष्कासन पर कानूनी प्रतिबंध होना चाहिये। सतत् पोषणीय विकास की चुनौतियों के लिए पर्यावरणीय संचेतना से युक्त आर्थिक विकास की जरूरत है।

- (a) भूमिगत जल के संरक्षण का कोई एक उपाय बताइए ?
- (b) कारखानों में ध्वनि प्रदूषण से बचने के क्या उपाय किए जा सकते हैं ?
- (c) उद्योगों द्वारा होने वाले वायु प्रदूषण को नियंत्रित करने के किन्हीं दो उपायों का वर्णन कीजिए ?

**स्रोत आधारित प्रश्न (उत्तर):**

1. (a) बांग्लादेश  
(b) प्रथम  
(c) i. पटसन उत्पादक क्षेत्रों की निकटता।  
ii. सस्ता जल परिवहन।  
iii. पटसन को संशोधित करने के लिए प्रचुर जल  
(कोई अन्य प्रासंगिक बिंदु)
2. विद्यार्थी स्वयं हल करेंगे।



भारत - सॉफ्टवेयर टेक्नोलॉजी पार्क्स

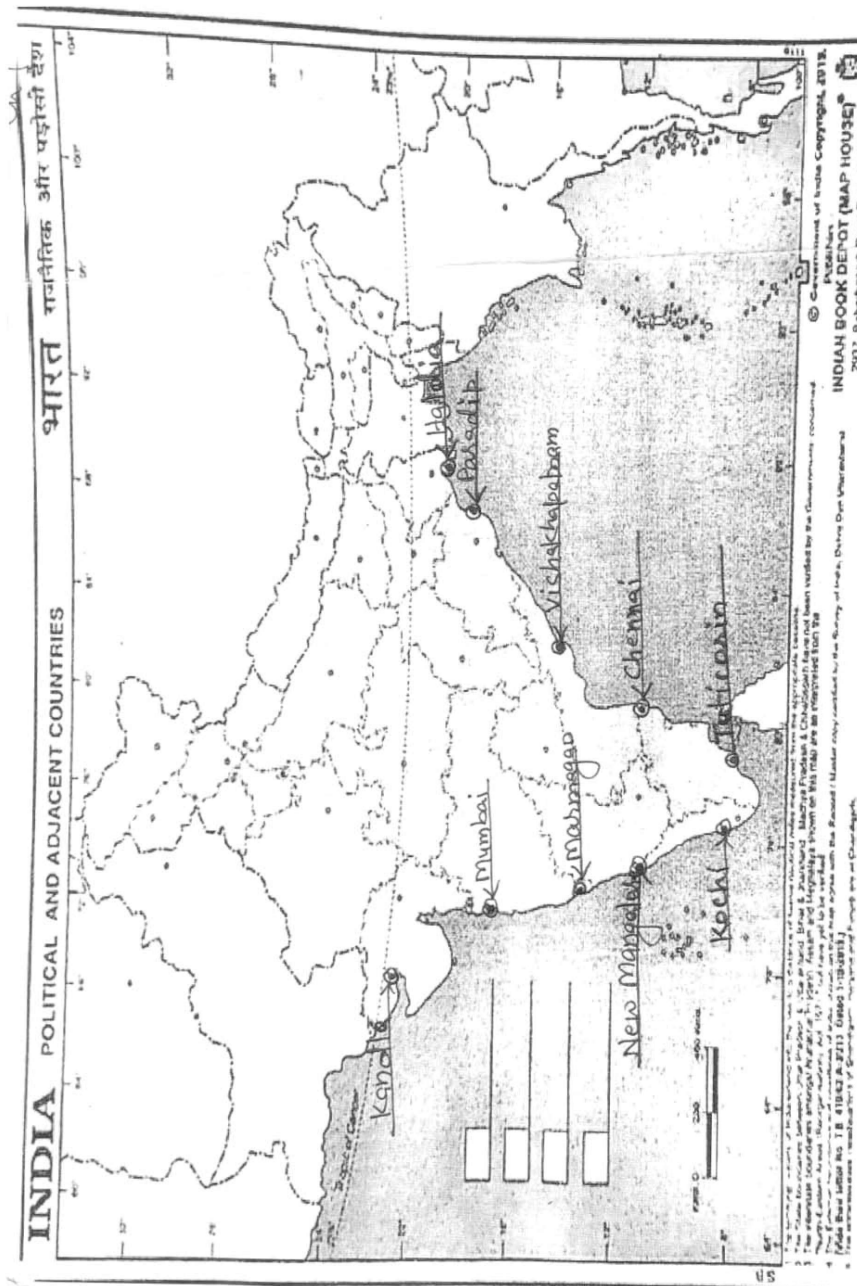
## 7. राष्ट्रीय अर्थव्यवस्था की जीवन रेखाएँ

इस अध्याय के केवल मानचित्र बिन्दुओं का मूल्यांकन वार्षिक परीक्षा में किया जाएगा।



भारत – मुख्य पत्तन और कुछ अंतर्राष्ट्रीय हवाई पत्तन

Map is not on scale



Map is Not on Scale



## राजनीति-II ( राजनीति-विज्ञान )

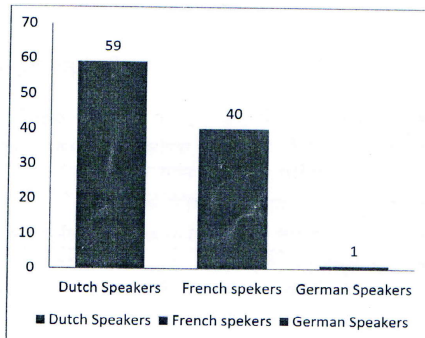
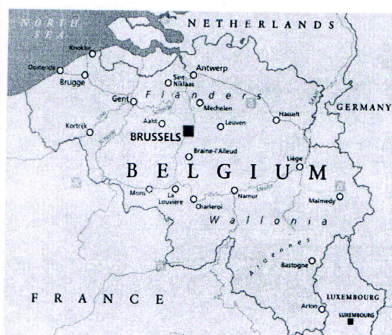
### 1. सत्ता में साझेदारी

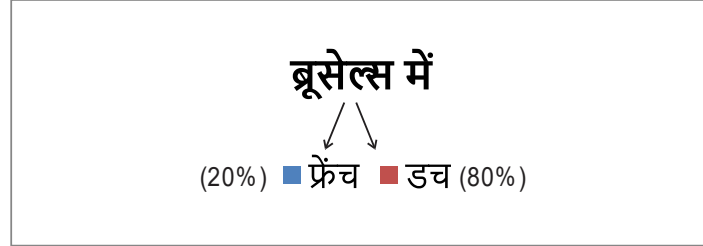
#### स्मरणीय तथ्य:

- सत्ता में बंटवारे का विचार स्वाभाविक रूप से लोकतंत्र से जुड़ा हुआ है।
- दुनिया भर के अधिकांश समाजों में धर्म, नस्ल, जाति, भाषा आदि के आधार पर विविधता है। इसलिए, समाज में मौजूद सभी विविध समूहों और विचारों को उचित सम्मान दिया जाना चाहिए।

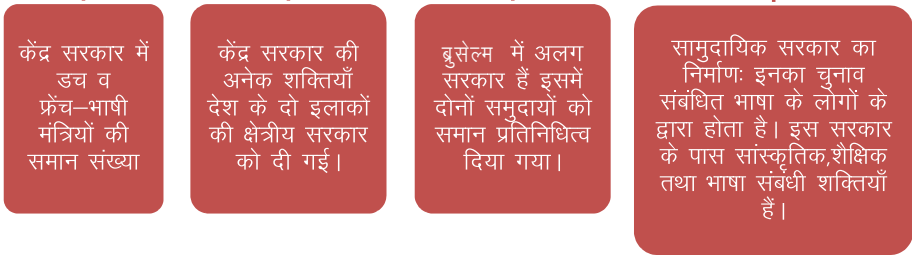
#### बेल्जियम की कहानी

- 59% आबादी फ्लेमिश क्षेत्र में रहती है और डच भाषा बोलती है। 40% लोग वेलोनिया क्षेत्र में रहते हैं और फ्रेंच भाषा बोलते हैं।
- राजधानी ब्रसेल्स में, 80% आबादी फ्रेंच भाषी हैं, जबकि 20% डच भाषी है।
- अल्पसंख्यक फ्रेंच भाषी समुदाय अपेक्षाकृत समृद्ध और शक्तिशाली रहा है।
- इसने 1950 और 1960 के दशक में दोनों समुदायों के बीच तनाव पैदा कर दिया।
- डच बोलने वाले लोग देश में बहुमत में थे, लेकिन राजधानी ब्रसेल्स में अल्पसंख्यक थे।
- 1970 और 1993 के बीच बेल्जियम ने अपने संविधान में 4 संशोधन सिर्फ इसलिए किये ताकि देश में किसी को बेगानेपन का अहसास न हो एवं सभी मिल-जुलकर रह सकें।





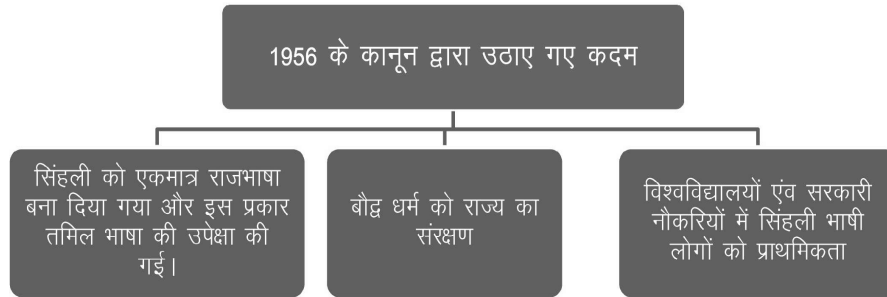
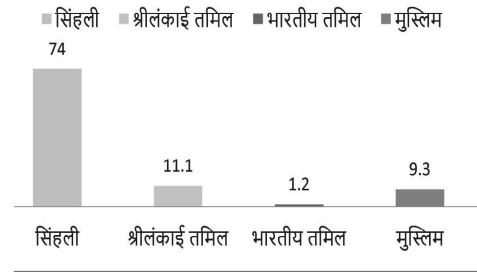
**टकराव को रोकने के लिए उठाए गए कदम**



**श्रीलंका**

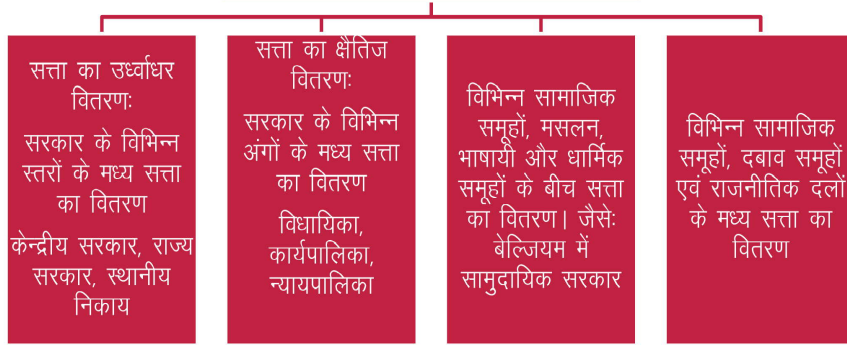
- दक्षिण एशिया क्षेत्र के अन्य देशों की तरह, श्रीलंका की आबादी में भी कई जातीय समूह के लोग हैं।
- श्रीलंका 1948 में एक स्वतंत्र देश बना।
- सिंहली समुदाय के नेताओं ने अपने बहुसंख्या के आधार पर सरकार पर प्रभुत्व स्थापित करना चाहा।
- इस वजह से, लोकतांत्रिक रूप से चुनी गई सरकार ने सिंहली सर्वोच्चता स्थापित करने के लिए बहुसंख्यकवादी उपायों की एक शृंखला को अपनाया।

## श्रीलंका के जातीय समुदाय

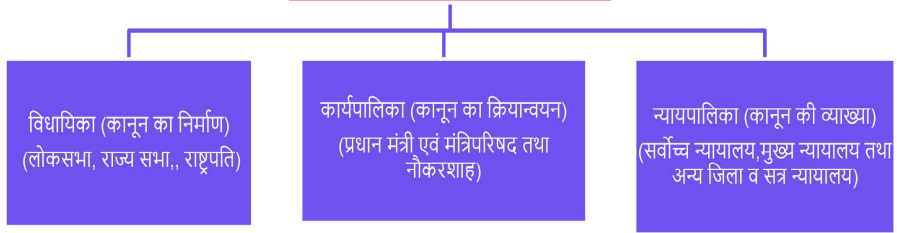


- इन सभी उपायों के एक के बाद एक लागू होने से, धीरे-धीरे श्रीलंकाई तमिलों के बीच अलगाव की भावना में वृद्धि हुई। दोनों समुदायों के बीच अविश्वास व्यापक संघर्ष में बदल गया और जल्द ही यह गृहयुद्ध में बदल गया।
- हमने बेल्जियम और श्रीलंका के उदाहरणों के माध्यम से सत्ता में साझेदारी के दो भिन्न रूपों को देखा। बेल्जियम में, संविधान में संशोधन किया गया था ताकि एक ऐसी व्यवस्था तैयार की जा सके जो हर किसी को एक ही देश के भीतर एक साथ रहने में सक्षम बनाए।
- श्रीलंका में बहुसंख्यकवाद के उपायों को अपनाया गया था जिसके कारण तमिलों के बीच अलगाव हो गया था। जिसकी परिणति गृहयुद्ध में हुई।

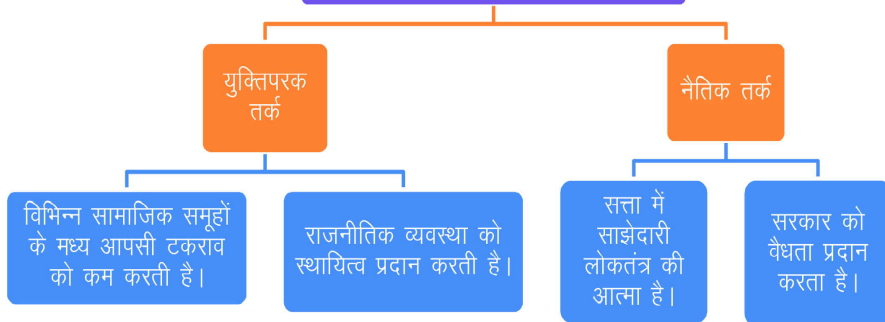
## सत्ता में साझेदारी का स्वरूप

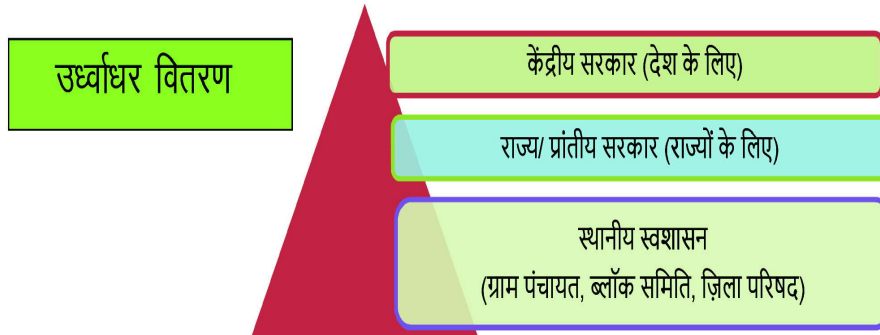


## क्षेत्रीय वितरण



## सत्ता में साझेदारी की आवश्यकता





**गृहयुद्ध:** किसी देश में सरकार विरोधी समूहों की हिंसक लड़ाई ऐसा रूप ले ले कि वह युद्ध सा लगे तो उसे गृहयुद्ध कहते हैं।

**बहुसंख्यकवाद:** यह मान्यता कि अगर कोई समुदाय बहुसंख्यक है तो वह अपने मनचाहे ढंग से देश का शासन कर सकता है और इसके लिए वह अल्पसंख्यक समुदाय की जरूरत या इच्छाओं की अवहेलना कर सकता है।

### सत्ता की साझेदारी

#### बहुविकल्पीय प्रश्न (1-10) (1 अंक वाले प्रश्न)

- अल्पसंख्यको की इच्छाओं और जरूरतों के संबंध में यह मानना कि एक समुदाय को ही किसी देश में शासन करने का हक है:
  - सत्ता की साझेदारी
  - केंद्र सरकार
  - सामुदायिक सरकार
  - बहुसंख्यकवाद
- सत्ता की साझेदारी के बारे में निम्नलिखित में से कौन से कथन सत्य हैं?
  - सत्ता सरकार के विभिन्न अंगों के बीच साझा की जाती है।
  - सत्ता को विभिन्न स्तरों पर सरकार के बीच साझा किया जा सकता है।
  - सत्ता को विभिन्न सामाजिक समूहों के बीच भी बांटा जा सकता है।
  - उपरोक्त सभी कथन सत्य हैं।

3. निम्नलिखित का मिलान कीजिए
- |                        |   |
|------------------------|---|
| (a) गठबंधन सरकार।      | (i) सरकार के प्रत्येक अंग दूसरे की जांच करते है                       |
| (b) गृह युद्ध          | (ii) दो से अधिक राजनीतिक दलों की सरकार                                |
| (c) नियंत्रण और संतुलन | (iii) शक्ति में विभिन्न सामाजिक समूहों के बीच भी साझा किया जाना चाहिए |
| (d) सामुदायिक सरकार    | (iv) विरोधी समूहों के बीच एक हिंसक संघर्ष                             |
- (a) A-ii, B-iv, C-iii, D-i      (b) A-iii, B-iv, C-ii, D-i  
(c) A-ii, B-iv, C-i, D-iii      (d) A-ii, B-iii, C-iv, D-i
4. नीचे दिए गए कथनों पर विचार कीजिए और सही उत्तर चुनिए
- कथन 1:** सत्ता के ऊर्ध्वाधर विभाजन का अर्थ विभिन्न स्तरों पर सरकारों के बीच सत्ता का बंटवारा है।
- कथन 2:** भारत में सरकार के दो स्तर हैं केंद्र सरकार और राज्य सरकार।
- (a) कथन (i) सही है और (ii) गलत है।  
(b) कथन (i) गलत है और (ii) सही है।  
(c) दोनों (i) और (ii) गलत है।  
(d) दोनों (i) और (ii) सही है।
5. निम्नलिखित विकल्पों में से उपयुक्त कथन की पहचान कर सत्ता की साझेदारी के महत्व का मूल्यांकन कीजिए
- (i) यह सामाजिक समूहों के बीच संघर्ष की संभावना को कम करने में मदद करता है।  
(ii) यह लोकतंत्र की आत्मा है

(iii) सत्ता का पृथक्करण सरकार के विभिन्न स्तरों के बीच सत्ता की साझेदारी है।

(iv) यह राजनीतिक व्यवस्था की स्थिरता सुनिश्चित करने का एक अच्छा तरीका है

**विकल्प:**

(a) कथन (i) और (ii) उपयुक्त हैं।

(b) कथन (i), (ii) और (iii) उपर्युक्त हैं।

(c) सभी कथन उपयुक्त हैं।

(d) केवल कथन (iv) उपयुक्त है।

6. श्रीलंका का राजकीय धर्म है।

(a) हिंदू धर्म (b) बौद्ध धर्म

(c) ईसाई धर्म (d) जैन धर्म

7. .... श्रीलंकाई तमिलों की मांग के अनुसार एक स्वतंत्र राज्य बना था ?

(a) सिंहली राज्य (b) तमिल ईलम

(c) बौद्ध राज्य (d) भारतीय तमिल राज्य

8. सत्ता की साझेदारी के प्रकार का वर्णन करने वाले सही विकल्प की पहचान करें।

(i) सरकार के विभिन्न अंगों के बीच सत्ता का बँटवारा।

(ii) सरकार के विभिन्न अंग विभिन्न शक्तियों का प्रयोग करते हैं।

(iii) यह जाँच और संतुलन की अवधारणा को निर्दिष्ट करता है।

(a) सामाजिक समूहों के बीच सत्ता का बंटवारा

(b) ऊर्ध्वाधर वितरण

(c) क्षैतिज वितरण

(d) राजनीतिक दलों और दबाव समूहों के बीच सत्ता का बंटवारा

9. बेल्जियम में सामुदायिक सरकार का चुनाव कौन करता है ?
- केवल एक भाषा से संबंधित लोग
  - बेल्जियम के नेता द्वारा
  - पूरे देश के नागरिक।
  - बेल्जियम के सामुदायिक नेता
10. 'एथनिक' शब्द का अर्थ है:
- विभिन्न धर्म
  - सामाजिक विभाजन
  - विपरीत समूहों के बीच हिंसक संघर्ष
  - त्वचा के रंग के आधार पर भेदभाव

#### अभिकथन/कारण (प्रश्न संख्या 11-15)

अभिकथन (A) और कारण (R) के रूप में चिह्नित दो कथन हैं। नीचे दिए गए कूटों के अनुसार अपना उत्तर दें:

- (A) और (R) दोनों सत्य हैं और (R) (A) की सही व्याख्या है
  - (A) और (R) दोनों सत्य हैं लेकिन (R), (A) की सही व्याख्या नहीं है
  - (A) सही है लेकिन (R) गलत है.
  - (A) गलत है लेकिन (R) सही है
11. **अभिकथन (A):** श्रीलंकाई तमिलों में अलगाव की भावना थी।  
**कारण (R):** श्रीलंकाई सरकार ने उन्हें समान राजनीतिक अधिकारों से वंचित कर दिया और नौकरी और अन्य अवसर प्राप्त करने में उनके साथ भेदभाव किया।
12. **अभिकथन (A):** बहुमत की निरंकुशता बेहद वांछनीय है।  
**कारण (R):** यह राजनीतिक व्यवस्था को और अधिक स्थिर बनाने में मदद करता है
13. **अभिकथन (A):** बेल्जियम के नेता क्षेत्रीय अंतर और सांस्कृतिक विविधता के अस्तित्व को पहचानते हैं



**कारण (R):** अल्पसंख्यक फ्रेंच भाषी समुदाय अपेक्षाकृत समृद्ध और शक्तिशाली थे।

14. **अभिकथन (A):** 1956 में सिंहली को आधिकारिक भाषा के रूप में मान्यता देने के लिए अधिनियम पारित किया गया था

**कारण (R):** नए संविधान ने निर्धारित किया कि राज्य हिंदू धर्म की रक्षा करेगा और उसे बढ़ावा देगा।

15. **अभिकथन (A):** शक्ति का क्षेत्रीय वितरण सरकार के विभिन्न अंगों को एक ही स्तर पर विभिन्न शक्तियों का प्रयोग करने की अनुमति देता है।

**कारण (R):** इस तरह का अलगाव सुनिश्चित करता है कि कोई भी अंग असीमित शक्ति का प्रयोग नहीं कर सकता है।

#### उत्तरमाला (प्रश्न संख्या 1-15)

1. D. बहुसंख्यकवाद
2. D. उपरोक्त सभी कथन सत्य हैं।
3. C. A-(ii), B-(iv), C-(i), D-(iii)
4. A. कथन (i) सही है और (ii) गलत है।
5. C. सभी कथन उपयुक्त हैं।
6. B. बौद्ध धर्म
7. B. तमिल ईलम
8. C. क्षेत्रीय वितरण
9. A. केवल एक भाषा समुदाय के लोग
10. B. सामाजिक विभाजन
11. A. (A) और (R) दोनों सत्य हैं और (R), (A) की सही व्याख्या है।
12. D. (A) गलत है लेकिन (R) सही है।
13. B. (A) और (R) दोनों सत्य हैं लेकिन (R), (A) की सही व्याख्या नहीं है।
14. C. (A) सही है लेकिन (R) गलत है।

15. A. (A) और (R) दोनों सत्य हैं और (R), (A) की सही व्याख्या है

**लघु (दीर्घ प्रश्न (2, 3 एवं 5 अंक वाले प्रश्न)**

- प्र.1 सत्ता की साझेदारी के कोई दो लाभ लिखिए। (2)
- प्र.2 लोकतंत्र क्या होता है? किन्हीं दो महत्वपूर्ण लोकतांत्रिक सिद्धांतों का उल्लेख कीजिए। (2)
- प्र.3 श्रीलंका में गृह युद्ध क्यों छिड़ा? गृह युद्ध के परिणामों को सूचीबद्ध कीजिए। (3)
- प्र.4 बेल्जियम और श्रीलंका ने सत्ता के बंटवारे के सवाल को अलग तरीके से किस प्रकार सुलझाया? (3)
- प्र.5 शक्ति के क्षैतिज वितरण को अक्सर नियंत्रण और संतुलन की प्रणाली क्यों कहा जाता है? व्याख्या कीजिए। (3)
- प्र.6 क्षेत्रीय और सांस्कृतिक विविधताओं को समायोजित करने के लिए बेल्जियम सरकार द्वारा अपनाए गए किन्हीं तीन उपायों पर प्रकाश डालिए। (3)
- प्र.7. बेल्जियम सरकार ने अपनी जातीय समस्या का समाधान कैसे किया? (5)
- प्र.8 सत्ता की साझेदारी वांछनीय क्यों है, इसके दो कारणों की व्याख्या कीजिए। (5)
- प्र.9 “सत्ता की साझेदारी लोकतंत्र की आत्मा है”। चार उपयुक्त तर्कों के साथ इस कथन की पुष्टि कीजिए। (5)
- प्र.10 “बहुसंख्यकवाद ने श्रीलंकाई तमिलों में अलगाव की भावना को बढ़ा दिया।” व्याख्या कीजिए। (5)

**उत्तरमाला लघु/दीर्घ प्रश्न (2, 3 एवं 5 अंक वाले प्रश्न)**

1. स्मरणीय तथ्यों को देखें
2. स्मरणीय तथ्यों को देखें
3. स्मरणीय तथ्यों को देखें

4. स्मरणीय तथ्यों को देखें
5. स्मरणीय तथ्यों को देखें
6. स्मरणीय तथ्यों को देखें
7. स्मरणीय तथ्यों को देखें
8. स्मरणीय तथ्यों को देखें
9. स्मरणीय तथ्यों को देखें
10. स्मरणीय तथ्यों को देखें

### स्रोत आधारित प्रश्न

1. नीचे दिए गए अनुच्छेद को पढ़िए एवं पूछे गए प्रश्नों के उत्तर दीजिए।
  - प्र.1 अविभाजित राजनीतिक शक्ति की धारणा के विरोध में सत्ता साझाकरण का विचार उभरा है। लंबे समय तक, यह माना जाता था कि सरकार की सारी शक्ति एक व्यक्ति या एक स्थान पर स्थित व्यक्तियों के समूह में होनी चाहिए। यह महसूस किया गया कि यदि निर्णय लेने की शक्ति छिन्न-भिन्न हो गई तो त्वरित निर्णय लेना और उन्हें लागू करना संभव नहीं होगा। लेकिन लोकतंत्र के उदय के साथ ये धारणाएं बदल गई हैं। लोकतंत्र का एक बुनियादी सिद्धांत यह है कि लोग सभी राजनीतिक शक्ति के स्रोत हैं। लोकतंत्र में लोग स्वशासन की संस्थाओं के माध्यम से स्वयं पर शासन करते हैं। एक अच्छी लोकतांत्रिक सरकार में समाज में मौजूद विविध समूहों और विचारों को उचित सम्मान दिया जाता है।
    - (a) लोकतंत्र का मूल सिद्धांत क्या है? (1)
    - (b) सत्ता की साझेदारी का विचार क्यों आया? (1)
    - (c) “त्वरित निर्णय लेना और उन्हें लोकतंत्र में लागू करना संभव नहीं होगा।’ क्या आप इस कथन से सहमत हैं? अपने उत्तर के पक्ष में तर्क दीजिए। (2)
2. नीचे दिए गए अनुच्छेद को पढ़िए एवं पूछे गए प्रश्नों के उत्तर

दीजिए।

प्र.2 श्रीलंका एक स्वतंत्र के रूप में उभरा 1948 में देश। सिंहली समुदाय के नेताओं ने अपने बहुमत के आधार पर सरकार पर प्रभुत्व हासिल करने की मांग की। के तौर पर परिणाम, लोकतांत्रिक रूप से चुनी गई सरकार ने सिंहल वर्चस्व स्थापित करने के लिए बहुसंख्यकवादी उपायों की एक श्रृंखला को अपनाया। 1956 में सिंहल को एकमात्र आधिकारिक भाषा, इस प्रकार तमिल की अवहेलना। सरकारों ने तरजीही नीतियों का पालन किया जो विश्वविद्यालय के लिए सिंहली आवेदकों के पक्ष में थीं पद और सरकारी नौकरी। एक नए संविधान ने निर्धारित किया कि राज्य बौद्ध धर्म की रक्षा करेगा और उसे बढ़ावा देगा।

- (a) बहुसंख्यकवाद शब्द को परिभाषित करें? (1)
- (b) श्रीलंका की सरकार ने किस धर्म का प्रचार किया? (1)
- (c) श्रीलंका में बहुसंख्यकवाद लागू करने के लिए श्रीलंकाई सरकार द्वारा उठाए गए दो कदमों का उल्लेख करें। (2)

उत्तर (स्रोत आधारित प्रश्न)

उत्तर 1.

- (i) लोग सभी राजनीतिक शक्ति के स्रोत हैं
- (ii) अविभाजित राजनीतिक शक्ति की धारणा के विरोध में
- (iii) नहीं, त्वरित निर्णय लेना और लोकतंत्र में उन्हें लागू करना संभव है

उत्तर 2. विद्यार्थी अनुच्छेद को पढ़कर स्वयं हल करेंगे।

## 2. संघवाद

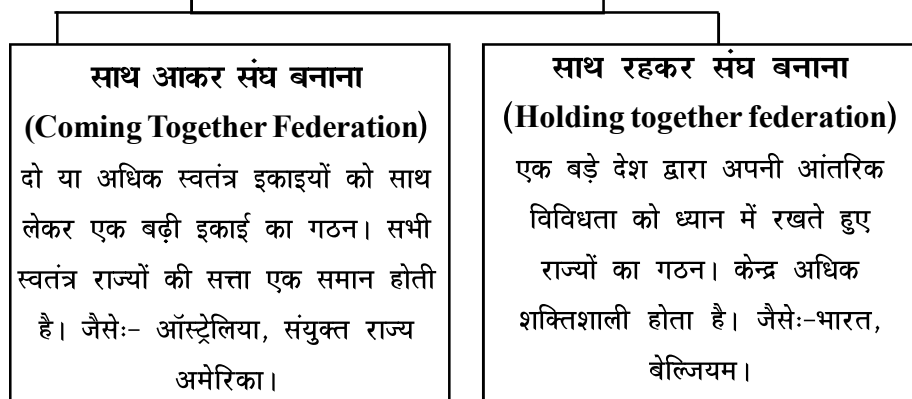
### स्मरणीय तथ्य:

- पिछले अध्याय में हमने बेल्जियम व श्रीलंका के उदाहरणों के माध्यम से सत्ता की साझेदारी के विषय में अध्ययन किया जहाँ हमने देखा कि बेल्जियम में 1993 में संविधान संशोधनों के माध्यम से लोगों को सत्ता में साझेदारी प्रदान की गई एवं विभिन्न टकरावों को सुलझा लिया गया जबकि श्रीलंका ने इसके विपरीत कार्य किया जिसके कारण श्रीलंका को गृहयुद्ध जैसी स्थिति का सामना करना पड़ा।
- संघीय शासन व्यवस्था में सत्ता का वितरण दो या दो से अधिक स्तर पर किया जाता है। संघीय शासन व्यवस्था में सर्वोच्च सत्ता केंद्रीय सरकार व उसके विभिन्न छोटी इकाइयों के मध्य बँटी होती है। आमतौर पर इसमें एक सरकार पूरे देश के लिए होती है जिसके जिम्मे राष्ट्रीय महत्व के विषय होते हैं। फिर, राज्य या प्रांतों के स्तर की सरकारें होती हैं जो शासन के दैनंदिन कामकाज को देखती हैं। सत्ता के इन दोनों स्तर की सरकारें अपने-अपने स्तर पर स्वतंत्र होकर अपना काम करती हैं।



संघात्मक सरकार	एकात्मक सरकार
दो या दो से अधिक स्तर पर सरकार	शासन का एक ही स्तर होता है बाकि इकाइयाँ उसके अधीन होकर कार्य करती है।
केंद्रीय सरकार, राज्य सरकार को कुछ विशेष प्रकार के आदेश नहीं दे सकती।	केंद्रीय सरकार राज्य सरकार को विशेष आदेश दे सकती है।
राज्य सरकारों के पास अपनी शक्तियाँ होती है और वह इसके लिए जनता के प्रति उत्तरदायी होती है।	राज्य सरकारें केंद्र सरकार के प्रति जवाबदेह होती है।
उदाहरण: भारत, कनाडा, जर्मनी	उदाहरण: फ्रांस, चीन।

### संघवाद के प्रकार



- एक बहुत ही दुखद और रक्तरंजित विभाजन के बाद भारत आजाद हुआ। आजादी के कुछ समय बाद ही अनेक स्वतंत्र रजवाड़ों का भारत में विलय हुआ। संविधान में स्पष्ट रूप से केंद्र और राज्य सरकारों के बीच विधायी अधिकारों को तीन हिस्से में बाँटा गया है। ये तीन सूचियाँ इस प्रकार हैं:

<p><b>संघ सूची</b> संघ सूची में प्रतिरक्षा, विदेशी मामले, बैंकिंग, संचार और मुद्रा जैसे राष्ट्रीय महत्व के विषय हैं। पूरे देश के लिए इन मामलों में एक तरह की नीतियों की जरूरत है। इसी कारण इन विषयों को संघ सूची में डाला गया है। संघ सूची में वर्णित विषयों के बारे में कानून बनाने का अधिकार सिर्फ केन्द्र सरकार को है। पहले इसमें 97 विषय थे परन्तु वर्तमान में इसमें 100 विषय हैं।</p>	<p><b>राज्य सूची</b> राज्य सूची में पुलिस, व्यापार, वाणिज्य, कृषि और सिंचाई जैसे प्रांतीय और स्थानीय महत्व के विषय हैं। राज्य सूची में वर्णित विषयों के बारे में सिर्फ राज्य सरकार ही कानून बना सकती है। पहले इसमें 66 विषय थे परन्तु वर्तमान में इसमें 61 विषय हैं।</p>	<p><b>समवर्ती सूची</b> समवर्ती सूची में शिक्षा, वन, मजदूर-संघ, विवाह, गोद लेना और उत्तराधिकार जैसे वे विषय हैं जो केन्द्र के साथ राज्य सरकारों की साझी दिलचस्पी में आते हैं। इन विषयों पर कानून बनाने का अधिकार राज्य सरकारों और केन्द्र सरकार, दोनों को ही है। लेकिन जब दोनों के कानूनों में टकराव हो तो केन्द्र सरकार द्वारा बनाया कानून ही मान्य होता है। पहले इसमें 47 विषय थे परन्तु वर्तमान में इसमें 52 विषय हैं।</p>
--	--	--

- यहाँ एक सवाल यह उठता है कि जो विषय इनमें से किसी सूची में नहीं आते उनका क्या होता है? फिर कंप्यूटर साफ्टवेयर जैसे विषय किसके अधिकार-क्षेत्र में रहें क्योंकि ये संविधान बनने के बाद आए हैं? हमारे संविधान के अनुसार 'बाकी बचे' अवशिष्ट विषय केंद्र सरकार के अधिकार क्षेत्र में चले जाते हैं।
- केंद्र और राज्य सरकारों के बीच सत्ता का यह बँटवारा हमारे संविधान की बुनियादी बात है। अधिकारों के इस बँटवारे में बदलाव करना आसान नहीं है। अकेले संसद इस व्यवस्था में बदलाव नहीं कर सकती है। ऐसे किसी भी बदलाव को पहले संसद के दोनों सदनों में दो-तिहाई बहुमत से मंजूर किया जाना होता है। फिर कम से कम आधे राज्यों की विधान सभाओं से उसे मंजूर करवाना होता है।
- शक्तियों के बँटवारे के संबंध में कोई विवाद होने की हालत में फैसला उच्च

न्यायालय और सर्वोच्च न्यायालय में ही होता है। सरकार चलाने और अपनी जिम्मेदारियों का निर्वाह करने के लिए जरूरी राजस्व की उगाही के संबंध में केंद्र और राज्य सरकारों को कर लगाने और संसाधन जमा करने के अधिकार हैं।

### भाषायी राज्य

- भाषा के आधार पर प्रांतों का गठन हमारे देश की पहली और एक कठिन परीक्षा थी।
- नए राज्यों को बनाने के लिए कई पुराने राज्यों की सीमाओं को बदला गया।
- जब भाषा के आधार पर राज्यों के निर्माण की मांग उठी तो राष्ट्रीय नेताओं को डर था कि इससे देश टूट जाएगा।
- केंद्र सरकार ने कुछ समय के लिए राज्यों के पुनर्गठन को टाला परंतु हमारा अनुभव बताता है कि देश ज्यादा मजबूत और एकीकृत हुआ।
- प्रशासन भी पहले की अपेक्षा सुविधाजनक हुआ है।
- कुछ राज्यों का गठन भाषा के आधार पर ही नहीं बल्कि संस्कृति, भूगोल व नृजातीयता (Ethnicity) की विविधता को रेखांकित एवं महत्त्व देने के लिए किया गया।

### भाषा नीति

- भारत के संघीय ढाँचे की दूसरी परीक्षा भाषा-नीति को लेकर हुई।
- हमारे संविधान में किसी एक भाषा को राष्ट्रभाषा का दर्जा नहीं दिया गया। हिंदी को राजभाषा माना गया पर हिंदी सिर्फ 40 फीसदी (लगभग) भारतीयों की मातृभाषा है इसलिए अन्य भाषाओं के संरक्षण के अनेक दूसरे उपाय किए गए।
- संविधान में हिंदी के अलावा अन्य 21 भाषाओं को अनुसूचित भाषा का दर्जा दिया गया है।
- केंद्र सरकार के किसी पद का उम्मीदवार इनमें से किसी भी भाषा में परीक्षा दे सकता है बशर्ते उम्मीदवार इसको विकल्प के रूप में चुने।



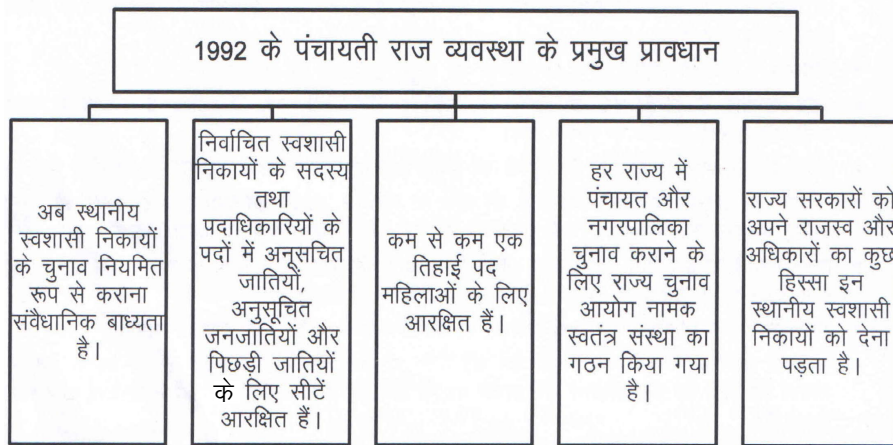
- राज्यों की भी अपनी राजभाषाएँ हैं। राज्यों का अपना अधिकांश काम अपनी राजभाषा में ही होता है।
- संविधान के अनुसार सरकारी कामकाज की भाषा के तौर पर अंग्रेजी का प्रयोग 1965 में बंद हो जाना चाहिए था पर अनेक गैर-हिंदी भाषी प्रदेशों ने मांग की कि अंग्रेजी का प्रयोग जारी रखा जाए।
- तमिलनाडु में तो इस माँग ने उग्र रूप भी ले लिया था। केंद्र सरकार ने हिंदी के साथ-साथ अंग्रेजी को राजकीय कामों में प्रयोग की अनुमति देकर इस विवाद को सुलझाया।
- अनेक लोगों का मानना था कि इस समाधान से अंग्रेजी-भाषी अभिजन को लाभ पहुँचेगा।
- राजभाषा के रूप में हिंदी को बढ़ावा देने की भारत सरकार की नीति बनी हुई है पर बढ़ावा देने का मतलब यह नहीं कि केंद्र सरकार उन राज्यों पर भी हिंदी को थोप सकती है जहाँ लोग कोई और भाषा बोलते हैं।
- भारतीय राजनेताओं ने इस मामले में जो लचीला रुख अपनाया उसी से हम श्रीलंका जैसी स्थिति में पहुँचने से बच गए।

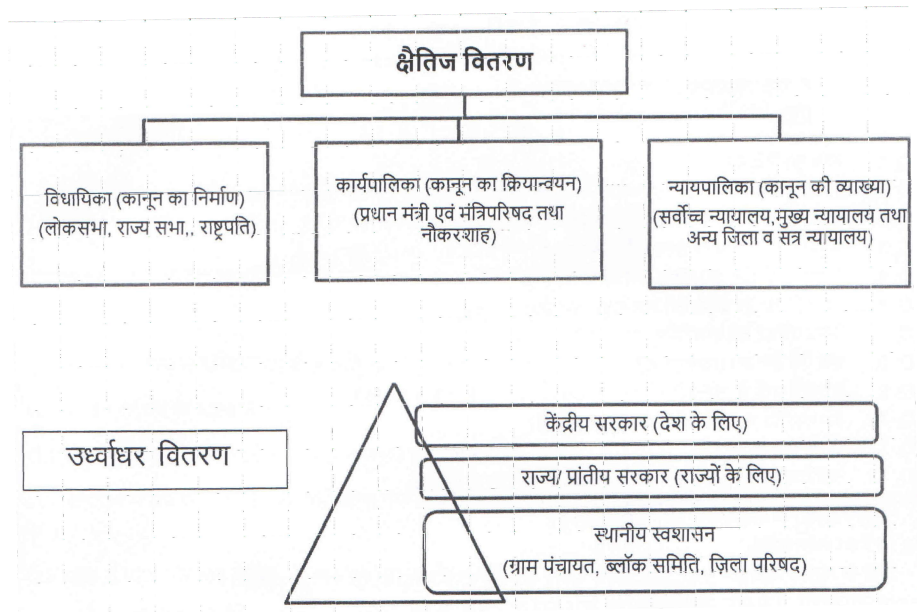
### केंद्र-राज्य संबंध

- सत्ता की साझेदारी की संवैधानिक व्यवस्था वास्तविकता में कैसा रूप लेगी यह ज्यादातर इस बात पर निर्भर करता है कि शासक दल और नेता किस तरह इस व्यवस्था का अनुसरण करते हैं।
- काफी समय तक हमारे यहाँ एक ही पार्टी का केंद्र और अधिकांश राज्यों में शासन रहा। इसका व्यावहारिक मतलब यह हुआ कि राज्य सरकारों ने स्वायत्त संघीय इकाई के रूप में अपने अधिकारों का प्रयोग नहीं किया।
- जब केंद्र और राज्य में अलग-अलग दलों की सरकारें रहीं तो केंद्र सरकार ने राज्यों के अधिकारों की अनदेखी करने की कोशिश की। उन दिनों केंद्र सरकार अक्सर संवैधानिक प्रावधानों का दुरुपयोग करके विपक्षी दलों की राज्य सरकारों को भंग कर देती थी।

- यह संघवाद की भावना के प्रतिकूल काम था। 1990 के बाद से यह स्थिति काफी बदल गई। इस अवधि में देश के अनेक राज्यों में क्षेत्रीय दलों का उदय हुआ। यही दौर केंद्र में गठबंधन सरकार की शुरुआत का भी था। चूंकि किसी एक दल को लोकसभा में स्पष्ट बहुमत नहीं मिला इसलिए प्रमुख राष्ट्रीय पार्टियों को क्षेत्रीय दलों समेत अनेक पार्टियों का गठबंधन बनाकर सरकार बनानी पड़ी।
- इससे सत्ता में साझेदारी और राज्य सरकारों की स्वायत्तता का आदर करने की नई संस्कृति पनपी।
- इस प्रवृत्ति को सुप्रीम कोर्ट के एक बड़े फैसले से भी बल मिला। इस फैसले के कारण राज्य सरकार को मनमाने ढंग से भंग करना केंद्र सरकार के लिए मुश्किल हो गया। इस प्रकार आज संघीय व्यवस्था के तहत सत्ता की साझेदारी संविधान लागू होने के तत्काल बाद वाले दौर की तुलना में ज्यादा प्रभावी है।

दिसम्बर 1992 में भारतीय संसद ने संविधान के 73वें एवं 74वें संशोधनों को मंजूरी प्रदान की। इसके तहत भारत में स्थानीय स्वशासन निकायों को संवैधानिक दर्जा प्रदान किया गया एवं भारत में पंचायती राज व्यवस्था मजबूत बनाया गया।





### ग्राम पंचायत

- गाँवों के स्तर पर मौजूद स्थानीय शासन व्यवस्था को पंचायती राज के नाम से जाना जाता है।
- ग्राम पंचायत प्रत्येक गाँव में, और कुछ राज्यों में ग्राम-समूह की एक ग्राम पंचायत होती है।
- यह एक तरह की परिषद् है जिसमें कई सदस्य और एक अध्यक्ष होता है। सदस्या वार्डों से चुने जाते हैं और उन्हें सामान्यतः पंच कहा जाता है।
- अध्यक्ष को प्रधान या सरपंच कहा जाता है। इनका चुनाव गाँव अथवा वार्ड में रहने वाले सभी व्यस्क लोग मतदान के जरिए करते हैं।
- यह पूरे पंचायत के लिए फैसला लेने वाली संस्था है। पंचायतों का काम ग्राम सभा की देख रेख में चलता है। गाँव के सभी मतदाता इसके सदस्य होते हैं। इसे ग्राम पंचायत का बजट पास करने और इसके कामकाज की समीक्षा के लिए साल में कम से कम दो या तीन बार बैठक करनी होती है।

**पंचायत समिति** - कई ग्राम पंचायतों को मिलाकर पंचायत समिति का गठन होता है। इसे मंडल या प्रखंड स्तरीय पंचायत भी कह सकते हैं।

**जिला परिषद** - किसी जिले की सभी पंचायत समितियों को मिलाकर जिला परिषद् का गठन होता है। जिला परिषद् के अधिकांश सदस्यों का चुनाव होता है। जिला परिषद् में उसे जिले से लोक सभा और विधान सभा के लिए चुने गए सांसद और विधायक तथा जिला स्तर की संस्थाओं के कुछ अधिकारी भी सदस्य के रूप में होते हैं। जिला परिषद् का प्रमुख इस परिषद् का राजनीतिक प्रधान होता है।

**नगर निगम** - इस प्रकार स्थानीय शासन वाली संस्थाएँ शहरों में भी काम करती है। छोटे शहरों में नगर पालिका होती है। बड़े शहरों में नगर निगम का गठन होता है। नगरपालिका और नगर निगम, दोनों का कामकाज निर्वाचित प्रतिनिधि करते हैं। नगरपालिका प्रमुख नगरपालिका के राजनीतिक प्रधान होते हैं। नगरनिगम के ऐसे पदाधिकारी को मेयर कहते हैं।

### **बहुविकल्पीय प्रश्न (1-20) 1 अंक वाले प्रश्न**

1. समवर्ती सूची के किसी विषय पर केंद्र और राज्य द्वारा बनाए गए कानूनों के बीच टकराव की स्थिति में
  - (a) राज्य का कानून प्रभावी होता है।
  - (b) केंद्रीय कानून प्रभावी होता है।
  - (c) दोनों कानून अपने अधिकार क्षेत्र के भीतर प्रभावी होते हैं।
  - (d) सर्वोच्च न्यायालय को निर्णय लेने के लिए हस्तक्षेप करना पड़ता है।
2. जब केंद्र और राज्य सरकारों से शक्ति लेकर स्थानीय सरकार को दे दी जाती है, तो इसे कहते हैं।
  - (a) वितरण
  - (b) केंद्रीकरण
  - (c) पुनर्गठन
  - (d) विकेंद्रीकरण

3. संघ और राज्य सरकार दोनों मिलकर निम्नलिखित में से किन विषयों पर कानून बना सकते हैं:
- (a) संघ सूची (b) राज्य सूची  
(c) समवर्ती सूची (d) उपर्युक्त में से कोई नहीं
4. निम्नलिखित में से कौन सा संघवाद की विशेषता नहीं है ?
- (a) सरकार के दो या दो से अधिक स्तर  
(b) सरकार के विभिन्न स्तर एक ही नागरिकों को नियंत्रित करते हैं।  
(c) न्यायालयों को संविधान की व्याख्या करने की शक्ति है।  
(d) केंद्र सरकार, राज्य सरकार को आदेश दे सकती है।
5. ग्रामीण स्थानीय स्वशासन को लोकप्रिय रूप से जाना जाता है.
- (a) पंचायती राज (b) जिला परिषद  
(c) राज्य सरकार (d) ग्राम पंचायत
6. भारतीय संघ की भाषा नीति के संबंध में निम्नलिखित कथनों पर विचार कीजिए:
- (1) हिंदी को राजभाषा के रूप में मान्यता दी गई।  
(2) हिंदी के अलावा, 21 अन्य भाषाएँ हैं जिन्हें अनुसूचित भाषाओं के रूप में मान्यता प्रदान की गई।  
(3) सरकारी प्रयोजनों के लिए हिंदी के साथ-साथ अंग्रेजी का भी प्रयोग किया जा सकता है।
- निम्नलिखित में से उस विकल्प का चयन करें जो सही उत्तर प्रदान करता है:
- (a) (1) और (3) (b) (1) और (2)  
(c) केवल (1) (d) (1), (2) और (3)

7. निम्नलिखित में से कौन से देशों का समूह एक साथ आने वाले संघ (coming together federation) का उदाहरण है ?
- (a) भारत, यूएसए, बेल्जियम  
 (b) यूएसए, स्विट्जरलैंड, ऑस्ट्रेलिया  
 (c) भारत, बेल्जियम, स्पेन  
 (d) परसाए, स्पेन, ऑस्ट्रेलिया
8. सबसे उपयुक्त विकल्प चुनकर रिक्त स्थान की पूर्ति करें:  
 ..... सरकार की एक प्रणाली है जिसमें शक्ति को एक केंद्रीय प्राधिकरण और देश की विभिन्न घटक इकाइयों के बीच विभाजित किया जाता है।
- (a) तानाशाही (b) एकात्मक प्रणाली  
 (c) राजशाही (d) संघवाद
9. सूची I को सूची II से मिलाइए
- |                       |                  |
|-----------------------|------------------|
| सूची I                | सूची II          |
| A. बेकिंग             | I. समवर्ती सूची  |
| B. कानून और व्यवस्था  | II. अवशिष्ट विषय |
| C. शिक्षा             | III. संघ सूची    |
| D. कंप्यूटर सॉफ्टवेयर | IV राज्य सूची    |
- नीचे दिए गए विकल्पों में से सही उत्तर का चयन कीजिए:
- (a) A-I, B-II, C-III, D-IV (b) A-III, B-IV, C-I, D-II  
 (c) A-I, B-III, C-II, D-IV (d) A-III, B-I, C-IV, D-II
10. निम्नलिखित कथनों को ध्यान से पढ़िए
1. भारतीय संघ की दूसरी परीक्षा भाषा नीति थी।  
 2. संविधान द्वारा हिन्दी के अतिरिक्त 23 अन्य भाषाओं को अनुसूचित

भाषा के रूप में मान्यता प्राप्त है।

3. भारत की केंद्र सरकार के पास 'अवशिष्ट विषयों' पर कानून बनाने की शक्ति है।
4. संयुक्त राज्य अमेरिका 'Holding together federation' का एक अच्छा उदाहरण है।

सही विकल्प चुने

- (a) केवल 1 और 2                      (b) केवल 1 और 3  
(c) केवल 2 और 4                      (d) केवल 13 और 4

11. 1992 के संविधान संशोधन के संदर्भ में कौन-सा कथन असत्य है।
  - (a) एक चौथाई पद महिलाओं के लिए आरक्षित हैं।
  - (b) स्थानीय शासन निकायों के लिए नियमित चुनाव आयोजित किए जाने चाहिए।
  - (c) सीटें अनुसूचित जाति, अनुसूचित जनजाति तथा अन्य पिछड़ा वर्गों के लिए आरक्षित हैं।
  - (d) राज्य चुनाव आयोग इन चुनावों को कराता है।

निर्देश नीचे दिए गए प्रश्नों में, कथन (A) और कारण (R) के रूप में चिह्नित दो कथन हैं। कथनों को पढ़ें और सही विकल्प का चयन करें:

- A. (A) और (R) दोनों सत्य हैं और (R), (A) की सही व्याख्या है।
- B. (A) और (R) दोनों सही हैं और लेकिन (R), (A) की सही व्याख्या नहीं है।
- C. (A) सही है और (R) गलत है।
- D. (A) और (R) दोनों गलत हैं।

12. कथन (A): 1992 में संविधान में संशोधन करके विकेंद्रीकरण की दिशा में एक बड़ा कदम उठाया गया था।

**कारण (R):** लोकतंत्र के तीसरे स्तर को अधिक शक्तिशाली और प्रभावी बनाने के लिए संविधान में संशोधन किया गया था।

13. **कथन (A):** हिंदी की पहचान भारत की एकमात्र आधिकारिक भाषा के रूप में की जाती है।

**कारण (R):** इसने हिंदी भाषी लोगों को दूसरों पर वर्चस्व बनाने में मदद की।

14. **कथन (A):** केंद्र और राज्य सरकारों से सत्ता लेकर और स्थानीय सरकारों को दे दी जाती है, इसे विकेंद्रीकरण कहा जाता है।

**कारण (R):** स्थानीय सरकारी निकायों में कम से कम एक तिहाई पद महिलाओं के लिए आरक्षित है

15. **कथन (A):** जिला परिषद अध्यक्ष जिला परिषद का राजनीतिक प्रमुख होता है।

**कारण (R):** महापौर नगरपालिकाओं का प्रमुख होता है।

16. सूची I का सूची II से मिलान करें

सूची I	सूची II
A. केंद्र	I. महापौर
B. राज्य	II. सरपंच
C. नगर निगम	III. राज्यपाल
D. ग्राम पंचायत	IV. राष्ट्रपति

नीचे दिए गए विकल्पों में से सही उत्तर चुनिए

- (a) A-II, B-III, C-I, D-IV      (b) A-III, B-II, C-I, D-IV  
(c) A-IV, B-III, C-II, D-I      (d) A-IV, B-III, C-I, D-II

17. भारत में अनुसूचित भाषाओं की संख्या कितनी है ?

- (a) 21      (b) 22  
(c) 23      (d) 24



18. निम्नलिखित में से कौन-सा देश 'एक साथ आकर संघ' (coming together federation), बनाने का एक उदाहरण है ?
- (a) भारत (b) पाकिस्तान  
(c) संयुक्त राज्य अमेरिका (d) श्रीलंका
19. पंचायत राज प्रणाली में निम्नलिखित शामिल हैं:
- (a) ग्राम, ब्लॉक और जिला स्तर  
(b) ग्राम और राज्य स्तर:  
(c) ग्राम, जिला और राज्य स्तर  
(d) ग्राम, राज्य और संघ स्तर
20. संघीय प्रणाली में राजस्व के स्रोतों के बारे में क्या सच है ?
- (a) राज्यों के पास कोई वित्तीय शक्तियां या राजस्व के स्वतंत्र स्रोत नहीं है।  
(b) राज्य राजस्व अथवा निधियों के लिए केन्द्र सरकार पर निर्भर है।  
(c) सरकार की वित्तीय स्वायत्तता सुनिश्चित करने के लिए उसके प्रत्येक स्तर के लिए राजस्व के स्रोत स्पष्ट रूप से विनिर्दिष्ट किए गए हैं।  
(d) राज्यों को कोई वित्तीय स्वायत्तता नहीं है।

### उत्तर कुंजी

1. (b) केंद्रीय कानून प्रभावी होता है।
2. (d) विकेंद्रीकरण
3. (c) समवर्ती सूची
4. (d) केंद्र सरकार राज्य सरकार को आदेश दे सकती है।
5. (a) पंचायती राज

6. (d) (1), (2) और (3)।
7. (b) संयुक्त राज्य अमेरिका, स्विट्जरलैंड, ऑस्ट्रेलिया
8. (d) संघवाद
9. (b) A-III, B-IV, C-I, D-II
10. (b) केवल 1 और 3
11. (a) एक चौथाई पद महिलाओं के लिए आरक्षित हैं।
12. (a) (A) और (R) दोनों सत्य हैं और (R), (A) की सही व्याख्या है।
13. (c) अभिकथन (A) सत्य है लेकिन कारण (R) असत्य है
14. (b) (A) और (R) दोनों सत्य हैं और लेकिन (R), (A) की सही व्याख्या नहीं है।
15. (b) (A) और (R) दोनों सत्य हैं और लेकिन R, A की सही व्याख्या नहीं है।
16. (d) A-IV, B-III, C-I, D-II
17. (b) 22
18. (c) संयुक्त राज्य अमेरिका
19. (a) गांव, ब्लॉक और जिला स्तर
20. (c) सरकार के प्रत्येक स्तर के लिए राजस्व के स्रोत स्पष्ट रूप से निर्दिष्ट हैं ताकि इसकी वित्तीय स्वायत्तता सुनिश्चित की जा सके।

### 2/3/5 अंकों के प्रश्न

1. शहरी क्षेत्रों में स्थानीय स्वशासन के नाम लिखिए।
2. स्थानीय स्वशासन की क्या आवश्यकता है ?
3. संघवाद से क्या तात्पर्य है ?
4. साथ आकर संघ बनाना (Coming together federation) क्या है ? उदाहरण दीजिए।

5. साथ रहकर संघ बनाना (Holding together federation) क्या है ?  
उदाहरण दीजिए।
6. अवशिष्ट विषय क्या हैं ?
7. 1992 में विकेंद्रीकरण की दिशा में एक बड़ा कदम उठाया गया था। यह क्या था ?
8. “संघीय प्रणाली का दोहरा उद्देश्य होता है।” दोहरे उद्देश्यों का उल्लेख कीजिए।
9. संघ सूची क्या है ?
10. राज्य सूची क्या है ?
11. संघीय सरकार में न्यायपालिका का क्या महत्व है ?
12. राजनीति के अलावा अन्य कौन से कारक संघों को एकजुट रखते हैं ?
13. भारत सरकार द्वारा अपनाई गई लोकतांत्रिक नीतियों की व्याख्या कीजिए जिसने भारत को एक सफल संघ बनाने में मदद की।
14. शहरी क्षेत्रों के स्थानीय स्वशासन निकायों के संगठन को स्पष्ट कीजिए।
15. किन नीतियों ने भारत में संघवाद को मजबूत किया है ?
16. 1992 में विकेंद्रीकरण की दिशा में कौन-कौन से बड़े कदम उठाए गए ?
17. केंद्र सरकार और राज्य सरकारों के बीच विधायी शक्तियों को कैसे विभाजित किया जाता है ?
18. संघवाद की किन्हीं चार विशेषताओं को स्पष्ट कीजिए।
19. स्थानीय स्वशासन के महत्व को स्पष्ट कीजिए।
20. 1990 से पहले और बाद में केंद्र राज्य संबंध का विश्लेषण कीजिए।
21. भारतीय संघ ने भाषा नीति की चुनौती का किस प्रकार सामना किया ?
22. पंचायती राज व्यवस्था की किन्हीं दो उपलब्धियों और दो चुनौतियों को लिखिए।

23. “भाषाई राज्यों का निर्माण हमारे देश में लोकतांत्रिक राजनीति के लिए पहली और एक बड़ी परीक्षा थी।” इस कथन को सही ठहराये।
24. ग्राम सभा क्या है? ग्राम सभा के किन्हीं चार कार्यों को स्पष्ट कीजिए?
25. केंद्र सरकार और राज्य सरकारों के बीच सत्ता का बंटवारा भारतीय संविधान की संरचना के लिए बुनियादी है। समझाएं।
26. भारत में स्थानीय स्वशासन की किन्हीं चार कठिनाइयों का उल्लेख कीजिए।
27. स्थानीय सरकारों के क्या लाभ हैं?

**उत्तर कुंजी**

**2/3/5 अंकों के प्रश्न**

1. नगर पालिकाएं और नगर निगम
2. एक बड़े देश पर शासन करना और सत्ता का विकेंद्रीकरण
3. स्मरणीय तथ्य देखें
4. स्मरणीय तथ्य देखें
5. स्मरणीय तथ्य देखें
6. ऐसे विषय जो तीन सूचियों (संघ सूची, राज्य सूची और समवर्ती सूची) में से किसी में नहीं आते हैं, उन्हें अवशिष्ट विषयों के रूप में जाना जाता है।
7. लोकतंत्र के तीसरे स्तर यानी स्थानीय सरकार को अधिक शक्तिशाली और प्रभावी बनाने के लिए संविधान में संशोधन किया गया था।
18. देश की एकता की रक्षा करना और उसे बढ़ावा देना, साथ ही साथ क्षेत्रीय विविधता को समायोजित करना।
9. स्मरणीय तथ्य देखें

10. स्मरणीय तथ्य देखें
11. संवैधानिक प्रावधनों और प्रक्रियाओं के कार्यान्वयन की देखरेख में न्यायपालिका एक महत्वपूर्ण भूमिका निभाती है। शक्तियों के विभाजन के बारे में किसी भी विवाद के मामले में, उच्च न्यायालय और सर्वोच्च न्यायालय निर्णय लेते हैं।
12. केंद्र और राज्य सरकारों के बीच सत्ता साझेदारी व्यवस्था .....न्यायपालिका की स्वतंत्रा भूमिका भाषायी जातीयता
  - परस्पर विरोधी दावों का जवाब और
  - लोगों की सक्रिय भागीदारी।
13. केंद्र और राज्य सरकारों की शक्तियों को स्पष्ट रूप से अलग कर दिया गया है।
  - संघ, राज्य और स्थानीय सरकारों के तहत शासन की एक त्रि-स्तरीय प्रणाली को मंजूरी दी गई है।
  - अरुणाचल प्रदेश और नागालैंड जैसे कुछ राज्यों को विशेष दर्जा दिया गया है ताकि उनकी स्वायत्तता बनाए रखी जा सके।
  - भारतीय संविधान के मौलिक प्रावधनों को संसद द्वारा एक तरफा नहीं बदला जा सकता है।
  - किसी भी टकराव से बचने के लिए संविधान में सरकार के विभिन्न स्तरों की आय के स्रोत स्पष्ट रूप से बताए गए हैं।
14. स्थानीय सरकारी निकाय शहरी क्षेत्रों में भी मौजूद है। कस्बों में नगरपालिकाएं हैं। और बड़े शहरों में नगर निगम हैं।
  - नगर पालिकाओं और नगर निगमों दोनों को निर्वाचित निकायों द्वारा नियंत्रित किया जाता है।

- नगर पालिका का नेतृत्व अध्यक्ष द्वारा किया जाता है और नगर निगम का नेतृत्व महापौर द्वारा किया जाता है।

A.15. भाषाई राज्य भाषाई राज्यों के गठन ने देश को अधिक एकजुट और मजबूत बना दिया।

- भाषा नीति: भारतीय संविधान ने किसी भी भाषा को राष्ट्रभाषा का दर्जा नहीं दिया।
- केंद्र-राज्य संबंध: केंद्र राज्य संबंध यह तय करते हैं कि सत्तारूढ़ दल और नेता किस हद तक सत्ता साझा करने की व्यवस्था का पालन करते हैं।

16. स्मरणीय तथ्य देखें

17. देश में संविधान सर्वोच्च है और विधायी शक्तियों को सरकारी अधिकार क्षेत्र के विभिन्न क्षेत्र में तीन सूचियों में विभाजित किया गया है-

- संघ सूची: केवल केंद्र सरकार संघ सूची में शामिल विषयों पर कानून बना सकती हैं।
- राज्य सूची: केवल राज्य सरकार ही राज्य सूची में शामिल विषयों पर कानून बना सकती है।
- समवर्ती सूची: दोनों सरकारें इन विषयों पर कानून बना सकती हैं। हालांकि, किसी भी संघर्ष के मामले में, केंद्र सरकार द्वारा बनाया गया कानून प्रबल होगा।

18. स्मरणीय तथ्य देखें

19. स्मरणीय तथ्य देखें

20. स्मरणीय तथ्य देखें

21. स्मरणीय तथ्य देखें

22. स्मरणीय तथ्य देखें

23. स्मरणीय तथ्य देखें
24. स्मरणीय तथ्य देखें
25. (i) मौलिक प्रावधानों को सरकार के एक स्तर द्वारा एक तरफा रूप से नहीं बदला जा सकता है।
- (ii) संविधान की मौलिक संरचना में किसी भी परिवर्तन को पहले संसद के दोनों सदनों द्वारा कम से कम दो-तिहाई बहुमत के साथ पारित किया जाना चाहिए। पिफर इसे कुल राज्यों के कम से कम आधे राज्यों की विधनसभाओं द्वारा अनुमोदित किया जाना चाहिए।
26. (i) अधिकांश राज्यों ने स्थानीय सरकारों को महत्वपूर्ण शक्तियां हस्तांतरित नहीं की है।
- (ii) संसाधनों की कमी है।
- (iii) चुनाव नियमित रूप से नहीं होते हैं।
- (iv) ग्राम सभाएं नियमित रूप से आयोजित नहीं की जाती है।
27. (i) स्थानीय सरकार के लिए संवैधानिक स्थिति ने हमारे देश में लोकतंत्रा को गहरा करने में मदद की है।
- (ii) इसने हमारे लोकतंत्रा में महिलाओं के प्रतिनिधित्व और आवाज को भी बढ़ाया है।
- (iii) यह लोगों को निर्णय लेने में सीधे भाग लेने की अनुमति देता है।
- (iv) स्थानीय लोगों के पास स्थानीय समस्याओं के बारे में बेहतर विचार और ज्ञान है।

### स्रोत आधारित प्रश्न

1. गद्यांश को पढ़कर प्रश्नों के उत्तर दीजिए।
- हमने ऊपर देखा कि 'सबको साथ लेकर' चलने की नीति मानकर बनी अधिकतर बड़ी संघीय व्यवस्थाओं में साथी इकाइयों को बराबर अधिकार नहीं मिलते। भारतीय संघ के सारे राज्यों को भी बराबर अधिकार नहीं है। कुछ राज्यों को विशेष दर्जा प्राप्त है। जैसे कि असम, नागालैंड,

अरुणाचल प्रदेश और मिजोरम अपनी विशिष्ट सामाजिक तथा ऐतिहासिक परिस्थितियों के कारण भारत के सबंधन के कुछ प्रावधानों (अनच्छेद 371) के तहत विशेष शक्तियों का लाभ उठाते हैं। ये विशेष शक्तियाँ स्वदेशी लोगों, उनकी संस्कृति और सरकारी सेवाओं में अधिमान्य रोजगार के भूमि अधिकारों के संरक्षण के संबंधों में स्पष्ट रूप से उपयोगी हैं। भारतीय जो इस राज्य के स्थायी निवासी नहीं हैं यहाँ भूमि तथा घर नहीं खरीद सकते हैं। ऐसे ही खास प्रावधान भारत में कुछ अन्य राज्यों में भी मौजूद हैं।

- प्र.1 साथ रहकर संघ बनाना (Holding together federation) क्या है ?
- प्र.2 भारत के उन राज्यों के नाम बताइए जिन्हें विशेष दर्जा प्राप्त है ?
- प्र.3. जो भारतीय विशेष दर्जा प्राप्त राज्यों के स्थायी निवासी नहीं है, वे उन राज्यों में जमीन या घर नहीं खरीद सकते हैं। क्यों ?
- उ.1 एक बड़ा देश अपनी शक्ति को घटक राज्यों और राष्ट्रीय सरकार के बीच विभाजित करने का निर्णय लेता है।
- उ.2 असम, नागालैंड, अरुणाचल प्रदेश और मिजोरम
- उ.3 देशज लोगों के भूमि अधिकारों, उनकी संस्कृति और सरकारी सेवाओं में अधिमान्य रोजगार की रक्षा करना।

## 2. गद्यांश को पढ़कर उत्तर दीजिए।

भारत के संघीय ढाँचे की दूसरी परीक्षा भाषा-नीति को लेकर हुई हमारे संविधान में किसी एक भाषा को राष्ट्रभाषा का दर्जा नहीं दिया गया। हिंदी को राजभाषा माना गया पर हिंदी सिर्फ 40 फीसदी (लगभग) भारतीयों की मातृभाषा है इसलिए अन्य भाषाओं के संरक्षण के अनेक दूसरे उपाय किए गए। संविधान में हिंदी के अलावा अन्य 21 भाषाओं



को अनुसूचित भाषा का दर्जा दिया गया है। केंद्र सरकार के किसी पद का उम्मीदवार इनमें से किसी भी भाषा में परीक्षा दे सकता है बशर्ते उम्मीदवार इसको विकल्प के रूप में चुने। राज्यों की भी अपनी राजभाषाएँ हैं। राज्यों का अपना अधिकांश काम अपनी राजभाषा में ही होता है।

- प्र.1 कितने प्रतिशत लोग हिंदी भाषा बोलते हैं ?  
प्र.2 अनुसूचित भाषा से आप क्या समझते हैं ?  
प्र.3 भाषा नीति भारतीय संघ के लिए एक परीक्षा क्यों थी ?  
उ.1-3 अपने आप हल करें

## अध्याय-3

### जाति, धर्म और लैंगिक मसले

**अनुसूचित जातियाँ :-** गरीब और भूमिहीन और सामाजिक और आर्थिक रूप से पिछड़े भारतीय।

**जाति पदानुक्रम :-** एक सामाजिक संरचना जिसमें जाति (वर्ग) आनुवंशिकता द्वारा निर्धारित किए जाते हैं अर्थात्, उच्चतम से निम्नतम जाति तक।

**साम्प्रदायिकता :-** (1) एक विश्वास जिसमें एक विशेष धर्म के अनुयायी मानते हैं कि उनका धर्म अन्य धर्मों के बेहतर है।  
(2) यह विश्वास कि एक विशेष धर्म के अनुयायियों को एक समुदाय से संबंधित होना चाहिए। उनके मौलिक हित एक ही है। अगर उनमें आपस में कोई अंतर है भी तो वो अप्रासंगिक या तुच्छ है।

**सांप्रदायिकता, राजनीति में विभिन्न रूप ले सकती है जैसा कि नीचे उल्लेख किया गया है।**

1. सांप्रदायिकता की सबसे आम अभिव्यक्ति रोजमर्रा की मान्यताओं में धार्मिक पूर्वाग्रहों, धार्मिक समुदायों की रूढ़िवादिता और अन्य धर्मों पर किसी के धर्म की श्रेष्ठता में विश्वास शामिल है।
2. एक सांप्रदायिक मस्तिष्क अक्सर अपने स्वयं के धार्मिक समुदाय के राजनीतिक प्रभुत्व के लिए एक खोज की और जाता है।
3. धार्मिक आधार पर राजनीतिक लामबंदी में राजनीतिक क्षेत्र में एक धर्म के अनुयायियों को एक साथ लाने के लिए पवित्र प्रतीकों, धार्मिक नेताओं, भावनात्मक अपील और भय का उपयोग शामिल है।

4. कभी-कभी सांप्रदायिकता सांप्रदायिक हिंसा, दंगों और नरसंहार का बदसूरत रूप ले लेती है।

**भारत में जातिगत बाधाएं टूट रही हैं। कारण हैं-**

- महात्मा गाँधी और डॉ. बी. आर. अम्बेडकर जैसे राजनीतिक नेताओं और समाज सुधारकों के प्रयास जिन्होंने एक ऐसे समाज की स्थापना के लिए वकालत की और काम किया जिसमें जातिगत असमानताएं अनुपस्थित हों।
- शहरीकरण; साक्षरता और शिक्षा का विकास; व्यावसायिक गतिशीलता
- भारत के संविधान ने किसी भी जाति-आधारित भेदभाव पर प्रतिबंध लगा दिया है।
- जमींदारी का पूर्ण उन्मूलन

**भारत में धर्म और राजनीति:**

गांधी जी ने कहा था, “धर्म को कभी भी राजनीति से अलग नहीं किया जा सकता है। धर्म से उनका मतलब हिंदू धर्म या इस्लाम जैसे किसी धर्म से नहीं था, बल्कि नैतिक मूल्यों और नैतिकता से था जो राजनीति का मार्गदर्शन करने के लिए धर्म से लिया गया था।”

**नारीवादी:** महिला या पुरुष, जो महिलाओं और पुरुषों के लिए समान अधिकारों और अवसरों में विश्वास करता है, को नारीवादी कहा जाता है।

**नारीवादी आंदोलन** व्यक्तिगत, पारिवारिक जीवन और सार्वजनिक मामलों में महिलाओं के लिए समानता प्राप्त करने के उद्देश्य से महिलाओं का आंदोलन।

**श्रम का लैंगिक विभाजन:** घर के अंदर के सारे कार्य महिलाओं द्वारा किये जाते हैं।

**पितृसत्तात्मक समाज:** सभी शक्तियां पुरुषों के पास होती हैं।

- विधायिका (भारत) में महिलाओं का प्रतिनिधित्व कम है- 2019 में लोकसभा में लगभग 14%।
- स्थानीय सरकार में महिलाओं को 1/3 आरक्षण दिया गया है।
- नारीवादी और कई संगठन विधायिका में महिलाओं के आरक्षण की मांग कर रहे हैं।

**पितृसत्ता:** समाज की एक प्रणाली जिसमें पुरुष शक्ति रखते हैं और महिलाओं को काफी हद तक इससे बाहर रखा जाता है।

**महिलाओं के साथ भेदभाव:**

- लड़कों की तुलना में बेहतर प्रदर्शन करने के बावजूद माता-पिता लड़कियों के बजाय लड़कों की शिक्षा पर अपने संसाधनों को खर्च करना पसंद करते हैं।
- एक महिला हर दिन एक औसत पुरुष से अधिक काम करती है।
- समान मजदूरी अधिनियम में समान कार्य के लिए समान मजदूरी का प्रावधान है। लेकिन काम के लगभग सभी क्षेत्रों में महिलाओं को तुलनात्मक रूप से कम भुगतान किया जाता है।
- भारत में लिंग अनुपात बहुत कम है क्योंकि माता पिता बेटा चाहते हैं इसलिए वे लड़की के जन्म से पहले गर्भपात करवा देते हैं।

### **बहुविकल्पीय प्रश्न (1 अंक वाले प्रश्न)**

1. पितृसत्तात्मक समाज का अर्थ होता है-
  - (a) पुरुषों के प्रमुख कला समाज
  - (b) महिलाओं के प्रभुत्व वाला समाज
  - (c) पुरुषों एवं महिलाओं के बीच समानता वाला समाज
  - (d) उपरोक्त में से कोई नहीं

2. निर्वाचित निकायों की किस प्रणाली में लगभग एक तिहाई सीटें महिलाओं के लिए है।
- (a) लोकसभा (b) राज्यसभा  
(c) राज्य विधान सभा (d) पंजायत
3. नारीवादी आंदोलन का मुख्य उद्देश्य है-
- (a) समाज में महिलाओं के लिए सर्वोच्च स्थान की माँग  
(b) समाज में महिलाओं के लिए बराबरी की माँग  
(c) समाज में महिलाओं के लिए विशेषाधिकारों की माँग  
(d) विधायिका में महिलाओं के लिए 50 प्रतिशत सीटों के आरक्षण की माँग
4. समान मजदूरी से सम्बंधित अधिनियम में कहा गया है-
- (a) समान काम के लिए असमान वेतन  
(b) समान काम के लिए समान वेतन  
(c) असमान काम के लिए समान वेतन  
(d) उपरोक्त में से कोई नहीं
5. लिंग अनुपात की गणना की जाती है-
- (a) प्रति हजार लड़कों पर लड़कियों की संख्या  
(b) प्रति हजार शिशुओं पर लड़कों की संख्या  
(c) प्रति हजार लड़कियों पर लड़कों की संख्या  
(d) (a) एवं (b) दोनों
6. महिला आरक्षण विधेयक के द्वारा लोकसभा एवं राज्य विधानसभाओं में महिलाओं के लिए कितने प्रतिशत आरक्षण की माँग की गयी है ?
- (a) 30% (b) 40%  
(c) 33% (d) 50%

7. निम्नलिखित में से किसका मानना था कि राजनीति धर्म द्वारा स्थापित मूल्यों से निर्देशित होना चाहिए?
- (a) लाला लाजपत राय                      (b) दादा भाई नौरोजी  
(c) ए. ओ. ह्यूम                              (d) महात्मा गाँधी

**संकल्पना कारण प्रश्न संख्या 8-11**

नीचे दो कथन, संकल्पना (स) एवं कारण (क) दिए गए हैं। इन कथनों को पढ़कर नीचे दिए गए विकल्पों में से सही उत्तर चुनिए-

- (a) संकल्पना (स) एवं कारण (क) दोनों सत्य हैं एवं कारण, संकल्पना की सही व्याख्या करता है।  
(b) संकल्पना (स) एवं कारण (क) दोनों सत्य हैं परंतु कारण, संकल्पना की सही व्याख्या नहीं करता है।  
(c) संकल्पना (स) सही है परन्तु कारण (क) गलत है।  
(d) कारण (क) सही है परंतु संकल्पना (स) गलत है।
8. **संकल्पना (स):** भारत की विधायिका में महिला प्रतिनिधियों का अनुपात बहुत ही कम है।  
**कारण (क):** भारतीय समाज अभी भी पितृप्रधान है।
9. **संकल्पना (स):** भारत एक धर्मनिरपेक्ष देश है।  
**कारण (क):** भारत में किसी भी धर्म को राजकीय धर्म के रूप में अंगीकार नहीं किया गया है।
10. नीचे दो कथन, संकल्पना (स) एवं कारण (क) दिए गए हैं। इन कथनों को पढ़कर नीचे दिए गए विकल्पों में से सही उत्तर चुनिए-
- संकल्पना (स):** भारत का संविधान सभी नागरिकों और समुदायों को किसी भी धर्म का पालन करने और प्रचार करने की आजादी देता है।  
**कारण (क):** समुदायों में समानता सुनिश्चित करने के लिए संविधान शासन को धार्मिक मामलों में दखल देने का अधिकार देता है।

11. नीचे दो कथन, संकल्पना (स) एवं कारण (क) दिए गए हैं। इन कथनों को पढ़कर नीचे दिए गए विकल्पों में से सही उत्तर चुनिए-
- संकल्पना (स):** भारत में अभी भी जातिगत असमानताएँ जारी हैं।
- कारण (क):** भारत के संविधान में जातिगत असमानताओं को दूर करने के कोई प्रावधान नहीं किया गया है।
12. सांप्रदायिक राजनीति इस धरना पर आधारित है कि-
- (a) एक धर्म दूसरे से श्रेष्ठ है।
- (b) विभिन्न धर्मों के लोग समान नागरिक के रूप में साथ रह सकें।
- (c) कई धर्मों के अनुपायी एक समुदाय बनाते हैं।
- (d) एक धार्मिक समूह का प्रमुख बाकी सभी धर्मों पर कायम करने में शासन की शक्ति का प्रयोग नहीं किया जा सकता।
13. स्तंभों का मिलान कर सही विकल्प चुनिए-
- | स्तंभ क  | स्तंभ ख          |
|--|------------------|
| I. अधिकारों और अवसरों के मामले में स्त्री एवं पुरुष की बराबरी मानने वाला व्यक्ति | (a) सांप्रदायिक  |
| II. धर्म को समुदाय का मुख्य आधार मानने वाला व्यक्ति                              | (b) धर्मनिरपेक्ष |
| III. जाति को समुदाय का मुख्य आधार मानने वाला व्यक्ति                             | (c) नारीवादी     |
| IV. व्यक्तियों के बीच धार्मिक आस्था के आधार पर भेदभाव न करने वाला व्यक्ति        | (d) जातिवादी     |

**विकल्प:**

1. I-(a), II-(b), III-(c), IV-(d) 2. I-(c), II-(b), III-(a), IV-(d)  
3. I-(c), II-(a), III-(d), IV-(b) 4. I-(b), II-(c), III-(a), IV-(d)
14. भारतीय संविधान के बारे में इनमें से कौन सा कथन गलत है ?  
(a) यह धर्म के आधार पर भेदभाव की मनाही करता है।  
(b) यह एक धर्म को राजकीय धर्म बताता है।  
(c) यह सभी लोगों को कोई भी धर्म मानने की आजादी देता है।  
(d) किसी धार्मिक समुदाय में सभी नागरिकों को बराबरी का अधिकार देता है।

**बहुविकल्पीय प्रश्न (उत्तर)**

1. A. पुरुषों के प्रभुत्व वाला समाज  
2. D. पंचायत  
3. B. समाज में महिलाओं के लिए बराबरी की माँग  
4. C. समान काम के लिए समान वेतन  
5. A. प्रति हजार लड़कों पर लड़कियों की संख्या  
6. C. 33%  
7. D. महात्मा गाँधी  
8. A. संकल्पना एवं कारण दोनों सत्य हैं एवं कारण, संकल्पना की सही व्याख्या करता है।  
9. A. संकल्पना एवं कारण दोनों सत्य हैं एवं कारण, संकल्पना की सही व्याख्या करता है।  
10. B. संकल्पना एवं कारण दोनों सत्य हैं परंतु कारण, संकल्पना की सही व्याख्या नहीं करता है।



11. C. संकल्पना सही है परन्तु कारण गलत है।
12. A. एक धर्म दूसरे से श्रेष्ठ है।
13. C. I-C, II-a, III-d, IV-b
14. B. यह एक धर्म को राजकीय धर्म बताता है।

### अतिलघु/लघु दीर्घ उत्तरीय प्रश्न:

1. श्रम के लैंगिक विभाजन का क्या अर्थ है ?
2. समान मजदूरी अधिनियम के क्या प्रावधान हैं ?
3. सांप्रदायिक गतिशीलता किस विचार पर आधारित है ?
4. शहरीकरण क्या है ? जातिगत असमानता के उन्मूलन में यह किस प्रकार सहायक हुआ है ?
5. धर्म एवं राजनीति के संबंध के बारे में गाँधी जी के विचारों की व्याख्या कीजिए।
6. जाति के आधार पर भारत में चुनावी नतीजे तय नहीं हो सकते। उपयुक्त तर्कों के साथ कथन की पुष्टि कीजिए।
7. भारतीय संविधान में वर्णित किन्हीं दो प्रावधानों का वर्णन कीजिए जो भारत को धर्मनिरपेक्ष देश बनाते हैं।
8. लैंगिक विभाजन ने किस प्रकार महिलाओं के राजनीतिक जीवन को प्रभावित किया है ?
9. राजनीति में जाति किस प्रकार प्रभाव डालती है ? व्याख्या कीजिए।
10. राजनीति में धर्म किस प्रकार प्रभाव डालती है ? वर्णन कीजिए।
11. राजनीति में जाति एवं जाति में राजनीति के बीच अंतर स्पष्ट कीजिए।
12. भारत सरकार द्वारा समाज में महिलाओं की स्थिति में सुधार के लिए किए गए प्रयासों की विवेचना कीजिए।

### अतिलघु/लघु/दीर्घ उत्तरीय प्रश्न (उत्तर)

1. स्मरणीय तथ्यों को देखिए।
2. स्मरणीय तथ्यों को देखिए।
3. स्मरणीय तथ्यों को देखिए।
4. स्मरणीय तथ्यों को देखिए।
5. स्मरणीय तथ्यों को देखिए।
6. स्मरणीय तथ्यों को देखिए।
7. स्मरणीय तथ्यों को देखिए।
8. स्मरणीय तथ्यों को देखिए।
9. स्मरणीय तथ्यों को देखिए।
10. स्मरणीय तथ्यों को देखिए।
11. स्मरणीय तथ्यों को देखिए।
12. स्मरणीय तथ्यों को देखिए।

### स्रोत आधारित प्रश्न

1. अनुच्छेद को पढ़कर नीचे दिए गए प्रश्नों के उत्तर दीजिए-  
लड़की एवं लड़कियों के पालन पोषण के क्रम में यह मान्यता उनके मन में बैठा दी जाती है कि औरतों की मुख्य जिम्मेदारी गृहस्थी चलाने और बच्चों का पालन पोषण करने की है। यह चीज अधिकतर परिवारों में श्रम की लैंगिक विभाजन से झलकती है। औरतें घर के अंदर का सारा काम काज जैसे खाना बनाना, सफाई करना, कपड़े धोना और बच्चों की देखरेख करना आदि करती है जबकि मर्द घर के बाहर का काम करते हैं। ऐसा नहीं है कि मर्द यह सारे काम नहीं कर सकते। दरअसल वे सोचते हैं कि ऐसे कामों को करना औरतों के जिम्मे है। जब सिलाई-कढ़ाई से लेकर इन्हीं सारे कामों के लिए पैसे मिलते हैं तो मर्द खुशी-खुशी यही

काम घर के बाहर करते हैं। अधिकांश दर्जी या होटल के रसोइए पुरुष होते हैं। इसी प्रकार औरतें अपने घर के बाहर का काम ना करती हो ऐसा भी नहीं है। गांव में स्त्रियों पानी और जलावन जुटाने से लेकर खेत में खटने तक का काम करती है।

- (a) श्रम के लैंगिक विभाजन के क्या तात्पर्य है ?
- (b) अपने आस-पास से श्रम के लैंगिक विभाजन का एक उदहारण दीजिए।
- (c) लैंगिक विभाजन एक सामाजिक समस्या है। कथन का आशय स्पष्ट कीजिए।

**2. अनुच्छेद को पढ़कर नीचे दिए गए प्रश्नों के उत्तर दीजिए-**

भारत की विधायिका में महिला प्रतिनिधियों का अनुपात बहुत ही कम है। इस समस्या को सुलझाने का एक तरीका तो निर्वाचित संस्थाओं में महिलाओं के लिए कानूनी रूप से एक उचित हिस्सा तय कर देना है। भारत में पंचायती राज के अंतर्गत कुछ ऐसी ही व्यवस्था की गई है। स्थानीय सरकारों यानी पंचायतों और नगर पालिकाओं में एक तिहाई पद महिलाओं के लिए 10 लाख से ज्यादा है। महिला संगठनों और कार्यकर्ताओं की मांग है कि लोकसभा और राज्य विधानसभाओं की भी एक तिहाई सीटें महिलाओं के लिए आरक्षित कर देनी चाहिए।

- (a) विधायिका में महिला प्रतिनिधियों का अनुपात कम क्यों है ?
- (b) पंचायती राज व्यवस्था के अंतर्गत कितनी सीटें महिलाओं के लिए आरक्षित की गयी हैं ?
- (c) विधायिका में महिलाओं के प्रतिनिधित्व को बढ़ाने के लिए किस प्रकार के प्रयास किए जा सकते हैं ?

### स्रोत आधारित प्रश्न (उत्तर)

1. (a) लिंग के आधार पर काम-काज का बँटवारा।
- (b) घर के काम-काज की जिम्मेदारी महिलाओं के ऊपर रहना।
- (c) उपरोक्त कथन का अर्थ है कि वास्तव में श्रम का बँटवारा जैविक रूप से नहीं किया जाता है बल्कि किसी भी पुरुष प्रधान सामाजिक व्यवस्था में जो अनुकूल परिस्थितियाँ बनती हैं उसके आधार पर किया जाता है। श्रम के इस प्रकार के विभाजन से समाज का आधे हिस्से की सामाजिक, आर्थिक, राजनीतिक हितों की अनदेखी की जाती है जो समाज को ऊपर बढ़ने से रोकती है।

## अध्याय : 6

### राजनीतिक दल

#### स्मरणीय तथ्य

1. **राजनीतिक दल:-** लोगों का ऐसा संगठित समूह जो चुनाव लड़ने और सरकार में राजनीतिक सत्ता हासिल करने के उद्देश्य से काम करता है।
2. **सत्तारूढ़ दल:-** वह दल जो सरकार चलाता है।
3. **दल बदल:-** किसी दल विशेष से विधायिका के लिए निर्वाचित होने के बाद प्रतिनिधि का इस दल को छोड़कर किसी अन्य दल में चले जाना।
4. **शपथपत्र:-** किसी अधिकारी को सौंपा गया ऐसा दस्तावेज जिसमें कोई व्यक्ति अपने बारे में निजी सूचनाएँ देता है तथा उसके साथ होने की शपथ खाता है।
5. **राजनीतिक पक्षपात:-** पार्टी समाज के किसी एक हिस्से से संबंधित होता है इसलिए उसका नजरिया समाज के उस हिस्से या वर्ग की तरफ झुका होता है।
6. **एक दलीय प्रणाली:-** कई देशों में सिर्फ एक ही दल को सरकार बनाने और चलाने की अनुमति है। उदाहरण:- चीन
7. **गठबंधन या मोर्चा:-** किसी बहुदलीय व्यवस्था में जब कई दल चुनाव लड़ने तथा जीतने के उद्देश्य से साथ आते हैं तो इस संगठन को गठबंधन या मोर्चा कहते हैं।
8. **सरकार प्रायोजित चुनाव:-** चुनाव लड़ने के लिए सरकार द्वारा दलों को पैसा दिया जाए। यह मदद पेट्रोल, कागज, फोन इत्यादि के रूप में भी हो सकती है।
9. **राजनीतिक दल के घटक:-** नेता, सक्रिय सदस्य और अनुयायी या समर्थक।
10. **विपक्षी पार्टी:-** सबसे बड़ा गैर सत्ताधारी दल या दलों का गठबंधन।

## राजनीतिक दल का अर्थ

लोगों का ऐसा संगठित समूह जो चुनाव लड़ने और सरकार में राजनीतिक सत्ता हासिल करने के उद्देश्य से काम करता है।

राजनीतिक दल के घटक

नेता

सक्रिय सदस्य

अनुयायी या समर्थक

राजनीतिक दल के कार्य

- चुनाव लड़ना
- नीतियों और कार्यक्रमों को मतदाता के सामने रखना
- कानून निर्माण
- सरकार बनाना और सरकार चलाना
- विरोधी पक्ष की भूमिका निभाना
- मुद्दों को उठाना तथा आंदोलन की शुरुआत
- कल्याण कार्यक्रमों को लोगों तक पहुँचाना
- जनमत का निर्माण

कितने राजनीतिक दल?

- कोई देश यह तय नहीं कर सकता।
- यह एक लंबे अंतराल में विकसित होता है।
- निर्भर करता है इस देश के समाज की प्रकृति तथा अन्य सामाजिक और धार्मिक विभाजन।
- निर्भर करता है उस देश का राजनीतिक इतिहास तथा चुनाव प्रणाली पर
- इसे आसानी से बदला नहीं जा सकता।

## विभिन्न प्रकार की दलीय व्यवस्था

दलीय व्यवस्था	द्विदलीय व्यवस्था	बहुदलीय व्यवस्था
<p>सिर्फ एक ही दल को सरकार बनाने और चलाने की अनुमति होती है उदाहरण: चीन</p>	<p>सत्ता आमतौर पर दो मुख्य दलों के बीच बदलती रहती है। उदाहरण: यू.एस.ए., यू. के</p>	<p>जब कई दलों में राजनीतिक सत्ता पाने के लिए होड़ लगी रहती है तथा दो से अधिक पार्टी के सत्ता हासिल करने की संभावना रहती है उदाहरण: भारत</p>

### राजनीतिक दल की जरूरत क्यों?

- आधुनिक लोकतंत्र राजनीतिक दल के बिना नहीं चल सकता।
- अगर दल न हो तो सारे उम्मीदवार स्वतंत्र या निर्दलीय होंगे तब इनमें से कोई बड़े नीतिगत बदलाव के बारे में लोगों से चुनावी वायदे नहीं पर पाएगा।
- सरकार तो बन जाएगी पर उसकी उपयोगिता संदिग्ध होगी।
- चुने हुए प्रतिनिधि सिर्फ अपने निर्वाचन क्षेत्र में किए गए कामों के लिए जवाबदेह होंगे।
- देश कैसे चले ? इसके लिए कोई भी उत्तरदायी नहीं होगा।

### राष्ट्रीय दल तथा क्षेत्रीय दल में अंतर

राष्ट्रीय राजनीतिक दल	क्षेत्रीय राजनीतिक दल
<ul style="list-style-type: none"> <li>• देश की सभी संघीय ईकाईयों या अधिकांश ईकाईयों में मौजूद रहती है।</li> <li>• लोकसभा चुनाव में पड़े कुल वोट का अथवा चार राज्यों के विधान सभा में पड़े कुल वोट का कम से कम 6 प्रतिशत हांसिल करें।</li> <li>• लोकसभा में कम से कम चार सीटों पर जीत दर्ज करें।</li> </ul>	<ul style="list-style-type: none"> <li>• ये दल किसी क्षेत्र विशेष में तथा संघ की कुछ ईकाईयों में ही विद्यमान रहते हैं।</li> <li>• राज्य विधान सभा में पड़े कुल मतों का 6 प्रतिशत या उससे अधिक मत हांसिल करें।</li> <li>• किसी राज्य की विधानसभा में कम से कम 2 सीटों पर जीत दर्ज करें।</li> </ul>

दल :- 2017 में देश में सात दल राष्ट्रीय स्तर पर मान्यता प्राप्त थे।

नवीनतम जानकारी के अनुसार 2019 लोकसभा चुनाव के पश्चात 8 दल राष्ट्रीय दल का दर्जा रखते हैं।

पार्टी का नाम	चिन्ह	मुख्य सिद्धान्त/ विचारधारार्ये
1. भारतीय राष्ट्रीय कांग्रेस	1885 में स्थापित	<ul style="list-style-type: none"> <li>• सबसे पुरानी पार्टी/ कई दशकों तक भारतीय राजनीति में प्रमुख भूमिका।</li> <li>• मध्यममार्गी जो धर्मनिरपेक्षता तथा पिछड़े वर्ग व अल्पसंख्यक समुदाय के हितों की पक्षधर है।</li> <li>• यू.पी.ए की प्रमुख पार्टी</li> <li>• वर्तमान में लोकसभा की मुख्य विपक्षी दल।</li> </ul>
2. भारतीय जनता पार्टी	1880 में स्थापित	<ul style="list-style-type: none"> <li>• भारत के प्राचीन इतिहास व मूल्यों से प्रेरित।</li> <li>• सांस्कृतिक राष्ट्रवाद (हिंदुत्व) में विश्वास</li> <li>• सभी के लिए समान नागरिक सहिता</li> <li>• वर्तमान में शासन कर रही एन.डी.ए. गठबंधन की नेता।</li> </ul>



3. बहुजन समाज पार्टी	1984 में स्थापित	<ul style="list-style-type: none"> <li>• बहुजन समाज अर्थात् दलित, आदिवासी, ओ.बी.सी तथा धार्मिक अल्पसंख्यकों के हितों की पक्षधर।</li> <li>• साहू महाराज महात्मा फूले पेरियार रामास्वामी नायकर तथा डॉ. बी.आर अम्बेडकर के विचारों से प्रेरित।</li> <li>• दलित तथा पिछड़े वर्गों के हितों की रक्षा के लिए तत्पर</li> </ul>
4. भारतीय कम्युनिस्ट पार्टी		<ul style="list-style-type: none"> <li>• मार्क्सवादी, लेनिनवादी धर्मनिरपेक्षता तथा लोकतांत्रिक विचार धारा में विश्वास</li> <li>• सांप्रदायिक व अलगाववादी ताकतों की विरोधी।</li> <li>• कामकाजी वर्ग किसान तथा गरीबों के हितों की रक्षा के लिए संसदीय लोकतांत्रिक व्यवस्था में पूर्ण विश्वास।</li> </ul>
5. भारतीय कम्युनिष्ट पार्टी (मार्क्सवादी)	1925 में स्थापित	<ul style="list-style-type: none"> <li>• समाजवाद, धर्मनिरपेक्षता तथा लोकतंत्र की पक्षधर</li> <li>• सामाजिक आर्थिक न्याय के लिए लोकतांत्रिक चुनाव को एक उपयोगी और करगर तरीका मानती है।</li> <li>• नई आर्थिक नीति तथा घोर विरोध करती है।</li> </ul>

6. अखिल भारतीय तृणमूल कांग्रेस	1988 में स्थापित	<ul style="list-style-type: none"> <li>• 2016 में राष्ट्रीय दल के रूप में मान्यता</li> <li>• धर्मनिरपेक्षता तथा संघवाद के लिए समर्पित।</li> <li>• 2011 से बंगाल में शासन</li> <li>• अरुणाचल प्रदेश मणिपुर तथा त्रिपुरा में भी उपस्थित।</li> </ul>
7. राष्ट्रवादी कांग्रेस पार्टी	1999 में स्थापित	<ul style="list-style-type: none"> <li>• 1999 में कांग्रेस पार्टी में विभाजन के बाद बनी।</li> <li>• विभाजन का मुद्दा था सरकार के प्रमुख पदों पर सिर्फ भारत में जन्में नागरिकों का अधिकार।</li> <li>• लोकतंत्र, गांधीवादी धर्मनिरपेक्ष समता, सामाजिक न्याय और संघवाद में आस्था।</li> </ul>
8. नेशनल पीपल्स पार्टी	जुलाई 2012 में स्थापित	<ul style="list-style-type: none"> <li>• 7 जून 2019 को राष्ट्रीय दल के रूप में मान्यता</li> <li>• उत्तर पूर्वी भारत से राष्ट्रीय दल का दर्जा पाने वाला पहला दल।</li> <li>• प्रभाव मुख्यतः मेघालय में।</li> </ul>

भारत के प्रमुख प्रांतीय दल (तालिका 6.2)

राज्य	प्रांतीय दल
जम्मू एवं कश्मीर	जम्मू एंड कश्मीर नेशनल कान्फ्रेंस, जम्मू एंड कश्मीर नेशनल पैथर्स पार्टी
उत्तराखंड	उत्तराखंड क्रांति दल
पंजाब	शिरोमणि अकाली दल
हरियाणा	इंडियन नेशनल लोक दल
महाराष्ट्र	शिवसेना
गोवा	महाराष्ट्रवादी गोमांतक पार्टी, यूनाटेड गोंअस पार्टी
कर्नाटक	जनता दल (सेक्यूलर)
केरल	केरल कांग्रेस (मणि), इंडियन फेडरल डेमोक्रेटिक पार्टी
तमिलनाडु	डीएमके, एआईएडीएमके
आंध्र प्रदेश	तेलगुदेशम
तेलंगाना	भारत राष्ट्र समिति
उड़ीसा	बीजू जनता दल
झारखंड	झारखंड मुक्ति मोर्चा
पश्चिम बंगाल	फॉरवर्ड ब्लॉक, तृणमुल कांग्रेस
त्रिपुरा	डंडीजिन्स नेशनल फ्रंट, मिजोरम नेशनलिस्ट पार्टी
मणिपुर	मणिपुर पीपल्स पार्टी
अरुणाचल प्रदेश	अरुणाचल प्रदेश
असम	असम गण परिषद, असम यूनाईटेड डेमाक्रटिक, फ्रंट
सिक्किम	सिक्किम डेमोक्रेटिक फ्रंट
बिहार	लोक जनशक्ति पार्टी, जनता दल (यू.) राष्ट्रीय जनता दल
उत्तर प्रदेश	समाजवादी पार्टी, राष्ट्रीय लोकदल
दिल्ली	आम आदमी पार्टी

कुछ रोचक तथ्य

स्वतंत्रता के उपरांत भारत में प्रथम आम चुनाव 1951-52 में हुए।

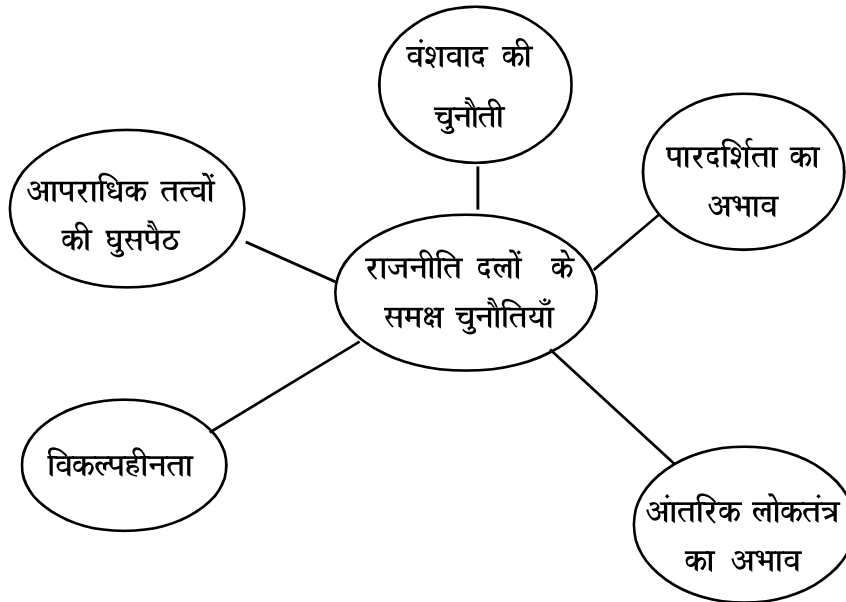
पंडित जवाहर लाल नेहरू भारत के प्रथम प्रधानमंत्री बने।

व्योमेश चंद्र बनर्जी भारतीय राष्ट्रीय कांग्रेस के प्रथम अध्यक्ष थे।

श्यामा प्रसाद मुखर्जी ने 1980 में भारतीय जनता पार्टी की नींव रखी।

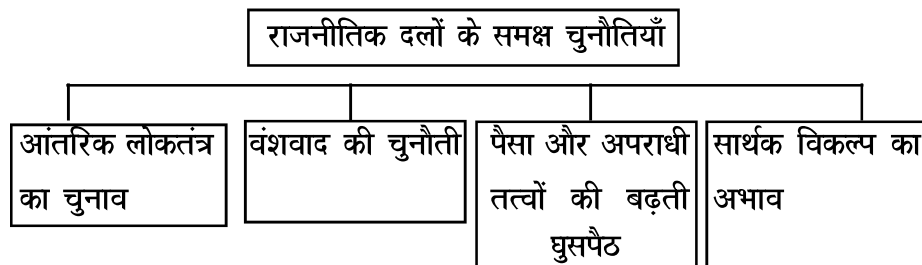
कांशीराम ने 1984 में बहुजन समाज पार्टी की नींव रखी।

1985 में संसद ने दल-बदल कानून पारित किया उस समय राजीव गाँधी प्रधानमंत्री थे।



**राजनीतिक दलों में सुधार हेतु कुछ सुझाव:-**

- दल बदल कानून को सख्त किया जाए।
- आपराधिक प्रवृत्तियों के लोगों पर रोक लगे।
- राजनीतिक दलों में समय-समय पर सांगठनिक चुनाव हो।
- राजनीतिक दलों के आंतरिक कामकाज को पारदर्शी बनाए जाये।



## राजनीतिक दल

### बहुविकल्पीय प्रश्न

- निम्नलिखित में से कौन सा राजनीतिक दलो का घटक नहीं है ?
  - नेता
  - सक्रिय सदस्य
  - समर्थक
  - चुनाव आयुक्त
- निम्नलिखित में से किस देश में बहुदलीय प्रणाली है ?
  - भारत
  - चीन
  - संयुक्त राज्य अमेरिका
  - ब्रिटेन
- भारत में राजनीतिक दलों को पंजीकरण और मान्यता कौन प्रदान करता है ?
  - राष्ट्रपति
  - प्रधान मंत्री
  - सूचना आयोग
  - निर्वाचन आयोग
- बहुजन समाज पार्टी का गठन किसके नेतृत्व में हुआ था ?
  - ममता बनर्जी
  - कांशीराम
  - श्यामा प्रसाद मुखर्जी
  - शरद पवार
- निम्नलिखित में से कौन सा राजनीतिक दल दुनिया के सबसे पुराने दलों में से एक है एवं जिसका गठन 1885 में हुआ था ?
  - भारतीय जनता पार्टी
  - इंडियन नेशनल कांग्रेस
  - बहुजन समाज पार्टी
  - भारतीय कम्युनिस्ट पार्टी
- निम्नलिखित में से किस देश में एक दलीय शासन व्यवस्था है ?
  - संयुक्त राज्य अमेरिका
  - चीन
  - ब्रिटेन
  - भारत
- राष्ट्रीय राजनीतिक दल की मान्यता पाने के लिए निम्नलिखित में से क्या अपेक्षित है ?
  - किसी एक राज्य के विधान सभा के चुनाव में पड़े कुल मतों का कम से कम 6% मत प्राप्त करना।

II. लोकसभा चुनाव में पड़े कुल वोट का कम से कम 6% मत प्राप्त करना।

III. लोकसभा की कम से कम चार सीटों पर जीत दर्ज करना।

(a) केवल I एवं II (b) केवल I एवं III

(c) केवल II एवं III (d) सभी I, II एवं III

नीचे दो कथन, संकल्पना (स) एवं कारण (क) दिए गए हैं। इन कथनों को पढ़कर नीचे दिए गए विकल्पों में से सही उत्तर चुनिए-

A. संकल्पना (स) एवं कारण (क) दोनों सत्य हैं एवं कारण (क), संकल्पना (स) की सही व्याख्या करता है।

B. संकल्पना (स) एवं कारण (क) दोनों सत्य हैं परन्तु कारण, संकल्पना की सही व्याख्या नहीं करता है।

C. संकल्पना (स) सही है परन्तु कारण (क) गलत है।

D. कारण (क) सही है परन्तु संकल्पना (स) गलत है।

8. **संकल्पना (स):** दल बदल विरोधी कानून ने दल-बदल को कम करने में मदद की है।

**कारण (क):** कानून कहता है कि अगर कोई विधायक या सांसद दल बदलता है तो वह विधायिका में स्थान खो देगा।

9. **संकल्पना (स):** हाल के वर्षों में भारतीय संसद अधिक विविध हो गयी है।

**कारण (क):** क्षेत्रीय दलों की संख्या और ताकत में वृद्धि हुई है।

10. **संकल्पना (स):** सभी राजनीतिक दलों को अपना पंजीकरण चुनाव आयोग के पास करवाना पड़ता है।

**कारण (क):** चुनाव आयोग पंजी त दलों को चुनाव लड़ने के लिए धन उपलब्ध करवाता है।

11. **संकल्पना (स):** 1996 से 2014 के बीच राष्ट्रीय स्तर पर गठबंधन सरकार का दौर रहा।

**कारण (क):** किसी भी राष्ट्रीय राजनीतिक दल को पूर्ण बहुमत नहीं मिला।

12. राजनीतिक दलों से संबंधित निम्नलिखित कथनों पर विचार कर सही कथन/कथनों की पहचान कीजिए—

- I. राजनीतिक दल लोकतंत्र की एक अनिवार्य शर्त है।
- II. राजनीतिक दलों का उदय प्रतिनिधित्व आधारित लोकतांत्रिक व्यवस्था के उभार के साथ जुड़ा है।
- III. स्वस्थ लोकतांत्रिक देश के लिए केवल दो दलीय व्यवस्था ही सबसे अच्छी व्यवस्था है।

- (a) केवल I एवं II
- (b) केवल II एवं III
- (c) सभी I एवं III
- (d) सभी I, II एवं III

13. निम्नलिखित में से गलत मिलान की पहचान कीजिए—

**राजनीतिक दल का नाम      स्थिति (13 अप्रैल 2018  
के अनुसार**

- |                       |              |
|-----------------------|--------------|
| A. जनता दल (यूनाइटेड) | क्षेत्रीय दल |
| B. भारतीय जनता पार्टी | क्षेत्रीय दल |
| C. शिरोमणि अकाली दल   | क्षेत्रीय दल |
| D. तेलगु देशम पार्टी  | क्षेत्रीय दल |



### बहुविकल्पीय प्रश्न (उत्तर)

1. D. चुनाव आयुक्त
2. A. भारत
3. D. निर्वाचन आयोग
4. B. कांशीराम
5. B. इंडियन नेशनल कांग्रेस
6. B. चीन
7. C. केवल II एवं III
8. A. संकल्पना एवं कारण दोनों सत्य हैं एवं कारण, संकल्पना की सही व्याख्या करता है।
9. A. संकल्पना एवं कारण दोनों सत्य हैं एवं कारण, संकल्पना की सही व्याख्या करता है।
10. C. संकल्पना सही है परन्तु कारण गलत है।
11. A. संकल्पना एवं कारण दोनों सत्य हैं एवं कारण, संकल्पना की सही व्याख्या करता है।
12. A. केवल I एवं II
13. B. भारतीय जनता पार्टी क्षेत्रीय दल

### अतिलघु/लघु/दीर्घ उत्तरीय प्रश्न:

1. राजनीतिक दल के घटक कौन-कौन से हैं? वर्णन कीजिए।
2. लोकतंत्र में विपक्ष की क्या भूमिका है?
3. बहुदलीय व्यवस्था लोकतंत्र के लिए किस प्रकार लाभदायक है।
4. एक दलीय शासन प्रणाली एक लोकतांत्रिक व्यवस्था में अच्छा विकल्प नहीं है। उपयुक्त उदाहरण के द्वारा कथन की पुष्टि कीजिए।
5. बहुदलीय शासन व्यवस्था के दोषों पर चर्चा कीजिए।

6. दल-बदल विरोधक कानून क्या है? इसने चुनावी प्रक्रिया में धनबल एवं बाहुबल के प्रयोग जैसी कमियों को दूर करने में किस प्रकार सहायता की है?
7. लोकतंत्र में राजनीतिक दलों के कार्यों की व्याख्या कीजिए।
8. राजनीतिक दलों को किन चुनौतियों का सामना करना पड़ रहा है? वर्णन कीजिए।
9. राजनीतिक दलों की कमियों को दूर करने के कुछ सुझावों पर चर्चा कीजिए।
10. 'राजनीतिक दल लोकतंत्र के लिए एक आवश्यक शर्त है।' उचित तर्कों द्वारा कथन की पुष्टि कीजिए।
11. भारत के लोकतांत्रिक व्यवस्था में चुनाव आयोग की भूमिका का वर्णन कीजिए।
12. भारत की लोकतांत्रिक व्यवस्था की सफलता में बहुदलीय व्यवस्था किस प्रकार सहायक है?
13. भारत में क्षेत्रीय दलों के उभार ने संघवाद एवं लोकतंत्र को मजबूत किया है। कथन का आलोचनात्मक मूल्यांकन कीजिए।
14. 'मान्यता प्राप्त दल' का क्या अर्थ है? किसी दल को राज्य के राजनीतिक दल का दर्जा प्राप्त करने की क्या शर्तें हैं?

#### अतिलघु/लघु/दीर्घ उत्तरीय प्रश्न (उत्तर)

1. स्मरणीय तथ्यों को देखिए।
2. स्मरणीय तथ्यों को देखिए।
3. स्मरणीय तथ्यों को देखिए।
4. स्मरणीय तथ्यों को देखिए।
5. स्मरणीय तथ्यों को देखिए।

6. स्मरणीय तथ्यों को देखिए।
7. स्मरणीय तथ्यों को देखिए।
8. स्मरणीय तथ्यों को देखिए।
9. स्मरणीय तथ्यों को देखिए।
10. स्मरणीय तथ्यों को देखिए।
11. स्मरणीय तथ्यों को देखिए।
12. स्मरणीय तथ्यों को देखिए।
13. स्मरणीय तथ्यों को देखिए।
14. स्मरणीय तथ्यों को देखिए।

### स्त्रोत आधारित प्रश्न

#### 1. अनुच्छेद को पढ़कर निम्नलिखित प्रश्नों के उत्तर दीजिए-

विश्व के संघीय व्यवस्था वाले लोकतंत्रों में दो तरह के राजनीतिक दल हैं- संघीय इकाइयों में से सिर्फ एक इकाई में अस्तित्व रखने वाले दल और अनेक या संघ की सभी इकाइयों में अस्तित्व रखने वाले दल भारत में भी यही स्थिति है। कई पार्टियां पूरे देश में फैली हुई हैं और उन्हें राष्ट्रीय पार्टी कहा जाता है। इन दलों की विभिन्न राज्यों में इकाइयाँ हैं। पर कुल मिलाकर देखें तो यह सारी इकाइयां राष्ट्रीय स्तर पर तय होने वाली नीतियों कार्यक्रमों और नीतियों को ही मानती हैं। देश की हर पार्टी को निर्वाचन आयोग में अपना पंजीकरण कराना पड़ता है। आयोग सभी दलों को समान मानता है पर यह बड़े और स्थापित दलों को कुछ विशेष सुविधाएं देता है। इन्हें अलग चुनाव चिन्ह दिया जाता है जिसका प्रयोग पार्टी का अधि त उम्मीदवार ही कर सकता है। इस विशेषाधिकार और कुछ अन्य लाभ पाने वाली पार्टियों को मान्यता प्राप्त दल कहते हैं।

चुनाव आयोग ने स्पष्ट नियम बनाए हैं कि कोई दल कितने प्रतिशत वोट और सीट जीतकर मान्यता प्राप्त दल बन सकता है। जब कोई पार्टी राज्य विधानसभा के चुनाव में पड़े कुल मतों का 6 फीसदी या उससे अधिक हासिल करती है और कम से कम 2 सीटों पर जीत दर्ज करती है तो उसे अपने राज्य के राजनीतिक दल के रूप में मान्यता मिल जाती है। अगर कोई दल लोकसभा चुनाव में पड़े कुल वोट का अथवा 4 राज्यों के विधानसभा चुनाव में पड़े कुल वोटों का 6: हासिल करता है और लोकसभा के चुनाव में कम से कम 4 सीटों पर जीत दर्ज करता है तो उसे राष्ट्रीय दल की मान्यता मिलती है।

- (a) मान्यता प्राप्त दल किसे कहते हैं ?
- (b) राजनीतिक दलों को चुनाव आयोग में पंजीकरण कराने से क्या विशेषाधिकार प्राप्त होते हैं ?
- (c) राष्ट्रीय दल बनने की क्या आवश्यक शर्तें हैं ?

2. अनुच्छेद को पढ़कर निम्नलिखित प्रश्नों के उत्तर दीजिए-  
कई देशों में सिर्फ एक ही दल को सरकार बनाने और चलाने की अनुमति है। इस कारण उन्हें एक दलीय शासन व्यवस्था कहा जाता है। कक्षा 9 में हमने देखा था कि चीन में सिर्फ कम्युनिस्ट पार्टी की शासन करने की अनुमति है। हालांकि कानूनी रूप से वहां भी लोगों को राजनीतिक दल बनाने की आजादी है पर वहां की चुनाव प्रणाली सत्ता के लिए स्वतंत्र प्रतिद्वंद्विता की अनुमति नहीं देती इसलिए लोगों को नया राजनीतिक दल बनाने का कोई लाभ नहीं दिखता और इसलिए कोई नया दल नहीं बन पाता। हम एक दलीय व्यवस्था को अच्छा विकल्प नहीं मान सकते क्योंकि यह लोकतांत्रिक विकल्प नहीं है। किसी भी लोकतांत्रिक

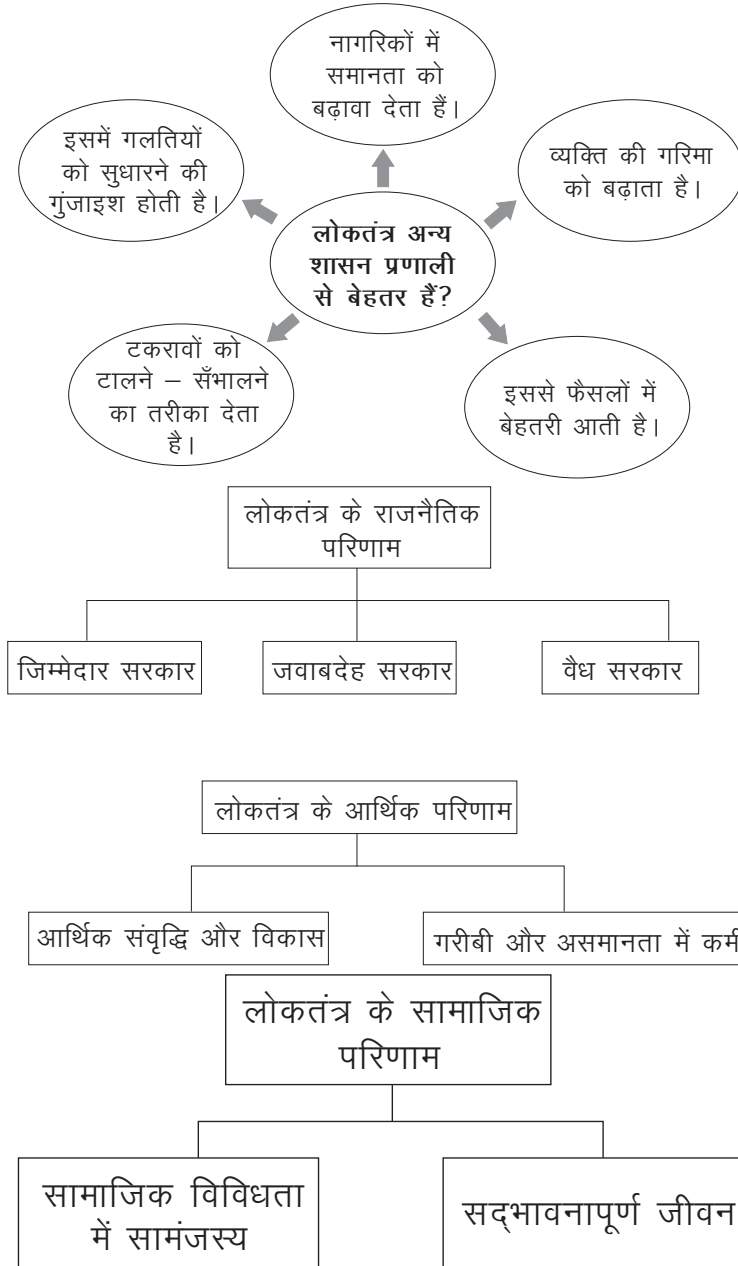
व्यवस्था में कम से कम दो दलों को राजनीतिक सत्ता के लिए चुनाव में प्रतिद्वंद्विता करने की अनुमति तो होनी ही चाहिए। साथ ही साथ उन्हें सत्ता में आ सकने का पर्याप्त अवसर भी रहना चाहिए।

- (a) एक दलीय शासन व्यवस्था का क्या अर्थ है ?
- (b) चीन में कोई भी दूसरा राजनीतिक दल सक्रिय नहीं है। क्यों ?
- (c) 'एक दलीय व्यवस्था लोकतांत्रिक नहीं है।' कथन का आशय स्पष्ट कीजिए।

### स्रोत आधारित प्रश्न (उत्तर)

1. (a) निर्वाचन आयोग में पंजीकृत कुछ बड़े एवं स्थापित दल जिन्हें आयोग की तरफ से कुछ विशेषाधिकार एवं सुविधाएँ दी जाती हैं मान्यता प्राप्त दल कहलाते हैं।
  - (b) अलग चुनाव चिन्ह दिया जाता है जिसका प्रयोग पार्टी का अधिकृत उम्मीदवार ही कर सकता है।
  - (c) अगर कोई दल लोकसभा चुनाव में पड़े कुल वोट का अथवा 4 राज्यों के विधानसभा चुनाव में पड़े कुल वोटों का 6: हासिल करता है और लोकसभा के चुनाव में कम से कम 4 सीटों पर जीत दर्ज करता है तो उसे राष्ट्रीय दल की मान्यता मिलती है।
2. विद्यार्थी स्वयं हल करेंगे।

## 5. लोकतंत्र के परिणाम



लोकतांत्रिक सरकार वैध सरकार है क्योंकि

- स्वतंत्रा एवं निष्पक्ष चुनाव
- नियमित सार्वजनिक बहस
- नागरिकों को सूचना का अधिकार
- नियोजित विधन
- पारदर्शी फैसले

लोकतंत्रा सामाजिक विविधताओं को समायोजित करता है-

- संघर्ष और सामाजिक तनाव को कम करती है।
- बातचीत के तंत्रा को विकसित करती है।
- अल्पसंख्यकों के प्रतिनिधित्व की उचित व्यवस्था करता है।

**वस्तुनिष्ठ प्रश्न (1 अंक वाले प्रश्न)**

1. लोकतांत्रिक सरकार अन्य शासन व्यवस्था से बेहतर है क्योंकि:
  - (a) नागरिक अधिकारों एवं गरिमा का संरक्षण करती है।
  - (b) आर्थिक विकास को कम करती है।
  - (c) सामाजिक विविधता का निरादर करती है।
  - (d) उपरोक्त में से कोई नहीं।
2. किस प्रकार की सरकार द्वारा लिए गए निर्णय लोगों में अधिक स्वीकार्य होते हैं ?
  - (a) तानाशाही
  - (b) धर्मिक
  - (c) अधिनायकवादी
  - (d) लोकतांत्रिक
3. लोकतांत्रिक व्यवस्था ने सफलतापूर्वक ..... को समाप्त कर दिया है।
  - (a) लोगों के मध्य टकराव को
  - (b) आर्थिक असमानता को
  - (c) मतभेदों को
  - (d) राजनीति में गैर बराबरी को
4. लोकतांत्रिक व्यवस्था के राजनीतिक और सामाजिक असमानताओं के बारे में किए गए अध्ययन बताते हैं कि-

- (a) लोकतंत्र और विकास साथ ही चलते हैं।  
 (b) लोकतांत्रिक व्यवस्थाओं में असमानता बनी रहती है।  
 (c) तानाशाही में असमानता नहीं होती।  
 (d) तानाशाही लोकतंत्र से बेहतर साबित हुई है।
5. निम्नलिखित में से सही कथन की पहचान कीजिए।
1. लोकतंत्र नागरिकों की गरिमा और आजादी को बढ़ावा देता है।
  2. लोकतंत्र सामाजिक विविधताओं में सामंजस्य स्थापित करता है।
  3. लोकतंत्र बहुसंख्यकवाद पर आधारित है।
- (a) केवल 1  
 (b) केवल 1 व 2  
 (c) केवल 3  
 (d) सभी कथन सत्य हैं।
6. लोकतंत्र के मूल्यांकन के संदर्भ में इनमें से कोई क चीज लोकतांत्रिक व्यवस्थाओं के अनुरूप नहीं है। उसकी पहचान कीजिए।
- (a) स्वतंत्रा एवं निष्पक्ष चुनाव
  - (b) व्यक्ति की गरिमा
  - (c) बहुसंख्यको का शासन
  - (d) कानून के समक्ष समानता
7. एक गैर लोकतांत्रिक सरकार से आप क्या अपेक्षित नहीं कर सकते हैं ?
- (a) दक्षता
  - (b) प्रभावशीलता
  - (c) पारदर्शिता
  - (d) इनमें से कोई नहीं
8. निम्नलिखित में से किसे लोकतांत्रिक सरकारें सर्वाधिक बढ़ावा देती है ?
- (a) आर्थिक असमानता
  - (b) सामाजिक असमानता



- (c) नागरिकों की गरिमा और स्वतंत्रता
- (d) उपरोक्त सभी

9. लोकतंत्र क्या स्थापित करता है-

- (a) आर्थिक समानता
- (b) राजनैतिक समानता
- (c) तीव्र आर्थिक गति
- (d) उपरोक्त सभी

10. गैर लोकतांत्रिक सरकार क्या स्थापित करती है-

- (a) नागरिकों की गरिमा और अधिकार
- (b) राजनैतिक स्वतंत्रता
- (c) नीतियों पर सार्वजनिक बहसे
- (d) उपरोक्त में से कोई नहीं।

प्रश्न संख्या 11 से 15 तक संकल्पना एवं कारण आधारित प्रश्न है। जिनके लिए निम्नलिखित विकल्पों का चयन कीजिए।

विकल्प:

- A. संकल्पना (स) एवं कारण (क) दोनों सही है एवं कारण, संकल्पना की सही व्याख्या है।
- B. संकल्पना (स) एवं कारण (क) दोनों सही है परन्तु कारण, संकल्पना की सही व्याख्या नहीं है।
- C. संकल्पना (स) सही है एवं कारण (क) गलत है।
- D. संकल्पना (स) गलत है परंतु कारण (क) सही है।

11. **संकल्पना (स)** भारत में नागरिकों के अधिकारों और गरिमा की रक्षा की जाती है।

**कारण (क)** भारत के लोकतांत्रिक देश है।

12. **संकल्पना (स)** लोकतांत्रिक देशों में आर्थिक विकास की गति तीव्र होती है।  
**कारण (क)** लोकतंत्र आर्थिक असमानता को दूर करने का प्रयास करता है।
13. **संकल्पना (स)** लोकतंत्र अल्पसंख्यकों के अधिकारों को भी संरक्षित करता है।  
**कारण (क)** लोकतंत्र बहुसंख्यकों की इच्छा पर निर्भर करता है।
14. **संकल्पना (स)** लोकतंत्र में निर्णय लेने में देरी होती है।  
**कारण (क)** निर्णय प्रक्रिया में अधिक लोगों के शामिल होने के कारण निर्णय की गुणवत्ता में सुधार होता है।
15. **संकल्पना (स)** लोकतंत्र सामाजिक विविधताओं का सम्मान नहीं करता है।  
**कारण (क)** लोकतंत्र व्यक्ति की गरिमा और अधिकारों की रक्षा करता है।

### उत्तरमाला

1. A. नागरिक अधिकारों एवं गरिमा का संरक्षण करती है।
2. D. लोकतांत्रिक
3. D. राजनीति में गैर बराबरी को
4. A. लोकतंत्र और विकास साथ ही चलते हैं।
5. B. केवल 1 व 2
6. C. बहुसंख्यकों का शासन
7. C. पारदर्शिता
8. C. नागरिकों की गरिमा और स्वतंत्रता
9. D. राजनैतिक समानता
10. D. उपरोक्त में से कोई नहीं।

11. A. संकल्पना (स) एवं कारण (क) दोनों सही है एवं कारण, संकल्पना की सही व्याख्या है।
12. C. संकल्पना (स) सही है एवं कारण (क) गलत है।
13. D. संकल्पना (स) गलत है परंतु कारण (क) सही है।
14. A. संकल्पना (स) एवं कारण (क) दोनों सही हैं एवं कारण, संकल्पना की सही व्याख्या है।
15. B. संकल्पना (स) गलत है परंतु कारण (क) सही है।

**लघु/दीर्घ प्रश्न (2,3 एवं 5 अंक वाले प्रश्न)**

- प्र.1 लोकतांत्रिक सरकार वैध सरकार होती है। कथन के समर्थन में तर्क दीजिए।
- प्र.2 'लोकतंत्र सामाजिक विविधताओं को समायोजित करता है। उदाहरण सहित कथन की पुष्टि कीजिए।
- प्र.3 'लोकतंत्र अन्य प्रकार की शासन व्यवस्था की तुलना बेहतर होती है। कथन की समीक्षा कीजिए।
- प्र.4 'शिकायतों का बने रहना लोकतंत्र की सफलता की गवाही देता है। कथन का औचित्य सिद्ध कीजिए।
- प्र.5 लोकतंत्र की किन्हीं तीन सामान्य विशेषताओं का वर्णन कीजिए।
- प्र.6 लोकतंत्र के सामाजिक परिणामों का उल्लेख कीजिए।
- प्र.7 लोकतंत्र के आर्थिक परिणामों की विवेचना कीजिए।
- प्र.8 लोकतांत्रिक सरकारों को बेहतर करने हेतु कुछ सुझाव दीजिए।
- प्र.9 लोकतंत्र आर्थिक विकास के मामले में अन्य सरकारों से कुछ पीछे है। कथन की आलोचनात्मक समीक्षा कीजिए।
- प्र.10 लोकतंत्र से अपेक्षित परिणामों पर संक्षिप्त नोट लिखिए।

## उत्तरमाला लघु/दीर्घ प्रश्न

1. स्मरणीय तथ्यों को देखें।
2. स्मरणीय तथ्यों को देखें।
3. स्मरणीय तथ्यों को देखें।
4. शिकायतों का बने रहना लोकतंत्र की सफलता की गवाही देता है-
  - लोकतंत्र का उद्देश्य नागरिकों में स्वतंत्रता की भावना का विकास करना है, वे बिना डरे सरकार की आलोचना कर रहे ये दिखाता है कि लोकतंत्र अपने उद्देश्यों में सफल हो रहा है।
  - लोगों के अधिकारों की मांग उनके जागरूक होने निशानी है।
  - सरकार के काम-काज की आलोचनात्मक समीक्षा ही उसे बेहतर बनने में मदद करती है।
  - प्रजा के नागरिक बनने की गवाही देता है।
  - सक्रिय नागरिकों के रूप में लोगों की बढ़ोतरी लोकतंत्रा को मजबूत करती है।
5. स्मरणीय तथ्यों को देखें।
6. स्मरणीय तथ्यों को देखें।
7. स्मरणीय तथ्यों को देखें।
8. स्मरणीय तथ्यों को देखें।
9. स्मरणीय तथ्यों को देखें।
10. स्मरणीय तथ्यों को देखें।

### स्रोत आधारित प्रश्न (4 अंक)

1. नीचे दिए गए अनुच्छेद को पढ़िए एवं पूछे गए प्रश्नों के उत्तर दीजिए।

लोकतंत्र में सबसे बड़ी चिंता यह होती है कि लोगों को अपना शासक चुनने का अधिकार और शासकों पर नियंत्रण बरकरार रहे। वक्त जरूरत और यथा संभव इन चीजों के लिए लोगों को निर्णय प्रक्रिया में

भागीदारी करने में सक्षम होना चाहिए ताकि लोगों के प्रति जिम्मेवार सरकार बन सके और सरकार लोगों की जरूरतों और उम्मीदों का ध्यान रखे।

- (a) लोकतंत्र की एक सबसे महत्वपूर्ण चिंता का वर्णन कीजिए।
- (b) लोगों की भागीदारी लोकतंत्र को मजबूत किस प्रकार बनाती है?
- (c) लोकतंत्र के लिए आवश्यक किन्हीं दो शर्तों का उल्लेख कीजिए।

**2. नीचे दिए गए अनुच्छेद को पढ़िए एवं पूछे गए प्रश्नों के उत्तर दीजिए।**

लोकतांत्रिक व्यवस्था राजनैतिक समानता पर आधारित होती है। प्रतिनिधियों के चुनाव में हर व्यक्ति का वजन बराबर होता है। व्यक्तियों को राजनैतिक क्षेत्र में परस्पर बराबरी का दर्जा तो मिल जाता है लेकिन इसके साथ साथ हम आर्थिक असमानता को भी बढ़ता हुआ पाते हैं। मुठठीभर धनकुबेर आय और संपत्ति में अपने अनुपात से बहुत ज्यादा हिस्सा पाते हैं। इतना ही नहीं देश की कुल आय में उनका हिस्सा बढ़ता गया है। समाज के सबसे निचले हिस्से के लोगों को जीवन बसर करने के लिए काफी कम साधन मिलते हैं।

- (a) क्या लोकतंत्र आर्थिक समानता को भी सुनिश्चित करता है?
- (b) आर्थिक असमानता को दूर करने के कुछ उपाय बताइए।
- (c) लोकतंत्र में राजनैतिक समानता को सुनिश्चित किस प्रकार किया जा सकता है? दो उपाय बताइए।

**उत्तरमाला स्रोत आधारित प्रश्न**

**1. नीचे दिए गए अनुच्छेद को पढ़िए एवं पूछे गए प्रश्नों के उत्तर दीजिए।**

- (a) शासक चुनने का अधिकार अथवा शासकों पर नियंत्रण
- (b) अधिक लोगों की भागीदारी समाज के सभी वर्गों की भागीदारी को सुनिश्चित करती है।

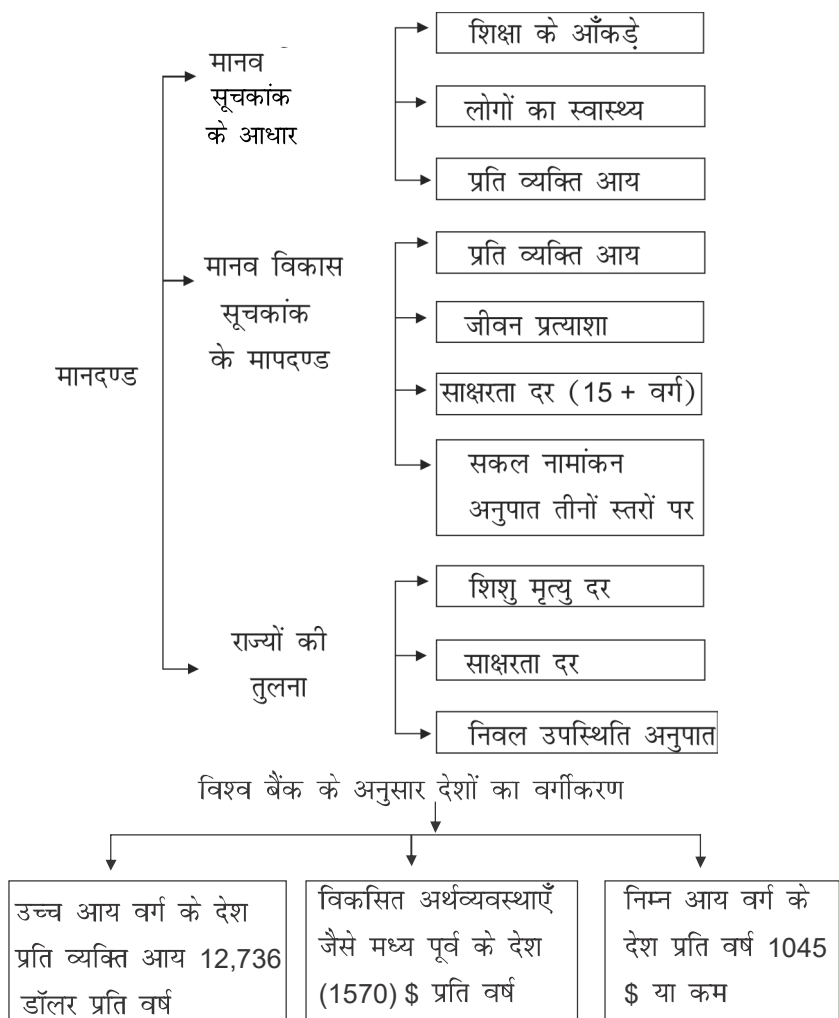
- (c) (i) नागरिकों की गरिमा और अधिकारों को सुनिश्चित करना।  
(ii) स्वतंत्रा एवं निष्पक्ष चुनाव  
(iii) अधिकतम लोगों की भागीदारी

2. नीचे दिए गए अनुच्छेद को पढ़िए एवं पूछे गए प्रश्नों के उत्तर दीजिए।

विद्यार्थी अनुच्छेद को पढ़कर स्वयं हल करेंगे।

## अर्थशास्त्र कक्षा 10वीं

### 1. “विकास”



#### पाठ के मुख्य बिन्दु:

1. अर्थव्यवस्था - एक ढाँचा जिसके अन्तर्गत लोगों की आर्थिक क्रियाओं का अध्ययन किया जाता है।

2. आर्थिक विकास:- एक ऐसी प्रक्रिया है जिसके द्वारा एक अर्थव्यवस्था की वास्तविक 'प्रति व्यक्ति आय' दीर्घ अवधि में बढ़ती है।
3. लोगों या समूहों का प्राथमिक लक्ष्य - अधिक आय पाना। तथा समानता, स्वतंत्रता, सुरक्षा व आदर भाव अन्य लक्ष्य हैं।
4. आर्थिक नियोजन - देश के साधनों का लाभ उठाकर देश के विकास को योजनाबद्ध रूप से बढ़ाना।
5. देशों के मध्य तुलना करने के लिए उनकी आय सबसे महत्त्वपूर्ण विशिष्टता समझी जाती है।
6. देशों के मध्य विकास को नापने के लिए औसत आय के साथ सार्वजनिक सुविधाओं की उपलब्धता, स्वास्थ्य सेवाएँ, जन्म व मृत्यु दर, जीवन प्रत्याशा, प्रदूषण मुक्त वातावरण आदि मानकों का भी प्रयोग किया जाता है।
7. प्रत्येक देश के लिए औसत आय की गणना, अन्तर्राष्ट्रीय मुद्रा डॉलर में की जाती है।
8. **शिशु मृत्युदर** - किसी वर्ष में पैदा हुए 1000 जीवित बच्चों में से एक वर्ष की आयु से पहले मर जाने वाले बच्चों का अनुपात।
9. **साक्षरता दर** - 7 वर्ष या उससे अधिक वर्ष की आयु के लोगों में साक्षर जनसंख्या का अनुपात।
10. **निवल उपस्थिति अनुपात** - 14 तथा 15 वर्ष की आयु के स्कूल जाने वाले कुल बच्चों का उस आयु वर्ग के कुल बच्चों के साथ प्रतिशत।
11. प्रति व्यक्ति आय या औसत आय = 
$$\frac{\text{कुल राष्ट्रीय आय}}{\text{कुल जनसंख्या}}$$
12. बी. एम. आई - शरीर का द्रव्यमान सूचकांक पोषण वैज्ञानिक किसी व्यस्क



के अल्पपोषित होने की जाँच कर सकते हैं। यदि यह 18.5 से कम है तो व्यक्ति अल्पपोषित है अगर 25 से ऊपर है तो वह मोटापे से ग्रस्त है।

13. मानव विकास - सूचकांक की गणना में भारत का 131 वां. स्थान है।
14. मानव विकास सूचकांक - आय व अन्य कारकों की समकेतिक सूची इसके आधार पर किसी देश को उसकी गुणवत्ता के आधार पर वर्गीकृत किया जाता है। यह विभिन्न देशों में विकास के स्तर का मूल्यांकन करने का मापदंड है। इसमें देशों की तुलना लोगों के शैक्षिक स्तर, स्वास्थ्य स्थिति और प्रति व्यक्ति आय के आधार पर होती है।

आधार	विकसित देश	विकासशील देश
परिभाषा	वह देश जिसकी औद्योगिकीकरण की गति व प्रति व्यक्ति आय अधिक हो।	वह देश जिसकी औद्योगिकीकरण की गति व प्रति व्यक्ति आय अधिक न हो।
स्थिति	आत्मनिर्भर व समृद्ध	गरीब व अन्य पर निर्भर
संसाधनों का उपयोग	पूर्ण प्रयोग	अल्प उपयोग
साक्षरता दर	उच्च	निम्न
विकास एवं संवृद्धि	उच्च प्रौद्योगिक विकास	प्रौद्योगिकी के लिए दूसरों पर निर्भर
गरीबी व बेरोजगारी	निम्न	उच्च
अर्थव्यवस्था में मुख्य योगदान	तृतीयक क्षेत्र	प्राथमिक क्षेत्र
आय का वितरण	समान	असमान
मानव विकास सूचकांक	उच्च	निम्न
सकल घरेलू उत्पाद	उच्च	निम्न

**विकास**  
**बहुविकल्पीय प्रश्न**

1. जन्म के समय जीवन प्रत्याशा का अर्थ है
  - (a) जन्म के समय किसी व्यक्ति के जीवन की औसत अपेक्षित लंबाई
  - (b) मृत्यु के समय किसी व्यक्ति के जीवन की औसत अपेक्षित लंबाई
  - (c) जन्म के समय बच्चे की औसत अपेक्षित लंबाई
  - (d) उपर्युक्त में से कोई नहीं
2. निम्नलिखित में से कौन सा भूमिहीन ग्रामीण मजदूरों के लिए एक विकासात्मक लक्ष्य है ?
  - (a) लक्जरी कार प्राप्त करने के लिए
  - (b) अपने बच्चों को विदेश भेजना
  - (c) काम के अधिक दिन और बेहतर मजदूरी
  - (d) शहरों में स्थानांतरित करना
3. धन के बारे में निम्नलिखित में से कौन सा कथन सत्य है ?
  - (a) पैसा आपके लिए प्रदूषण मुक्त वातावरण नहीं खरीद सकता है।
  - (b) पैसा यह सुनिश्चित नहीं कर सकता है कि आपको बिना मिलावट वाली दवाएं मिलें।
  - (c) पैसा आपको संक्रामक रोगों से बचाने में भी सक्षम नहीं हो सकता है।
  - (d) उपरोक्त सभी।
4. भारत के किस राज्य में शिशु मृत्यु दर सबसे कम है ?
  - (a) केरल
  - (b) बिहार
  - (c) हरियाणा
  - (d) पंजाब
5. किसी देश की प्रति व्यक्ति आय की गणना किसके द्वारा की जा सकती है ?

- (a) किसी व्यक्ति की कुल आय  
 (b) देश का कुल निर्यात कितना है.  
 (c) सभी वस्तुओं और सेवाओं का कुल मूल्य क्या है ?  
 (d) राष्ट्रीय आय को किसी देश की कुल जनसंख्या से विभाजित करके
6. निम्नलिखित में से क्या एक सामान्य मनुष्य के लिए विकास का लक्ष्य हो सकता है।  
 (a) आय (b) अन्य ग्रहों पर जीवन की खोज  
 (c) नहरो का प्रबंधन (d) दूसरे देश पर शासन
7. अनूप एक वयस्क है, वह अधिभारित है बताइए उसका संभावित बॉडी मास इंडेक्स (बी. एम. आई.) कितना होगा ?  
 (a) 10 से कम (b) 18 से कम  
 (c) 18-25 के मध्य (d) 25 से अधिक
8. निम्नलिखित राज्यों में से, 2012-13 के आंकड़ों के अनुसार किस राज्य की प्रति व्यक्ति आय सबसे अधिक है।  
 (a) महाराष्ट्र (b) बिहार  
 (c) केरल (d) झारखंड
9. 7 वर्ष और उससे अधिक आयु वर्ग में साक्षर जनसंख्या के अनुपात को क्या कहा जाता है ?  
 (a) शिक्षा सूचकांक (b) मृत्यु दर  
 (c) साक्षरता दर (d) सकल नामांकन अनुपात
10. एक अमीर परिवार की लड़की के लिए विकास के लक्ष्य क्या है ?  
 (a) अधिक दिनों का काम प्राप्त करना  
 (b) बेहतर मजदूरी प्राप्त करना  
 (c) उतनी ही स्वतंत्रता प्राप्त करना जितनी उसके भाई को मिलती है  
 (d) बिजली प्राप्त करना
11. निम्नलिखित में से उद्योगपतियों के लिए, विकासात्मक लक्ष्य कौन-सा है ?

- (a) काम करने के लिए अधिक दिन  
 (b) बेहतर मजदूरी प्राप्त करना  
 (c) अधिक बिजली प्राप्त करना  
 (d) उपर्युक्त सभी
12. यूएनडीपी के अनुसार किसी देश के विकास को मापने के लिए निम्नलिखित में से कौन सा मानदंड है ?  
 (a) प्रति व्यक्ति आय (b) लोगों का शैक्षिक स्तर  
 (c) लोगों की स्वास्थ्य स्थिति (d) उपर्युक्त सभी
13. नीचे दिए गए कथनों को ध्यानपूर्वक पढ़िए:
1. साक्षरता दर को 10 वर्ष के आयु वर्ग में साक्षर आबादी के अनुपात के रूप में परिभाषित किया जा सकता है।
  2. अलग-अलग व्यक्तियों के पास देश के विकास के बारे में अलग-अलग और परस्पर विरोधी धरणाएं हो सकती हैं।
  3. निवल उपस्थिति अनुपात एक ही आयु वर्ग के बच्चों की कुल संख्या के प्रतिशत के रूप में स्कूल जाने वाले 7 और 10 वर्ष के बच्चों की कुल संख्या है।
  4. आपकी जेब में रखा पैसा उन सभी वस्तुओं और सेवाओं को नहीं खरीद सकता है जिनकी आपको अच्छी तरह से जीने के लिए आवश्यकता हो सकती है।
- सही कथन चुनिए
- (a) केवल 1 और 2 (b) केवल 1 और 3  
 (c) केवल 2 और 3 (d) केवल 2 और 4
14. निम्नलिखित में से किस राज्य का मानव विकास सूचकांक (एचडीआई) सबसे अधिक है ?  
 (a) केरल (b) पंजाब  
 (c) उत्तर प्रदेश (d) पश्चिम बंगाल

15. केरल में शिशु मृत्यु दर कम है क्योंकि
- इसकी जलवायु स्थिति अच्छी है।
  - इसके पास पर्याप्त अवसंरचना है।
  - इसमें बुनियादी स्वास्थ्य और शैक्षिक सुविधाओं का पर्याप्त प्रावधान है
  - इसका शुद्ध उपस्थिति अनुपात खराब है।
16. निम्नलिखित में से लोगों के किस स्तर के आधार पर मानव विकास सूचकांक से देशों की तुलना करता है ?
- शैक्षिक स्तर
  - स्वास्थ्य की स्थिति
  - प्रति व्यक्ति आय
  - उपर्युक्त सभी
17. निम्नलिखित में से कौन सा संसाधन ऊर्जा का एक अनवीकरणीय संसाधन है ?
- सौर विकिरण
  - कोयला
  - पवन ऊर्जा
  - भूतापीय ऊर्जा

**निर्देश-** नीचे दिए गए प्रश्नों में, कथन (A) और कारण (R) के रूप में चिह्नित दो कथन दिए गए हैं। कथनों को पढ़िए और सही विकल्प चुनिए:

- A और R दोनों सत्य हैं और लेकिन R, A का सही स्पष्टीकरण नहीं है।
- A और R दोनों सत्य हैं और R, A का सही स्पष्टीकरण है।
- A सही है और R गलत है।
- A और R दोनों गलत हैं।

18. **कथन (क):** उच्च औसत आय किसी देश के समग्र कल्याण का संकेतक नहीं है।

**कारण (R):** औसत आय मानव विकास को सम्मिलित नहीं करती है, जैसे शिक्षा का स्तर, स्वास्थ्य और सार्वजनिक सुविधाएँ।

19. **कथन (A):** अधिशेष तेल संसाधनों के कारण वर्तमान में किसी देश की राष्ट्रीय आय बहुत अधिक है। हालांकि, आप के वैकल्पिक स्रोतों की तलाश करना भी आवश्यक है।

**कारण (R):** तेल एक प्राकृतिक संसाधन है जो प्रकृति में नवीकरणीय है।

20. **कथन (A):** सोफिया सप्ताह में 5 दिन काम करती है, प्रत्येक महीने के अंतिम दिन अपनी आय प्राप्त करती है और अपनी फर्म से चिकित्सा सुविधाएं प्राप्त करती है।

**कारण (R):** सोफिया एक संगठित क्षेत्र में काम कर रही है।

### उत्तर कुंजी

1. (a) जन्म के समय किसी व्यक्ति के जीवन की औसत अपेक्षित लंबाई
2. (c) काम के अधिक दिन और बेहतर मजदूरी
3. विकल्प (d)
4. (a) केरल
5. (d) राष्ट्रीय आय को किसी देश की कुल जनसंख्या से विभाजित करके
6. (a) आय
7. विकल्प (d)
8. विकल्प (a)
9. (c) साक्षरता दर
10. (c) उत्तनी ही स्वतंत्रता प्राप्त करना जितनी उसके भाई को मिलती है
11. (c) अधिक बिजली प्राप्त करना
12. (d) उपर्युक्त सभी
13. (d) केवल 2 और 4
14. (a) केरल
15. (c) इसमें बुनियादी स्वास्थ्य और शैक्षिक सुविधाओं का पर्याप्त प्रावधान है
16. (d) उपर्युक्त सभी

17. (b) कोयला

18. A. A और R दोनों सत्य है और R, A का सही स्पष्टीकरण है।

19. C. A सही है और R गलत है।

20. A. A और R दोनों सत्य है और R, A का सही स्पष्टीकरण है।

### 2/3/5 अंकों के प्रश्न

1. प्रति व्यक्ति आय से आपका क्या तात्पर्य है ?
2. नर्मदा घाटी के एक आदिवासी के लिए विकास के संभावित लक्ष्य क्या होंगे ?
3. भारत में लोगों के स्वास्थ्य और पोषण की स्थिति में सुधार के लिए किन्हीं दो तरीकों का सुझाव दीजिए।
4. लोगों के लिए महत्वपूर्ण लक्ष्य क्या है ?
5. शिशु मृत्यु दर शब्द को परिभाषित कीजिए।
6. निवल उपस्थिति अनुपात क्या है ?
7. दो चीजों के नाम बताइए जिन्हें आप पैसे से नहीं खरीद सकते।
8. मानव विकास सूचकांक या एचडीआई के तीन घटकों का उल्लेख कीजिए।
9. मानव विकास सूचकांक (एचडीआई) क्या है ?
10. 'एक के लिए जो विकास है दूसरे के लिए वो विनाश हो सकता है।' उदहारण देकर समझाए।
11. प्रति व्यक्ति आय क्या है ? विकास के प्रति व्यक्ति आय मानदंड की सीमाएं क्या है ?
12. आय के अलावा, लोग जीवन के महत्वपूर्ण पहलुओं के रूप में किन अन्य चीजों को देखते हैं ?
13. किसी देश के विकास को निर्धारित करने वाले विभिन्न कारकों का उल्लेख कीजिए।
14. कोई व्यक्ति किसी नौकरी को स्वीकार करने से पहले किन पहलुओं पर विचार करेगा ?

15. भूजल के संदर्भ में सतत विकास के महत्व को उदाहरण देकर स्पष्ट कीजिए।
16. पंजाब की तुलना में केरल, मानव विकास सूचकांक की रैंकिंग में बेहतर क्यों है? तीन कारणों से स्पष्ट कीजिए।
17. निम्नलिखित शब्दों को परिभाषित करें:
  - (i) शिशु मृत्यु दर
  - (ii) साक्षरता दर
  - (iii) निवल उपस्थिति अनुपात
18. सार्वजनिक सुविधाओं के किन्हीं तीन लाभों पर प्रकाश डालें।

### उत्तर कुंजी

1. अध्याय के मुख्य बिंदुओं को देखें।
2. आजीविका का एक स्थायी स्रोत, संसाधनों पर पहुंच और नियंत्रण, अपने बच्चों को गुणवत्तापूर्ण शिक्षा प्रदान करने के लिए एक स्थानीय स्कूल, आदि।
3. बुनियादी स्वास्थ्य, शिक्षा और खाद्यान्न की पर्याप्त व्यवस्था।
4. समान व्यवहार, स्वतंत्रता, सुरक्षा और दूसरों का सम्मान। वे भेदभाव से नाराज हैं।
5. अध्याय के मुख्य बिंदुओं को देखें।
6. अध्याय के मुख्य बिंदुओं को देखें।
7. अध्याय के मुख्य बिंदुओं को देखें।
8. अध्याय के मुख्य बिंदुओं को देखें।
9. अध्याय के मुख्य बिंदुओं को देखें।
10. बांधों का निर्माण उद्योगपतियों और बड़े किसानों के लिए फायदेमंद हो सकता है, लेकिन इससे कृषि भूमि जलमग्न हो सकती है, और लोगों का जीवन बाधित हो सकता है।
  - अधिक मजदूरी का मतलब एक श्रमिक के लिए विकास है, लेकिन यह नियोजित के खिलाफ जा सकता है।



- एक उपभोक्ता कम कीमतों पर विभिन्न घरेलू वस्तुओं को खरीदना चाहता है लेकिन एक व्यापारी या विक्रेता इन वस्तुओं की उच्च कीमत पर बेचना चाहता है।

11. किसी देश की कुल आय को उसकी कुल जनसंख्या से विभाजित किया जाता है जिसे प्रति व्यक्ति आय कहा जाता है।

प्रति व्यक्ति आय की सीमाएं

- (i) प्रति व्यक्ति आय किसी देश की औसत आय है।
- (ii) प्रति व्यक्ति आय मानदंड जीवन के केवल आधक पहलू को ध्यान में रखते हैं और जीवन के सामाजिक पहलू की उपेक्षा करते हैं।
- (iii) प्रति व्यक्ति आय मानदंड शिक्षा, स्वास्थ्य, जीवन प्रत्याशा, स्वच्छता आदि की अनदेखी करते हैं।
- (iv) प्रति व्यक्ति आय मानदंड भी शांति, प्रदूषण मुक्त पर्यावरण, लोकतंत्र आदि जैसी गैर-भौतिक चीजों की अनदेखी करते हैं।
- (v) यद्यपि केरल की तुलना में पंजाब की प्रति व्यक्ति आय अधिक है, लेकिन मानव विकास सूचकांक में इसका स्थान कम है क्योंकि यह साक्षरता दर में केरल से बहुत पीछे है और केरल की तुलना में शिशु मृत्यु दर अधिक है।

12. स्वतंत्रता

- सुरक्षा की भावना
- समान उपचार
- दूसरों का सम्मान
- अच्छे काम का माहोल
- संक्रामक रोगों से बचाव।

13. किसी देश का विकास आम तौर पर निम्नलिखित कारकों द्वारा निर्धारित किया जा सकता है

- (i) प्रति व्यक्ति आय

- (ii) साक्षरता दर
  - (iii) स्वास्थ्य
  - (iv) जन्म के समय जीवन प्रत्याशा
  - (v) निवल उपस्थिति अनुपात
14. (i) लगभग सभी नौकरी चाहने वालों के लिए एक अच्छा वेतन पहली और सबसे महत्वपूर्ण आवश्यकता है।
- (ii) शांतिपूर्ण और सुरक्षित कार्य वातावरण
- (iii) नौकरी की सुरक्षा एक अन्य महत्वपूर्ण कारक है।
- (iv) चिकित्सा और अन्य सुविधएं बीमारियों के मामले में, भुगतान अवकाश का प्रावधान होना चाहिए। प्रोविडेंट फंड, ग्रेजुटी एक और कारक है।
- (v) व्यक्ति नौकरी की अवधि के दौरान सीखने का अवसर भी चाहता है।
15. स्वयं हल कीजिए।
16. केरल में पंजाब की तुलना में बेहतर मानव विकास सूचकांक रैंकिंग है, भले ही पंजाब में निम्नलिखित कारणों से केरल की तुलना में पंजाब की प्रति व्यक्ति आय अधिक है।
- शिक्षा: केरल में पंजाब की तुलना में साक्षरता दर का उच्च स्तर है। वास्तव में केरल की साक्षरता दर भारत में सबसे अधिक है।
  - स्वास्थ्य दे भाल: केरल में स्वास्थ्य दे भाल सुविधएं पंजाब की तुलना में कहीं बेहतर हैं।
  - राजनीति: केरल में राजनीतिक दलों ने लोगों के वास्तविक कल्याण के लिए कदम उठाए हैं। और स्वास्थ्य और शिक्षा के क्षेत्रा में समझदारी और पद्धतिगत रूप से निवेश किया है।
17. अध्याय के मुख्य बिंदुओं को देखें।
18. (i) सार्वजनिक सुविधएं सामूहिक रूप से बुनियादी सेवाएं प्रदान करने का सबसे सस्ता तरीका है।

- (ii) अधिकांश गरीब लोग केवल सार्वजनिक सुविधाओं के कारण जीवित रहते हैं।
- (iii) पुलिस, शिक्षा, परिवहन आदि जैसी कई सेवाएं हैं, जो केवल तभी वहनीय हो जाती हैं जब वे सार्वजनिक सुविधाओं का हिस्सा हों।

### स्रोत आधारित प्रश्न

#### निम्नलिखित गद्यांश पढ़ें और प्रश्नों के उत्तर दें:

किसी भी तरह से ज्यादा आय चाहने के अतिरिक्त, लोग बराबरी का व्यवहार, स्वतंत्रता, सुरक्षा और दूसरों से आदर मिलने की इच्छा भी रखते हैं। वे भेदभाव से अप्रसन्न होते हैं ये सभी महत्वपूर्ण लक्ष्य हैं। बल्कि कुछ मामलों में ये अधिक आय और अधिक उपभोग से अधिक महत्वपूर्ण हो सकते हैं, क्योंकि जीने के लिए केवल भौतिक वस्तुएं ही पर्याप्त नहीं होती। द्रव्य या उससे खरीदी जा सकने वाली भौतिक वस्तुएं एक करक हैं जिस पर हमारा जीवन निर्भर है। लेकिन हमारा बेहतर जीवन ऊपर लिखी अभौतिक वस्तुओं पर भी निर्भर करता है। अगर आप को यह बात स्पष्ट नहीं लगती है तो अपने जीवन में अपने मित्रों की भूमिका के बारे में जरा सोचिए। आप को उनकी मित्रता की इच्छा हो सकती है। इसी तरह और भी बहुत सी चीजें हैं जिन्हें आसानी से मापा नहीं जा सकता। लेकिन उनका हमारे जीवन में बहुत महत्व है। इनकी प्रायः उपेक्षा कर दी जाती है। लेकिन यह निष्कर्ष निकालना गलत होगा कि जिसे मापा नहीं जा सकता। वह महत्व नहीं रखता।

- प्र.1 आय के अतिरिक्त लोगों के लिए क्या विकास का लक्ष्य हो सकता है ?
- प्र.2 जीवन में ऐसी कोन सी चीजें हैं जिन्हें हम माप नहीं सकते हैं लेकिन वे महत्वपूर्ण हैं ?
- प्र.3 'पैसा सभी चीजें नहीं खरीद सकता है। व्याख्या कीजिए।
- उ.1 समान व्यवहार, स्वतंत्रता, सुरक्षा और दूसरों का सम्मान।
- उ.2 दोस्ती, संबंध और जीवन की गुणवत्ता

उ.3 धन से ताजी हवा, प्रदूषण मुक्त वातावरण और खुशी आदि नहीं खरीदी जा सकती है।

1. निम्नलिखित गद्यांश पढ़ें और प्रश्नों के उत्तर दें:

हम विकास को जिस तरह भी परिभाषित करें, अभी के लिए मान लें की एक विशेष देश काफी विकसित है। हम निश्चित रूप से यह चाहेंगे कि विकास का यह स्तर और ऊँचा हो या कम से कम भावी पीढ़ी के लिए यह स्तर बना रहे। यह स्पष्ट रूप से वांछनीय है। लेकिन बीसवीं सदी के उत्तरार्द्ध से बहु से वैज्ञानिक यह चेतावनी देते आ रहे हैं कि विकास का वर्तमान प्रकार और स्तर धरणीय नहीं है। भूमिगत जल नवीकरणीय साधन का उदाहरण है। फसल और पौधों कि तरह इन साधनों की पुनः पूर्ति प्रकृति करती है, लेकिन यहाँ भी हम इन साधनों का अति उपयोग कर सकते हैं। उदाहरण के लिए, भूमिगत जल का यदि बरसात द्वारा हो रही पुनः पूर्ति से अधिक प्रयोग करते हैं, तो हम इस साधन का अति उपयोग कर रहे होंगे। गैर नवीकरणीय साधन वो हैं, जो कुछ ही वर्षों के प्रयोग के पश्चात समाप्त हो जाते हैं। इन संसाधनों का धरती पर एक निश्चित भंडार है और इनकी पुनः पूर्ति नहीं हो सकती। कभी कभी हमें ऐसे नए साधन मिल जाते हैं, जिनके बारे में हमें पहले कोई जानकारी नहीं थी। नए स्रोत भंडार में वृद्धि करते हैं, लेकिन समय के साथ यह भी समाप्त हो जाएंगे।

प्र.1 उपयोग के कुछ वर्षों के बाद गैर-नवीकरणीय संसाधन समाप्त क्यों हो जाएंगे ?

प्र.2 नवीकरणीय संसाधनों से आप क्या समझते है ?

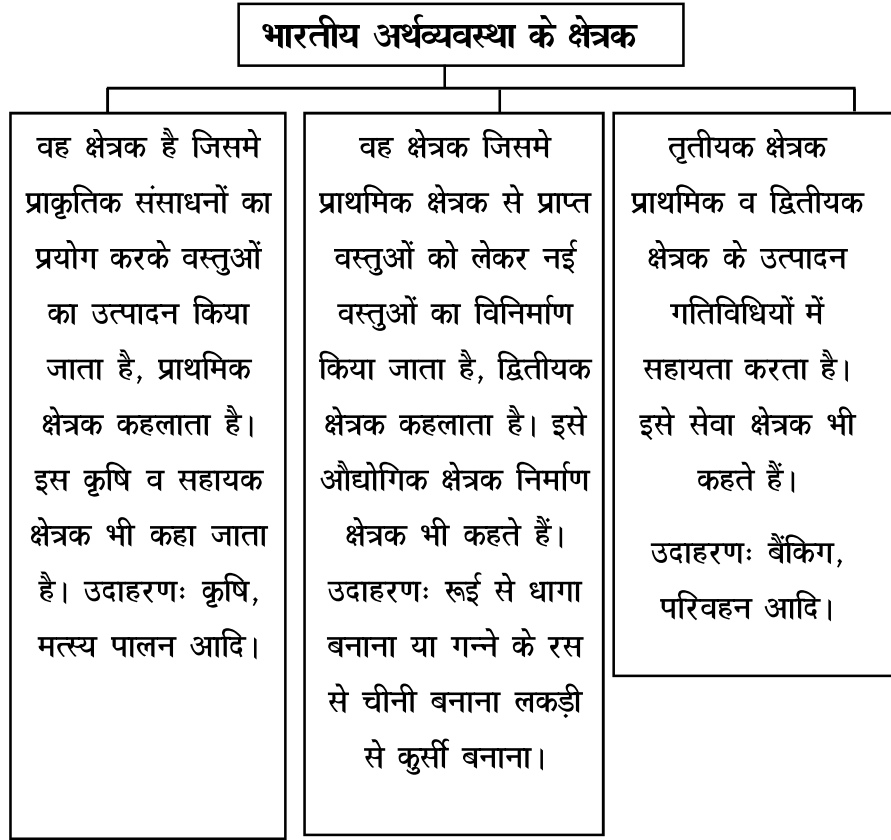
प्र.3 सतत विकास क्यों महत्वपूर्ण है ?

प्र.1-3 अभ्यास हेतु

## 2. भारतीय अर्थव्यवस्था के क्षेत्रक

### पाठ्य बिन्दु/स्मरणीय तथ्य

ऐसे क्रियाकलाप जिनको करके जीवनयापन के लिए आय की प्राप्ति की जाती है, वह आर्थिक क्रियाकलाप कहलाते हैं।



**घरेलू उत्पाद:** किसी विशेष वर्ष में प्रत्येक क्षेत्रक द्वारा उत्पाद अंतिम वस्तुओं व सेवाओं का मूल्य उस वर्ष में देश के कुल उत्पादन की जानकारी प्रदान करता है। तीनों क्षेत्रकों के उत्पादनों के योगफल को देश का **सकल घरेलू उत्पाद** कहते हैं।

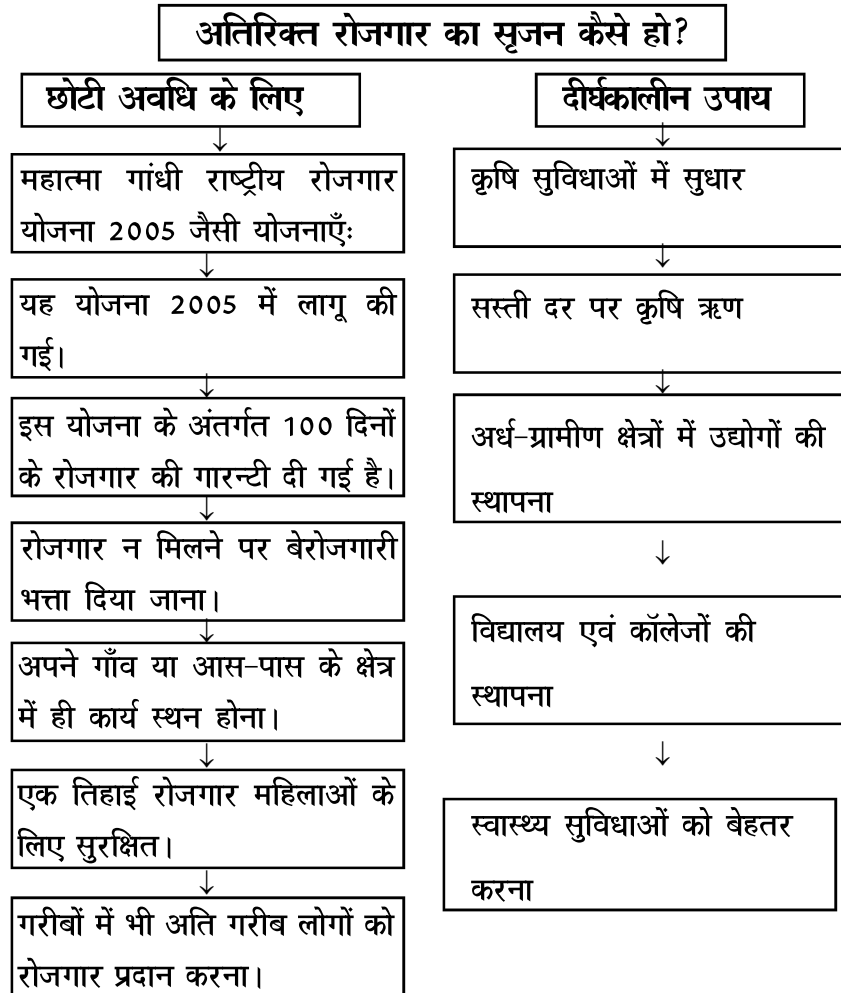
1. प्राथमिक क्षेत्रक + द्वितीयक क्षेत्रक + तृतीयक क्षेत्रक = सकल घरेलू उत्पाद
2. दोहरी गणना की समस्या तब उत्पन्न होती है जब राष्ट्रीय आय की गणना के लिए सभी उत्पादों के उत्पादन मूल्य को जोड़ा जाता है, क्योंकि इसमें कच्चे माल का मूल्य भी जुड़ जाता है। अतः समाधान के लिए केवल अंतिम उत्पाद के मूल्य की गणना की जानी चाहिए।

सकल घरेलू उत्पाद में क्षेत्रको का हिस्सा		
	1971-72	2011-12
प्राथमिक क्षेत्रक	लगभग 40%	लगभग 15%
द्वितीयक क्षेत्रक	लगभग 25%	लगभग 25%
तृतीयक क्षेत्रक	लगभग 35%	लगभग 60%
रोजगार में विभिन्न क्षेत्रको का हिस्सा		
	1972-73	2011-12
प्राथमिक क्षेत्रक	लगभग 74%	लगभग 49%
द्वितीयक क्षेत्रक	लगभग 11%	लगभग 24%
तृतीयक क्षेत्रक	लगभग 15%	लगभग 27%

- उपरोक्त सारणी से यह स्पष्ट है कि द्वितीयक क्षेत्रक एवं तृतीयक क्षेत्रक का घरेलू उत्पाद में योगदान तीन चौथाई है जबकि वह कार्यशील जनसंख्या की लगभग पचास प्रतिशत आबादी को ही रोजगार प्रदान करते हैं।
3. पिछले कुछ सालों में अर्थव्यवस्था की प्राथमिक क्षेत्रक पर निर्भरता कम हुई है परंतु यह अभी भी कुल कार्यरत जनसंख्या के लगभग पचास प्रतिशत आबादी को रोजगार प्रदान करता है। इससे अभिप्राय यह है कि कृषि में आवश्यकता से अधिक लोग कार्यशील है। दूसरे शब्दों में यह कह सकते हैं कि कृषि क्षेत्रक में लगे लोग अल्प बेरोजगारी की समस्या का सामना कर रहे हैं। यह बेरोजगारी छिपी हुई होती है। इस प्रकार की बेरोजगारी को हम छिपी हुई बेरोजगारी कहते हैं।

4. देश में आधे से अधिक श्रमिक प्राथमिक क्षेत्रक में काम करते हैं जिसका सकल घरेलू उत्पाद में योगदान काफी कम (लगभग 15%) है। द्वितीयक एवं तृतीयक क्षेत्रक का सकल घरेलू उत्पाद में योगदान लगभग 85% है परंतु ये क्षेत्रक आधे लोगों को ही रोजगार प्रदान करते हैं। कृषि क्षेत्र में अल्प-बेरोजगारी की गंभीर स्थिति बनी हुई है। कुछ लोग ऐसे हैं जिन्हें बिल्कुल रोजगार नहीं मिला है। ऐसी स्थिति को देखते हुए हमें देश में अधिक से अधिक रोजगार सृजित करने की आवश्यकता है।

5.



6. आर्थिक गतिविधियों को क्षेत्रकों में वर्गीकृत करने के अन्य तरीके भी हो सकते हैं। यह सार्वजनिक क्षेत्रक एवं निजी क्षेत्रक तथा संगठित क्षेत्रक एवं असंगठित क्षेत्रकों के रूप में भी हो सकता है।

7.

सार्वजनिक क्षेत्रक	निजी क्षेत्रक
परिसम्पत्तियों पर सरकार का नियंत्रण	परिसम्पत्तियों पर निजी स्वामित्व
इसका उद्देश्य केवल लाभ कमाना नहीं होता है। अपितु जन कल्याण होता है।	इसका उद्देश्य अधिकतम लाभ कमाना है।
रोजगार की सुरक्षा होती है।	रोजगार की सुरक्षा नहीं होती।
सभी सेवाएँ सरकार उपलब्ध करवाती है।	सारी चीजें एक व्यक्ति या कम्पनी उपलब्ध करवाती है।
संवैतनिक छुट्टी व अन्य सेवाएँ दी जाती है।	संवैतनिक छुट्टी व अन्य सेवाएँ सामान्यतः प्रदान नहीं की जाती।
उदाहरण: भारतीय रेलवे कोई अन्य।	उदाहरण: टिस्को, कोई अन्य।

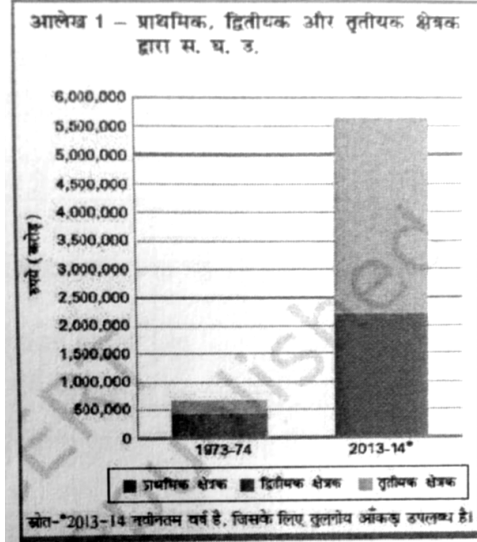
संगठित क्षेत्रक	असंगठित क्षेत्रक
रोजगार की सुरक्षा होती है।	कम वेतन
उचित वेतन	कार्य का समय निश्चित नहीं
कार्य के निश्चित घण्टे	नौकरी की अनिश्चितता
नौकरी की निश्चितता	कर्मचारी योजनाओं का अभाव
कर्मचारी योजनाओं का लाभ	निम्न स्तरीय कार्य परिस्थितियाँ
कार्य की बेहतर परिस्थितियाँ उदाहरण: बैंकिंग	उदाहरण: रेहड़ी - पटरी वाले।



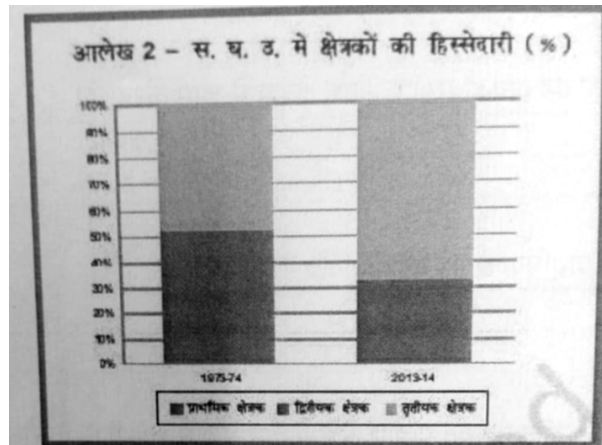
## भारतीय अर्थव्यवस्था के क्षेत्रक

### बहुविकल्पीय प्रश्न:

1. समीर एक वकील है, बताइए वह अर्थव्यवस्था के किस क्षेत्रक में काम करता है ?  
(a) प्राथमिक क्षेत्रक (b) द्वितीयक क्षेत्रक  
(c) तृतीयक क्षेत्रक (d) औद्योगिक क्षेत्रक
2. निम्नलिखित में से कौन सी प्राथमिक क्षेत्रक की गतिविधि है ?  
(a) चिकित्सा (b) कृषि  
(c) विनिर्माण (d) बीमा
3. निम्नलिखित में से किस योजना के अंतर्गत ग्रामीण क्षेत्रों में कम से कम 100 दिनों के रोजगार की गारंटी दी गयी है ?  
(a) मध्याह्न्य भोजन योजना  
(b) अन्नपूर्णा योजना  
(c) अन्त्योदय अन्न योजना  
(d) महात्मा गाँधी राष्ट्रीय ग्रामीण रोजगार
4. निम्नलिखित में से कौन सा क्षेत्रक स्वतः वस्तुओं का उत्पादन नहीं करती है बल्कि उत्पादन प्रक्रिया में सहयोग करती है।  
(a) द्वितीयक क्षेत्रक (b) तृतीयक क्षेत्रक  
(c) प्राथमिक क्षेत्रक (d) औद्योगिक क्षेत्रक
5. क्षेत्रक के आधार पर निम्नलिखित में से असंगत गतिविधि को पहचानिए-  
(a) मछुआरा (b) ट्रक ड्राइवर  
(c) माली (d) कुम्हार
6. निम्नलिखित आलेख के आधार पर बताइए कि 2013-14 में सबसे बड़ा क्षेत्रक कौन सा है ?



- (a) प्राथमिक क्षेत्रक                      (b) द्वितीयक क्षेत्रक  
(c) तृतीयक क्षेत्रक                      (d) उपरोक्त में से कोई नहीं
7. निम्नलिखित आलेख के आधार पर बताइए कि वर्ष 2013-14 में सकल घरेलु उत्पाद में किस क्षेत्रक की हिस्सेदारी सर्वाधिक थी ?



- (a) प्राथमिक क्षेत्रक की                      (b) तृतीयक क्षेत्रक की  
(c) द्वितीयक क्षेत्रक की                      (d) सभी क्षेत्रकों की सामान हिस्सेदारी

8. अल्प बेरोजगारी तब होती है जब लोग-
- काम करना नहीं चाहते हैं।
  - सुस्त ढंग से काम कर रहे हैं।
  - अपनी क्षमता से कम काम कर रहे हैं।
  - उनके काम के लिए भुगतान नहीं किया जाता है।
9. नीचे दो कथन, संकल्पना (स) एवं कारण (क) दिए गए हैं। इन कथनों को पढ़कर नीचे दिए गए विकल्पों में से सही उत्तर चुनिए-
- संकल्पना (स):** मत्स्य पालन की गतिविधि प्राथमिक क्षेत्रों के अंतर्गत आती है।
- कारण (क):** मत्स्य पालन सीधे प्राकृतिक संसाधनों पर निर्भर करता है।
- कथन एवं कारण दोनों सत्य हैं एवं कारण, कथन की सही व्याख्या करता है।
  - कथन एवं कारण दोनों सत्य हैं परंतु कारण, कथन की सही व्याख्या नहीं करता है।
  - कथन सही है परन्तु कारण गलत है।
  - कारण सही है परंतु कथन गलत है।
10. नीचे दो कथन संकल्पना (स) एवं कारण (क) दिए गए हैं। इन कथनों को पढ़कर नीचे दिए गए विकल्पों में से सही उत्तर चुनिए-
- संकल्पना (स):** मौसमी बेरोजगारी केवल कृषि क्षेत्र में देखने को मिलती है।
- कारण (क):** कृषि मौसम के ऊपर आश्रित गतिविधि है।
- कथन एवं कारण दोनों सत्य हैं एवं कारण, कथन की सही व्याख्या करता है।
  - कथन एवं कारण दोनों सत्य हैं परंतु कारण, कथन की सही व्याख्या नहीं करता है।
  - कथन सही है परन्तु कारण गलत है।
  - कारण सही है परंतु कथन गलत है।

11. नीचे दो कथन संकल्पना (स) एवं कारण (क) दिए गए हैं। इन कथनों को पढ़कर नीचे दिए गए विकल्पों में से सही उत्तर चुनिए-
- संकल्पना (स):** द्वितीयक क्षेत्रक को औद्योगिक क्षेत्रक भी कहा जाता है।
- कारण (क):** द्वितीयक क्षेत्रक स्वतः वस्तुओं का उत्पादन नहीं करती है बल्कि उत्पादन प्रक्रिया में सहयोग करती हैं।
- (a) कथन एवं कारण दोनों सत्य हैं परंतु कारण, कथन की सही व्याख्या नहीं करता है।
- (b) कथन एवं कारण दोनों सत्य हैं एवं कारण, कथन की सही व्याख्या करता है।
- (c) कथन सही है परन्तु कारण गलत है।
- (d) कारण सही है परंतु कथन गलत है।
12. निम्नलिखित में से कौन सी असंगठित क्षेत्रक के श्रमिकों की दशा नहीं है ?
- I. नौकरी की अनिश्चितता
- II. निम्नस्तरीय कार्य परिस्थितियाँ
- III. उच्च वेतन
- IV. कार्यावधि निश्चित नहीं
- (a) केवल II (b) केवल II, III एवं IV
- (c) केवल I, II एवं III (d) केवल III
13. निम्नलिखित में से कौन सी कार्य स्थितियाँ सार्वजनिक क्षेत्रक से संबंधित है ?
- I. रोजगार की सुरक्षा
- II. परिसंपत्तियों पर एक व्यक्ति का नियंत्रण
- III. सवैतनिक अवकाश
- IV. उद्देश्य केवल लाभ कमाना

- (a) केवल I, II एवं III                      (b) केवल II, III एवं IV  
(c) केवल III                                      (d) केवल I एवं III

14. सकल घरेलु उत्पाद में गणना की जाती है-
- (a) केवल प्राथमिक एवं द्वितीयक क्षेत्रक के द्वारा उत्पादित वस्तुओं एवं सेवाओं के मूल्य की।  
(b) केवल द्वितीयक एवं तृतीयक क्षेत्रक के द्वारा उत्पादित वस्तुओं एवं सेवाओं के मूल्य की।  
(c) प्राथमिक, द्वितीयक एवं तृतीयक क्षेत्रक के द्वारा उत्पादित वस्तुओं एवं सेवाओं के मूल्य की।  
(d) प्राथमिक, द्वितीयक एवं तृतीयक क्षेत्रक के द्वारा उत्पादित अंतिम वस्तुओं एवं सेवाओं के मूल्य की।
15. निम्नलिखित में से किसे काम का अधिकार भी कहा जाता है ?
- (a) अन्त्योदय अन्न योजना  
(b) महात्मा गाँधी राष्ट्रीय ग्रामीण रोजगार गारंटी अधिनियम-2005  
(a) अन्नपूर्णा योजना  
(d) काम के बदले अनाज कार्यक्रम

### बहुविकल्पीय प्रश्न (उत्तर)

1. C. तृतीयक क्षेत्रक
2. B. कृषि
3. D. महात्मा गाँधी राष्ट्रीय ग्रामीण रोजगार गारंटी योजना
4. B. तृतीयक क्षेत्रक
5. B. ट्रक ड्राइवर
6. C. तृतीयक क्षेत्रक
7. B. तृतीयक क्षेत्रक
8. C. अपनी क्षमता से कम काम कर रहे हैं।

9. A. कथन एवं कारण दोनों सत्य हैं एवं कारण कथन की सही व्याख्या करता है।
10. D. कारण सही है परंतु कथन गलत है।
11. C. कथन सही है परन्तु कारण गलत है।
12. D. केवल III
13. D. केवल I एवं III
14. B. प्राथमिक, द्वितीयक एवं तृतीयक क्षेत्रों के द्वारा उत्पादित अंतिम वस्तुओं एवं सेवाओं के मूल्य की।
15. B. महात्मा गांधी राष्ट्रीय ग्रामीण रोजगार गारंटी अधिनियम-2005

**अतिलघु/ लघु/ दीर्घ उत्तरीय प्रश्न:**

1. गीता एक संस्था में शोधकर्ता के रूप में काम करती है। आँकड़े एकत्र करते समय वह निम्नलिखित लोगों के कार्य को क्षेत्रों के अनुसार वर्गीकृत नहीं कर पा रही है। कारण सहित वर्गीकरण करने में उसकी मदद कीजिए।
  - (a) श्यामलाल एक डेयरी चलाते हैं।
  - (b) प्रमोद एक फैक्ट्री में इंजीनियर है।
2. सुमित अपने परिवार के अन्य पाँच सदस्यों के साथ एक गाँव में कृषि कार्य करके प्रतिवर्ष अपने खेत से लगभग 20 क्विंटल अनाज पैदा कर अपना जीवन यापन करता है। कुछ परिस्थितिवश सुमित को अपने छोटे भाई के साथ शहर आना पड़ा। परन्तु उसके परिवार के शेष सदस्यों के द्वारा अभी भी प्रतिवर्ष 20 क्विंटल अनाज पैदा कर लिया जाता है। बताइए सुमित और उसका भाई किस प्रकार की बेरोजगारी से ग्रसित थे? अपने उत्तर के पक्ष में उचित तर्क भी दीजिए।
3. तृतीयक क्षेत्रों को 'सेवा क्षेत्र' भी क्यों कहा जाता है?
4. सार्वजनिक क्षेत्रों के मुख्य उद्देश्य क्या है?
5. अल्प बेरोजगारी की उदहारण सहित स्पष्ट कीजिए।

6. सरकार किसानों एवं उपभोक्ताओं दोनों का समर्थन किस प्रकार करती है? उदहारण सहित समझाइए।
7. रमेश को काम के निश्चित घंटों के साथ सवैतनिक अवकाश भी मिल रहा है। बताइए वह रोजगार के किस क्षेत्रक में कार्यरत है? इन सुविधाओं के अतिरिक्त उसे उस क्षेत्रक में और क्या सुविधाएँ प्राप्त है?
8. महात्मा गाँधी राष्ट्रीय ग्रामीण रोजगार गारंटी अधिनियम 2005 के कुछ प्रमुख प्रावधनों को लिखिए।
9. प्राथमिक एवं द्वितीयक क्षेत्रक का विकास तृतीयक क्षेत्रक को किस प्रकार प्रभावित करता है? विस्तार से समझाइए।
10. सार्वजनिक एवं निजी क्षेत्रक की रोजगार स्थितियों की तुलना कीजिए।
11. संगठित एवं असंगठित क्षेत्रकों के रोजगार स्थितियों में अंतर स्पष्ट कीजिए।
12. भारत में व्याप्त विभिन्न प्रकार की बेरोजगारियों का वर्णन कीजिए।
13. भारत में व्याप्त विभिन्न प्रकार की बेरोजगारियों को दूर करने के उपायों का उल्लेख कीजिए।
14. ग्रामीण क्षेत्रों में रोजगार के अवसर उत्पन्न करने के विभिन्न तरीकों का वर्णन कीजिए।
15. आर्थिक गतिविधियों का प्राथमिक, द्वितीयक एवं तृतीयक गतिविधियों में विभाजन की क्या उपयोगिता है? व्याख्या कीजिए।
16. मौसमी बेरोजगारी से आप क्या समझते हैं। शहरी एवं ग्रामीण क्षेत्रों से उदहारण देकर व्याख्या कीजिए।
17. बताइए कि सार्वजनिक क्षेत्रक किसी राष्ट्र के आर्थिक विकास में किस प्रकार योगदान देता है?

### अतिलघु/ लघु दीर्घ उत्तरीय प्रश्न (उत्तर)

1. स्मरणीय तथ्यों को देखिए।
2. स्मरणीय तथ्यों को देखिए।

3. स्मरणीय तथ्यों को देखिए।
4. स्मरणीय तथ्यों को देखिए।
5. स्मरणीय तथ्यों को देखिए।
6. स्मरणीय तथ्यों को देखिए।
7. स्मरणीय तथ्यों को देखिए।
8. स्मरणीय तथ्यों को देखिए।
9. स्मरणीय तथ्यों को देखिए।
10. स्मरणीय तथ्यों को देखिए।
11. स्मरणीय तथ्यों को देखिए।
12. स्मरणीय तथ्यों को देखिए।
13. स्मरणीय तथ्यों को देखिए।
14. स्मरणीय तथ्यों को देखिए।
15. स्मरणीय तथ्यों को देखिए।
16. स्मरणीय तथ्यों को देखिए।
17. स्मरणीय तथ्यों को देखिए।

### स्त्रोत आधारित प्रश्न

1. अनुच्छेद को पढ़कर निम्नलिखित प्रश्नों के उत्तर दीजिए-  
आर्थिक गतिविधियों को क्षेत्रकों में वर्गीकृत करने का एक अन्य तरीका हो सकता है- परिसंपत्तियों का स्वामी और सेवाओं की उपलब्धता के लिए जिम्मेदार व्यक्ति कौन है? सार्वजनिक क्षेत्रकों में, अधिकांश परिसंपत्तियों पर सरकार का स्वामित्व होता है और सरकार ही सभी सेवाएँ उपलब्ध कराती है। निजी क्षेत्रक में परिसंपत्तियों पर स्वामित्व और सेवाओं के वितरण की जिम्मेदारी एकल व्यक्ति या कंपनी के हाथों में होता है। रेलवे अथवा डाकघर सार्वजनिक क्षेत्रक के उदाहरण है, जबकि टाटा आयरन एंड स्टील कंपनी लिमिटेड (टिस्को) अथवा रिलायंस इण्डस्ट्रीज लिमिटेड जैसी कम्पनियाँ निजी स्वामित्व में हैं। निजी क्षेत्रक की गतिविधियों



का ध्येय लाभ अर्जित करना होता है इनकी सेवाओं को प्राप्त करने के लिए हमें इन एकल स्वामियों और कंपनियों को भुगतान करना पड़ता है। सार्वजनिक क्षेत्रक का ध्येय केवल लाभ कमाना नहीं होता है। सरकार सेवाओं पर किए गए व्यय की भरपाई करें या अन्य तरीकों से करती हैं।

- (a) टाटा आयरन एंड स्टील कंपनी लिमिटेड (टिस्को) किस क्षेत्रक की कंपनी है ?
- (b) रेलवे सार्वजनिक क्षेत्रक का एक उपक्रम है। कैसे ?
- (c) सार्वजनिक क्षेत्रक के उपक्रम किस प्रकार निजी क्षेत्रों से भिन्न होते हैं ?

2. नीचे दी गई तालिका में संगठित एवं असंगठित क्षेत्रकों में भारत में श्रमिकों की अनुमानित संख्या बताई गई है। तालिका को ध्यानपूर्वक पढ़िए एवं दिए गए प्रश्नों के उत्तर दीजिए-

विभिन्न क्षेत्रकों में श्रमिकों की संख्या (दस लाख में)

क्षेत्रक	संगठित	असंगठित	कुल
प्राथमिक	1		232
द्वितीयक	41	74	115
तृतीयक	40	88	128
कुल	82		
कुल प्रतिशत में			100%

- (a) प्राथमिक क्षेत्रक में कार्यरत असंगठित श्रमिकों की संख्या कितनी है ?
- (b) किस क्षेत्रक में संगठित श्रमिकों की संख्या सबसे अधिक है ?
- (c) किस क्षेत्रक में संगठित श्रमिकों की संख्या, असंगठित श्रमिकों की कुल संख्या का पचास प्रतिशत है ?

### स्त्रोत आधारित प्रश्न (उत्तर):

1. (a) निजी क्षेत्रक  
(b) रेलवे की अधिकांश परिसंपत्तियों पर सरकार का स्वामित्व है और सरकार ही सभी सेवाएँ उपलब्ध कराती है।  
(c) (i) सार्वजनिक क्षेत्रक में अधिकांश परिसंपत्तियों पर सरकार का स्वामित्व होता है और सरकार ही सभी सेवाएँ उपलब्ध कराती है। जबकि निजी क्षेत्रक में परिसंपत्तियों पर स्वामित्व और सेवाओं के वितरण की जिम्मेदारी एकल व्यक्ति या कंपनी के हाथों में होता है।  
(ii) निजी क्षेत्रक की गतिविधियों का ध्येय लाभ अर्जित करना होता है। इनकी सेवाओं को प्राप्त करने के लिए हमें इन एकल स्वामियों और कंपनियों को भुगतान करना पड़ता है। जबकि सार्वजनिक क्षेत्रक का ध्येय केवल लाभ कमाना नहीं होता है। सरकार सेवाओं पर किए गए व्यय की भरपाई करो या अन्य तरीकों से करती है।
2. विद्यार्थी स्वयं हल करेंगे।

### 3. 'मुद्रा व साख'

#### मुख्य-पाठ्य बिन्दु

#### 1. मुद्रा

मुद्रा विनिमय प्रक्रिया में एक मध्यवर्ती के रूप में कार्य करती है। इसे विनिमय का माध्यम कहा जाता है।

#### 2. वस्तु विनियम प्रणाली

वस्तुओं के बदले वस्तुओं का लेन देने वस्तु विनिमय प्रणाली कहलाता है।

#### 3. आवश्यकताओं का दोहरा संयोग

जब एक व्यक्ति किसी चीज को बेचने की इच्छा रखता हो, वही वस्तु दूसरा व्यक्ति खरीदने की इच्छा रखता हो अर्थात् मुद्रा का उपयोग किये बिना तो उसे आवश्यकताओं का दोहरा संयोग कहा जाता है।

#### 4. रिजर्व बैंक ऑफ इंडिया

भारत का मुख्य केन्द्रीय बैंक है इसके प्रमुख कार्य:-

- (i) सरकार की ओर से मुद्रा जारी करता है।
- (ii) बैंको व समितियों की कार्य प्रणाली पर नज़र रखता है।
- (iii) ब्याज की दरों एवं ऋण की शर्तों पर निगरानी रखता है।
- (iv) बैंक कितना नकद शेष अपने पास रखे हुए है। उसकी सूचना रखता है।
- (v) ऋण किस प्रकार वितरित करना है, इसकी नजर रखता है।

#### 5. साख

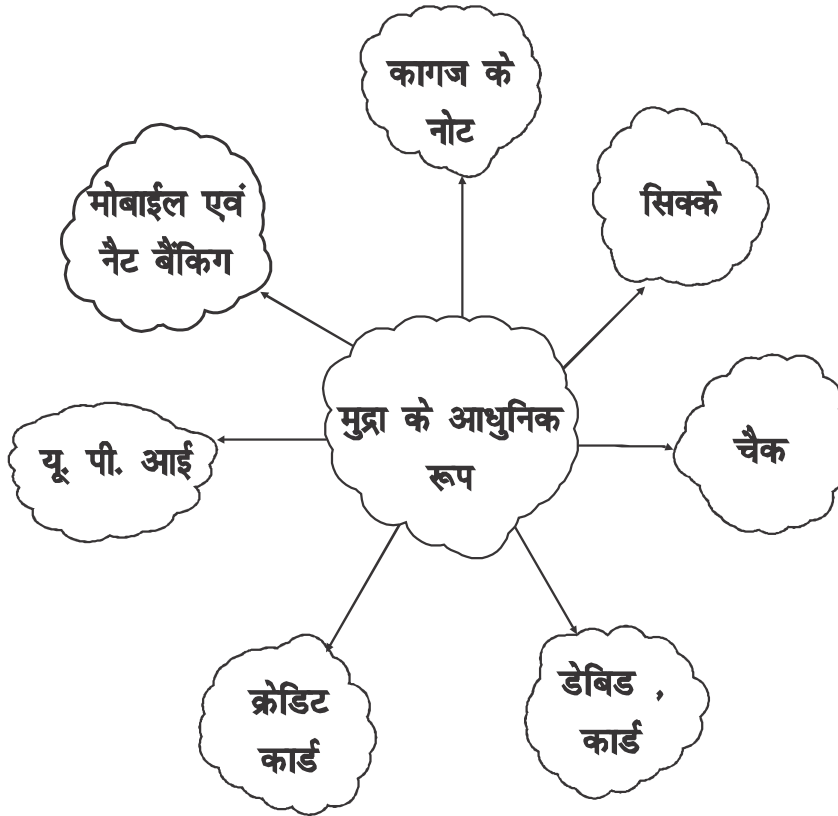
साख एक ऐसा समझौता है जिसके तहत ऋणदाता उधारकर्ता को धनराशि, वस्तु एवं सेवाएँ इस आश्वासन पर उधार देता है कि वह भविष्य में उसका भुगतान कर देगा।

## 6. समर्थक ऋणाधार

उधारदाता, उधार प्राप्तकर्ता से समर्थक ऋणाधार के रूप में ऐसी परिसम्पतियों की मांग करता है, जिन्हें बेचकर वह अपनी ऋण राशि की वसूली कर सके। ये परिस्थितियाँ ही समर्थक ऋणाधार कहलाती हैं।

उदाहरण:- कृषि, भूमि, जेवर, मकान पशु धन व बैंक जमा।

## 7. मुद्रा के आधुनिक रूप:-

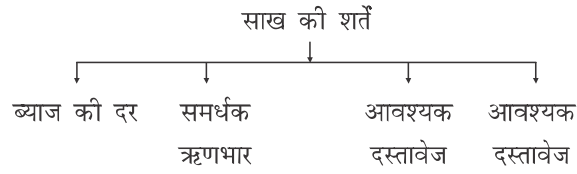


## 8. रिजर्व बैंक के कार्य:-

- मुद्रा जारी करना।
- बैंक एवं स्वयं सहायता समूहों की कार्यप्रणाली पर नजर रखना।

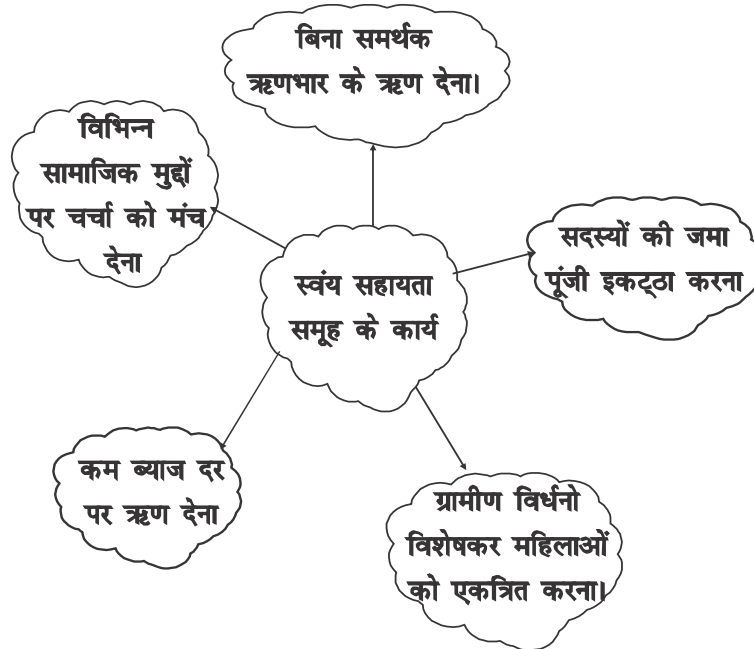
- ब्याज की दरों को निर्धारित करना।
- मौद्रिक नीति की समीक्षा करना।
- बैंकों की कुछ राशि का नकद संचयन करना

### 9. साख की शर्तें:



### 10. स्वयं सहायता समूह:-

स्वयं सहायता समूह का मूल विचार कि ग्रामीण गरीबों खासकर महिलाओं को स्वयं सहायता समूहों में संगठित किया जाए और उनकी बचत को एकत्र किया जाए।



## मुद्रा और साख

### बहुविकल्पीय प्रश्न (प्रश्न संख्या 1-10)

1. सही विकल्प की पहचान करें जो साख के स्रोत के प्रकार का वर्णन करता है ?
  - (i) कोई समर्थक ऋणाधार आवश्यक नहीं है।
  - (ii) बैंक पर्यवेक्षण नहीं करते हैं।
  - (iii) बार-बार उधर लेने से कर्ज का जाल बन सकता है।
  - (a) अनौपचारिक क्षेत्र ऋण      (b) औपचारिक क्षेत्रा ऋण
  - (c) दीर्घकालीन ऋण      (d) सहकारी समितियाँ
2. निम्नलिखित में से कौन सा कथन स्वयं सहायता समूहों के लिए उपयुक्त नहीं है ?
  - (i) ये समूह ग्रामीण गरीबों विशेषकर महिलाओं की मदद करते हैं
  - (ii) समूह इन ऋणों पर ब्याज लेता है
  - (iii) विशिष्ट स्वयं सहायता समूह में 80 से 200 सदस्य होते हैं
  - (iv) सदस्य समूह से ही लघु ऋण ले सकते हैं।

#### विकल्प:

- (a) कथन i और ii उपयुक्त है
  - (b) कथन i, ii और iv उपयुक्त हैं।
  - (c) सभी कथन उपयुक्त है।
  - (d) केवल कथन iii उपयुक्त है।
3. .... ऋण व्यापारियों, निर्माताओं, नियोक्ताओं, मित्रों आदि द्वारा प्रदान किया जाता है।
    - (a) औपचारिक      (b) अनौपचारिक
    - (c) समर्थक ऋणाधार      (d) लघु अवधि
  4. बैंक निम्नलिखित में से किस खाते पर अधिक ब्याज दर प्रदान करते हैं ?

- (a) बचत खाता  
 (b) चालू खाता  
 (c) लंबी अवधि के लिए सावधि जमा  
 (d) संयुक्त खाता
5. निम्नलिखित में से किस प्रणाली में मुद्रा के उपयोग के बिना वस्तु का विनिमय किया जाता है।  
 (a) बैंकिंग सिस्टम (b) समर्थक ऋणाधार  
 (c) वस्तु विनिमय प्रणाली (d) औपचारिक प्रणाली
6. नीचे दिए गए कथनों पर विचार कीजिए और सही उत्तर चुनिए  
**कथन 1:** धन को विनिमय के माध्यम के रूप में स्वीकार किया जाता है क्योंकि यह किसी देश की सरकार द्वारा अधिकृत होता है।  
**कथन 2:** भारतीय रिजर्व बैंक ने भुगतान के माध्यम के रूप में रुपये के उपयोग को वैध कर दिया जिसे भारत में लेनदेन के निपटारे में अस्वीकार नहीं किया जा सकता है।  
 (a) कथन (i) सही है और (ii) गलत है।  
 (b) कथन (i) गलत है और (ii) सही है।  
 (c) दोनों (i) और (ii) गलत हैं।  
 (d) दोनों (i) और (ii) सही हैं।
7. निम्नलिखित विकल्पों में से उचित कथनों की पहचान करके भारतीय अर्थव्यवस्था में बैंकों की भूमिका का मूल्यांकन कीजिए।  
 (i) वे लोगों के धन को अपनी सुरक्षित अभिरक्षा में रखते हैं।  
 (ii) बुनियादी ढांचे के विकास में मदद करता है।  
 (iii) वे जमा धन पर ब्याज देते हैं।  
 (iv) देश की मुद्रा को अधिकृत करें।

**विकल्प:**

- (a) कथन (i) और (ii) उपयुक्त हैं।

- (b) कथन (i), (ii) और (iii) उपयुक्त हैं।  
 (c) सभी कथन उपयुक्त हैं।  
 (d) केवल कथन (iv) उपयुक्त है।
8. निम्नलिखित में से कौन सा समर्थक ऋणाधार का उदाहरण है ?  
 (a) पशुधन (b) भूमि  
 (c) बैंकों में जमा (d) उपरोक्त सभी
9. 'क्रेडिट की शर्तों' में क्या शामिल है ?  
 (a) व्याज दर  
 (b) समर्थक ऋणाधार और दस्तावेजीकरण की आवश्यकता  
 (c) वापसी का तरीका  
 (d) उपरोक्त सभी
10. निम्नलिखित में से कौन बैंक को निर्देश देता है कि वह व्यक्ति के खाते से उस व्यक्ति को एक विशिष्ट राशि का भुगतान करे जिसके नाम पर चेक जारी किया गया है ?  
 (a) मांग पर जमा (b) बैंक का चेक  
 (c) मांग मसौदा (d) सावधि जमा

#### अभिकथन / कारण (11-15)

अभिकथन (A) और कारण (R) के रूप में चिह्नित दो कथन हैं। नीचे दिए गए कूटों के अनुसार अपना उत्तर दें:

- A. (A) और (R) दोनों सत्य है और (R) (A) की सही व्याख्या है.  
 B. (A) और (R) दोनों सत्य है लेकिन (R), (A) की सही व्याख्या नहीं है  
 C. (A) सही है लेकिन (R) गलत है  
 D. (A) गलत है लेकिन (R) सही है
11. **अभिकथन:** ग्रामीण गरीबों को औपचारिक ऋण उपलब्ध नहीं है।  
**कारण:** समर्थक ऋणाधार और दस्तावेजीकरण की अनुपस्थिति ग्रामीण गरीबों को ऋण प्राप्त करने से रोकती है।



12. **अभिकथन:** बैंकों और सहकारी समितियों को ग्रामीण क्षेत्रों में अपनी ऋण सुविध बढ़ानी चाहिए।  
**कारण:** सुधारकर्ता ऋण लेते हैं और ब्याज प्राप्त करते हैं।
13. **अभिकथन:** गरीब परिवार अभी भी ऋण के अनौपचारिक स्रोतों पर निर्भर है।  
**कारण:** बैंक भविष्य में जमाकर्ताओं द्वारा उपयोग किए जाने के लिए लोगों के पैसे को सुरक्षित अभिरक्षा में रखते हैं।
14. **अभिकथन:** मुद्रा लेन-देन प्रणाली वस्तु विनिमय प्रणाली से बेहतर है।  
**कारण:** दोहरे संयोग की समस्या समाप्त हो सकती है।
15. **अभिकथन:** बैंक अपनी जमा राशि का लगभग 45% नकद के रूप में रखता है।  
**कारण:** जमा का बड़ा हिस्सा ऋण के रूप में दिया जाता है।

#### उत्तरमाला (प्रश्न संख्या 1-15)

1. A. अनौपचारिक क्षेत्रा ऋण
2. B. कथन i, ii और iv उपयुक्त हैं।
3. B. अनौपचारिक
4. C. लंबी अवधि के लिए सावधि जमा
5. C. वस्तु विनिमय प्रणाली
6. A. कथन (i) सही है और (ii) गलत है।
7. B. कथन (i), (ii) और (iii) उपयुक्त हैं।
8. D. उपरोक्त सभी
9. D. ऊपर के सभी
10. B. बैंक का चेक
11. A. (A) और (R) दोनों सत्य है और (R) (A) की सही व्याख्या है
12. C. (A) सही है लेकिन (R) गलत है।

13. B. (A) और (R) दोनों सत्य है लेकिन (R), (A) की सही व्याख्या नहीं है।
14. A. (A) और (R) दोनों सत्य हैं और (R) (A) की सही व्याख्या है।
15. D. (A) गलत है लेकिन (R) सही है।

**लघु दीर्घ प्रश्न (2,3 एवं 5 अंक वाले प्रश्न)**

- प्र.1. वस्तु विनिमय प्रणाली क्या है ? (2)
- प्र.2. आधुनिक मुद्रा के दो रूप कौन से हैं ? (2)
- प्र.3 आवश्यकताओं के दोहरे संयोग का क्या अर्थ है ? (2)
- प्र.4 ग्रामीण क्षेत्रों में बैंकों और सहकारी समितियों द्वारा अपनी उधर सुविधाओं को बढ़ाने के किन्हीं तीन कारणों की व्याख्या कीजिए। (3)
- प्र.5 आर्थिक विकास में ऋण के औपचारिक स्रोत के महत्व का वर्णन कीजिए। (3)
- प्र.6 “देश के विकास के लिए सस्ता और वहनीय ऋण महत्वपूर्ण है” कथन की व्याख्या कीजिए। (3)
- प्र.7 भारत में अधिकांश लोग अभी भी ऋण के लिए ऋण के अनौपचारिक स्रोतों पर निर्भर क्यों है ? (3)
- प्र.8 भारतीय रिजर्व बैंक बैंकों के कामकाज की निगरानी कैसे करता है और यह क्यों आवश्यक है ? (3)
- प्र.9 गरीब लोगों के लिए स्वयं सहायता समूह की अवधराणा कैसे महत्वपूर्ण है ? चर्चा कीजिए। (5)
- प्र.10 भारत में ऋण के औपचारिक और अनौपचारिक स्रोतों की विशेषताओं का उल्लेख कीजिए। (5)
- प्र.11 उदाहरण के साथ ऋण की सकारात्मक और नकारात्मक भूमिका का वर्णन कीजिए। कथन के समर्थन में दो अलग-अलग उदाहरण दीजिए। (5)

प्र.12 अनौपचारिक क्षेत्रक की ऋण गतिविधियों को हतोत्साहित किया जाना चाहिए। उपयुक्त तर्कों के साथ कथन का समर्थन कीजिए। (5)

**उत्तरमाला लघु / दीर्घ प्रश्न (2,3 एवं 5 अंक वाले प्रश्न)**

1. स्मरणीय तथ्यों को देखें
2. स्मरणीय तथ्यों को देखें
3. स्मरणीय तथ्यों को देखें
4. स्मरणीय तथ्यों को देखें
5. स्मरणीय तथ्यों को देखें
6. स्मरणीय तथ्यों को देखें
7. स्मरणीय तथ्यों को देखें
8. स्मरणीय तथ्यों को देखें
9. स्मरणीय तथ्यों को देखें
10. स्मरणीय तथ्यों को देखें
11. स्मरणीय तथ्यों को देखें
12. स्मरणीय तथ्यों को देखें

**स्रोत आधारित प्रश्न**

1. नीचे दिए गए अनुच्छेद को पढ़िए एवं पूछे गए प्रश्नों के उत्तर दीजिए।

प्र.1 भारतीय रिजर्व बैंक ऋण के औपचारिक स्रोतों के कामकाज की निगरानी करता है। उदाहरण के लिए, हमने देखा है कि बैंक अपनी जमा राशि में से एक न्यूनतम नकदी शेष बनाए रखते हैं। आरबीआई वास्तव में नकदी शेष बनाए रखने में बैंकों की निगरानी करता है। इसी तरह, आरबीआई देखता है कि बैंक न केवल लाभ कमाने वाले व्यवसायों और व्यापारियों को बल्कि छोटे किसानों, लघु उद्योगों, छोटे उधारकर्ताओं आदि को भी ऋण देते हैं। समय-समय पर, बैंकों को आरबीआई को यह जानकारी देनी होती है कि वे कितना उधार दे रहे हैं, किसे, किस ब्याज दर पर, आदि।

- (i) उस संगठन का नाम बताइए जो साख के औपचारिक स्रोत के कार्यप्रणाली की निगरानी करता है ? (1)
- (ii) बैंकों को आरबीआई को कौन सी जानकारी देनी होती है (1)
- (iii) किन्हीं दो कारणों का उल्लेख कीजिए कि बैंक छोटे काश्तकारों, लघु उद्योगों और छोटे कर्जदारों को ऋण देने के लिए क्यों तैयार नहीं होते। (2)

2. नीचे दिए गए अनुच्छेद को पढ़िए एवं पूछे गए प्रश्नों के उत्तर दीजिए।

प्रत्येक ऋण समझौता एक ब्याज दर निर्दिष्ट करता है जिसे उधारकर्ता को मूलधन के पुनर्भुगतान के साथ ऋणदाता को भुगतान करना होगा। इसके अलावा, ऋणदाता ऋण के विरुद्ध समर्थक ऋणाधार (प्रतिभूति) की मांग कर सकते हैं। समर्थक ऋणाधार एक ऐसी संपत्ति है जो उधारकर्ता के पास होती है (जैसे कि भूमि, भवन, वाहन, लाइव स्टॉक, बैंकों के पास जमा राशि) और ऋण चुकाने तक ऋणदाता को गारंटी के रूप में इसका उपयोग करता है। यदि उधारकर्ता ऋण चुकाने में विफल रहता है, तो ऋणदाता को भुगतान प्राप्त करने के लिए संपत्ति या समर्थक ऋणाधार को बेचने का अधिकार है। संपत्ति जैसे भूमि शीर्षक, बैंकों के पास जमा राशि, पशुधन उधार लेने के लिए उपयोग किए जाने वाले समर्थक ऋणाधार के कुछ सामान्य उदाहरण हैं।

- (i) समर्थक ऋणाधार का अर्थ स्पष्ट करें। (1)
- (ii) ऋण लेने वाले के ऋण चुकाने में विफल रहने की स्थिति में ऋणदाता का क्या अधिकार है ? (1)
- (iii) ऋणदाता उधर देते समय समर्थक ऋणाधार क्यों मांगते हैं ? (2)

## उत्तर (स्रोत आधारित प्रश्न)

उत्तर 1.

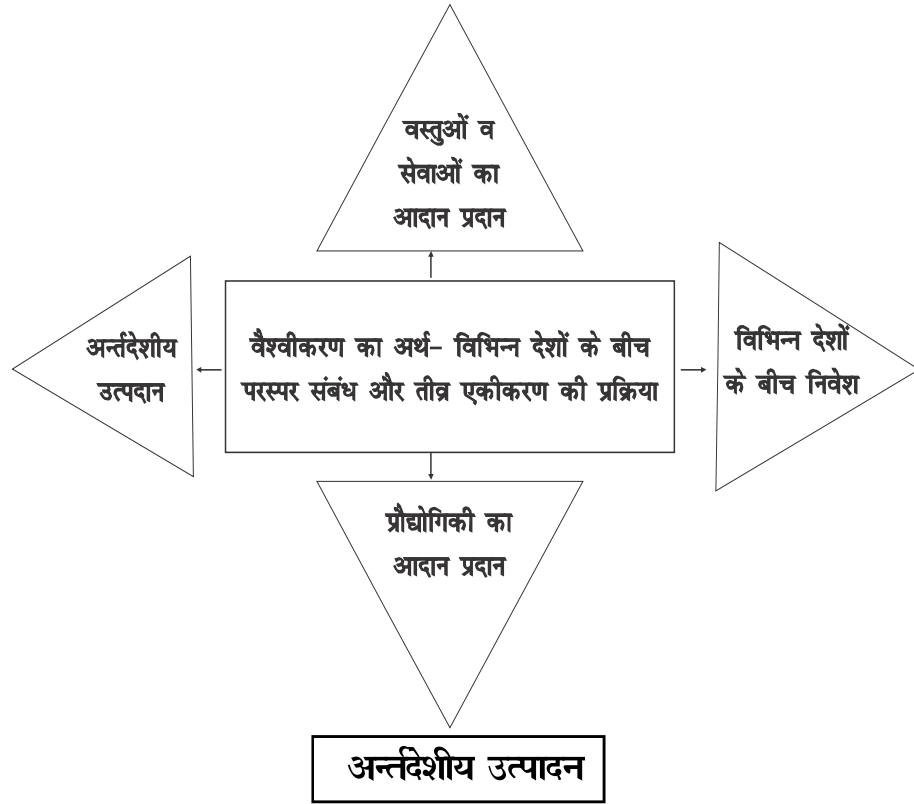
- (i) भारतीय रिजर्व बैंक
- (ii) वे कितना उधर दे रहे हैं, किसको, किस व्याज दर पर, आदि।
- (ii) उचित दस्तावेज और समर्थक ऋणाधार कुछ उधारकर्ता इन आवश्यकताओं को पूरा करने में विफल रहते हैं। अधिक संभावना है कि वे समय पर ऋण नहीं चुका सकते हैं।

उत्तर 2. विद्यार्थी अनुच्छेद को पढ़कर स्वयं हल करेंगे।

#### 4. वैश्वीकरण और भारतीय अर्थव्यवस्था

##### मुख्य पाठ्य बिन्दु:

वैश्वीकरण	विभिन्न देशों के बीच परस्पर संबंध और तीव्र एकीकरण की प्रक्रिया को ही वैश्वीकरण के नाम से जाना जाता है।
उदारीकरण	सरकार द्वारा अवरोधों और प्रतिबंधों को हटाने की प्रक्रिया को उदारीकरण कहा जाता है।
निजीकरण	सार्वजनिक क्षेत्रों की कंपनियों को चरणाबद्ध तरीके से निजी क्षेत्र में बेचना निजीकरण कहलाता है।
बहुराष्ट्रीय कम्पनियाँ	वह कंपनी जो एक से अधिक देशों में उत्पादन पर नियंत्रण रखती है।
निवेश	परिसंपत्तियों जैसे- भूमि, भवन, मशीन और अन्य उपकरणों की खरीद में व्यय की गई मुद्रा को निवेश कहते हैं।
विदेशी निवेश	बहुराष्ट्रीय कंपनियों द्वारा किए गए निवेश को विदेशी निवेश कहते हैं।
विश्व व्यापार संगठन	एक ऐसा संगठन है जिसका उद्देश्य अन्तर्राष्ट्रीय व्यापार को उदार बनाना और मुक्त व्यापार की सुविधा देना है।
मुक्त व्यापार:-	जब दो देशों के बीच व्यापार बिना किसी प्रतिबंध के होता है तो उसे मुक्त व्यापार कहते हैं।
सेज (SEZ):-	किसी विशेष क्षेत्रक में अतिरिक्त सुविधाएँ प्रदान कर विदेशी कम्पनियों को निवेश के लिए आकर्षित करना।



### पहले

- उत्पादन मुख्यतः देश की सीमा के भीतर
- देश की सीमा को लांघकर सिर्फ कच्चा माल, खाद्य पदार्थ और तैयार उत्पादन व्यापार दूरस्थ देशों को आपस में जोड़ने का मुख्य जरिया

### अब

- बहुराष्ट्रीय कंपनियों का उभरना
- इनका एक से अधिक देशों में उत्पादन पर नियंत्रण व स्वामित्व उत्पाद
- उन प्रदेशों में कार्यालय तथा उत्पादन के लिए कारखाने स्थापित करती है। जहाँ उन्हें सस्ता एवं अच्छा संसाधन मिलते है

**वैश्वीकरण और भारतीय अर्थव्यवस्था**  
**बहुविकल्पीय प्रश्न (1 अंक वाले प्रश्न)**

1. निम्नलिखित में से कौन सा व्यापार अवरोधक का एक उदाहरण है ?  
(a) विदेशी निवेश (b) माल की देरी या क्षति  
(c) आयात पर कर (d) इनमें से कोई नहीं
2. निम्नलिखित में से कौन सा/से कथन वैश्वीकरण को सक्षम करने वाले कारकों के लिए सबसे उपयुक्त है/हैं।  
(i) परिवहन प्रौद्योगिकी में सुधार  
(ii) पोर्ट हैडलिंग लागत में भारी कमी  
(iii) नगण्य लागत पर इंटरनेट की उपलब्धता  
(iv) हवाई परिवहन की लागत गिर गई है।

**विकल्प:**

- (a) कथन (i) और (ii) सही है।  
(b) कथन (i), (ii) और (iii) सही हैं।  
(c) सभी कथन सही है।  
(d) केवल कथन (iii) सही है।
3. .... सरकार द्वारा निर्धारित बाधाओं या प्रतिबंधों को हटाने को संदर्भित करता है।  
(a) निजीकरण (b) उदारीकरण  
(c) भूमंडलीकरण (d) समाजीकरण
4. 1991 में भारत सरकार ने व्यापार बाधाओं को हटा दिया क्योंकि ऐसा लगा कि:  
(a) भारतीय निर्यात बहुत अधिक था।  
(b) भारत के विकास के लिए पैसों की जरूरत थी।  
(c) घरेलू उत्पाद विदेशी उद्योगों से सम्पन्न होने को तैयार थे।  
(d) लोगों को अंतरराष्ट्रीय उत्पादों के लिए आयात की जरूरत थी।



5. नीचे दिए गए कथनों पर विचार कीजिए और सही उत्तर चुनिए
- कथन 1:** सरकार विदेशी व्यापार को बढ़ाने या पटाने के लिए व्यापार बाधाओं का उपयोग कर सकती है और यह तय कर सकती है कि देश में किस प्रकार का सामान और कितना प्रत्येक आना चाहिए
- कथन 2:** आजादी के बाद भारत सरकार ने सभी व्यापार बाधाओं को हटा दिया।
- (a) कथन (i) सही है और (ii) गलत है।  
(b) कथन (i) गलत है और (ii) सही है।  
(c) दोनों (i) और (ii) गलत है।  
(d) (i) और (ii) दोनों सही है।

#### अभिकथन / कारण (6-7)

अभिकथन (A) और कारण (R) के रूप में चिह्नित दो कथन हैं। अपना उत्तर नीचे दिए गए कूटों के अनुसार अंकित करें:

- A. (A) और (R) दोनों सत्य हैं और (R) (A) की सही व्याख्या है।  
B. (A) और (R) दोनों सत्य है लेकिन (R) (A) की सही व्याख्या नहीं है।  
C. (A) सही है लेकिन (R) गलत है।  
D. (A) गलत है लेकिन (R) सही है।
6. **अभिकथन:** सामान और सेवाएं, निवेश और तकनीकें देशों के मध्य चलती रहती है।  
**कारण:** लोग आमतौर पर बेहतर आय, बेहतर नौकरी या बेहतर शिक्षा की तलाश में एक देश से दूसरे देश जाते हैं।
7. **अभिकथन:** पिछले 50 वर्षों में कृषि और शिक्षा में कई सुधार देखे गए हैं।  
**कारण:** लंबी दूरी में माल की तेजी से डिलीवरी वैश्वीकरण के कारण कम लागत पर संभव है।

### उत्तर श्रृंखला (प्रश्न संख्या 1-7)

1. C. आयात पर कर
2. C. सभी कथन सही हैं।
3. B. उदारीकरण
4. C. घरेलू उत्पाद विदेशी उद्योगों से सम्पन्न होने को तैयार थे
5. A. कथन (i) सही है और (ii) गलत है।
6. B. (A) और (R) दोनों सत्य है लेकिन (R) (A) की सही व्याख्या नहीं है।
7. D. (A) गलत है लेकिन (R) सही है।

### लघु/दीर्घ प्रश्न (2, 3 और 5 अंक के प्रश्न)

- प्र.1. वैश्वीकरण से आप क्या समझते हैं? (2)
- प्र.2. उदारीकरण क्या है? (2)
- प्र.3 “वैश्वीकरण तीव्र एकीकरण या अंतसंबंध की प्रक्रिया है देशों के बीच” किन्हीं दो तरीकों का उल्लेख करें कि देश कैसे हो सकते हैं जुड़े हुए? (3)
- प्र.4 विदेशी व्यापार और निवेश पर व्यापार अवरोध क्यों लगाए जाते हैं? (3)
- प्र.5 सूचना और संचार प्रौद्योगिकी किस प्रकार वैश्वीकरण से जुड़ी है? क्या IT विस्तार के बिना वैश्वीकरण संभव था? (5)
- प्र.6 व्यापार और निवेश नीतियों के उदारीकरण ने किस प्रकार वैश्वीकरण में मदद की है? (5)

### उत्तर श्रृंखला लघु/दीर्घ प्रश्न (2, 3 और 5 अंक वाले प्रश्न)

1. स्मरणीय तथ्यों को देखें।
2. स्मरणीय तथ्यों को देखें।
3. स्मरणीय तथ्यों को देखें।
4. स्मरणीय तथ्यों को देखें।
5. स्मरणीय तथ्यों को देखें।

6. स्मरणीय तथ्यों को देखें।

### स्त्रोत आधारित प्रश्न

1. नीचे दिए गए गद्यांश को पढ़िए और उसके बाद आने वाले प्रश्नों के उत्तर दीजिए।

प्र.1 अधिक विदेशी निवेश और अधिक विदेशी व्यापार का परिणाम देशों के उत्पादन और बाजारों का अधिक एकीकरण रहा है। वैश्वीकरण देशों के बीच तीव्र एकीकरण या अंतर्संबंध की यह प्रक्रिया है। बहुराष्ट्रीय कंपनियां वैश्वीकरण की प्रक्रिया में एक प्रमुख भूमिका निभा रही हैं। अधिक से अधिक सामान और सेवाएं, निवेश और प्रौद्योगिकी देशों के बीच आगे बढ़ रहे हैं। कुछ दशक पहले की तुलना में विश्व के अधिकांश क्षेत्रों एक-दूसरे के निकट संपर्क में हैं। वस्तुओं, सेवाओं, निवेशों और प्रौद्योगिकी की आवाजाही के अलावा, एक और तरीका है जिससे देशों को जोड़ा जा सकता है। यह देशों के बीच लोगों के आंदोलन के माध्यम से है। लोग आमतौर पर बेहतर आप बेहतर नौकरी या बेहतर शिक्षा की तलाश में एक देश से दूसरे देश जाते हैं। हालांकि, पिछले कुछ दशकों में विभिन्न प्रतिबंधों के कारण देशों के बीच लोगों की आवाजाही में बहुत अधिक वृद्धि नहीं हुई है।

(i) विदेशी निवेश क्या है? (1)

(ii) किसी एक तरीके का उल्लेख कीजिए कि वैश्वीकरण में देश किस प्रकार जुड़ते हैं? (1)

(iii) वैश्वीकरण के किन्हीं दो लाभों का उल्लेख कीजिए। (2)

2. नीचे दिए गए गद्यांश को पढ़िए और पूछे गए प्रश्नों के उत्तर दीजिए।

प्र.2 1991 के आसपास भारत में नीति में कुछ दूरगामी परिवर्तन किए गए। सरकार ने फैसला किया कि भारतीय उत्पादों के लिए दुनिया भर के उत्पादों के साथ प्रतिस्पर्ध करने का समय आ गया है। यह महसूस किया गया कि प्रतिस्पर्ध से देश के भीतर उत्पादों के प्रदर्शन में सुधार होगा क्योंकि उन्हें अपनी गुणवत्ता में सुधार करना होगा। इस निर्णय को

शक्तिशाली अंतरराष्ट्रीय संगठनों का समर्थन प्राप्त था। इस प्रकार, विदेशी व्यापार और विदेशी निवेश पर बाधाओं को काफी हद तक हटा दिया गया। इसका मतलब यह था कि माल आसानी से आयात और निर्यात किया जा सकता था और साथ ही विदेशी कंपनियां यहां कारखाने और कार्यालय स्थापित कर सकती थीं। सरकार द्वारा निर्धारित बाधाओं या प्रतिबंधों को हटाना उदारीकरण के रूप में जाना जाता है। व्यापार के उदारीकरण के साथ, व्यवसायों को स्वतंत्र रूप से निर्णय लेने की अनुमति दी जाती है कि वे क्या आयात या निर्यात करना चाहते हैं। सरकार पहले की तुलना में बहुत कम प्रतिबंध लगाती है और इसलिए इसे अधिक उदार कहा जाता है।

- (i) 1991 में सरकार द्वारा कौन-से परिवर्तन किए गए? (1)
- (ii) सरकार ने विदेशी व्यापार पर लगे अवरोधों को क्यों हटाया? (1)
- (iii) “सरकार पहले की तुलना में बहुत कम प्रतिबंध लगाती है और इसलिए इसे अधिक उदार कहा जाता है” उदाहरण के साथ इस कथन की व्याख्या करें।

### उत्तर (स्रोत आधारित प्रश्न)

उत्तर 1

- (i) बहुराष्ट्रीय कंपनियों द्वारा विदेशों से किया गया निवेश।
- (ii) अधिक से अधिक सामान और सेवाएं, निवेश और प्रौद्योगिकी देश के बीच आगे बढ़ रहे हैं।
- (iii) 1. प्रौद्योगिकी और नवाचार का प्रसार।  
2. जीवन स्तर का उच्च स्तर।  
3. नए बाजारों तक पहुंच  
4. उत्पादों की कम लागत

उत्तर 2 छात्रा गद्यांश को स्वयं पढ़कर हल करेंगे।

**अभ्यास प्रश्न पत्र (हल सहित)**  
**सामाजिक विज्ञान (087)**  
**कक्षा-X (2023-24)**

अवधि: 3 घंटे

अधिकतम अंक: 80

सामान्य निर्देश:

1. यह प्रश्न पत्र छह खण्डों में विभाजित है- खण्ड क, खण्ड ख, खण्ड ग, खण्ड घ, खण्ड ङ, एवं खण्ड च। इस पत्र में कुल 37 प्रश्न हैं। सभी प्रश्न अनिवार्य हैं।
2. खण्ड 'क' (प्रश्न संख्या 1 से 20 तक) 1 अंक वाले बहुवैकल्पिक प्रकार के प्रश्न हैं।
3. खण्ड 'ख' (प्रश्न संख्या 21 से 24 तक) में 2 अंक वाले अतिलघु उत्तरीय प्रश्न हैं। प्रत्येक प्रश्न के उत्तर 40 शब्दों से अधिक नहीं होने चाहिए।
4. खण्ड 'ग' (प्रश्न संख्या 25 से 29 तक) में 3 अंक वाले लघु उत्तरीय प्रश्न हैं। प्रत्येक प्रश्न के उत्तर 60 शब्दों से अधिक नहीं होने चाहिए।
5. खण्ड 'घ' (प्रश्न संख्या 30 से 33 तक) में 5 अंक वाले दीर्घ उत्तरीय प्रश्न हैं। प्रत्येक प्रश्न के उत्तर 120 शब्दों से अधिक नहीं होने चाहिए।
6. खण्ड (प्रश्न संख्या 34 से 36 तक) में 4 अंक वाले कैस आधारित प्रश्न हैं जिनमें से प्रत्येक में तीन उपखंड हैं। प्रत्येक प्रश्न के उत्तर 100 शब्दों से अधिक नहीं होने चाहिए।
7. खण्ड 'च' (प्रश्न संख्या 37) एक मानचित्र आधारित प्रश्न है जो 5 अंकों का है जिसमें 37a इतिहास से सम्बंधित 2 अंकों का मानचित्र कार्य और 37b भूगोल से सम्बंधित 3 अंकों का मानचित्र कार्य है।
8. प्रश्न पत्र में कोई समग्र विकल्प उपलब्ध नहीं है, तथापि कुछ प्रश्नों में आंतरिक विकल्प दिए गए हैं। इनमें से किसी एक विकल्प का उत्तर दीजिए।
9. इसके अतिरिक्त, जहाँ भी आवश्यक हो, प्रत्येक खण्ड और प्रश्न के साथ अलग-अलग निर्देश दिए गए हैं।
10. नोट: CBQ का अर्थ योग्यता आधारित प्रश्न है। योग्यता आधारित प्रश्नों के लिए 50% अंक आवंटित किए गये हैं।

**खण्ड क**  
**बहुविकल्पीय प्रश्न**

1. नीचे दिए गए विवरण के आधार पर दिए गए विकल्पों में से सही कानून की पहचान कीजिए।
- (i) यह अधिनियम इंपीरियल विधान परिषद द्वारा पारित किया गया था।  
(ii) इसने सरकार को राजनीतिक गतिविधियों को दबाने की शक्ति दी।  
(iii) इसने सरकार को बिना मुकदमे के राजनीतिक कैदियों को हिरासत में लेने का अधिकार दिया।

**विकल्प:**

- (a) रॉलेट एक्ट (b) वर्नाक्युलर प्रेस एक्ट  
(c) भारत सरकार अधिनियम (d) अंतर्देशीय उत्प्रवास अधिनियम
2. जल संरक्षण के लिए भारत में निम्नलिखित में से किस स्थान पर 11वीं शताब्दी में निर्मित कृत्रिम झील स्थित है ?
- (a) दिल्ली (b) भोपाल  
(c) मुंबई (d) कोल्हापुर
3. नीचे दी गई सारणी को पढ़िए एवं प्रश्न के उत्तर दीजिए।

क्रम सं.	शिशु मृत्यु दर	कुल	बालक	बालिका
1	मध्य प्रदेश	47	48	45
2	असम	44	41	46
3	ओडिशा	41	40	41
4	उत्तर प्रदेश	41	39	37
5	छत्तीसगढ़	38	39	37
6	राजस्थान	38	37	40

दिए गए आँकड़ों के आधार पर किस राज्य की बालिका शिशु मृत्यु दर सर्वाधिक है ?

- (a) उत्तर प्रदेश (b) ओडिशा  
(c) राजस्थान (d) असम

4. निम्नलिखित में से कौन सा विकल्प बक्सर टाईगर रिजर्व के जैव विविधता एवं पारिस्थितिकी तंत्र को खनन प्रक्रिया से होने वाले खतरों को कम करने में मददगार हो सकता है ?
- सख्त नियमों और निगरानी तंत्र को लागू करना।
  - संरक्षित क्षेत्रों के आसपास बफर जोन लागू करना।
  - आसपास के समुदायों में वैकल्पिक आजीविका और सतत आर्थिक विकास को बढ़ावा देना।
  - बक्सर से टाईगर रिजर्व का विस्थापन।

#### विकल्प

- कथन i एवं ii सही है।
  - कथन ii, iii एवं iv सही है।
  - कथन ii सही है।
  - कथन i, ii एवं iii सही हैं।
5. जब यूरोप के कई सारे देशों ने मिलकर यूरोपीय संघ की स्थापना की तो ..... उसके मुख्यालय के रूप में चुना गया।
- ब्रुसेल्स
  - पेरिस
  - लंदन
  - ज्यूरिक
6. निम्नलिखित में से कौन सा कथन बहुसंख्यकवाद एवं सत्ता की साझेदारी के अंतर को पूर्ण रूप से स्पष्ट करता है ?
- बहुसंख्यकवाद बहुसंख्यक समुदाय के प्रभुत्व पर जोर देता है, जबकि सत्ता की साझेदारी विभिन्न समूहों के बीच सत्ता की साझेदारी पर जोर देती है।
  - बहुसंख्यकवाद आम सहमति निर्माण की आवश्यकता पर जोर देता है, जबकि सत्ता की साझेदारी अल्पसंख्यक समूहों के बहिष्कार पर जोर देती है।

- (c) बहुसंख्यकवाद अल्पसंख्यक हितों को समायोजित करने के महत्व पर जोर देता है, जबकि सत्ता की साझेदारी बहुमत के शासन की आवश्यकता पर जोर देती है।
- (d) बहुसंख्यकवाद संघर्षों के शांतिपूर्ण समाधान की आवश्यकता पर जोर देता है, जबकि शक्तिफ साझाकरण बहुमत की इच्छा को थोपने के लिए बल के उपयोग पर जोर देता है।
7. दो कथन संकल्पना (A) एवं कारण (R) के रूप में अंकित है। नीचे लिखे कोड के अनुसार अपना उत्तर चुनिए।
- संकल्पना:** लोकतंत्र न केवल अपेक्षाएं बढ़ाता है बल्कि शिकायतें भी बढ़ाता है।
- कारण:** शिकायत करना अपने आप में लोकतंत्र की सफलता का प्रमाण है।

**विकल्प:**

- (a) संकल्पना (A) एवं कारण (R) दोनों सत्य हैं तथा कारण संकल्पना की सही व्याख्या करता है।
- (b) संकल्पना (A) एवं कारण (R) दोनों सत्य हैं परंतु कारण, संकल्पना की सही व्याख्या नहीं करता है।
- (c) संकल्पना सही है परंतु कारण गलत है।
- (d) कारण सही है परंतु संकल्पना गलत है।
8. यदि “R” कपड़ा चाहता है, जो “S” के पास है, तो “R” के पास एक वस्तु होनी चाहिए जो “S” कपड़े के बदले में चाहता है। आवश्यकता के ऐसे संयोग के अभाव में कोई विनिमय नहीं होगा। स्थिति की पहचान कीजिए और सही विकल्प चुने जो निश्चित रूप से “R” और “S” को इस स्थिति को खत्म करने में मदद करेगा।
- (a) आवश्यकता का दोहरा संयोग, वस्तु से वस्तु का विनिमय।
- (b) आवश्यकता का दोहरा संयोग, वस्तु पर साख।



(c) आवश्यकता का दोहरा संयोग, वस्तु पर ऋण

(d) आवश्यकता का दोहरा संयोग, मुद्रा

9. आप एक ऐसे देश के नागरिक हैं जहाँ लोकतांत्रिक शासन है। आप यह सुनिश्चित करना चाहते हैं कि आपके देश में सत्ता का बँटवारा प्रभावी हो और सरकार के किसी एक अंग के पास संपूर्ण शक्ति न हो। निम्नलिखित में से कौन सा उपाय इस लक्ष्य को सर्वोत्तम रूप से पूरा करेगा ?

(i) सारी शक्तियाँ केंद्र सरकार के हाथों में केंद्रित है, जिसका सभी मामलों में अंतिम निर्णय होता है।

(ii) शक्तियों को केंद्र सरकार और राज्यों या प्रांतों के बीच विभाजित किया जाता है, प्रत्येक स्तर का अपना प्रभाव क्षेत्र होता है।

(iii) शक्तियों को विधायी कार्यकारी और न्यायिक शाखाओं के बीच विभाजित किया जाता है, प्रत्येक शाखा की अपनी जिम्मेदारियाँ और शक्तियाँ होती है।

(iv) शक्तियों को सरकार के विभिन्न स्तरों के बीच साझा की जाती है, जैसे कि राष्ट्रीय क्षेत्रीय और स्थानीय सरकारें, प्रत्येक स्तर पर कुछ हद तक स्वायत्तता होती है।

**विकल्प**

(a) केवल i

(b) केवल ii एवं iii

(c) केवल i, ii, एवं iii

(d) केवल ii, iii एवं iv

10. चित्र की पहचान नीचे दिए गए विकल्पों में से कीजिए-



- (a) फ्रंकफर्ट पार्लियामेंट (b) राइखस्टेग  
(c) ड्यूमा (d) संसद भवन

नोट: निम्नलिखित प्रश्न केवल दृष्टिबाधित विद्यार्थियों के लिए प्रश्न संख्या 10 के स्थान पर है निम्नलिखित में से बलूत पत्तियों का मुकुट प्रतीक किसके लिए प्रयुक्त होता है ?

- (a) स्वतंत्रता (b) मुकाबले के लिए तैयार  
(c) शांति की चाह (d) बहादुरी

11. वैश्विक अर्थव्यवस्था पर विदेशी व्यापार खोलने के प्रभावों का मूल्यांकन के सम्बन्ध में निम्नलिखित कथनों में से सही कथन की पहचान कीजिए—  
(i) बाजारों में वस्तुओं का विकल्प बढ़ जाता है।  
(ii) स्थानों के बीच की दूरी के बावजूद दो देशों के निर्माता एक-दूसरे के साथ प्रतिस्पर्ध करते हैं।  
(iii) विदेशी व्यापार इस प्रकार बाजारों को जोड़ने या विभिन्न देशों में बाजारों के एकीकरण करने का काम करता है।  
(iv) उत्पाद की गुणवत्ता हमेशा अच्छी होती है।

**विकल्प:**

- (a) कथन i एवं ii उचित हैं। (b) कथन i, ii एवं iii उचित है।  
(c) सभी कथन उचित है। (d) केवल कथन iv उचित है।
12. यदि कोई सरकार अपने नागरिकों को निर्णय की प्रक्रिया की जांच करने का अधिकार और साधन प्रदान करती है, तो यह ..... है।  
(a) जवाबदेह सरकार (b) निरंकुश सरकार  
(c) तानाशाही सरकार (d) स्थिर सरकार
13. असहयोग आंदोलन को आकार देने वाली घटनाओं के आधार पर निम्नलिखित कथनों को क्रम में व्यवस्थित करें।  
i. जलियांवाला बाग के बंद मैदान में जमा हुई भारी भीड़ पर जनरल डायर ने गोलियां चलाई।

- ii. ब्रिटिश सरकार द्वारा की गई “जबरन भर्ती” और प्रथम विश्व युद्ध के दौरान लोगों को हुई आर्थिक कठिनाइयों
- iii. तुर्की के सुल्तान की हार के कारण खिलाफत आंदोलन का गठन हुआ।
- iv. रौलेट एक्ट के खिलाफ गांधीजी ने राष्ट्रव्यापी सत्याग्रह शुरू किया।

**विकल्प:**

- (a) iv, iii, ii, i
- (b) ii, iii, iv, i
- (c) i, iv, iii, ii
- (d) i, ii, iii, iv

14. “परिवहन संघ” द्वारा हड़ताल की घोषणा की गई थी, जिसके कारण ट्रक ड्राइवरों ने ग्रामीण क्षेत्रों से शहरी क्षेत्रों में सब्जियों, दूध आदि का परिवहन करने से मना कर दिया था। शहरी क्षेत्रों में भोजन दुर्लभ हो गया जबकि किसान अपने उत्पादों को बेचने में असमर्थ थे। “परिवहन संघ” द्वारा की गई हड़ताल के कारण निम्नलिखित में से कौन से क्षेत्र प्रभावित हुए हैं ?

- (a) प्राथमिक एवं द्वितीयक
- (b) द्वितीयक एवं तृतीयक
- (c) प्राथमिक, द्वितीयक एवं तृतीयक
- (d) प्राथमिक एवं तृतीयक.

15. नीचे दिए गए कथनों पर विचार कीजिए और सही उत्तर चुनिए:

**कथन I:** 19वीं शताब्दी के अंत में पश्चिमी मुद्रण तकनीकों और यांत्रिक प्रेस का आयात किया गया था क्योंकि पश्चिमी शक्तियों ने चीन में अपनी चौकियाँ स्थापित कर ली थी।

**कथन II:** बीजिंग नई प्रिंट संस्कृति का केंद्र बन गया, जो पश्चिमी शैली के स्कूलों की जरूरतों को पूरा करता था।

- (a) कथन I सत्य है जबकि कथन II असत्य
- (b) कथन I असत्य है जबकि कथन II सत्य



कथन iii: अभिजात्य वर्ग के प्रतिनिधि।

कथन iv: अनिवासी भारतीयों के प्रतिनिधि (NRI)

**विकल्प:**

(a) कथन i एवं ii सही है (b) कथन i, ii एवं iii सही है

(c) कथन iii सही है (d) केवल कथन iv सही है

20. मिस 5 ने अपने स्वयं के व्यवसाय के लिए ऋण लेने के लिए पास के एक बैंक एवं साथ ही एक स्वयं सहायता समूह जो उसके गाँव में काम कर रहा था से संपर्क किया। बैंक ने उसके ऋण आवेदन को अस्वीकार कर दिया, जबकि स्वयं सहायता समूह ने उसे सहायता प्रदान करना स्वीकार किया ऋण।

निम्नलिखित में से कौन सा दस्तावेज बैंक द्वारा आवश्यक है, लेकिन स्व-सहायता समूह द्वारा उसके व्यवसाय के लिए मिस "S" के ऋण आवेदन को स्वी त करने के लिए आवश्यक नहीं है ?

(a) ऋण के लिए आवेदन (b) व्यवस्था पत्र

(c) समर्थक ऋणाधर (d) माँग वचन पत्र एवं बिलटी

**खण्ड-ख**

**अतिलघु उत्तरीय प्रश्न**

21. मानचित्र का अध्ययन कीजिए और उन भाषाओं का उल्लेख कीजिए जो बेल्जियम में प्रमुख रूप से बोली जाती हैं।



केवल दृष्टिबाधित विद्यार्थियों के लिए

बेल्जियम में प्रमुख रूप से बोली जाने वाली भाषाओं का उल्लेख कीजिए।

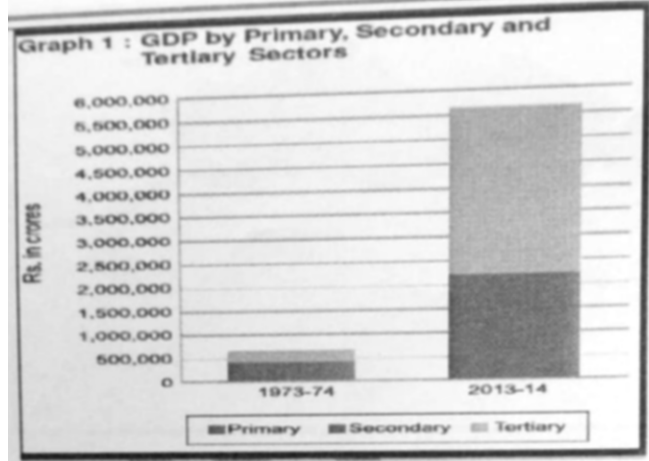
22. स्पेनी विजेताओं का सबसे शक्तिशाली हथियार पारंपरिक सैन्य हथियार बिल्कुल नहीं था। दो कारण देकर उपरोक्त कथन की पुष्टि कीजिए।
23. मिस्टर 'P' असम से हैं। वह या तो चाय या गेहूं की खेती करना चाहता है। वह अपने राज्य में दोनों में से किस फसल की खेती कर सकता है? किन्हीं दो कारणों से अपने उत्तर की पुष्टि कीजिए।
24. भारत एक संघीय देश है। यह सिद्ध करने के लिए किन्हीं चार कारणों का उल्लेख कीजिए।

#### खण्ड-ग

#### लघु उत्तरीय प्रश्न

25. भारत में महिलाओं के सामाजिक जीवन पर प्रिंट संस्कृति का महत्वपूर्ण प्रभाव पड़ा। इस दावे का समर्थन करने के लिए साक्ष्य प्रदान कीजिए।
26. मिस्टर "R" एक छोटे से कारखाने में नियमित कर्मचारी थे। उन्हें उनकी मजदूरी का ठीक से भुगतान नहीं किया गया था और कारखाने ने सरकार द्वारा बताए गए कारखाने के नियमों और विनियमों का पालन नहीं किया था। हाल ही में उनकी नौकरी चली गई और एक ठेलागाड़ी में बिजली के सामान बेचते हुए पाए गए। "R" जैसे श्रमिकों की सुरक्षा में सरकार की भूमिका का विश्लेषण कीजिए।
27. "कृषि औद्योगिक क्षेत्र को बढ़ावा देती है।" किन्हीं तीन संगत बिन्दुओं के साथ कथन की पुष्टि कीजिए।
28. भारतीय संविधान विधायी शक्ति को वितरित करने के लिए तीन सूचियाँ प्रदान करता है। संघ सूची में शामिल किन्हीं दो विषयों का उल्लेख कीजिए। "शिक्षा" किस विषय सूची में शामिल है। और क्यों?

29. नीचे दिया गया आलेख अर्थव्यवस्था के तीन क्षेत्रों में वस्तुओं और सेवाओं के उत्पादन को दर्शाता है। यह दो साल 1973-74 और 2013-14 के लिए दिखाया गया है। दिए गए आँकड़ों का विश्लेषण कीजिए और निम्नलिखित प्रश्नों के उत्तर दीजिए।



- 1973-74 में सबसे कम उत्पादक क्षेत्र कौन सा था? कारण बताएं।
- 2013-14 में सबसे बड़ा उत्पादक क्षेत्र कौन सा था? कारण बताएं।

नोट: निम्नलिखित प्रश्न केवल दृष्टिबाधित उम्मीदवारों के लिए प्रश्न संख्या 29 के स्थान पर है “तृतीयक क्षेत्र की गतिविधियाँ प्राथमिक और द्वितीयक क्षेत्रों के विकास में मदद करती हैं।” कथन की पुष्टि कीजिए।

#### खण्ड-घ

#### दीर्घ उत्तरीय प्रश्न

- स्थानीय पर्यावरण और आसपास के समुदायों के स्वास्थ्य पर खनन गतिविधियों के प्रभावों का विश्लेषण कीजिए।
- नेपोलियन का एक अधिक तर्कसंगत और कुशल प्रणाली बनाने वाले प्रशासक के रूप में आप मूल्यांकन कैसे करेंगे? उपयुक्त उदाहरणों के साथ स्पष्ट कीजिए।

या

वर्ष 1815 में वियना की कांग्रेस में रूढ़िवादियों द्वारा लिए गए निर्णयों का विश्लेषण कीजिए।

32. भारत जैसे लोकतांत्रिक देश में बहुदलीय व्यवस्था की भूमिका का विश्लेषण कीजिए।

या

राष्ट्रीय और क्षेत्रीय दलों के बीच महत्वपूर्ण अंतर का मूल्यांकन कीजिए और एक क्षेत्रीय पार्टी के राष्ट्रीय दल बनने के लिए आवश्यक दशाओं का आकलन कीजिए।

33. मिस्टर “X” ने एक साहूकार से उच्च ब्याज दर पर पैसा उधार लिया क्योंकि वह ब्याज का भुगतान नहीं कर सकता था। मिस्टर “X” को साहूकार से उधार लिए गए ब्याज की राशि का निपटान करने के लिए दूसरे जमींदार से उधार लेने के लिए मजबूर किया गया था। इस स्थिति में उसे किन परिणामों का सामना करना पड़ सकता है? वर्णन कीजिए।

या

“स्व-सहायता समूह गरीबी को खत्म करते हैं और महिलाओं को सशक्त बनाते हैं”। उपयुक्त उदाहरण द्वारा कथन की पुष्टि कीजिए।

**खण्ड-ड**

**केस आधारित प्रश्न**

34. “निष्क्रिय प्रतिरोध” के बारे में कहा जाता है कि यह कमजोरों का हथियार है, लेकिन इस लेख का विषय जो शक्ति है उसका उपयोग केवल मजबूत ही कर सकता है। यह शक्ति निष्क्रिय प्रतिरोध नहीं है, वास्तव में, यह गहन गतिविधि की मांग करता है। दक्षिण अफ्रीका में आंदोलन निष्क्रिय नहीं बल्कि सक्रिय था।

‘सत्याग्रह शारीरिक बल नहीं है। एक सत्याग्रही विरोधी को पीड़ा नहीं पहुँचाता, वह अपना विनाश नहीं चाहता है सत्याग्रह के उपयोग में, कोई



दुर्भावना नहीं है। सत्याग्रह शुद्ध आत्मबल है। सत्य ही आत्मा का सार है। इसीलिए इस बल को सत्याग्रह कहा जाता है। आत्मा को ज्ञान से सूचित किया जाता है। इसमें प्रेम की ज्योति जलती है। अहिंसा परम धर्म है। यह निश्चित है कि भारत हथियारों के बल पर ब्रिटेन या यूरोप का मुकाबला नहीं कर सकता। अंग्रेज युद्ध के देवता की पूजा करते हैं और वे सभी बन सकते हैं, जैसा कि वे बन रहे हैं, हथियार के वाहक। भारत के करोड़ों लोग कभी हथियार नहीं उठा सकते। उन्होंने अहिंसा को अपना धर्म बना लिया है।

अपनी प्रसिद्ध पुस्तक हिन्द स्वराज (1909) में महात्मा गांधी ने घोषणा की थी कि भारतीयों के सहयोग से ही भारत में ब्रिटिश शासन स्थापित हुआ था और इसी सहयोग के कारण ही वह कायम रहा। यदि भारतीयों ने सहयोग करने से इंकार कर दिया तो एक वर्ष के भीतर ब्रिटिश शासन का पतन हो जाएगा।

34. 1. गांधीजी ने कहा था, “निष्क्रिय प्रतिरोध कमजोरों का हथियार नहीं है। क्यों ?
34. 2. “सत्याग्रह शुद्ध आत्मबल है” इस कथन की 20 शब्दों में पुष्टि कीजिए।
34. 3. महात्मा गांधी के अनुसार भारत में ब्रिटिश शासन को खत्म करने के लिए सबसे अच्छा हथियार क्या है ?
35. महाराष्ट्र पश्चिमी भारत में स्थित एक राज्य है, जिसकी आबादी 110 मिलियन से अधिक है। राज्य मुंबई सहित कई बड़े शहरों का घर है और एक महत्वपूर्ण कृषि क्षेत्र है। हालांकि राज्य गंभीर जल संकट का सामना कर रहा है, जिसके जल संसाधन जलवायु परिवर्तन औद्योगीकरण और शहरीकरण के कारण बढ़ते दबाव में आ रहे हैं। महाराष्ट्र में जल संसाधन प्रबंधन के सामने मुख्य चुनौतियों है। में भूजल का अत्यधिक दोहन महाराष्ट्र भारत में सबसे अधिक भूजल तनावग्रस्त राज्यों में से एक है, जहां पानी की मांग आपूर्ति से अधिक है। कृषि और शहरी

उपयोग के लिए भूजल के अत्यधिक दोहन से जल स्तर में गिरावट आई है, जिसका जल संसाधनों की स्थिरता पर गंभीर प्रभाव पड़ा है। द्वितीय सतही जल का प्रदूषण: औद्योगिकीकरण और शहरीकरण ने नदियों और झीलों जैसे सतही जल निकायों के प्रदूषण को बढ़ावा दिया है। प्रदूषण के कारण पानी की गुणवत्ता में गिरावट आई है, जो मानव स्वास्थ्य और पर्यावरण के लिए जोरि म पैदा करता है? तृतीय अक्षम सिंचाई पद्धतिया कृषि क्षेत्रा महाराष्ट्र में पानी का सबसे बड़ा उपयोगकर्ता है, जो कुल पानी के उपयोग का लगभग 80 है। हालांकि, पारंपरिक सिंचाई पद्धतियों जैसे बाद सिंचाई अक्षम हैं और पानी की बर्बादी का कारण बनती है।

35. 1. महाराष्ट्र राज्य द्वारा झेले जा रहे जल संकट के किन्हीं दो कारणों का उल्लेख कीजिए।
35. 2. देश का दूसरा सबसे अधिक वर्षा प्राप्त करने वाला राज्य होने के बावजूद, महाराष्ट्र अभी भी जल संकट का सामना कर रहा है। इस कथन की 40 शब्दों में पुष्टि कीजिए।
35. 3. महाराष्ट्र राज्य द्वारा सामना किए जा रहे जल संकट को कम करने के लिए कोई एक समाधान प्रस्तावित करें।
36. सकल घरेलू उत्पाद (जीडीपी) और प्रति व्यक्ति आप: 2020 में भारत की जीडीपी 2.7 ट्रिलियन अमेरिकी डॉलर थी, जिससे यह दुनिया की छठी सबसे बड़ी अर्थव्यवस्था बन गई। हालांकि, भारत में प्रति व्यक्ति आप केवल 1.947 अमेरिकी डॉलर प्रति वर्ष है, जो कि विश्व औसत 11,570 अमेरिकी डॉलर से बहुत कम है। इसका मतलब यह है कि भारत में समग्र आर्थिक उत्पादन अधिक है, लेकिन लाभ जनसंख्या के बीच समान रूप से वितरित नहीं है।  
मानव विकास सूचकांक (एचडीआई) एचडीआई एक समय सूचकांक है जो जीवन प्रत्याशा, शिक्षा और आप जैसे संकेतकों के आधार पर देश के समग्र विकास को मापता है। संयुक्त राष्ट्र विकास कार्यक्रम (यूएनडीपी)

के अनुसार 2020 में भारत का एवडी आई मूल्य 0.645 था. जो विश्व औसत 0.737 से कम है।

यह इंगित करता है कि भारत ने हाल के वर्षों में मानव विकास संकेतकों में सुधार करने में महत्वपूर्ण प्रगति की है, फिर भी अभी एक लंबा रास्ता तय करना है।

36. 1. विश्व औसत की तुलना में भारत की प्रति व्यक्ति आय कम क्यों है ? भारत की प्रति व्यक्ति आय बढ़ाने के लिए कोई एक उपाय सुझाइए।
36. 2. भारत की प्रति व्यक्ति आय बढ़ाने के किसी एक उपाय का उल्लेख कीजिए।
36. 3. अपने HDI में सुधार के लिए भारत द्वारा किए जाने वाले किन्हीं दो उपायों का प्रस्ताव कीजिए।

#### खण्ड-ड

#### मानचित्रा आधारित प्रश्न

37. (a) भारत के दिए गए रेखा मानचित्र पर दो स्थान A और B अंकित किए गए हैं। उन्हें पहचानिए और उनके पास खींची गई रेखाओं पर उनके सही नाम लिखिए।
  - i. 1920 में इसी स्थान पर भारतीय राष्ट्रीय कांग्रेस का अधिवेशन।
  - ii. वह स्थान जहाँ महात्मा गांधी ने नमक कानून तोड़ा था।
37. (b) भारत के उसी रूपरेखा मानचित्र पर निम्नलिखित में से किन्हीं तीन को उपयुक्त चिन्हों से अंकित कीजिए और नामांकित कीजिए।
  - i. तमिलनाडु में एक कोयले की खान
  - ii. चिनाब नदी पर बना बांध
  - iii. आंध्र प्रदेश में स्थित एक बड़ा प्राकृतिक प्रमुख बंदरगाह
  - iv. नोएडा सॉफ्टवेयर टेक्नोलॉजी पार्क

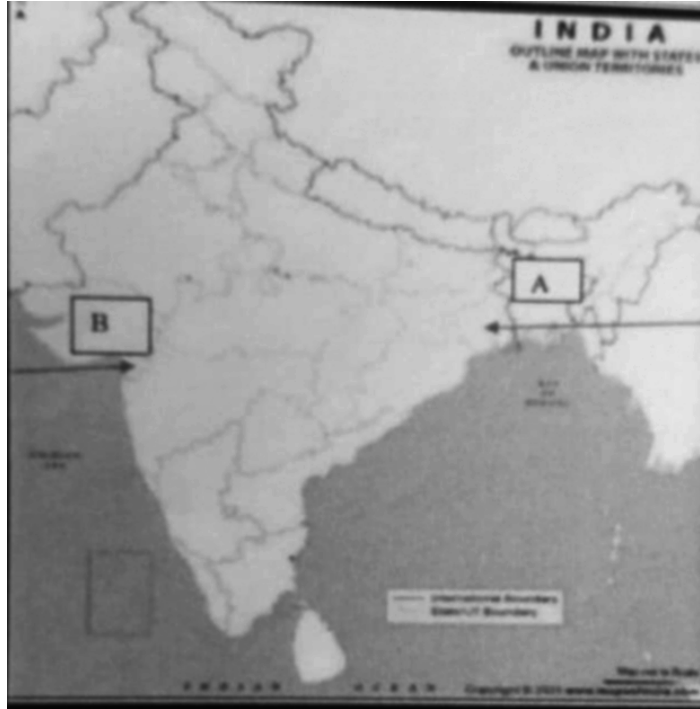
नोट: निम्नलिखित प्रश्न केवल दृष्टिबाधित उम्मीदवारों के लिए प्रश्न संख्या 37 (a) और (b) के स्थान पर है।

37a.

- i. उस स्थान का नाम लिखिए जहाँ सितंबर 1920 में भारतीय राष्ट्रीय कांग्रेस का अधिवेशन हुआ था।
- ii. उस स्थान का नाम बताइए जहाँ महात्मा गांधी ने नमक कानून तोड़ा था।

37b. निम्नलिखित में से किन्हीं तीन के उत्तर दीजिए।

- i. तमिलनाडु में स्थित कोयले की खान का नाम बताइए।
- ii. चिनाब नदी पर बने बाँध का नाम लिखिए।
- iii. आंध्र प्रदेश में स्थित सबसे बड़े प्राकृतिक बंदरगाह का नाम बताइए।
- iv. उस राज्य का उल्लेख करें जहाँ नोएडा सॉफ्टवेयर टेक्नोलॉजी पार्क स्थित है।



अभ्यास प्रश्न पत्र (हल सहित)  
सामाजिक विज्ञान (087)  
कक्षा -X (2023-24)

अवधि: 3 घंटे

अधिकतम अंक: 80

खण्ड क  
बहुविकल्पीय प्रश्न

1. (a) रोलेट एक्ट
2. (b) भोपाल
3. (d) असम
4. (d) कथन i, ii एवं iii सही हैं।
5. (a) ब्रूसेल्स
6. (a) बहुसंख्यकवाद बहुसंख्यक समुदाय के प्रभुत्व पर जोर देता है, जबकि सत्ता की साझेदारी विभिन्न समूहों के बीच सत्ता की साझेदारी पर जोर देती है।
7. (b) संकल्पना (A) एवं कारण (R) दोनों सत्य हैं परंतु कारण, संकल्पना की सही व्याख्या नहीं करता है।
8. (d) आवश्यकता का दोहरा संयोग, मुद्रा
9. (d) केवल ii, iii एवं iv
10. (a) फ्रंकफर्ट पार्लियामेंट  
नोट: निम्नलिखित प्रश्न केवल दृष्टिबाधित विद्यार्थियों के लिए प्रश्न संख्या 10 के स्थान पर है।  
(d) बहादुरी
11. (b) कथन i, ii एवं iii उचित हैं।
12. (a) जवाबदेह सरकार
13. (b) ii, iii, iv, i

14. (a) प्राथमिक, द्वितीयक एवं तृतीयक
15. (a) कथन I सत्य है जबकि कथन II असत्य
16. (a) संकेत।
17. (c) प्रतिनिधि लोकतंत्र।
18. (b) भूमंडलीकरण
19. (a) कथन ii एवं ii सही हैं।
20. (c) समर्थक ऋणाधार

### खण्ड-ख

### अतिलघु उत्तरीय प्रश्न

21. बेल्जियम में प्रमुख से बोली जाने वाली भाषाएँ डच एवं फ्रेंच हैं।  
केवल दृष्टिबाधित विद्यार्थियों के लिए:  
बेल्जियम में प्रमुख रूप से बोली जाने वाली भाषाएँ डच एवं फ्रेंच हैं।
22. स्पेनिश विजेताओं ने अमेरिका को पारंपरिक सैन्य हथियारों से नहीं, बल्कि चेचक जैसे कीटाणुओं से जीता था, जो किसी भी यूरोपीय के वहां पहुंचने से पहले महाद्वीप में गहराई तक फैल गए थे। अमेरिका के मूल निवासियों में यूरोप से आई इन बीमारियों के प्रति प्रतिरोधक क्षमता नहीं थी। इस बीमारी ने पूरे समुदाय को मिटा दिया, जिससे विजय प्राप्त हुई। सोलहवीं शताब्दी के मध्य में इस जैविक युद्ध ने स्पेनियों के लिए अमेरिकियों पर हावी होना आसान बना दिया।
23. श्री "P" को असम में चाय की खेती करनी चाहिए क्योंकि असम में मिट्टी और जलवायु परिस्थितियाँ चाय उगाने के लिए उपयुक्त हैं।
  - चाय का पौध उष्णकटिबंधीय और उपोष्णकटिबंधीय जलवायु में अच्छी तरह से बढ़ता है। जो गहरी और उपजाऊ अच्छी जल निकासी वाली लेटेराइट मिट्टी, ह्यूमस और कार्बनिक पदार्थों से

भरपूर होती है। चाय की झाड़ियों को साल भर गर्म और नम पाले से मुक्त जलवायु की आवश्यकता होती है।

- साल भर समान रूप से बार-बार होने वाली बौछारे कोमल पत्तियों की निरंतर वृद्धि सुनिश्चित करती है।

24. निम्नलिखित कारण हैं जो साबित करते हैं कि भारत एक संघीय देश है।

- शक्तियों का विभाजन भारत का संविधान स्पष्ट रूप से केंद्र और राज्य सरकारों की शक्तियों का सीमांकन करता है और दोनों के अधिकार क्षेत्रों के अलग-अलग क्षेत्रों है। भारतीय संविधान की सातवीं अनुसूची संघ सूची, राज्य सूची और समवर्ती सूची को सूचीबद्ध करती है, जो केंद्र और राज्य सरकारों की शक्तियों और जिम्मेदारियों को परिभाषित करती है।
- स्वतंत्र न्यायपालिका भारत में न्यायिक समीक्षा की शक्ति के साथ एक स्वतंत्र न्यायपालिका है। भारत का सर्वोच्च न्यायालय देश का सर्वोच्च न्यायिक प्राधिकरण है और इसके पास संविधान की व्याख्या करने और केंद्र और राज्य सरकारों के बीच विवादों को सुलझाने की शक्ति है।
- राज्यों का प्रतिनिधित्व राज्यसभा, भारतीय संसद का ऊपरी सदन, भारत के राज्यों और केंद्र शासित प्रदेशों का प्रतिनिधित्व करता है। राज्यसभा के सदस्य राज्यों और केंद्र शासित प्रदेशों की विधानसभाओं के निर्वाचित सदस्यों द्वारा चुने जाते हैं।
- राज्यों की विशेष दर्जा भारत में कुछ राज्यों को विशेष दर्जा प्राप्त है और उन्हें दूसरों की तुलना में अधिक स्वायत्तता प्रदान की गई है। उदाहरण के लिए जम्मू और कश्मीर का अपना संविधान और एक अलग झंडा है, और नागालैंड का अपना संविधान है और भारतीय संविधान के अनुच्छेद 371A के तहत एक विशेष दर्जा है।

ये कारक भारत को एक संघीय देश होने में योगदान देते हैं जहां केंद्र और राज्य सरकारों के बीच शक्ति विभाजित है।

(कोई दो प्रासंगिक बिंदु)

**खण्ड-ग**  
**लघु उत्तरीय प्रश्न**

25. 19वीं शताब्दी के दौरान भारत में प्रिंट संस्कृति के उदय ने महिलाओं के सामाजिक जीवन को जगाने में महत्वपूर्ण भूमिका निभाई। प्रिंटिंग प्रेस ने महिलाओं को उन सूचनाओं, ज्ञान और विचारों तक पहुँचने की अनुमति दी जो पहले उनके लिए दुर्गम थीं। महिला पत्रिकाओं, समाचार पत्रों और पुस्तकों ने महिलाओं को शिक्षा, लैंगिक समानता, महिलाओं के अधिकार और सामाजिक सुधार जैसे विभिन्न सामाजिक मुद्दों पर अपने विचार, विचार और राय व्यक्त करने के लिए एक मंच प्रदान किया।
1. उदार पतियों और पिताओं ने अपनी महिलाओं को घर पर शिक्षित करना शुरू किया और उन्हें स्कूलों में भेजा। पूर्वी बंगाल में एक बहुत ही रूढ़िवादी घर में एक युवा विवाहित लड़की रशसुंदरी। देवी ने अपनी रसोई की गोपनीयता में पढ़ना सीखा और अपनी आत्मकथा अमर जीवन (1876) लिखी। यह बंगाली भाषा में प्रकाशित पहली पूर्ण लंबाई वाली आत्मकथा थी।
  2. कैलाशबाशिनी देवी जैसी बंगाली महिलाओं ने महिलाओं के अनुभवों को उजागर करने वाली किताबें लिखी-महिलाओं को कैसे घर में कैद किया गया, अज्ञानता में रखा गया, कठिन घरेलू श्रम करने के लिए मजबूर किया गया और उनके परिवारों द्वारा अन्यायपूर्ण व्यवहार किया गया।
  3. महाराष्ट्र में ताराबाई शिंदे और पंडिता रमाबाई ने उच्च जाति की हिंदू महिलाओं, विशेषकर विधवाओं के दयनीय जीवन के बारे में भावुक क्रोध के साथ लिया।
  4. एक तमिल उपन्यास में एक महिला ने व्यक्त किया कि सामाजिक नियमों द्वारा सीमित महिलाओं के लिए पढ़ने का क्या मतलब है; 'कई कारणों से, मेरी दुनिया छोटी है... मेरे जीवन की आधी से ज्यादा खुशियां किताबों से आई है...'



इसलिए प्रिंट संस्कृति ने सामाजिक चेतना जगाने में मदद की और भारत में महिलाओं के अधिकारों और सशक्तिकरण की प्रगति में योगदान दिया।

(कोई तीन प्रासंगिक बिंदु)

26. निम्नलिखित तरीके हैं जिनसे असंगठित क्षेत्रा के श्रमिकों की सुरक्षा की जा सकती है।

- न्यूनतम काम के घंटे और मजदूरी सरकार द्वारा तय की जानी चाहिए।
- स्व-नियोजित लोगों की सहायता के लिए सरकार ऋण प्रदान कर सकती है।
- सरकार द्वारा शिक्षा, स्वास्थ्य और भोजन जैसी बुनियादी सेवाओं का ध्यान रखा जाना चाहिए।
- श्रम कानूनों को लागू करना
- सुनिश्चित करे कि कारखाने द्वारा न्यूनतम मजदूरी अधिनियम का पालन किया जा रहा है।
- काम के घंटे निर्धारित करें, नौकरी की सुरक्षा सुनिश्चित करें और कर्मचारियों को समय से अधिक भत्ता, बोनस, वेतन वृद्धि, स्वास्थ्य बीमा जैसे कर्मचारियों को लाभ प्रदान किया जाए। संक्षेप में 1956 के अधिनियम के अनुसार श्रमिकों के कल्याण का ध्यान रखा गया है।

27. • **कच्चे माल की आपूर्ति** : खाद्य प्रसंस्करण, कपड़ा और कागज जैसे विभिन्न उद्योगों के लिए कृषि कच्चे माल का एक महत्वपूर्ण स्रोत है। उदाहरण के लिए कपास उद्योग कृषि क्षेत्रों से कपास के उत्पादन पर बहुत अधिक निर्भर करता है। इसी तरह, खाद्य प्रसंस्करण उद्योग फलों, सब्जियों और अनाज जैसे कृषि उत्पादों पर निर्भर करते हैं। इस प्रकार एक स्वस्थ कृषि क्षेत्रा उद्योगों के

लिए कच्चे माल की स्थिर आपूर्ति सुनिश्चित कर सकता है, जो बदले में उनकी उत्पादकता और विकास को बढ़ावा दे सकता है।

- **बाजार विस्तार:** कृषि औद्योगिक उत्पादों के लिए एक विशाल बाजार प्रदान करती है। उदाहरण के लिए, ट्रैक्टर, टिलर और हार्वेस्टर जैसी कृषि मशीनरी का उपयोग स्टील प्लास्टिक और रबर सहित औद्योगिक वस्तुओं की मांग पैदा करता है। इसके अलावा कृषि क्षेत्र के विकास से किसानों की क्रय शक्ति में वृद्धि होती है, जो उपभोक्ता वस्तुओं ऑटोमोबाइल और उपकरणों जैसे औद्योगिक उत्पादों के लिए एक महत्वपूर्ण उपभोक्ता समूह बन जाते हैं।
  - **रोजगार सृजन:** कृषि एक श्रम प्रधान क्षेत्र है जो भारत में एक महत्वपूर्ण आबादी के लिए रोजगार के अवसर पैदा करता है। एक स्वस्थ कृषि क्षेत्र किसानों और कृषि श्रमिकों के आय स्तर को बढ़ा सकता है, जो बदले में औद्योगिक उत्पादों और सेवाओं की मांग पैदा कर सकता है। इसके अतिरिक्त, कृषि से संबंधित उद्योग जैसे खाद्य प्रसंस्करण और कृषि रसायन भी रोजगार के अवसर पैदा करते हैं, खासकर ग्रामीण क्षेत्रों में इस प्रकार एक मजबूत कृषि क्षेत्र बेरोजगारी और गरीबी को कम करने में मदद कर सकता है, जो भारत में प्रमुख चुनौतियां हैं। (कोई तीन प्रासंगिक बिंदु)
28. • भारतीय संविधान में विधयी शक्ति का तीन गुना वितरण है, जिसमें तीन सूचियाँ हैं संघ सूची, राज्य सूची और समवर्ती सूची संघ सूची में शामिल विषय वे हैं जो संघ सरकार के अनन्य अधिकार क्षेत्रा में आते हैं। संघ सूची में शामिल कुछ विषय हैं:
- देश की रक्षा
  - विदेश मामले और संबंध बेकिंग, मुद्रा और सिक्का
  - रेलवे और हवाई परिवहन

- डाक और तार
- जनगणना और सांख्यिकी
- कॉपीराइट, पेटेंट और ट्रेडमार्क
- विषय “शिक्षा” समवर्ती सूची के अंतर्गत आता है, जिसका अर्थ है कि केंद्र सरकार और राज्य सरकारों दोनों के पास इस विषय पर कानून बनाने की शक्ति है। समवर्ती सूची में ऐसे विषय शामिल हैं जो संघ और राज्य सरकारों दोनों के लिए सामान्य हित के हैं।

(किसी प्रासंगिक बिंदु का उल्लेख किया जाना है)

29. 1. माध्यमिक क्षेत्र 1973-74 में सबसे कम उत्पादक क्षेत्र था भारत उस दौर में एक बंद अर्थव्यवस्था है। तकनीकी उन्नयन सीमित था। साथ ही, औद्योगिक नीति ने विभिन्न प्रकार के उद्योगों में प्रवेश करने की स्वतंत्रता को प्रतिबंधित कर दिया और थकाऊ लाइसेंसिंग नीति ने नए खिलाड़ियों को आने से हतोत्साहित किया।
2. तृतीयक क्षेत्र 2013-14 के दौरान सबसे बड़ा उत्पादक क्षेत्र था। इसका मुख्य कारण था-
- **बुनियादी सेवाएं:** किसी भी देश में कई सेवाओं जैसे अस्पतालों, शैक्षणिक संस्थान, डाक और तार सेवाएं पुलिस स्टेशन अदालतें ग्राम प्रशासनिक कार्यालय, नगर निगम, रक्षा, परिवहन बैंक और बीमा कंपनियों की आवश्यकता होती है। इन्हें बुनियादी सेवाएं माना जा सकता है। एक विकासशील देश में सरकार को इन सेवाओं के प्रावधान की जिम्मेदारी लेनी होती है।
  - **प्राथमिक और द्वितीयक क्षेत्रों का विकास:** कृषि और उद्योग के विकास से परिवहन, व्यापार और भंडारण जैसी सेवाओं का विकास होता है। प्राथमिक और द्वितीयक क्षेत्रों का जितना अधिक विकास होगा, ऐसी सेवाओं की मांग उतनी ही अधिक होगी।
  - आय के स्तर में वृद्धि जैसे जैसे आय का स्तर बढ़ता है, लोगों के कुछ वर्ग बाहर खाने, पर्यटन, खरीदारी, निजी अस्पतालों, निजी

स्कूलों और पेशेवर प्रशिक्षण केंद्रों जैसी कई और सेवाओं की मांग करना शुरू कर देते हैं। हम इस बदलाव को शहरों में, खासकर बड़े शहरों में काफी तेजी से दे सकते हैं।

- सूचना प्रौद्योगिकी में वृद्धि पिछले एक दशक में कुछ नई सेवाएं, जैसे कि सूचना और संचार प्रौद्योगिकी पर आधारित सेवाएं आवश्यक हो गई है। इन सेवाओं का उत्पादन तेजी से बढ़ रहा है।

(कोई दो प्रासंगिक बिंदु)

**नोट: निम्नलिखित प्रश्न केवल दृष्टिबाधित उम्मीदवारों के लिए प्रश्न संख्या 29 के स्थान पर है**

- किसी भी देश में कई सेवाओं जैसे अस्पताल, शैक्षणिक संस्थान, डाक और तार सेवाएं पुलिस स्टेशन, अदालतें, ग्राम प्रशासनिक कार्यालय, नगर निगम, रक्षा, परिवहन, बैंक और बीमा कंपनियों की आवश्यकता होती है। इन्हें बुनियादी सेवाएं माना जा सकता है।
- एक विकासशील देश में सरकार को इन सेवाओं के प्रावधान की जिम्मेदारी लेनी चाहिए। कृषि और उद्योग के विकास से परिवहन व्यापार और भंडारण जैसी सेवाओं का विकास होता है।
- प्राथमिक और द्वितीयक क्षेत्रों का जितना अधिक विकास होगा, ऐसी सेवाओं की मांग उतनी ही अधिक होगी।

### खण्ड-घ

#### दीर्घ उत्तरीय प्रश्न

30. खनन के खतरे या खनिकों के स्वास्थ्य और पर्यावरण पर खनन के प्रभाव नीचे दिए गए हैं:

- खनिकों द्वारा साँस में ली जाने वाली धूल और हानिकारक धुआं उन्हें फुफ्फुसीय रोगों की चपेट में ले आता है।
- खदान की छतों के गिरने का खतरा,
- कोयला खदानों में बाढ़ और आग खनिकों के लिए लगातार खतरा है।

- तथ्य यह है कि खनन सबसे खतरनाक नौकरियों में से एक है, खनन का आमतौर पर बहुत सारे कचरे के उत्पादन के साथ पर्यावरण पर नकारात्मक प्रभाव पड़ता है।
- स्थानीय वनस्पतियों और जीवों में व्यवधान और स्थानीय जल स्रोतों का संदूषण।
- इसके लिए बड़े पैमाने पर ऊपरी मिट्टी को हटाने की आवश्यकता हो सकती है, जिससे कटाव, आवास की हानि और प्रदूषण हो सकता है।

(कोई अन्य प्रासंगिक बिंदु)

31. • 1804 की नागरिक संहिता जिसे आमतौर पर नेपोलियन संहिता के रूप में जाना जाता है, ने संपत्ति के अधिकार को सुरक्षित किया, कानून के समक्ष समानता स्थापित की ओर जन्म के आधार पर सभी विशेषाधिकारों को हटा दिया।
- फ्रांसीसी नियंत्रण के तहत क्षेत्रों द्वारा नेपोलियन संहिता का पालन किया गया था।
  - नए व्यापारियों कारीगरों, किसानों और श्रमिकों ने नई मिली स्वतंत्रता का आनंद लिया।
  - इटली, जर्मनी, स्विटजरलैंड और डच गणराज्य जैसे फ्रांसीसी नियंत्रण वाले क्षेत्रों में, किसानों को जागीर के बकाया से मुक्त कर दिया गया, किसानों को भूदासता से मुक्त कर दिया गया, सामंती व्यवस्था को समाप्त कर दिया गया और प्रशासनिक विभाजनों को सरल बना दिया गया।
  - कस्बों में गिल्ड प्रतिबंध हटा दिए गए।
  - संचार और परिवहन प्रणालियों में सुधार हुए।
  - एक क्षेत्र से दूसरे क्षेत्र में माल और पूंजी की आवाजाही और विनिमय को सुविधाजनक बनाने के लिए माल के छोटे पैमाने के उत्पादकों और व्यापारियों ने यह महसूस करना शुरू कर दिया कि

सामान्य राष्ट्रीय मुद्रा, मानकीकृत माप और वजन और समान कानून बहुत मददगार थे।

(कोई अन्य प्रासंगिक बिंदु)

### अथवा

- चार महान यूरोपीय शक्तियों ब्रिटेन, रूस, प्रशिया और ऑस्ट्रिया के प्रतिनिधि, जिन्होंने सामूहिक रूप से नेपोलियन को हराया था। यूरोप के लिए एक समझौता तैयार करने के लिए वियना में मिले। कांग्रेस की मेजबानी ऑस्ट्रिया के चांसलर ड्यूक मेटर्निच ने की थी। परिणाम 1815 की वियना की संधि थी।
- इसका उद्देश्य नेपोलियन युद्धों के दौरान यूरोप में हुए परिवर्तनों को पूर्ववत करना और नेपोलियन द्वारा उखाड़ फेंके गए राजशाही को बहाल करना और यूरोप में एक नया रूढ़िवादी आदेश बनाना था।
- बोरबॉन राजवंश (फ्रांसीसी क्रांति के दौरान पदच्युत को सत्ता में बहाल किया गया था।
- फ्रांस ने उन क्षेत्रों को खो दिया जिसे उसने नेपोलियन के अधीन कर लिया था।
- भविष्य में इसे विस्तार से रोकने के लिए फ्रांस की सीमाओं पर राज्यों की एक श्रृंखला स्थापित की गई थी। उदाहरण के लिए नीदरलैंड का राज्य, जिसमें बेल्जियम शामिल था, उत्तर में स्थापित किया गया था।
- जेनोआ को दक्षिण में पीडमोट में जोड़ा गया था। प्रशिया को उसकी पश्चिमी सीमाओं पर क्षेत्र दिए गए थे। ऑस्ट्रिया को उत्तरी इटली का नियंत्रण दिया गया था।
- नेपोलियन द्वारा स्थापित 39 राज्यों का जर्मन परिसंघ अछूता नहीं रहा। पूर्व में रूस को पोलैंड का हिस्सा दिया गया जबकि प्रशिया को सैक्सोनी का एक हिस्सा दिया गया।

- इस प्रकार 1815 में स्थापित रूढ़िवादी शासन निरंकुश थे। वे आलोचना और असहमति को सहन नहीं करते थे। उन्होंने निरंकुश सरकारों की वैधता पर सवाल उठाने वाली गतिविधियों पर अंकुश लगाया।

(कोई अन्य प्रासंगिक बिंदु)

- 32.
- भारत जैसी लोकतांत्रिक प्रणाली में, बहुदलीय राजनीति नागरिकों के विविध हितों और आकांक्षाओं का प्रतिनिधित्व करने में महत्वपूर्ण भूमिका निभाती है।
  - बहुदलीय प्रणाली प्रतिस्पर्धी और गतिशील राजनीतिक वातावरण की अनुमति देती है, जहाँ विभिन्न विचारधाराओं और एजेंडों वाले दल भाग ले सकते हैं और मतदाताओं के समर्थन के लिए प्रतिस्पर्धा कर सकते हैं।
  - कई पार्टियों की उपस्थिति भी किसी एक पार्टी के बहुत अधिक शक्तिशाली और प्रभावी होने के खिलाफ नियंत्रण और संतुलन प्रदान करती है।
  - यह प्रणाली विभिन्न प्रकार के हितों और विचारों को राजनीतिक प्रतिनिधित्व का आनंद लेने की अनुमति देती है। लोग कई उम्मीदवारों के बीच चुनाव कर सकते हैं।
  - इस प्रणाली के माध्यम से विभिन्न और विविध पार्टियां समाज के वर्गों का प्रतिनिधित्व कर सकती हैं और सत्ता किसी एक पार्टी के हाथों में नहीं समाती है। भारत ने राष्ट्र में विशाल विविधता और बहुलता के कारण इस प्रणाली को अपनाया।

(कोई अन्य प्रासंगिक बिंदु)

अथवा

- राष्ट्र में राष्ट्रीय दल शक्तिशाली होते हैं, यह राष्ट्रीय मुद्दों से संबंधित है। क्षेत्रीय दलों की शक्ति एक विशिष्ट क्षेत्र या राज्य तक

सीमित होती है, केवल एक विशिष्ट क्षेत्र के मुद्दों और मांगों पर क्षेत्रीय दलों द्वारा चर्चा की जाती है।

- राष्ट्रीय दलों के कार्य क्षेत्रीय समस्याओं पर राष्ट्रीय मुद्दों को तरजीह देते हैं।
- क्षेत्रीय दलों के संचालन राज्य तक ही सीमित है।
- एक पार्टी को राष्ट्रीय पार्टी बनने के लिए लोकसभा या चार राज्यों के विधनसभा चुनावों में कुल वोटों का कम से कम छह प्रतिशत हासिल करना चाहिए और लोकसभा में कम से कम चार सीटें जीतनी चाहिए।
- एक पार्टी को क्षेत्रीय पार्टी बनने और कम से कम दो सीटें जीतने के लिए विधयी चुनाव में कुल मतों का कम से कम छह प्रतिशत प्राप्त करना होगा। राष्ट्रीय दलों के उदाहरण भाजपा कांग्रेस और बसपा है। क्षेत्रीय दलों के उदाहरण है डीएमके बीजू जनता दल आदि,

(कोई अन्य प्रासंगिक बिंदु)

33. मिस्टर “X” “ऋण जाल” में गिर गया है, वह ऐसी स्थिति में है जहां वह किए गए ऋण को चुकाने में सक्षम नहीं होगा क्योंकि अनौपचारिक क्षेत्रा श्री “एक्स” द्वारा चुने गए क्रेडिट का स्रोत था, जहां

- ब्याज दर अधिक है,
- कोई उचित दस्तावेज नहीं मांगा गया है,
- नियमों और विनियमों के किसी सेट का पालन नहीं किया जाएगा
- उधरदाताओं को अक्सर दंडित किया जाता था और उनके साथ बुरा व्यवहार किया जाएगा
- इस प्रकार के ऋण के अनौपचारिक स्रोतों का मुख्य उद्देश्य लाभ कमाना है

उसे निम्नलिखित परिणामों का सामना करना पड़ सकता है:



- मिस्टर “X” को साहूकार द्वारा भेजे गए पुरुषों से चल रहे उत्पीड़न और शारीरिक नुकसान का सामना करना पड़ सकता है।
- वह नियमित ब्याज भुगतान करने या उधार ली गई पूरी राशि चुकाने में सक्षम नहीं होगा। इससे महत्वपूर्ण तनाव और चिंता हो सकती है, साथ ही संभावित शारीरिक चोटें भी हो सकती है।
- मृत ऋण चुकाने के लिए किसी अन्य जर्मीदार से उधार लेना श्री षेक्सप के लिए ऋण का एक चक्र बना सकता है, खासकर यदि दूसरे ऋण पर ब्याज दरें भी अधिक है।
- मिस्टर “X” कर्ज चुकाने के निरंतर दबाव और उधारदाताओं के उत्पीड़न के कारण मानसिक तनाव, चिंता और अवसाद जैसे व्यक्तिगत परिणामों का अनुभव कर सकते हैं।

(कोई अन्य प्रासंगिक बिंदु)

#### अथवा

- स्वयं सहायता समूह गरीबों को बचत और आय उत्पन्न करने के मामले में आत्मनिर्भर बनने में मदद करते हैं।
- वे बैंकों जैसे औपचारिक स्रोतों से कम ब्याज दर पर ऋण की सुविधा प्राप्त करते हैं।
- वे संपार्थिक की मांग नहीं करते हैं और इसलिए गरीबों द्वारा इसे प्राप्त करना आसान है। स्व-सहायता समूह विशेष रूप से ग्रामीण महिलाओं के लिए है ताकि उन्हें स्वरोजगार के अवसरों के माध्यम से आर्थिक रूप से स्वतंत्र बनाया जा सके।
- अन्य विकास कारकों जैसे साक्षरता स्तर बेहतर स्वास्थ्य दे भाल और बेहतर परिवार नियोजन में सुधार करने में मदद करता है।
- आर्थिक सशक्तिकरण एसएचजी महिलाओं को सस्ती दरों पर ऋण बचाने और उन तक पहुंचने के लिए एक मंच प्रदान करते हैं, जो उन्हें छोटे व्यवसायों को शुरू करने और विस्तार करने में सक्षम बनाता है। इस प्रकार जीवन स्तर में सुधार।

- कौशल विकास भारत में स्वयं सहायता समूह महिलाओं को कौशल विकास और प्रशिक्षण के अवसर प्रदान करने में भी सफल रहे हैं। प्रशिक्षण कार्यक्रमों के माध्यम से महिलाओं को सफल व्यवसाय शुरू करने और चलाने के लिए आवश्यक कौशल से लैस किया जाता है।
- **सामाजिक सशक्तिकरण:** महिलाओं को एक साथ आने, अपने अनुभव साझा करने और एक-दूसरे का समर्थन करने के लिए एक मंच प्रदान करके एसएचजी ने महिलाओं को अपने जीवन का प्रभार लेने और अपने समुदायों में सक्रिय भागीदार बनने के लिए सशक्त बनाया है।

(कोई अन्य प्रासंगिक बिंदु)

#### खण्ड-ड

#### केस आधारित प्रश्न

34. 34.1. गांधीजी ने कहा था, निष्क्रिय प्रतिरोध कमजोरों का हथियार नहीं है क्योंकि इसके लिए बहुत अधिक आंतरिक शक्ति के साथ तीव्र गतिविधि की आवश्यकता होती है। (1)
- 34.2. सत्य आत्मा का यह पदार्थ है जो ज्ञान से सूचित होता है और इस प्रकार इस बल को सत्याग्रह कहा जाता है। (1)
- 34.3- महात्मा गांधी ने अपनी पुस्तक हिंद स्वराज में घोषणा की कि असहयोग (सत्याग्रह) के माध्यम से ही भारत में ब्रिटिश शासन का पतन हो सकता है क्योंकि वे भारतीयों के सहयोग से ही अपना साम्राज्य बना सकते हैं। (1)
35. 35.1- महाराष्ट्र के जल संकट का सामना करने के दो कारण भूजल का अत्यधिक दोहन औद्योगिकीकरण और शहरीकरण के कारण सतही जल निकायों का प्रदूषण है। (1)
- 35.2- देश में दूसरी सबसे अधिक वर्षा प्राप्त करने के बावजूद, बाद सिंचाई जैसी पारंपरिक सिंचाई पद्धतियों के कारण महाराष्ट्र में पानी की

कमी हो गई है। ऐसा इसलिए है क्योंकि बाद सिंचाई में पानी का अत्यधिक उपयोग होता है, और पानी अपवाह के कारण खो जाता है, जिससे अन्य उपयोगों के लिए कम पानी उपलब्ध होता है। (1)

35.3- महाराष्ट्र में जल संकट को कम करने के लिए, अधिक कुशल सिंचाई प्रथाओं को अपनाने को बढ़ावा देने के लिए एक समाधान हो सकता है, जैसे ड्रिप सिंचाई और स्प्रिंकलर सिस्टम जो कम पानी का उपयोग करते हैं और उनके वितरण में अधिक लक्षित होते हैं। राज्य पश्चिमी घाटों के पश्चिमी किनारे पर भूजल स्तर में सुधार के लिए वर्षा जल संचयन प्रणाली का भी उपयोग कर सकता है, जहाँ अधिकतम वर्षा होती है। इससे महाराष्ट्र राज्य में पानी के उपयोग की दक्षता बढ़ेगी।

(2)

(उपरोक्त में से कोई एक या कोई अन्य प्रासंगिक समाधान)

36. 36.1 तीव्र जनसंख्या वृद्धि किसी अर्थव्यवस्था में प्रति व्यक्ति आय को प्रत्यक्ष रूप से प्रभावित करती है। तीव्र विकास दुर्लभ संसाधनों के आवंटन की समस्या की ओर ले जाता है। शिक्षा, स्वास्थ्य सेवा और रोजगार के अवसरों की कमी नागरिकों के आय स्तर को कम करती है, जिसके परिणामस्वरूप देश की प्रति व्यक्ति आय कम होती है। (1)

36.2- बुनियादी ढांचे शिक्षा और प्रशिक्षण में सरकार के निवेश के माध्यम से भारत की प्रति व्यक्ति आय बढ़ सकती है। अधिक शिक्षा और नौकरी कौशल व्यक्तियों को अधिक सामान और सेवाओं का उत्पादन करने, व्यवसाय शुरू करने और उच्च आय अर्जित करने की अनुमति देते हैं। (1)

36. 36.3- भारत द्वारा अपने एचडीआई में सुधार के लिए किए जाने वाले दो उपाय हो सकते हैं।

- शिक्षा और स्वास्थ्य सुविधाओं पर बजटीय आवंटन में वृद्धि: भारत को विशेष रूप से ग्रामीण क्षेत्रों में स्वास्थ्य सेवाओं तक पहुंच में सुधार पर ध्यान देने की आवश्यकता है। इसमें अधिक अस्पतालों

और क्लीनिकों का निर्माण अधिक स्वास्थ्य कर्मियों को प्रशिक्षण देना और स्वास्थ्य देखभाल की लागत को कम करने के लिए नीतियों को लागू करना शामिल हो सकता है। अधिक रोजगार के अवसर पैदा करने के लिए सब्सिडी को चैनलाइज किया जा सकता है।

- **शिक्षा में निवेश:** भारत को अपनी मानव पूंजी में सुधर के लिए शिक्षा में निवेश करने की आवश्यकता है। इसमें स्कूलों और कॉलेजों की संख्या बढ़ाना, बेहतर शिक्षक प्रशिक्षण प्रदान करना और सभी बच्चों की शिक्षा तक पहुंच सुनिश्चित करने के लिए नीतियों को लागू करना शामिल हो सकता है। इसके अतिरिक्त, यह सुनिश्चित करने के लिए शिक्षा की गुणवत्ता में सुधर पर ध्यान देने की आवश्यकता है कि छात्रों को कार्यबल में सफल होने के लिए आवश्यक कौशल प्राप्त हो रहे हैं। (2)

#### खण्ड-ड

#### मानचित्रा आधारित प्रश्न

37. 37. (a)

- i. कलकत्ता (कोलकाता)
- ii. दांडी

37. (b) मानचित्र संलग्न

**नोट:** निम्नलिखित प्रश्न केवल दृष्टिबाधित उम्मीदवारों के लिए प्रश्न संख्या 37 (a) और (b) के स्थान पर है।

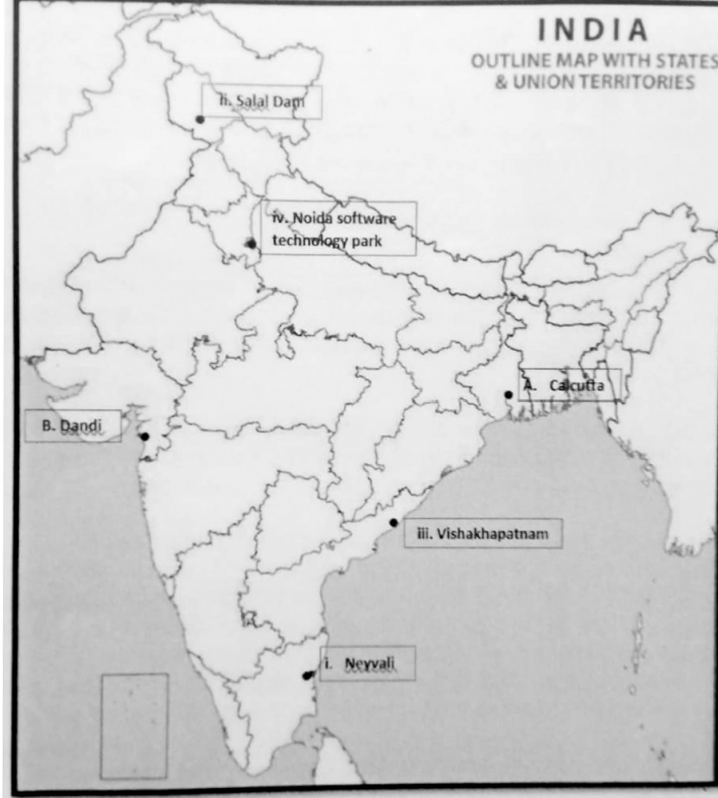
37. (a)

- i. कलकत्ता (कोलकाता)
- ii. दांडी

37. (a)

- i. नेवेली

- ii. सलाल
- iii. विशाखापत्तनम
- iv. उत्तर प्रदेश।



अभ्यास प्रश्न पत्र 2  
सामाजिक विज्ञान (087)

अवधि: 3 घंटे

अधिकतम अंक: 80

खण्ड क

बहुविकल्पीय प्रश्न

- निम्नलिखित में से कौन गुलामगिरी पुस्तक के लेखक है ?  
(a) डॉ. भीमराव अम्बेडकर (b) ज्यातिबा फुले  
(c) ई.वी. पेरियार (d) राम मोहन रॉय
- 1815 में नेपोलियन की हार के बाद यूरोपीय सरकारें निम्नलिखित में से किस भावना से प्रेरित थी ?  
(a) समाजवाद (b) रूढ़िवाद  
(c) उदारवाद (d) रूमानीवाद
- निम्नलिखित में से कौन-सी मृदा उच्च तापमान और अत्यधिक वर्षा वाले क्षेत्रों में होती है ?  
(a) लाल और पीली मृदा (b) काली मृदा  
(c) जलोढ मृदा (d) लेटराइट मृदा
- स्तम्भ क का मिलान स्तम्भ ख से कीजिए और सही विकल्प का चयन कीजिए।

स्तम्भ क जैव

स्तम्भ ख कोयला

A. जैव

1. कोयला

B. नवीकरणीय

2. वन्य - जीवन

C. नवीकरणीय

3. सौर - ऊर्जा

(a) A-1, B-3, C-2

(b) A-3, B-2, C-1

(c) A-2, B-3, C-1

(d) A-1, B-2, C-3

5. नीचे दिए गए प्रश्न में दो प्राक्कथन दिए गए हैं एक संकल्पना (स) और दूसरा कारण (क)। कथनों को पढ़िए और सही विकल्प का चयन कीजिए।

संकल्पना (स): कृषि तथा उद्योग एक-दूसरे के पूरक हैं।

कारण (क) देश में औद्योगिक विकास बेरोजगारी तथा गरीबी उन्मूलन की आवश्यक शर्त है।

### विकल्प

- (a) संकल्पना (स) एवं कारण (क) दोनों सही हैं एवं कारण, संकल्पना की सही व्याख्या है।
- (b) संकल्पना (स) एवं कारण (क) दोनों सही हैं परन्तु कारण, संकल्पना की सही व्याख्या नहीं है।
- (c) संकल्पना (स) सही है एवं कारण (क) गलत है।
- (d) संकल्पना (स) गलत है परन्तु कारण (क) सही है।
6. 1920 के दशक में निम्नलिखित में से किस देश की महत्वपूर्ण विशेषता 'बृहत उत्पादन' का चलन थी ?
- (a) संयुक्त राज्य अमेरिका      (b) फ्रांस  
(c) पोलैंड      (d) जापान
7. प्रथम विश्वयुद्ध में केंद्रीय शक्तियों से संबंधित निम्नलिखित में से सही विकल्प का चयन कीजिए।
- (a) जर्मनी, ऑस्ट्रिया-हंगरी और ऑटोमन तुर्की  
(b) ब्रिटेन, फ्रांस और रूस  
(c) इटली, जापान और रूस  
(d) फ्रांस, ऑस्ट्रिया-हंगरी और ऑटोमन तुर्की
8. नीचे दिए गए प्रश्न में, दो प्राक्कथन दिए गए हैं एक संकल्पना (स) और दूसरा कारण (क)। कथनों को पढ़िए और सही विकल्प का चयन कीजिए।

**संकल्पना (स) :** बेल्जियम ने अपने संविधान में चार बार संशोधन किए।

**कारण (क) :** संविधान सभी को एक ही देश में एक साथ रहने में सक्षम बनाने के लिए था।

**विकल्प :**

- (a) संकल्पना (स) एवं कारण (क) दोनों सही हैं एवं कारण, संकल्पना की सही व्याख्या है।
- (b) संकल्पना (स) एवं कारण (क) दोनों सही हैं परन्तु कारण, संकल्पना की सही व्याख्या नहीं है।
- (c) संकल्पना (स) सही है एवं कारण (क) गलत है।
- (d) संकल्पना (स) गलत है परन्तु कारण (क) सही है।

9. स्तम्भ क का मिलान स्तम्भ ख से कीजिए और सही विकल्प का चयन कीजिए।

**स्तम्भ क**

**स्तम्भ ख कोयला**

A. संघ सूची

1. कृषि

B. राज्य सूची

2. कंप्यूटर सॉफ्टवेयर

C. समवर्ती सूची

3. बैंकिंग

D. बाकी बचे विषय

4. शिक्षा

(a) A-3, B-1, C-4, D-2

(b) A-4, B-3, C-3, D-1

(c) A-2, B-4, C-3, D-1

(d) A-1, B-2, C-3, D-4

10. निम्नलिखित में से कौन-सा देश साथ आकर संघ बनाने का उदाहरण है ?

(a) भारत

(b) बेल्जियम

(c) संयुक्त राज्य अमेरिका

(d) स्पेन



11. दी गई तालिका का अध्ययन कीजिए और उसके नीचे दिए गए प्रश्न का उत्तर दीजिए।

वर्ष 2019 के लिए भारत और उसके पड़ोसी देशों के कुछ आँकड़े

देश	जन्म के समय संभावित आयु	विश्व में मानव विकास सूचकांक का क्रमांक (2018)
श्रीलंका	77	73
भारत	69.7	130
म्यांमार	67.1	148
पाकिस्तान	67.3	154
नेपाल	70.8	143
बांग्लादेश	72.6	134

निम्नलिखित देशों में से किसका मानव विकास सूचकांक का स्तर सर्वाधिक है ?

- (a) भारत (b) श्रीलंका  
(c) बांग्लादेश (d) नेपाल

12. निम्नलिखित देशों में से किसने बहुदलीय व्यवस्था को अपनाया ?

- (a) संयुक्त राज्य अमेरिका (b) भारत  
(c) चीन (d) ब्रिटेन

13. प्राकृतिक उत्पादों को अन्य रूपों में परिवर्तित किया जाना कहलाता है.

- (a) प्राथमिक उत्पाद (b) द्वितीयक उत्पाद  
(c) तृतीयक उत्पाद (d) चतुर्थक

14. उत्पाद निम्नलिखित क्षेत्रों में से किसमें सार्वजनिक जीवन में महिलाओं की भागीदारी अधिकतम है ?

- (A) नॉर्डिक देश (b) अरब मुल्क  
 (c) यूरोपीय देश (d) एशियाई देश
15. विश्व बैंक द्वारा देशों की तुलना करने के लिए उनकी ..... सबसे महत्वपूर्ण विशिष्टता समझी जाती है।  
 (a) शिक्षा (b) स्वास्थ्य स्तर  
 (c) आय (d) जीवन स्तर
16. निम्नलिखित राज्यों में से कौन-सा क्षेत्रीय दल द्वारा शासित है ?  
 (a) गुजरात (b) मध्य प्रदेश  
 (c) ओडिशा (d) राजस्थान
17. निम्नलिखित में से कौन-सी वैश्वीकरण की एक चुनौती है ?  
 (a) नए बाजारों तक पहुँच (b) नई प्रतिभा तक पहुँच  
 (c) अंतर्राष्ट्रीय भर्ती होना (d) अनुपातहीन वृद्धि होना
18. निम्नलिखित शहरी परिवारों का कौन सा वर्ग औपचारिक क्षेत्रक से ऋण का अधिकतम प्रतिशत प्राप्त करता है ?  
 (a) गरीब परिवार  
 (b) समृद्ध परिवार  
 (c) कम परिसंपत्ति वाले परिवार  
 (d) अमीर परिवार
19. निम्नलिखित में से कौन-सी आधुनिक करेंसी का एक रूप है ?  
 (a) कागज के नोट (c) चाँदी के सिक्के  
 (c) सोने के सिक्के (d) ताँबे के सिक्के
20. निम्नलिखित में से कौन सी असंगठित क्षेत्राका की एक विशेषता है ?  
 रोजगार की अवधि नियमित होती है।  
 लोगों के पास सुनिश्चित काम होता है।  
 उनकी कुछ औपचारिक प्रक्रिया एवं कार्यविधि है।  
 नियम और विनियम होते हैं परन्तु उनका पालन नहीं होता है।

### खण्ड-ख

#### अतिलघु उत्तरीय प्रश्न

21. उन्नीसवीं शताब्दी के दौरान यूरोप में उदारवादी राष्ट्रवाद के विचारों की समीक्षा कीजिए।
22. ऋण कर्जदार को ऐसी परिस्थिति में धकेल देता है, जहाँ से बाहर निकलना काफी कष्टदायक होता है। कथन के समर्थन में उदाहरण दीजिए।
23. भारत में वन्यजीव संरक्षण के लिए किन्हीं दो उपायों की समीक्षा कीजिए।
24. 1956 में श्रीलंकाई तमिलों की नाराजगी क्यों बढ़ गई? स्पष्ट कीजिए।

### खण्ड-ग

#### लघु उत्तरीय प्रश्न

25. भारत में तृतीयक क्षेत्रक के महत्व पर संक्षिप्त टिप्पणी कीजिए।
26. भारत में महिलाओं की साक्षरता दर बढ़ाने के कुछ उपाय बताइए।
27. ऊर्जा सभी क्रियाकलापों के लिए आवश्यक है। कथन की उदारहण सहित व्याख्या कीजिए।
28. यूरोप में मुद्रण किस प्रकार अस्तित्व में आया? व्याख्या कीजिए।
29. प्राथमिक एवं द्वितीयक क्षेत्रकों में अंतर स्पष्ट कीजिए।

### खण्ड-घ

#### दीर्घ उत्तरीय प्रश्न

30. सविनय अवज्ञा आंदोलन में व्यवसायी वर्गों की भूमिका का विश्लेषण कीजिए।
31. भारत में आरंभिक जीविका निर्वाह और वाणिज्यिक कृषि की विशेषताओं की व्याख्या कीजिए।

अथवा

भारत में गहन जीविका एवं रोपण कृषि की विशेषताओं की व्याख्या कीजिए।

32. उन परिस्थितियों का विश्लेषण कीजिए जिनमें लोकतांत्रिक शासन व्यवस्थाएँ सामाजिक विविधताओं में सामंजस्य स्थापित करती है ?

अथवा

उन परिस्थितियों का विश्लेषण कीजिए जिनमें लोकतांत्रिक शासन व्यवस्थाएँ नागरिक की गरिमा और आजादी को बढ़ावा देती है।

33. बहुराष्ट्रीय कंपनियों किस प्रकार विश्वभर के उत्पादन को एक दूसरे से जोड़ती है ? उदाहरणों सहित स्पष्ट कीजिए।

अथवा

विदेशी निवेश को आकर्षित करने के लिए केन्द्र एवं राज्य सरकारों द्वारा किए गए किन्हीं पाँच उपायों की व्याख्या कीजिए।

खण्ड-ड

केस आधारित प्रश्न

34. नीचे दिए गए अनुच्छेद को पढ़िए एवं पूछे गए प्रश्नों के उत्तर दीजिए।

सत्याग्रह शारीरिक बल नहीं है। सत्याग्रही अपने शत्रु को कष्ट नहीं पहुँचाता वह अपने शत्रुता का विनाश नहीं चाहता। सत्याग्रह के प्रयोग में दुर्भावना के लिए कोई स्थान नहीं होता। सत्याग्रह तो शुद्ध आत्मबल है। सत्य ही आत्मा का आधार होता है। इसीलिए इस बल को सत्याग्रह का नाम दिया गया है। आत्मा ज्ञान से हमेशा लैस होती है। इसमें प्यार की लो जलती है..। अहिंसा सर्वोच्च धर्म है। इसमें कोई संदेह नहीं कि भारत विनाशकारी शस्त्रों के मामले में ब्रिटेन या यूरोप का मुकाबला नहीं कर सकता। अंग्रेज युद्ध के देवता की उपासना करते हैं। वे सब हथियारों से लैस हो सकते हैं, होते जा रहे हैं। भारत में करोड़ों लोग

कभी हथियार लेकर नहीं चल सकते। उन्होंने अहिंसा के मार्ग को आत्मसात् कर लिया। है।

- 34.1. सत्याग्रह का महत्व स्पष्ट कीजिए।
- 34.2. महात्मा गांधी ने भारत के लोगों को स्वतंत्रता के किस मार्ग को आत्मसात् के लिए कहा ?
- 34.3. महात्मा गांधी के सत्याग्रह पर विचारों की समीक्षा कीजिए।
35. नीचे दिए गए अनुच्छेद को पढ़िए एवं पूछे गए प्रश्नों के उत्तर दीजिए।  
राजनीतिक दल को लोगों के एक ऐसे संगठित समूह के रूप में समझा जा सकता है जो चुनाव लड़ने और सरकार में राजनीतिक सत्ता हासिल करने के उद्देश्य से काम करता है। समाज के सामूहिक हित को ध्यान में रखकर यह समूह कुछ नीतियाँ और कार्यक्रम तय करता है। सामूहिक हित एक विवादास्पद विचार है। इसे लेकर सबकी राय अलग-अलग होती है। इसी आधार पर दस लोगों को यह समझाने का प्रयास करते हैं कि उनकी नीतियों औरों से बेहतर हैं। ये लोगों का समर्थन पाकर चुनाव जीतने के बाद उन नीतियों को लागू करने का प्रयास करते हैं। इस प्रकार दल किसी समाज के बुनियादी राजनीतिक विभाजन को भी दर्शाते हैं। पार्टी समाज के किसी एक हिस्से से संबंधित होती है इसलिए उसका नजरिया समाज के उस वर्ग समुदाय विशेष की तरफ झुका होता है। किसी दल की पहचान उसको नीतियों और उसके सामाजिक आधार से तय होती है। राजनीतिक दल के तीन प्रमुख हिस्से हैं: नेता सक्रिय सदस्य और अनुयायी या समर्थक।
- 35.1. राजनीतिक दलों का महत्व बताइए।
- 35.2. क्षेत्रीय दलों की भूमिका बताइए।
- 35.3. भारत के किन्हीं दो प्रमुख राजनीतिक दलों के नाम बताइए।
36. नीचे दिए गए अनुच्छेद को पढ़िए एवं पूछे गए प्रश्नों के उत्तर दीजिए।  
संसाधनों का ऐसा विवेकपूर्ण प्रयोग ताकि न केवल वर्तमान पीढ़ी की अपितु भावी पीढ़ियों की आवश्यकताएँ भी पूरी होती रहे. सतत पोषणीय

विकास कहलाता है। ऐसे उपाय अथवा तकनीक जिसके द्वारा संसाधानों उचित उपयोग सुनिश्चित किया जा सकता है संसाधन नियोजन कहलाता है। 1992 में ब्राजील के शहर रियो डी जेनेरो में संयुक्त राष्ट्र पर्यावरण और विकास सम्मेलन के तत्वाधान में राष्ट्राध्यक्षों ने एजेंडा 21 पारित किया जिसका उद्देश्य समान हितों, पारस्परिक आवश्यकताओं एवं सम्मिलित जिम्मेदारियों के अनुसार विश्व सहयोग के द्वारा पर्यावरणीय क्षति, गरीबी और रोगों से निपटना है। महात्मा गाँधी ने कहा था कि हमारे पास व्यक्ति की आवश्यकता पूर्ति के लिए बहुत कुछ है, लेकिन किसी के लालच की संतुष्टि के लिए नहीं। अर्थात् हमारे पास पेट भरने के लिए बहुत कुछ है लेकिन पेट भरने के लिए नहीं।

- 36.1 सतत पोषणीय विकास का महत्व बताइए।
- 36.2 एजेंडा 21 के प्रमुख प्रावधानों की व्याख्या कीजिए
- 36.3 महात्मा गांधी संसाधानों के विवेकपूर्ण उपयोग को क्यों महत्वपूर्ण समझते थे? कोई दो कारण बताइए।

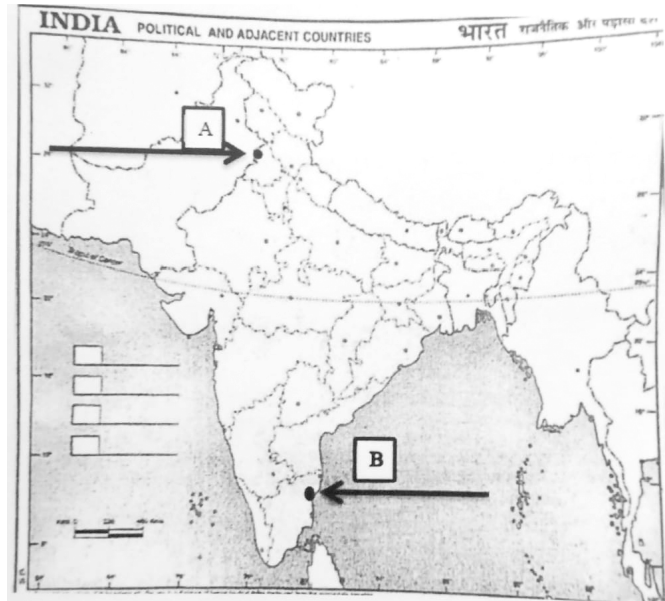
#### खण्ड-ड

#### मानचित्र आधारित प्रश्न

37. भारत के राजनीतिक मानचित्रा में A और B दो बिन्दु अंकित किए गए हैं। इन बिन्दुओं को निम्नलिखित जानकारी की सहायता से पहचानिए और उनके सही नाम मानचित्रा पर खींचीं गयी रेखाओं पर लिखिए।
  - 37.1 वह स्थान जहाँ जलियाँवाला बाग घटना हुई।
  - 37.2 वह स्थान जहाँ 1927 में भारतीय राष्ट्रीय कांग्रेस का अधिवेशन हुआ। भारत के उसी राजनीतिक रेखा मानचित्रा में निम्नलिखित में से किन्ही तीन को उपयुक्त चिन्हों से दर्शाइए और नाम लिखिए—
- |                |                    |
|----------------|--------------------|
| (a) टिहरी बाँध | (b) नागार्जुन सागर |
| (c) सलाल       | (d) तुंगभदा        |

निम्नलिखित प्रश्न केवल दृष्टिबाधित परीक्षार्थियों के लिए प्रश्न संख्या 37 के स्थान पर हैं। किन्हीं पाँच को कीजिए)

37. 1. उस राज्य / केन्द्रशासित प्रदेश का नाम लिखिए जहाँ टिहरी बाँध स्थित है।
37. 2. उस राज्य / केन्द्रशासित प्रदेश का नाम लिखिए जहाँ नागार्जुन सागर बाँध स्थित है।
37. 3. उस राज्य / केन्द्रशासित प्रदेश का नाम लिखिए जहाँ सलाल बाँध स्थित है।
- 37.4. उस राज्य का नाम लिखिए जहाँ जलियाँवाला बाग हत्याकांड हुआ था।
- 37.5. उस राज्य का नाम लिखिए जहाँ 1927 में कांग्रेस का अधिवेशन हुआ।
- 37.6. उस राज्य / केन्द्रशासित प्रदेश का नाम लिखिए जहाँ तुंगभद्रा स्थित है।



अभ्यास प्रश्न पत्र-2  
सामाजिक विज्ञान (087)

अवधि: 3 घंटे

अधिकतम अंक: 80

खण्ड क

बहुविकल्पीय प्रश्न

- कैलाशबाशिनी देवी, ताराबाई शिंदे और पंडिता रमाबाई के लेखन के बीच निम्नलिखित में से कौन-सा पहलू समान था ?
  - जनता के लिए आर्थिक समानता की मांग की।
  - महिलाओं के अनुभवों पर प्रकाश डालना।
  - सांस्कृतिक विरासत के बारे में जागरूक करना।
  - भारतीयों को उनकी राष्ट्रीय स्वतंत्रता के लिए प्रेरणा
- व्यापार के प्रवाह में ऐसे तीन महत्वपूर्ण विकास हुए जिन्होंने पूर्व आधुनिक दुनिया को - बहुत छोटा कर दिया ? निम्नलिखित में से एक गलत विकल्प का चयन कीजिए।
  - व्यापार का प्रवाह
  - पूंजी का प्रवाह
  - श्रम का प्रवाह
  - प्रौद्योगिकी का प्रवाह
- निम्नलिखित में से किसने भाप के इंजन में सुधार किए ?
  - जेम्स वॉट
  - बेंजामिन ड्रैकलिन
  - अलेक्जेंडर फ्लेमिंग
  - थॉमस एडिसन
- स्तम्भ क का मिलान स्तम्भ ख से कीजिए और सही विकल्प का चयन कीजिए।

स्तम्भ क

स्तम्भ ख कोयला

A. जैव

1. पवन — ऊर्जा

B. नवीकरणीय

2. पेट्रोल

C. अनवीकरणीय

3. मुनष्य



- (a) A-1, B-3, C-2                      (b) A-3, B-1, C-2  
(c) A-2, B-3, C-1                      (d) A-1, B-2, C-3

5. नीचे दिए गए प्रश्न में दो प्राक्कथन दिए गए हैं एक संकल्पना (स) और दूसरा कारण (क)। कथनों को पढ़िए और सही विकल्प का चयन कीजिए।

**संकल्पना (स)** श्रीलंका ने तमिल को राज्य की एकमात्र आधिकारिक भाषा के रूप में अपनाया।

कारण (क) श्रीलंका की सरकार ने बहुसंख्यकवाद के तहत कई कदम उठाए।

**विकल्प:**

- (a) संकल्पना (स) एवं कारण (क) दोनों सही हैं एवं कारण, संकल्पना की सही व्याख्या है।  
(b) संकल्पना (स) एवं कारण (क) दोनों सही हैं परन्तु कारण, संकल्पना की सही व्याख्या नहीं है।  
(c) संकल्पना (स) सही है एवं कारण (स) गलत है।  
(d) संकल्पना (स) गलत है परंतु कारण (स) सही है।
6. निम्नलिखित देशों में किसका मानव विकास सूचकांक में बेहतर स्थान है ?
- (a) भारत                                      (b) नेपाल  
(c) अफगानिस्तान                      (d) म्यांमार
7. निम्नलिखित में से कौन-सा लौह धातु का एक उदाहरण है ?
- (a) तांबा                                      (b) बॉक्साइट  
(c) जस्ता                                      (d) निकल
8. निम्नलिखित में से किस देश में द्विदलीय व्यवस्था है ?
- (a) रूस                                      (c) भारत  
(b) चीन                                      (d) अमेरिका

9. स्तम्भ क का मिलान स्तम्भ ख से कीजिए और सही विकल्प का चयन कीजिए।

**स्तम्भ क**

**स्तम्भ ख**

A. संघ सूची

1. प्रतिरक्षा

B. राज्य सूची

2. पुलिस

C. समवर्ती सूची

3. शिक्षा

D. अवशिष्ट विषय

4. कंप्यूटर

(a) A-3, B-1, C-4, D-2

(b) A-4, B-3, C-3, D-1

(c) A-2, B-4, C-3, D-1

(d) A-1, B-2, C-3, D-4

10. विश्व में अधिकतर लोग किस प्रकार की सरकार को पसंद करते हैं ?

(a) लोकतांत्रिक

(c) तानाशाही

(c) सैन्य

(d) धर्म आधारित

11. दी गई तालिका का अध्ययन कीजिए और उसके नीचे दिए गए प्रश्न का उत्तर दीजिए। वर्ष 2019 के लिए भारत और उसके पड़ोसी देशों के कुछ आँकड़े

देश	जन्म के समय संभावित आयु	विश्व में मानव विकास सूचकांक का क्रमांक (2018)
श्रीलंका	77	73
भारत	69.7	130
म्यांमार	67.1	148
पाकिस्तान	67.3	154
नेपाल	70.8	143
बांग्लादेश	72.6	134

निम्नलिखित देशों में से किस देश में जन्म के समय सर्वाधिक संभावित आयु है ?

- (a) भारत (b) श्रीलंका  
(c) बांग्लादेश (d) नेपाल

12. नीचे दी गई जानकारी की सहायता से भारत सरकार की प्रशासनिक व्यवस्था की पहचान कीजिए और सही विकल्प का चयन कीजिए:

1. केन्द्र और स्थानीय सरकारों के बीच शक्तियों का हिस्सेदारी।
2. राज्य सरकारों को उनके साथ कुछ शक्तियों और राजस्व साझा करने की आवश्यकता होती है।
3. इसे त्रि-स्तरीय सरकार कहा जाता है।

- (a) तानाशाही व्यवस्था (b) विकेन्द्री त व्यवस्था  
(c) एकात्मक संघीय व्यवस्था (c) साम्राज्यवादी व्यवस्था

13. प्राकृतिक उत्पादों को अन्य रूपों में परिवर्तित किया जाना कहलाता है:

- (a) प्राथमिक उत्पाद (b) द्वितीयक उत्पाद  
(c) तृतीयक उत्पाद (d) चतुर्थक उत्पाद

14. निम्नलिखित में से कारखानों के श्रमिकों के विकास के लिए कौन सा लक्ष्य है।

- (a) बेहतर वेतन (b) बेहतर तकनीक  
(c) काम के अधिक घण्टें (d) अधिक श्रम कार्य

15. विश्व बैंक द्वारा देशों की तुलना करने के लिए उनकी ..... सबसे महत्वपूर्ण विशिष्टता समझी जाती है।

- (a) शिक्षा (b) स्वास्थ्य स्तर  
(c) आय (d) जीवन स्तर

16. निम्नलिखित में से कौन-सा युग्म सुमेलित है ?

- (a) प्राथमिक क्षेत्रक — फूल की खेती  
(b) द्वितीयक क्षेत्रक — दुग्ध विक्रेता

- (c) तृतीयक क्षेत्रक मछुआरा  
(d) विनिर्माण क्षेत्रक माली
17. भारत में निम्नलिखित क्षेत्रकों में से सकल घरेलू उत्पाद में किसकी हिस्सेदारी सर्वाधिक है ?  
(a) प्राथमिक (b) द्वितीयक  
(c) तृतीयक (d) चतुर्थक
18. मानव विकास के विषय में निम्नलिखित कथनों को पढ़िए और सही विकल्प का चयन कीजिए।  
1. यह संयुक्त राष्ट्र विकास कार्यक्रम द्वारा तैयार किया गया एक समग्र सूचकांक है।  
2. इसके मापन के लिए लम्बी उम्र, साक्षरता और प्रति व्यक्ति आय मापदंड है।  
3. विकसित और निम्न विकासशील देशों के अनुसार देशों की रैंकिंग की जाती है।  
4. विश्व बैंक जीवन की गुणवत्ता के आधार पर मानव विकास की रिपोर्ट तैयार करता है।  
(a) केवल 1 और 2 (b) केवल 2 और 3  
(c) केवल 1 और 3 (d) केवल 2 और 4
19. निम्नलिखित घटनाओं का उनके कालक्रमानुसार व्यवस्थित कीजिए।  
1. नेपोलियन युद्ध  
2. वियना संधि  
3. स्वतंत्रता के लिए प्रक संघर्ष  
4. ऑटोमन साम्राज्य में स्लाव राष्ट्रवाद  
(a) 3,2,1,4 (b) 1,2,3,4  
(c) 4,3,2,1 (d) 4,2,3,1

20. सही मिलान की पहचान कीजिए।
- (a) जलोढ़ मृदा – रेत एवं सिल्ट
  - (b) काली मृदा – नमक की अधिक मात्रा
  - (c) शुष्क मृदा – क्रिस्टलीय लौहे का प्रसार
  - (d) लैटराइट मृदा लावा के प्रवाह से बनी

#### खण्ड-ख

#### अतिलघु उत्तरीय प्रश्न

21. सोलहवीं सदी के मध्य में चेचक किस प्रकार स्पेनिश विजेताओं का सबसे शक्तिशाली हथियार साबित हुआ? व्याख्या कीजिए।
22. कृषि और उद्योग एक-दूसरे के पूरक हैं। इस कथन की उदाहरणों सहित पुष्टि कीजिए।
23. अलग - अलग लोगों के विकास के लक्ष्य भिन्न हो सकते हैं। उदाहरण सहित कथन की पुष्टि कीजिए।
24. हमारे समाज में महिलाएं विभिन्न तरीकों से भेदभाव का सामना करती हैं। किन्हीं दो तरीकों की व्याख्या कीजिए।

#### खण्ड-ग

#### लघु उत्तरीय प्रश्न

25. उन्नीसवीं सदी की शुरुआत में यूरोप में राष्ट्रीय एकता के विचार, उदारवाद की विचारधारा से संबंधित थे। इस कथन की पर कीजिए।
26. भारतीय कृषि के विकास के लिए किए गए किन्हीं तीन संस्थागत सुधारों की व्याख्या कीजिए।
27. सूचना प्रौद्योगिकी वैश्वीकरण से किस प्रकार जुड़ी है? व्याख्या कीजिए।
28. लोकतंत्र में राजनीतिक दलों की आवश्यकता का विश्लेषण कीजिए।
29. भारत में तृतीयक क्षेत्राक इतना महत्वपूर्ण क्यों होता जा रहा है? व्याख्या कीजिए।

**खण्ड-घ**  
**दीर्घ उत्तरीय प्रश्न**

30. ग्रामीण इलाकों में सविनय अवज्ञा आंदोलन की प्रगति की परख कीजिए।
31. पाइपलाइन परिवहन नेटवर्क भारत की परिवहन व्यवस्था में किस प्रकार महत्वपूर्ण है? उदाहरणों सहित व्याख्या कीजिए।

अथवा

भौतिक और आर्थिक कारकों ने भारतीय रेलवे नेटवर्क के वितरण प्रतिरूप को किस प्रकार प्रभावित किया है? उदाहरणों सहित स्पष्ट कीजिए।

32. व्यक्ति की स्वतंत्रता और गरिमा को बढ़ावा देने में लोकतंत्र किसी भी अन्य प्रकार की सरकार से बेहतर है। तर्कों के साथ कथन की पुष्टि कीजिए।

अथवा

लोकतंत्र में उत्तरदायी, जिम्मेदार और वैध सरकार का गठन होता है। तर्कों के साथ कथन की पुष्टि कीजिए।

33. ग्रामीण अर्थव्यवस्था में श्रम सहायता समूहों की भूमिका को न्यायसंगत ठहराइए।

अथवा

सस्ता एवं सामर्थ्य के अनुकूल कर्ज देश के विकास के लिए अति आवश्यक है। इस कथन को न्यायसंगत ठहराइए।

**खण्ड-ड**  
**केस आधारित प्रश्न**

34. नीचे दिए गए अनुच्छेद को पढ़िए एवं पूछे गए प्रश्नों के उत्तर दीजिए।  
फ्रांसीसी दार्शनिक अर्न्ट रेनन (1823-92) ने 1882 में सॉबीन (Sorbonne) विश्वविद्यालय में दिए एक व्याख्यान में राष्ट्र की अपनी समझ को प्रस्तुत

किया। बाद में यह व्याख्यान एक प्रसिद्ध निबंध के रूप में छपा जिसका शीर्षक था (Qu'est-ce qu'une nation ? राष्ट्र क्या है ? इस निबंध में रेनन अन्य लोगों द्वारा प्रस्तावित इस विचार की आलोचना करता है कि राष्ट्र समान भाषा, नस्ल, मार्म या क्षेत्रा से बनता है। एक राष्ट्र लंबे प्रयासों, त्याग और निष्ठा का चरम बिंदु होता है। शौर्य-वीरता से युक्त अतीत, महान पुरुषों के नाम और गौरव यह वह सामाजिक पूंजी है जिस पर एक राष्ट्रीय विचार आधारित किया जाता है। अतीत में समान गौरव का होना, वर्तमान में एक समान इच्छा, संकल्प का होना साथ मिल कर महान काम करना और आगे, ऐसे काम और करने की इच्छा एक जनसमूह होने की यह सबसे जरूरी शर्तें हैं। अतः राष्ट्र एक बड़ी और व्यापक एकता (Large Scale Solidarity) है उसका अस्तित्व रोज होने वाला जनमत-संग्रह है। प्रांत उसके निवासी है अगर सलाह लिए जाने का किसी का अधिकार है तो वह निवासी ही है, किसी देश का विलय करने या किसी देश पर उसकी इच्छा के विरुद्ध कब्जा जमाए रखने में एक राष्ट्र की वास्तव में कोई दिलचस्पी होती नहीं है। राष्ट्र का अस्तित्व में होना एक अच्छी बात है, बल्कि यह एक जरूरत भी है। उनका होना स्वतंत्रता की गारंटी है और अगर दुनिया में केवल एक कानून और उसका केवल एक मालिक होता तो स्वतंत्रता का लोप हो जाएगा।

34. 1. राष्ट्र राज्य की अवधारणा को स्पष्ट कीजिए।
34. 2. स्वतंत्रता के अस्तित्व के लिए राष्ट्र की क्या भूमिका है।
34. 3. राष्ट्र राज्य पर अर्नेस्ट रेनन के विचारों की आलोचनात्मक समीक्षा कीजिए।
35. नीचे दिए गए अनुच्छेद को पढ़िए एवं पूछे गए प्रश्नों के उत्तर दीजिए।  
संघीय शासन व्यवस्थाएँ आमतौर पर दो तरीकों से गठित होती हैं। पहला तरीका है दो या अधिक स्वतंत्र राष्ट्रों को साथ लाकर एक बड़ी इकाई गठित करने का। इसमें दोनों स्वतंत्र राष्ट्र अपनी संप्रभुता को

साथ करते हैं अलग पहचान को भी बनाए र ते हैं और अपनी सुरक्षा तथा खुशहाली बढ़ाने का अपनी अलग, रास्ता अख्तियार करते हैं। साथ आकर संघ बनाने के उदाहरण हैं संयुक्त राज्य अमरीका- स्विट्जरलैंड और ऑस्ट्रेलिया वगैरह इस तरह की संघीय व्यवस्था वाले मुल्कों में आमतौर पर प्रांतों को समान अधिकार होता है और वे केंद्र के बरक्स ज्यादा ताकतवर होते हैं। संघीय शासन व्यवस्था के गठन का दूसरा तरीका है बड़े देश द्वारा अपनी आंतरिक विविधता को ध्यान में र ते हुए राज्यों का गठन करना और पिफर राज्य और राष्ट्रीय सरकार के बीच सत्ता का बँटवारा कर देना। भारत बेल्जियम और स्पेन इसके उदाहरण हैं। इस दूसरी श्रेणी वाली व्यवस्था में राज्यों के बरक्स केंद्र सरकार ज्यादा ताकतवर हुआ करती है। अक्सर इस व्यवस्था में विभिन्न राज्यों को समान अधिकार दिए जाते हैं पर विशेष स्थिति में किसी किसी प्रांत को विशेष अधिकार भी दिए जाते हैं।

35. 1. संघीय शासन व्यवस्थाएं किस प्रकार गठित होती है ?
35. 2. संघीय शासन व्यवस्था के पक्ष में कोई एक तर्क लिखिए।
35. 3. संघीय शासन व्यवस्था में सत्ता का विकेन्द्रीकरण क्यों महत्वपूर्ण है ? कोई दो कारण बताइए।
36. नीचे दिए गए अनुच्छेद को पढ़िए एवं पूछे गए प्रश्नों के उत्तर दीजिए।  
ऊर्जा सभी क्रियाकलापों के लिए आवश्यक है। खाना पकाने में, रोशनी व ताप के लिए, गाड़ियों के संचालन तथा उद्योगों में मशीनों के संचालन में ऊर्जा की आवश्यकता होती है। ऊर्जा का उत्पादन ईंधन निजों जैसे कोयला, पेट्रोलियम, प्राकृतिक गैस, यूरेनियम तथा - विद्युत से किया जाता है। ऊर्जा संसाधनों को परंपरागत तथा गैर-परंपरागत साधनों में वर्गीकृत किया जा सकता है। परंपरागत साधनों में लकड़ी, उपले, कोयला, पेट्रोलियम, प्राकृतिक गैस तथा विद्युत (दोनों जल विद्युत व ताप विद्युत) सम्मिलित है। गैर- परंपरागत साधनों में सौर, पवन, ज्वारीय, भू-तापीय, बायोगेन तथा परमाणु ऊर्जा शामिल किये जाते हैं। ग्रामीण



भारत में लकड़ी व उपले बहुतायत में प्रयोग किये जाते हैं। एक अनुमान के अनुसार ग्रामीण घरों में आवश्यक ऊर्जा का 70 प्रतिशत से अधिक इन दो साधनों से प्राप्त होता है। लेकिन अब घटते वन क्षेत्रों के कारण इनका उपयोग करते रहना कठिन होता जा रहा है। इसके अतिरिक्त उपनों का उपभोग भी हतोत्साहित किया जा रहा है क्योंकि इससे सर्वाधिक मूल्यवान खाद्य का उपभोग होता है जिसे कृषि में प्रयोग किया जा सकता है।

36. 1. ऊर्जा के परंपरागत संसाधनों का महत्व बताइए।
36. 2. ऊर्जा के गैर-परंपरागत संसाधनों के स्रोत बताइए।
36. 3. ऊर्जा के संसाधनों के संरक्षण के उपाय बताइए।

#### खण्ड-ड

#### मानचित्रा आधारित प्रश्न

37. भारत के राजनीतिक मानचित्रा में A और B दो बिन्दु अंकित किए गए हैं। इन बिन्दुओं को निम्नलिखित जानकारी की सहायता से पहचानिए और उनके सही नाम मानचित्रा पर खींचीं गयी रेखाओं पर लिखिए।
  37. 1. वह स्थान जहाँ महात्मा गांधी ने नील की खेती करने वालों के किसानों के लिए सत्याग्रह आरंभ किया।
  37. 2. वह स्थान जहाँ दिसम्बर 1920 में भारतीय राष्ट्रीय कांग्रेस का अधिवेशन हुआ।
- भारत के उसी राजनीतिक रेखा मानचित्रा में निम्नलिखित में से किन्हीं तीन को उपयुक्त चिन्हों से दर्शाइए और नाम लिखिए-
- (a) हल्दिया समुद्री पत्तन
  - (b) पुणे सॉफ्टवेयर टेक्नालॉजी पार्क
  - (c) टिहरी बाँध
  - (d) नरोरा परमाणु ऊर्जा केन्द्र

निम्नलिखित प्रश्न केवल दृष्टिबाधित परीक्षार्थियों के लिए प्रश्न संख्या 37 के स्थान पर हैं।

(किन्हीं पाँच को कीजिए)

37. 1. उस राज्य / केन्द्रशासित प्रदेश का नाम लिखिए जहाँ टिहरी बाँध स्थित है।
37. 2. उस राज्य / केन्द्रशासित प्रदेश का नाम लिखिए जहाँ हल्दिया समुद्री पत्तन स्थित है।
37. 3. उस राज्य / केन्द्रशासित प्रदेश का नाम लिखिए जहाँ पुणे सॉफ्टवेयर टेक्नालॉजी पार्क स्थित है।
- 37.4. उस राज्य का नाम लिखिए जहाँ जलियाँवाला बाग हत्याकांड हुआ था।
- 37.5. उस राज्य का नाम लिखिए जहाँ दिसम्बर 1920 में कांग्रेस का अधिवेशन हुआ।
- 37.6. उस राज्य / केन्द्रशासित प्रदेश का नाम लिखिए जहाँ नरोरा परमाणु ऊर्जा केन्द्र स्थित है।

