

DIRECTORATE OF EDUCATION
Govt. of NCT, Delhi

SUPPORT MATERIAL
(2023-2024)

Class : XII

HISTORY
(Urdu Medium)

Under the Guidance of

Sh. Ashok Kumar
Secretary (Education)

Ms. Himanshu Gupta
Director (Education)

Dr. Rita Sharma
Addl. DE (School & Exam.)

Coordinators

Sh. Sanjay Subhas Kr.
DDE (Exam)

Smt. Sunita Dua
OSD (Exam)

Mr. Krishan Kumar
OSD (Exam)

Production Team

Anil Kumar Sharma

Published at Delhi Bureau of Text Books , 25/2 Institutional Area, Pankha Road,
New Delhi-110058 by Prabhjot Singh Secretary, Delhi Bureau of Text Books
and Printed by Supreme Offset Press, New Delhi-110017

अशोक कुमार, भा.प्र.से
सचिव (शिक्षा)
ASHOK KUMAR, IAS
Secretary (Education)



राष्ट्रीय राजधानी क्षेत्र, दिल्ली सरकार
पुराना सचिवालय, दिल्ली-110054
दूरभाष : 23890187 टेलीफैक्स: 23890119
Government of National Capital Territory of Delhi
Old Secretariat, Delhi-110054
Phone : 23890187, Telefax : 23890119
e-mail : secyedu@nic.in

D.O. NO. : DE.5/228/Exam/Message/SM
Dated : 24.11.2023 / 2018/1095

Message

"Children are like wet cement, whatever falls on them makes an impression."

Haim Ginott

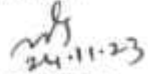
Embracing the essence of this quote, the Directorate of Education, GNCT of Delhi is unwavering in its commitment to its core mission of delivering high-quality education to all its students. With this objective in mind, DoE annually develops support materials meticulously tailored to suit the learning needs of students from classes IX to XII.

Every year, our expert faculty members shoulder the responsibility of consistently reviewing and updating the Support Material to synchronize it with the latest changes introduced by CBSE. This continuous effort is aimed at empowering students with innovative approaches and techniques, fostering their problem-solving skills and critical thinking abilities. I am confident that this year will be no exception, and the Support Material will greatly contribute to our students' academic success.

The support material is the result of unwavering dedication of our team of subject experts. The Support Material has been specially curated for our students, with the belief that its thoughtful and intelligent utilization will undoubtedly elevate the standards of learning and will continue to empower our students to excel in their examinations.

I wish to congratulate the entire team for their invaluable contribution in creating a highly beneficial and practical Support Material for our students.

I extend my best wishes to all our students for a promising and bright future.


24.11.23
(Ashok Kumar)

HIMANSHU GUPTA, IAS

Director, Education & Sports

No. PS/OE/2023/349

Date: 29/11/2023



Directorate of Education
Govt. of NCT of Delhi
Room No. 12, Civil Lines
Near Vidhan Sabha,
Delhi-110054
Ph.: 011-23890172
E-mail : diredu@nic.in

MESSAGE

It brings me immense pleasure to present the support material for students of classes IX to XII, meticulously crafted by our dedicated subject experts. Directorate of Education is committed to empower educators and students alike by providing these resources free of cost for students of all government and government aided schools of Delhi.

The support material is an appreciable effort to align the content with the latest CBSE patterns. It has been carefully designed as a resource to facilitate the understanding, acquisition and practice of essential skills and competencies outlined in the curriculum.

The core of this support material lies in providing a framework for adopting an analysis-based approach to learning and problem-solving. It aims to prompt educators to reflect on their teaching methodologies and create an interactive pathway between the child and the text.

In the profound words of Dr A.P.J. Abdul Kalam, **“Educationists should build the capacities of the spirit of inquiry, creativity, entrepreneurial and moral leadership among students and become their role model.”**

The journey of education is ongoing; it's the process, not just the outcome, which shapes us. This support material endeavours to be that catalyst of change for each student of Directorate of Education.

Let us embark on this transformative journey together, ensuring that every student feels equipped not only with the knowledge but also, with the skills and mindset to thrive in the 21st century.

I wish you all the best for all your future endeavours.


(HIMANSHU GUPTA)

Dr. RITA SHARMA

Additional Director of Education
(School/Exam)



सत्यमेव जयते

Govt. of NCT of Delhi
Directorate of Education
Old Secretariat, Delhi-110054
Ph.: 23890185

D.O. No. DE.5/228/Exam/Message/SH/
2018/1096
Dated: 24.11.2023

MESSAGE

The persistent efforts of the Directorate in making the course material more accessible and student-friendly are evident in the conscientious preparation of the Support Material. Our team consistently adapts to the evolving educational landscape, ensuring that the Support Material for the various subjects of classes 9 to 12 align with the latest CBSE guidelines and syllabi prescribed for the annual examinations.

The Support Material encapsulates crucial subject-specific points and facts, tailored to suit the students, all presented in a lucid language. It is our firm belief that these resources will significantly augment the academic prowess of our students, empowering them to excel in their upcoming examinations.

I extend my heartfelt congratulations to the diligent officials and teachers whose dedication and expertise have played a pivotal role in crafting this invaluable content/resource.

I convey my best wishes to all our students for a future brimming with success. Remember, every page you read is a step towards an enlightened tomorrow.

Rita Sharma

(Dr Rita Sharma)

DIRECTORATE OF EDUCATION
Govt. of NCT, Delhi

SUPPORT MATERIAL
(2023-2024)

HISTORY
(Urdu Medium)

Class : XII

NOT FOR SALE

PUBLISHED BY : DELHI BUREAU OF TEXTBOOKS

भारत का संविधान

भाग 4क

नागरिकों के मूल कर्तव्य

अनुच्छेद 51क

मूल कर्तव्य – भारत के प्रत्येक नागरिक का यह कर्तव्य होगा कि वह –

1. संविधान का पालन करे और उसके आदर्शों, संस्थाओं, राष्ट्र ध्वज और राष्ट्रगान का आदर करे।
2. स्वतंत्रता के लिए हमारे राष्ट्रीय आंदोलन को प्रेरित करने वाले उच्च आदर्शों को हृदय में संजोए रखे और उनका पालन करे।
3. भारत की प्रभुता, एकता और अखंडता की रक्षा करे और उसे अक्षुण्ण रखे।
4. देश की रक्षा करे।
5. भारत के सभी लोगों में समरसता और समान भ्रातृत्व की भावना का निर्माण करे।
6. हमारी सामाजिक संस्कृति की गौरवशाली परंपरा का महत्व समझे और उसका निर्माण करे।
7. प्राकृतिक पर्यावरण की रक्षा और उसका संवर्धन करे।
8. वैज्ञानिक दृष्टिकोण और ज्ञानार्जन की भावना का विकास करे।
9. सार्वजनिक संपत्ति को सुरक्षित रखे।
10. व्यक्तिगत एवं सामूहिक गतिविधियों के सभी क्षेत्रों में उत्कर्ष की ओर बढ़ने का सतत प्रयास करे।
11. माता-पिता या संरक्षक द्वारा 6 से 14 वर्ष के बच्चों हेतु प्राथमिक शिक्षा प्रदान करना (86वां संशोधन)।

CONSTITUTION OF INDIA

Part IV A (Article 51 A)

Fundamental Duties

Fundamental Duties : It shall be the duty of every citizen of India —

1. to abide by the Constitution and respect its ideals and institutions, the National Flag and the National Anthem;
2. to cherish and follow the noble ideals which inspired our national struggle for freedom;
3. to uphold and protect the sovereignty, unity and integrity of India;
4. to defend the country and render national service when called upon to do so;
5. to promote harmony and the spirit of common brotherhood amongst all the people of India transcending religious, linguistic and regional or sectional diversities; to renounce practices derogatory to the dignity of women;
6. to value and preserve the rich heritage of our composite culture;
7. to protect and improve the natural environment including forests, lakes, rivers and wild life, and to have compassion for living creatures.
8. to develop the scientific temper, humanism and the spirit of inquiry and reform;
9. to safeguard public property and to adjure violence;
10. to strive towards excellence in all spheres of individual and collective activity so that the nation constantly rises to higher levels of endeavour and achievement.
11. who is a parent or guardian to provide opportunities for education to his child or, as the case may be, ward between the age of six and fourteen years.

भारत का संविधान उद्देशिका

हम, भारत के लोग, भारत को एक (सम्पूर्ण प्रभुत्व—सम्पन्न समाजवादी पंथनिरपेक्ष लोकतंत्रात्मक गणराज्य) बनाने के लिए, तथा उसके समस्त नागरिकों को :

सामाजिक, आर्थिक और राजनैतिक न्याय,

विचार, अभिव्यक्ति, विश्वास, धर्म

और उपासना की स्वतंत्रता,

प्रतिष्ठा और अवसर की समता

प्राप्त करने के लिए,

तथा उन सब में,

व्यक्ति की गरिमा और (राष्ट्र की एकता

और अखंडता) सुनिश्चित करने वाली बंधुता

बढ़ाने के लिए

हम दृढ़संकल्प होकर इस संविधान को आत्मार्पित करते हैं ।

THE CONSTITUTION OF INDIA

PREAMBLE

WE, THE PEOPLE OF INDIA, having solemnly resolved to constitute India into a **(SOVEREIGN SOCIALIST SECULAR DEMOCRATIC REPUBLIC)** and to secure to all its citizens :

JUSTICE, social, economic and political,

LIBERTY of thought, expression, belief, faith and worship,

EQUALITY of status and of opportunity; and to promote among them all

FRATERNITY assuring the dignity of the individual and the **(unity an integrity of the Nation)**;

WE DO HEREBY GIVE TO OURSELVES THIS CONSTITUTION.

Support Material

History (تاریخ)

Class—XII

ریویو کمیٹی

ٹیم ممبران

- | | | |
|------------------------|-------------|--|
| 1- ڈاکٹر انج کمار رائے | (گروپ لیڈر) | ایس۔ کے۔ وی۔ نمبر 2: C بلاک جنک پوری، دہلی
آئی۔ ڈی۔ 1002368 |
| 2- محترمہ سویتا | لکچرر تاریخ | آر۔ ایس۔ کے۔ وی۔ نمبر 2 شکر پور، دہلی |
| 3- محترمہ پرگیا سنہا | لکچرر تاریخ | ایس۔ او۔ ای، دوآرکا، سیکٹر 22، دہلی |
| 4- جناب سنتوش کمار شرا | لکچرر تاریخ | جی۔ بی۔ ایس۔ ایس۔ ایس۔ بارپولا، دہلی |
| 5- جناب جیتندر پانھک | لکچرر تاریخ | جی۔ بی۔ ایس۔ ایس۔ ایس۔ نہرو وہار، دہلی |
| 6- جناب نکلیل احمد | لکچرر تاریخ | ایس۔ پی۔ وی، زینت محل، کھلانا رکیٹ، دہلی |

فہرست مضامین

حصہ-1

- 1-13 1- موضوع - ایک
اینٹیں، منجے اور ہڈیاں (ہڑپا کی تہذیب)
- 14-32 2- موضوع - دو
بادشاہ کسان اور شہر
ابتدائی ریاستیں اور معیشتیں (تقریباً 600 قبل مسیح سے 600 عیسوی)
- 33-45 3- موضوع - تین
قراہت، ذائیس اور طبقے
ابتدائی سماج (تقریباً 600 قبل مسیح سے 600 عیسوی)
- 46-59 4- موضوع - چار
منفکر، عقائد اور عمارتیں
ثقافتی ترقی (تقریباً 600 قبل مسیح سے 600 عیسوی)

حصہ-2

- 60-72 5- موضوع - پانچ
سیاحوں کی نظر سے
سماج کا تصور (تقریباً دسویں صدی سے سترہویں صدی تک)
- 73-85 6- موضوع - چھ
بھکتی - صوتی روایات
نذہبی عقائد میں تبدیلی اور عقیدت مند انداز متون (تقریباً آٹھویں صدی سے اٹھارویں صدی تک)
- 86-99 7- موضوع - سات
ایک شاہی راجدھانی: بوجے نگر

(تقریباً چودھویں صدی سے سولہویں صدی تک)

100-112

8- موضوع - آٹھ

کاشت کار، زمیندار اور ریاست

زرعی سماج اور مغل سلطنت (تقریباً سولہویں صدی سے سترہویں صدی تک)

حصہ-3

113-123

9- موضوع - نو

نوآبادیات اور دیہات (سرکاری دستاویزات کی تحقیق اور تفسیر)

124-135

10- موضوع - دس

بغاوتیں اور راج (1857 کی بغاوت اور اس کی نمائندگی)

136-150

11- موضوع - گیارہ

مہاتما گاندھی اور قومی تحریک

سول ہ فرمانی اور اس کے بعد

182-194

12- موضوع - بارہ

دستور کی تشکیل

ایک نئے عہد کا آغاز

امتیاز سے متعلق کام (موضوع 15 تا 15)

نقشوں سے متعلق کام (موضوع 15 تا 15)

سی. بی ایس ای سوال نمبر (2014 تا 2018)

سی. بی ایس ای سوال نمبر 2018 حل شدہ

ماڈل سوال نمبر (1) غیر حل شدہ

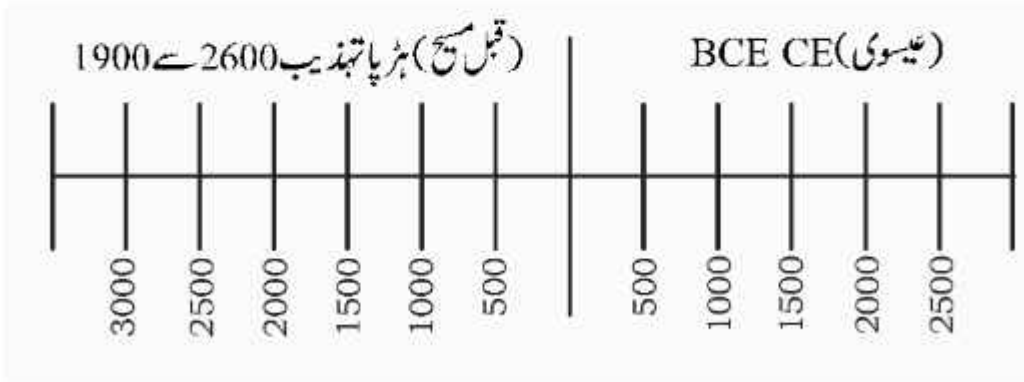
(2) غیر حل شدہ

(3) حل شدہ

نوٹ: اس سال قدرتی سوال نصاب کے مطابق سوال نمبر میں نہیں آئے گا۔

موضوع۔ ایک

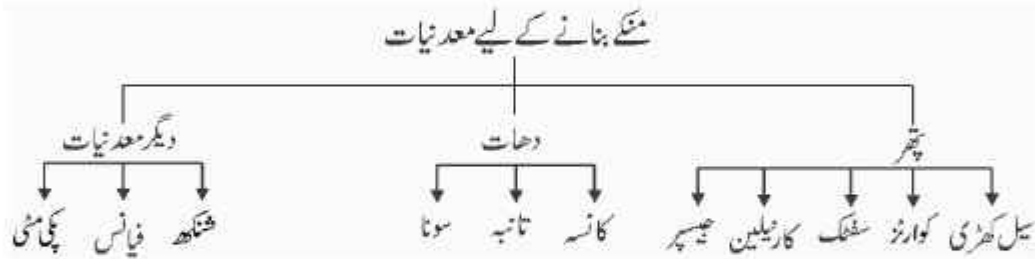
اینٹیں، منکے اور ہڈیاں (ہڑپا کی تہذیب)



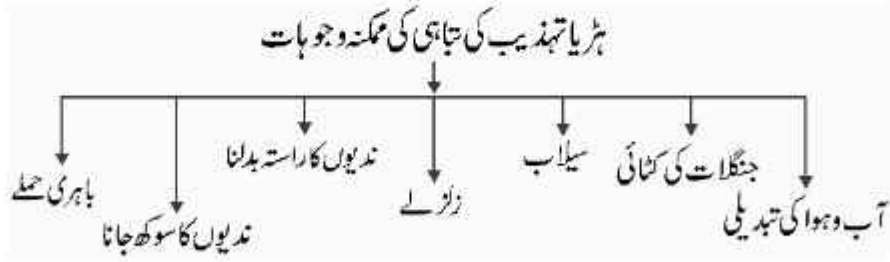
یاد رکھنے لائق نکات:

- 1- ہڑپا تہذیب کو سندھ وادی میں پھیلے ہونے کی وجہ سے اسے وادی سندھ کی تہذیب بھی کہا جاتا ہے۔ آٹا قدیم کے ماہرین نے کچھ ایسی چیزوں کے مجموعے کو تہذیب (کلچر) کی ایک اصطلاح دی ہے جو اپنے ایک علیحدہ انداز، مخصوص جغرافیائی علاقے اور وقت کی ایک متعین مدت میں ایک ساتھ دریافت ہوئی ہیں۔
- 2- اس تہذیب کا نام ہڑپا نام کے مقام جہاں یہ تہذیب پہلی مرتبہ دریافت کی گئی، کے نام پر رکھا گیا۔
- 3- ہڑپا تہذیب کے دو بڑے مراکز ہڑپا اور موہن جو دڑو ہیں۔
- 4- ہڑپا تہذیب کی دریافت 22-1921 میں دیا رام ساشی، ریکھل داس، بنرجی اور جان مارشل کی رہنمائی میں کی گئی۔
- 5- اس تہذیب کا دور تقریباً 2600 قبل مسیح اور 1900 قبل مسیح کے درمیان مانا جاتا ہے۔
- 6- ہڑپائی تہذیب کی معلومات کے اہم ذرائع — منشی کے برتن، اوزار، ہمہریں، عمارتیں، کھدائی میں ملے سکے وغیرہ۔
- 7- ہڑپائی تہذیب کا علاقہ — افغانستان، جموں، بلوچستان (پاکستان)، گجرات، راجستھان، مغربی اتر پردیش۔
- 8- اس کے اہم مقامات بایشور، بالاکوٹ، چن ہوڈرو، کوٹ دہچی، دھولا ویرا، لوتھل، کالی بنگن، بناولی، راکھی گڑھی وغیرہ۔

- 9- اس تہذیب کی اہم خصوصیات میں سے ایک شہری منصوبہ بندی ہے۔ یہ ایک شہری تہذیب ہے۔
- 10- ہڑپائی تہذیب میں بستیاں دو حصوں میں منقسم تھیں۔ حصار (قلعہ) اور نشیبی شہر۔
- 11- نشیبی شہر رہائشی عمارتوں کی مثالیں پیش کرتا ہے اور قلعہ پر بننے ڈھانچوں کا استعمال خاص طور پر عوامی کاموں کے لیے ہوتا تھا۔
- 12- ہڑپائی تہذیب میں سڑکوں اور گلیوں کو لگ بھگ باقاعدہ 'جال' (Grid) کے انداز پر بنایا گیا تھا جو ایک دوسرے کو زاویہ قائمہ پر کاٹی تھیں۔
- 13- پانی کی نکاسی کا نظام نمایاں تھا۔ گھروں کے گندے پانی کی نالیوں کو گلی کی نالیوں سے جوڑا گیا تھا۔ نالیاں پکی اینٹوں سے بنائی گئی تھیں۔
- 14- ہڑپائی مقامات سے طے اناج کے دانوں میں گیہوں، جو، دال، سفید چنا اور تل شامل ہیں۔
- 15- ہڑپائی تہذیب کے اہم جانور۔ بھینز، بکری، بھینس اور سور۔ بیل کا استعمال زراعتی کاموں میں کھیت جوتنے کے لیے کیا جاتا تھا۔
- 16- ہڑپائی رسم الخط کو ابھی تک پڑھنا نہیں جا سکا۔
- 17- ہڑپائی رسم الخط میں اشاروں یا نشانات کی تعداد لگ بھگ 375 اور 400 کے درمیان تھی اور اسے دائیں سے بائیں لکھا جاتا تھا
- 18- زیورات اور منکوں کو تولنے کے لیے باٹ کا استعمال ہوتا تھا۔ یہ چرت نام کے پتھر سے بنائے جاتے تھے۔
- 19- موہن جوڈو دستکاری اور صنعت کاری کا بڑا مرکز تھا جس میں منکے بنانا، سیپ کی کٹائی کا کام دھات کا کام مہرے بنانے کا کام اور اوزار بنانے کا کام ہوتا تھا۔
- 20-



- 21- مہروں اور سکوں کا استعمال دور دراز علاقوں سے تعلق رکھنے کے لیے کیا جاتا تھا۔
- 22- ہڑپائی تہذیب میں مردوں کو عام طور پر گڈھوں میں دفنایا جاتا تھا۔ ان (گڈھوں) کے ساتھ مٹی کے برتن اور زیورات رکھے جاتے تھے۔
- 23-



- 24- ہڑپائی تہذیب کے ہر گھر میں اینٹوں کے فرش سے بنا ہوا ایک حمام ہوتا تھا جس کی نالیاں دیواروں کے درمیان سے سڑک کی نالیوں سے جڑی ہوتی تھیں۔
- 25- مہنگی اشیاء سے بنی نایاب چیزیں عام طور پر موہن جو داز اور ہڑپائی جیسی بڑی بستیوں سے حاصل ہوتی ہیں۔ مثلاً سونے کے زیورات اور فیانس سے بنے ہوئے چھوٹے برتن۔
- 26- ناگیشور اور بالاکوٹ ساہلی سمندر کے نزدیک واقع تھے اور ہنکھ سے بنی ہوئی چیزیں (چوڑیاں اور کرچھیاں) کو بنانے کے خاص مقامات تھے۔
- 27- کچا مال حاصل کرنے کے لئے دور دراز علاقوں میں لوگوں کو بھیجا جاتا تھا۔ مثلاً تانبے کے لئے کھیڑی، اومان اور سونے کے لئے جنوبی ہندوستان کے علاقے۔
- 28- ہندوستان کے ماہر آثار قدیمہ کے پہلے ڈائریکٹر جنرل کننگھم کو اندیشہ تھا کہ ہندوستانی تاریخ کی ابتدا گنگا کی وادی میں پہلے شہروں کے ساتھ ہی ہوئی تھی۔
- 29- ہندوستان کے ماہر آثار قدیمہ کے پہلے ڈائریکٹر جنرل کننگھم کو اندیشہ تھا کہ ہندوستانی تاریخ کی ابتدا گنگا کی وادی میں نیچے پہلے شہروں کے ساتھ ہی ہوئی تھی۔

Objective type of questions

- 1- ہڑپا تہذیب کی دریافت کب ہوئی کن ماہرین کی رہنمائی میں اس کی دریافت ہوئی؟ -
- 2- ابتدائی ہڑپا کی بستیوں کی کوئی ایک خوبی بیان کیجئے۔
- 3- سر جان مارشل کون تھے؟
- 4- ہڑپا رسم الخط کی کوئی ایک خوبی بیان کیجئے۔
- 5- ہڑپا کے باشندوں کے ذریعے آب پاشی کے لئے استعمال میں لائے جانے والے اہم ذرائع کا نام لکھئے۔
- 6- فینس کیا ہوتا ہے؟
- 7- ہڑپا تہذیب کی کن ممالک کے ساتھ تجارتی تعلقات تھے؟
- 8- ہڑپا تہذیب کے باشندے کن دیوی۔ دیوتاؤں کی پوجا کرتے تھے؟
- 9- ہڑپا تہذیب کے کوئی دو اہم مقامات کے نام لکھئے۔
- 10- ہڑپا تہذیب کی بستیاں اور میں تقسیم تھیں۔
- 11- موہن جو دازو میں غالباً کنویں تھے۔

(a)	تقریباً 500	(b)	تقریباً 600
(c)	تقریباً 700	(d)	تقریباً 800
- 12- ہڑپا تہذیب کی رسم الخط کی اہم خوبی تھی۔

(a)	یہ دائیں جانب سے بائیں جانب کی طرف لکھی جاتی تھی۔
(b)	یہ بائیں سے دائیں جانب لکھی جاتی تھی۔
(c)	یہ اوپر سے نیچے کی طرف لکھی جاتی تھی۔
(d)	یہ نیچے سے اوپر کی طرف لکھی جاتی تھی۔
- 13- ہڑپا اور موہن جو دازو واقع ہیں۔

(a)	مہاراشٹر میں	(b)	پاکستان میں
(c)	ہریانہ میں	(d)	ان میں سے کوئی نہیں

- 14- بڑپا تہذیب کے کن ممالک کے ساتھ تجارتی تعلقات تھے۔
- (a) چین، جاپان اور کوریا (b) روس، منگولیا اور اٹلی
(c) ایران، عراق اور مصر (d) ان میں سے کوئی نہیں
- 15- ہندوستانی آثار قدیمہ کے پہلے ڈائریکٹر جنرل تھے:
- (a) جان مارشل (b) کننگھم
(c) آر۔ای۔ ایم ویڈ (d) ان میں سے کوئی نہیں
- 16- ہڑپا رسم الخط میں حروف کی تعداد تھی۔
- (a) 500 سے 700 (b) 375 سے 400
(c) 200 سے 300 (d) 300 سے 350
- 17- دست کاری کا ایک اہم مرکز تھا
- (a) موہن جو دازو (b) ہڑپا
(c) کالی بنگلن (d) مہنودازو
- 18- بل سے جو تے ہوئے کھیتوں کے ثبوت ملے ہیں
- (a) ہڑپا سے (b) کالی بنگلن سے
(c) موہن جو دازو سے (d) مندھہ بالا میں سے کوئی نہیں
- 19- شنگھ سے بنی ہوئی ایشیا کا اہم مرکز تھا۔
- (a) ناگیشور (b) مہنودازو
(c) راکھی گڑھی (d) ہڑپا
- 20- ہڑپا تہذیب کے زوال کی اہم وجہ تھی۔
- (a) آب و ہوا کی تبدیلی (b) لگانا قحط پڑنا
(c) قدرتی آفات کا آنا (d) مندھہ بالا میں سہمی



حصار (Citadels)

کوکہ زیادہ تر ہڑپا بستیوں میں مغربی رخ پر ایک چھوٹا سا اونچا حصہ، اور ایک بڑا مشرقی حصہ ہوتا ہے، مگر ان میں بعض بعض جگہ کچھ تہذیبیاں بھی نظر آتی ہیں۔ دھولاویرا اور لوٹھل (گجرات) کے مقامات پر پوری بستی کی قلعہ بندی کی گئی تھی اور شہر کے اندر بھی مختلف حصوں کو دیوار کے ذریعے الگ کیا گیا تھا۔ لوٹھل کے اندر بالائی حصار کو دیوار بنا کر الگ نہیں کیا گیا تھا۔ مگر اسے اونچائی پر ہی بنایا گیا تھا۔

(a) وادی سندھ تہذیب میں ہڑپا کے بعد دوسری دریافت کیا گیا مشہور مقام ہے۔

I - چہو داڑو II - بالاکوٹ

III - ہاگیشور IV - موہن جو داڑو

(b) درج ذیل میں سے جو عمارتیں قلعے میں پائی گئی ہیں وہ ہیں

I - مال کو دام II - عظیم ہام

III - I اور II دونوں IV - I اور II میں سے کوئی بھی نہیں

(c) نیچے دیئے گئے بیان میں سے ایک کو (الف) اور دوسرے بیان کو (ب) کی شکل میں دکھایا گیا ہے۔

بیان 'الف' قلعے کو اچھے مقام پر تعمیر کیا گیا

'ب' قلعے کی تعمیر سبکی اینٹوں کے چبوترے پر ہوئی تھی۔

I - بیان 'الف' صحیح ہے۔ II - 'ب' صحیح ہے۔

III - بیان 'الف' اور 'ب' دونوں صحیح ہیں۔ لیکن اس کا خلاصہ نہیں ہے۔

IV - بیان 'الف' اور 'ب' دونوں صحیح ہیں اور اس کا خلاصہ بھی کیا گیا ہے۔

(d) ان بیانات کو غور سے پڑھئے

(الف) قلعے کو قلعہ بند کیا جاتا تھا۔

(ب) قلعے پر ایسی بناوٹ حاصل ہوئی ہے جن کا استعمال عام طور پر کسی اہم تقریبات کے لئے کیا گیا تھا۔

I - 'الف' اور 'ب' دونوں صحیح ہیں۔ II - صرف 'ب' صحیح ہے۔

III - صرف 'الف' صحیح ہے IV - ان میں سے کوئی بھی صحیح نہیں ہے



23۔ دی گئی تصویر کو غور سے دیکھئے اور سوالات کا جواب دیجئے۔

(الف) یہ تصویر کس کی ہے؟

(a) آدھیہ شیو

(b) ماتر دیوی

(c) ایک کھلوا

(d) پروہت راجا

(ب) ماہرین آنا رقدیر کو سب سے زیادہ دشواری ہڑپا تہذیب کے جس شعبے کی تشریح کرنے میں آتی ہے وہ ہے۔

(a) حکمران طبقہ کی

(b) عام لوگوں کی

(c) آدھیہ شیو

(d) ماتر دیوی

(ج) مہروں پر ملے ایک سنگھ والے جانوروں کو کہا جاتا ہے۔

(a) نیل

(b) ایک شرگی

(c) آدھیہ شیو

(d) ماتر دیوی

(د) ذیل بیانات کو غور سے پڑھئے اور صحیح بیان کی نشان دہی کیجئے۔

I۔ آدھیہ شیو کو پشوپتی ماتھ بھی کہا گیا ہے۔

II۔ مورنی زیورات سے لدی ہوئی خاتون کی ہے۔

(a) صرف بیان I صحیح ہے

(b) صرف بیان II صحیح ہے۔

(c) دونوں بیانات صحیح ہیں

(d) کوئی بھی بیان صحیح نہیں ہے۔

معروضی سوالات

- 1- ہڑپا تہذیب کی دریافت کب ہوئی؟
 - 1- 1931
 - 2- 1921
 - 3- 1922
 - 4- 1924
- 2- ہڑپا تہذیب کی مہر جس دھات سے بنی تھی وہ ہے۔
 - 1- نیل کھڑی
 - 2- تانبا
 - 3- فیانس
 - 4- سونا
- 3- مندرجہ ذیل بیاناتوں میں سے کون سا بیان درست نہیں ہے۔
 - 1- ہڑپائی تہذیب میں مرکزوں اور گلیوں کو جال (Grid) کے انداز پر بنایا گیا تھا۔
 - 2- چند ہودوؤن دستکاری مرکز تھا۔
 - 3- ہڑپائی تہذیب کا رسم الخط بائیں سے دائیں طرف تھا۔
 - 4- یہ ایک شہری منصوبہ بند تہذیب تھی۔
- 4- درج ذیل بیاناتوں میں سے صحیح بیان کی پہچان کیجئے۔
 - (الف) لاج ورڈنی (लाजवर्णी) شور تو گھٹی (افغانستان) سے منگائی جاتی تھی۔
 - (ب) کاربیلین راجستھان کے کالی ہنگن سے لایا جاتا تھا۔
 - (ج) سونا میسوپوٹامیہ سے لایا جاتا تھا۔
- 5- ہٹکھڑ سے بنی اشیاء ملی ہے۔
 - 1- کوٹ دہگنی سے
 - 2- راکھی گڑھی سے
 - 3- بالاکوٹ سے
 - 4- اوبان سے

6۔ میلان کیجیے۔

A	راجستھان	1	تانبا
B	جنوبی ہند	2	کارلی نین (کارنیلین)
C	بھڑوچ	3	سیلکھڑی (سیل کھڑی)
D	مقامی سطح پر	4	سونا

(1) A-i, B-iv, C-ii, D-iii

(2) A-iii, B-iv, C-ii, D-i

(3) A-iv, B-iii, C-i, D-i

(4) A-ii, B-i, C-iv, D-iii

7۔ دی اسٹوری آف انڈین آرکیولوجی کے مصنف ہیں۔

1۔	آئی۔ ایم۔ وہلیر	2۔	سرجان مارشل
3۔	انگریز ہنڈرکٹنگھم	4۔	ایس۔ این۔ رائے

8۔ ذیل میں دیے گئے بیان کی بنیاد پر صحیح مقام کی نشاندہی کیجیے۔

- 1۔ اس کے لیے میسوپوٹامیا کی تحریروں میں "مارلن" لفظ کا استعمال کیا گیا ہے۔
- 2۔ کالا تانبا کے حصول کے لیے یہ ایک مخصوص ذریعہ تھا۔

A۔	بلوچستان	B۔	افغانستان
C۔	فارس	D۔	اومان

9۔ دیے گئے بیان کو دوبارہ صحیح کر کے لکھیے۔

’مصر کی تہذیب، ہڑپا تہذیب کے ہم عصر تھی‘۔

10۔ ذیل میں دو بیان دیے گئے ہیں۔ جس میں بیان (A) اور دوسرا سبب (R) کے طور پر دکھایا گیا ہے۔

بیان (A):۔ ہینا ہڑپائی تہذیب میں مالیوں کا انتظام، اب تک کی تحقیق / کھوج کی گئی سب سے قدیم منصوبہ بندی ہے۔

سبب (R): ہڑپا میں پائی گئی چکیاں، سخت کھردری، آتش فشانی چٹان یا رنگی پتھر سے بنائی جاتی تھیں۔

A - دونوں A اور R صحیح ہیں اور A+R کا صحیح خلاصہ کرتا ہے۔

B - دونوں A اور R صحیح ہیں اور A+R کا صحیح خلاصہ نہیں کرتا ہے۔

C - صرف R صحیح ہے جبکہ A غلط ہے۔

D - صرف A صحیح ہے جبکہ R غلط ہے۔

مختصر جواب والے سوالات (3 نمبر والے سوالات)

- 1 - موہن جو دازو کے عظیم حمام پر ایک مختصر نوٹ لکھئے۔
- 2 - ہڑپا باشندوں کی معاشی کارکردگیوں پر روشنی ڈالئے۔
- 3 - ہڑپائی معاشرے میں سماجی، معاشی امتیاز کو معلوم کرنے کے لئے آٹا رقدیمہ کے ماہرین کن طریقوں کا استعمال کرتے تھے؟
- 4 - ہڑپا کے لوگوں کے مذہبی عقائد کی معلومات حاصل کرنے میں وہاں سے حاصل مہرین کس طرح مددگار ثابت ہوئی ہیں؟ مختصر بیان کیجئے۔
- 5 - ماہرین آٹا رقدیمہ نے دست کاری کے مراکز کی پہچان کس طرح حاصل کی؟
- 6 - بنزل کنگھم کون تھے؟ وہ کس طرح ہڑپا تہذیب کی اہمیت کو سمجھنے سے قاصر رہے؟
- 7 - ہڑپا تہذیب کے پانی کے بہاؤ کے طریقوں پر مختصر نوٹ لکھئے۔
- 8 - ہڑپا کے مغربی ایشیا کے ساتھ تجارتی تعلقات تھے۔ وضاحت کیجئے۔
- 9 - ہڑپائی تہذیب کے خاتمہ (زوال) کی ممکنہ وجوہات کا تجزیہ کیجئے۔
- 10 - ہڑپا کا رسم الخط ایک عجیب رسم الخط تھا۔ وضاحت کیجئے۔
- 11 - موہن جو دازو کی کچھ امتیازی خصوصیات بیان کیجئے۔
- 12 - وادی سندھ کی تہذیب کے لوگوں کی غذائی اجناس کے بارے میں آپ کیا جانتے ہیں؟ واضح کیجئے۔

13- ہڑپائی تہذیب کی تھینکوں اور تربیتوں کے حلقہ میں کیا کیا کارنامے ہیں۔ کوئی تین کارناموں کو لکھیے۔

14- جان مارشل کون تھے؟ ہندوستانی تاریخ میں ان کا کیا تعاون رہا؟ وضاحت کیجیے۔

15- مورخین کس طرح سے تاریخ کو از سر نو تیار کرتے ہیں اس کا خلاصہ کیجیے۔

طویل جواب والے سوالات (آٹھ نمبر والے)

1- ہڑپائی تہذیب کے رہائشی گھروں کی طرز تعمیر کو تفصیل سے بیان کیجیے۔

2- ہڑپائی تہذیب کی اہم خصوصیات کو بیان کیجیے۔

3- ہڑپائی تہذیب کی زراعت اور زررائی تھینکوں کی اہم خصوصیات کیا تھیں؟

4- ڈائزکمز، آریکولوجیکل سروے آف انڈیا کی حیثیت سے آر۔ ای۔ ایم۔ وھیلر کی کارناموں کو بیان کیجیے۔

5- وادی سندھ کی تہذیب کی معاشی اور مذہبی خصوصیات پر روشنی ڈالیے۔

1- مندرجہ ذیل اقتباس کا بغور مطالعہ کیجیے اور دیے گئے سوالات کے جواب دیجیے۔

جب قدیم ترین نظام کا انکشاف ہوا

نالوں کے متعلق ”میکے نے بیان کیا تھا کہ

”اب تک دریافت ہوئے قدیم نظاموں میں یقیناً یہ سب سے مکمل نظام ہے۔“ نگر گھر مرکز کے نالے سے ملحق تھا۔ بڑی اور اہم نالیاں اینٹوں اور مسالے سے بنائی گئی تھیں اور انہیں اس طرح اینٹوں سے ڈھک دیا گیا تھا کہ صفائی کے لئے انہیں ہٹایا جاسکے۔ کہیں کہیں ان ڈھکوں کے لیے چونے کا پتھر بھی استعمال کیا گیا تھا۔ گھر کی نالیاں پہلے ایک نادر یا ہودی میں گرتی تھیں۔ جن میں ٹھوس کوڑا نیچے بیٹھ جاتا تھا اور گنداپانی گلیوں کی نالی میں چلا جاتا تھا۔ جگہ جگہ کافی لمبی لمبی نکاسی نالیاں دی گئی تھیں اور ان کے نادرانے صفائی میں مدد دیتے تھے۔ آقا قدیر کا ایک عجوبہ یہ بھی ہے کہ ان نکاسی نالیوں کے پاس جگہ جگہ ”کوڑے کی قسم کے کچھ چھوٹے چھوٹے ڈھیر بھی ان نکاسی نالیوں کے کنارے پڑے ملے ہیں جن میں زیادہ تر ریت تھا..... جن سے اندازہ ہوتا ہے کہ نالیوں کی صفائی کے بعد کوڑا ہمیشہ نہیں اٹھایا جاتا تھا۔“

(ERNEST MACKAY, EARLY INDUS CIVILISATION-1948 سے ماخوذ)

نکاس کا یہ نظام صرف بڑے شہروں کی ہی انوکھی خصوصیت نہیں تھا، یہ چھوٹی بستیوں میں بھی ملا ہے۔ جیسے لوٹھل میں جہاں مکان گارے کی اینٹوں کے بنائے گئے ہیں، نالیاں وغیرہ کی اینٹوں سے بنی ہیں۔

سوالات

- 1- ہڑپائی تہذیب کا پانی نکاسی کے منصوبے کی کوئی ایک خصوصیات بیان کیجیے 2
- 2- ہڑپائی تہذیب کے پانی کی نکاسی کو آقا قدیمہ کی ایک نایاب مثال کیوں کہا جاتا ہے؟ 2
- 3- نالیوں کے بارے میں میسے کا کیا نظریہ تھا؟ 2

1- مندرجہ ذیل اقتباس کا بغور مطالعہ کیجیے اور دیے گئے سوالات کے جواب دیجیے۔

مصنوعات (آرٹیفیکٹس) کی شناخت کس طرح ہوتی ہے

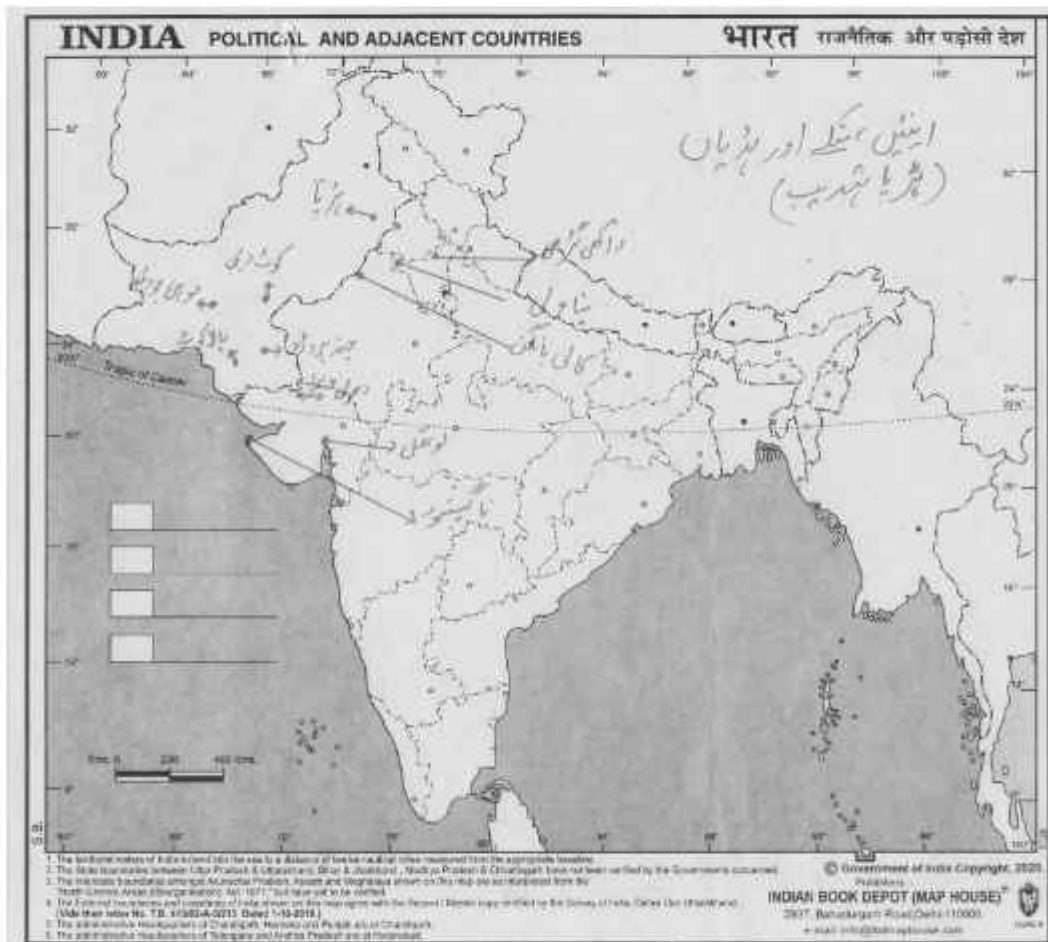
کھانے کی تیاری کے لیے پینے کے ساز و سامان کی ضرورت پڑتی ہے پھر اس کے ساتھ ہی کوندھنے، ملانے اور پکانے کی چیزیں بھی ضروری ہوتی ہیں۔ یہ چیزیں دھاتوں، پتھروں اور پکائی مٹی سے بنائی جاتی تھیں۔ نیچے موہن جو دڑو کی کھدائی کی سب سے پہلی رپورٹ کا ایک اقتباس دیا گیا ہے۔ موہن جو دڑو ہڑپائی مقامات میں سب سے زیادہ مشہور ہے۔

دوپاٹوں کی چکیاں..... کافی تعداد میں ملی ہیں۔ غلوں کو پینے کا شاید یہی ایک ذریعہ استعمال میں تھا۔ عام طور پر یہ سخت کھردری آتش فشانی چٹان یا رنگی پتھر سے بنائی جاتی تھیں اور زیادہ تر ان کے سخت قسم کے استعمال کے نشانات ملتے ہیں۔ چونکہ ان کی بنیادیں یا نچلے حصے عام طور پر کروی ہیں۔ اس لیے انھیں زمین میں گاڑ دیا جاتا ہو گا یا گارے میں جما دیا جاتا ہو گا تا کی پستے وقت یہ بے ہلے نہیں۔ ان میں دو قسمیں خاص طور پر ملتی ہیں ایک وہ جن پر ایک چھوٹا پتھر دھکیلا یا آگے پیچھے لڑھکا یا جاتا تھا۔ یا دوسری قسم وہ جس میں ایک دوسرا پتھر کو نٹنے کے لیے استعمال کیا جاتا تھا۔ جس کا مطلب ہے کہ نچلے والے پتھر میں ایک بڑا سا گڑھا ہوتا تھا۔ پہلی قسم کی چکیاں شاید صرف غلے کو پینے کے کام آتی تھیں اور دوسری قسم کی چکیاں شاید سالن میں استعمال کرنے کے لیے جڑی بوٹیوں اور مسالوں کو کوٹنے کے کام آتی تھیں۔ سچ تو یہ ہے کہ اس قسم کے پتھروں کا نام ہمارے ساتھ کام کرنے والے مزدوروں نے سالن والے پتھر (کری اسٹون) ہی رکھ لیا ہے اور ہمارے ایک باورچی نے تو میوزیم سے ایک ایسے پتھر کو باورچی خانے میں استعمال کرنے کے لیے ادھار مانگا بھی تھا۔

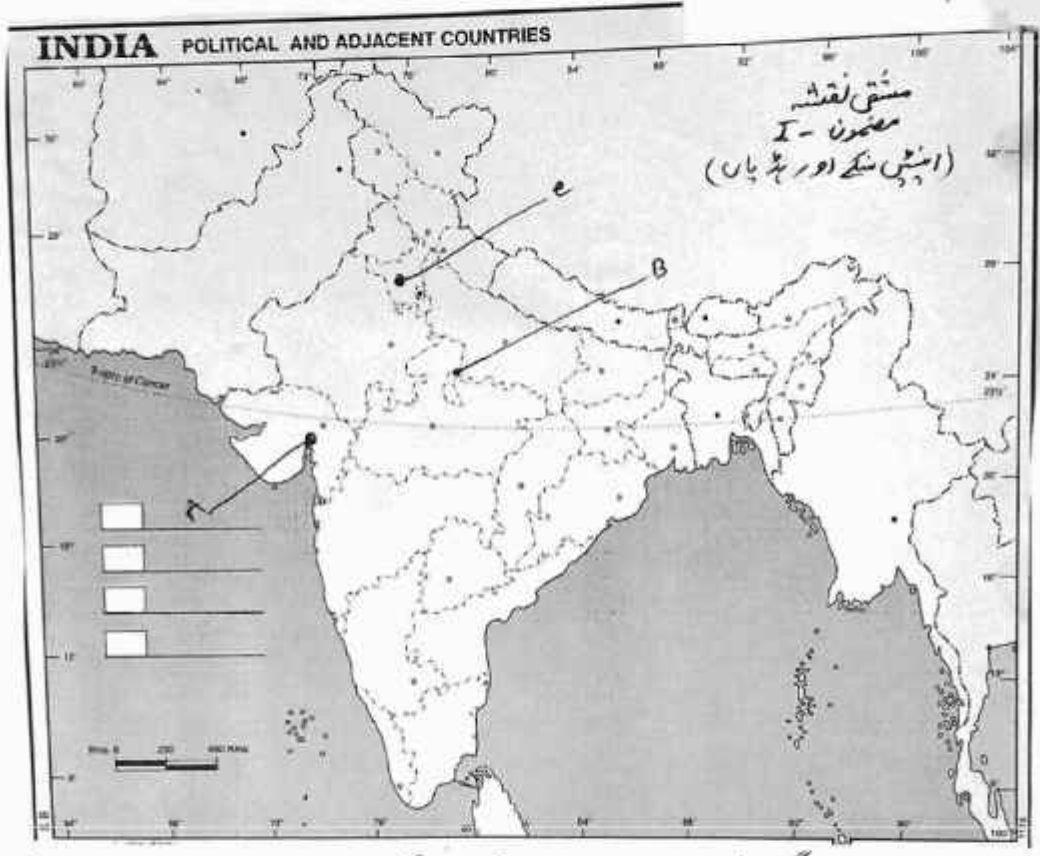
— ارنسٹ میکمر، فرڈر ایکس سکریپشنس ایٹ موہن جو دڑو، 1937

سوالات

- 1- دوپاٹوں کی چکیوں کی کوئی ایک خصوصیات بیان کیجیے۔ 2
- 2- چکیاں کون کون سے پتھروں سے بنائی جاتی تھیں؟ 2
- 3- مورخوں کے لیے ہڑپائی برتنوں کی اہمیت بیان کیجیے۔ 2



بھارت



سوال نمبر 1- دیجئے گئے نقشے پر وادی سندھ تہذیب کے اہم مقامات ہڑپا موہن جو دازو اور کالی بنگن کو دکھائیے۔

سوال نمبر 2- اس یے گئے نقشے میں تین مشہور ہڑپا مقامات کو A، B اور C سے دکھایا گیا ہے۔ انکی پہچان کر کے صحیح نام لکھیے۔

موضوع - دو

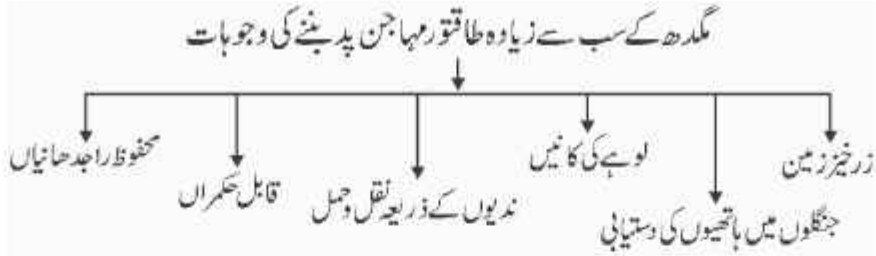
بادشاہ، کسان اور شہر

ابتدائی حکومتیں اور معیشتیں

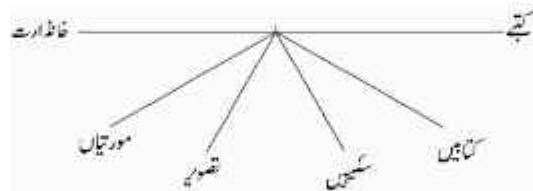
(تقریباً 600 سے 600 عیسوی تک)

یاد رکھنیے لائق نکات:

- 1- جیمس پرنسپ کے ذریعہ 1830 کی دہائی میں ”مہمہ“ اور خوشی ”رسم الخطا“ (زبانوں) کے معنی واضح کیے گئے جن سے اشوک کے کتبوں اور سکوں کا پتہ چلتا ہے۔
- 2- چھٹی صدی قبل مسیح ایک اہم تبدیلی کا دور مانا جاتا ہے۔ اس کی وجہ ریاستوں اور شہروں کی ترقی، لوہے کا بڑھتا استعمال، سکوں کے نظام کے قائم ہونے وغیرہ سے متعلق ہے۔
- 3- مہاجن پد نام سے سولہ ریاستوں کا ذکر کیا گیا ہے۔ مگدھ، کوشل، کورو، پانچالا، گندھار، وجی، اوتی جیسے اہم مہاجن پد تھے۔
- 4-




- 5- کتبوں اور بودھ گرتھوں کے مطابق اشوک سب سے اہم اور مشہور حکمرانوں میں سے ایک تھا۔
- 6- چندرگپت موریہ — موریہ سلطنت کا بانی تھا جسے تاریخ ہند میں ابتدائی دور کا سب سے مشہور بادشاہ مانا جاتا ہے۔
- 7- 600 قبل مسیح سے 600 عیسوی کے بیچ ہندوستانی تاریخ کی معلومات کے لیے مفرقوں کے ذریعے استعمال میں کئے جانے والے ذرائع۔



(پرنسپ اور پیاسی)


-8

1830 عیسوی میں ایسا کیمٹی ایک اچھی کاری جیمس پرنسپ نے پرچھی اور خردوشت زبانوں کا مطالب نکلا۔ یہ دونوں رسم الخط ابتدائی خطبوں اور سکوں پر استعمال ہوئی ہیں۔ زیادہ تر کتبے اور سکوں پر پیداواری یعنی دکھانے تسکین بخش راجا کا نام لکھا تھا۔ کچھ کتبوں پر اشوروک (بہت گرناشوں) کے مطابق سب سے زیادہ مشہور حکمرانوں میں ایک تھا اور بھی لکھا تھا۔



جن پد کا مطلب ہے زمین کا ایک ایسا ٹکڑا جہاں پر کوئی جن (کل زلوگ) اپنا جیر رکھتا ہے۔ یعنی وہاں آکر بس جاتا ہے۔ اس کا استعمال پراکرت اور سنگرت میں ملتا ہے۔

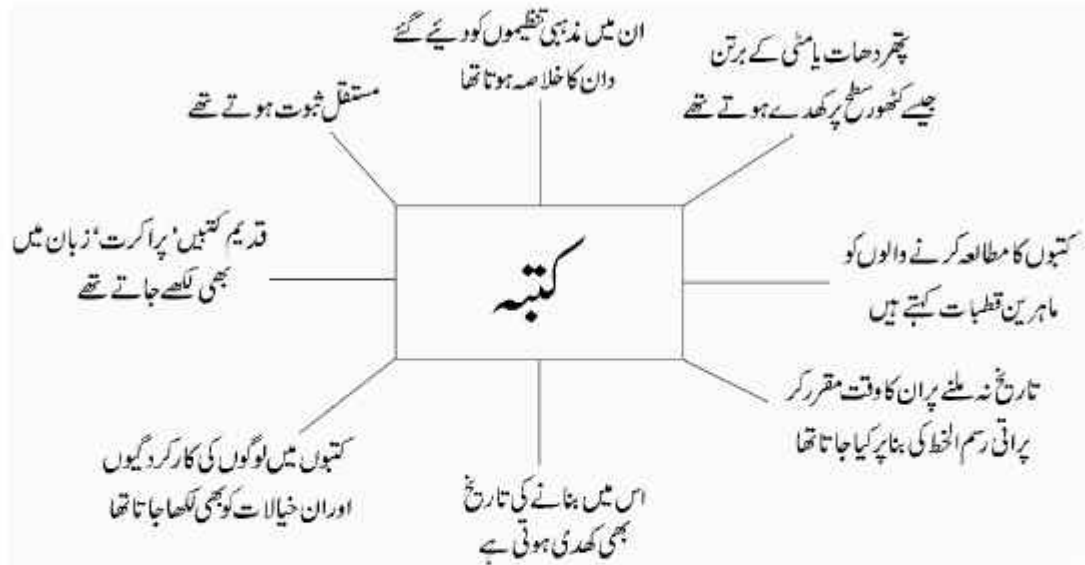
-10



- 11- موریه سلطنت کا نظام—پانچ اہم سیاسی مراکز: راجدھانی پائلی پتر اور چار صوبے بنگلیا، اجمیشی، توسالی اور سورن گری۔
- 12- میکسٹھمیز کے ذریعے فوجی سرگرمیوں کو چلانے کے لیے ایک تنظیم اور چھ ذیلی تنظیموں کا تذکرہ جن کے کام بحری فوج، آمد و رفت، ہذا، پانی، بری فوج، گھڑ سوار فوج، تھہ اور ہاتھیوں کی دیکھ بھال کرنا تھا۔
- 13- چوتھی صدی عیسوی تک بڑی بڑی ریاستوں کی شہادتیں ملتی ہیں جن میں گپتا سلطنت بھی شامل ہے۔
- 14- جنوب (دکن) کے راجا اور سردار—چول، چیر اور پانڈیا۔ ان کی تاریخ کی معلومات کے اہم ماخذ جمل سنگھ متون۔
- 15- چھٹی صدی قبل مسیح میں کھیتی کی پیداوار بڑھانے میں لوہے کے پھل والے لہلہ استعمال کیا جانے لگا۔
- 16- چھٹی صدی میں تجارت کے لیے سگوں کا چلن۔ سونے کے سکے سب سے پہلے پہلی صدی عیسوی میں کشان حکمرانوں کے ذریعے جاری کیے گئے۔
- 17- اعلیٰ سماجی حیثیت یا درجہ حاصل کرنے کے لیے حکمرانوں کے ذریعے دیوی دیوتاؤں کے ساتھ جڑنا (کشان حکمرانوں نے مورتیوں کے ذریعے خود کو دیوتاؤں کے مد مقابل پیش کیا)
- 18- دوسری صدی کے کئی شہروں سے چھوٹے لہدایاتی کتبوں سے مختلف پیشوں کی معلومات جیسے دھوبی، بکر، کلرک، ہر دھبی، لوہار، کمہار، سنار، مذہبی پیشوا تا جبر و غیرہ
- 19- پیداوار کنندہ اور تاجروں کی کمیٹیوں کا ذکر ملتا ہے۔ ممکن ہے کہ کمیٹیاں پہلے خام مال کو خریدتی تھیں پھر ان سے سامان تیار کر کے بازار میں فروخت کرتی تھیں۔
- 20- چھٹی صدی قبل مسیح سے جزیرہ نما میں بحری اور بری راستوں کا جال کئی سنتوں میں پھیلا۔ بحر عرب سے شمالی افریقہ، مغربی ایشیا تک اور خلیج بنگال سے چین اور جنوبی ایشیا تک۔
- 21- گپت دور کے آخری وقت میں سکوں کی کمی معاشی گراوٹ کی طرف اشارہ کرتی ہے۔
- 22- کتبات ثبوت کے طور پر تاریخ کے اہم ذرائع کتبہ کے ماہرین، کتبہ کے مطالعے سے سابقہ زبان، راجا کا نام، تاریخ اور مضمون کی جانکاری حاصل ہوتی ہے۔
- 23- کتبات کی ثبوتوں کے حدود۔ الفاظ کا ملکہ ڈھنگ سے کتبوں کے ٹوٹ جانے سے الفاظ کا مٹ جانا، صحیح مطلب نہ نکال پانا، زبان کا سمجھ نہ آنا، روزمرہ کے کاموں اور زندگی کے سکھ دکھ کا ذکر کتبوں میں نہ ہونا۔
- 24- پتھر کی مورتیاں موریه عہد کے سارے آثار قدیمہ کے ایک انوکھے فن کے نمونے تھے جو کہ موریه سلطنت کی پہچان مانے جاتے تھے۔
- 25- کشان کے حکمرانوں نے خود کو دیوتاؤں کے برابر پیش کیا اور اپنے نام کے آگے ”دیو پتر“ کا اعجاز بھی حاصل کیا۔ شاید وہ

- چین کے حکمرانوں سے متاثر تھے جو خود کو جنت کا بیٹا کہتے تھے۔
- 26- کشان حکمرانوں کے راج دھرم کو جاننے کے بہترین ثبوت ان کے سکے اور مورتیاں ہیں۔
- 27- جن پد کا مطلب زمین کا ایسا ٹکڑا ہے جہاں کو جن (لوگ قبیلہ خاندان کے لوگ رہتے ہیں یا بس جاتے ہیں اس لفظ کا استعمال پراکرت اور سنسکرت زبان دونوں میں ملتا ہے۔
- 28- تقریباً 6 صدی ق م سے سنسکرت میں دھرم شاستر نام کے گمراہوں کے تصنیفات شروع جس میں راجا اور ساج کے دوسرے طبقوں کے لئے قانون طے کئے گئے۔
- 29- سردار ایک طاقتور شخص ہوتا تھا جو خاندانی بھی ہو سکتا تھا۔ اس کے علاقوں کو سرداری کہا جاتا تھا۔
- 30- سردشن جمیل کو موریہ زمانے میں ایک مقامی راجپال (صوبے دار کے راجپال کے ذریعے بنوایا گیا اس کی جانکاری ہمیں مشک حکمرانوں اور دین کے پتھر کے قطبوں سے ملتی ہے۔
- 31- پرباگ پرستی جیسے الہیہ دستوں کے نام سے بھی جانا جاتا ہے۔ ہر شیر نے لکھا جو کہ سمرات سمندر گپت کا شاہی کوی تھا۔
- 32- گاہتی گھر کا مالک اور کھیا ہوتا تھا جو اس کنبے کی عورتوں بچوں اور غلاموں پر اپنی گرفت رکھتا تھا۔ پالی زبان میں اس لفظ کا استعمال چھوٹے کسانوں کے لئے کیا گیا۔
- 33- مدراشا سترسکوں کا مطالعہ ہے اس کے ساتھ ہی ان پر پائی جانے والی تصویریں بمسوخ اور ان کے دھانچوں کا بھی مطالعہ کیا جاتا ہے۔

34-



کتابی شہادت کی حد بندیاں

گھیر کا خراب حالات میں عموماً جینی حروف مٹ جاتے تھے
 تکنیکی حد ہوتی ہے۔ حروف ہلکے کھدے ہوتے ہیں جس کی
 وجہ سے پڑھ پانا مشکل ہوتا ہے
 الفاظ کے صحیح معنوں کا صحیح ڈھنگ سے پتہ نہیں ہوتا جس سے مفہوم
 عام طور پر کتبہ کسی خاص موقع پر لکھے جاتے تھے
 بدل جاتا ہے
 ہزاروں کی تعداد میں کتبے ملے ہیں۔ لیکن سب کو ابھی تک پڑھا
 نہیں جاسکا اور نہ ہی شائع کیا جاسکا
 کتبوں میں کھیتی اور روزمرہ کی زندگی کے کچھ دکھ کا ذکر نہیں ہوتا ہے
 کتبوں میں بتائے گئے نظریات کا خلاصہ تب ہی کیا جائے
 گا جب اسے گزرے ہوئے زمانے کی پوری معلومات ہو
 یہ ضروری نہیں کہ جسے آج ہم سیاسی اور معاشی طور پر بہت اہم مانتے
 ہوں ان کا ذکر کتبوں میں کیا گیا ہو۔
 اور جو بچے ہیں وہ صرف کلڑوں کی شکل میں ہیں۔

نہایت مختصر جواب والے سوالات (ایک نمبر والے)

- سوال نمبر 1- کتبے کسے کہتے ہیں؟
- سوال نمبر 2- جیمس پرنسیپ کون تھے؟
- سوال نمبر 3- سکلم گرنٹھ سے کیا مراد ہے؟
- سوال نمبر 4- اشوک کے کتبہات خاص طور پر کن رسم الخط میں لکھے گئے ہیں؟
- سوال نمبر 5- شیچ مارک (تھپے دار) سکھ سے کیا مراد ہے؟
- سوال نمبر 6- اشوک کے کتبوں کی زبان کیا ہے؟
- سوال نمبر 7- 'نشرینی' کیا تھی؟ اس کا کیا کام تھا؟
- سوال نمبر 8- اشوک کے شیروں کی مورتی والے سر کے ستون کو آج ہم کیوں سمجھا جاتا ہے؟
- سوال نمبر 9- اگر بار سے کیا مراد ہے؟
- سوال نمبر 10- کنشک.....خاندان کا سب سے طاقتور حکمران تھا

Objective Type Questions

- 11- تیس پر تیسپ کی اہم کامیابی تھی.....
- (الف) سنسکرت کا مطلب نکالنا (ب) برہمی اور خروٹی کا مطلب نکالنا
(ج) دیوناگری کا مطلب نکالنا (د) ان میں سے کچھ نہیں
- 12- انڈیا کا کتاب کے مصنف تھے
- (الف) کلنگھم (ب) جان مارشل
(ج) میگھیشیر (د) کوٹے
- 13- موریا سلطنت کی فوجی کارروائی کی جاتی تھی۔
- (الف) ایک سمیتی اور چھ نائب سمیتوں کے ذرائع
(ب) دو سمیتی اور پانچ نائب سمیتوں کے ذرائع
(ج) تین سمیتوں اور پانچ نائب سمیتوں کے ذرائع
(د) چار سمیتوں اور تین نائب سمیتوں کے ذرائع
- 14- دھم کے نظریے کی شروعات کس نے کی تھی؟
- (الف) چندرگپت موریا (ب) سمرگپت
(ج) چانکیہ (د) اشوک
- 15- چانکیہ کتھامیں کس سے متعلق ہیں؟
- (الف) مہاویر (ب) مہاتما بدھ
(ج) گروناک (د) کیرداس
- 16- ہرش چہتر کو لکھا تھا۔
- (الف) کوٹے نے (ب) میگھیشیر نے
(ج) بان بھٹ نے (د) ان میں سے کوئی نہیں

- 17- سب سے عام طور پر ہوتے تھے
- (الف) مالدار بیوپاری (ب) دستکار
(ج) کسان (د) سپاہی
- 18- ہندوستان میں سب سے پہلے سونے کے سکے جاری کئے تھے
- (الف) شکوں نے (ب) سات واہنوں نے
(ج) گپت راجاؤں نے (د) موریہ راجاؤں نے
- 19- مگدھ کی ابتدائی دارالسلطنت تھی:-
- (الف) تکشلا (ب) پٹنہ
(ج) پاتلی پتر (د) راجگیر
- 20- مشہور کتاب اشٹ ادھیائے کے مصنف تھے
- (الف) پانینی (ب) پٹانجلی
(ج) چرکھ (د) آریہ بھٹ
- 21- دی گئی تصویر کو دھیان سے دیکھ کر بتائیے یہ کیا ہے اور اسے کس نے بنوایا؟



معروضی سوالات

- 1- مندرجہ ذیل میں سے ----- طاقتور واکا تک ملکہ تھی جس نے زمیں عطیہ کی۔
- 1- دیوی 2- دروپی 3- پر بھاتی 4- کشمی ہائی
- 2- گجرات کی سدرشن جمیل مرمت کروائی۔
- 1- چندر گپت نے 2- سمر گپت نے
- 3- موریہ سلطنت کے کورز نے 4- رور ڈمن نے
- 3- مندرجہ ذیل جوڑوں میں سے کون سا صحیح ہے۔
- | | | | |
|---|-------------------------|---|------------------------------|
| a | پہلی مرتبہ سونے کے سیکے | 1 | موریہ سلطنت کے حکمران |
| b | تانبہ کے سیکے | 2 | جنگجو حکمران (جنگ جو حکمران) |
| c | چاندی کے سیکے | 3 | کرشن حکمران |
| d | کانہ کے سیکے | 4 | شک حکمران |
- 4- میاں کیجیے۔
- | | | | |
|---|---------|---|--------------------------------|
| A | 1838ء | 1 | کنشک حکمران کی تاجپوشی |
| B | 1784ء | 2 | چندر گپت موریہ کی تاجپوشی |
| C | 321 ق۔م | 3 | جیمس پرنسپ نے کتبوں کو پڑھا |
| D | 78ء | 4 | بنگال ایشیا تک سوسائٹی کا قیام |
- (1) A-iii, B-iv, C-ii, D-i
- (2) A-i, B-iv, C-iii, D-iv
- (3) A-ii, B-i, C-iv, D-iii
- (4) A-i, B-iii, C-ii, D-iv

8- موریه سلطنت سے متعلق مندرجہ ذیل بیانیوں پر غور کیجیے۔

1- مگدھ کی ترقی کے ساتھ ساتھ موریه سلطنت کی بھی ترقی ہوئی۔

2- موریه سلطنت کے پانچ اہم سیاسی مراکز تھے۔

3- دھم کے نظریہ کی تبلیغ کے لیے دھم مہمات کو نامزد کیا گیا۔

مندرجہ بالا بیانیوں میں سے کون سا بیان صحیح ہے۔

A- 1 اور 2، B- صرف 1، C- صرف 3، D- 1، 2 اور 3

6- اشوک کتبات مندرجہ ذیل میں کن رسم الخط میں لکھے گئے۔

1- پراکرت 2- سنسکرت 3- اراماگ 4- ہندی

A- 1 اور 2، B- 2 اور 4، C- 1 اور 3، D- 1 اور 4

7- بیان کو درست کر کے لکھیے۔

پالی زبان میں ”گہ پتی“ لفظ کا استعمال بڑے تاجروں کے لیے ہوتا تھا۔

8- ذیل میں دو بیان دیے گئے ہیں۔ جس میں بیان (A) اور دوسرا سبب (R) کے طور پر دکھایا گیا ہے۔

بیان (A) سونے کے سٹکے سب سے پہلے کشان حکمرانوں نے جاری کیے۔

سبب (R) ہند یونانی حکمرانوں نے حکمرانوں کی تصویر اور نام کے ساتھ سب سے پہلے ہندوستان میں سٹکے جاری کیے۔

A- دونوں A اور R صحیح ہیں اور R، A کا صحیح خلاصہ کرتا ہے۔

B- دونوں A اور R صحیح ہیں اور R، A کا صحیح خلاصہ نہیں کرتا ہے۔

C- صرف R صحیح ہے جبکہ A غلط ہے۔

D- صرف A صحیح ہے جبکہ R غلط ہے۔

9- ذیل میں دو بیان دیے گئے ہیں۔ جس میں بیان (A) اور دوسرا سبب (R) کے طور پر دکھایا گیا ہے۔ صحیح جواب منتخب کیجیے۔

بیان (A) مگدھ چھٹی صدی سے چوتھی صدی ق۔ م مگدھ (موجودہ بہار) سب سے طاقتور مہاجن پد بن گیا۔

سبب (R) گندھ میں زرخیز زمین، لوہے کی کانیں، مٹیوں کے ذریعے نقل و حمل اور جنگوں میں ہاتھیوں کی دستیابی تھی۔

-A دونوں A اور R صحیح ہیں اور A+R کا صحیح خلاصہ کرتا ہے۔

-B دونوں A اور R صحیح ہیں اور A+R کا صحیح خلاصہ نہیں کرتا ہے۔

-C صرف R صحیح ہے جبکہ A غلط ہے۔

-D صرف A صحیح ہے جبکہ R غلط ہے۔

10- کتبائے کے لیے کون سا ثبوت حتمی نہیں ہے۔

1- کتبائے ٹوٹ پھوٹ جاتے ہیں۔ 2- کتبوں کے الفاظ کا سمجھنا آنا۔

3- روزمرہ کے کاموں اور سکھ دکھ کا ذکر نہ ہونا۔ 4- کتبہ کے الفاظوں کا مٹ جانا۔

اقتباس پر منحصر سوال

سمدرگپت کی تعریف میں

یہ پریاگ پر شستی سے ایک اقتباس ہے:

روئے زمین پر اس کا کوئی مخالف نہیں تھا۔ اس کی متعدد دنیکی خصوصیات سے چمکتی اور سیکڑوں نیک اعمال سے جتنی شخصیت نے دوسرے بادشاہوں کی شہرت کو اس کے پیروں کے تلوں سے مثل کر نیست و نابود کر دیا وہ پرش اعلا ترین وجود ہے، نیکوں کی خوشحالی اور بدوں کی تباہی و بربادی کا سبب ہوتے ہوئے وہ ایسی ذات ہے جس کے نرم دل کو صرف دلی تعلق اور خا کساری سے جیتا جاسکتا ہے۔ جذبہ رحم اسے اپنے قبضہ میں کیے ہوئے ہے وہ لاکھوں گایوں کا عطا کرنے والا ہے۔ دیکھو، مصیبت زدوں، غریبوں، خست حالوں پریشانیوں میں مبتلا لوگوں کو اٹھانے کے لیے ایک بنیادی جذبہ پایا ہے۔ یہ ہمدردی اور نیکی ایک جگہ گاتا مجسمہ ہے۔ (یہ) کبیر (دولت کا دیوتا)، ورن (سمندروں کا دیوتا) اندر (بارش کا دیوتا) اور ایم (موت کا دیوتا) جیسے دیوتاؤں کے برابر ہے۔

1- دیئے گئے اقتباس کو غور سے پڑھئے اور اس کے سوالوں کے جواب دیجئے

(A) پریاگ پر شستی کا مصنف کون ہے؟

- (1) بان بھٹے (ب) ہری شین
- (2) سمدر گپت (د) کرشن دیورائے
- (B) یہ پرستی کس کی تعریف میں لکھی گئی ہے؟
- (1) چندر گپت موریہ (ب) کنشک
- (2) سمدر گپت (د) اشوک
- (C) درج ذیل میں سے کون سا بیان درست ہے؟
- (1) زمین پران کے کئی دشمن تھے
- (ب) وہ انسانیت کے لئے ایک جنگلاتے ہوئے مجسمہ تھے
- (2) وہ عدم تشدد سے بھرے ہوئے تھے
- (د) اوپر کے کبھی بیان درست ہیں
- (D) نیچے دو بیان دیئے گئے ہیں ان میں سے ایک بیان A اور دوسرے کو سبب R کہا گیا ہے
- بیان A - شاعروں کی لکھی ہوئی تعریفیں جو انہوں نے اپنے راجا کے بارے میں لکھی ہیں۔ وہ تاریخ کے لکھنے میں کافی مددگار رہی ہیں۔
- سبب R - حالانکہ مورخ ان تعنیفات پر تاریخی نیچوڑکانے کی کوشش کرتے ہیں لیکن ان کے مصنف صحیح خلاصہ کرنے کی جگہ پر اسے ایک شاعرانہ کتاب (گرنٹھ) مانتے ہیں۔
- (1) صرف بیان A صحیح ہے۔
- (ب) صرف سبب R صحیح ہے۔
- (2) A اور R دونوں صحیح ہیں۔ لیکن سبب R بیان A کا خلاصہ نہیں کرتا ہے۔
- (د) A اور R دونوں صحیح، لیکن سبب R بیان A کا خلاصہ کرتا ہے۔

دی گئی تصویر کو دھیان سے دیکھ کر اس کے درج ذیل سوال کا جواب دیجئے:



(A) یہ سکے سلطنت سے متعلق ہے

- (i) موریہ (ii) گپت
(iii) کسان (iv) ساتواہن

(B) یہ سکے جس دھاتوں سے بنے ہوئے تھے وہ ہے

- (i) چاندی (ii) سونا
(iii) تانبہ (iv) لوہا

(C) درج ذیل بیان کو پڑھ کر صحیح جواب چنیں

(الف) کسان حکمرانوں نے وسط ایشیا سے لیکر شمال مغرب تک حکمرانی کی

(ب) کسان تاریخ کی جانکاری کتبوں اور گرتھوں سے ملتی ہے۔

(ج) متحدہ دلا کے پاس اس کے دھسے ملے ہیں

- (i) بیان (ا) صحیح ہے
(ii) بیان (ب) صحیح ہے
(iii) بیان (ا) اور (ب) دونوں صحیح ہیں
(iv) سبھی صحیح ہیں

(D) سکوں کے مطالعہ کو..... کہا جاتا ہے

(i) مدلاشاسٹر

(ii) مانوشاسٹر

(iii) ابھی لیک شاسٹر

(iv) ان میں سے کوئی نہیں

مختصر جواب والے سوالات (تین نمبر والے)

- سوال نمبر 1- جیمس پرنسپ کون تھے؟ تاریخ ہند کو مرتب کرنے میں ان کا تعاون بیان کیجیے
- سوال نمبر 2- چھٹی سے چوتھی صدی قبل مسیح میں گدھ سلطنت کے سب سے زیادہ طاقتور مہاجن پد بننے کی کیا وجوہات تھیں؟
- سوال نمبر 3- اشوک کے دھرم کی اہم خصوصیات کیا تھیں؟
- سوال نمبر 4- میگاستھینز کے بیانات کے مطابق مور یہ سلطنت میں فوجی سرگرمیوں کا انجام دینے کا کیا نظام تھا؟
- سوال نمبر 5- مور یہ سلطنت کی معلومات فراہم کرنے والے اہم ذرائع کو بیان کیجیے۔
- سوال نمبر 6- ہندوستان کی سیاسی اور معاشی تاریخ کو سمجھنے کے لیے کتباتی شہادتوں کی حد بند یوں کو پہچانیے۔
- سوال نمبر 7- قدیم ہندوستانی مہا جنپدوں کی تین اہم خصوصیات پر روشنی ڈالیے۔
- سوال نمبر 8- کتبات سے ہمیں کیا معلومات فراہم ہوتی ہیں؟ کوئی تین نکات بیان کیجیے۔
- سوال نمبر 9- اس دور میں راج دیو بادشاہ (سکھراں) رواج کیا تھا؟ واضح کیجیے۔
- سوال نمبر 10- مور یہ عہد میں کاشت کی تین خصوصیات بیان کیجیے۔
- سوال نمبر 11- جیمس پرنسپ کا ہندوستانی کتباتی علم کے بارے میں کیا تعاون ہے؟
- سوال نمبر 12- ہندوستانی تاریخ میں سکوں کی کیا اہمیت ہے؟ اس پر روشنی ڈالئے۔
- سوال نمبر 13- مور یہ عہد کے گھراوریو پارکے بارے میں آپ کیا جانتے ہیں؟
- سوال نمبر 14- جنوبی ہندوستان میں ابھرے سرداریوں کے بارے میں کبھی تین عناصر کے بارے میں بتائیے۔

سوال نمبر 15- آپ کے مطابق قدیم ہندوستان میں مور یہ سلطنت کس طرح اہم تھی؟۔

طویل جواب والے سوالات (آٹھ نمبر والے)

- سوال نمبر 1- ہندوستانی تاریخ میں راجا اشوک کے تعاون پر تبصرہ کیجئے۔
- سوال نمبر 2- مور یہ حکومت کے انتظامیہ کی اہم خصوصیات کو بیان کیجئے۔
- سوال نمبر 3- مور یہ سلطنت کی اقتصادی اور معاشی کامیابی پر اپنے خیال کا اظہار کیجئے۔
- سوال نمبر 4- کتبے کیا ہوتے ہیں۔ تاریخ لکھنے میں ان کی اہمیت اور حدود پر اپنے خیال کا اظہار کیجئے۔
- سوال نمبر 5- اس عہد کے دوران کے زراعت کے طریقوں میں کون کون سی تبدیلیاں پیدا ہوئیں؟

1- مندرجہ ذیل اقتباس کا بغور مطالعہ کیجئے اور متعلقہ سوالات کے جواب دیجئے۔

چھوٹے گاؤں میں زندگی

ہرش چرت قنوج کے حکمراں ہرش وردھن کی سوانح ہے جو اس کے درباری شاعر بان بھٹ نے سنسکرت میں (ساتویں صدی عیسوی) مرتب کی تھی۔ نیچے اس کے متن سے ایک اقتباس دیا جا رہا ہے جو مندرجہ ذیل پہاڑوں کے جنگل کے کنارے آبا د ایک چھوٹی سی بستی کا بے حد نایاب مظہر یا ترجمان ہے۔

قرب و جوار کے بیشتر علاقوں کے جنگل ہونے کی وجہ سے وہاں کی زمینوں کے بہت سے قطعہ اناج گاہنے کے ٹکڑے (کھلیان) اور قابل کاشت چھوٹے چھوٹے حصے، کسان جن کی الگ الگ حد بندی کر لیتے ہیں..... یہ بنیادی طور پر پھاؤڑا کاشت تھی،... چھوٹے چھوٹے ٹکڑوں میں بنی گھاس سے ڈھکی زمین میں بل چلانے کی مشکل کے ساتھ بہت کم صاف قطعہ ان کی کالی مٹی، ایسی سخت جیسے لوہا...

لوگ بھوسے کے گٹھرائٹھے ادھر سے ادھر آتے جاتے..... چنے ہوئے پھولوں کے لاقعدا دبورے... پٹ سن اور گانجے کے پودوں کے پولے، شہد کی مقداریں، مور کی دم کے پر، موم کے لچھے لکڑا اور گھاس لیے چلتے پھرتے گاؤں کی دیواریں پڑوں کے گاؤں کی طرف جانے والے راستوں پر تیز تیز قدم بڑھاتی، دماغ صرف فروخت کے خیالات میں ڈوبے ہوئے اور سروں پر جنگل سے جمع کیے ہوئے طرح طرح کے پھلوں سے بھری ٹوکریاں سنبھالے ہوئے۔

سوالات

- 1- ہرش چرت کے مصنف کون تھے؟
- 2- گاؤں کے لوگ کیا کیا کام کرتے تھے؟
- 3- ایسے دو کاموں کا تذکرہ کیجیے جو گاؤں کی خواتین کرتی تھیں۔

2- مندرجہ ذیل اقتباس کا بغور مطالعہ کیجیے اور متعلقہ سوالات کے جواب دیجیے۔

پر بھاوتی گیت اور ڈنگوں گاؤں

نیچے وہ متن ہے جو پر بھاوتی نے اپنے کتبے میں بیان کیا ہے:

پر بھاوتی گیتا..... گرام کٹھناس کی سردار (کنبے یا کسان جو گاؤں میں آباد ہیں) برہمنوں اور ڈنگوں گاؤں کے دوسرے لوگوں کو حکم دیتی ہے:

تم کو کو معلوم ہونا چاہیے کہ کار تک کے چاند کے روشن کچھواڑے کے بارہویں دن اپنے مذہبی شرف و فضیلت میں اضافہ کے لیے پانی انڈیلنے کے ساتھ ہم نے اس گاؤں کو آچاریہ (استاد) چنالس و من کو عطیہ کر دیا ہے۔ تم سب کو اس کے احکامات کی پابندی کرنی چاہیے.....

ہم اسے بطور بخشش مندرجہ ذیل مستثنات (مراعات) بھی عطا کرتے ہیں جو کسی اگر ہمارے لیے عام ہیں..... یہ گاؤں فوجی اور پولس کے سپاہیوں کے داخلہ سے مستثنیٰ ہے۔ یہ گھاس مہیا کرنے کی ذمہ داری سے مستثنیٰ ہے، بیچنے کے لیے جانوروں کی کھالوں اور شاہی افسروں کے دورے پر کئے فراہم کرنے سے مستثنیٰ ہے۔ جوش مارتی ہوئی شراب کی خرید کے سلسلے میں شاہی خصوصی اختیار سے مستثنیٰ ہے۔ معدنی کانوں کے حقوق اور کھدیر ایجڑوں سے مستثنیٰ ہے، پھول اور دودھ کی فراہمی کی ذمہ داری سے بھی مستثنیٰ ہے۔ یہ عطا کیا جا رہا ہے پوشیدہ خزانوں اور دینیوں کے حقوق کے ساتھ اور تمام بڑے چھوٹے ٹیکسوں کے استثنیٰ کے ساتھ۔ یہ منشور تیرہویں سال جلوس میں جاری کیا جا رہا ہے۔ چکر داس نے اسے کندہ کیا ہے۔

سوالات

- 1- اس کتبے کو کس نے لکھا ہے؟

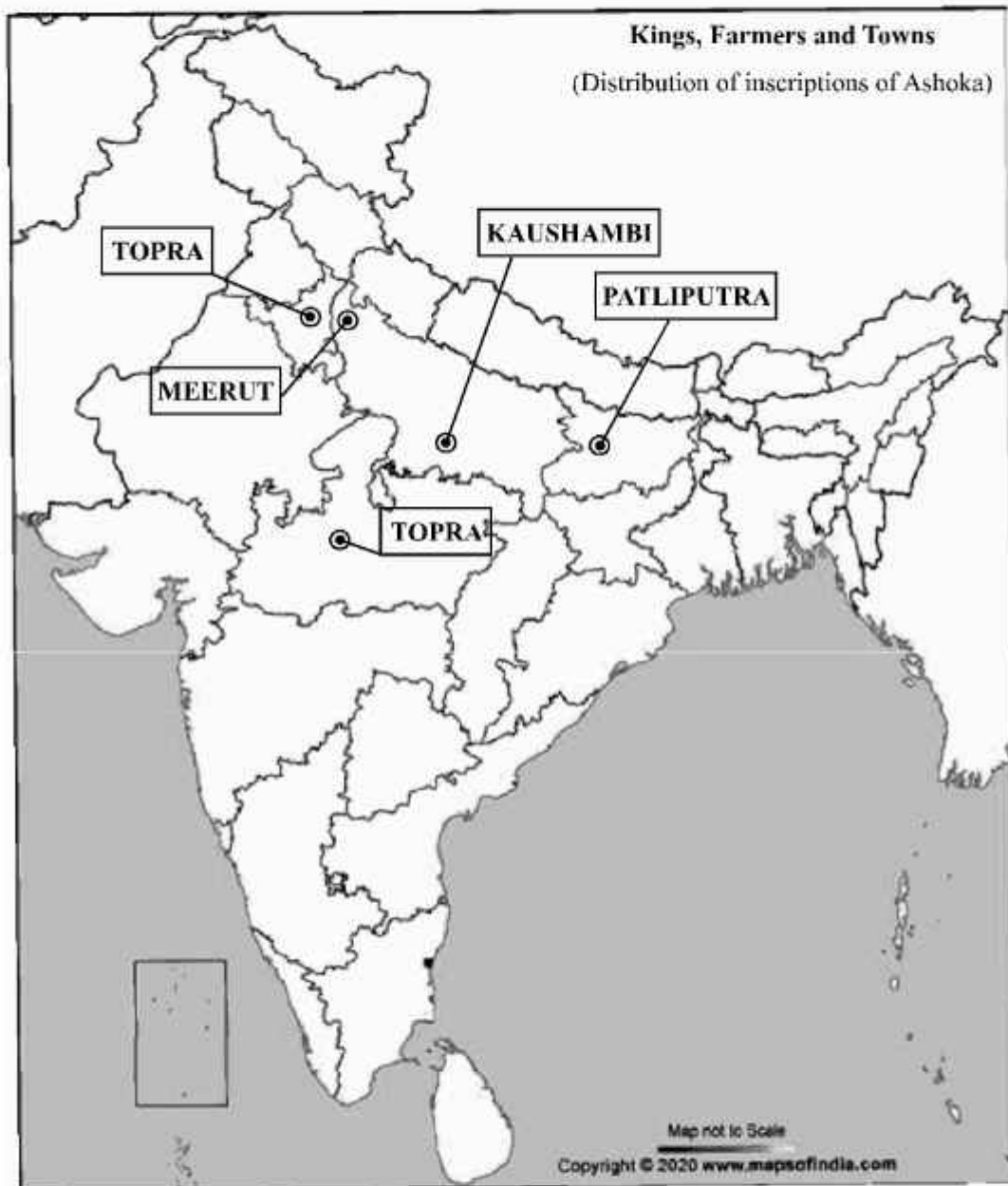
- 2- اگر ہارکوزینین پر کیا کیا مراعات حاصل تھیں؟ 2
- 3- اس ماخذ کی اہمیت بیان کیجیے؟ 2
- 3- مندرجہ ذیل اقتباس کا بغور مطالعہ کیجیے اور متعلقہ سوالات کے جواب دیجیے۔

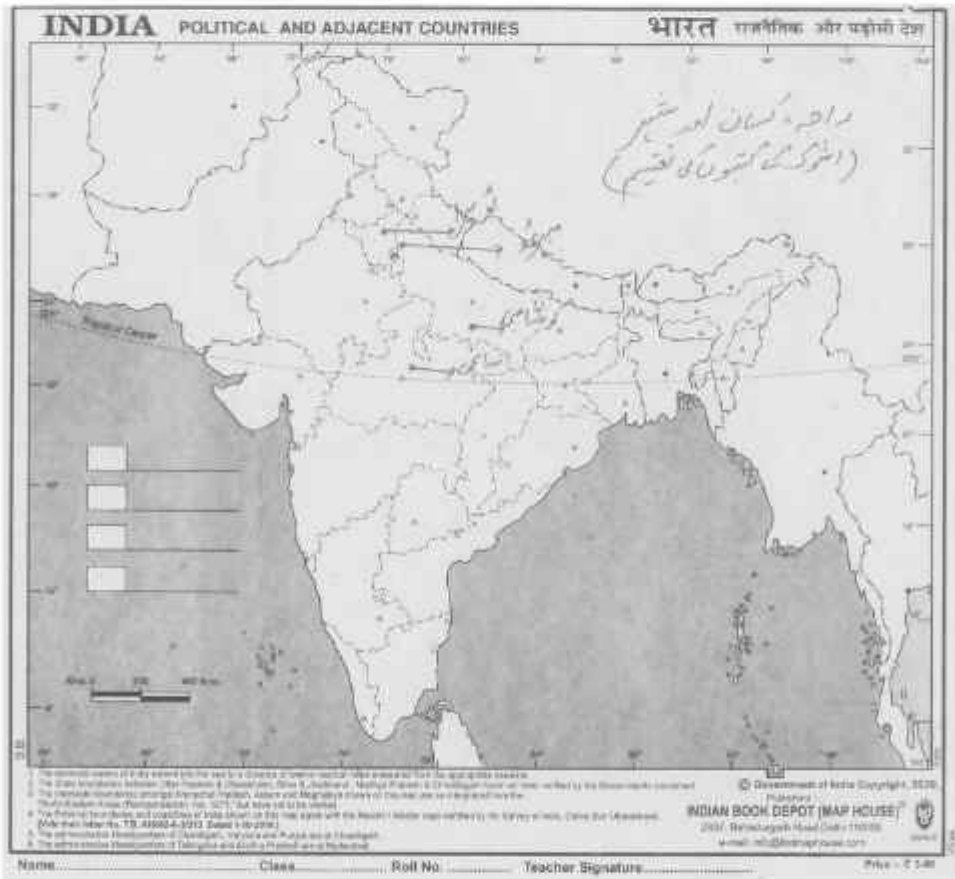
بادشاہ کا اضطراب

جب بادشاہ دیونم پیا پیا داسی آٹھ برس سے حکومت کر رہا تھا تو کلنگ (کا ملک) (آج کا ساحلی اڑیسہ) اس نے فتح کیا۔ ایک سو پچاس ہزار شہر بدر کیے گئے۔ ایک سو ہزار قتل کر دیے گئے اور بہت سے مر گئے۔ اس کے بعد اب کہ جب کلنگ (کا ملک) لیا جا چکا دیونم پیا دھم کے گہرے مطالعے میں، دھم سے محبت میں اور لوگوں میں دھم کی ہدایت دینے میں منہمک ہے۔ کلنگ کے ملک کو فتح کر لینے کے سلسلے میں یہ دیونم پیا کا پچھتاوا ہے۔ یہ بات دیونم پیا کے خیال میں بڑی تکلیف دہ اور قابل مذمت ہے کہ جب کوئی شخص کسی غیر مفتوحہ (ملک) کو فتح کر رہا ہو (تو) قتل، موت اور لوگوں کی شہر بدری وہاں (واقع ہو).....

سوالات

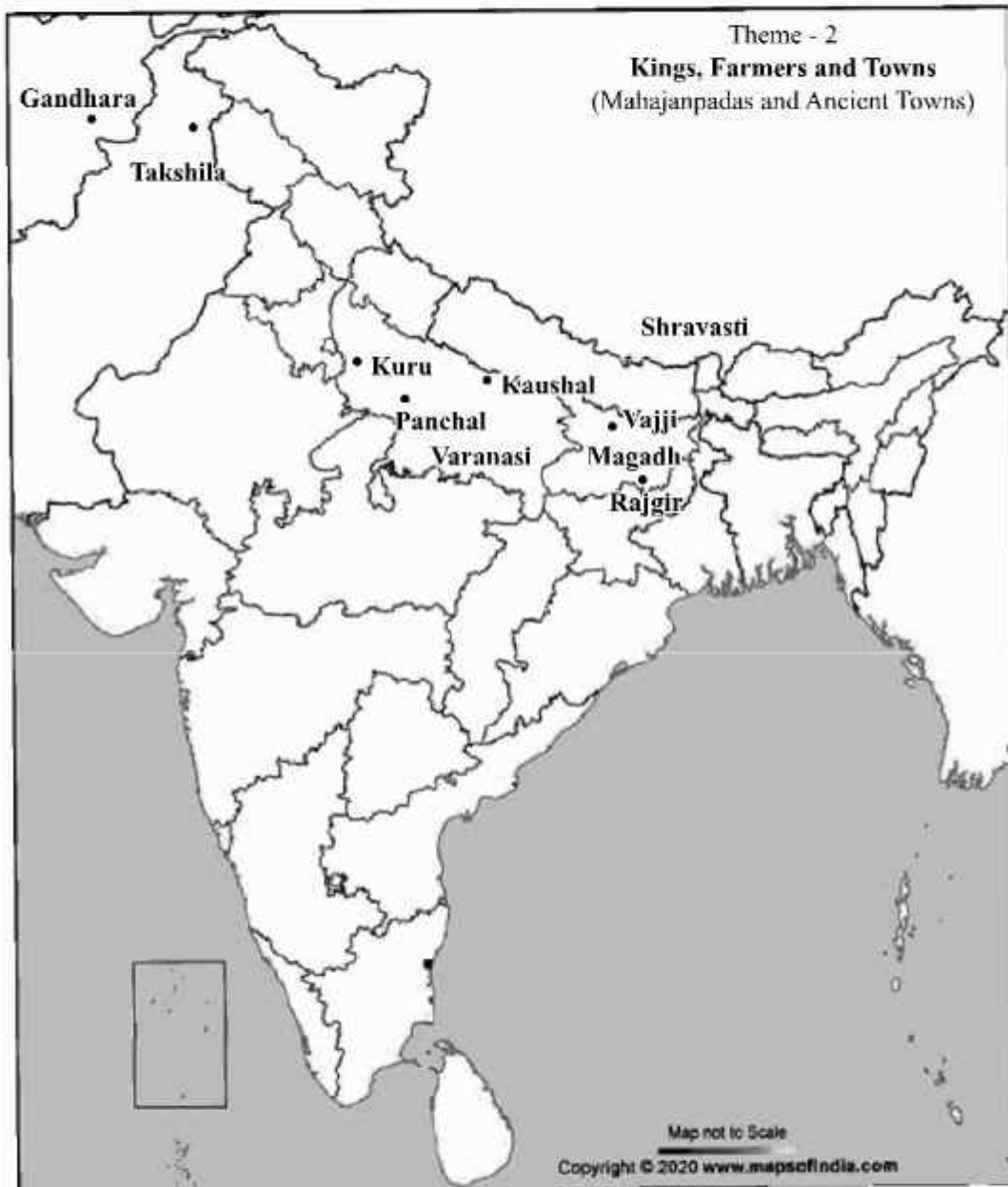
- 1- دیونم پیا داسی کسے کہا گیا ہے؟ 1
- 2- کتبہات کی اہمیت اور حدود کا تذکرہ کیجیے۔ 2
- 3- بادشاہ اشوک پر کلنگ کی جنگ کا کیا اثر پڑا؟ 2

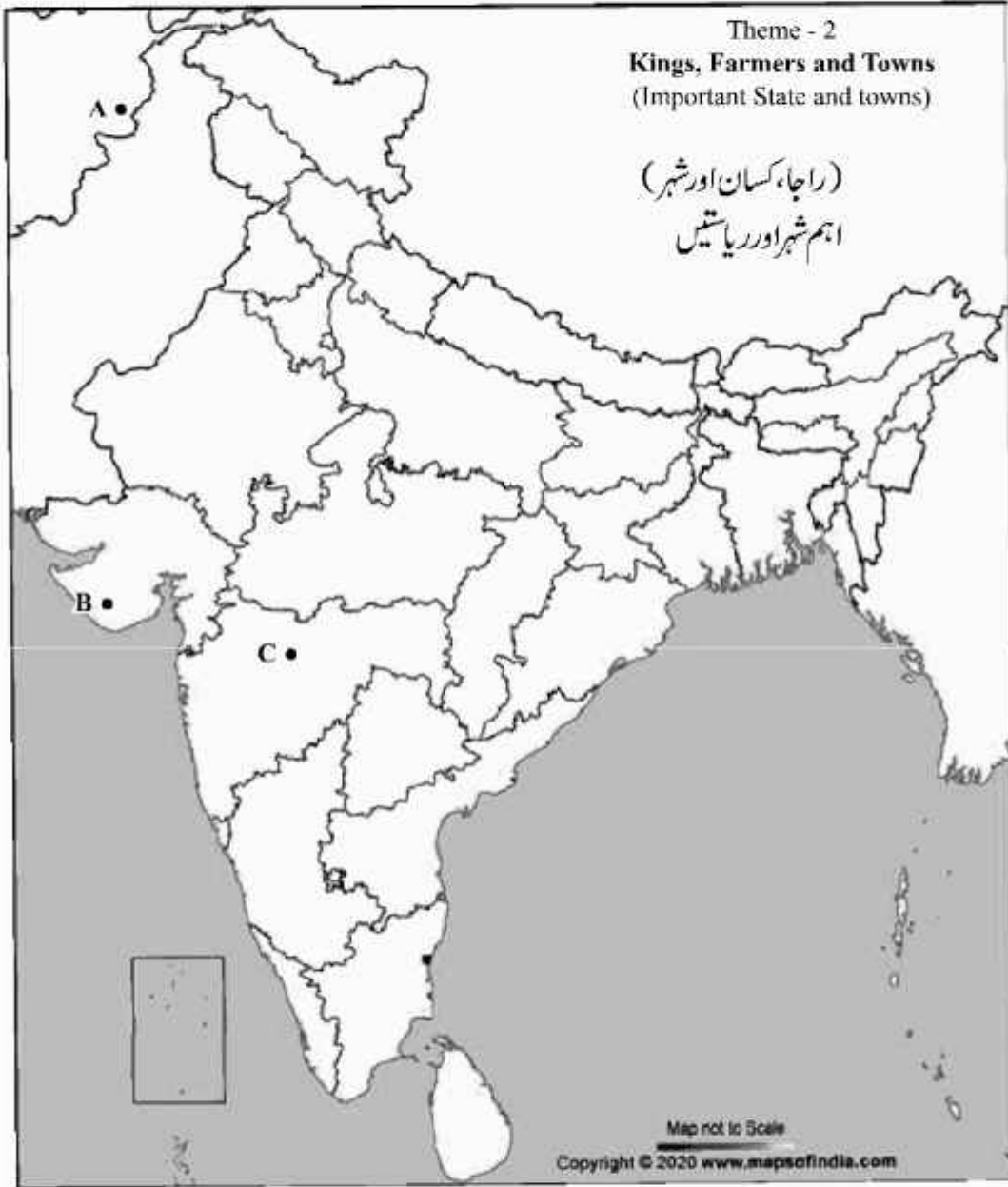




سوال - دیجئے گئے ہندوستان کے نقشے پر گرناگ سہیرا، وارسٹوں پارک واوی ڈھات سے دکھائیے۔
 اسی نقشے پر اشوک کے سکوں کتبوں سے متعلق کے مقامات کو A, B اور C سے کھلایا گیا ہے۔ انہیں پہچان کر صحیح نام لکھئے۔







سوال - ہندوستان کے سیاسی نقشے پر متھرا، کرنول اور پاتلی پتر کو دکھائیے۔
اسی نقشے پر A، B اور C کو ان قدیم ریاستوں کو دکھانے والے خانہ خانوں کو دکھایا گیا ہے۔ ان کی پہچان کر کے لائن پر صحیح نام لکھئے۔

موضوع۔ تین

قرابت، ذات اور طبقات: ابتدائی سماج

(تقریباً 600 قبل مسیح سے 600 عیسوی تک)

یاد رکھنے لائق نکات:

- 1- ہم عصر سماج کو سمجھنے کے لیے مورخین عام طور پر تحریروں یا متنوں کی روایات کا استعمال کرتے ہیں۔
- 2- بدھ مت کے پیروکاروں نے تسلیم کیا کہ معاشرے میں تفرق یا اختلافات موجود تھے مگر وہ انہیں فطری یا بے لوج نہیں مانتے۔ وہ پیداؤں پر مبنی حیثیت یا درجے کے تصور کو بھی مسترد کرتے ہیں۔
- 3- نئے شہروں کے ابھرنے سے سماجی زندگی زیادہ دشوار ہو گئی۔ شہری تناظر میں نظریات کا بھی لین دین ہوتا تھا، ممکن ہے اس وجہ سے اس طرح کے برتاؤ پر سوالیہ نشان لگائے گئے ہوں۔
- 4- مہا بھارت کی اصل کہانی کے تخلیق کار ممکن ہے: بھات سارتھی تھے۔ جنہیں سوت کہا جاتا تھا۔ یہ پچھترہ بہادروں کے ساتھ میدان جنگ میں جاتے تھے۔ جنہوں نے شری گنیش کو یہ گرتھ تحریر کروایا۔
- 5- نئے شہروں کے وجود میں آنے سے سماجی زندگی اور زیادہ پیچیدہ ہو گئی۔ اس چیلنج کا جواب برہمنوں نے سماجی رویے کے ضابطوں کی فہرست تیار کر کے دی جیسے دھرم سوتر، دھرم شاستر (منوسمرتی) وغیرہ۔
- 6- دھرم سوتروں اور دھرم شاستروں میں چاروں ورنوں کے لیے مثالی دشمنوں کے سلسلے میں قواعد و ضوابط بتائے گئے ہیں۔
 - (i) برہمن — مطالعہ، ویدوں کی تعلیم، یگیہ کرنا اور کروانا، ہدیہ دینا اور لینا۔
 - (ii) پچھترہ — یگیہ کرنا، لوگوں کی حفاظت کرنا، انصاف کرنا، وید پڑھنا، یگیہ کروانا، ہدیہ وغیرہ دینا
 - (iii) ویشہ — وید پڑھنا، یگیہ کروانا، عطیات دینا، زراعت، مویشی پالنے اور تجارت کرنا
 - (iv) شودر — تینوں اعلیٰ طبقات کی خدمت کرنا

- 7- برہمنی طریقوں میں لوگوں کی کورتوں میں دہجہ بندی کی گئی۔ ہر ایک کورت کا نام کسی ویدانتی روشن ضمیر شخص پر رکھا گیا تھا۔
- 8- دھرم سوتر یا دھرم شاستروں میں چار درجوں (یا ورنوں) کے لیے مثالی پیشوں کے سلسلے میں قواعد وضوابط بھی رکھے گئے تھے۔
- 9- کورتوں کے دو اہم اصول تھے۔ شادی کے بعد ورنوں کو باپ کی جگہ شوہر کے کورتا مانا جاتا اور ایک ہی کورتے کے مہران آپس میں شادی نہیں کر سکتے تھے۔
- 10- لفظ 'جاتی' اس دور کی سماجی پیچیدگیوں کو ظاہر کرتا ہے۔ برہمنی نظریہ کے مطابق ورن کی طرح جاتی کی بنیاد بھی پیدائش ہی تھی لیکن ان کی تعداد مقرر نہیں تھی۔ دھرم شاستر اور دھرم سوتر شادی کی آٹھ اقسام کو اپنی منظوری دیتے تھے۔ ان میں سے پہلے چار اعلیٰ مانے جاتے تھے اور باقی چار کو نہیں مانا جاتا تھا۔
- 11- برہمنیوں کی مختلف النوع کیفیت کے ہوتے ہوئے ایسی آبادیاں موجود تھیں، اور ہمیشہ ان کا وجود رہا ہے جن کے سماجی عمل برہمنی تصورات سے متاثر نہیں تھے۔
- 12- برہمنوں نے سماج کے کچھ طبقوں کو اچھوت بنا کر (جیسے چندال) سماجی تقسیم میں مزید ٹیکھا پن رہا۔
- 13- منوسمرتی میں چندالوں کے فرائض کا تعین کیا ہے۔
- 14- منوسمرتی کے مطابق پستی جانیدا کو والدین کی وفات کے بعد کبھی بیٹوں میں تقسیم کیا جانا چاہیے لیکن سب سے بڑے بیٹے کو خاص حصہ کا حق حاصل تھا۔
- 15- عورتیں باپ کی جانیدا (ان کے مرنے کے بعد) میں کسی حصہ کا دعویٰ نہیں کر سکتی تھیں لیکن انھیں ان تحائف یا دولت کو رکھنے کا حق تھا جو انھیں شادی کے وقت ملتے تھے جسے استری و جن کہا جاتا تھا۔
- 16- مورخین کسی تحریر یا متن کا مطالعہ یا جائزہ لیتے وقت کئی عناصر ذہن میں رکھتے ہیں۔ جیسے متن کی زبان، اقسام، ہتوقع سامعین، متن کے مصنف وغیرہ۔
- 17- برہمنی قوانین کے مطابق ورن کی طرح 'جاتی' بھی پیدائش کی بنیاد پر تھی لیکن ورن جہاں صرف چار تھے وہاں جاتیوں کی کوئی تعداد مقرر نہیں تھی چنانچہ جہاں کہیں بھی برہمنی نظام کا نئے فرقے سے آمنہ سامنا ہوا تو لڑنا ڈسورن کارا انھیں چار ورنوں والے نظام میں شامل کرنا ممکن نہیں تھا۔ ان کی جاتی کے تحت دہجہ بندی کر دی جاتی تھی۔
- 18- برہمنی وان نظام کی تنقید ابتدائی بودھ مذہب میں شروع ہوئی۔ بودھ مذہب نے سماجی اوچ نیچ کی موجودگی کو مانا لیکن یہ بھید

- نہ تو قدرتی تھا اور نہ ہی مستقل۔ بو دھ نے پیدا ہونے کی بنا کر سماجی اقلیت کو منکھور نہیں کیا۔
- 19- نئے شہروں کے ارتقا سے سماجی زندگی بہت مشکل تھی۔ شہروں میں نظریات کا بھی لین دین ہوتا تھا۔ اسی وجہ سے پرانی طور طریقہ پر سوال اٹھنے لگے۔
- 20- عورتیں خاندانی جائیداد میں مانگ نہیں کر سکتی تھیں۔ لیکن انہیں استری ذہن پر پورا حق ہوتا تھا۔
- 21- مورخین کسی گرنٹھ کا مطالعہ کرتے وقت کئی پہلوؤں کو ذہن میں رکھتے ہیں جیسے متن کی زبان، اقسام، متوقع سامعین متن کے مصنف اور اس میں کیا لکھا گیا ہے۔
- 22- مہابھارت کو ایک متحرک متن ہے کیوں کہ صدیوں سے اس میں کئی مصنف الگ الگ زبانوں میں لکھے گئے ہیں۔ اس متن میں تراشی، بصوری، نرتیہ کا اور ڈراموں کے لئے سامان پیدا کیا۔
- 23- سنسکرت گرنٹھوں میں جمل لفظ کا استعمال خاندان کے لئے اور جاتی کا ہمداری کے لئے کیا جاتا تھا۔
- 24- مادری نسبت لفظ کا استعمال ہم تپ کرتے ہیں جب نسب ماں سے جڑا ہوتا ہے۔
- 25- عارضی زوجیت میں شادی آپسی گروہ میں ہوتے تھے۔ جیسے کوڑ بھل جاتی ایک ہی جن ہوتا تھا۔
- 26- ابتدائی اپشندوں میں سے ایک ہمدارنیک ایہہ میں کئی لوگوں کو ان کی ماؤں کے ناموں سے پکارا گیا ہے۔
- 27- شاستروں کے مطابق صرف چھتریہ ہی راجا ہو سکتے ہیں لیکن کئی اہم شاہی خاندانوں کی ارتقا دوسرے ورنوں سے ہوتی ہے۔
- 28- سنسکرت کے گرنٹھ اور کتبوں میں تاجروں کے لئے ویک لفظ کا استعمال کیا گیا ہے۔
- 29- خانہ بدوش مویشی پالنے والوں کو شک کی نظر سے دیکھا جاتا تھا اور جن لوگوں کی زبان غیر سنسکرت تھی انہیں پلچھ کہہ کر گری ہوئی نظر سے دیکھا جاتا تھا۔
- 30- مورخ مہابھارت کو دو حصوں میں خطبات اور تہنج (نصیحت) میں رکھتے ہیں۔ خطبات میں کہانیاں ہیں اور تہنج یا نصیحتوں میں رہن سہن کے نظریات کو دکھایا گیا ہے۔

مختصر ترین سوالات (ایک نمبر والے)

- سوال نمبر 1- مہابھارت کی اصل کہانی کا تعلق کس سے ہے؟
- سوال نمبر 2- دھرم سوترا اور دھرم شاستر کیا تھے؟
- سوال نمبر 3- منوسمرتی کیا تھی اس کی تدوین کب ہوئی؟
- سوال نمبر 4- پدرتھیت اور ماورنرتھیت الفالاکا فرق واضح کیجیے۔
- سوال نمبر 5- خارجی زوجیت سے کیا مراد ہے؟
- سوال نمبر 6- ورن اور جاتی میں کیا فرق تھا؟
- سوال نمبر 7- ”نیرہنی نظریہ“ کے مطابق کوترے متعلق کوئی دو اصول لکھیے۔
- سوال نمبر 8- دھرم شاستروں کے مطابق ۲ ستری دھمن کسے کہا گیا؟
- سوال نمبر 9- مہابھارت کے حقیقی مصنف تھے.....
- سوال نمبر 10- ماتر نام کی مثال ایشو میں ملتی ہے۔

Object Type Questions

- سوال نمبر 11- ورن نظام میں کل..... ورن تھے۔
- (الف) تین (ب) چار
- (ج) پانچ (د) چھ
- سوال نمبر 12- منوسمرتی میں لکھا گیا تھا
- (الف) 500 قبل مسیح سے 500 عیسوی تک
- (ب) 300 ق م سے 300 عیسوی تک

(ج) 400 ق م سے 400 عیسوی تک

(د) 200 ق م سے 200 عیسوی تک

سوال نمبر 13 - ویک لنڈز کا استعمال..... ہوا تھا

(الف) کاریگروں کے لئے (ب) کسانوں کے لئے

(ج) تاجروں کے لئے (د) سپاہیوں کے لئے

سوال نمبر 14 - صحیح جوڑے بتائیے

کالم II

کالم I

(A) بودھ گرتھ

(i) رامائن

(B) والسیکی

(ii) مہا بھارت

(C) وید ویاسن

(iii) اشٹ دھیائے

(D) دھرم شاستر

(iv) تری پٹک

(E) پانچ

(v) منوسمرتی

D-(v) A-(iv) E-(iii) C-(ii) B-(i) (1)

D-(v) A-(iv) C-(iii) E-(ii) B-(i)

E-(v) D-(iv) C-(iii) E-(ii) B-(i)

E-(v) D-(iv) A-(iii) B-(ii) C-(i)

سوال نمبر 15 - ترتیب دکھائیے

-I 500 سے 200 ق م اہم دھرم سوتر

-II 300 عیسوی بھرت موئی کانفیہ شاستر

III - 500 قبل عیسوی سنسکرت گرامر اشٹ دھیائے

IV - 300 سے 600 عیسوی دوسرے دھرم شاستر

مندرجہ ذیل میں سے صحیح ترتیب ہے

(الف) IV، I، II، III (ب) I، III، IV، II

(ج) IV، III، II، I (د) IV، II، I، III

سوال نمبر 16 - صحیح ترتیب کا انتخاب کیجئے

I - فلکیات اور علم ریاضی پر آریہ بھٹ کا کیا کام گتھا۔

II - مہا بھارت کا ہم عصری تنقیدی ایڈیشن

III - چوک کے گرنٹھ

IV - شری پلک گرنٹھ

مندرجہ ذیل میں صحیح ترتیب چنئے:

(الف) I، III، II، IV (ب) II، I، III، IV

(ج) I، II، III، IV (د) IV، III، II، I

سوال نمبر 17 - میرٹھ کے بھنا پور میں کھدائی کب شروع کی گئی؟

(الف) 1942 سے 1942 (ب) 1951 سے 1952

(ج) 1961 سے 1962 (د) 1971 سے 1972

سوال نمبر 18 - آخیان سے کیا مراد ہے؟

(الف) کہانیوں کا مجموعہ (ب) نظموں کا مجموعہ

(ج) غزلوں کا مجموعہ (د) لوگ گیتوں کا مجموعہ

سوال نمبر 19- بودھ مذہب کے پاکیزہ گرتھ ہیں

(الف) اپنشد (ب) دھرم شاستر

(ج) پوران (د) تری پنگ

سوال نمبر 20- چرک اور سوئرت مہنتا کا تعلق ہے

(الف) سائنس سے (ب) ریاضی سے

(ج) آریہ وید سے (د) پاک شاستر سے

سوال نمبر 21- اس تصویر کو فورسے دیکھئے اور بتائیے کہ اس میں کس واقعہ کو تصویر کے ذریعے دکھایا گیا ہے۔



معروضی سوالات

- 1- مہا بھارت کا ہم عصری تنقیدی ایڈیشن تیار کیا گیا۔
- 1- بی۔ بی۔ لعل کے ذریعے 2- جان مارشل کے ذریعے
- 3- مہارشی وید ویاس کے ذریعے 4- وی۔ ایس۔ سکاٹھنکر کے ذریعے
- 2- چنڈالوں کے فرائض کی فہرست ملتی ہے۔
- 1- منوسرتی میں 2- راماین میں
- 3- مہا بھارت میں 4- رگ وید میں
- 3- مندرجہ ذیل میں کون جوڑا صحیح ہے۔
- 1- پاننی کی اشٹ دھیامی a 500 ق۔ م
- 2- برج سہنا کی تالیف b 100 عیسوی
- 3- بھرت منی کا ڈرامہ شاستر c 300 عیسوی
- 4- منوسرتی کی تالیف d 1919
- 4- 600 ق۔ م سے 600 عیسوی کے درمیان ذات پر مبنی اصولوں کی پابندی کرنے والے کے لیے برہمنوں نے مندرجہ ذیل میں سے کس پالیسی کو اپنایا۔
- الف: یہ بتایا گیا کہ ورن نظام ایک الہی نظام ہے۔
- ب: برہمنوں نے لوگوں کو یہ یقین دلایا کہ ان کی حیثیت / ذات پیدائش کی بنیاد پر ہے۔
- ج: برہمن حکمرانوں کو یہ صلاح دیتے تھے کہ وہ ورن نظام کو اپنی ریاستوں میں نافذ کریں۔
- د: مندرجہ بالا سبھی۔
- 5- کوترے تعلق کی بنیاد پر ذیل میں دیے گئے بیانیوں پر غور کیجیے۔
- الف: ہر ایک کوتر ایک ویدک رشی کے نام پر ہوتا تھا۔

ب: شادی کے بعد شوہر کو اپنی زہدہ (بیوی) کا کوتر اپنانا پڑتا تھا۔

ج: ایک ہی کوتر کے لوگ آپس میں شادی نہیں کر سکتے تھے۔

صحیح آپشن کو منتخب کریں۔

1- 1 اور 2 درست ہیں 2- 1 اور 2 درست ہیں

3- 1 اور 3 درست ہیں 4- 1 اور 3 درست نہیں ہیں

6- ماورنہست کا رواج تھا۔

1- مورہ خاندان میں 2- ستواہن خاندان میں

3- گپت خاندان میں 4- ان میں سے کوئی نہیں

7- ذیل میں دو بیان دیے گئے ہیں۔ جس میں بیان (A) اور دوسرا سبب (R) کے طور پر دکھایا گیا ہے۔ صحیح جواب منتخب کیجئے۔

بیان (A) عورت کی ملکیت (اسٹری ڈھن) اولاد وراثت کے روپ میں حاصل کر سکتی تھیں۔

سبب (R) شادی میں ملے تحائف پر خواتین کی ملکیت مانا جاتا تھا۔

الف: A بیان R دونوں صحیح ہیں بیان R، A کا صحیح خلاصہ کرتا ہے۔

ب: A بیان R دونوں صحیح ہیں پر بیان R، A کا صحیح وضاحت نہیں کرتا ہے۔

ج: A صحیح پر R غلط ہے۔

د: A غلط لیکن R صحیح ہے۔

8- بیان کو درست کر کے از سر نو لکھیے۔

”مہا بھارت کی جنگ میں کو رو فاتح ہوئے“۔

9- مہا بھارت گرنٹھ ایک متحرک گرنٹھ ہے۔ اس تعلق سے ذیل میں دیے گئے کون سا بیان درست نہیں ہے۔

الف: اس مہا بھارت کے ترجمے مختلف زبانوں میں ہوئے ہیں۔

ب: اس مہا بھارت کی اصل قصہ کی مختلف دو بارہ تشریحات کی گئی ہیں۔

ج: مہا بھارت کا مختلف زبانوں میں ترجمہ نہیں کیا گیا۔

10- پیدائش کی بنیاد پر سماجی رتبہ کونسا قابل سمجھا۔

- 1- برہمنوں نے
2- پختریوں نے
3- راجاؤں نے
4- بودھوں نے

اقتباس پر منحصر سوالات

ایک الہی نظام

ایک حکم الہی؟

اپنے دھوکوں کے جواز کے لیے برہمن عام طور پر رگ وید کی مناجات کے ایک اشلوک کو پیش کرتے تھے جسے پرش سوکت کے نام سے جانا جاتا ہے اور اس میں ابتدائی انسانی پرش کی قربانی کو بیان کیا گیا ہے۔ کائنات کے تمام عناصر بشمول یہ چار سماجی درجے، اسی کے جسم سے صادر ہونا مانا گیا ہے۔

1- ایک الہی نظام پر منحصر اس پیرا گراف کو نوٹ سے پڑھئے اور نیچے لکھے سوالوں کا جواب دیجئے۔

A- ورن نظام کا ذکر کس گرتھ میں کیا گیا ہے؟

(الف) رگ وید (ب) سام وید

(ج) اتھرو وید (د) یجر وید

B- ورن نظام میں برہمن کے کام بنائے گئے ہیں۔

(الف) یگ کرنا اور کروانا (ب) جنگ کرنا

(ج) سمجھتی کرنا (د) تینوں طبقوں کی خدمت کرنا

C- آدی پرش کے پیروں سے جس کی پیدائش مانی جاتی ہے وہ ہے۔

(الف) پختریہ (ب) برہمن

(ج) شور (د) ان میں سے کوئی نہیں

D- نیچے دو بیان دیئے گئے ہیں جن میں ایک بیان A اور دوسرا سبب R دیا گیا ہے۔

بیان A - برہمنوں نے لوگوں کو یہ یقین دلانے کی کوشش کی کہ ان کا وقار پیدا کنش پر منحصر ہے۔

سبب R - برہمنوں کا یہ ماننا تھا کہ یہ نظام جس میں انہیں پہلا درجہ حاصل ہے ایک الہی نظام ہے۔

(الف) صرف بیان A ہی صحیح ہے۔

(ب) صرف سبب R ہی صحیح ہے۔

(ج) A اور R دونوں صحیح ہیں لیکن A، R کا صحیح خلاصہ نہیں کرتا۔

(د) A اور R دونوں صحیح ہیں اور A، R کا صحیح خلاصہ بھی کرتا ہے۔

یہ تصویر مہا بھارت کی ایک تصویر ہے اس کو فورسے دیکھئے اور نیچے دیئے گئے سوالات کے جواب دیجئے۔



A- مہا بھارت کا ہم عصری تہذیب سے مجموعہ تیار کیا گیا تھا۔

(الف) 1917 میں (ب) 1918 میں

(ج) 1919 میں (د) 1920 میں

B- مہا بھارت کے حقیقی کہانی کے مصنف ہیں۔

(ا) VS سکھڑا کنر (ب) بھلیا سارخی

(ج) گنیش (د) وید ویاس

C- مہابھارت کے بارے میں نیچے دیئے بیان کو غور سے پڑھئے اور اس کا صحیح جواب دیجئے۔

I- اس گرنٹھ کی تصنیف 1000 سال تک ہوتی رہی

II- یہ دو خاندانوں کے بچ کی جنگ کو دکھاتا ہے۔

III- اس گرنٹھ کے کبھی اہم کردار سماجی روایت کا بخوبی ہمیشہ نبھالیتی ہیں

(الف) صرف I ہی صحیح ہے

(ب) صرف I، II ہی صحیح ہے

(ج) صرف II اور III صحیح ہے

(د) صرف III اور I صحیح ہے

D- نیچے دو بیان دیئے گئے ہیں جن میں ایک بیان A اور دوسرا سبب R ہے۔

بیان A: مہابھارت کے ہم عصر تنقید کے مجموعہ کے بعد یہ پایا گیا کہ اس دور میں کئی علاقائی تہذیبیاں سامنے آئیں۔

سبب R: یہ تہذیبیاں ان گہری قصے کہانیوں کے شواہد ہیں جنہوں نے ایک طاقتور روایتوں اور مقامی نظریات اور کردار کے بچ گنگو قائم کر کے سماجی تاریخ کو ایک شکل دی۔ یہ گنگو دوہند اور تک کو ہی دکھایا ہے۔

(الف) صرف بیان A ہی صحیح ہے

(ب) صرف سبب R ہی صحیح ہے

(ج) بیان A اور R دونوں صحیح ہیں اور سبب R بیان A کا صحیح خلاصہ کرتا ہے۔

(د) نہ تو بیان A صحیح ہے اور نہ ہی سبب R صحیح ہے۔

مختصر جواب والے سوالات (3 نمبر والے)

سوال نمبر 1- 600 ق م سے 600 عیسوی کے دوران سماجی زندگی کس طرح اور زیادہ پیچیدہ ہو گئی؟ اس چیلنج کو برہمنوں نے کس طرح سنبھالا؟ وضاحت کیجئے۔

- سوال نمبر 2- ”مہا بھارت کو تنقیدی ایڈیشن کی ترتیب و تدوین کے منصوبے کی شروعات مانا گیا“ اس بیان کی وضاحت کیجیے
- سوال نمبر 3- برہمنی رواج کے تحت عورتوں کا کوترس طرح مقرر ہوتا تھا؟
- سوال نمبر 4- ابتدائی سماج میں نئے شہروں کے عروج نے سماجی زندگی کو کس طرح مشکل بنا دیا؟
- سوال نمبر 5- سماجی تاریخ کی ترتیب و تدوین میں مثالی سنسکرت متون (گرتھوں) کے کردار کی وضاحت کیجیے۔
- سوال نمبر 6- مند سورکتبے سے سماجی طرز عمل کی پیچیدگیوں کی جھلک کس طرح ملتی ہے؟
- سوال نمبر 7- منوسمرتی میں مذکور چند الوں کے فرائض کا تذکرہ کیجیے۔
- سوال نمبر 8- مہا بھارت کے عہد کا معاشرہ Male domination تھا سمجھائیے۔
- سوال نمبر 9- مہا بھارت کے بارے میں مشہور مورخ مورس دھرنکس کی کیا رائے تھی؟ خلاصہ کیجیے۔
- سوال نمبر 10- مہا بھارت کے اصل اور روایتی مصنف کون تھے؟ تبصرہ کیجیے۔
- سوال نمبر 11- مہا بھارت کے عہد کے معاشرے میں شادی سے متعلق کوئی تین قوانین بتائیے۔
- سوال نمبر 12- مہا بھارت کے عہد کے ذاتی نظام کی تین خصوصیات بیان کیجیے۔
- سوال نمبر 13- کیا مہا بھارت کے وقت عورت اور مرد جائیداد میں ہر ایک حقوق رکھتے ہیں؟ واضح کیجیے
- سوال نمبر 14- آپ یہ کیسے کہہ سکتے ہیں کہ مہا بھارت ایک متحرک گرتھ ہے اور اپنے جواب کی حمایت میں کوئی تین جواہرات لکھئے۔
- سوال نمبر 15- مہا بھارت کے دور کی ورن نظام کی کوئی تین خصوصیات لکھئے۔

طویل جواب والے سوالات (آٹھ نمبر والے)

- سوال نمبر 1- مہا بھارت کے عہد میں عورتوں اور مردوں کے ضمن میں جائیداد کے حق (ملکیت تک پہنچ) سے کیا مراد تھی؟
- سوال نمبر 2- کیا مہا بھارت کسی ایک مصنف کی تصنیف ہو سکتی ہے؟ بحث کیجیے۔
- سوال نمبر 3- اس شہادت پر بحث کیجیے جس سے معلوم ہوتا ہے کہ قرابت داری اور شادی کے سلسلے میں برہمنوں کے بتائے طریقے ہمہ گیر سطح پر نہیں اپنائے جاتے تھے؟ مہا بھارت کو ایک متحرک گرتھ کیوں کہا جاتا ہے؟

سوال نمبر 4- مہا بھارت کے عہد میں ہندوستانی سماجی زندگی کی اہم خصوصیات پر نوٹ لکھیے۔

سوال نمبر 5- ہندوستان کے مشہور گرتھ مہا بھارت کی حقیقی خصوصیات پر روشنی ڈالیے۔

اقتباس پر مبنی سوالات

1- مندرجہ ذیل اقتباس کا بغور مطالعہ کیجیے اور دیے گئے سوالات کے جواب دیجیے۔

مرد اور عورتیں دولت کس طرح حاصل کر سکتے تھے؟

منوسمرتی میں بتایا گیا ہے کہ مردوں کے لیے دولت حاصل کرنے کے سات ذریعے ہیں: وراثت، خزانہ پالینا، خریدنا، فتح ہر مایہ کاری، کام اور اچھے لوگوں سے تحفے حاصل کرنا۔

عورتوں کے لیے دولت حاصل کرنے کے چھ ذریعے ہیں۔ جو کچھ آگ کے سامنے دیا گیا ہو: (شادی) یا بارات کے جلو میں ہیں، یا شفقت و محبت کی علامت کے طور پر دیا گیا ہو، اور جو کچھ اسے اپنے بھائی، ماں باپ سے ملے۔ وہ شادی کے بعد نچلے دیئے گئے کسی تحفے سے دولت حاصل کر سکتی ہے یا جو اس کا محبت کرنے والا شوہر اسے دے دے۔

سوالات

- 1- منوسمرتی کے مطابق، مرد کس طرح دولت حاصل کر سکتے تھے؟ تبصرہ کیجیے۔
- 2- عورتوں کے ذریعہ کس طرح دولت حاصل کی جا سکتی تھی؟ واضح کیجیے۔
- 3- کیا آپ دولت حاصل کرنے کے طریقوں میں تقسیم سے متفق ہیں یا نہیں؟ کوئی دو ہجرتائیے

ایک ماں کا مشورہ

مہا بھارت میں بیان کیا گیا ہے کہ جب کوروؤں اور پانڈوؤں میں جنگ ناگزیر ہو گئی تو گندھاری نے اپنے سب سے بڑے لڑکے در یودھن سے یہ اپیل کی:

مجھے اس پر قرار رکھ کر تم اپنے باپ اور مجھے عزت دو گے اور ساتھ ہی اپنے خیر خواہوں کو بھی..... وہ شخص جو اپنے حواس پر قابو رکھ کر اپنی سلطنت کی حفاظت کرتا ہے وہ دانشمند ہے۔ لالچ اور غصہ انسان کو اپنے مفاد سے دور کھینچ لیتے ہیں: ان دو دشمنوں کو شکست دے کر کوئی بادشاہ زمین کو فتح کر لیتا ہے..... تم خوشبو کے ساتھ زمین سے فائدہ اٹھاؤ گے، میرے بیٹے، سمجھدار اور دلیر پانڈوؤں کے ساتھ..... جنگ میں کوئی بھلائی نہیں ہے۔ کوئی قانون (دھرم) یا فائدہ (ارجھ) نہیں، خوشی تو کیا چیز ہے: اور پھر آخر میں فتح ہی (لازمی) نتیجہ نہیں۔ اپنے دماغ کو جنگ پر نہ جماؤ.....

در یودھن نے اپنی ماں کی بات نہیں مانی بڑا اور جنگ ہارا۔

سوالات

- 1- گندھاری نے در یودھن سے کیا اپیل کی؟ مختصر آتائیے۔
- 2- کیا آپ گندھاری کے ذریعے در یودھن کو دیئے گئے مشورے سے متفق ہیں؟ اپنے جواب کی حمایت میں دو دلائل دیجیے۔
- 3- در یودھن نے اپنی ماں کے مشورے کو کیوں نہیں مانا؟ اس سے آپ کو مہا بھارت کے دور میں عورتوں کی حالت کے بارے میں کیا پتہ چلتا ہے؟

موضوع۔ چار

مفکر، عقائد اور عمارتیں

(تقریباً 600 سے 600 عیسوی تک)

یاد رکھنے لائق نکات

- 1- عظیم مفکرین یا فلسفیوں کے تصورات زبانی اور تحریری روایتوں کی شکل میں اکٹھے ہوئے اور فن تعمیر و برت تراشی کے ذریعہ ظاہر ہوئے۔
- 2- ساچی کا استوپ بدھ مت کے خیالات اور عقائد کو جاننے کا اہم ذریعہ ہے۔
- 3- انیسویں صدی میں انگریزوں اور فرانسیسیوں نے ساچی کے استوپ میں خاص دلچسپی دکھائی۔
- 4- ابتدا میں استوپ ایک ٹیلے کی شکل میں ہوتے تھے۔ یہ مقدس بودھ مقام ہے۔ یہاں جھن کے درمیان ایک چبوترے پر بدھ سے متعلق باقیات کو کلسش میں ڈال کر دفن کر دیا جاتا ہے۔
- 5- ساچی کے استوپ کے تحفظ میں بھوپال کی بیگمات شاہجہاں بیگم اور سلطان جہاں بیگم کا بہت اہم تعاون رہا ہے۔
- 6- شاہجہاں بیگم نے یورپین کو صرف استوپ کے مخصوص دروازے کے پاسٹرکامونڈی لے جانے دیا۔ سلطان جہاں نے رکھ رکھاؤ کے لیے رقم دی۔ عجائب گھر اور مسافر خانہ بنوایا۔
- 7- قبل مسیح دور کے پہلے ہزارے میں زندگی کے رازوں کو سمجھنے کے لئے زرتشت، کونگ زی، سقراط، افلاطون، ارسطو، مہابویر، بدھ وغیرہ مفکرین ابھر کر سامنے آئے۔
- 8- ابتدائی ویدک روایتوں میں رگ وید میں آگ اندروغیرہ کئی دیوتاؤں کی تعریفیں مناجاتیں موجود ہیں اور یکید (قربانی) کی خاص اہمیت ہے۔
- 9- بدھ اور مہابویر جیسے مفکروں نے ویدوں پر سوال اٹھائے اور زندگی کا مطلب اور دوسرا جنم جیسی باتوں کے بارے میں جاننے کی کوشش کی۔

- 10- بدھ کی تعلیمات کا مجموعہ ’تری پک‘ میں موجود ہے۔
- 11- جین مت کے بانی مہاویر جین نے خیال پیش کیا کہ پوری دنیا جا نما رہے۔ انھوں نے انسا (عدم تشدد) کے اصول کو اپنایا اور آخری مقصد نجات پانا بتایا۔
- 12- جین مت کے پانچ اصول اہم ہیں۔ سچائی، انسا، چوری نہ کرنا، جھوٹ نہ بولنا اور برہم چر یہ زندگی۔
- 13- جین علمائے پراکرت، منسکرت، تحمل، زبانوں میں ادب کا بڑا خزانہ پیدا کر دیا۔
- 14- بدھ کی تعلیمات سینکڑوں سالوں کے دوران پورے برصغیر میں اور اس کے بعد وسطی ایشیا ہوتے ہوئے چین، کوریا، جاپان اور سری لنکا سے ہوتے ہوئے سنڈر پارمیانا، تھائی لینڈ اور انڈونیشیا تک پھیلیں۔
- 15- بدھ کے شاگردوں کی جماعت نے سنگھ کا قیام کیا۔ بدھ کے پیروکار کئی سماجی طبقات سے لیکن سنگھ میں شامل ہونے پر سب برابری۔
- 16- بدھ کی منہ بولی ماں مہا پر جاپتی کوئی سنگھ میں شامل ہونے والی پہلی راہبہ تھی۔ ایسی خواتین جو سنگھ میں شامل ہوئیں وہ دھمہ کی مبلغ بنیں۔
- 17- بدھ سنگھ میں شامل ہونے پر سبھی کو برابری مانا جاتا تھا کیونکہ بھکشو اور بھکشوئی بننے پر انھیں اپنی پرانی پہچان کو ختم کرنا پڑتا تھا۔
- 18- بدھ مذہب میں نروان کے معنی ہیں ’میں اوت خواہشات کا خاتمہ ہونا۔‘
- 19- ابتدائی مجسمہ سازوں نے بدھ کو انسان کی شکل میں نہ دکھا کر ان کی موجودگی علامتوں کے ذریعے ظاہر کرنے کی کوشش کی۔
- 20- شمال بھجیکا کی مورتی میں اس بات کو واضح کرتی ہے کہ جو لوگ بدھ مذہب کو اختیار کریں وہ بدھ سے پہلے اور بدھ سے بعد کے عقائد اور رسومات سے بدھ مذہب کو منسوب کریں۔
- 21- ویشنو مذہب، ہندو مذہب کا وہ رواج تھا جس میں ویشنو کو سب سے اہم دیوتا مانا جاتا تھا۔ ویشنو واد میں ویشنو کے کئی اوتاروں کے آس پاس عبادت کے کئی طریقے اپنائے گئے۔ اس رواج کے مطابق ویشنو کے تقریباً دس اوتار تھے۔
- 22- شیو رواج میں شیو کو سب سے اعلیٰ دیوتا مانا گیا۔
- 23- خواتین اور شو درویدک تہذیب پر جھنے سننے سے محروم تھے جبکہ وہ پورانوں کو سن سکتے تھے۔
- 24- رگ وید، آگنی، اندر سوم ایسے کئی دیوتاؤں کی استوتی کا مجموعہ ہے۔ گیگ کے وقت ان شلوکوں کو پڑھا جاتا تھا اور لوگ مولیٹی، بیٹے اور صحت کے ساتھ اپنی عمر کی دعا کرتے تھے۔
- 25- ہم عصری بودھ کتابوں میں ہمیں 64 مسلکوں کا ذکر ملتا ہے۔ اس میں ہمیں وہاں کے رہن سہن اور تاضیح کی ایک جھلک ملتی ہے۔

- 26- ست پنک مہاتما بدھ کی تعلیمات کا مجموعہ ہے۔
- 27- ابھی دھم پنک درشن شناستر (فلاسنی) سے جڑے مضمون کا مجموعہ ہے۔
- 28- ست چتر کسی ست یا مذہبی رہنما کی سوانح عمری ہے۔ اس میں ست کی کارکردگیوں کی تعریف کی جاتی ہے۔
- 29- بودھ مذہب میں عبادت کی نئی روایت کو مہایان کہا جاتا ہے۔ یہ لوگ دوسرے بودھ عقائد کے لوگوں کو ہیجان کہتے تھے۔ لیکن قدیمی روایات کے ماننے والے اپنے آپ کو تھیروا دی کہتے تھے۔
- 30- ونے پنک میں مہاتما بدھ کی کہانیوں کا ذکر ہے۔

مختصر ترین سوالات نمبر 1

- 1- استوپ کی ایک خوبی بیان کیجئے۔
- 2- قدیم ہندوستان میں کن دو مذاہب کا عروج ہوا؟
- 3- چھٹی صدی قبل مسیح میں ہندوستان میں جین اور بودھ مذہب کے عروج کے دوا سباب بتائیے۔
- 4- تری پنک کیا ہے؟ ان کی تعداد کتنی ہے؟
- 5- قسمت پسند اور معدرت پسند لوگوں کی خصوصیات بیان کیجئے۔
- 6- چلیہ سے آپ کی کیا مراد ہے؟
- 7- وہا رکسے کہتے ہیں؟
- 8- استوپ سے کیا مراد ہے؟
- 9- جیمس فارکون کس طرح سانچے کو سمجھنے میں بھول کر گئے؟
- 10- مدھیہ پریش میں بھوپال کے نزدیک مشہور..... کا استوپ ہے۔

Objective Type Questions

- 11- عیسوی سن کی پہلی صدی کے بعد بودھ مذہب تقسیم ہو گیا۔
(الف) الوار اور ٹھار میں (ب) ٹین پات اور بھریان میں

(ج) مہایان اور بحریان میں (د) مین یان اور مہایان میں
 12- تری پنک کے لفظی معنی ہیں

(الف) چار ٹوکریاں (ب) تین پٹے
 (ج) تین ٹوکریاں (د) تین پھول

13- بدھ چہ تر کے مصنف تھے

(الف) کوتم بدھ (ب) اشوکوش
 (ج) مہاویر (د) یاسونا تھ

14- بدھ کی تعلیم شامل ہیں

(الف) سوت پنک میں (ب) ورنے پنک میں
 (ج) ابھی دھم پنک میں (د) ان میں سے کوئی نہیں

15- کلکتہ میں انڈین موزیم کب قائم ہوا؟

(الف) 1614 میں (ب) 1950 میں
 (ج) 1850 میں (د) 1989 میں

17- مناسب ترتیب کا انتخاب کریں

I- نیشنل میوزیم نئی دہلی کی بنیاد رکھی گئی
 II- انڈین موزیم کلکتہ قائم کیا گیا
 III- لٹاکھم نے بھلیہ ناپ کتاب لکھی
 IV- گورنمنٹ میوزیم مدراس کو قائم کیا گیا

مندرجہ بالا میں مناسب ترتیب منتخب کیجئے

(الف) I, III, IV, II (ب) I, II, IV, III
 (ج) III, I, IV, II (د) IV, III, II, I

18- مناسب ترتیب منتخب کریں

- I- سب سے قدیم مندر
II- بودھ اور جین مذہب کی آمد
III- ابتدائی وید کی روایات
IV- ابتدائی استوپ
- مناسب ترتیب ہے

- (الف) IV, I, II, III
(ب) I, IV, II, III
(ج) II, IV, I, III
(د) IV, III, I, II

19- صحیح جوڑے بنائیں۔

- I- کالم
II- کالم
- I- ویدک دیوتا
II- پانچون روایات
III- استوپ
IV- جین مذہب
- 1- 64
2- ہرمیکا
3- تیرتھا انگر
4- اگنی سوم

صحیح جوڑا ہے:

- (الف) I-4 II-1 III-2 IV-3
(ب) I-2 II-2 III-4 IV-1
(ج) I-2 II-1 III-3 IV-4
(د) I-1 II-2 III-3 IV-4

جوڑے بنائیے۔

- I- جین مذہب
II- بودھ مذہب
III- اول تیرتھا انگر
IV- تری پٹک
- 1- مہاتما بدھ
2- بودھ مذہب
3- رشیمناتھا
4- مہا ویر

صحیح ترتیب ہے:

4-IV	3-III	2-II	1-I (الف)
4-IV	1-III	2-II	3-I (ب)
4-IV	2-III	3-II	1-I (ج)
2-IV	3-III	1-II	1-I (د)

21۔ دی گئی تصویر کو غور سے دیکھئے۔ یہ تصویر کس بات کی علامت ہے۔ اس کی نشان دہی کیجئے۔



معروضی سوالات

- 1۔ رگ وید کی تالیف (تحریری کرنا/ لکھنا) کب ہوئی؟
 - 1۔ 1500 ق۔ م سے 1000 ق۔ م
 - 2۔ 1000 ق۔ م سے 500 ق۔ م
 - 3۔ 500 ق۔ م سے 100 ق۔ م
 - 4۔ 200 ق۔ م سے 200 عیسوی
- 2۔ مندرجہ ذیل میں سے کن ہجرت/ وجوہات کی بناء پر 600 ق۔ م سے 600 عیسوی تک کے زمانے کو عالمی تاریخ میں ایک اہم موزمانا جاتا ہے۔

(الف) اس دور میں ایران میں زرتشت، چین میں کنفوسی، یونان میں سقراط، پلینو، ارسطو اور بھارت میں مہاویرا اور بودھ جیسے مفکر پیدا ہوئے۔

(ب) ان مفکروں نے زندگی کے راز کو سمجھنے کی کوشش کی۔

(ج) انہوں نے سماجی و اقتصادی تبدیلیوں کو سمجھنے کی کوشش کی۔

1- صرف الف ہی صحیح ہے 2- صرف ب ہی صحیح ہے۔

3- الف اور ج صحیح ہے 4- الف، ب، ج تینوں صحیح ہیں۔

3- ”اس ملک کے قدیم شہ پاروں کی لوٹ ہونے دنیا مجھے خود کشی اور بزدلانہ حکمت عملی لگتی ہے“ یہ بیان کس کا ہے۔

1- بی۔ بی۔ بیل 2- ایچ۔ ایچ۔ کول

3- فریڈرکس 4- جان مارشل

4- نے ساچی کے درخت اور سرپ کو عبادت کا مرکز مانا۔

1- جیمس پرنسپ 2- ایچ۔ ایچ۔ کو

3- جیمس فرکوسن 4- ان میں سے کوئی نہیں۔

5- ذیل جوڑوں میں سے غلط جوڑے کو پہچانیے۔

کالم I کالم II

الف شمال بھانجا 1- ایک متبرک علامت

ب ویسائٹر 2- نصیحت کا علامت

ج ہاتھی 3- قوت و علم کا علامت

د حج کشمی 4- خوش قسمتی لانیوالی دیوی

6- دیشنوواد میں عبادت کے لیے کتنے اتاروں کا تصور کیا جاتا ہے۔

1- گیارہ 2- دس 3- پانچ 4- بارہ

7- ”ہے بھگوان یہ میں نے کیسے بنایا ہے“۔ یہ بیان کس مندر کے پس منظر میں کہا گیا ہے۔

1- دیوگرھی مندر 2- برابرا کا غار مندر

2- کیلاش ناتھ مندر 4- مہابلی پور مندر

8- ذیل میں دیئے گئے صحیح بیان کی پہچان کیجیے۔

الف۔ خلاصی (آزدی) کا تصور/خیال صرف بدھ دھرم تک ہی محدود تھا۔

ب۔ ابتداء میں مندر بہت بڑے بڑے ہوتے تھے۔

ج۔ ویشنو وا دیں 12 اوتاروں کا تصور کیا گیا ہے۔

د۔ پرانوں کی زیادہ تر کہانیاں لوگوں کے آپسی میل ملاپ سے وجود میں آئیں۔

9- بیان کو درست کر کے لکھیے۔

”1854ء میں ایک مقامی راجہ کو، جو مندر بنوانا چاہتا تھا، اچانک امر اوتی استوپ کے باقیات مل گئے۔“

اقتباس پر منحصر سوالات

اس اقتباس کو غور سے پڑھئے اور نیچے دیئے سوالات کے جواب دیجئے۔

بھکشوؤں اور بھکشویوں کے لیے مناسب ضابطے (اصول)

ویا نہ پنک میں تحریر کردہ قواعد و ضوابط میں سے کچھ یہ ہیں

جب کوئی بھکشو، کوئی نیا کمبل یا درمی تیار کرے گا تو وہ کم سے کم چھ سال تک رکھا جانا چاہیے۔ اگر چھ سال کے خاتمے سے پہلے ہی وہ کوئی نیا عمدہ، کمبل، درمی بنائے تو یہ خیال کیے بغیر کہ اس نے پہلے ہی وہ کوئی ٹھکانے لگایا ہے یا نہیں تو سوائے اس صورت کے کہ بھکشوؤں نے اسے اس کی اجازت دے دی ہے۔ اسے ضبط کر کے قبول کر لیا جائے۔ ایسی صورت میں کہ کوئی بھکشوؤں کسی خاندان کے رہائشی گھر پہنچے اور اسے دو روٹیاں یا کچے ہوئے اناج کا کھانا پیش کیا جائے تو اگر وہ چاہے تو دو تین پیالے لے سکتا ہے۔ اگر وہ اس سے زیادہ قبول کرتا ہے تو یہ اس سے قبول

کر لیا جانا چاہیے۔ وہاں دو تین بیالے قبول کر کے انہیں وہاں سے لاکر اسے اس میں دوسرے بھکشوؤں کو شریک کرنا چاہیے۔ یہاں کا صحیح طریقہ یہی ہے۔

اگر کوئی بھکشو کبھی ایسی رہائش گاہ میں جو سنگھ سے متعلق ہو وہاں بستر بچھائے۔ یا بچھانے کے بعد۔ رواگی کے وقت اسے واپس نہیں رکھ سکتا یا نہیں رکھواتا، یا وہ بغیر اجازت چلا جاتا ہے تو اسے قبول کیا جائے۔

-A مہا تمباہہ کی تعلیمات کا مجموعہ ہے

(الف) رامائن میں (ب) تری پک میں

(ج) گیتا میں (د) مہا سمرتی میں

-B بودھ بھکشو اور بھکشونیوں سے متعلق قانون ملتے ہیں

(الف) ونے پک میں (ب) سوت پک میں

(ج) ابھی دھم پک میں (د) ان میں سے کوئی نہیں

-C درج ذیل میں دو بیان دیئے گئے ہیں جن میں سے بیان A اور دوسرے کو سبب R سے دکھایا گیا ہے اس کو فوراً سے پڑھ کر جواب دیجئے

بیان A۔ اگر کوئی بھکشو ضرورت سے زیادہ غذا بھیک میں حاصل کرتا ہے تو اسے اپنا حرم قبول کرنا ہوگا اور اسے دوسرے بھکشو میں تقسیم کرنا ہوگا

سبب R۔ بودھ بھکشو سے یہ امید کی جاتی تھی کہ وہ سمیک آچرن کبی کریں گے۔

(الف) صرف بیان A صحیح ہے۔ (ب) صرف سبب R صحیح ہے۔

(ج) بیان A اور سبب R دونوں صحیح ہیں لیکن سبب R بیان A کا خلاصہ نہیں کرتا

(د) بیان A اور سبب R دونوں صحیح ہیں لیکن سبب R بیان A کا خلاصہ کرتا ہے۔

-D بودھ مذہب میں چھتھن کی نئی روایات کو کیا کہا گیا ہے

(الف) مہایان (ب) ٹین یان

(ج) ویریان (د) ان میں سے کوئی نہیں

22- متحر اسے حاصل بودھ کی مورتنی کونو سے دیکھنے اور درج ذیل سوالوں کے جواب دیجئے۔



A- بودھ مذہب میں زندگی کا بلند نصب العین تسلیم کیا گیا ہے۔

(الف) بودھ جنما (ب) سچائی کی راہ پر چلنا

(ج) بعثت بعد الموت پر یقین رکھنا (د) نجات حاصل کرنا

B- بودھ تعلیمات کے مطابق ایک شخص نجات حاصل کر سکتا ہے۔

(الف) علم حاصل کر کے

(ب) بودھی سنت بن کر

(ج) عدم تشدد کے راستے پر چل کر

(د) ذاتی کوششوں کے ذریعے

C- بودھ مذہب کی قدیمی روایات کو ماننے کہلاتے ہیں

(الف) چٹیان (ب) مہایان

(ج) بوڈھی سنت (د) نجات نروان

D- نیچے دو بیان دیئے گئے ہیں جس میں ایک بیان A کے طور اور دوسرے کو سبب R کے طور پر دکھایا گیا ہے۔

بیان A- بودھ نے ذاتی کوششوں سے پر وچمن اور نجات نروان حاصل کیا۔

سبب R- بودھ سنت اپنے نیکوں کا استعمال دوسرے کی مدد کرنے کے لئے کرتے تھے۔

(الف) بیان A صحیح ہے

(ب) صرف R سبب صحیح ہے

(ج) بیان A اور سبب R دونوں صحیح ہے لیکن سبب R بیان A کا خلاصہ نہیں کرتا

(د) بیان A اور سبب R دونوں صحیح ہے لیکن سبب R بیان A کا خلاصہ ہے

مختصر جواب والے سوالات

سوال 1- بھوپال کی بیگمات نے ساچی کے استوپ کے تحفظ میں کیا کردار ادا کیا؟

سوال 2- بودھ مذہب کے تیزی سے پھیلنے کی کوئی پانچ وجوہات لکھئے۔

سوال 3- چین مذہب کے بانی کون تھے؟ چین مذہب کی اہم تعلیمات کو مختصر بیان کیجئے۔

سوال 4- بودھ کے ذریعے دیئے معتدل راستے کے اہم اصول کیا تھے؟ کوئی پانچ لکھئے۔

سوال 5- جین یان اور مہایان کے درمیان فرق واضح کیجئے۔

سوال 6- بودھ عہد کی محمد سازی کی اہم خصوصیات کیا تھی؟ کسی پانچ کا ذکر کیجئے

سوال 7- استوپ کی تعلیم کس طرح کی جاتی تھی؟

سوال 8- چھٹی صدی مسیح کو ہندوستانی تاریخ میں کیوں اہمیت دی جاتی ہے؟

سوال 9- بدھ سنگھ میں بھگتو اور بھگتوں کے لئے کن اصولوں کو ماننا ضروری تھا؟

سوال 10- چین مذہب کے کوئی تین خصوصیات بیان کیجئے۔

سوال 11- آپ کیسے کہہ سکتے ہیں کہ ساچی مورتی کلا کی چابھی بودھا دب میں ملتی ہے؟ کوئی تین وجہ بیان کیجئے۔

سوال 12- ویشٹن نظریات کی تین خصوصیات لکھئے۔

سوال 13- استوپ کیوں بنائے جاتے تھے؟ اور کس مذہب کے تعلق تھے کوئی وجہ بتائیے۔

سوال 14- 600 ق م سے 600 عیسوی تک کے ہندوستانی فلسفے کی کوئی تین اہم خصوصیات بیان کیجئے۔

سوال 15- بودھ گرتھ کس طرح تیار اور محفوظ کئے جاتے تھے؟

ظویل جواب والے سوالات (آٹھ نمبر والے)

سوال 1- جین مذہب کے ارتقا، تعلیمات اور اشاعت کے بارے میں معلومات فراہم کیجئے۔

سوال 2- قدیم ہندو مذہب کا ارتقا کس طرح ہوا اس کی اہم خصوصیات بیان کیجئے۔

سوال 3- بودھ مذہب کا ہندوستانی سماج اور تہذیب میں کیا تعاون ہے؟ وضاحت کیجئے۔

سوال 4- بودھ مذہب کی تنظیم اور قوانین پر مختصر تشریح کیجئے۔

سوال 5- استوپ کیوں بنائے جاتے تھے؟

1- مندرجہ ذیل اقتباس کا بغور مطالعہ کیجئے اور متعلقہ سوالات کے جواب دیجئے۔

استوپ کیوں بنائے گئے

یہ سٹ پٹل کے ایک حصہ مہاپاری بنان سٹ ایک اقتباس ہے۔

جب بدھ اپنے آخری وقت میں بستر مرگ پر تھے تو آئندہ پوچھا:

مالک ہمیں نانا تھا گاٹ (بدھ کا دوسرا نام) کے باقی (جسم) کا کیا کرنا ہے؟

بدھ نے جواب دیا— ”نانا تھا گاٹ کے باقیات کی عزت و احترام سے گوہ کو باز نہ رکھن، آئندہ اپنی بھلائی کے لیے جوش و خروش کے ساتھ مستعد رہنا“

پھر جب بدھ پر اس کی مزید وضاحت کے لیے زور ڈالا گیا تو انہوں نے کہا ”نانا تھا گاٹ کے لیے چار چوراہوں پر انہیں ایک ایک چھو پنا“

(استوپ کے لیے پالی زبان کا لفظ) بنانا چاہیے۔ اور اس پر جو کوئی بھی ہاریا خوشبو چڑھائے گا..... اور وہاں سلام کرے گا اور وہاں

جا کر دل کا سکون حاصل کرے گا، وہ ان کے لیے عرصہ تک فائدے اور خوشی کا باعث ہوگا۔“

سوالات

- 1- مندرجہ بالا اقتباس کہاں سے لیا گیا ہے؟ یہ کس گرنٹھ سے لیا گیا ہے؟ 2
- 2- استوپ کیا ہوتے ہیں؟ آئندہ کو استوپ بنانے کی صلاح کس نے دی تھی؟ 2
- 3- تا تھا گات کون تھے؟ انھوں نے استوپ کی کیا اہمیت بتائی تھی؟ کوئی دواہم استوپوں کے نام بتائیے؟ 2
- 2- مندرجہ ذیل اقتباس کا بغور مطالعہ کیجیے اور متعلقہ سوالات کے جواب دیجیے۔

اپنشد کے اشلوک

نیچے چھند گویہ سے دوا اشلوک دیئے جا رہے ہیں جس کا متن تقریباً چھٹی صدی قبل مسیحی دور میں نظم ہوا تھا۔

اپنے وجود کی ماہیت

میرے دل میں میرا یہ وجود، دھیان، جو، ہر سوں یا باجرے، یا بیج کے چھلکے سے بھی چھوٹا ہے۔ میرے دل میں میرا یہ وجود اس زمین سے بڑا ہے، اس درمیانی خلا سے بڑا ہے، اس آسمان سے بڑا ہے اور اس دنیاؤں سے بڑا ہے۔

سچی قربانی

یہ (ہوا) جو چلتی ہے، یقیناً یہ ایک قربانی ہے۔۔۔۔۔ یہ جب چلتی ہے تو ان سب کو پاک کر دیتی ہے: اس لیے یقیناً یہ قربانی ہے۔

سوالات

- 1- مندرجہ بالا دوا اشلوک کس دور کے اور کس گرنٹھ (اپنشد) سے لیے گئے ہیں؟ 2
- 2- سچی قربانی اشلوک میں ہوا کو ایک قربانی کیوں کہا گیا ہے؟ 2
- 3- اس اپنشد میں روح کے بارے میں کیا تحریر کیا گیا ہے؟ 2

3- مندرجہ ذیل اقتباس کا بغور مطالعہ کیجیے اور متعلقہ سوالات کے جواب دیجیے۔

محل سے دور زندگی

جس طرح بدھ کی تعلیمات کو ان کے پیروں نے مدن کیا اسی طرح مہاویر کی تعلیمات کو بھی ان کے شاگردوں نے مرتب کیا۔ عام صورتوں میں یہ کہانیوں کے روپ میں ہوتی تھیں تاکہ یہ عام لوگوں کی توجہ اور دلچسپی حاصل کر سکیں۔ نیچے ایک مثال دی جا رہی ہے اسے 'اتراہیان ست نامی پالی متن سے اخذ کیا گیا ہے۔ اس میں بیان کیا گیا ہے کہ کس طرح کملاوتی نامی ایک رانی نے اپنے شوہر کو دنیا کو تھج دینے پر راضی کیا:

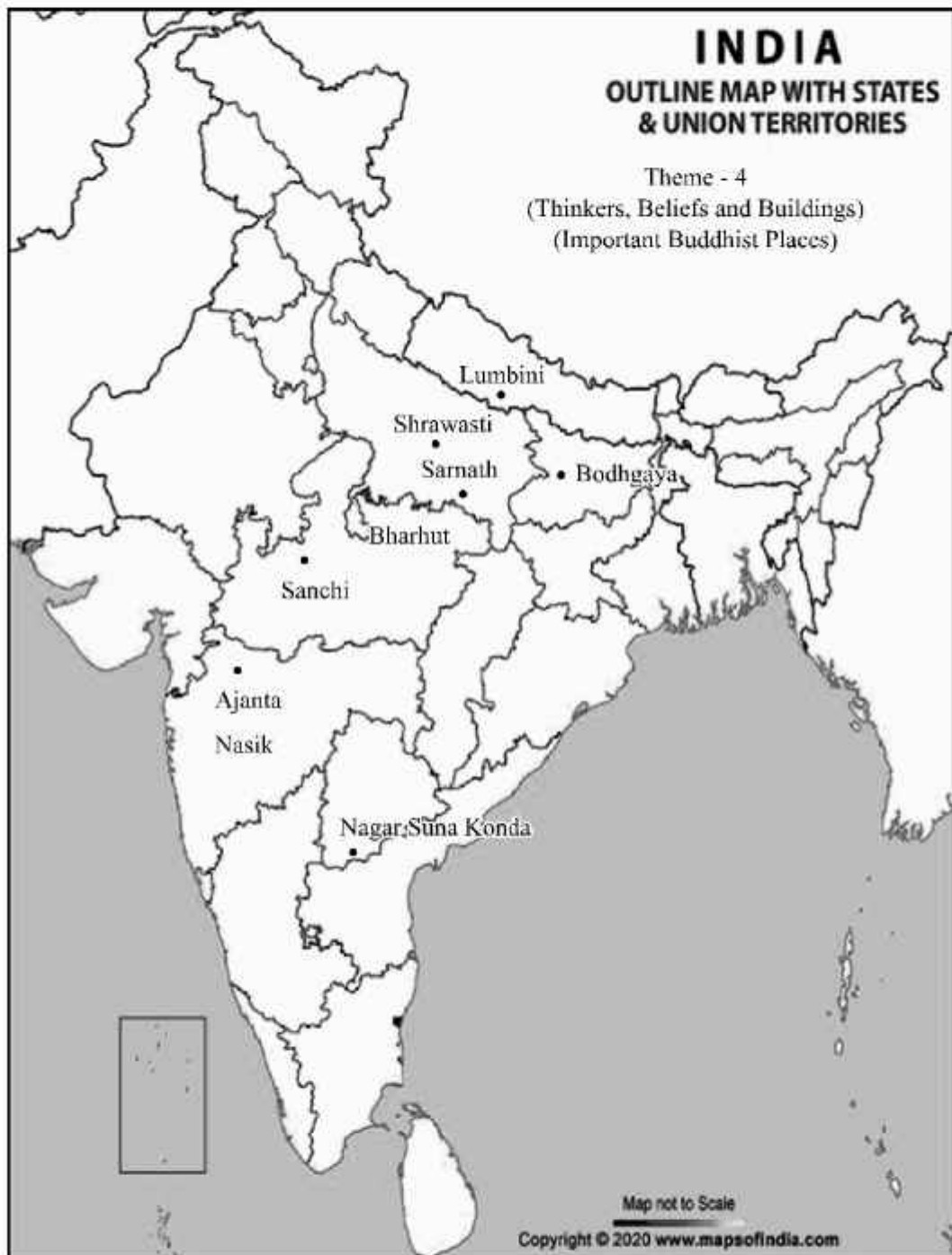
ارساری دنیا اور اس کے سارے خزانے بھی تمہارے ہو جائیں تب بھی تمہیں سیری نہیں ہوگی اور نہ ہی یہ تمہیں بچا لینے میں کامیاب ہوں گے۔ جب تم مرو گے، اے راجا! اور یہ سب کچھ پیچھے چھوڑ جاؤ گے اس وقت صرف 'دھم' ہی تمہیں بچائے گا اور کچھ نہیں۔ جیسے کسی چڑیا کو چنجرہ اچھا نہیں لگتا مجھے بھی یہ (دنیا) پسند نہیں ہے۔ میں راہیوں کی زندگی گزاروں گی۔ بغیر اولاد کے، بغیر خواہش کے، بغیر منافع (حصول) سے محبت کے، بغیر نفرت کے...

وہ جنھوں نے خوشیاں یا راحت حاصل کر کے انھیں تھج دیا ہے وہ ہوا کی طرح (آزاد) پھرتے ہیں، اور جہاں چاہتے ہیں آتے جاتے ہیں، بے روک ٹوک جیسے چڑیا اپنی اڑان میں....

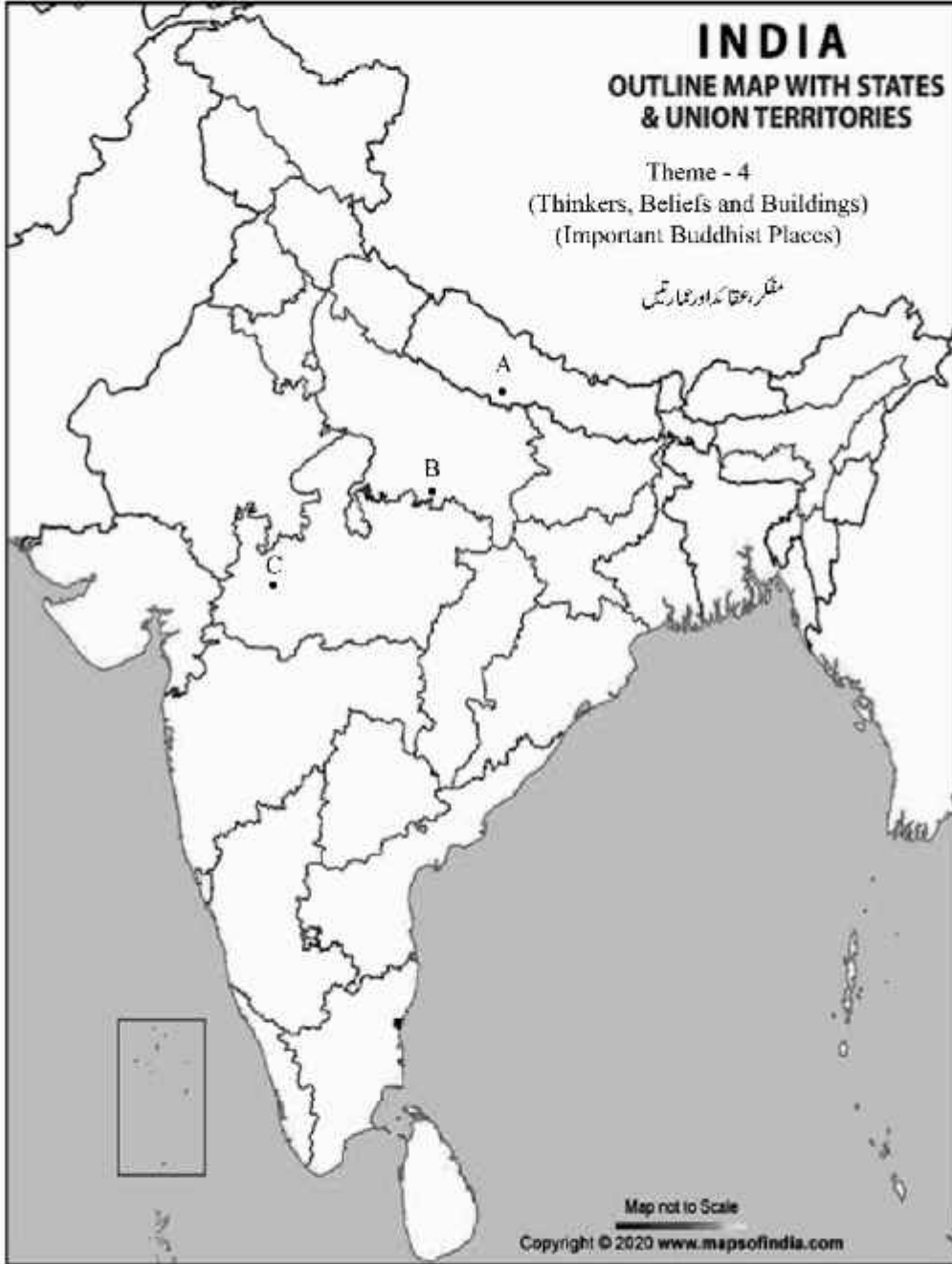
اپنی بڑی حکومت چھوڑ دو..... جو تمہارے حواس کو لذت پہنچائے، اسے تھج دو۔ بے لوث و بے ملکیت ہو جاؤ، پھر شدید کفارہ کے کام کرو اپنی طاقت پر مشبوہٹی سے بچے ہوئے۔

سوالات

- 1- اس کتاب یا متن کا نام لکھیے جس سے یہ اخذ کیا گیا ہے؟ متن کی زبان کون سی ہے؟ 2
- 2- دنیا کو تھج دینے پر راضی کرنے کے لیے رانی کملاوتی نے راجا کو کیا بات بتائی؟ 2
- 3- عین مذہب کی اہم تعلیمات کا ذکر کیجیے۔ 3



دیئے گئے سیاسی نقشے یہو مذہب سے متعلق ہیں جن میں سارنات، امراتلی اور یہودیاد کو دکھائیے۔
اسی نقشے پر A, B اور C تین مقامات جو یہو سے متعلق ہیں ان کو پہچان کر صحیح نام لکھئے



موضوع۔ پانچ

سیاحوں کی نظر سے — سماج کا تصور (تقریباً دسویں صدی سے سترہویں صدی تک)

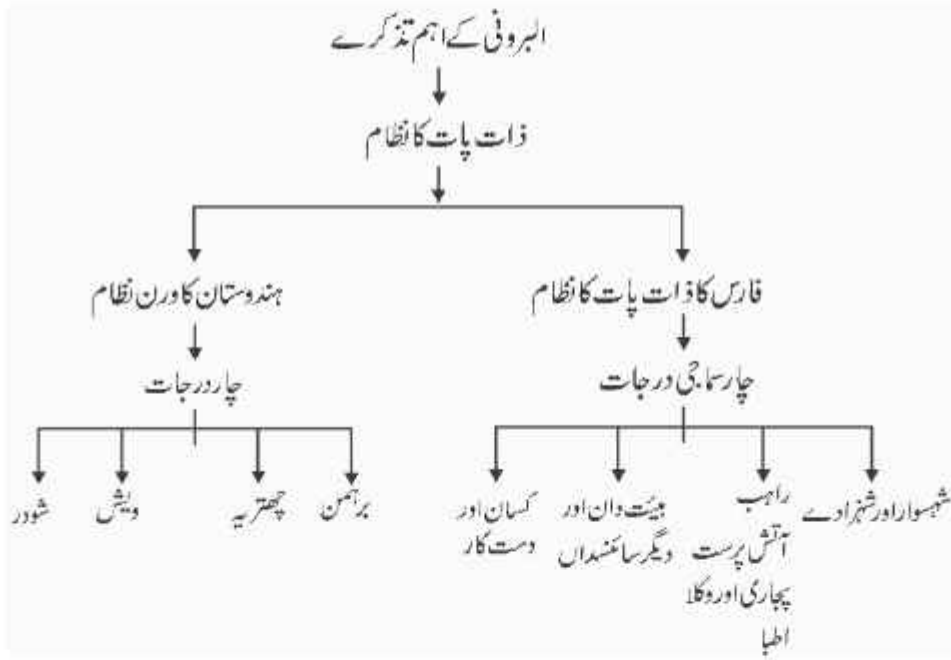
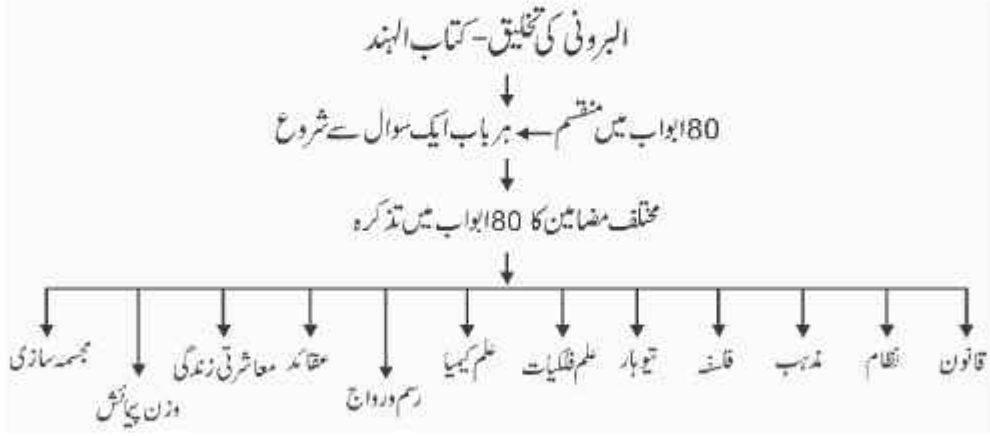
یاد رکھنے لائق نکات

- 1- عورتوں اور مردوں کے ذریعے سفر کرنے کی مختلف وجوہات تھیں جیسے کام کی تلاش میں، قدرتی آفات سے بچاؤ کے لیے تاجروں، نوچیوں پر وہتوں اور مذہبی سفر کے طور پر یا پھر حوصلہ افزائی کے جذبے سے متاثر ہو کر۔
- 2- برصغیر میں آئے سیاحوں کے ذریعے بیان کیے گئے سماجی تذکرے ماضی کی معلومات میں معاون۔
- 3- دسویں صدی سے سترہویں صدی تک تین اہم سیاح ہندوستان آئے۔

نمبر شمار	سیاح	آمد	جائے پیدائش	سفر نامے	سفر ناموں کی زبان
1-	محمد بن احمد اور یحییٰ (الہیرونی)	گیارہویں صدی (973-1048)	ازبکستان (خوارزم)	کتاب الہند	عربی
2-	ابن بطوطہ	چودھویں صدی (1304-1377)	مراکش (افریقہ)	رطلہ	عربی
3-	فرانسوا برٹیر	سترہویں صدی (1620-88)	فرانس	ٹریولس ان دی مغل امپائر	فرانسیسی

- 4- الہیرونی کو ہندوستان میں کئی دشواریوں کا سامنا کرنا پڑا جیسے سنسکرت زبان سے وہ واقف نہیں تھا۔ دوسری دشواری مذہبی عقائد و رسومات میں فرق تھا۔ تیسری دشواری ذاتی امتزاق تھا۔
- 5- الہیرونی کی پیدائش: موجودہ ازبکستان میں واقع خوارزم میں 973 میں ہوئی تھی۔ وہ کئی زبانوں کا عالم تھا جس میں سیریا، فارسی، ہیبیر و اور سنسکرت شامل ہیں۔ وہ یونانی زبان سے واقف نہیں تھا۔

1017 عیسوی میں سلطان محمود الغزنوی کو اپنے ساتھ غزنی لے گیا۔ -6



9- ابن بطوطہ 1933 میں سندھ پہنچا۔ وہ دہلی کے سلطان محمد بن تغلق کے دور میں ہندوستان آیا۔

10- ابن بطوطہ نے ہندوستان کے شہروں کو پر جوش مواقع سے بھر پور پایا جس کے پاس ضروری جانفشانی وسائل اور مہارت تھی۔ شہروں میں بھیڑ والی سڑکیں اور منور و رنگین بازار تھے۔ بازار اقتصادی سرگرمیوں کے مراکز۔ ڈاک نظام، دہلی اور دولت آباد کا تذکرہ اس نے غلاموں کے بارے میں تحریر کیا۔ پان اور ناریل نے ابن بطوطہ کو حیرت میں ڈال دیا۔

- 11- ابن بطوطہ کے مطابق اس دور میں نظام حکومت بہتر نہیں تھا۔
- 12- برنیر کے مطابق ہندوستان میں نجی زمین کی ملکیت کا فقدان تھا۔ اس کا نجی ملکیت کے وصف میں پختہ یقین تھا۔ برنیر نے سنی کے رواج کا بھی تذکرہ کیا ہے۔
- 13- فرانسوا برنیر ایک معالج سیاسی فلسفی اور مورخ تھا۔
- 14- برنیر نے مشرق اور مغرب کا موازنہ کیا۔
- 15- برنیر کے بیانات نے اٹھارہویں اور انیسویں صدی سے ہی فلسفیوں کو متاثر کیا مثال کے طور پر فرانسیسی فلسفی مونٹیسکیو اور کارل مارکس۔ مونٹیسکیو نے اس کے سفر نامے کا استعمال مشرقی مطلق العنانی کے نظریہ کو ارتقا پذیر کرنے کے لیے کیا۔
- 16- برنیر نے مغل سلطنت کو تہوؤں کا شہر بتایا تھا جو سرکاری دربار کے آنے کے ساتھ وجود میں آتا تھا اور دربار کے چلنے جانے کے بعد ان کا زوال ہو جاتا تھا۔
- 17- زمین کے مالکانہ حق سوال کی طرح ہندوستانی شہروں کے بارے میں بہت آسان تصور پیش کی ہے۔
- 18- عورتوں کی زندگی سنی رواج ہے کے علاوہ کئی اور چیزوں کے ارد گرد گھومتی تھی۔ ان کی محبت کاشت اور کاشت کاری کے علاوہ ہونے والے پیداوار دونوں ہی اہم تھی۔ تجارتی خاندان سے آنے والی عورتیں تجارتی کارکردگیوں میں حصہ لیتی تھیں۔
- 19- غلام و کنیزوں کا استعمال گھریلو کام، پانگی اور ڈھونگی اٹھانے، بھجری اور تقریب کے کاموں کے لئے کیا جاتا تھا۔
- 20- برنیر نے مغرب کو مشرق سے بہتر ثابت کرنے کے لئے ہندوستان کی بڑی رواجوں جیسے سنی کی رسم کو ایک نمونے کے طور پر پیش کیا۔

مختصر ترین سوالات 1 نمبر

- 1- ابن بطوطہ کے مطابق خواتین غلام کے بارے میں کوئی ایک نظریہ بتائیے۔
- 2- البیرونی کو روایتی سنسکرت سمجھنے میں رکاوٹ کیوں لگی؟
- 3- البیرونی کی پیدائش..... عیسوی میں خورج میں ہوئی تھی۔
- 4- مثال دے کر سمجھائیے کہ ہندوستانی سوتلی کی کپڑوں کی مانگ مغرب و جنوبی ایشیا میں بہت زیادہ کیوں تھی؟

- 5- مغل نظام کے تحت دستکاروں کی ایک مشکل سماجی حقیقت کا خلاصہ کس طرح کیا ہے؟ کوئی ایک وجہ بتائیے۔
- 6- مشہور یورپین مصنف دو ارتے برکوشا کا سفر نامہ کس کے بارے میں ہے۔
- 7- ابن بطوطہ نے کن دو طرح کے ڈاک نظام کے بارے میں لکھا ہے؟۔ بتائیے
- 8- مارکو پولو کون تھا؟
- 9- برنیر کا تمبوؤں کے شہر سے کیا مراد تھی؟
- 10- ابن بطوطہ نے ہندوستان آنے سے پہلے کن کن شہروں کا سفر کیا؟

Objective Type of Questions

- 11- ۱۷ویں صدی میں درج ذیل میں سے کس یورپ کے مسافرنے ہندوستانی برصغیر کا دورہ کیا؟
- (الف) الیبرونی (ب) ابن بطوطہ
(ج) ابوالفضل (د) فرانس وایر
- 12- رطلہ کے مطابق برصغیر کا سب سے بڑا شہر تھا۔
- (الف) سورت (ب) دہلی
(ج) دولت آباد (د) آگرہ
- 13- ۱۷ویں سے ۱۸ویں صدی کے درمیان لوگ درج ذیل مقاصد سے متاثر ہو کر سفر کرتے تھے
- (الف) کام کی تلاش میں (ب) نئے راہ کی تلاش میں
(ج) تجارتی فوجی، مذہبی پیشواؤں اور مقدس مقامات کے طور پر
(د) مذکورہ بالا میں سے کبھی
- 14- برنیر کا مضمون برصغیر کی جس مشکل سماجی سچائی کی طرف اشارہ کرتے ہیں وہ ہیں
- (الف) دستکاروں کو اپنے پیداوار کو بہتر بنانے کے لئے کوئی سرکاری امداد نہ ملنا
(ب) یہاں کے شہر خراب آب و ہوا سے متاثر تھے۔
(ج) ہندوستان میں متوسط لوگ نہیں تھے۔

(د) مذکورہ بالا میں سے کوئی نہیں۔

15- البیرونی کی کتاب (کتاب الہند) کے بارے میں کون سا بیان غلط ہے؟

(الف) اس کی زبان آسان ہے

(ب) اس میں ہندوستانی مذاہب، فلسفہ، تہوار وغیرہ کے بارے میں معلومات دی گئی ہے۔

(ج) یہ فارسی میں لکھی گئی ہے۔

(د) اسے 80 ابواب میں تقسیم کیا گیا ہے۔

16- ابن بطوطہ کے بارے میں کون سی بات درست ہے؟

(الف) ابن بطوطہ کے سفرنامہ کا نام Travells in the Mughal ہے۔

(ب) اس کی پیدائش تیزی کے ایک عام خاندان میں ہوئی۔

(ج) سلطان محمود اسے اپنے ساتھ غزنی لے گیا۔

(د) مذکورہ بالا میں سے کوئی نہیں

17- فرانس و امیر کے بارے میں کون سا بیان غلط ہے

(الف) وہ یورپ کا رہنے والا تھا

(ب) وہ مغل دربار میں طبیب اور سائنسدان کے طور پر جڑا رہا

(ج) اس نے بھارت کے بارے میں دہراپن اپنایا

(د) اس نے اپنے سفرنامہ میں غلاموں کے رواج کا خلاصہ کیا ہے

18- جوڑے بنائیے۔

(A) سٹی کا خلاصہ	(i) علوق
(B) گھڑسوار ڈاک نظام	(ii) دیوبنی
(C) ناپا کی جواز کو تسلیم نہ کرنا	(iii) ممبیر
(D) پیدل ڈاک نظام	(iv) البرونی

درج ذیل میں صحیح جوڑوں کے انتخاب کیجئے

B-IV D-III C-II A-I (الف)

C-IV D-III A-II B-I (ب)

C-IV A-III D-II B-I (ج)

C-IV A-III B-II D-I (د)

19۔ جوڑوں کا ملان کیجئے

(A) نارین اور پان	(i) البیرونی
(B) زمین کا ایک ہی مالک	(ii) ابن بطوطہ
(C) ہندوستان میں ذاتی کا نظام	(iii) محمد نیر

صحیح جوڑے:

B-III A-II C-I (الف)

B-III C-II A-I (ب)

A-III B-II C-I (ج)

A-III C-II B-I (د)

20۔ بیان :- البرونی اپنے طے شدہ مقاصد کی دشواریوں کے بارے میں جانتا تھا

سبب :- دشواریاں تھی زبان: فروعی عقائد اور رسم و رواج میں اختلافات اور مغروریت

(الف) صرف بیان A صحیح ہے

(ب) صرف سبب R صحیح ہے

(ج) بیان اور سبب دونوں صحیح ہیں اور بیان سبب کا خلاصہ کرتا ہے

(د) بیان اور سبب دونوں درست ہیں لیکن سبب بیان کا خلاصہ نہیں کرتا

21- دی گئی تصویر میں یورپین پوشاک پہنے اس شخص کو پہچانئے اور اس کا نام بتائیے۔



معروضی سوالات

سیاحوں کی نظر سے، سماج کا تصور

1- ملان کیجیے۔

ملک	سیاح
1- اٹلی	(a) البیرونی
2- ازبیکستان	(b) مارکو پولو
3- فرانس	(c) ابن بطوطہ
4- موروکو	(d) فرانسواہیر

A: a-ii, b-i, c-iv, d-iii

B: a-iii, b-iv, c-i, d-ii

C: a-iv, b-ii, c-iii, d-i

D: a-i, b-ii, c-iii, d-iv

2- کتاب الہند کا مصنف کون ہے۔

1- البیرونی 2- ابن بطوطہ

3- برہنہ 4- ان میں سے کوئی نہیں

3- ذیل میں دئے گئے بیاناتوں میں فرانس برہنہ سے متعلق درست بیان پہنچائیے۔

1- برہنہ نے مشرق (بھارت) کا موازنہ مغرب (یورپ) سے کیا۔

2- برہنہ نے ایک معالج، سیاسی فلسفی اور مورخ تھا۔

3- وہ 1656ء سے 1668ء تک تقریباً 12 سال ہندوستان میں رہا۔

4- برہنہ نے اپنی تصنیف ”ڈیول ان دی مغل ایمپائر“ میں گلی مشاہدہ و تنقیدی نظریہ اور مکمل تخلیق کے لیے قابل ذکر ہے۔

4- ابن بطوطہ ہندوستان کب آیا۔

1- 1333ء میں 2- 1336ء میں

3- 1342ء میں 4- 1354ء میں

5- بیان A: ذات پات کے نظام کے بارے میں البیرونی کے ذریعے دی گئی تفصیل، اس کی منسکرت کتابوں کی تحقیق سے حاصل تھی۔

سبب R: ان کتابوں میں برہمنوں کے نظریہ سے ذات پات کا نظام بتایا گیا تھا۔

A- دونوں A اور R صحیح ہیں اور A، R کا صحیح خلاصہ کرتا ہے۔

B- دونوں A اور R صحیح ہیں اور A، R کا صحیح خلاصہ نہیں کرتا ہے۔

-C - صرف R صحیح ہے جبکہ A غلط ہے۔

-D - صرف A صحیح ہے جبکہ R غلط ہے۔

-6 - سترہویں صدی میں آبادی کا کتنے فی صد حصہ شہروں میں رہتا تھا؟

-1 - 10 فی صد

-2 - 15 فی صد

-3 - 20 فی صد

-4 - 30 فی صد

-7 - ابن بطوطہ کے مطابق مندرجہ ذیل شہروں میں کونسا سب سے بڑا شہر تھا؟

-1 - دولت آباد

-2 - آگرہ

-3 - دہلی

-4 - سورت

-8 - وہ کونسا مورخ ہے جو سرکاری کارخانوں کے تفصیلی جائزہ فراہم کرتا ہے۔

-1 - فرانسواں برنیر

-2 - ابن بطوطہ

-3 - البیرونی

-4 - ان میں سے کوئی نہیں

-9 - مندرجہ ذیل میں سے کس سلطان نے ابن بطوطہ کی دہلی کا قاضی نامزد کیا۔

-1 - التتمش

-2 - محمد تغلق

-3 - علاؤ الدین خلجی

-4 - بلبن

-10 - بیان A: ابن بطوطہ کی تفصیلی مشاہدہ سے یہ معلوم ہوتا ہے کہ غلاموں میں بھی تفریق تھی۔

سبب R: سلطان کی خدمت کے لیے مختص کچھ کنیریں (غلام) موسیقی اور نغمہ نگاری میں ماہر تھیں۔

-A - دونوں A اور R صحیح ہیں اور R، A کا صحیح خلاصہ کرتا ہے۔

B- دونوں A اور R صحیح ہیں اور A+R کا صحیح خلاصہ نہیں کرتا ہے۔

C- صرف R صحیح ہے جبکہ A غلط ہے۔

D- صرف A صحیح ہے جبکہ R غلط ہے۔

22- اقتباس پر منحصر سوال (تین نمبر)

نیچے دیئے گئے اقتباس کو نوٹوں سے پڑھیے اور کبھی تین سوالوں کے جواب دیجیے۔

ابن بطوطہ کے نقش قدم پر

1400 سے 1800 کے درمیان ہندوستان میں آئے سیاحوں نے فارسی میں کئی سفر نامے تحریر کیے ہیں اسی زمانے میں ہندوستان سے وسط ایشیا، ایران اور عثمانی سلطنت کی سیاحت کرنے والوں نے بھی لکھے گئے ہیں۔ اپنے تجربات تحریر کیے ہیں۔ ان مصنفین نے البیرونی اور ابن بطوطہ کے نقش قدم کی اتباع کی ہے۔ ان میں کچھ سے ان ابتدائی مصنفین کو پڑھا بھی تھا۔

ان مصنفین میں سے سب سے مشہور عبد الرزاق سمرقندی ہے جس نے 1440 کی دہائی میں جنوبی ہندوستان کا سفر کیا تھا۔ محمود دہلوی بخش جس نے 1620 کی دہائی میں دور دراز تک سیاحت کی تھی۔ نیز شیخ علی حزیں جو 1740 کی دہائی میں شمالی ہندوستان آئے تھے، شامل ہیں۔ ان میں سے کچھ مصنفین ہندوستان سے مسورتھے اور یہاں تک کہ ان میں سے ایک محمود دہلوی تو کچھ وقت کے لیے سنیا سی بھی بن گئے تھے۔ کچھ دیگر جیسے حزیں ہندوستان سے باہر ہوئے اور یہاں تک کہ نفرت بھی کرنے لگے۔ وہ ہندوستان میں اپنے لیے ایک شاندار سلوک کی امید رکھتے تھے۔ ان میں سے زیادہ تر نے ہندوستان کی عجائبات کو ملک کی صورت میں دیکھا تھا۔

A- ان میں سے کس نے 1440 کے دہائی میں جنوبی ہندوستان کا سفر کیا؟

(الف) عبد الرزاق سمرقندی (ب) فرانس وایمیر

(ج) مرزا ابوطالب (د) البرونی

B- جو 1400 سے 1800ء میں ہندوستان آئے مسافروں نے اپنے سفر نامے عام طور پر کس زبان میں لکھے ہیں؟

(الف) فارسی (ب) ہندی

(ج) بیرو (د) سنسکرت

C- درج ذیل میں دو بیان دیئے گئے ہیں جن میں ایک کو بیان A کے طور پر اور دوسرے کو سبب R کے طور پر دکھایا گیا ہے۔ اس میں سے صحیح کیا ہے؟ چنیں

بیان A: شیخ علی حازن ہندوستان سے ماپوس ہوئے

سبب R: وہ ہندوستان سے اپنے لئے ایک عالی شان خیر مقدم کی امید کر رہے تھے۔

(الف) بیان A اور سبب R دونوں صحیح ہیں اور سبب R بیان A کا خلاصہ کرتا ہے۔

(ب) بیان A اور سبب R دونوں صحیح ہیں اور سبب R بیان A کا خلاصہ نہیں ہے۔

(ج) بیان A صحیح ہے لیکن سبب R صحیح نہیں ہے

(د) سبب R صحیح ہے لیکن بیان A صحیح نہیں ہے

D- دیئے گئے بیانات کو پڑھئے جو صحیح ہیں ان کو چنیں۔

(A) کچھ مصنف سفر ہندوستان سے بہت متاثر تھے۔

(B) زیادہ تر مسافروں نے ہندوستان کو اچھ بو کی شکل میں دیکھا

صحیح جواب چنئے

A اور B دونوں درست ہیں۔

صرف B صحیح ہے

صرف A صحیح ہے

دونوں غلط ہیں

بنگال کے ایک مندر کی اس بھری کوڑ بھسدفن بت تراشی کونفر سے دیکھنے اور کسی تین سوالوں کا جواب دیجئے۔



-A- لوگ سمندری سفر کیا کرتے تھے

(الف) تجارت کرنے کے لئے (ب) سیاحتی تجربے کرنے کے لئے

(ج) نئے مقامات کو دریافت کرنے کے لئے

(د) اوپر کے کبھی درست ہیں

-B- دیئے گئے بیانات کونفر سے پڑھئے:

(i) سفر نامے ہمیں کسی علاقے کی مادی حالات کی جانکاری دیتے ہیں

(ii) ان سے ہمیں کسی علاقے کی فن تعمیرات اور مقیموں کے بارے میں پتہ چلتا ہے۔

(الف) بیان (I) اور (II) دونوں صحیح ہیں

(ب) بیان (I) اور (II) دونوں غلط ہیں

(ج) صرف بیان I درست ہے

(د) صرف بیان II غلط ہے

C- رطلہ کس مسافر کا سفر نامہ ہے

(الف) البرونی (ب) ابن بطوطہ

(ج) مارکوپولو (د) میگیس

D- درج ذیل دو بیان دیئے گئے ہیں جن میں سے ایک کو بیان A کے طور پر اور دوسرے کو سبب R کے طور پر دکھایا گیا ہے۔

بیان A:- ہندوستانی برصغیر میں آئے مسافروں نے یہاں کے سماج کے بارے میں لکھا ہے۔

سبب R:- وہ لوگ یہاں کے حالات کا موازنہ اپنے ممالک سے کرتے تھے۔

(الف) بیان A اور سبب R صحیح ہیں اور سبب R بیان A کا خلاصہ کرتا ہے۔

(ب) بیان A اور سبب R صحیح ہیں اور سبب R بیان A کا خلاصہ نہیں کرتا ہے۔

(ج) صرف A صحیح ہے۔

(د) صرف سبب R صحیح ہے۔

مختصر جواب والے سوالات: (تین نمبر والے)

- سوال نمبر 1- وسطی دور کی تاریخ لکھنے میں سفر ناموں کی کیا اہمیت ہے؟ دلائل کے ساتھ جواب دیجیے۔
- سوال نمبر 2- ہندوستان سے متعلق معلومات کو سمجھنے کے لیے البرونی کے سامنے کون کون سی دشواریاں تھیں؟ تین نکات کے ذریعے وضاحت کریجئے۔
- سوال نمبر 3- ابن بطوطہ کے ذریعے پیش کی گئی معلومات کی بنیاد پر گاؤں کی کھیتی، معیشت اور برصغیر میں تجارت و کاروبار سے متعلق کیا جھلک ملتی ہے؟
- سوال نمبر 4- برصغیر 17 ویں صدی کے شہروں کے بارے میں کیا کہتے ہیں؟ ان کا یہ تذکرہ کس طرح ممکن پیدا کرتا ہے؟
- سوال نمبر 5- سنی کی رسم سے متعلق برصغیر کا کیا نظریہ تھا؟
- سوال نمبر 6- ابوالفضل نے زمینی محصول کو ”شاہی ملکیت کی مزدوری“ کیوں کہا ہے؟ واضح کیجیے۔

- سوال نمبر 7 - ابن بطوطہ کے تذکروں کی بنیاد پر اس دور کے انوکھے مواعلاقی نظام کی وضاحت کیجیے۔
- سوال نمبر 8 - کتاب الہند پر مختصر نوٹ لکھیے۔
- سوال نمبر 9 - ابن بطوطہ کے مطابق سفر کرنا غیر محفوظ کیوں تھا؟
- سوال نمبر 10 - ”ابن بطوطہ نے دہلی کو بہت زیادہ مواقع سے رُپا پایا“۔ اپنے جواب کی حمایت میں اس کے ذریعہ دیئے گئے دلائل کو پیش کیجیے۔
- سوال نمبر 11 - ”ابن بطوطہ اور برنیر نے سولہویں صدی میں عورتوں کی زندگی کو کس طرح دلچسپ انداز میں پیش کیا ہے؟“ واضح کیجیے۔
- سوال نمبر 12 - ”برنیر زمین کی شاہی ملکیت کے بیانات نے مغربی فلسفیوں جیسے فرانسیسی فلسفی مونٹیسیکو اور جرمن فلسفی کارل مارکس کو متاثر کیا“۔ اس جملے کی منصفانہ وضاحت کیجیے۔
- سوال نمبر 13 - برنیر نے زمین کی ملکیت کے بارے میں کیا بیان کیا ہے؟
- سوال نمبر 14 - برنیر کے تذکرہ نے اٹھارہویں صدی کے مغربی مفکروں کو کس طرح متاثر کیا؟
- سوال نمبر 15 - برنیر نے اپنے تذکروں میں یورپین حکمرانوں کو کیا چیلنج دیتا ہے۔
- سوال نمبر 16 - عہد وسطی کے ہندوستان آنے والے غیر ملکی سیاحوں کے سفر نامے کی کوئی تین خوبیاں بیان کیجیے۔

طویل جواب والے سوالات (آٹھ نمبروں والے)

- سوال نمبر 1 - البرونی نے اپنے تذکروں میں کس طرح ہندوستانی ذات پات کے نظام کے اصولوں کو منظور نہیں کیا؟ وضاحت کیجیے۔
- سوال نمبر 2 - آپ کس طرح مانتے ہیں کہ غیر ملکی سیاحوں کے سفر ناموں سے 10 ویں سے 17 ویں صدی کی تاریخ نگاری میں مدد ملتی ہے؟
- سوال نمبر 3 - اپنے سفر نامے میں ابن بطوطہ ہندوستان کے بارے میں کس طرح ذکر کیا ہے؟
- سوال نمبر 4 - برنیر نے اپنی کتاب میں مشرق اور مغرب کا موازنہ کس طرح کیا ہے؟

سوال نمبر 5۔ ٹریولس ان دی مغل ایمپائر (Travells in the Mughal Empiore) میں فرانسیسی سیاحوں نے کن کن

باتوں کا ذکر کیا ہے؟

سوال نمبر 6۔ ابن بطوطہ نے غلاموں کے رواج کے بارے میں دی گئی شہادتوں کا خلاصہ کیجئے۔

مندرجہ ذیل اقتباس کا بغور مطالعہ کیجیے اور متعلقہ سوالات کے جواب دیجیے۔

گھوڑے پر اور پیدل

ڈاک کے نظام کا تذکرہ ابن بطوطہ کچھ اس طرح کرتا ہے:

ہندوستان میں دو طرح کا ڈاک کا نظام ہے۔ اسپ ڈاک نظام جسے اُلُق کہا جاتا ہے جو ہر چار میل کے فاصلے پر واقع شاہی گھوڑوں کے ذریعہ چلتا ہے۔ پیدل ڈاک نظام کے تین تین منزل پر واقع ہوتے ہیں۔ اسے دعویٰ کہا جاتا ہے۔ یہ ایک میل کا تہائی ہوتا ہے.... کیوں کہ ہر تین میل پر ایک گھنی آبادی والا گاؤں ہوتا ہے جس کے باہر تین شیشیں (پولیسٹین) ہوتے ہیں جن پر لوگ کام کرنے کے لیے تیار بیٹھے رہتے ہیں۔ ان میں ہر ایک پاس دو ہاتھ لہنی ایک چھڑ ہوتی ہے جس کے اوپر تانبہ کی گھنٹیاں لگی ہوتی ہیں۔ جب ہر کارہ شہر سے سفر شروع کرتا ہے تو ایک ہاتھ میں خط اور دوسرے ہاتھ میں گھنٹیاں لگی چھڑ لے لے وہ اپنی طاقت کے مطابق تیز دوڑتا ہے۔ جب چوڑوں پر بیٹھے لوگ گھنٹیوں کی آواز سنتے ہیں تو وہ تیار ہو جاتے ہیں۔ جیسے ہی ہر کارہ ان کے قریب پہنچتا ہے تو ان میں سے ایک اس سے خط لے لیتا ہے اور وہ چھڑ ہلاتے ہوئے تب تک پوری قوت سے دوڑتا ہے جب تک وہ اگلے دعویٰ تک نہیں پہنچ جاتا۔ خط کے اپنی منزل مقصود تک پہنچنے تک یہ عمل چلتا رہتا ہے۔ ”یہ پیدل ڈاک نظام اسپ ڈاک نظام سے زیادہ تیز ہے اور اس کا استعمال خراسان کے پھلوں کی بار برداری کے لئے ہوتا ہے، جنھیں ہندوستان میں بہت پسند کیا جاتا تھا۔

سوالات

- 1۔ ابن بطوطہ کے مطابق دو طرح سے ڈاک پہنچانے کے عمل کا تذکرہ کیجیے؟
- 2۔ کیا آپ کو لگتا ہے کہ پیدل ڈاک نظام پورے جزیرے نما میں رائج تھا؟ خلاصہ کیجیے۔
- 3۔ پیدل ڈاک نظام کس لیے استعمال کیا جاتا تھا؟ دونوں ڈاک نظام میں سب سے تیز کون سا نظام تھا؟

2- مندرجہ ذیل اقتباس کا بغور مطالعہ کیجیے اور متعلقہ سوالوں کے جواب دیجیے۔

ورنوں کا نظام

البرونی ورن نظام کا ذکر اس طرح کرتا ہے:

سب سے اعلیٰ ذات برہمنوں کی ہے جن کے متعلق ہندوؤں کی کتابیں ہمیں بتاتی ہیں کہ وہ برہما کے سر سے پیدا ہوئے تھے کیوں کہ برہمن قدرت نامی طاقت کا دوسرا نام ہے اور سر جسم کا سب سے اعلیٰ حصہ ہے۔ اس لئے برہمن کل حیوانات کا سب سے چنبرہ حصہ ہے۔ اس لئے ہندو انہیں نوع انسانی میں سب سے اعلیٰ مانتے ہیں۔

دوسری ذات چھتریوں کی ہے جن کی تخلیق جیسا کہ کہا جاتا ہے کہ برہما کے کندھوں اور ہاتھوں سے ہوئی۔ ان کا درجہ برہمنوں سے زیادہ نیچے نہیں ہے۔

اس کے بعد ویش آتے ہیں ان کی پیدائش برہمنوں کی رانوں سے ہوئی تھی۔ شودر کی پیدائش ان کے پیروں سے ہوئی تھی۔

آخری دو طبقتوں کے درمیان زیادہ فرق نہیں ہے لیکن ان طبقتوں کے درمیان فرق ہونے کے باوجود بھی یہ ایک ساتھ ہی شہروں اور گاؤں میں ایک جیسے مکانات اور گھروں میں رہتے ہیں۔

سوالات

- 1- البرونی کے ذریعہ تحریر کردہ ورن نظام کا تذکرہ کیجیے۔ 2
- 2- البرونی نے ہندوستان کے ورن نظام کا موازنہ کہاں کے ورن نظام سے کیا ہے اور وہاں کتنے سماجی طبقات مانے جاتے تھے؟ 3
- 3- البرونی کے ذریعے متذکرہ ہندوستانی ورن نظام کا تذکرہ کس وید میں ملتا ہے؟ 1

موضوع۔ چہ

بھکتی۔ صوفی روایات

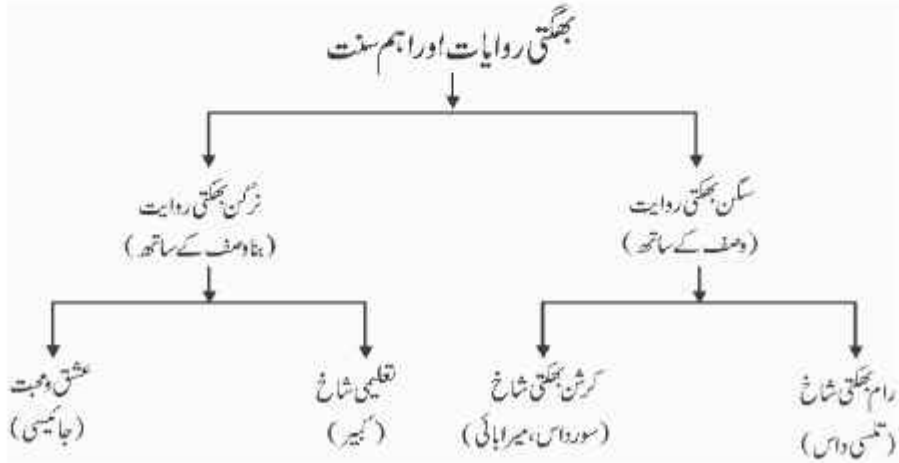
مذہبی عقائد میں تبدیلی اور عقیدت مندانہ متون (تقریباً آٹھویں صدی سے اٹھارویں صدی تک)

یاد رکھنے لائق نکات

- 1- اس عہد کے جدید ادبی ماخذوں میں صوفی، سنت، شاعروں کی تخلیقات شامل ہیں۔
- 2- مورخین ان سنت، شاعروں کے عقیدت مندوں (جو ان کے مذہبی فرقہ کے ممبر تھے) کے ذریعے لکھی گئی سوانح کا بھی استعمال کرتے تھے۔
- 3- بھکتی تحریک کا اہم مقصد عدم مساوات، اوجھلے، امیر غریب اور چھوٹے بڑے کے امتیاز کو ختم کرنا تھا۔
- 4- پوری (اڑیسہ) میں جہاں اہم ترین دیوتا کی بارہویں صدی تک آتے آتے جگن ناتھ (لفوی معنی پورے عالم کا آقا) کو وشنو کے ایک روپ کے طور پر نشا مذہبی کی گئی۔
- 5- دیوی کی عبادت کو بظاہر وسیع طور پر اکثر سندور سے لیے گئے پتھروں کی شکل میں بھی کی جاتی تھی۔
- 6- اس عہد میں بیشتر بھکتی روایات میں برہمن، دیوتاؤں اور عقیدت مندوں کے درمیان اہم درجہ بنے رہے۔
- 7- ابتدائی بھکتی تحریک (تقریباً چھٹی صدی) الواروں اور غنیا روں کی قیادت میں ہوئی الوار (ویشنو کی بھکتی مستغرق) منیا ر (شیو بھکتی کے قائد) الوار اور غنیا ر سنتوں نے ذات پات کے نظام اور برہمنوں کے غلبے کے خلاف احتجاجی تحریک کا آغاز کیا۔ انہوں نے خواتین کو اہم مقام دیا۔ انڈال خود کو ویشنو کی محبوب مان کر اپنے دیوتا کے لیے محبت کا اظہار اشعار میں کرتی تھی۔ کرائی کل ادیا ر جو شیو کی بھکت تھی "نلیا ر دیویا پر مند ہم" الوار سنتوں کا شعری مجموعہ ہے۔ اس کتاب (گرتھ) کی اہمیت سنسکرت کے چاروں ویدوں کے مساوی بتائی گئی ہے۔

8- مورخوں نے بھگتی روایات کو دو خاص طبقوں میں تقسیم کیا ہے:

سگن — اس میں شیو، وشنو اور اس کے اوتا راوردیوں کی عبادت آتی ہے۔
 نرگن — نرگن بھگتی روایات میں غیر شیوہ والے دیوتا کی عبادت کی جاتی تھی۔



10- بارہویں صدی میں کرناٹک میں ایک نئی تحریک کا ظہور ہوا جس کی قیادت باسوا (68-1106) نامی ایک برہمن نے کی۔ اسے لنگہیت تحریک اور ویرشو تحریک بھی کہتے ہیں۔ لنگہیت نے ذات پات کے نظریہ اور برہمنوں کے برہمنی نظریہ کو چیلنج کیا۔ دو بارہ پیدا ہونے کے نظریہ پر بھی انہوں نے سوالیہ نشان لگایا۔ دھرم شائستروں میں جن معمولات کو ترک کر دیا گیا تھا جیسے سن بلوغ کے بعد شادی اور بیوہ کی دوبارہ شادی کو منظور دی۔ لنگہیت فرقہ شیو کی عبادت لنگ کی شکل میں کرتے ہیں۔

11- ذمی وہ لوگ تھے جو اہالی صحیفوں کو مانتے تھے جیسے مسلم حکمرانوں کے زیر اثر علاقوں میں رہنے والے یہودی اور عیسائی۔

12- جن لوگوں نے اسلام مذہب قبول کیا انہوں نے اصولی طور پر اس کے پانچ عقائد ”ارکان“ قبول کیے تھے۔

— صرف ایک خدا ہے، حضرت محمد ﷺ اس کے پیغمبر ہیں (شہادت)

— دن میں پانچ مرتبہ نماز ادا کرنا چاہیے

— خیرات (زکوٰۃ) ادا کرنا چاہیے

— رمضان کے مہینے میں روزے رکھنے چاہئیں

— حج کے لیے مکہ جانا چاہیے۔

13- برہمنی ورن نظام میں ناقدانہ روا تمیں بودھ مذہب میں انجریں، بودھ مذہب جیروکاروں نے تسلیم کیا کہ معاشرے میں فرق یا

- اختلاف موجود تھے مگر وہ انہیں فطری یا بے لوج نہیں مانتے تھے۔ وہ پیدائش پر مبنی حیثیت یا درجہ کے تصور کو بھی مسترد کرتے ہیں۔
- 14- باشرع، بشریعت پر عمل کرنے والے، بے شرع، بشریعت کی نافرمانی کرنے والے۔
- 15- اہم صوفی سلسلے
- (i) چشتی
- (ii) سہروردی
- (iii) قادری
- (iv) نقشبندی
- 16- کبیر کی باقی تین خصوصی کتابوں میں شامل کی گئی ہیں۔
- (i) کبیر بیچک (ii) کبیر گرتھاولی (iii) آدی گرتھ صاحب
- 17- بابا گرو نانک (1469-1539) نے زرگن بھکتی کی اشاعت و تبلیغ کی۔ یہ کسی نئے تہذیب کو قائم کرنا نہیں چاہتے تھے۔ ان کی تعلیمات کو "آدی گرتھ صاحب" میں مرتب کیا گیا ہے۔ گرو نانک کے جانشین اور دسویں گرو کو بند نے خالصہ پنٹھ (پاک لوگوں کی فوج) کی بنیاد ڈالی۔
- 18- گرو نانک کے وارث اور دسویں گرو کو بند سنگھ نے خالصہ پنٹھ کی بنیاد ڈالی اور سکھوں کو ایک فوجی شکل میں تشکیل کر دیا۔
- 19- میر ابائی بھکتی روایات میں سب سے مشہور شاعر ہیں۔
- 20- چدیمر، مہجا اور اگلی کوٹہ، چولا پورم کے شاعر شیو مندر چول حکمرانوں کی سرپرستی اور مدد سے تعمیر ہوئے۔
- 21- چول حکمران پراہتک اول نے سنت شاعر اپا رسبندر اور سندرا کی دھات سے بنی مورتیاں ایک شیو مندر میں لگوائیں۔
- 22- ماتھ، جوگی اور سدھ مذہبی عقائد جو راسخ العقیدہ مذہبی ڈھانچے کے باہر تھے انہوں نے ویدوں کے اقتدار پر سوالات اٹھائے تھے اور اپنے خیالات کا اظہار عوام الناس کی زبان میں کیا۔
- 23- نظریاتی طور پر مسلم حکمرانوں کو علما کے بتائے ہوئے راستے پر چلتا ہونا تھا۔

- 24- ملیچھ۔ مہاجر قوم کے لیے ایک عام اصطلاح تھی۔ یہ ذات پات پر مبنی سماج کے معیارات کے پابند نہیں تھے۔ منسکرت سے مختلف زبانیں بولتے تھے۔

مختصر ترین سوالات 1 نمبر

- 1- علماء کون تھے؟
- 2- صوفیت سے کیا مراد ہے؟
- 3- پدماوت کے مصنف کون تھے؟
- 4- بابا فرید نے کس زبان میں شاعری لکھی اور وہ کس کتاب میں ملتی ہے؟
- 5- مسلم صوفیوں کی درگاہوں پر عقیدت مند لوگ کیوں آتے ہیں؟ کوئی وجہ بتائیے۔
- 6- کبیر کو بھگتی کا راستہ دکھانے والے..... تھے۔
- 7- الواروں اور نیرا روں کا ذاتی کے رواج کے بارے میں کوئی ایک نظریہ بتائیے۔
- 8- لنگتوں کے کسی ایک مذہبی عقائد اور روایت کا خلاصہ کیجئے۔
- 9- خالصہ پنتھ کا کیا مطلب ہے؟
- 10- چشتی سلسلہ میں عبادت کا طریقہ مختصر میں بیان کیجئے۔
- 11- صوفیوں نے ہندوستان میں ان مقامی رواجوں کو اپنایا:
 - (i) مریدوں کا سر منڈوانا
 - (ii) یوگ اور ویایام
 - (iii) ملنے والے لوگوں کو پانی پلانا
 - (iv) شیخ کے سامنے بھٹکنا
 - (v) سماء کی محفل کے ذریعے خدا کی عبادت

مندرجہ ذیل میں سے صحیح ترتیب چنئے۔

- (الف) (i) (ii) (iii) (v)
 (ب) (ii) (iii) (iv) (v)
 (ج) (ii) (iii) (iv) (v)
 (د) (i) (iii) (iv) (v)

12- امیر خسرو ملتے جاتے تھے:-

- (الف) بابا فرید سے (ب) خواجہ معین الدین چشتی سے
 (ج) چراغ دہلوی سے (د) شیخ نظام الدین سے

13- غیاروں اور الواروں نے تبلیغ کی:-

- (الف) ایشٹ دیو کے سامنے سپردگی (ب) سخت عبادت (تپسید)
 (ج) ذات کے نظام کی حمایت (د) علم کے راستے پر چلنا

14- گرو نانک کے بعد گرو کے عہدے پر بیٹھے

- (الف) گرو کووند سنگھ (ب) گرو وانگد
 (ج) گرو تیغ بہادر (د) گرو ارجن دیو

15- صوفیت کا تعلق ہے:

- (الف) ہندو مذہب سے (ب) سکھ مذہب سے
 (ج) اسلام مذہب سے (د) عیسائی مذہب سے

16- سگن بھکتی ہے

- (i) خدا کی مورتی بنا کر عبادت کرنا
 (ii) بغیر/بنا خدا کی مورتی بنا کر عبادت کرنا
 (iii) شیو، وشنو اور اس کے اوتاروں کی عبادت کرنا
 (iv) بنا کسی خصوصیات کے عبادت کرنا
 (الف) i اور iii (ب) ii اور iii
 (ج) iii اور iv (د) i اور iv

17- درج ذیل میں سے کون کون کیا سنت تھے؟

- i- ایازہ ii- سمیشور
iii- سندرمورتی iv- انڈال
(الف) I II IV
(ب) II III IV
(ج) I II III
(د) I III IV

18- ویشیو مملکت کی شروعات ہوئی تھی

- (الف) کرناٹک میں
(ب) تامل ناڈو میں
(ج) آندھرا پردیش میں
(د) کیرالہ

19- جوڑے بنائیے

- (i) سلسلہ (A) شریعت
(ii) خانقاہ (B) صوفی تنظیم
(iii) بے شریعہ (C) شریعت کو ماننے والے
(iv) با شریعہ (D) صوفیوں کے رہنے کی جگہ

صحیح ترتیب چنئے

- (الف) B(i) D(ii) A(iii) C(iv)
(ب) B(i) D(ii) C(iii) A(iv)
(ج) D(i) B(ii) A(iii) C(iv)
(د) D(i) A(ii) B(iii) C(iv)

20- صحیح جوڑے بنائیے۔

- (i) کرشن بھگتی کے سنت (A) انڈال
(ii) زرگن بھگتی کے سنت (B) میرلابائی

(iii) الوارنٹ (C) کرائیکل

(iv) میئرمنٹ (D) کبیر

صحیح جوڑے بنائیے

(الف) (A(i) D(ii) C(iii) D(iv)

(ب) (B(i) B(ii) A(iii) C(iv)

(ج) (B(i) D(ii) C(iii) A(iv)

(د) (B(i) D(ii) A(iii) C(iv)

21- دی گئی تصویر کو غور سے دیکھئے اور بتائیے کہ یہ تصویر کس دیوی کی ہے اور اس کا تعلق کس مذہب سے ہے؟



معروضی سوالات

- 1- علماء کون تھے۔
- 1- مسلم صوفی سنت
- 2- دین اسلام کے عالم
- 2- نجان ناتھ کے لفظی معنی کیا ہیں۔
- 3- مسلم معاشرہ کو ہدایت دینے والا قانون
- 4- ان میں سے کوئی نہیں
- 1- وشنوا ورشیو کا اوتار
- 2- پوری کائنات کا مالک
- 3- ناتھ طبقہ کی روایات
- 4- ان میں سے کوئی نہیں
- 3- بیان A: روایتی بھگتی تحریک (لگ بھگ چھٹی صدی) الواروں اور رنیاروں کی رہنمائی میں ہوئی۔
- سب R: اپنے سفر کے دوران الوار اور رنیار سنتوں نے کچھ مقدس مقامات کو اپنے بھگوانوں کے طور پر نامزد کیا۔
- A- دونوں A اور R صحیح ہیں اور A+R کا صحیح خلاصہ کرتا ہے۔
- B- دونوں A اور R صحیح ہیں اور A+R کا صحیح خلاصہ نہیں کرتا ہے۔
- C- صرف R صحیح ہے جبکہ A غلط ہے۔
- D- صرف A صحیح ہے جبکہ R غلط ہے۔
- 4- کرناٹک میں ورشیو تحریک کے بانی کون تھے؟
- 1- باسننا
- 2- اپار
- 3- سمبدر
- 4- سنڈار
- 5- پدموات کی تخلیق کس نے کی؟
- 1- امیر خسرو
- 2- بابا فرید
- 3- ملک محمد جاسسی
- 4- امیر حسن
- 6- خواجہ معین الدین چشتی کی درگاہ پر آیا پہلا سلطان کون تھا؟
- 1- قطب الدین ایبک
- 2- ایتھمش

3- محمد بن تعلق 4- علاء الدین خلجی

7- مندرجہ ذیل میں کون وشنو و شرم کی تبلیغ کے لیے ابھرا۔

1- چیتپہ مہا پر بھو 2- تکارام

3- شکر دیو 4- ولہ چاریہ

8- مندرجہ ذیل بیانیوں میں کبیر کے تعلق سے کونسا بیان صحیح ہے۔

1- کبیر سے منسوب اشعار تین ممتاز روایات میں تدوین کیے گئے ہیں۔

2- کبیر کی ایک خصوصیت یہ ہے کہ انھوں نے بنیادی سچائی کو بیان کرنے کے لیے روایات کے سلسلے کو استعمال کیا۔

3- کبیر سچائی کو پیش کرنے کے لیے اللہ، خدا، حضرت اور پیر کے نام کو استعمال کیا۔

جواب: (a) 1 اور 2، (b) 1 اور 3، (c) 1، 2 اور 3، (d) 3 اور 2

9- خالعدہ پنتھ کی بنیاد کس نے کی۔

1- گروناک، 2- گرو تیج بہارو

3- گرو کو بند سنگھ 4- گرو ہر کو بند

10- مندرجہ ذیل بیانیوں میں میرالبائی کے تعلق سے صحیح ہے۔

1- میرالبائی مارواڑ کے میرتا ضلع کی ایک راجپوت شہزادی تھی۔

2- میرالبائی کے گرو (استاد) کا نام ریداس تھا۔

3- اس نے وشنو کے اوتا کرشن کو اپنا شوہر مانا

4- وہ شائی محل سے نکل کر ایک مشہور شاعرہ بن گئی۔

(a) i، ii اور iii

(b) ii، iii اور iv

(c) i، iii اور iv

(d) i، ii، iii اور iv

تمل ناڈو کے الوار اور نینار

ابتدائی بھگتی تحریکات کی ابتدا (تقریباً چھٹی صدی) الواروں (خصوصی طور پر جو شنو کی بھگتی میں مستغرق ہو) اور نینار (خصوصی طور پر شیو بھگتی کے قائد) کی قیادت میں ہوئی۔ یہ ایک جگہ سے دوسرے جگہ سیاحت کرتے ہوئے اپنے بھگوانوں یا اوتاروں کی مدح میں تمل زبان میں بھجن گاتے تھے۔ اپنی سیاحت کے دوران اور نینار سنتوں نے کچھ مقدس یا دگار مقامات کو اپنے بھگوانوں کے مسکن کے طور پر نام و نشان دیا۔ بعد میں اکثر ان ہی مقدس مقامات پر بڑے وسیع مندروں کو تعمیر کیا گیا اور یہ مقامات زیارت گاہ کے طور پر ترقی کرتے گئے۔ سنت شاعروں کے بھجوں کو ان زیارتی مندروں میں مذہبی رسوم و رواج کے موقع پر گایا جانا عبادت کا حصہ بن گیا۔ ساتھ ہی ان سنتوں کی ہیبرہ (مورتی) کی بھی پوجا کی جاتی تھی۔

سوالات

A- جنوب کے الوار سنت کس دیوتا کے پوجاری تھے؟

- الف - شیو ب - برہما
ج - وشنو د - کیش

B- شیو کی خواتین بھگت تھی:

- الف) انڈال ب) کیرانکل اتہار
ج) دونوں د) دونوں میں سے کوئی نہیں

C- بیان A:- الوار اور نینار سنتوں نے ذاتی کے رواج اور برہمنوں کی افضلیت کے خلاف آواز اٹھائی

سبب R:- یہ بھگتی سنت مختلف ذاتی برادریوں میں سے تھے جیسے برہمن، کاشت کار، کسان اور نیچی مانے جانے والی ذاتیں
الف) بیان A اور سبب R دونوں صحیح ہیں اور سبب R بیان A کا صحیح خلاصہ ہے۔

(ب) بیان A اور سبب R دونوں صحیح ہیں اور سبب R بیان A کا صحیح خلاصہ نہیں ہے۔

(ج) صرف بیان A صحیح ہے

(د) صرف سبب R صحیح ہے

D۔ الوارنتوں کے کس شعری مجموعہ کا خلاصہ نقل ہیل کے طور پر کیا جاتا ہے؟


(الف) گل ایراد پور پر بندم

(ب) سینگھ دوتم

(ج) قراء شازیم

(د) شیلو کاروہکارم

23۔ ازیسہ کے اس مشہور دیوتا کی تصویر کو نور سے دیکھتے اور دیکھتے گئے کسی تین سوالوں کا صحیح جواب دیجئے۔



سوالات

A۔ اس تصویر میں اہم دیوتا کا کیا نام ہے؟

(الف) رام

(ب) شیو

(ج) جگناتھ

(د) پتل

- B اس تصویر میں سوتر آکس کی تفتی ہے؟
- (الف) جگنا تھ (ب) بلرام
(ج) کرشن (د) تلسی داس
- C بیان A:- یہ تصویر چھوٹے اور عظیم کی روایت کا ایک بہترین نمونہ ہے۔
- سبب R:- چھوٹی اور عظیم رواداری لفظ بیسویں صدی کے ماہرین سماجیات رویت رینز فیل نے پیش کیا تھا۔
- (الف) صرف بیان A صحیح ہے
(ب) صرف سبب R صحیح ہے
(ج) بیان A اور سبب R دونوں صحیح ہیں اور سبب R بیان A کا صحیح خلاصہ ہے۔
(د) بیان A اور سبب R دونوں صحیح ہیں اور سبب R بیان A کا صحیح خلاصہ نہیں ہے۔
- D کرشن بھگتی کس پرپرا اور روایات کی مثال ہے؟
- (الف) چھوٹی روایت (ب) عظیم روایت
(ج) دونوں (د) دونوں میں سے کوئی نہیں

مختصر جواب والے سوالات (3 نمبر والے)

- 1- چشتی سلسلہ کو مختصر طور پر بیان کیجئے۔
- 2- بھگتی تحریک کی ابتدا کی اہم وجوہات کیا تھیں؟
- 3- ہندوستان کے سماجی نظام پر بھگتی تحریک کے پڑنے والے اثرات کی وضاحت کیجئے۔
- 4- صوفی ازم میں خانقاہ کا تذکرہ کیجئے۔
- 5- الوار اور فنا رستوں سے کیا مراد ہے؟ ذات پات سے متعلق ان کا نظریہ کیا تھا؟

- 6- حکمرانوں اور رعایا کے مذہبی عقائد میں کیا اختلاف تھے؟ حکمرانوں کے ذریعے اس کے لئے کیا کوششیں کی گئیں؟
- 7- بھگتی سنتوں کا کن کن صوبوں سے تعلق ہے؟ بتائیے
- 8- کبیر کے ذریعے بنیادی سچائی کی نوعیت کو واضح کیجئے؟
- 9- ویرشیو کون تھے؟ انہوں نے سماج میں رائج کن برائیوں کی مخالفت کی؟
- 10- اسلام کی ان خصوصیات کی وضاحت کیجئے جن کی مدد سے یہ مذہب پورے جزیرے نما میں پھیل گیا۔
- 11- صوفی سنتوں کے ریاستوں کے ساتھ کس طرح کے تعلقات تھے؟
- 12- انڈال اور کبرائیکل امیاز کون تھی اور ان کا کیا تعاون تھا؟

طویل جواب والے سوالات (آٹھ نمبر والے)

- 1- صوفی مت کے اہم اصولوں کی بیان کیجئے۔
- 2- بھگتی رسومات میں عورتوں کے تعاون کا تذکرہ کیجئے۔
- 3- کبیر، گرونا نک اور میرابائی اکیسویں صدی میں بھی معنویت کی حامل ہیں۔ اس بیان پر تبصرہ کیجئے۔
- 4- کبیر ایک سماجی مصلح تھے۔ کبیر کی تعلیمات کے ضمن میں مذکورہ بیان پر تبصرہ کیجئے۔
- 5- صوفی سنتوں کے ریاستوں کے ساتھ تعلقات پر روشنی ڈالئے۔
- 6- کبیر اور ناک کی اہم تعلیمات کو بیان کیجئے۔ ان کی تبلیغ کس طرح کی گئی؟
- 7- گرونا نک کی تعلیمات پر روشنی ڈالئے۔ کیا وہ کوئی نئے مذہب کی بنیاد ڈالنا چاہتے تھے؟
- 8- لنگاہت کون تھے؟ ذات پات کے تناظر میں سماجی اور مذہبی ضمن میں ان کے تعاون کا تذکرہ کیجئے۔
- 9- معروف خاتون شاعرہ میرابائی کی سوانح عمری ابتدائی طور پر کس بنیاد پر مرتب کی گئی ہے؟ سماج میں رائج عقیدوں کی حکم عدوئی کس طرح کی؟ واضح کیجئے۔

10- شیخ نظام الدین اولیاء کی خانقاہی زندگی کی اہم خصوصیات بیان کیجئے۔

اقتباس پر مبنی سوالات

1- مندرجہ ذیل اقتباس کا بغور مطالعہ کیجئے اور متعلقہ سوالات کے جواب دیجئے۔

مغل شہزادی جہاں آرا کی زیارت: 1643

مندرجہ ذیل اقتباس جہاں آرا کی تحریر کردہ ”شیخ معین الدین چشتی“ کی سوانح عمری بعنوان ”مولانا ارواح“ سے لیا گیا ہے

اللہ تعالیٰ کی حمد و ثنا کے بعد..... یہ فقیر و حقیرہ جہاں آرا دارالسلطنت آگرہ سے اپنے عظیم ولد (شاہ جہاں) کے ہمراہ خطہ پاک اجمیر کے لیے روانہ ہوئی..... میں اس بات کے لیے پابند تھی کہ ہر روز ہر منزل پر دو رکعت نماز نفل ادا کروں گی۔ بہت دن تک..... میں تیندوے کی کھال پر نہ سوئی اور نہ روضہ مبارک (مقدس درگاہ) کی سمت پیر پھیلائے اور نہ اس کی طرف پشت کی۔ میں نے درخت کے نیچے دن گزارے۔

یہ روز جمعرات، رمضان المبارک کے مقدس مہینے کے چوتھے دن مرتقد معطر و منور کی زیارت کی خوشی و سعادت حاصل ہوئی... دن کی روشنی کا ایک پہر باقی تھا کہ میں روضہ مقدس کے اندر گئی اور اپنے زرد چہرے پر اس آستانے کی خاک ملی۔ دروازہ سے روضہ مقدس تک بہ بند پا زمین چومتی گئی۔ گنبد شریف میں داخل ہو کر اپنے پیر کے پر نور روضہ کے سات پھیرے لیے... آخر میں عمدہ ترین عطر کو معطر روضہ پر اپنے ہاتھوں سے ملا اور گلاب کے پھولوں کی چادر جو اپنے سر پر رکھ کر لائی تھی، میں نے قبر مبارک پر چڑھائی۔

سوالات

- 1- جہاں آرا نے سفر کے دوران کن اصولوں پر عمل کیا؟ 3
- 2- جہاں آرا نے درگاہ کی زیارت کے منظر کو کیسے بیان کیا ہے؟ 2
- 3- زیارت سے کیا مراد ہے؟ 2

2- مندرجہ ذیل اقتباس کا بغور مطالعہ کیجیے اور متعلقہ سوالات کے جواب دیجیے۔

شاہی تحفے کا قبول نہ کرنا

یہ اقتباس ایک صوفی کی کتاب سے لیا گیا ہے جو 1313 میں شیخ نظام الدین اولیا کی خانقاہ کے طریقہ عمل کو بیان کرتی ہے۔

میں (امیر حسن سنجری) خوش قسمت تھا کہ ان (شیخ نظام الدین اولیا) کی قدم بوسی کر پایا..... اس زمانے میں ایک مقامی حکمران نے ہانچوں اور بہت سی زمین کی ملکیت کی دستاویز مع ان کی دیکھ بھال کے اوزاروں کی گنجائش و شرائط کے ساتھ شیخ کے پاس بھیجی۔ حکمران نے یہ بھی واضح کیا کہ وہ ہانچوں اور زمین پر اپنے تمام حقوق سے دست بردار ہوتا ہے۔ آقا (شیخ) نے یہ تحفہ قبول نہ کیا اس کے بجائے انھوں نے افسوس کیا۔ ”ان ہانچوں، کھیت اور زمین کے ساتھ کیا کرنا؟..... ہمارے کسی بھی روحانی پیر نے اس طرح کے عمل میں اپنے آپ کو مشغول نہیں کیا۔“

پھر انھوں نے ایک مناسب حکایت بیان کی... ”سلطان غیاث الدین جو اس زمانے میں الفخ خان کے نام سے معروف تھے شیخ فرید الدین کی زیارت کے لیے آئے۔ انھوں نے کچھ رقم اور چار گاؤں کی ملکیت کی دستاویز شیخ کو پیش کی۔ رقم درویشوں (صوفیوں) کی بھلائی کے لیے اور زمین شیخ کے استعمال کے لیے تھی۔ شیخ الاسلام (فرید الدین) نے مسکراتے ہوئے کہا۔ مجھے رقم دے دو میں اس کو درویشوں میں تقسیم کر دوں گا لیکن جہاں تک زمین کی دستاویز کا سوال ہے اسے تم رکھو بہت لوگ جو طویل عرصہ سے اس کے متمنی ہیں ان کو دے دو

سوالات

- 1- غیاث الدین سلطان نے رقم کن لوگوں کے لیے دی تھی؟ 2
- 2- حضرت نظام الدین اولیا کو مقامی حکمران نے کیا تحفہ پیش کیا؟ 2
- 3- مندرجہ بالا اقتباس کی بنیاد پر حکمران اور صوفی سنتوں کے تعلقات کی وضاحت کیجیے۔ 3

موضوع۔ سات

ایک شاہی راجدھانی — وجے نگر (تقریباً چودھویں صدی سے سولہویں صدی تک)

یاد رکھنے لائق نکات

- 1- وجے نگر یا ”منج کاشہر“ سلطنت چودھویں صدی میں قائم ہوئی تھی۔
- 2- یہ کرشنا، جگ بھدر اور آب علاقے میں واقع تھا۔
- 3- بھی کے بھگنا ویش سب سے پہلے 1800 عیسویں صدی میں کرنل کولن میکنیزی کے ذریعہ روشنی میں آئے۔
- 4- میکنزی جو ایسٹ انڈیا کمپنی کے ملازم تھے، نے اس مقام کا سب سے پہلے سروے پر مبنی نقشہ تیار کیا۔
- 5- وجے نگر سلطنت کا قیام 1336 عیسویں میں ہری ہرا اور بنگا کے ذریعہ عمل میں آیا۔
- 6- وجے نگر کے حکمران اپنے آپ کو ”رائے“ کہتے تھے۔
- 7- وجے نگر کے حکمرانوں کی دکن کے سلاطین، اڑیسہ کے بادشاہوں وغیرہ کے ہم عصر حکمرانوں کے ساتھ مقابلہ آرائی کی۔
- 8- اس دور میں حکمران، گھوڑ سوار فوج کے گھوڑوں کے لئے عربی تاجروں پر منحصر تھے۔
- 9- وجے نگر مسالوں، کپڑوں اور قیمتی پتھروں کے اپنے بازاروں کے لیے مشہور تھا۔
- 10- غیر ملکی تجارت سے حاصل سرکاری ٹیکس کے ذریعہ وجے نگر کی ترقی ہوئی۔
- 11- وجے نگر پر سکھ، سلو، تلوار اور اوڈ وغیرہ خاندانوں نے حکومت کی۔
- 12- وجے نگر کے سب سے زیادہ مشہور بہادر بادشاہ کرشن دیورائے کا تعلق تلو خاندان سے تھا۔ کرشن دیورائے نے آکھن جہانپانی کے معلق تیگوزبان میں ”اسکنا ملاند“ نامی کتاب تحریر کی تھی۔
- 13- عظیم قلموں کی دیواروں سے وجے نگر شہر کی گھیر بندی کی گئی تھی۔

- 14- کنویں برسات کے پانی والے آبی ذخائر اور مندروں کے آبی ذخائر وغیرہ ممکنہ طور پر عام شہریوں کے لیے پانی کے وسیلے کا کام کرتے تھے۔
- 15- دو بہت ہی موثر پلیٹ فارم ہیں۔ ”دیوان عام“ اور ”مہانومی ڈبہ“
- 16- شاہی مرکز میں واقع سب سے خوبصورت عمارتوں میں سے ایک عمارت ”کمل محل“ ہے۔
- 17- نائیک فوجی سربراہ (سردار) تھے۔ ان کے پاس ہتھیار بند دگا ہوتے تھے۔
- 18- امر نائیک (अमर नायक) فوجی کمانڈر ہوتے تھے۔
- 19- وجے نگر میں دو مشہور مندروں پر ویکش مندر اور وٹل مندر
- 20- ہزارا رام مندر وجے نگر کے شاہی مرکز میں واقع ہے۔
- 21- دکن کے مندروں کے اونچے دروازوں کو ”گوپورم“ کہا جاتا ہے۔
- 22- مہانومی ڈبہ ایک بڑا اور بیماری پلیٹ فارم ہے جو تقریباً 1100 مربع فٹ کی کرسی سے 40 فٹ کی بلندی تک اٹھا ہوا ہے۔
- 23- شہر کا قلب (مرکز) شہر کے قلب کی جانب جانے والی سڑکوں کی طرف چلیں تو عام لوگوں کے مکانات کی شہادتیں نسبتاً کم ملتی ہیں۔ ماہرین آٹا رقدیر کو کچھ علاقوں بشمول شہروں کے قلب کا شمال مشرقی کنارے میں عمدہ چینی برتن ملے ہیں۔
- 24- پرتگالی سیاح باربوسا کے مطابق دیگر لوگوں کے مکانات چھپر کے ہیں مگر یہ بھی اچھے ڈھنگ سے بنائے گئے ہیں۔ پیشے کے مطابق بہت کھلے مقامات والی لمبی سڑکوں پر منظم طریقے سے بنائے گئے ہیں۔
- 25- آبی وسائل۔ تنگ بھدراندی شمال مشرق کی سمت بہتی ہے۔ وجے نگر کی سب سے قابل توجہ خصوصیت تنگ بھدراندی کے ذریعے تشکیل کیا گیا ایک قدرتی نشیبی زمین (تینن) ہے۔ قرب وجوار کے بُری مناظر نہایت عمدہ گریٹائٹ کی پہاڑیوں سے متصف ہیں جو شہر کے اطراف حلقہ بناتی دکھائی دیتی ہیں۔
- 26- کملاپورم ایک آبی ذخیرہ، ایک اہم حوض ہے جس کی تعمیر پندرہویں صدی کے ابتدائی سالوں میں ہوئی تھی۔ اسے ایک نہر کے ذریعے شاہی مرکز تک بھی لے جایا گیا ہے۔
- بیریا نہر۔ سب سے اہم آب رسانی کے کام کے لیے جانی جاتی ہے جسے اب کنڈرات میں دیکھا جاسکتا ہے
- 27- 1565 میں وجے نگر کے وزیر اعظم رام رائے کی قیادت میں راکشسی ٹانگاری (ثانی کونا) کے میدان جنگ میں بیجاپور، احمد نگر اور کولکنڈہ کی مشترکہ فوجوں کے ہاتھوں وجے نگر کی شکست ہوئی۔

وہجے نگر سلطنت میں آنے والے تین سیاح

ملک	سیاح
فارس	(i) عبد الرزاق
اطلی	(ii) کولن میکٹوی
اطلی	(iii) ڈوینگلو پیس

مختصر ترین سوالات 1 نمبر

- 1- وہجے نگر کے مکمل پورم حوض کی ایک اہمیت بتائیے۔
- 2- کو پورم اور منڈپ میں کوئی ایک فرق بتائیے۔
- 3- وہجے نگر کو کب اور کس نے قائم کیا؟
- 4- وہجے نگر کے حکمرانوں نے کون سا اعزاز حاصل کیا تھا؟
- 5- اشوپتی (گرڈو کے مالک) اور زپتی لوکوں کے مالک میکس کیا فرق ہے؟
- 6- راکشی۔ ٹانگڑی کی لڑائی کن کے بیچ میں ہوئی اور اس میں کس کو فتح ملی؟
- 7- وہجے نگر کی دارالسلطنت کا کیا نام تھا؟ اور اسے کس کے نام پر رکھا گیا تھا؟
- 8- کرشن دیورائے کی حکومت کی کیا خصوصیات تھیں؟
- 9- کرشن دیورائے کا تعلق کس خاندان سے تھا؟
- 10- پون راج کو قائم کرنے والا وید کس نے اور کیوں تمغہ حاصل کیا؟ کوئی ایک وجہ بتائیے۔

Objective Type questions

- 11- وہجے نگر کے راجاؤں نے ایک طاقتور فوج رکھی تا کہ وہ۔
(الف) عوام پر سخت کنٹرول کر سکیں

- (ب) زیادہ لوگوں کو روزگار دے سکے
- (ج) دکن کے سلطانیوں کے حملوں سے حفاظت کے لئے
- (د) ان میں سے کوئی نہیں
- 12- وجے نگر اور دکن کے سلطانیوں کے بیچ لگاتار تنازع کی وجہ تھی۔
- (الف) سیاسی اور معاشی (ب) سیاسی، سماجی اور معاشی
- (ج) ثقافتی اور معاشی (د) سیاسی، ثقافتی اور معاشی
- 13- امر نائیک درج ذیل میں سے کون سا کام نہیں کرتے تھے۔
- (الف) وہ کسانوں اور دستکاروں اور تاجروں سے
- (ب) یہ سلطنت کی تجارتی حکمت عملی تیار کرتے تھے
- (ج) وہ راجا کو ایک طاقتور فوج مہیا کرتے تھے
- (د) وہ اپنے علاقوں کے مندروں اور آب پاشی کے ذرائع پر رقم خرچ کرتے تھے
- 14- راجا کرشن رائے دیونے درج ذیل کتاب لکھی
- (الف) عامتت ملبہد (ب) لیبرا دیو پروندھم
- (ج) تب رم (د) برورنتھ صاحب
- 15- وجے نگر سلطنت پر کتنے شاہی خاندانوں کی حکومت رہی؟
- (الف) دو (ب) پانچ
- (ج) تین (د) چار
- 16- کرشن دیورائے دور حکومت تھا
- (الف) 1485ء سے 1550ء تک (ب) 1509ء سے 1529ء تک
- (ج) 1533ء سے 1545ء تک (د) 1550ء سے 1565ء تک

17- وجے نگر کے راجا ہوں نے کاشت کو بڑھاوا دینے کے لئے درج ذیل کام کیا

(الف) باندھا اور نہروں کو بندھا کر

(ب) کاشت کی زمین پر لگان بنا کر

(ج) فصل کے بازار کا انتظام کرنا

(د) فوج کے لئے کھانے کی اشیاء خرید کر

18- درج ذیل میں سے کرشن دیورائے کے بارے میں کون سا بیان غلط ہے:

(الف) اس نے رائے چورواپ حاصل کیا

(ب) اپنی ماں کے نام پر نگر پورم نام سے ایک شہر قائم کیا

(ج) کئی مشہور جنوبی ہندوستانی مندروں میں عالی شان کوپرموں کو چڑھایا۔

(د) اس نے ملی کے رواج پر روک لگائی

19- کالم A اور B سے جوڑے بنائیں

	B	A
عام لوگوں کے گھروں کا خلاصہ	A	(i) عبدالرزاق
وجے نگر کی قلعہ بندی کا خلاصہ	B	(ii) دوینگولیست
کرشن دیورائے ذکر	C	(iii) فرنا و نوج
وجے نگر کے بازار میں بکنے والے گوشت کا خلاصہ	D	(iv) بردوسا

صحیح جوڑے بنائیے

A	iv	D	iii	B	ii	C	i	(الف)
D	iv	A	iii	C	ii	B	i	(ب)
A	iv	D	iii	C	ii	B	i	(ج)
A	iv	C	iii	D	ii	B	i	(د)

20- بیان :- 1542 تک وجے نگر کی حکومت ارواویہ کے خاندان میں چلی گئی
سبب :- راکھسی..... تا نگری کی لڑائی کراوی۔ ہاتھ کے بعد وجے نگر سلطنت نے طاقتور سلطنت نہیں رہی۔


(الف) صرف بیان صحیح ہے

(ب) صرف سبب صحیح ہے

(ج) صرف بیان اور سبب دونوں صحیح ہیں اور بیان سبب کا خلاصہ کرتا ہے

(د) بیان اور سبب دونوں صحیح ہیں، لیکن سبب بیان کا خلاصہ نہیں کرتا

21- وجے نگر میں واقع یہ عالی شان فن تعمیرات کے نمونے کا کیا نام ہے؟



آبی وسائل

وجے نگر کے مقام کی سب سے زیادہ قابل توجہ خصوصیت تنگ بھدر راندی کے ذریعہ تشکیل کیا گیا ایک قدرتی
نقیمی زمین (بیس) ہے۔ تنگ بھدر راندی شمال مشرق کی سمت بہتی ہے۔ قرب وجوار کے بری مناظر نہایت
عمدہ گریٹائٹ کی پہاڑیوں سے متصف ہیں جو شہر کے اطراف حلقہ بنائی دکھائی دیتی ہیں۔ ان انگری ہوئی
پہاڑیوں سے کئی چشمے بہ کر ندی سے ملتے ہیں۔

ان سبھی معاملات میں ان چشموں کے ساتھ باندھ بنا کر مختلف سائز کے آبی ذخیرے بنائے گئے تھے۔ کیونکہ یہ

جزیرہ نما کے سب سے خشک حلقوں میں سے ایک تھا۔ اس لیے بارش کے پانی کو ذخیرہ کرنے اور اس کو شہر تک لانے کے لیے مناسب بندوبست کرنا ضروری تھا۔ اس طرح کے آبی ذخیروں میں سے ایک تعمیر چند صدیوں بعدی کے ابتدائی سالوں میں ہوئی تھی اور جس کو اب کملاپورم آبی ذخیرہ کہا جاتا ہے۔ اس آبی ذخیرہ کے پانی سے نہ صرف قرب وجوار کے کھیتوں کی آب پاشی کی جاتی تھی بلکہ ایک شہر کے ذریعہ ”شاهی مرکز“ تک بھی لے جایا گیا ہے۔

سب سے اہم آب رسانی کے کام کو ”بیر یا نہر“ کے کھنڈرات میں دیکھا جاسکتا ہے۔ اس نہر میں تنگ بھدرامدی پر بنے باندھ سے پانی لایا جاتا تھا اور اس سے ”مذہبی مرکز“ سے ”شہری قلب“ کو الگ کرنے والی زراعت یافتہ وادی کی آبپاشی کی جاتی تھی۔ اس کو غالباً حکم شاهی خاندان کے راجاؤں نے تعمیر کروایا تھا۔

A- وجے نگر کے راجاؤں نے باندھوں اور نہروں کو تعمیر کروایا کیونکہ:

(الف) وجے نگر ایک سوکھا علاقہ تھا

(ب) کاشت کی زمین کی آب پاشی کے لئے

(ج) گھریلو استعمال کے لئے

(د) درج بالا سب کے لئے

B- کس سیاح نے کرشن دیورائے کے بنوائے ہوئے حوض کے بارے میں ذکر کیا ہے؟

(الف) ڈونگولیس (ب) مارکونولو

(ب) ابن بطوطہ (ف) فرانسوا میر

C- مکمل پورم حوض کب بنا؟

(الف) پندرہویں صدی (ب) سولہویں صدی

(ج) تیرہویں صدی (د) بارہویں صدی

D- نیچے دو بیانات دیئے گئے ہیں جن میں سے ایک کو بیان A کے طور پر اور دوسرے سبب R کے طور پر دکھایا گیا ہے۔ اس میں

سے صحیح کون سا ہے؟ بتائیے

بیان A:- ننگہ دریا کے کناروں کے ساتھ ساتھ بائیں طرف بنا کر الگ الگ طرح کے سائز کے حوض بنائے گئے تھے۔

سبب R:- یہ علاقہ برصغیر کے سب سے خشک علاقوں میں سے تھا اس لئے پانی کا انتظام کرنا اور جمع کرنا ضروری تھا۔

(الف) بیان A اور سبب R دونوں درست ہیں۔ سبب R بیان A کا خلاصہ کرتا ہے

(ب) بیان A اور سبب R دونوں درست ہیں۔ سبب R بیان A کا خلاصہ کرتا ہے

(ج) صرف بیان A درست ہے

(د) صرف سبب R درست ہے

22۔ وجے نگر میں واقع اس مندر کو فورسے دیکھئے اور نیچے دیئے گئے تین چار سوالوں کے جواب دیجئے۔



-A یہ تصویر وجے ٹگر کے..... مندر کی ہے

(الف) کمل محل (ب) ہزار رام مندر

(ج) ویروپاکس مندر (د) وبل مندر

-B یہ مندر کس دیوتا کے لئے سپرد ہے؟

(الف) گنیش (ب) وشنو

(ج) شیو (د) درج بالا میں سے کوئی

-C مندر کے منڈپ کا استعمال کس کام کے لئے کیا جاتا تھا؟

(الف) دیوی دیوتاؤں کو جھولا جھولانے کے لئے

(ب) تیرتھ یا تری کے آرام کے لئے

(ج) شادی بیاہ کے لئے

(د) کھانے کی اشیاء کو جمع کرنے کے لئے

-23 نیچے دو بیان دیئے گئے ہیں جن میں سے ایک بیان A اور دوسرے کو سبب R کے طور پر دکھایا گیا ہے۔

بیان A:- راجاؤں نے مندروں میں منڈپ اور کوپورم بنوائی

سبب R:- مندروں میں ان تہہ بلیوں کے سبب دیوی، دیوتاؤں کی مورتیوں کو مندر کے چھوٹے حصے تک محدود کر دیا تھا۔

صحیح جواب چنئے:

(الف) بیان A اور سبب R دونوں درست ہیں۔ سبب R بیان A کا خلاصہ کرتا ہے

(ب) بیان A اور سبب R دونوں درست ہیں۔ سبب R بیان A کا خلاصہ نہیں کرتا ہے

(ج) صرف بیان A درست ہے

(د) صرف سبب R درست ہے

معروضی سوالات

- 1- وجے نگر سلطنت کا قیام ہری ہرا اور نکا کے ذریعے کب عمل میں آیا؟
- 1- 1342ء میں 2- 1336ء میں
- 3- 1436ء میں 4- 1236ء میں
- 2- وجے نگر کے حکمرانوں نے اپنے لیے کون سا اعزاز حاصل کیا۔
- 1- رائے 2- ناپیک 3- سلطان 4- سامنت
- 3- وجے نگر شہر کن دریاؤں کے درمیان بسا ہوا تھا۔
- 1- کرشنا و کاویری ندی 2- کرشنا و تگک بھدراندی
- 3- کاویری اور تگک بھدراندی 4- گنگا و میناندی
- 4- کرشن دیورائے کا تعلق کس خاندان سے تھا۔
- 1- سنگم خاندان 2- اشوئڈ خاندان
- 3- تلوو خاندان 4- سلو خاندان
- 5- A- وجے نگر کا امر ناک نظام سلطنت کی ایک مخصوص سیاسی اہمیت کا حامل تھا۔
- B- اس نظام کے کئی عناصر مدلی سلطنت کے اقتضاء نظام سے لیے گئے تھے۔
- A- دونوں A اور R صحیح ہیں اور R، A کا صحیح خلاصہ کرتا ہے۔
- B- دونوں A اور R صحیح ہیں اور R، A کا صحیح خلاصہ نہیں کرتا ہے۔
- C- صرف R صحیح ہے جبکہ A غلط ہے۔

D - صرف A صحیح ہے جبکہ R غلط ہے۔

6 - ہمیں شہر کو قومی شناخت کب ملی؟

1- 1980 2- 1986 3- 1976 4- 1966

7 - بیان A: ایک لوٹس (کمل) محل جو کا نام 21 ویں صدی کے انگریز سیاحوں نے رکھا۔

بیان B: لوٹس (کمل) محل ایک ایوان مجلس تھا جہاں راجہ اپنے مشیروں سے ملاقات کرتا تھا۔

A - دونوں A اور R صحیح ہیں اور A+R کا صحیح خلاصہ کرتا ہے۔

B - دونوں A اور R صحیح ہیں اور A+R کا صحیح خلاصہ نہیں کرتا ہے۔

C - صرف R صحیح ہے جبکہ A غلط ہے۔

D - صرف A صحیح ہے جبکہ R غلط ہے۔

8 - وجے نگر سلطنت میں تاجروں کے گروپ کو کس نام سے جانا جاتا تھا؟

1- وینار 2- کدورتی چوٹی 3- سیٹی 4- شریٹی

9 - مہانومی ڈبہ کے تعلق سے مندرجہ ذیل بیانیوں میں سے کون سا بیان صحیح ہے۔

A - مہانومی ڈبہ، راجہ کے محل کا ہی حصہ تھا۔

B - مہانومی ڈبہ مقدس مقام تھا۔

C - مہانومی ڈبہ ایک صلاح مشورہ کا مقام تھا۔

D - مہانومی ڈبہ ایک مقام مجلس تھا۔

10 - میلان کیجیے۔

-A	عبدالرزاق	-1	اٹلی
-B	کولوکوئی	-2	فارسی
-C	برہوسا	-3	روس
-D	کئی تین	-4	پرتگال

(1) A-iii, B-iv, C-i, D-ii

(2) A-iv, B-iii, C-i, D-ii

(3) A-ii, B-i, C-iv, D-iii

(4) A-iv, B-iii, C-ii, D-i

مختصر جواب والے سوالات (تین نمبر والے)

- 1- کولن مکینزی کون تھا؟ اس نے تاریخ سے متعلق روایات اور مقامات کا مطالعہ کیوں شروع کیا؟
- 2- پرتگالیوں نے وجے نگر میں اپنے تجارتی مراکز قائم کرنے کی کوشش کیوں کی؟
- 3- مندر کے ایوان (ہال) کا استعمال کس قسم کے کاموں کے لئے کیا جاتا تھا؟
- 4- وجے نگر کے آبی نظام کا تذکرہ کیجئے
- 5- کرشن دیورائے کے خصوصی کارناموں کو بیان کیجئے
- 6- وجے نگر شہر اور سلطنت کی تاریخ کی اکثر نوک تعمیر کس طرح ہوئی؟ وضاحت کیجئے
- 7- مکمل محل کا نام مکمل محل کیوں رکھا گیا؟ وجے نگر سلطنت میں اس کی اہمیت کو واضح کیجئے
- 8- ہمیں کے کھنڈرات کس طرح اور کب منظر عام پر آئے؟ مختصر واضح کیجئے
- 9- وجے نگر کے امر نامک نظام کی خصوصیات کو بیان کیجئے

طویل جواب والے سوالات (آٹھ نمبر والے)

- 1- وجے نگر حکومت میں امر نائک نظام ایک اہم سیاسی دریافت تھی۔ اس کی وضاحت کیجئے
- 2- وجے نگر کے مخلوں، مندروں اور بازاروں کی بازیافت کس طرح کی گئی؟
- 3- وجے نگر میں قلعہ بند علاقے میں زراعتی زمین کو کیوں رکھا گیا تھا؟ اس کے کیا فائدے اور نقصانات تھے؟
- 4- بہمنی اور وجے نگر کے درمیان تصادم (مقابلہ آرائی) کی اہم وجوہات کیا تھی؟
- 5- وجے نگر کے شاہی مرکز میں واقع عمارتوں کا تذکرہ کیجئے۔
- 6- وجے نگر کے جغرافیائی حالات کے بارے میں حیران کن کردینے والی باتیں اس کے آبی ذخائر اور قلعہ بندیوں کا تذکرہ کیجئے
- 7- پندرہویں صدی کے دوران فارس کا سفیر عبد الرزاق وجے نگر کی قلعہ بندی سے کس طرح متاثر ہوا؟

اقتباس پر مبنی سوالات

- 1- مندرجہ ذیل اقتباس کا بغور مطالعہ کیجئے اور متعلقہ سوالات کے جواب دیجئے۔

آبی ذخائر (تالاب) کی تعمیر کیسے ہوئی؟

چیس، کرشنا دیورائے کے تعمیر کردہ آبی ذخیرہ کے متعلق لکھتا ہے:

راجا نے ایک آبی ذخیرہ (تالاب) تعمیر کروایا..... دو پہاڑوں کے درمیان (منہ) پر واقع ہے۔ اس وجہ سے کسی بھی پہاڑ کی طرف سے آنے والا سارا پانی یہاں جمع ہو جاتا ہے۔ اس کے علاوہ پانی تقریباً تین لاکھ (اندازاً 15 کلومیٹر) کی دوری سے پانیوں کے ذریعہ آتا ہے جو باہری سلسلے کے نچلے حصے کے ساتھ بہتا ہے۔ یہ پانی ایک جھیل سے لایا جاتا تھا جو بھر جانے پر خود ایک چھوٹی سی ندی میں ملتی ہے۔ آبی ذخیرے میں تین بڑے ستون بنے ہیں، جن پر خوبصورتی سے تصاویر منقش کی گئی ہیں۔ یہ اوپر سے تین پانیوں کے ذریعہ جڑی ہوئی ہیں جن سے وہ اپنے باغات اور دھان کے کھیتوں کی آبیاری کے لئے پانی لاتے ہیں۔ اس آبی ذخیرہ کو بنانے کے لیے اس راجا نے ایک پہاڑی کو توڑ دیا تھا..... میں نے اس آبی ذخیرہ میں بہت سے لوگوں کو کام کرتے دیکھا ہے۔ یہاں پر پندرہ سے عیس

ہزار افراد تھے بالکل چوٹیوں کی طرح.....

سوالات

- 1- راجا نے تالابوں کی تعمیر کیوں کرائی اور آبی ذخائر میں پانی کی ذخیرہ اندوزی کیسے کی جاتی تھی؟ 2
- 2- وجے نگر کے آبی نظام کو بیان کیجیے۔ 1
- 3- کرشن دیورائے کے ذریعے تالابوں کی تعمیر کہاں اور کیوں کرائی گئی؟ 2

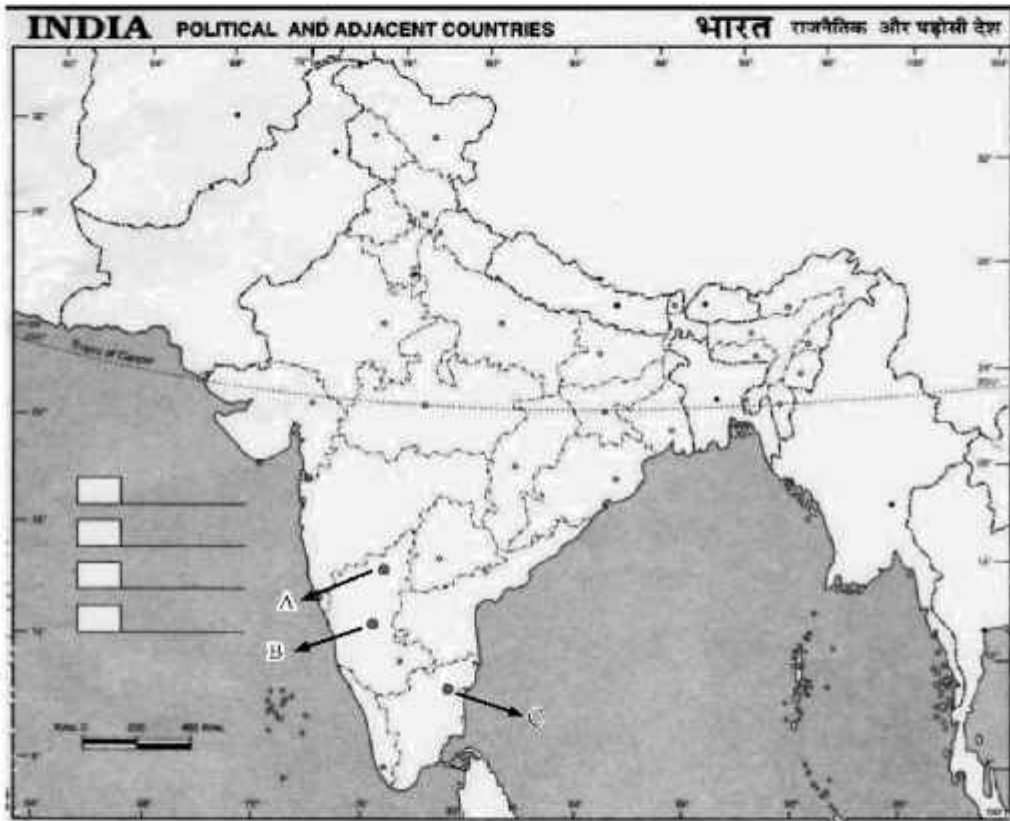
راجا اور تاجر

وجے نگر کے سب سے مشہور حکمران کرشن دیورائے (دور حکومت 29-1509) نے آئین جہانبانی کے متعلق تیگو زبان میں "امکتا مالاندا" نامی ایک کتاب تحریر کی تھی۔ تاجروں کے متعلق وہ لکھتا ہے:

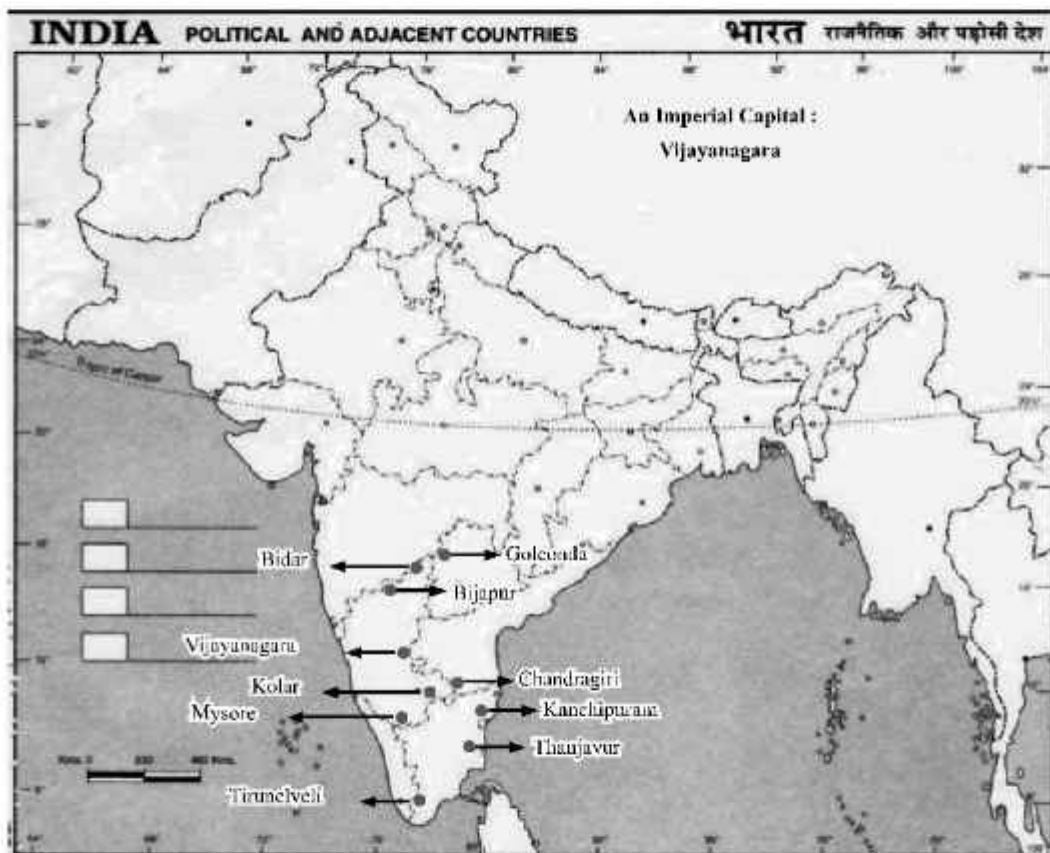
ایک راجا کو اپنی بندرگاہوں کو بہتر بنانا چاہیے اور تجارت کو اس طرح بڑھاوا دینا چاہیے کہ گھوڑوں، ہاتھیوں، قیمتی جواہرات، سمنڈل کی لکڑی، موتیوں اور دیگر ایشیا کو آزادی کے ساتھ درآمد کیا جاسکے..... اسے ایسا انتظام کرنا چاہیے کہ غیر ملکی جہاز والوں کو جنہیں طوفان، بیماری اور تھکن کی وجہ سے یہاں لنگر انداز ہونا پڑتا ہے، کی مناسب انداز میں دیکھ بھال کی جاسکے..... دور دراز کے غیر ملکی تاجروں جو ہاتھیوں اور عمدہ گھوڑوں کی درآمد کرتے ہیں، سے روزانہ کی رسمی ملاقات کر کے، تحفے دے کر اور مناسب منافع کی منظوری دے کر خود کو وابستہ کرنا چاہیے۔ ایسا کرنے کے بعد یہ ایشیا کبھی بھی تمہارے دشمنوں کے ہاتھوں میں نہیں پہنچیں گی۔

سوالات

- 1- ایک راجا کو اپنی بندرگاہوں کو کیوں بہتر بنانا چاہیے؟ 2
- 2- کرشن دیورائے کے دور حکومت میں کن کن ایشیا کی درآمد ہوتی تھی؟ 2
- 3- راجا کو غیر ملکی تاجروں کے ساتھ مناسب انداز میں دیکھ بھال کیوں کرنا چاہیے؟ 3



دیئے گئے ہندوستان کے نقشے پر مینسور، کولکونڈا اور تنزور کو دکھائیے۔
اسی نقشے پر دو مقامات A, B دیئے گئے ہیں۔ انہیں پہچان کر دی گئی لائن پر ان کا نام لکھئے۔



موضوع۔ آٹھ

کاشت کار، زمیندار اور ریاست زرعی سماج اور مغلیہ حکومت (تقریباً سولہویں صدی سے سترہویں صدی تک)

یاد رکھنے لائق نکات

- 1- سولہویں، سترہویں صدی کے دوران ہندوستان میں تقریباً 85 فیصدی لوگ دیہات میں رہتے تھے۔
- 2- چھوٹے کاشت کار اور زمیندار دونوں ہی زرعی پیداوار سے وابستہ تھے۔
- 3- سب سے اہم تاریخی دستاویز 'آئین اکبری' جسے اکبر کے درباری مورخ ابوالفضل نے تحریر کیا تھا۔
- 4- گجرات، مہاراشٹر، راجستھان اور ایسٹ انڈیا کمپنی کے دستاویز بھی اسی عہد کے ماخذ ہیں۔
- 5- رعیت، مزارعین، خودکاشت، پابی کاشت، کاشت کار کے لئے استعمال کیے گئے الفاظ ہیں۔
- 6- مانسون ہندوستانی زراعت کی ریڑھ کی ہڈی تھا۔
- 7- موسم کی دوا، ہم گردشوں کے دوران زراعت کا نظم کیا جاتا تھا۔
— ایک خریف (خزاں کے موسم میں)
— دوسری ریف (بہار کے موسم میں)
- 8- کپاس اور گنے جیسی فصلیں افضل ترین جنس کامل تھیں۔ وسطی ہندوستان اور دکنی پٹنار کا علاقہ قد میں کپاس کی کھیتی کی جاتی تھی تاہن اور دکن بھی نقدی فصلوں میں آتی تھیں جب کہ بنگال چینئی نے لیے مشہور تھا۔
- 8- دیہی لوگوں کے تین گروپ تھے۔ زرعی کسان، پنچایت اور گاؤں کا کھیا (مقدم یا منڈل)۔
- 9- سترہویں صدی میں مارواڑ میں شائع کیے گئے ایک رسالے میں راجپوتوں کا ذکر بحیثیت کسان کیا گیا ہے۔

- 10- جن گاؤں میں کئی ذات کے لوگ رہتے تھے وہاں پنچایت میں بھی تنوع پایا جاتا تھا۔
- 11- زرعی سماج میں خواتین مردوں کے ساتھ کندھے سے کندھا ملا کر کھیتوں میں، عجم ریزی، نرائی اور کٹائی کے ساتھ ساتھ کچی ہوئی فصل سے غلہ کو بھوسا اڑا کر صاف کرنے کا کام کرتی تھیں۔
- 12- دیہی سماج میں کسانوں اور دستکاروں کے درمیان فرق کرنا مشکل ہوتا تھا۔ کیوں کہ کئی ایسے گروہ تھے جو دونوں قسم کے کام کرتے تھے مثلاً بوائی اور زرائی کے درمیان فرائی اور کٹائی کے درمیان کھیتی ہر کسان دستکاری کا کام کرتا تھا۔
- 13- ہم عصر تصانیف میں جنگلات میں رہنے والوں کے لیے ”جنگلی“ کی اصطلاح مستعمل تھی۔
- 14- زمینداروں کی بلند حیثیت کی وجہ اس کی وسیع مقدار میں ذاتی زمین تھی جسے اصطلاحاً ’ملکیت‘ کہا جاتا تھا یعنی ’جائیداد‘۔
- 15- مغل گاؤں میں سماجی رشتوں کا تصور ایک اہرام کے طور پر کریں تو زمین دار اس کی چوٹی پر تھے۔
- 16- زمین کی مال گزاری کے انتظامات کے دو مرحلے تھے۔
- تفصیص
- حقیقی وصولی
- 17- اٹلی کے ایک سیاح گیووانی کاریری کی شہادت جو تقریباً 1690 میں ہندوستان سے واپس گیا تھا، ایک تحریری تصویر کشی مہیا کرتا ہے کہ کس طرح چاندی تمام دنیا کا سفر کر کے ہندوستان پہنچی تھی؟
- 18- ”چھوٹی جمہوریہ“ جہاں لوگ مجموعی سطح پر بھائی چارے کے ساتھ وسائل اور محنت کی حصہ داری کو تقسیم کرتے تھے۔
- 19- آئین پانچ فصلوں (دفتروں) کا مرکب ہے جس کی پہلی تین فصلوں میں انتظام حکومت کا تذکرہ ہے۔
- 20- کاشت کار دیہی سماج کا ایک اہم طبقہ تھا اور اس سے وصول کیے گئے محصول پر ہی پوری حکومت اور بادشاہت منحصر تھی۔
- 21- اس دور میں زمین کی افراط مز دوروں کی دستیابی اور کسانوں کی حرکت پذیری جن کی وجہ سے زراعت میں مسلسل توسیع ہوئی۔ آبپاشی کے منصوبوں کو ریاست کی حمایت حاصل ہوتی تھی۔
- 22- کاشت کار، پنچایت اور گاؤں کا کھیا دیہی سماج کے تین عناصر تھے۔

- 23- مویشی پالنے اور باغبانی میں بڑھتے منافع کی وجہ سے اہیر، کوجرا اور مالی جیسی ذاتیں سماجی درجہ بندی میں اٹھیں۔
- 24- گاؤں کی پنچایت کے علاوہ گاؤں میں ہر ذات کی اپنی الگ پنچایت ہوتی تھی۔
- 25- جہانی۔ اٹھارویں صدی کے دستاویزات بتاتے ہیں کہ بنگال میں زمیندار، لوہار، بڑھئی، سونا روغیرہ کو ان کی خدمات کے عوض روزانہ کا بھتہ اور کھانے کے لیے نقدی دیتے تھے۔ اس نظام کو جہانی کہتے تھے۔
- 26- طاقت ور لوگ گاؤں کے مسائل پر فیصلے لیتے تھے اور کمزور طبقے کا استعمال کرتے تھے۔
- 27- منصب داری نظام۔ مغل انتظامیہ کی چوٹی پر ایک ضابطہ پرست لوکر شاہی نظام منصب داری تھا جو ریاست کے شہری اور فوجی معاملات دیکھنے کے لیے متعین کیا جاتا تھا۔
- 28- اکبر کے عہد میں زمین کی درجہ بندی۔ (1) ”پولج“ وہ زمین ہے جس میں یکے بعد دیگرے ہر ایک فصل کی سالانہ زراعت ہوتی ہے اور جس کو کبھی خالی نہیں چھوڑا جاتا۔
- (2) ”پروٹی“۔ وہ زمین ہے جس پر کچھ وقت کے لیے زراعت کرنا چھوڑ دیا جاتا ہے تاکہ وہ اپنی طاقت (زرغیزی) دوبارہ حاصل کر سکے۔
- (3) ”پنجر“۔ وہ زمین ہے جس کو تین یا چار سال تک خالی چھوڑ دیا جاتا ہے۔
- (4) ”بخنجر“۔ اس زمین کو کہتے ہیں جس پر پانچ سال یا اس سے زیادہ کاشت نہ کی گئی ہو۔
- 29- مغل عہد کے گاؤں میں سماجی تعلقات کا تصور ایک پرائمڈ (Pyramid) کی شکل میں کی گئی ہے۔
- 30- مغل سرکار کی مال گزاری نظام کی دیکھ رکھیہ دیوان کی نمروانی میں ہوتی تھی۔

مختصر ترین سوالات (ایک نمبر والے)

- 1- پنچایت کا کون سا ملازم گاؤں کی آمدنی کے حساب کتاب میں کھیا کی مدد کرتا تھا؟
- 2- مغل عہد میں وصولی کی گئی رقم کو کس نام سے جانا جاتا تھا؟
- 3- مغل عہد میں (سلاہویں اور سترہویں صدی) کبھی کی مسلسل ترقی میں دواہم سبب کون سے تھے؟

- 4- سترہویں صدی میں نئی دنیا کے الگ الگ حصوں سے ہندوستانی برصغیر میں کون کون سی فصلیں پہنچیں؟
- 5- سلہویں، سترہویں صدی اجتماعی دیہاتی معاشرہ کے تین اہم عناصر کون سے تھے؟
- 6- مغل عہد کے گاؤں میں کھیتی پر دستکار خالی زمینوں میں کیا کام کرتے تھے؟
- 7- آئینہ اکبری کی تصنیف کا کام کس سال میں ہوا تھا؟
- 8- مغل نظام کے تحت گاؤں کی پنچایت کو کون سا حق حاصل تھا؟
- 9- اہوم راجاؤں کا تعلق ہندوستان کے کس صوبے سے تھا؟
- 10- پاک کون تھے؟

Objective Type questions

- 11- سلہویں، سترہویں صدی میں گاؤں میں تقریباً کتنے فیصد لوگ رہتے تھے؟
- (الف) پچاس فیصد (ب) پچاسی فیصد
(ج) اسی فیصد (د) پچتر فیصد
- 12- آئینہ اکبری کے مصنف تھے
- (الف) البرہوی (ب) برہنہ
(ج) ابوالفضل (د) ابن بطوطہ
- 13- مغل عہد میں دہلی کے صوبوں میں موسم کے دو مرحلوں کے مطابق کتنے قسم کی فصلیں پیدا ہوتی تھیں؟
- (الف) 43 (ب) 40
(ج) 38 (د) 50
- 14- مغل عہد کی سب سے اہم جنس کامل (سب سے عمدہ فصل) کون سی تھی؟
- (الف) کپاس (ب) گنا
(ج) مہلن (د) مکا

- 15- مغل عہد میں گاؤں کے کھیا کو کیا کہتے تھے؟
- (الف) مقدم (ب) خودکاشت
(ج) منصب دار (د) عامل
- 16- اکبر نامہ کتنی جلدوں میں لکھا گیا؟
- (الف) دو (ب) تین
(ج) چار (د) چھ
- 17- مغل سلطنت میں لگان وصول کرنے والا ملازم کس نام سے جانا جاتا تھا؟
- (الف) قانون کو (ب) سرکار
(ج) یاہی کاشت (د) عامل گزار
- 18- اٹلی کا رہنے والا سیاح جو اسی کا رہی کس سن میں ہندوستان آیا؟
- (الف) 1690 (ب) 1691
(ج) 1692 (د) 1693
- 19- جہانی نظام بنگال کے زمینداروں، لوہاروں، برہمن اور سونا روں کے بیچ کام کے لین دین کی جانکاری کس صدی کے ذرائع سے حاصل ہوتی ہے؟
- (الف) پندرہویں صدی (ب) اٹھارہویں صدی
(ج) سولہویں صدی (د) سترہویں صدی
- 20- مغل عہد میں کس دھات کے سکوں کا چلن سب سے زیادہ تھا؟
- (الف) چاندی (ب) سونا
(ج) تانبہ (د) ٹین

21- اس تصویر میں ابو الفضل کو کیا کام کرتے ہوئے دکھایا گیا؟



معروضی سوالات

- 1- مغل دور میں فارسی زبان میں کسان لیے الفاظ استعمال ہوتا تھا؟
 - 1- رعیت
 - 2- خودکاشت
 - 3- پابھی کاشت
 - 4- ان میں سے کوئی نہیں
- 2- اکبر نامہ کی تخلیق کس نے کی؟
 - 1- فردوسی
 - 2- ابو الفضل
 - 3- برنی
 - 4- ابن بطوطہ

- 3- گاؤں کے کھیلا منڈل کا اہم کام تھا۔ ذیل بیانوں میں سے درست جواب بتائیے۔
- 1- کھیا کا انتخاب گاؤں کے بزرگوں کے اتفاق سے ہوتا تھا۔
 - 2- اس انتخاب کے بعد انہیں زمیندار سے منظوری یعنی پڑتی تھی۔
 - 3- گاؤں کی آمدنی و خرچہ کا حساب اپنی نگرانی میں کروانا۔
 - 4- ان میں سے بھی
- 4- مندرجہ ذیل میں جنس کامل سے مراد ہے۔
- 1- سب سے عمدہ فصل
 - 2- خریف فصلیں
 - 3- ربی فصلیں
 - 5- اٹھارویں صدی میں خواتین زمینداری کہاں تھی۔
- 1- بنگال
 - 2- راجستھان
 - 2- پنجاب
 - 4- گجرات
- 6- زمینداروں کی خوشحالی کیوجہ ان کی
- 1- زمین
 - 2- خدمت
 - 3- ملکیت
 - 4- دولت
- 7- آئین اکبری میں ذیل میں دیئے بیانوں میں سے درست کو پہچانیں۔
- 1- منزل آبادی۔ شاہی خاندان سے تعلق رکھتی ہے۔
 - 2- سپاہ آبادی۔ فوجی و شہری نظم و نسق سے تعلق کے بارے میں۔
 - 3- ملک آبادی۔ جو مغل سلطنت و صوبوں کی مالگنداری کے اعداد و شمار کی جانکاری۔
 - 4- مندرجہ بالا سبھی
- 8- ذیل میں دو بیان دیئے گئے ہیں۔ جس میں ایک بیان A کے طور پر اور دوسرا سبب R کے طور پر دیا گیا ہے۔
- بیان A: مغل انتظامیہ میں اعلیٰ سطح پر ایک باضابطہ نوکری نظام، منصب داری تھا۔ جو ریاست میں شہری اور فوجی

معاملات دیکھنے کے لیے متعین کیا جاتا تھا۔

سبب R: بعض منصب داروں کو نقد تنخواہ/ بھگتیاں دیا جاتا تھا جبکہ زیادہ تر منصب داروں کو محصولوں میں سے ہی ادائیگی کی جاتی تھی۔

A: دونوں A اور R درست ہیں اور A، R کی صحیح وضاحت کرتا ہے۔

B: دونوں A اور R درست ہیں اور A، R کی صحیح وضاحت نہیں کرتا ہے۔

C: صرف R درست ہے اور A درست نہیں۔

D: صرف A درست ہے اور R درست ہیں۔

9- کس مغل بادشاہ نے تمباکو پر پابندی لگائی۔

1- اکبر بادشاہ نے

2-

جہانگیر بادشاہ نے

3- اورنگزیب بادشاہ نے

4-

بابر بادشاہ نے

10- آئین اکبری کی تصنیف کا کام کس سال مکمل ہوا؟

1- 1580 میں

2-

1585 میں

3- 1598 میں

4-

1604 میں

11- اودوم بادشاہوں کا تعلق ہندوستان کے کس صوبے سے تھا۔

1- بنگال

2-

اڑیسہ

3-

بہار

4-

آسام

اقتباس پر منحصر سوالات (تین نمبر)

یہ باہر نامہ سے لیا گیا ایک اقتباس ہے جس میں آب پاشی کے ان آلات کا ذکر ہے جن کا مشاہدہ بادشاہ ہابرنے شمالی ہندوستان میں کیا تھا۔

ہندوستان کے اکثر قطعات آراضی میدانوں اور ہموار زمینوں میں واقع ہیں۔ حالانکہ یہاں بہت سے شہر اور قابل زراعت زمینیں ہیں لیکن یہاں نہریں کہیں بھی جاری نہیں ہیں..... اس لیے... کہ فصل کاشت کرنے کے لیے اور باغات کے لیے پانی کی ضرورت نہیں ہوتی۔ خریف کی فصل تو برسات سے ہی ہو جاتی ہے۔ یہ بڑی

حیرت کی بات ہے کہ بارش نہ مہر سے تو بھی ریش کی فصل ہو جاتی ہے (تاہم بڑے بڑے درختوں کی پودوں کو رہٹ یا چرخ کے ذریعے پانی پہنچایا جاتا ہے)

لاہور، دہپال پور (دونوں ہی آج کے پاکستان میں) اور ایسے ہی دوسری جگہوں پر لوگ رہٹ سے آبپاشی کرتے ہیں۔ اس کی صورت یہ ہے کہ رسی کے دو حلقے کنویں کی گہرائی کے برابر بناتے ہیں۔ ان دونوں میں لکڑیوں کے ٹکڑے یوں باندھتے ہیں کہ لکڑی کا ایک سر ایک حلقے کی رسی میں اور دوسرا دوسرے حلقے کی رسی میں۔ ان لکڑیوں میں لکڑے میں لٹھیاں باندھتے ہیں۔ ان لکڑیوں اور لٹھیوں سے بندھے حلقے کو چرخ پر ڈال دیتے ہیں جو کنویں کی منڈیر ہوتا ہے۔ اس چرخ کے سرے پر ایک چرخنی دندانے دار ہوتی ہے اس چرخنی کے پاس ایک اور چرخنی دندانے دار ہوتی ہے۔ جس کے دندانے چرخنی کے دندانوں سے ٹکراتے ہیں اور جس کا فہیر سیدھا ہوتا ہے۔ اس میں تیل جوتے ہیں۔ جب تیل اس چرخ کو پھراتا ہے تو اس کے دندانے اس چرخنی کے دندانوں سے ٹکرا کر اس کو چکر دیتے ہیں۔ چرخنی کے چکر سے وہ حلقے والا چرخ گھومتا ہے۔ اس کے گھومنے سے حلقے کو گردش ہوتی ہے، حلقے کی گردش سے لٹھیاں اوپر نیچے آتی ہیں اور پانی گراتی ہیں۔ اس پانی کے لیے نالیاں بنا دیتے اور نالی سے جہاں چاہتے ہیں پانی لے جاتے ہیں۔

آگرہ، چنڈا اور اورہیا نہ (موجودہ اتر پردیش میں واقع) اور ایسے دیگر علاقوں میں بھی لوگ چرخ سے زراعت کی آب پاشی کرتے ہیں..... کنویں کے منہ پر ایک کنارے کے پاس دو شاخہ لکڑی مضبوطی سے گاڑ دیتے ہیں۔ دونوں شاخوں کے درمیان میں چرخنی پھنسا دیتے ہیں پھر ایک بڑی بالٹی میں رسی باندھ دیتے ہیں جس کو اس چرخنی پر ڈال دیتے ہیں۔ رسی کے ایک سرے پر بڑا ڈول باندھا ہوتا ہے۔ ایک شخص بیلوں کو ہانکتا ہے اور دوسرا بالٹی سے پانی نکالتا ہے۔

A- دیئے گئے پیرا گراف میں کس جگہ کے لوگ رہٹ سے سنبھالی کرتے تھے؟ وہ ہیں

(الف) لاہور (ب) دہپال پور

(ج) صرف الف (د) دونوں

B- اتر پردیش کے کس علاقے کے لوگ بالٹیوں سے آب پاشی کرتے تھے؟

(الف) آگرہ (ب) چاندر (ج) بیانہ (د) سبھی

C- وہ کھیتی پر جو دوسرے گاؤں سے ٹھیکے پر کھیتی کرنے آتے تھے

(الف) خدکاشت (ب) پانی کاشت

(ج) کاشت کار (د) مزدور

22- نیچے دیئے گئے بیانات پڑھئے اور جواب دیجئے

-D بیان A:۔ ہندوستانی کاشت کی ریڑھ تھی اور آج بھی ہے۔

سبب B:۔ بے فصلے جن کے لئے زیادہ پانی کی ضرورت تھی اب پانی کے دوسرے ذرائع اپنانے پڑے۔

(الف) بیان A اور سبب B دونوں درست ہیں اور بیان A کا خلاصہ کرتے ہیں۔

(ب) بیان A اور سبب B دونوں درست ہیں اور بیان A کا خلاصہ نہیں کرتے ہیں۔

(ج) صرف بیان A درست ہے

(د) صرف سبب B درست ہے

-23 کپڑے کی پیداوار کو دکھاتے سترہویں صدی کی اس تصویر کو نوٹ سے دیکھئے اور دیجئے گئے سوالوں میں سے کسی تین کا صحیح

جواب دیجئے۔



A- کھیتی اور ان کے خاندان درج ذیل میں سے کن چیزوں کے پیداوار میں حصہ لیتے تھے؟

(الف) کپڑے پر چھپائی (ب) مٹی کے برتن پکانا

(ج) کھیتی کے اوزار بنانا (د) درج بالا سبھی

B- دست کاروں کو ان کی خدمات کا معاوضہ کس شکل میں دیا جاتا تھا؟

(الف) فصل کا ایک حصہ دے کر (ب) کاشت کی زمین کا ایک ٹکڑا دے کر

(ج) درج بالا دونوں درست ہیں (د) درج بالا میں سے کوئی درست نہیں

C- بنگال کے زمینداروں کو دست کاروں کو ان کی خدمات کے بدلے کھانے کے لئے نقد دیتے تھے۔ اس کا نام تھا:

(الف) بچمانی (ب) دیت واڑی

(ج) امدادی بندوبست (د) درج بالا میں سے کوئی نہیں

D- بیان A: گاؤں میں کبھی کبھی کسانوں اور دست کاروں میں فرق کرنا مشکل ہوتا تھا۔

سبب R: گاؤں میں کئی ایسے گروپ تھے جو کبھی کسانوں اور کبھی دست کاری دونوں کام کرتے تھے۔

(الف) بیان A اور سبب R دونوں صحیح ہیں اور سبب R بیان A کا خلاصہ کرتا ہے۔

(ب) بیان A اور سبب R دونوں صحیح ہیں اور سبب R بیان A کا خلاصہ نہیں کرتا ہے۔

(ج) صرف بیان A درست ہے۔

(د) صرف سبب R درست ہے۔

مختصر جواب والے سوالات (تین نمبر والے)

سوال نمبر 1- سلجوبوں اور سترہویں صدی کے دیہی سماج کی سرگرمیوں کی معلومات کے ماخذ کون کون سے ہیں؟ تذکرہ کیجیے

سوال نمبر 2- مغل سلطنت کس طرح اپنے نمائندوں جیسے محصول متعین کرنے والے، محصول جمع کرنے والے، حساب رکھنے

والے کے ذریعہ دیہی سماج پر قابو رکھنے کی کوشش کرتا تھا؟ واضح کیجیے۔

- سوال نمبر 3 - مغلیہ عہد میں دیہی سماج ذات پات کے امتیاز کی وجہ سے مختلف گروہوں میں تقسیم تھا۔ اس بیان کی وضاحت کیجیے
- سوال نمبر 4 - مغلیہ دور میں گرام پنچایت کے علاوہ ہر ذات کو اپنی پنچایت رکھنے کی ضرورت کیوں محسوس ہوتی تھی؟ واضح کیجیے۔
- سوال نمبر 5 - عہد وسطیٰ کے ہندوستان میں آپاشی کا کیا انتظام تھا؟ شمالی اور جنوبی ہندوستان میں آپاشی کے نظام کا تقابلی جائزہ لیجیے۔
- سوال نمبر 6 - مغلیہ عہد میں سماج کس طرح مختلف ذاتوں میں منقسم تھا؟ اپنے جواب کو مدلل بیان کیجیے۔
- سوال نمبر 7 - مغلیہ عہد میں سماج کے ٹچلے طبقوں میں ذات، غربت اور سماجی حیثیت کے درمیان راست تعلق تھا۔ یہ ہم کس بنیاد پر کہہ سکتے ہیں؟ وضاحت کیجیے۔
- سوال نمبر 8 - اس عہد میں پنچایت کے کھیا کو کیا کہا جاتا تھا؟ اس کا انتخاب کس طرح ہوتا تھا؟
- سوال نمبر 9 - کن وجوہات کی بنا پر یہ کہا جاسکتا ہے کہ مغلیہ عہد میں کسانوں اور دستکاروں کے درمیان فرق کرنا مشکل تھا۔ وضاحت کیجیے۔
- سوال نمبر 10 - مغلیہ دور میں تجارتی کھیتی کو اہمیت کیوں دی گئی؟ تبصرہ کیجیے۔
- سوال نمبر 11 - ثابت کیجیے کہ آئین اکبری آج بھی اپنے دور کی غیر معمولی تخلیق ہے؟
- سوال نمبر 12 - وسطی دور میں لفظ 'جنگلی' سے کیا مراد تھی، واضح کیجیے۔
- سوال نمبر 13 - سلجویں اور سترہویں صدی کے دوران زراعت کے مسلسل پھیلاؤ کے لیے جو اہم عناصر کا تذکرہ کیجیے۔
- سوال نمبر 14 - سلجویں اور سترہویں صدی کے دوران گاؤں کی پنچایتوں کے کاموں اور اس کے اختیارات کا تذکرہ کیجیے۔
- سوال نمبر 15 - ”سلجویں اور سترہویں صدی میں ہندوستان میں کاشت کاری نفع کمانے اور تجارت کے لیے بھی ہوتی تھی“ واضح کیجیے۔

طویل جواب والے سوالات: (آٹھ نمبر والے)

- سوال نمبر 1 - ”مغلوں نے ایک وسیع زمینی مال گذاری نظام تیار کیا“ اس بیان پر تبصرہ کیجیے۔
- سوال نمبر 2 - مغلیہ دور کے زرعی سماج میں خواتین کی حالت کا تجزیہ کیجیے۔
- سوال نمبر 3 - مغلیہ دور کے ہندوستان میں زمیندار استحصال کرنے والا طبقہ تھا۔ لیکن کسانوں سے ان کے رشتوں میں عمل اور

- ردعمل، پدرانہ پن اور سرپرستی کے عناصر شامل تھے۔ ان باتوں کو سمجھتے ہوئے زمینداروں کے کردار پر تبصرہ کیجیے۔
- سوال نمبر 4۔ ابو الفضل کا ”آئین اکبری“ ایک بڑے تاریخی اور انتظامی منصوبے کی معراج تھی۔ تبصرہ کیجیے۔
- سوال نمبر 5۔ ”سولہویں، سترہویں صدی میں ہندوستان میں کاشت کاری کی اہم خصوصیات کو بیان کیجیے۔
- سوال نمبر 6۔ پنچائیت اور گاؤں کا کھیا کس طرح سے گاؤں کے سماج کے فیصلے کرتے تھے؟
- سوال نمبر 7۔ سولہویں اور سترہویں صدی میں موسم کے دو سائیکلوں کے دوران زراعت کس طرح کی جاتی تھی؟ مختلف فصلوں کی مثالیں دے کر واضح کیجیے۔
- سوال نمبر 8۔ 16 ویں اور 19 ویں صدی کے دوران مغل سلطنت میں ون واسیوں کے زندگی گزارنے کے طریقوں کی اصلاح کیجیے۔

اقتباس پر مبنی سوالات

- 1۔ مندرجہ ذیل اقتباس کا بغور مطالعہ کیجیے اور متعلقہ سوالات کے جواب دیجیے۔

درختوں اور کھیتوں کی آبپاشی

یہ باب نامہ سے لیا گیا ایک اقتباس ہے جس میں آب پاشی کے ان آلات کا ذکر ہے جن کا مشاہدہ بادشاہ ہارنے شمالی ہندوستان میں کیا تھا۔ ہندوستان کے اکثر قطعات آرائی میدانوں اور ہموار زمینوں میں واقع ہیں۔ حالانکہ یہاں بہت سے شہر اور قابل زراعت زمینیں ہیں لیکن یہاں نہریں کہیں بھی جاری نہیں ہیں۔ اس لیے... کہ فصل کاشت کرنے کے لیے اور باغات کے لیے پانی کی ضرورت نہیں ہوتی۔ خریف کی فصل تو برسات سے ہی ہو جاتی ہے۔ یہ بڑی جہرت کی بات ہے کہ بارش نہ برے تو بھی رینج کی فصل ہو جاتی ہے (تا ہم بڑے بڑے درختوں کی پود کو رھٹ یا چرخ کے ذریعے پانی پہنچایا جاتا ہے)

لاہور، ویپال پور (دونوں ہی آج کے پاکستان میں) اور ایسے ہی دوسری جگہوں پر لوگ رھٹ سے آبپاشی کرتے ہیں۔ اس کی صورت یہ ہے کہ رسی کے دو حلقے کنویں کی گہرائی کے برابر بناتے ہیں۔ ان دونوں میں لکڑیوں کے ٹکڑے یوں باندھتے ہیں کہ لکڑی کا ایک سرا ایک حلقے کی رسی میں اور دوسرا دوسرے حلقے کی رسی میں۔ ان لکڑیوں میں ٹکڑے میں لٹھیاں باندھتے ہیں۔ ان لکڑیوں اور لٹھیوں سے بندھے حلقے کو چرخ پر ڈال دیتے ہیں جو کنویں کی منڈیر ہوتا ہے۔ اس چرخ کے سرے پر ایک چرخنی دندانے دار ہوتی ہے اس چرخنی کے پاس ایک اور چرخنی دندانے دار ہوتی ہے۔ جس کے دندانے چرخنی کے دندانوں سے ٹکراتے ہیں اور جس کا شہتیر سیدھا ہوتا ہے۔ اس میں ٹیل جوتے ہیں۔ جب ٹیل اس چرخ کو پھراتا ہے تو اس کے دندانے اس چرخنی کے دندانوں سے ٹکراتے ہیں۔ چرخنی

کے چکر سے وہ حلقے والا چرخ گھومتا ہے۔ اس کے گھومنے سے حلقے کو گردش ہوتی ہے، حلقے کی گردش سے لٹھیاں اوپر نیچے آتی ہیں اور پانی گراتی ہیں۔ اس پانی کے لیے نالیاں بنا دیتے اور نالی سے جہاں چاہتے ہیں پانی لے جاتے ہیں۔

آگرہ، چھند اور اورباناہ (موجودہ اتر پردیش میں واقع) اور ایسے دیگر علاقوں میں بھی لوگ چرخ سے زراعت کی آب پاشی کرتے ہیں..... کنویں کے منہ پر ایک کنارے کے پاس دو شاخہ لکڑی مضبوطی سے گاڑ دیتے ہیں۔ دونوں شاخوں کے درمیان میں چرخی پھنسا دیتے ہیں پھر ایک بڑی بالٹی میں رسی باندھ دیتے ہیں جس کو اس چرخی پر ڈال دیتے ہیں۔ رسی کے ایک سرے پر بڑا ڈول بندھا ہوتا ہے۔ ایک شخص ہیلوں کو ہانکتا ہے اور دوسرا بالٹی سے پانی نکالتا ہے۔

سوالات

- 1- آبپاشی کے جن وسائل (آلات) کا ذکر ہم نے کیا ہے ان کا موازنہ وجہ نگر کے آبپاشی نظام سے کیجیے۔ 2
- 2- لاہور اور دیپال پور میں آبپاشی کس طرح کی جاتی تھی؟ 1
- 3- ہالیوں (چرخ) کے ذریعے آبپاشی کہاں اور کیسے کی جاتی تھی؟ 2

مندرجہ ذیل اقتباس کا بغور مطالعہ کیجیے اور متعلقہ سوالات کے جواب دیجیے۔

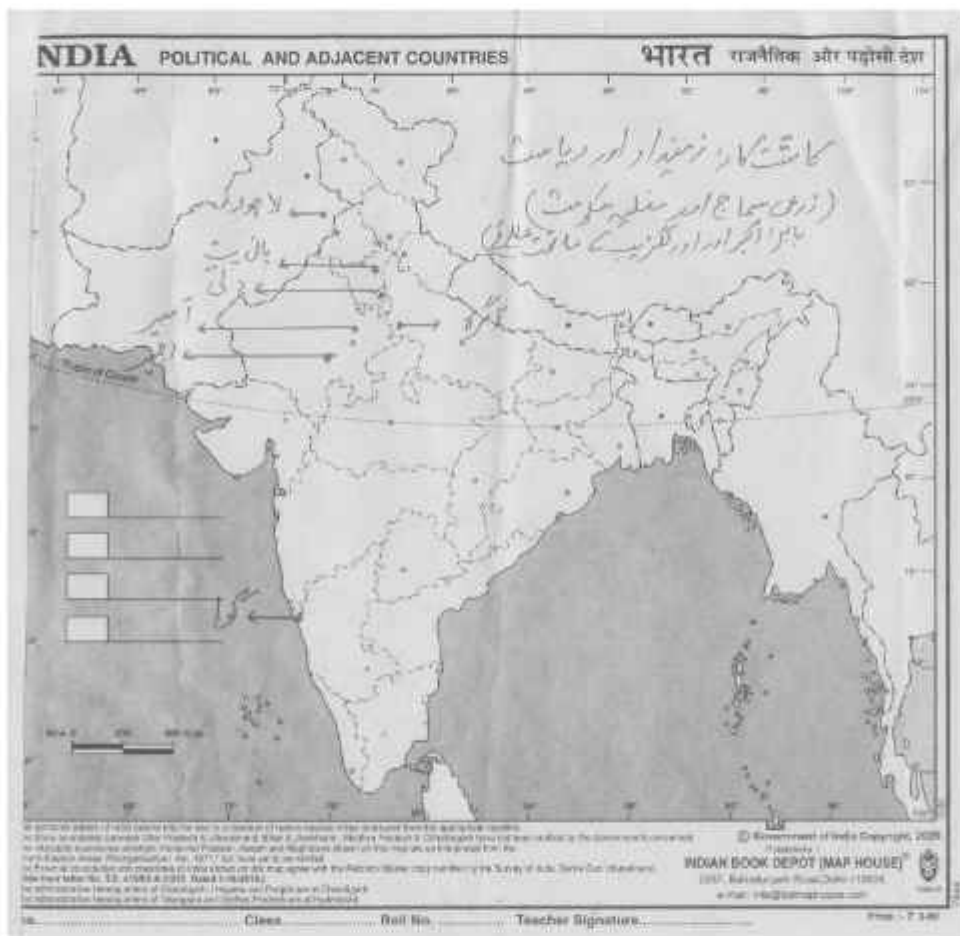
اکبر کے عہد میں زمین کی درجہ بندی

آئین سے لیے گئے مندرجہ ذیل اقتباس میں زمین کی درجہ بندی کے معیار کی فہرست دی گئی ہے۔

بادشاہ اکبر نے اپنی عمیق ذکاوت سے زمینوں کی درجہ بندی کی اور ہر قسم کی زمین کے لیے مختلف محصول متعین کر دیے۔ ”پوچ“ وہ زمین ہے جس میں یکے بعد دیگرے ہر ایک فصل کی سالانہ زراعت ہوتی ہے اور جس کو کبھی خالی نہیں چھوڑا جاتا۔ ”پروٹی“ وہ زمین ہے جس پر کچھ وقت کے لیے زراعت کرنا چھوڑ دیا جاتا ہے تاکہ وہ اپنی طاقت دوبارہ حاصل کر سکے۔ ”پھر“ وہ زمین ہے جس کو تین یا چار سال تک خالی چھوڑ دیا جاتا ہے۔ ”بجر“ اس زمین کو کہتے ہیں جس پر پانچ یا اس سے زیادہ سال تک کاشت نہ کی گئی ہو۔ پہلی دو قسم کی زمینوں کے تین درجے ہیں۔ عمدہ اوسط اور ناقص۔ وہ ہر قسم کی پیداوار کو آپس میں جمع کر دیتے ہیں اور اس کا تیسرا حصہ اوسط کی نمائندگی کرتا ہے۔ جس کا ایک تہائی حصہ شاہی محصول و مطالب کے بطور وصول کیا جاتا ہے۔

سوالات

- 1- پوچ اور پروٹی زمین میں فرق واضح کیجیے۔ 2
- 2- بجر اور پھر کے کہتے تھے؟ 2
- 3- اکبر کے کس وزیر نے زمین سے حاصل ہونے والے محصول کو متعین کیا؟ 1



موضوع۔ نو

نوآبادیت اور دیہات

(سرکاری دستاویزات کی تحقیق و تفتیش)

یاد رکھنے لائق نکات

- 1- نوآبادیاتی نظام سب سے پہلے بنگال میں قائم کیا گیا۔ یہی وہ علاقہ تھا جہاں سب سے پہلے دیہی سماج کو از سر نو منظم کرنے اور زمین کے حقوق کے نئے نظام نیز نئے مال گزاری نظام کو قائم کرنے کی ابتدائی کوشش کی گئی۔
- 2- 1793 عیسوی میں استمراری بندوبست بنگال کے راجاؤں اور تعلقداروں کے ساتھ نافذ کیا گیا۔ اس وقت کاروائی بنگال کا گورنر جنرل تھا۔
- 3- استمراری بندوبست نافذ کرنے کے بعد ابتدائی دیہاتیوں میں زمیندار مستقل طور پر اپنا مال گزاری مطالبہ ادا کرنے میں ناکام رہے نتیجتاً بقایا جاٹ کی رقم میں اضافہ ہونا چاہا گیا۔
- 4- جوت وارد دولت مند کسانوں کا طبقہ تھا جبکہ کسانوں کے ساتھ روحانی تعلق تھا۔
- 5- زمینداروں کے ذریعے وقت پر محصول کی رقم جمع نہ کرنے کی کئی وجوہات تھیں:

— ابتدائی ماٹگیں بہت زیادہ تھیں۔

— یہ ماٹگ 1790 کی دہائی میں نافذ کی گئی تھیں جبکہ زرعی پیداوار کی قیمت کم تھی۔ ان کے اختیارات، محصول جمع کرنے اور اس کے انتظام تک ہی محدود تھے۔
- 6- پہاڑی لوگ راجل محل کی پہاڑیوں کے جنگل میں رہتے تھے۔ مجموعی کھیتی کرتے تھے غذا کے لیے مہوا اکٹھا کرتے، بیجے کے لیے ریشم کے کیڑے پالتے۔ لکڑیوں سے کٹھ کا کونڈہ بناتے۔ اعلیٰ اور آم کے درختوں کو آرام کرنے کے لیے استعمال کرتے، پورے علاقے کو یہ اپنی ذاتی ملکیت مانتے تھے۔
- 7- 1780 کی دہائی کے آس پاس سنہال لوگ بنگال میں آنے لگے تھے۔ 1850 کی دہائی تک سنہال لوگ یہ محسوس کرنے

لگے تھے کہ اپنے لیے ایک مثالی دنیا تعمیر کرنے کے لیے زمین داروں، مہاجنوں اور نوآبادیاتی ریاست کے خلاف بغاوت کرنے کا وقت آ گیا ہے۔

8- انگریزوں نے 1832 تک زمین کے کافی بڑے رقبے کی حد بندی کر کے اسے سنتھالوں کی زمین قرار دے دیا۔ اس علاقے کو "ڈامن کوہ" کا نام دیا گیا۔ سنتھالوں کو عطیہ میں دی جانے والی زمین کے معاہدے میں یہ شرط تھی کہ انھیں دی گئی زمین کے کم سے کم دسویں حصے کو صاف کر کے زراعت کرنی تھی۔

9- 1855-56 میں سنتھالوں نے بغاوت کر دی۔ اس کی اہم وجوہات (i) سنتھالوں کی زمین پر سرکار کے ذریعہ بھاری ٹیکس لگانا (ii) مہاجن (دیکو) کے ذریعہ سوڈ کی اعلیٰ شرح وصول کرنا، قرض ادا نہ ہونے کی صورت میں زمین پر قبضہ کرنا۔

10- سوپا (پونا ضلع کا ایک بڑا گاؤں) ایک بازار کا مرکز تھا جہاں بہت سے دکان دار اور مہاجن رہتے تھے۔ یہاں 12 مئی 1875 کو دیہی علاقوں میں کسانوں نے بغاوت کر دی۔ مہاجنوں کے بھی کھاتے قرض معاہدوں کو جلا دیا گیا۔ اسے دکن کی بغاوت کہتے ہیں۔

11- بمبئی دکن میں جو مال گزاری نظام رائج کیا گیا اسے "رعیت واری بندوبست" کے نام سے جانا جاتا ہے۔ یہ ریکارڈوں کے اصول پر مبنی تھا۔ اس میں سرکار رعیت نے ساتھ بندوبست کیا اور قرض و قفوف طے کیا جاتا تھا۔

12- 1861 میں جب امریکہ میں خانہ جنگی چھڑ گئی تو برطانیہ میں پورے کپاس حلقوں میں خوف کی لہر پھیل گئی تو امریکہ سے درآمد خام کپاس کی سپلائی میں گراؤ آئی اس کو پورا کرنے کے لیے ہندوستان سے کثیر مقدار میں کپاس کی درآمد کی گئی۔ اس کے لیے ہندوستانی کسانوں کو کپاس کی پیداوار میں اضافے کے لیے اکسایا گیا۔ مہاجنوں کے ذریعہ قرض مہیا کروایا گیا۔

13- 1865 کے آس پاس جب امریکہ میں خانہ جنگی ختم ہو گئی تو کپاس کی پیداوار کو پھر سے رواج دیا گیا۔ اور ہندوستانی کپاس کی درآمد باقاعدہ طور پر زوال پذیر ہو گئی۔ درآمدتازہ کو ساہوکار وسیع پیمانے پر طویل مدتی قرض دینے سے انکار کرنے لگے۔ اسی دوران مال گزاری بندوبست کے ذریعہ ٹیکس طے کیا گیا۔ اس نئے بندوبست میں مطالبہ کو ڈرامائی طور پر 50 سے 100 فی صد تک بڑھا دیا گیا۔ جو دکن کی بغاوت کی وجہ بنا۔

14- سنتھال بغاوت کے بعد سنتھال پر گئے کی تشکیل کر دی گئی اس کے لیے 5500 مربع میل کا رقبہ بھاگل پور اور سیرجموں ضلعوں سے لیا گیا۔

15- 1860 کی دہائی سے پہلے برطانیہ میں کچے مال کے طور پر کپاس کا تین چوتھائی حصہ امریکہ سے آتا تھا۔

- 16- ایسٹ انڈیا کمپنی کی کارکردگیوں کے بارے میں پانچویں رپورٹ 1813 میں برٹش پارلیمنٹ میں پیش کی گئی تھی۔
- 17- فرانس بوکائن ایک ڈاکٹر تھا جو بنگال میں طبی خدمات میں (1794-1815) ہندوستان آیا۔
- 18- پہاڑی لوگ کھانے کے لیے مہوا کے پھول اکٹھے کرتے تھے۔
- 19- جو ساہوکار سنتھالوں سے اونچی درجہ پر سود وصولی تھے انہیں سنتھال آدمی باسی دکو کہہ کر بلاتے تھے۔

مختصر ترین جواب والے سوالات

- 1- پہاڑی لوگ اپنی گزر بسر کیسے کرتے تھے؟
- 2- استراری ہندو بہت کس صوبے میں لاکو کیا گیا؟
- 3- اودھ کو برٹش ہندوستان میں کس سال شامل کیا گیا؟
- 4- پہاڑی لوگ مجموعہ کبھی کے لئے کس اوزار کا استعمال کرتے تھے؟
- 5- وہ دوسری قبائل کون سی تھی جس کا پہاڑی لوگوں سے تنازع کرنا پڑا؟
- 6- دکو کون تھے؟
- 7- رعیت واڑی ہندو بہت سب سے پہلے کس رزیڈنٹس میں لاکو کیا گیا؟
- 8- انگریزوں کے خلاف سنتھالوں نے بغاوت کس سال شروع کیا؟
- 9- سنتھالی بغاوت کا لیڈر کون تھا؟
- 10- 1860 کی دہائی میں بھارت سے بروٹین کوور آمد کی جانے والی اشیاء کون سی تھی؟

Objective type of questions

- 11- استراری ہندو بہت کس سال سے لاکو کیا گیا؟
- (الف) 1793 (ب) 1794
- (ج) 1795 (د) 1796

- 12- استمراری بندوبست لاکو کیئے جانے کے وقت بنگال کا گورنر جنرل کون تھا؟
- (الف) لارڈ کرزن (ب) لارڈ ڈلہوزی
(ج) لارڈ کارنوا (د) لارڈ ولیم بنٹک
- 13- لگان وصول کرنے کے زمیندار کا جو ملازم آتا تھا اسے کس نام سے جانا جاتا تھا؟
- (الف) منشی (ب) گمشدہ
(ج) جوت دار (د) عملہ
- 14- بنگال میں مالدار کسانوں کے طبقے کو کس نام سے جانا جاتا تھا؟
- (الف) جوت دار (ب) زمیندار
(ج) ساہوکار (د) کاشت کار
- 15- پانچویں رپورٹ برٹش پارلیمنٹ میں کب پیش کی گئی؟
- (الف) 1813 (ب) 1815
(ج) 1820 (د) 1825
- 16- پہاڑیا لوگ کہاں رہتے تھے؟
- (الف) نیل گری کی پہاڑیوں پر
(ب) ست پورا کی پہاڑیوں پر
(ج) ارولی کی پہاڑیوں پر
(د) راج محل کی پہاڑیوں پر
- 17- کن علاقے سے مستحقوں کے لیے زمین کا اعلان کیا گیا؟
- (الف) دامن کوہ (ب) بردیان
(ج) کلکتہ (د) مناپور

18- یہی کہاتہ جہانے کا کام کون سے گاؤں سے شروع ہوا؟

(الف) چٹ گاؤں (ب) شاتی گاؤں

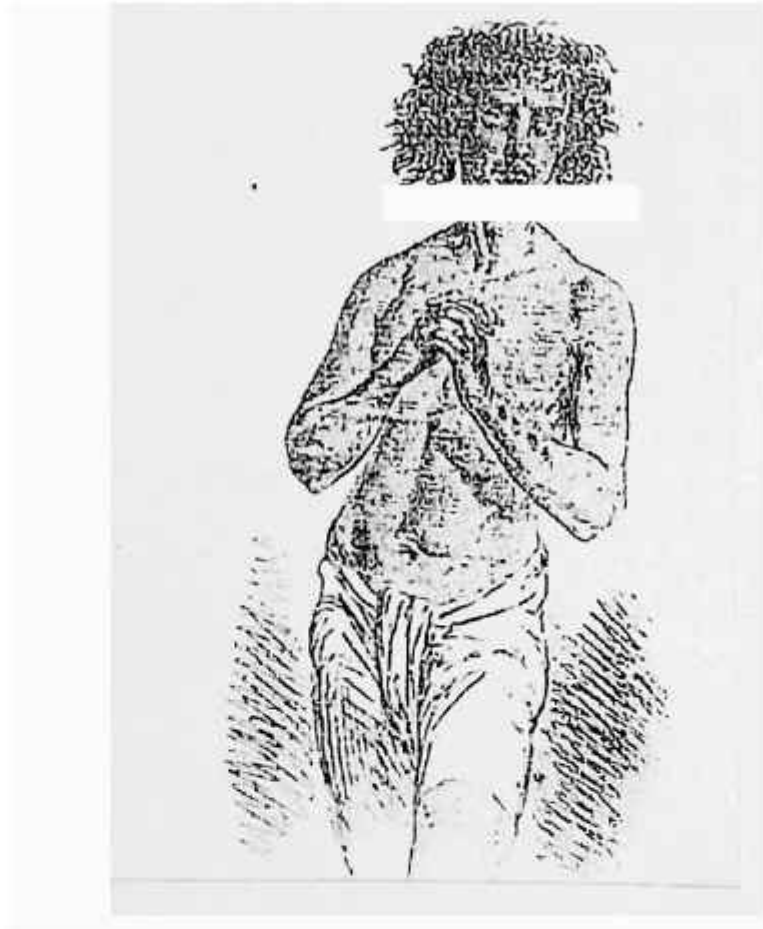
(ج) بردبان (د) موپا گاؤں

19- برطانیہ کا کون سا شہر سوئی کپڑوں کی پیداوار کے لئے مشہور تھا؟

(الف) لندن (ب) مانچسٹر

(ج) پارک سٹاز (د) برمنگھم

20- درج ذیل تصویر کو پہچان کر اس کا نام بتائیے۔



معروضی سوالات

- 1- پہاڑی لوگ اپنی زندگی کس طرح گذر بسر کرتے تھے۔
- 1- 1- مجموعہ کھیتی کر کے 2- 2- مجھے ہوئے پھول اکٹھا کر کے
- 2- 2- ریشم کے کوپا اور کاٹھ کوئی بنا کر 4- 4- مندرجہ بالا سبھی
- 2- 2- مستقل بندوبست یا استمراری بندوبست میں سب سے پہلے کہاں نافذ کیا گیا۔
- 1- 1- کرناٹک میں 2- 2- بنگال میں
- 3- 3- بہار میں 4- 4- بمبئی میں
- 3- 3- پانچویں رپورٹ برطانوی پارلیمنٹ میں کب پیش کی گئی۔
- 1- 1- 1813 میں 2- 2- 1817 میں
- 3- 3- 1856 میں 4- 4- 1835 میں
- 4- 4- مندرجہ ذیل میں سنتھالوں کا نشان بنا۔
- 1- 1- تلوار 2- 2- تیرکمان 3- 3- بل 4- 4- کدال
- 5- 5- مندرجہ ذیل جملوں کو پڑھ کر صحیح پر نشان لگائیے۔
- الف - انہیں اکو جا باشندے کہا جاتا ہے۔
- ب - پہاڑی لوگوں کو ان باشندوں سے حید و جد کرنی پڑی
- ج - کوئڈ، بھیل، اہوم، سننتال
- 6- 6- مندرجہ ذیل جملے کو صحیح کر کے لکھیے۔
- ”مرٹش لوگوں کو ”ڈکو“ بھی کہا جاتا تھا۔

7- صحیح ملاں (Match) کیجیے۔

- i- ہسپتال -A ایک ڈاکٹر
ii- ساہوکار -B جھوم بھتیق
iii- پہاڑیاں -C آگوا باشندے
iv- پکائن -D ڈکو

الف- A-iii, B-ii, C-i, D-iv

ب- A-i, B-ii, C-iii, D-iv

ج- A-iv, B-iii, C-ii, D-i

د- A-iii, B-iv, C-ii, D-i

8- بمبئی دکن میں نظام مالگذاری تھا۔

- 1- استراری بندوبست -2 مہالواڑی
3- رعیت واڑی -4 استھائی (مستقل) بندوبست

9- ذیل میں دو بیان دیئے گئے ہیں A ایک بیان صحیح ہے اور دوسرا R اس کی وجہ سبب ہے۔

بیان A: 1861 کے بعد سالوں میں ہندوستان سے کپاس کی مانگ میں تیزی آئی۔

بیان R: امریکا میں شروع ہوئی خانہ جنگی اس کی وجہ تھی۔

الف: صرف بیان A ٹھیک ہے۔

ب: صرف بیان R ٹھیک ہے۔

ج: بیان A اور بیان R دونوں ٹھیک ہیں، لیکن بیان R بیان A کا صحیح وضاحت نہیں ہے۔

د: بیان A اور بیان R دونوں ٹھیک ہیں لیکن بیان R بیان A کا صحیح وضاحت بھی کرتا ہے۔

10- دکن ونگا کمیشن کی رپورٹ برٹش پارلیمنٹ میں کب پیش کی گئی۔

1882 -4 1878 -3 1868 -2 1858 -1

اقتباس پر منحصر سوال (3 نمبر والے)

درج ذیل ماخذ کو پڑھئے اور نیچے لکھے کن ہی تین سوالوں کے جواب دیجیے۔

سنٹھالوں پر بکائن کا بیان

(Buchanan on the Santhals)

بکائن لکھتا ہے:

نئی زمینیں صاف کرنے میں بہت ہوشیار ہیں۔ لیکن حقیرانہ انداز میں رہتے ہیں۔ ان کی جھونپڑیوں میں کوئی بارڈھنڈس ہوتی ہے اور دیواریں چھوٹی چھوٹی سیدھی کھڑی کی گئی جھڑوں سے جو کافی نزدیک ہوتی ہیں، بنائی جاتی ہیں، جن پر اندر کی جانب پلاسٹر کیا جاتا ہے۔ یہ چھوٹی اور بدسلیقہ ہوتی ہیں اور چھت سپاٹ ہوتی ہے جس میں بہت کم مخرئی پن ہوتا ہے۔

A- مندرجہ ذیل جملے کو صحیح کر کے لکھئے۔

بکائن کے مطابق سنٹھالیوں کی جھونپڑیاں شاندار ہوتی تھیں۔

B- بکائن کون تھے؟

(الف) ایک انگریز تاجر (ب) ایک انگریز ڈاکٹر

(ج) ایک مورخ (د) گورنر جنرل


C- بکائن کی نظر میں سنٹھال لوگ کیسے تھے؟

(الف) مہذب اور باتمندیب (ب) غیر مہذب اور گندے

(ج) عام لوگوں کی طرح (د) درج سبھی

-D سنہالیوں کی مستقل رہائش کو کیا نام دیا گیا؟

-2 درج ذیل تصویر کو نو رے سے دیکھئے اور کن ہی تین سوالوں کے جواب دیجئے۔



-A انگریزوں کے خلاف بغاوت کون کر رہے تھے؟

(الف) پہاڑیا (ب) سنہتال

(ج) سپاہی (د) دکو

-B وامن کوہ کیا تھا؟

-C جملہ کوچ کر کے لکھئے۔

سنہتالیوں کو انعام و اکرام سے نوازنے کے لئے سنہتال پرگنہ کی تشکیل کی گئی۔

-D سنہتال بغاوت کب ہوئی؟

(الف) 1950-51 (ب) 1855-56

(ج) 1850-51 (د) 1860-61

مختصر جواب والے سوالات (چار نمبر والے)

- سوال نمبر 1- محصول (مال گزاری) کے مطالبہ کو مستقل طور پر متعین کرنے میں کمپنی کن فائدوں کو نظر انداز کر رہی تھی؟
- سوال نمبر 2- ”استمراری بندوبست کو بنگال سے باہر برائے نام ہی لاکو کیا گیا“ اس بیان کی حمایت میں دلائل دیجیے۔
- سوال نمبر 3- محصول (مال گزاری) کی ادائیگی میں کسانوں کی ناکامی کی کیا وجوہات تھیں؟
- سوال نمبر 4- 1770 اور 1780 کی دہائی میں برطانوی افسران کا راج محل کی پہاڑیوں کے تین کھارویہ تھا؟
- سوال نمبر 5- پکاشن کے تذکروں کا مطالعہ کرتے وقت ہمیں کیا احتیاط رکھنی چاہیے؟ تفصیل سے بیان کیجیے۔
- سوال نمبر 6- جو مال گزاری نظام بمبئی دکن میں نافذ کیا گیا وہ بنگال میں نافذ نظام سے کس طرح مختلف تھا؟ اس میں کن اصولوں پر دھیان دیا گیا؟
- سوال نمبر 7- آپ کن حقائق کی بنیاد پر یہ کہہ سکتے ہیں کہ پہاڑی لوگوں کی زندگی جنگل سے جڑی تھی؟
- سوال نمبر 8- برطانوی حکومت کے خلاف سنہتالوں کی بغاوت کی کیا وجہ تھی؟ تذکرہ کیجیے
- سوال نمبر 9- سنہتالوں کے آنے سے پہاڑی لوگوں کو کن دشواریوں کا سامنا کرنا پڑا؟
- سوال نمبر 10- امریکی خانہ جنگی نے ہندوستان میں رعیت لوگوں کی زندگی کو کس طرح متاثر کیا؟
- سوال نمبر 11- بمبئی دکن میں کون سا لگائی نظام لاکو کیا گیا اور اس کی کیا خصوصیات تھیں؟
- سوال نمبر 12- 18 ویں صدی کے دوران بل اور کدال کے بیچ تنازع کو پہاڑیا اور سنہتالیوں کے نظریہ سے وضاحت کیجیے۔
- سوال نمبر 13- رعیت واڑی بندوبست اور استمراری بندوبست میں فرق واضح کیجیے؟
- سوال نمبر 14- برطانوی ہندوستان کے دوران کسانوں کے قرض دار ہونے کے اسباب بیان کیجیے۔
- سوال نمبر 15- پانچویں رپورٹ کے بارے میں دیئے گئے شہادتوں کی تفصیل بیان کیجیے۔

طویل جواب والے سوالات (آٹھ نمبر والے)

- سوال نمبر 1- انگلینڈ میں کمپنی کی سرگرمیوں پر 1760 کی دہائی سے ہی بہت باریکی سے نظر رکھی جاتی تھی۔ ایسا کرنے کے پیچھے کیا مقصد تھا؟

- سوال نمبر 2- برطانوی زمینی محصول کی پالیسیوں کا تنقیدی جائزہ دیجیے۔
- سوال نمبر 3- ہندوستان میں رعیت لوگوں کی زندگی پر امریکی خاندان جنگلی کا کیا اثر ہوا؟ واضح کیجیے۔
- سوال نمبر 4- استمراری بندوبست کس کے ذریعے نافذ کیا گیا؟ اس کی اہم فوائد کو بیان کیجیے۔
- سوال نمبر 5- وکن رائٹس کمیشن کی رپورٹ کا تنقیدی جائزہ دیجیے۔
- سوال نمبر 6- سنہ 1947ء میں راج محل کی پہاڑیوں میں آکر بسنے لگے اس بارے میں انگریزوں کے ردعمل کا خلاصہ کیجیے۔
- مندرجہ ذیل اقتباس کا بغور مطالعہ کیجیے اور متعلقہ سوالات کے جواب دیجیے۔

جنگلات کی صفائی اور مقیم زراعت کے متعلق

راج محل کی چٹلی پہاڑیوں سے گزرتے ہوئے بکاشن نے لکھا:

اس علاقے کا منظر بہت ہی عمدہ ہے یہاں کی زراعت خاص طور پر گردش کرتی ہوئی تھک وادیوں میں چاروں طرف دھان کی زراعت ہیکھرے درختوں کے ساتھ صاف کی گئی زمین اور چٹانی پہاڑیاں بے عیب ہیں، اس کے باوجود اس علاقے میں کچھ ترقی کے ظہور اور وسیع پیمانے پر اصلاح شدہ زراعت کی، جس کے لئے یہ علاقہ انتہائی اثر پذیر ہے۔ لکڑی کی جگہ یہاں ٹسر (ریشم کا کیڑا) اور لاکھ کی ضرورت کو پورا کرنے کے لیے وسیع پیمانے پر آسان اور پالاس کے باغات لگائے جاسکتے ہیں۔ باقی جنگل کو بھی صاف کر دینا چاہیے اور بڑے حصہ پر زراعت کرنی چاہیے۔ اگرچہ اس مقصد کے لیے جو جگہ مناسب نہ ہو وہاں پنکھیا، کھجور اور مہوا کے درخت لگائے جاسکتے ہیں۔

سوالات

- 1- بکاشن کون تھا؟
- 2- بکاشن کے ذریعہ زمینی سروے کرنے سے انگریزوں کے کون سے مفادات کی تکمیل ہوئی؟
- 2- بکاشن نے راج محل کی پہاڑیوں کو بے عیب کیوں کہا؟

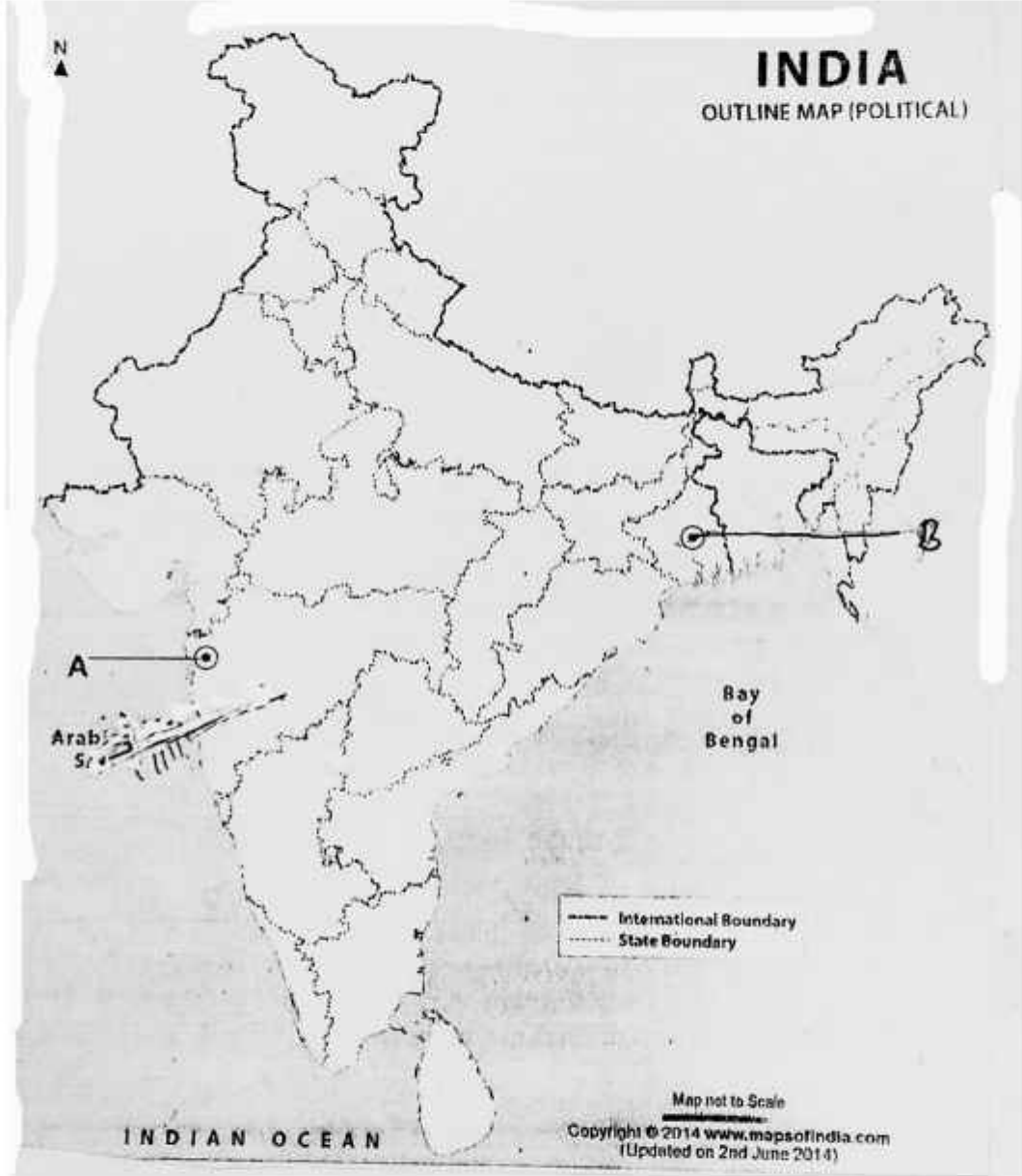
ایک اخبار کی رپورٹ (A news paper report)

رہنم اور مہاجن کے عنوان سے مندرجہ ذیل رپورٹ نیویو اوپینین 6 جون 1876ء (Native Opinion) نامی اخبار میں شائع ہوئی اور بمبئی کے نیویو نیوز پیپر میں اس کا حوالہ دیا گیا:

(رہنم) پہلے اپنے گاؤں کی سرحد پر یہ دیکھنے کے لیے جاسوسی کرتے ہیں کہ آگر کوئی سرکاری افسران آرہے ہیں تو ان کے آنے کی اطلاع مجرموں کو وقت پر ہی دے دیتے ہیں۔ پھر وہ ایک گروہ کی شکل میں جمع ہو کر اپنے قرض خواہ (ساہوکار) کے گھر جاتے ہیں اور ان سے ان کے کارنامے اور دیگر دستاویزات حوالے کرنے کا مطالبہ کرتے ہیں اور انکار کرنے پر قرض خواہوں پر حملہ کرنے اور لوٹ مار کرنے کی دھمکی دیتے ہیں۔ اگر ایسے کسی حادثے کے وقت کوئی سرکاری افسران گاؤں کی طرف آتا ہوا نظر آتا ہے تو جاسوس مجرموں کو اس کی اطلاع دے دیتے ہیں پھر بعد میں یہ مجرمین وقت رہتے غائب ہو جاتے ہیں۔

سوالات

- 1- رعیت لفظ کا استعمال کس کے لیے کیا گیا ہے؟ 1
- 2- اپنے آپ کو بچانے کے لیے ریتوں نے جو طریقہ اپنایا انکو بیان کیجیے؟ 2
- 3- ریتوں نے ساہوکاروں کو لوٹنے کا سہارا کیوں لایا؟ 2



- سوال (i)۔ ویسے گئے بھارت کے سیاسی نقشہ پر استمراری بندوبست، رعیت واڑی بندوبست لاگو کئے گئے تین علاقوں کو دکھائیے۔
- سوال (ii)۔ اسی نقشہ پر نوآبادیاتی اہم شہروں کو A, B نقطوں پر درج کیا گیا ہے انہیں پہچانیے اور ان کے صحیح نام دی گئی لائنوں پر لکھیے۔

موضوع۔ گیارہ

بغاوتیں اور راج

(1857 کی بغاوت اور اس کی نمائندگی)

یاد رکھنے لائق نکات

- 1- 1857 کا انقلاب میرٹھ چھاؤنی سے 10 مئی 1857 کو شروع ہوا۔ مغل بادشاہ بہادر شاہ ظفر کے شامل ہونے سے اس بغاوت نے ایک قسم کا قانونی جواز حاصل کر لیا تھا۔ سپاہیوں نے کسی مخصوص اشاروں کے ساتھ اپنی کارروائی شروع کر دی کہیں توپ کا گولہ داغا گیا تو کہیں نقارہ بجا کر بغاوت کا اشارہ کیا۔
- 2- 1857 کی اہم وجوہات سیاسی، معاشی، مذہبی، سماجی اور فوجی تھیں۔ فوری وجہ چر بی والے کارٹوس کا استعمال تھا۔
- 3- 1857 میں باغیوں نے پیچھے کرنے کے لیے
 - (i) اعلانات میں ذات اور مذہب میں تفریق نہیں کی گئی
 - (ii) نوابوں اور مسلم حکمرانوں نے ہندوؤں کا خیال رکھا
 - (iii) بغاوت کو ہندو اور مسلمانوں کے نفع نقصان سے جوڑا گیا۔
- 4- اودھ میں شکوہ شکایت کے ایک سلسلے نے شہزادوں۔ تعلق داروں، کسانوں اور سپاہیوں کو آپس میں جوڑ دیا تھا۔ وہ فرنگی راج کے آنے کو مختلف معنوں میں اپنی دنیا کے خاتمے کی شکل میں دیکھنے لگے۔
- 5- انگریزوں نے تعلقہ داروں کی جاگیریں اور قلعہ ضبط کر لیے، فوجیں ختم کر دیں، قلعہ برہاد کر دیئے گئے۔ ایک مشت بندوبست لاکو کرنے کے بعد ان کی حیثیت اور اقتدار پر ضرب پینچی کیوں کہ وہ اب زمینوں کے مالک نہیں بلکہ پچولید (ایجنٹ) بن کر رہ گئے۔ کسانوں کی نظر میں تعلقہ دار استحصال تو کرتے تھے لیکن برے وقت میں رحم دل سرپرست کا کردار بھی ادا کرتے تھے۔
- 6- تعلقہ داروں کی بے دخلی کا مطلب ایک پورے سماجی نظام کا ٹوٹ جانا تھا۔ وفاداری اور سرپرستی کے جن رشتوں سے کسان تعلقہ داروں سے بندھے تھے۔ وہ درہم برہم ہو گیا۔ برطانوی عہد سے قبل تعلقہ دار ہی ظالم تھے لیکن بہت سے ان میں رحم دل سرپرست بھی تھے۔ وہ بقایا جات کی مختلف شکلوں میں کسانوں سے رقم تو وصول کرتے تھے لیکن اکثر وقت پڑنے پر

- کسانوں کا لحاظ بھی رکھتے تھے۔ اب انگریزوں کے تحت کسانوں سے لگان کا تخمینہ بڑھا چڑھا کر اور وصولیاتی کے بے چلک طریقے راست طور پر ظاہر ہونے لگے تھے۔ اب اس بات کی کوئی ضمانت نہیں تھی کہ مشکل حالات میں یا فصل خراب ہونے کی صورت میں ریاست کا مال گذاری مطالبہ کم ہو جائے گا۔
- 7- 1801 میں امدادی معاہدہ اودھ پر عائد کیا گیا۔ 1856 میں اودھ کا انگریزی ریاست میں الحاق کر دیا گیا اور وہاں کے حکمران نواب واجد علی شاہ کو ناقص انتظام حکومت کے خذ رکے ساتھ گدی سے اتار دیا گیا اور کلکتہ جلاوطن کر دیا گیا۔
- 8- ہندوستانیوں میں اس بات کا خوف پیدا ہو رہا تھا کہ انگریز ہندو اور مسلمانوں کو ذات اور مذہب کی بنیاد پر انھیں برباد کرنے پر تلے ہیں اور لوگوں کو عیسائی بنانا چاہتے ہیں۔ اسی خوف کی وجہ سے لوگ انواہوں پر بھروسہ کرنے لگے۔
- 9- 1857 کی بغاوت کی ابتدا منگل پانڈے کی قربانی سے ہوئی جو بیرک پور (بنگل) میں 34 ویں رجمنٹ کے سپاہی تھے۔
- 10- انگریزوں اور ہندوستانیوں کی بنائی ہوئی تصویریں فوجی بغاوت کا ایک اہم ریکارڈ رہا ہے۔ اس بغاوت کی کئی تصویریں مینسل سے بنے اسٹیج، انگریزی ہوئی تصویریں پوسٹر اور کارٹون پرنٹ بازار میں موجود ہیں۔
- 11- 1857 کی بغاوت پہلی جنگ آزادی کے نام سے جانی جاتی ہے۔ کیونکہ اس میں ملک کے ہر طبقہ کے لوگوں نے سامراجی حکومت کے خلاف جنگ لڑی تھی۔
- 12- 1857 کی بغاوت کی ابتدا پانڈے کی قربانی سے ہوئی جو کہ بیرک پور (بنگل) میں 34 ویں رجمنٹ کے سپاہی تھے۔
- 13- لارڈ ولیم بینٹک کی رہنمائی میں برٹش سرکار مغربی تعلیم کے ذریعے سے ہندوستان میں پچھلی ہوئی برائیوں کو دور کرنے کی کوشش کر رہی تھی۔
- 14- لارڈ بینٹک کی کوششوں سے 1829 میں سنی رواج کو غیر قانونی قرار دیا گیا۔
- 15- کانپور میں سپاہیوں اور شہر کے لوگوں نے پیشوا باجی راؤ دوم کے وارث نانا صاحب کو بغاوت کی رہنمائی کرنے کے لیے مجبور کر دیا۔
- 16- ہندو اور مسلمان کے درمیان کھائی پیدا کرنے کی کوشش کے باوجود ہندو اور مسلمان پر کوئی اثر نہیں پڑا۔
- 17- چربی والے کارتوسوں کے استعمال سے انکار کرنے والے ہندوستانی سپاہیوں کا تعلق تھروڈ لائنٹ کیولری رجمنٹ سے تھا۔
- 18- سہارنپور، میرٹھ، دہلی، تھر، آگرہ، لکھنؤ، کانپور، جھانسی، گوالیار، الہ آباد، بریلی، بنارس، آرا اور کلکتہ بغاوت کے اہم مراکز تھے۔
- 19- سپاہیوں اور دیہی سماج کے درمیان تعلقات سے اس بغاوت کی نوعیت پر گہرا اثر پڑا۔

- 20- لوگوں میں اس بات کی ناقصگی تھی کہ برطانوی لگائی نظام میں سب ہی چھوٹے موٹے زمین کے مالکوں کو زمین سے بے دخل کر دیا اور غیر ملکی تجارت نے دستکاروں اور بنگروں کو برباد کر دیا۔

مختصر ترین سوالات (ایک نمبر والے)

- 1- لکھنؤ میں بغاوت کی رہنمائی کس نے کی؟
- 2- بغاوت کے دوران چھوٹے ناگپور علاقے میں کول آدی واسیوں کی رہنمائی کس نے کی؟
- 3- ڈنکا شاہ کسے کہا جاتا تھا؟
- 4- اتر پردیش کے بریلی میں انگریزوں کے خلاف کس نے بغاوت کی؟
- 5- بل اسٹیشنوں میں سپاہیوں کو علاج کرنے کے لیے کیوں بھیجا جاتا تھا؟
- 6- اودھ پر اتحادی معاہدہ کب چھو پانگیا؟
- 7- دیسی ریاستوں میں گورنر جنرل کے نمائندہ کو کیا کہا جاتا تھا؟
- 8- کس گورنر جنرل نے اتحادی معاہدہ کی شروعات کی؟
- 9- انگریزوں نے سماج کے کس طبقہ کی جاگیروں اور قلعہ ضبط کر لیے تھے؟
- 10- ہندوستان میں بغاوت کی ابتداء کس ریجنٹ سے ہوئی؟

Objective type سوالات

- 11- 1857 کی بغاوت کس شہر سے شروع ہوئی؟
(الف) میرٹھ (ب) دہلی (ج) کانپور (د) جھانسی
- 12- باغی سپاہیوں کا جتھا دہلی کے لال قلعہ پر کب پہنچا؟
(الف) 10 مئی (ب) 11 مئی (ج) 12 مئی (د) 15 مئی

- 13- دہلی میں چنگیز باغیوں نے کسے اپنا سربراہ (کھلیا) چنا؟
- (الف) بہادر شاہ ظفر (ب) پیشوا ماجی راؤ دوم
(ج) نواب شوکت علی (د) رانی کشمی بائی
- 14- اوہ کے کس نواب کو انگریزوں نے بد نظمی کا الزام لگا کر اسے عہدہ سے ہٹا دیا تھا؟
- (الف) شیخ الدولہ (ب) سراج الدولہ
(ج) میر علی (د) نواب واجد علی شاہ
- 15- 1857 کی بغاوت کے وقت اتر پردیش میں بڑوت پرگنہ کے گاؤں والوں کو کسے منظم کیا؟
- (الف) شاہل (ب) کونو
(ج) کنور سنگھ (د) نانا صاحب
- 16- 1857 کی بغاوت کا فی الفور سبب کیا تھا؟
- (الف) فرنگی سپاہیوں کو مارنا (ب) چربی والے کارتوس
(ج) آٹے میں بڑیوں کا چورا (د) کم تنخواہ
- 17- 1857 کی بغاوت کا سب سے وسیع شکل کہاں دیکھنے کو ملی؟
- (الف) اوہ (ب) کرناٹک
(ج) بنگال (د) دہلی
- 18- ریاست ہڑپنے کی حکمت عملی کس کورنر جنرل نے اپنائی؟
- (الف) لارڈ کلائو (ب) لارڈ بیٹنگ
(ج) لارڈ لیویزی (د) لارڈ ارین بیٹنگ
- 19- کس صوبے کو بنگال آرمی کی زمسری کہا جاتا تھا؟
- (الف) اوہ (ب) مہاراشٹر
(ج) حیدرآباد (د) دہلی

- 20- انگریزوں نے بغاوت کو کچل کر دہلی پر دوبارہ قبضہ کب قائم کیا؟
- (الف) جون 1857 میں
(ب) اگست 1857 میں
(ج) ستمبر 1857 میں
(د) اکتوبر 1857 میں
- 21- ذیل کی تصویر کو پہچان کر اس کا نام بتائیے۔



معروضی سوالات

- 1- نکستو میں باغیوں کا لیڈر کون تھا؟
- 1- بہادر شاہ ظفر
2- رانی کھنسی بائی
3- برہمیس قدر
4- نانا صاحب
- 2- ڈاکا شاہ کسے کہا جاتا تھا؟
- 1- شاہ مل
2- مولوی احمد اللہ شاہ
3- نانا صاحب
4- واجد علی شاہ
- 3- امداری معاہدہ کب چھوٹا (لاکو) کیا گیا؟
- 1- 1798 میں
2- 1800 میں
3- 1801 میں
4- 1802 میں

- 4- کس انگریز افسر نے امدادی معاہدہ تیار کیا؟
- 1- لارڈ ڈلہوزی
2- لارڈ ویلنگٹن
3- لارڈ کارنوالس
4- لارڈ پارڈنگ
- 5- مندرجہ ذیل جملے کو درست کر کے لکھیے۔
- ”1857ء کی بغاوت میں کنورنگھ نے کول آدی باسیوں کی رہنمائی چھوٹا ناگپور سے کی تھی۔“
- 6- مندرجہ ذیل اشاروں کو پڑھ کر درست جواب کی پہچان کیجیے۔
- الف۔ وودپالکی میں بیٹھ کر چلتے تھے۔
ب۔ حیدرآباد میں شاہ بہت ہی کم عمر میں مبلغ بن گئے تھے۔
- 1- شاہ مل
2- شاہ حامل
3- مولوی برجیس قدر
4- مولوی احمد اللہ شاہ
- 7- صحیح جوڑوں کو ملائیے۔
- A- کانپور
B- مولوی احمد اللہ شاہ
C- لارڈ ڈلہوزی
D- لکھنؤ
- 1- دکن شاہ
2- ہڑپنے کی پالیسی (الحاق کی پالیسی)
3- نانا صاحب
4- برجیس قدر
- الف۔ A-i, B-ii, C-iii, D-iv
ب۔ A-i, B-iii, C-ii, D-iv
ج۔ A-iii, B-i, C-ii, D-iv
د۔ A-iv, B-ii, C-i, D-iii
- 8- (In Mamoriam) میموریم کس نے ذریعے بنائی گئی۔
- 1- جوزف، این مینٹین
2- ٹامس باوکر
3- مس ویلیئر
4- کرلامیٹ اسٹوڈی

9- ذیل میں دو بیان دیئے گئے ہیں۔ جن میں ایک بیان A اور دوسرا بیجہ R ہے۔

بیان A: "ان میسوریہ پینٹنگ جو زف ٹوٹیل جینس نے بنائی۔"

بیجہ R: اپنی پینٹنگ کے ذریعے باغیوں کی ایک منفی سوچ/شکل دکھانے کی کوشش کی۔

1- صرف بیان A ٹھیک ہے۔

2- صرف بیجہ R ہی ٹھیک ہے۔

3- بیان A اور بیجہ R دونوں ٹھیک ہیں لیکن R بیان A کی وضاحت نہیں کرتا۔

4- بیان A اور بیجہ R دونوں ٹھیک ہیں اور بیجہ R بیان A کی وضاحت کرتا ہے۔

10- 1857 کی بغاوت کے وقت انگریزوں کا کورزکون تھا؟

1- لارڈ ڈالہوزی 2- لارڈ ویلیزلی

3- لارڈ کیٹنگ 4- لارڈ ڈفرن

اقتباس پر منحصر سوال (3 نمبر والے)

درج ذیل اقتباس کو پڑھیے اور نیچے لکھے گئی تین سوالوں کے جواب لکھیے۔

تعلقہ دار کیا سوچتے تھے

(What taluqdars thought)

تعلقہ داروں کے رویہ کو رائے بریلی کے نزدیک واقعہ کا انکسر کے راجہ ہنونت سنگھ نے بے حد عمدہ ڈھنگ سے ظاہر کیا۔ بغاوت کے دوران ہنونت سنگھ نے ایک انگریز افسر کو پناہ دی تھی اور محفوظ مقام تک پہنچایا تھا۔ افسر کو رخصت کرتے وقت ہنونت سنگھ نے اس سے کہا تھا:

صاحب آپ کے ملک کے لوگ اس ملک میں آئے اور ہمارے راجاؤں کو جکھیل دیا۔ آپ اپنے افسران کو بھیج کر ضلعوں میں جاگیروں کی حق ملکیت کا معاہدہ کراتے ہیں۔ ایک ہی جھٹکے میں آپ نے مجھ سے میری زمین چھین لی جو میرے خاندان کی قدیم عہد سے تھی۔ میں نے اطاعت اختیار کر لی۔ اچانک آپ کی بد قسمتی شروع ہو گئی۔ اس زمین کے لوگ آپ کے خلاف اٹھ کھڑے ہوئے، تب آپ میرے پاس آئے جس کو آپ نے محروم کر دیا تھا،

میں نے آپ کو بچایا، لیکن اب میں اپنے خادموں کو لے کر لکھنؤ جا رہا ہوں تاکہ آپ کو ملک سے باہر نکالنے کی کوشش کروں گا۔

- A آپکے ملک کے لوگ سے راجا ہنونت سنگھ کی مراد کس ملک کے لوگوں سے تھی؟
 (الف) انگریز (ب) فرانس (ج) ڈچ (د) پرگال
- B جملے کو درست کر کے لکھیں
 راجہ ہنونت سنگھ نے ایک باغی کو پناہ دی اور اسے محفوظ مقام تک پہنچا دیا۔
- C پیش واقعہ کا تعلق ہے.....
 (الف) 1857 سے (ب) 1947 سے
 (ج) 1920 سے (د) 1930 سے
- D راجہ ہنونت سنگھ کے مطابق اچانک سے کس کا برا وقت شروع ہو گیا۔
 (الف) انگریزوں کا (ب) باغیوں کا
 (ج) مغلوں کا (د) سبھی کا
- درج ذیل تصویر کو پہچاننے اور کن ہی تین سوالوں کے جواب دیجیے۔



-A تصویر میں ہاتھ میں تلوار اور ڈھال لیے خاتون کس سے بدلہ لے رہی ہے۔

(الف) ہندوستان کے باغیوں سے (ب) غلاموں سے

(ج) انگریزوں سے (د) فرانس کی عوام سے

-B خالی جگہ پر کیجیے۔

(الف) محبت کی (ب) بدلے کی (ج) برداشت کی (د) کبھی کی

-C اس تصویر میں برطانوی عوام کے من میں جو بغاوت کے خلاف شبیہ بنائی گئی تھی کیا بھارت کے قوم پرستوں کے من میں بھی یہی تھا۔

-D باغی کس کی حکومت کو چنوتی دینا چاہتے تھے۔

(الف) نوابوں کو (ب) برطانوی حکومت کو

(ج) مغلوں کو (د) درج بالا کبھی کو

مختصر جواب والے سوالات (تین نمبر والے)

سوال نمبر 1- 1857 کی بغاوت کے اہم اسباب کیا تھے؟

سوال نمبر 2- 1857 کی بغاوت کی ناکامی کے اہم اسباب لکھیے۔

سوال نمبر 3- اودھ پر قبضہ کرنے میں انگریزوں کی دلچسپی کی اہم وجہ کیا تھی؟

سوال نمبر 4- ”امدادی معاہدہ“ سے کیا مراد ہے؟

سوال نمبر 5- اودھ کے الحاق سے تعلق داروں کی حالت پر کیا فرق پڑا؟

سوال نمبر 6- تعلق داروں کے اقتدار کا خاتمہ ہو جانے سے ایک سماجی نظام کس طرح درہم برہم ہو گیا؟

سوال نمبر 7- کن کوششوں سے پتہ چلتا ہے کہ باغی لیڈر 18 ویں صدی کے نظام کو قائم کرنا چاہتے تھے؟

سوال نمبر 8- باغیوں کے درمیان اتحاد قائم کرنے کے لیے کیا طریقے اپنائے گئے؟

سوال نمبر 9- ان شواہد/حقائق کا تذکرہ کیجیے جن سے پتہ چلتا ہے کہ باغی منصوبہ بند طریقوں اور تال میل کے ساتھ کام کر

رہے تھے۔

- سوال نمبر 10- 1857 کی بغاوت کو کچلنے کے لئے انگریزوں کے ذریعہ اٹھائے گئے اقدامات کا تذکرہ کیجیے۔
- سوال نمبر 11- 1857 کی بغاوت سے پہلے ہندوستانی فوجیوں کی انگریزی حکومت کے خلاف کیا شکایتیں تھیں؟ تذکرہ کیجیے۔
- سوال نمبر 12- 1857 میں باغیوں کے ذریعہ جاری کیے گئے اعلانیہ میں ذات اور مذہب کی تفریق کے بغیر سماج کے کبھی طبقات نے حصہ لیا تھا۔ وضاحت کیجیے۔
- سوال نمبر 13- ”1857 کی بغاوت صرف ایک فوجی بغاوت نہ ہو کر کسانوں، زمین داروں، آدمی باسیوں اور حکمرانوں کی بغاوت تھی“ واضح کیجیے۔
- سوال نمبر 14- 1857 کی بغاوت میں افواہوں اور پیشین گوئیوں کا کتنا تعاون تھا؟ وضاحت کیجیے۔
- سوال نمبر 15- لوگ افواہوں پر یقین کیوں کر رہے تھے؟ تین نکات میں واضح کیجیے۔

یا

انگریزوں کی ان پالیسیوں کا تذکرہ کیجیے جن کی وجہ سے لوگ افواہوں پر یقین کرنے لگے۔

طویل جواب والے سوالات (آٹھ نمبر والے)

- سوال نمبر 1- ”1857 کی بغاوت صرف ایک فوجی بغاوت تھی یا پہلی جنگ آزادی“ مدلل جواب دیجیے۔
- سوال نمبر 2- باغی کیا چاہتے تھے؟ مختلف سماجی گروہوں کی نظر میں کیا فرق تھا؟ وضاحت کیجیے۔
- سوال نمبر 3- 1857 کی بغاوت کے بارے میں تصویروں سے کیا معلوم ہوتا ہے؟ بیان کیجیے۔
- سوال نمبر 4- اودھ میں بغاوت اتنی شدید کیوں تھی؟ کسان، تعلقہ دراور زمیندار اس میں کیوں شامل ہوئے؟ وضاحت کیجیے۔
- سوال نمبر 5- 1857 کے واقعات کو متعین کرنے میں مذہبی عقائد کا کیا رول رہا؟ واضح کیجیے۔
- سوال نمبر 6- 1857 کی یادگنا زہ کرنے میں فنون لطیفہ اور ادب کا کیا تعاون ہے؟ تبصرہ کیجیے۔
- سوال نمبر 7- ”1857 کی بغاوت کو کچلنا انگریزوں کے لیے بہت آسان ثابت نہیں ہوا“ مناسب مثالوں سے اس بیان کی

وضاحت کیجیے۔

سوال نمبر 8۔ ”1857ء کے دوران برطانوی حکومت نے اودھ کے تعلقہ داروں کی طاقت کو کس طرح چھینا۔ مثال دے کر سمجھائیے۔“

اقتباس پر مبنی سوالات (چھ نمبر والے)

1۔ مندرجہ ذیل اقتباس کا بغور مطالعہ کیجیے اور متعلقہ سوالوں کے جواب دیجیے۔

نواب صاحب رخصت ہو چکے

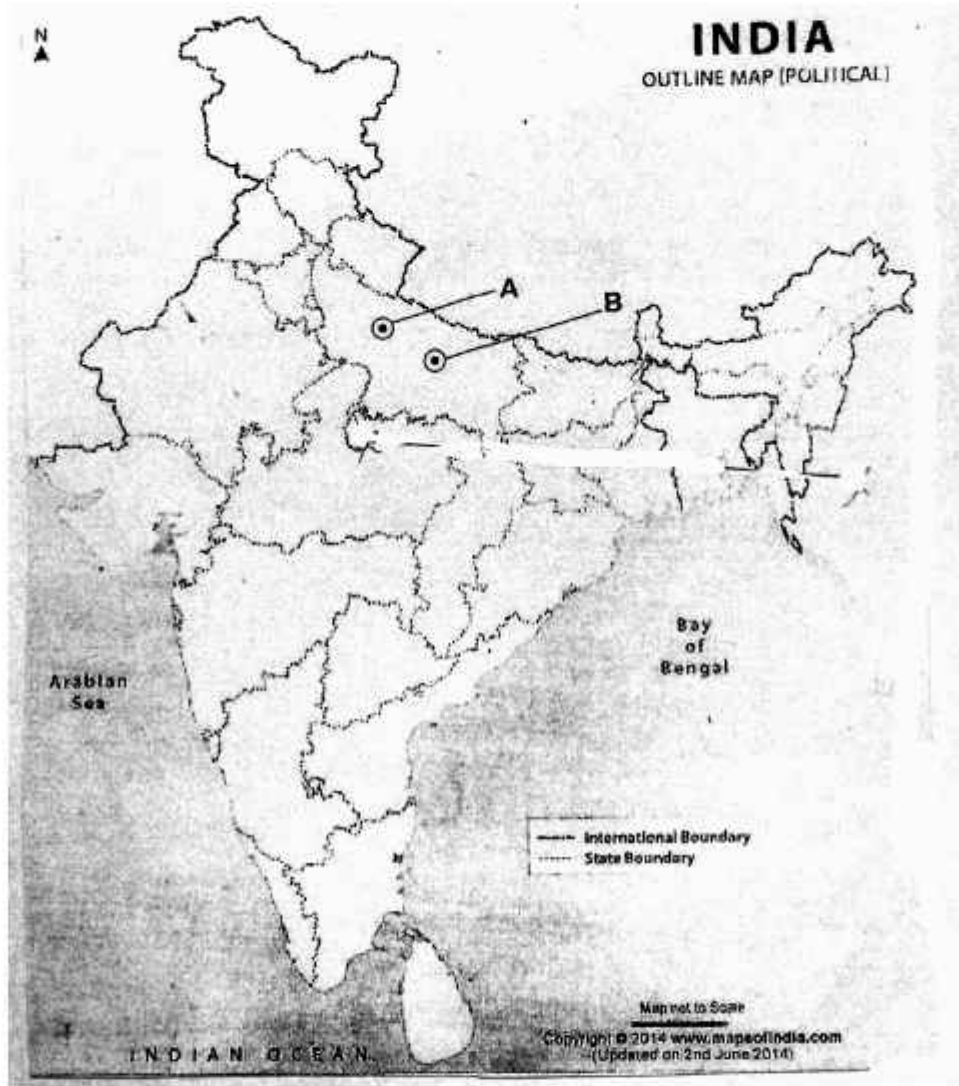
نواب کی جلاوطنی سے نقصان اور رنج و ملال کے اس منظر کو کئی معاصر مشاہدین نے قلم بند کیا ہے۔ ان میں سے ایک نے لکھا تھا ”جسم سے جان نکل چکی تھی اور اس شہر کا جسم بے جان باقی رہ گیا تھا..... وہاں کئی سڑک یا بازار اور گھر ایسا نہ تھا جس سے جان عالم کی جدائی میں سوہان روح کے ساتھ بلند آواز میں رونے کی آواز نہ آ رہی ہو۔“ ایک لوگ گیت میں ماحم کیا گیا کہ ”انگریز بہادر آئے اور ملک پر قبضہ کر لیا“ (انگریز بہادر آئے ملک لئے لہن ہو)

ایک دوسرے گیت میں حکمران کی تباہ حالی پر آہ و بکا کی گئی ہے جسے اپنے مادر وطن کو چھوڑنا پڑا۔

شرفا اور گسان سب مل کر رو رہے تھے اور تمام عالم آنسو بہا رہا تھا اور ماتم کر رہا تھا۔ آہ! جان عالم الوداع کہنے پر مجبور ہو گئے اور اپنے ملک سے پردیس چلے گئے۔

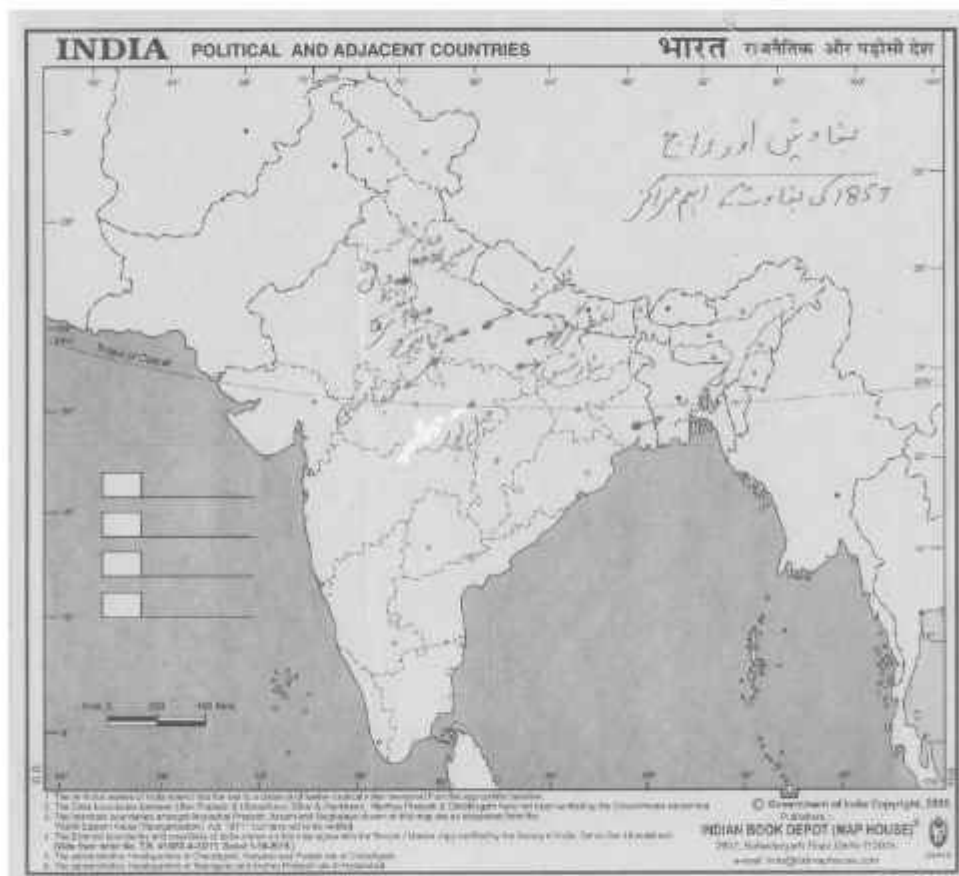
سوالات

- 1۔ ”جسم سے جان نکل چکی تھی اور اس شہر کا جسم بے جان باقی رہ گیا تھا.....“ مذکورہ سطر میں کس شہر کا بیان ہے؟
- 2۔ ڈاہوڑی نے کس پالیسی کے تحت مذکورہ شہر پر قبضہ کیا؟
- 2۔ حکمران کی جلاوطنی پر شہر کے لوگ اتنے غم زدہ کیوں تھے؟



- (i) دیئے گئے بھارت کے سیاسی نقشہ پر 1857 کے بغاوت کی تین اہم مقامات میرٹھ، کلکتہ اور دہلی کو دیکھائیے۔
- (ii) دیئے گئے اسی سیاسی نقشہ پر 1857 کی بغاوت کے دو اہم مراکز A اور B درج کیے گئے ہیں۔ انہیں پہچانیے اور ان کے صحیح نام ان کے سامنے کھینچی گئی لائنوں پر لکھیے۔





موضوع۔ بارہ

مہاتما گاندھی اور قومی تحریک

(سول نافرمانی اور اس سے آگے)

یاد رکھنے لائق نکات

- 1- جنوبی افریقہ میں ہی مہاتما گاندھی نے پہلی بار ستیہ گرہ کے طور پر معروف احتجاج ”عدم تشدد“ کی ممتاز تکنیک کو بتدریج آگے بڑھایا جس میں مختلف مذاہب، ذاتوں کے درمیان یک جہتی، جموں کے تیس روپے کو گھج رکھنا۔ اس سلسلے میں دیون سین کہتا ہے کہ جنوبی افریقہ نے گاندھی جی کو مہاتما بنا دیا۔
- 2- 1905-07 کی سوڈیشی تحریک نے اعلیٰ قسم کے لیڈروں کو تیار کیا۔ ان میں مہاراشٹر کے بال گنگا دھر تلک، بنگال کے پن چندر پال اور پنجاب کے لالہ لاجپت رائے خاص تھے۔ یہ تینوں لالہ، پال، پال کے نام سے معروف تھے۔
- 3- گاندھی جی پہلی مرتبہ فروری 1916 میں بنارس ہندو یونیورسٹی کی افتتاحی تقریب میں عوام کے سامنے آئے جہاں انھوں نے مز دوروں اور کسانوں کو اپنی تقریر کا مرکزی نقطہ بنایا اور اپنے مستقبل کی سیاست کا خاکہ تیار کیا۔
- 4- سال 1917-18 میں چمپارن، کھیڑ اور احمد آباد میں کی گئی پیش قدمیوں سے گاندھی جی ایک ایسے قوم پرست کی حیثیت سے ابھرے جن میں غریب لوگوں کے لیے گہری ہمدردی تھی۔
- 5- 1914-18 کی جنگ عظیم کے دوران انگریزوں نے پرلین پر احتساب (سنسر شپ) کا آغاز کر دیا اور بغیر کسی عدالتی کارروائی کے حراست میں رکھنے کی اجازت دے دی۔ آگے چل کر سرسندنی رولٹ کی قیادت میں بنی کمیٹی کی سفارش پر ان سخت اقدامات کو جاری رکھا گیا۔
- 6- 13 اپریل 1919 میں پنجاب کے امرتسر میں جلیاں والا باغ قتل عام کا سانحہ پیش آیا جس کے لیے جنرل ڈیرز ذمہ دار تھا۔
- 7- رولٹ ستیہ گرہ کی کامیابی، جلیاں والا باغ قتل عام سانحہ، انگریزوں کی وعدہ خلافی نے گاندھی جی کو عدم تعاون کی تحریک کے لیے اکسایا۔ 1920 میں عدم تعاون کی تحریک کی شروعات ہوئی جس میں خلافت تحریک کو حمایت دے کر ہندو مسلم یکجہتی پر زور دیا گیا۔

- 8- عدم تعاون کی تحریک میں طلباء، اساتذہ اور وکیلوں نے بھی بڑھ چڑھ کر حصہ لیا۔ سرکاری اداروں میں جانا موقوف کر دیا۔ مزدور طبقے نے بھی ہڑتال کر دی۔ پہاڑی قبائل نے جنگلاتی قوانین کی خلاف ورزی کی۔
- 9- فروری 1922 میں کسانوں کے ایک گروپ نے کو رکھ پور کے نزدیک چوراچوری میں ایک پولیس اسٹیشن پر حملہ کر کے اس میں آگ لگا دی جس سے کئی پولیس کانسٹیبل ہلاک ہو گئے۔ نتیجتاً گاندھی جی نے عدم تعاون کی تحریکوں کو منسوخ کر دیا۔
- 10- 1922 تک گاندھی جی ایک قومی رہنما بن گئے تھے کیونکہ انھوں نے ہندوستانی قوم پرستی کو ایک نئی راہ دکھائی تھی جس میں کسان، مزدور، تاجر، متوسط طبقے کو تحریک میں شامل کیا اور اپنے آپ کو روشناس کرایا۔ ان کے کام کرنے کے طریقے، پہناوے وغیرہ عوامی لیڈر بنا دیا۔ وہ عوام سے ہمدردی رکھتے تھے حتیٰ کہ ان کے ساتھ اپنی شناخت قائم کرتے تھے۔
- 11- 1928 میں نوآبادیاتی ہندوستان کے حالات کی چھان بین کے لیے سائمن کمیشن ہندوستان آیا۔ چونکہ اس کے بھی ممبران انگریز تھے اس لیے ہندوستانیوں نے اس کا بائیکاٹ کیا۔
- 12- دسمبر 1929 میں لاہور اجلاس میں کانگریس نے مکمل آزادی کا اعلان کیا۔
- 13- 12 مارچ 1930 کو گاندھی جی نے ساہتی سے ڈانڈی مارچ کا آغاز کیا اور 6 اپریل 1930 کو تک بنا کر ڈانڈی مارچ کو ختم کیا۔
- 14- تک کی تحریک تین اسباب کی وجہ سے منفر تھی:
- (i) دنیا کی توجہ گاندھی جی کی طرف مبذول ہو گئی
 - (ii) یہ پہلی قوم پرست سرگرمی تھی جس میں خواتین نے بڑی تعداد میں حصہ لیا
 - (iii) انگریزوں کو یہ احساس ہوا کہ ان کا راج بہت دنوں تک نہیں رہے گا۔
- 15- 1931 میں ”گاندھی ارون سمجھوتہ“ شراکتا — سول نافرمانی کی تحریک کو واپس لینا۔ سارے قیدیوں کی رہائی، ساحلی علاقوں میں تک تیار کرنے کی اجازت دینا۔
- 16- ”ہندوستان چھوڑو“ صحیح معنوں میں ایک عوامی تحریک تھی جو گاندھی نہرو جیسے اہم رہنماؤں کو گرفتار کرنے کے بعد بھی جاری رہی۔ نوجوان سرگرم کارکنان پورے ملک میں ہڑتالیں اور تحریک کاری میں سرگرم تھے۔ ستارہ، میدانی پورا اور بلایا میں آزاد حکومتوں کا اعلان کر دیا گیا۔

- 17- ہم عصر ماخذ جیسے گاندھی جی کے مجاسیوں، مخالفوں کی تقاریر، تحریریں، گاندھی جی کی سوانح، پولس ریکارڈ، اخبارات میں شامل خبریں غرضی خط و کتابت کو سمجھنے میں بہت اہم ماخذ ہیں۔
- 18- 1935 کے کورنٹ آف انڈیا ایکٹ نے نماندگی پر مبنی حکومت کا وعدہ کیا گیا۔ یہی ایکٹ آگے چل کر آئین ہند کی بنیاد بنا۔
- 19- 1924 میں جیل سے رہا ہونے کے بعد گاندھی جی نے اپنا دھیان تعمیراتی کاموں جیسے چرے کو مقبول بنانا، ہندو مسلم یک جہتی، چھوٹا چھوٹا کو دور کرنے میں لگایا۔
- 20- دوسری کول میز کانفرنس 1931 کے آخر میں لندن میں منعقد ہوئی اور کسی نتیجہ پر نہیں پہنچ سکی اس لیے گاندھی جی نے واپس آ کر دوبارہ سول نافرمانی تحریک شروع کر دی۔
- 21- مارچ 1940 میں مسلم لیگ نے برصغیر کے مسلم اکثریت علاقوں کے لیے خود مختاری کی مانگ کی تجویز پیش کی۔
- 22- گاندھی جی نے نہ صرف آزادی اور اٹوٹ بھارت کے لیے زندگی بھر لڑائی لڑی بلکہ وہ ایک سماجی اصلاح کار بھی تھے۔ جنہوں نے اپنا دھیان کھادی کو بڑھا دینے اور چھوٹا چھوٹا کو ختم کرنے پر لگایا۔
- 23- گاندھی جی نے چرے کو انسانی سماج کے نمونہ کے طور پر دیکھا۔ جس نے مشینوں اور میکینولوجی کو بہت بڑھا دیا نہیں دیا جائے۔
- 24- 1917-22 کے درمیان ہندوستانوں کے با اثر طبقات جس میں مہا دیوی عیسائی ولیہ بھائی ٹیل، جے بی کریمانی، سچاش چندریوس، ابوالکلام آزاد، جواہر لعل نہرو، سروجنی نائیڈو، کوندھ بلہہ پنت اور سنی راج کوپال چاریہ شامل تھے جنہوں نے گاندھی وادی اور قوم پرستی کی ارتقا میں تعاون دیا۔
- 25- بنگال میں امن قائم کرنے کے لیے مہم چلانے کے لیے گاندھی جی نوآکھلی گئے اس کے بعد وہی آئے اور یہاں سے پنجاب جانے کا پروگرام تھا لیکن تب ہی 30 جنوری 1948 کو ہتھیاراں کوڈ سے نے کوئی مارکر گاندھی جی کا قتل کر دیا۔

مختصر ترین جواب والے سوالات (ایک نمبر والے)

- 1- انڈین نیشنل کانگریس نے پہلا یوم آزادی کب اور کہاں منایا؟
- 2- گاندھی جی کی پہلی عوامی حاضری (Meeting) کہاں پر ہوئی تھی؟

- 3- جلیاں والا باغ کا واقعہ کب ہوا۔
- 4- گاندھی جی نے عدم تعاون تحریک کس واقعہ کی وجہ سے واپس لی تھی؟
- 5- 1929 کے لاہور سیشن کی اہم خصوصیات کیا تھیں؟
- 6- پہلی بار قومی جھنڈا کب بھمبرایا گیا؟
- 7- گاندھی جی نے ڈانڈی مارچ کب شروع کیا؟
- 8- کس غیر ملکی رسالے میں گاندھی جی کے کردار پر پبلسی اڑائی گئی تھی؟
- 9- بھارت چھوڑو آندولن کس سن میں شروع کیا گیا؟
- 10- گاندھی جی ارون معاہدہ کس سن میں ہوا؟

Objective Type Question

- 11- گاندھی جی کے بارے میں صحیح بیان چنیے۔
- i- وہ جنوری 1915 میں جنوبی افریقہ سے بھارت واپس آئے۔
- ii- سٹیوگرہ کا پہلا تجربہ گاندھی جی نے جنوبی افریقہ میں کیا۔
- iii- 1917 میں انھوں نے چمپارن سٹیوگرہ کیا۔
- iv- درج بالا میں سے کبھی بیانات درست ہیں۔
- جواب دیجیے۔

- (الف) صرف ایک صحیح ہے۔
- (ب) صرف ایک اور دو صحیح ہیں۔
- (ج) صرف ایک دو اور تین صحیح ہیں۔
- (د) ان میں سے کوئی درست نہیں ہے۔
- 12- درج ذیل تحریکوں میں سے 1942 اگست میں کون سی تحریک شروع کی گئی۔

- (الف) بھارت چھوڑو تحریک
- (ب) رولٹ ایکٹ کے خلاف تحریک
- (ج) سول نافرمانی کی تحریک
- (د) چمپارن ستیہ گروہ
- 13- جلیاں والا قتل عام کہاں ہوا؟
- (الف) لاہور (ب) کلکتہ (ج) کراچی (د) امرتسر
- 14- خلافت تحریک کے بانی کون تھے؟
- (الف) مہاتما گاندھی (ب) جے پرکاش نارائن
- (ج) محمد علی اور شوکت علی (د) ابوالکلام آزاد
- 15- یہ بیان کس نے دیا؟ ”جنوبی افریقہ نے ہی گاندھی مہاتما بنایا“۔
- (الف) ٹوٹی فشر (ب) چندرن دیوشین
- (ج) ہائمس مسگنیرن (د) کوپال کرشن کوکھلے
- 16- لاہور اجلاس کے بارے میں اس میں کون سا بیان غلط ہے؟
- (الف) یہ 1929 دسمبر میں منعقد کیا گیا۔
- (ب) اس میں مکمل آزادی کی بات کی گئی۔
- (ج) اس کی صدارت ولیم بھائی پٹیل نے کی۔
- (د) 26 جنوری 1930 کو پہلا یوم آزادی منایا گیا۔
- 17- کس تحریک میں پہلی مرتبہ خواتین نے بڑھ چڑھ کر حصہ لیا۔
- (الف) خلافت تحریک (ب) عدم تعاون
- (ج) سول نافرمانی کی تحریک (د) بھارت چھوڑو تحریک

18- کریس مشن کے ساتھ بات چیت میں کانگریس نے کیا مسودہ پیش کیا؟

(الف) کبھی سیاسی قیدیوں کو رہا کیا جائے

(ب) بھارت کو مکمل آزادی دی جائے۔

(ج) وائس رائے اپنی ورکنگ کمیٹی میں کسی ہندوستانی کو دفاعی ممبر کر طور پر منتخب کرے۔

(د) ساحلی علاقوں میں نمک بنانے اور فروخت کرنے کی اجازت دی جائے۔

19- بھارت چھوڑو تحریک کے دوران مساوی سرکار کہاں کہاں پر قائم کی گئی۔

(الف) نوعاکلی

(ب) دہلی

(ج) میدنی پور اور شاہ

(د) پنجاب

20- ”آئی بی آف ورلڈ لیٹرس“ کس کے نجی خطوط کا مجموعہ ہے۔

(الف) جواہر لعل نہرو

(ب) مہاتما گاندھی

(ج) سچاں چندریوس

(د) بھگت سنگھ

21- درج ذیل تصویر کو بخور مطالعہ کیجیے اور بتائیے یہ کس کی تصویر ہے۔



معروضی سوالات

- 1- مہاتما گاندھی کس سال میں بھارت آئے۔
- 1- 1912ء میں
2- 1914ء میں
- 3- 1915ء میں
4- 1916ء میں
- 2- گاندھی جی نے سب سے پہلے ”ستیاگرہ“ کی شروعات کہاں سے کی۔
- 1- چمپارن سے
2- کھیڑا سے
- 3- لکھنؤ سے
4- سامویتی آشرم سے
- 3- عدم تعاون تحریک کا دوران وقفہ کیا ہے؟
- 1- 1919-21
2- 1920-22
- 3- 1922-24
4- 1919-22
- 4- انڈین نیشنل کانگریس نے پہلا یوم آزادی کب منایا؟
- 1- 26 جنوری 1950
2- 15 اگست 1947
- 3- 26 جنوری 1930
4- 26 جنوری 1949
- 5- وائڈی مارچ کے وقت بھارت میں انگریزوں کا وائس رائے کون تھا۔
- 1- لارڈ کرزن
2- لارڈ کیٹنگ
- 3- لارڈ ولیم پیٹک
4- لارڈ ارون
- 6- ذیل میں دیئے گئے اشاروں کو پڑھ کر درست جواب کی پہچان کیجیے۔

1- اس مقام کے نام پر گاندھی جی نے اپنی بڑی تحریک کا نام رکھا۔

2- اس مقام پر انگریزوں کے ذریعے تھوپے (لاکو) کے قانون کو توڑا گیا۔

(i) ساہتی آشرم (ii) احمد آباد

(iii) امرتسر (iv) داہدی

7- صحیح جوڑوں کو ملائیے۔

A- گاندھی جی کی ہندوستان آمد 1919 -1

B- نمک سٹیڈی گره 1942 -2

C- جلیاں والا باغ حادثہ 1930 -3

D- بھارت چھوڑو تحریک 1915 -4

1- A-iii, B-ii, C-iv, D-i

2- A-iv, B-iii, C-i, D-ii

3- A-ii, B-iii, C-i, D-iv

4- A-iv, B-iii, C-iv, D-i

8- مندرجہ ذیل بیان کو درست کر کے لکھیے۔

”مہاتما گاندھی نے اپنا پہلا سٹیڈی گره 1919 میں کھیڑا میں شروع کیا۔“

9- ذیل میں دو بیان دیئے گئے ہیں۔ جن میں بیان A اور دوسرا سبب R ہے۔

بیان A: 1921 میں جنوبی ہند کے سفر کے دوران گاندھی جی نے سوئی کپڑے پہننے شروع کر دیئے۔

سبب R: ایسا کر کے گاندھی جی غریبوں کے ساتھ اپنی شناخت قائم کرنا چاہتے تھے۔

- 1- صرف بیان A درست ہے۔
 - 2- صرف سبب R درست ہے۔
 - 3- بیان A اور سبب R دونوں درست ہیں اور سبب R بیان A کا درست وضاحت نہیں کرتا ہے۔
 - 4- بیان A اور سبب R دونوں درست ہیں اور سبب R بیان A کا درست وضاحت بھی کرتا ہے۔
- 10- کس حادثہ کے بعد گاندھی جی نے عدم تعاون تحریک کو ختم / واپس کر دیا تھا۔

1- جلیاں والا باغ حادثہ

2- چمپارن سٹیہ گروہ

3- نمک سٹیہ گروہ

4- چوری چورا حادثہ

اقتباس پر منحصر سوالات

- (i) دیئے گئے ماخذ کو خود سے پڑھیے اور اس کے نیچے دیئے گئے سوالات میں سے کن ہی تین کے جوابات دیجیے۔

چرخہ

مہاتما گاندھی جدید عہد کے شدید نقاد تھے جس میں مشینوں نے انسانوں کو غلام بنا کر محنت کو بے دخل کر دیا تھا۔ وہ چرخہ کو انسانی سماج کے ایک ایسے مظہر کے طور پر دیکھتے تھے جس میں مشینوں اور ٹیکنالوجی کی ستائش نہیں کی جائے گی۔ مزید آن چرخہ غریب لوگوں کو اضافی آمدنی فراہم کر سکتا تھا اور انھیں خوشنیل بنا سکتا تھا۔

نیچے دو بیانات دیئے گئے ہیں جس میں سے بیان (A) کے طور پر اور دوسرے کو سبب (R) کے طور پر دکھایا گیا ہے۔

بیان A - مہاتما گاندھی مشینوں کے ناقدم تھے

سبب B - مہاتما گاندھی کا اعتراض مشینوں کی سنک سے تھا۔

- (الف) بیان A درست ہے۔
- (ب) صرف سبب (R) صحیح ہے۔
- (ج) بیان A اور R دونوں درست ہیں لیکن سبب (R) بیان اے کی وضاحت نہیں کرتا۔
- (د) بیان A اور R دونوں درست ہیں اور سبب R بیان A کا خلاصہ کرتا ہے۔
- گاندھی جی کے مطابق درج ذیل سے کیا مراد تھی؟
- مشینوں کا استعمال۔

- (i) مشین نے انسان غلام بنا کر مزدوری سے ہٹا دیا۔
- (ii) پیسے اپنے آپ میں مشینری کا ایک بہترین نمونہ ہے۔
- (الف) پہلا درست ہے (ب) دوسرا غلط ہے
- (ج) دونوں درست ہیں (د) دونوں غلط ہیں
- (i) چرخہ غریب کو خود کفیل بنا سکتا ہے۔
- (ii) دولت کا جواز کچھ لوگوں کے ہاتھ میں کرتا ہے۔
- (iii) غریب کو دوسرے پر منحصر کرتا ہے۔
- (iv) مشینوں کو بڑھانا ادریتا ہے۔
- B درج بالا میں سے کون سا بیان صحیح ہے۔
- C مہاتما گاندھی مشینوں کے بے جا استعمال کے خلاف تھے کیونکہ:-
- (الف) مشینوں کی وجہ سے جسمانی محنت کم ہوتی ہے۔
- (ب) ہزاروں کی تعداد میں لوگ بے روزگار ہو جائیں گے۔
- (ج) لوگوں کی زندگی آرام پسند ہو جائے گی۔
- (د) مشین آمدنی بڑھانے کا ذریعہ فراہم کرتی ہے۔

22- دی گئی تصویر کو غور سے دیکھیں اور کن ہی تین سوالات کے جوابات دیجیے۔



اس تصویر میں کیا دکھایا گیا ہے؟

(الف) جواہر لال نہرو کی آخری رسومات۔

(ب) دیوتاؤں سے آشرودا لینے کے لیے ہون کرنا۔

-A اس تصویر میں کیا دکھایا گیا ہے؟

(الف) جواہر لال نہرو کی آخری رسومات

(ب) دیوتاؤں سے آشرودا لینے کے لیے ہون کرنا

(ج) اندرا گاندھی کی آخری رسومات

(د) مہاتما گاندھی کی آخری رسومات

-B مقامی شہیہوں میں مہاتما گاندھی کو دیکھا جاتا تھا۔

(الف) ایکٹا کے لیے پیر دیوتا کے طور پر

(ب) قوم پرست کے طور پر

(ج) ایک سماجی مصلح کے طور پر

(د) درج بالا میں سے کوئی نہیں

-C- یہ تصویر کس بات کا نمونہ ہے؟

(الف) کانگریس میں دو نظریات کے ٹکراؤ کا

(ب) کانگریس کے اندر دو الگ الگ دھاراؤں کے ایک ہونے کا۔

(ج) دونوں درست ہیں (الف اور ب)

(د) دونوں غلط ہیں (الف اور ب)

-D- درج ذیل دو بیانات دیئے گئے ہیں جن میں بیان (A) اور سبب (R) کے طور پر دیئے گئے ہیں۔

بیان A - گاندھی جی کے پاس کرشمائی طاقت تھیں

سبب R - گاندھی بابا۔ گاندھی مہاراج یا مہاتما جیسے الگ الگ القابات سے نوازا گیا ہے۔

(الف) بیان A درست ہے۔

(ب) سبب R صحیح ہے۔

(ج) بیان A اور سبب R درست ہیں اور سبب R بیان A کا خلاصہ کرتا ہے۔

(د) بیان A اور سبب R دونوں صحیح ہیں لیکن سبب R بیان A کا خلاصہ نہیں کرتا۔

مختصر جواب والے سوالات (تین نمبر والے)

سوال نمبر 1- عدم تعاون کی تحریک کب اور کیوں شروع کی گئی؟ اس کو چھوڑنے کی وجوہات کا تذکرہ کیجیے۔

سوال نمبر 2- گاندھی جی کی حیرت انگیز قوت کار سے متعلق افواہیں کیا تھیں؟ واضح کیجیے۔

سوال نمبر 3- لارڈ ماؤنٹ بیٹن کے منصوبہ کا ذکر کیجیے۔

- سوال نمبر 4- کیبنٹ مشن ہندوستان کب آیا؟ اس کی اہم سفارشات کیا تھیں؟ تذکرہ کیجیے۔
- سوال نمبر 5- گاندھی جی جتنے بڑے سیاستداں تھے اتنے ہی بڑے سماجی مصلح تھے۔ واضح کیجیے۔
- سوال نمبر 6- بہت سے مفکروں نے آزادی کے بعد کے مہینوں کو گاندھی جی کی زندگی کا اہم ترین لمحہ کیوں کہا ہے؟ واضح کیجیے۔
- سوال نمبر 7- 1915 میں مہاتما گاندھی کے ہندوستان واپس آنے کے دوران ملک کے حالات کا تذکرہ کیجیے۔
- سوال نمبر 8- دسمبر 1929 میں لاہور میں منعقد کانگریس اجلاس کی اہمیت کا تذکرہ کیجیے۔
- سوال نمبر 9- گاندھی جی نے نمک ستیہ گرہ کے دوران نمک کو ہی مخالفت/احتجاج کی علامت کے طور پر کیوں منتخب کیا؟ وضاحت کیجیے۔
- سوال نمبر 10- گاندھی جی نے نمک ستیہ گرہ یا سول نافرمانی کی تحریک کیوں شروع کی؟ اس دوران کیا طریقے اپنائے گئے؟
- سوال نمبر 11- گاندھی جی تحریک آزادی کے دوران چہ نئے کو انسانی سماج کی علامت کے طور پر کیوں منتخب کیا گیا؟
- سوال نمبر 12- ذاتی خطوط اور خودنوشت سرکاری ماخذوں سے کس طرح مختلف ہوتی ہیں؟ ان سے کسی شخص کے کن کن پہلوؤں کی معلومات حاصل ہوتی ہے؟
- سوال نمبر 13- ”چمپارن“ کھیز اور احمد آباد میں گاندھی ایک ایسے قومی لیڈر کے طور پر ابھرے۔ جن میں غریبوں کے لیے گہری ہمدردی تھی، وضاحت کیجیے؟
- سوال نمبر 14- ڈائریکٹ ایکشن ڈے کا اعلان کس نے کب اور کیوں کیا تھا؟
- سوال نمبر 15- گاندھی جی کے ان عقیدت مندوں کے نام لکھیے جنہوں نے گاندھی جی کے نظریات کو قوم پرستی کے ارتقا میں تعاون کیا؟

طویل جواب والے سوالات (آٹھ نمبر والے)

- سوال نمبر 1- 1930 میں گاندھی جی کے ذریعے چلائی گئی نمک تحریک کی وجوہات اور نتائج کو تفصیل سے بیان کیجیے۔
- سوال نمبر 2- 1922 تک مہاتما گاندھی ایک مقبول لیڈر بن گئے تھے۔ تبصرہ کیجیے۔
- سوال نمبر 3- مہاتما گاندھی کے ذریعے قومی تحریک کو ایک عوامی تحریک میں تبدیل کر دیا گیا۔ وضاحت کیجیے۔
- سوال نمبر 4- ان اہم واقعات پر تبصرہ کیجیے جن کے نتیجے میں ”ہندوستان چھوڑو“ تحریک شروع ہوئی۔ اس کی اہم خصوصیات کو بیان کرتے ہوئے اس تحریک میں مہاتما گاندھی کے کردار کا جائزہ لیجیے۔
- سوال نمبر 5- مہاتما گاندھی نے قومی تحریک کی شکل کو کس طرح مکمل طور پر بدل کر رکھ دیا۔ تجزیہ کیجیے۔

- سوال نمبر 6- ہندوستان چھوڑو تحریک کو عوامی تحریک کیوں کہا گیا؟ وضاحت کیجیے۔
- سوال نمبر 7- مختلف قومی تحریکوں کے ضمن میں مہاتما گاندھی کے کردار کو بیان کیجیے۔
- سوال نمبر 8- ان مختلف قسم کے ماخذوں کا ذکر کیجیے جن کی بنیاد پر گاندھی جی کے سیاسی سفر اور تحریک آزادی کی تاریخ کی ازسر نو تشکیل کی جاسکتی ہے۔

اقتباس پر مبنی سوالات (چھ نمبر والے)

- 1- مندرجہ ذیل اقتباس کا بغور مطالعہ کیجیے اور متعلقہ سوالات کے جواب دیجیے۔

کل ہم نمک ٹیکس قانون توڑیں گے

15 اپریل 1930 کے دن مہاتما گاندھی نے ڈانڈی میں کہا تھا:

جب میں نے سارمتمی کو اپنے ساتھیوں کے ساتھ ڈانڈی کے سمندری ساحل کے چھوٹے سے گاؤں کے لیے چھوڑا تھا تو میرے ذہن میں یہی یقین نہیں تھا کہ ہم کو اس مقام تک پہنچنے دیا جائے گا۔ اس وقت جب میں سارمتمی میں تھا تب یہ افواہ تھی کہ مجھے گرفتار کیا جاسکتا ہے۔ میں نے سوچا کہ حکومت شاید میرے ساتھیوں کو ڈانڈی تک آنے دے گی لیکن مجھے یقیناً نہیں آنے دے گی۔ اگر کوئی شخص میرے اوپر دانستہ ناقص عقیدہ کے الزام کا اظہار کرتا ہے تو میں اس الزام سے انکار نہیں کروں گا۔ میرے یہاں تک پہنچنے میں امن اور عدم تشدد کی طاقت کی معمولی تدبیر حق بجانب نہ ہوگی۔ اس طاقت کو آفاقی طور پر محسوس کیا جاتا ہے۔ کاش حکومت، اگر یہ چاہے تو وہ اس کام کی انجام دہی کے لیے خود کو مبارکباد دے سکتی ہے کیونکہ وہ ہم میں سے ہر ایک کو گرفتار کر سکتی تھی۔ جب حکومت یہ کہتی ہے کہ ان کے پاس امن کی اس فوج کو گرفتار کرنے کی ہمت نہیں تھی تو ہم اس بات کی تعریف کرتے ہیں اس طرح کی فوج کو گرفتار کرنے میں حکومت شرم محسوس کرتی ہے۔ جو شخص کوئی ایسا کام کرنے میں شرمندگی محسوس کرتا ہے۔ جس سے اس کا پرہیزی یا خوش ہوتو وہ شخص مہذب ہے۔ حکومت ہم لوگوں کو گرفتار نہ کرنے کے لئے مبارکبادی مستحق ہے۔ بالفرض اس نے یہ کام عالمی رائے کے خوف سے صرف بچنے کے لیے ہی کیا ہو۔

کل ہم نمک قانون توڑیں گے خواہ حکومت اس کو برداشت کرتی ہے یا نہیں۔ یہ سوال الگ ہے۔ ہو سکتا ہے کہ حکومت یہ برداشت نہ کرے لیکن اس جماعت کے لئے جو مہر و استتلال اور ضبط و تحمل کا اس نے مظاہرہ کیا ہے وہ اس کے لئے مبارکبادی مستحق ہے۔

اگر مجھے گجرات میں باقی ملک کے سارے ممتاز لیڈروں کے ساتھ گرفتار کر لیا جاتا ہے تو کیا ہوگا، یہ تحریک اس یقین پر مبنی ہے کہ جب ایک ملک خواب و غفلت سے بیدار ہو جاتا ہے اور آگے بڑھنے لگتا ہے تو اسے لیڈر کی ضرورت نہیں ہوتی۔

سوالات

- 1- گاندھی جی کے ذریعہ نمک قانون کن حالات میں توڑا گیا؟
- 2- نوآبادیاتی ریاست سے متعلق گاندھی جی کے خیالات کو ظاہر کیجیے۔
- 3- نمک تحریک کن تین وجوہات کی بنا پر لازمی تھی؟

2- مندرجہ ذیل اقتباس کا بغور مطالعہ کیجیے اور متعلقہ سوالات کے جواب دیجیے۔

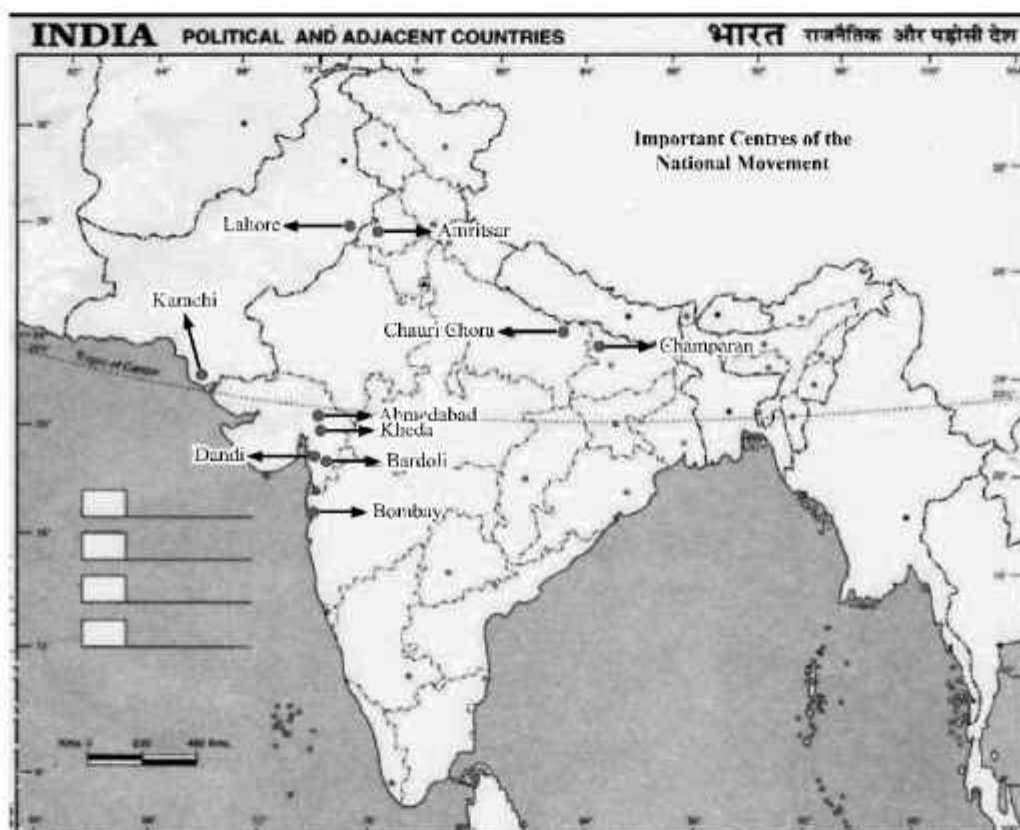
جداگانہ انتخابی حلقوں کی بابت امبیڈکر کے خیالات

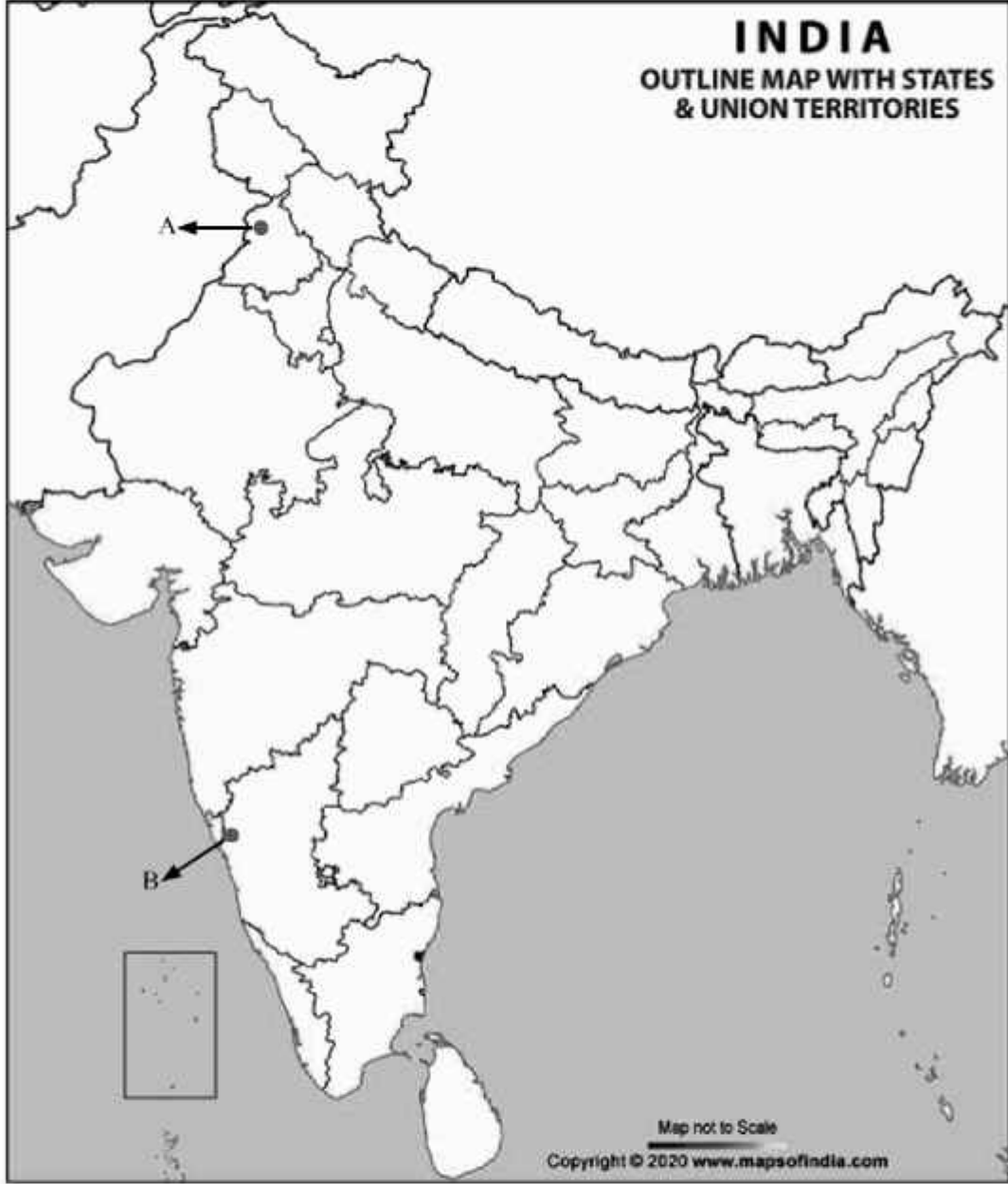
پسماندہ (دبے کچلے) طبقات کے لئے جداگانہ انتخابی حلقوں کے لیے مطالبہ کرنے پر گاندھی جی کی مخالفت کے جواب میں امبیڈکر نے لکھا تھا یہاں ایک ایسا طبقہ ہے جو بے شک اس حالت میں نہیں ہے کہ وہ بذات خود بقا کے لیے جدوجہد جاری رکھ سکے۔ جس مذہب سے یہ لوگ بندھے ہوئے ہیں وہ انھیں باعزت مقام مہیا کرانے کے بجائے ان پر کوزھوں کا ٹھپہ لگاتا ہے اور انھیں عمومی روباہ کے لیے موزوں نہیں سمجھتا۔ معاشی طور پر یہ ایسا طبقہ ہے جو روزی روٹی کے لیے پوری طرح اعلیٰ ذات کے ہندوؤں پر انحصار کرتا ہے اور جس کے پاس اپنے ذریعہ معاش کے لیے کوئی آزاد راستہ کھلا ہوا نہیں ہے۔ ہندوؤں کے سماجی تعصبات کی وجہ سے ان کے تمام راستے بند ہیں۔ بلکہ ہمارے ہندو سماج نے واضح کوشش کے ذریعے ازاول تا آخر سارے ممکنہ دروازے بند کر دیے جس نے دبے کچلے طبقات کو زندگی کے پیمانے پر اوپر اٹھنے کے لیے کوئی موقع مہیا نہیں کرایا۔

ان حالات میں تمام منصف مزاج لوگ اس بات کو قبول کریں گے کہ ایسے پانچ طبقہ کے لیے منظم استبداد کے خلاف زندگی کی جدوجہد میں کامیابی کے لیے صرف ایک ہی راستہ ہے کہ اسے سیاسی اقتدار میں کچھ حصہ ملے تاکہ یہ خود اپنا تحفظ کر سکیں... یہ سب سے مقدم ضرورت ہے۔

سوالات

- 1- ڈاکٹر امبیڈکر نے دبے کچلے طبقہ کے بارے میں کیا دلائل پیش کیے؟
- 2- پسماندہ طبقہ کو باعزت مقام مہیا کرانے کے لیے تجاویز پیش کیجیے۔
- 3- اس پیراگراف میں ڈاکٹر امبیڈکر کس کی دلیلوں کا جواب دے رہے ہیں؟





سوال (i) دیئے گئے بھارت کے سیاسی نقشہ پر آزادی کی لڑائی کے اہم مراکز A اور B دکھائے گئے ہیں۔ انہیں پہچانئے اور ان کے نام لکھیے۔

(ii) اسی نقشہ پر ڈاڈئی، لاہور اور چمپارن دکھائیے۔

موضوع۔ چودہ

دستور کی تشکیل

(ایک نئے عہد کا آغاز)

یاد رکھنے لائق نکات

- 1- ہندوستان کا آئین 26 جنوری 1950 کو عمل میں لایا گیا۔ اس کی تشکیل سے پیشتر کے سال غیر معمولی طور پر ہنگامہ خیز تھے۔ یہ عظیم امیدوں کے ساتھ ہی نفرت انگیز مایوسی کا دور بھی تھا۔ لوگوں کے ذہنوں میں ہندوستان چھوڑو تحریک کی جہد و جہد کی یادیں، آزاد ہند فوج کی کوشش، 1946 میں رائل انڈین نیوی کی بغاوت، ملک کے مختلف حصوں میں مزدوروں اور کسانوں کے احتجاجات اور امیدوں کی علامتیں۔
- 2- ہمارے آئین نے ماضی اور حال کے زخموں کو بھرنے اور مختلف طبقتوں، ذاتوں اور فرقوں کے ہندوستانیوں کو ایک مشترک سیاسی تجربہ میں مربوط کرنے کی کوشش کی۔
- 3- ہندوستانی آئین کی تشکیل 9 دسمبر 1946 اور 26 نومبر 1949 کے درمیان ہوئی۔ دستور ساز اسمبلی کے کل 11 اجلاس منعقد ہوئے جو 165 دن کی نشستوں پر مشتمل تھے۔
- 4- دستور ساز اسمبلی میں غور و فکر جاری تھا، فریقین کے دلائل اخبارات میں شائع ہوا کرتے تھے اور تجاویز پر عوامی مباحثے بھی ہوتے تھے۔ پریس (اخبارات) میں ہونے والی تنقید اور جوابی تنقید سے واضح مسائل پر باری باری بننے والی عمومی اتفاق رائے کی نوعیت بالآخر ایک قالب تک پہنچ جاتی تھی۔ پہلجا نظر تیب اجتماعی شرکت داری کا شعور پیدا کرنے کے لیے عوام سے ان کی رائے بھی پیش کرنے کے لیے کہا جاتا تھا۔
- 5- مسلم لیگ نے ابتدائی اجلاسوں (یعنی جو 15 اگست 1947 سے قبل منعقد ہوئے تھے) کے بائیکاٹ کا فیصلہ کیا تھا لہذا یہ اجلاس ایک واحد پارٹی کی نمائندگی بن گئے اس لیے کہ کل ممبران میں 82 فیصد کانگریس پارٹی تھے۔
- 6- دستور ساز اسمبلی میں کل تین سو ممبران تھے۔ ان میں سے چھ ممبران نے خاص طور پر اہم کردار ادا کیا۔ جن میں سے تین۔ جواہر لال نہرو، ولہ بھائی پٹیل، راجندر پراساد کانگریس کے نمائندے تھے۔ اس کے علاوہ ان میں معروف نامور وکیل بی آرمیڈ کر، کے ایم ششی، الادی کرشنا سوامی ایشا مل تھے۔

- 7- دستور ساز اسمبلی میں دو انتظامی افسر بھی تھے۔ ان میں سے ایک بی این راؤ حکومت ہند کے آئینی مشیر تھے جبکہ دوسرے افسر ایس۔ این۔ کھر جی تھے۔ ان کے کردار آئین کے خاص خاکہ سازی کے تھے۔
- 8- دستور کے خاکے کو تیار کرنے میں تین سال (یعنی دو سال گیارہ مہینے اور اٹھارہ دن) لگے اور اس دوران ہوئے مباحثوں کے طبع شدہ ریکارڈ 11 ضخیم جلدوں میں شائع ہوئے۔
- 9- 13 دسمبر 1946 کو جواہر لال نہرو نے دستور اسمبلی میں ”اہداف قرار داد“ پیش کی۔ اس قرار داد میں ہندوستان ”آزاد خود مختار جمہوریہ“ اعلان کیا گیا تھا اور شہریوں کو انصاف، مساوات اور آزادی کی ضمانت دی گئی تھی۔ اور لیٹین دہانی کرائی گئی تھی کہ ”اقلیتوں پر سماندہ اور قبائلی علاقوں اور پست و خست حال اور دیگر پسماندہ طبقات کے لیے اطمینان بخش تحفظ مہیا کرایا جائے گا۔“
- 10- پنڈت نہرو نے کہا کہ ہماری جمہوریت کا خاکہ ہمارے درمیان بحث و مباحثہ اور غور و فکر کے ذریعے طے ہوگا۔ ہندوستان میں متعارف آئین نصب العین اور پیش بندیاں کہیں اور سے اخذ کی ہوئی نہیں ہو سکتی۔
- 11- دستور ساز اسمبلی سے ان لوگوں کی خواہشات کے اظہار کے لیے توقع کی جاتی تھی جنہوں نے آزادی کی تحریک میں حصہ لیا تھا۔ جمہوریت، انصاف، مساوات جیسے نصب العین ہندوستان میں سماجی جدوجہد کے ساتھ گہرے طور پر وابستہ ہو گئے تھے جب انیسویں صدی میں سماجی مصلحین نے بچپن کی شادی کی مخالفت کی اور بیوہ کو دوسری شادی کرنے کی اجازت دینے کا مطالبہ کیا تو وہ سماجی انصاف کے لیے ہی بیرونی کر رہے تھے۔ اسی طرح سوامی وویکانند نے ہندو مذہب کی اصلاح کے لیے مہم چلائی تو حیوانی باپھولے نے پسماندہ ذاتوں کی تکالیف کی طرف توجہ دلائی۔
- 12- دستور سازی کے دوران جداگانہ انتخابی حلقوں کے مسئلہ پر بحث ہوئی۔ بی پوکر بہادر نے اس کی حمایت کی لیکن زیادہ تر قوم پرستوں آ۔ وی۔ دھلے کر، سردار پٹیل، گووند ولہ پت، بیگم اعجاز رسول وغیرہ نے اس کی سخت مخالفت کی اور ملک کے لیے خطرناک بتایا۔
- 13- این، جی، رنگا اور جے پال سنگھ نے قبائلیوں کے مسائل کی طرف توجہ مبذول کرائی۔ انہیں عام آبادی کے معیار تک لانے اور تحفظ مہیا کرنے کی زور دار حمایت کی۔
- 14- این، جی، رنگا نے کہا کہ اصطلاح ”اقلیت“ کی ترجمانی معاشی اصطلاح میں ہونی چاہیے۔ رنگا کی نظر میں اصلی اقلیتیں غریب اور ظلم و استبداد کے شکار لوگ تھے۔

- 15- قومی تحریک کے دوران امید کرنے پس ماندہ ذاتوں کے لیے جداگانہ انتخابی حلقوں کا مطالبہ کیا تھا اور گاندھی جی نے یہ دہلی دیتے ہوئے اس مطالبہ کی مخالفت کی تھی کہ یہ مطالبہ پس ماندہ ذاتوں کو ہمیشہ کے لیے باقی سماج سے علیحدہ کر دے گا۔
- 16- دستور ساز اسمبلی میں مرکزی حکومت اور ریاستی حکومت کے اختیارات کو لے کر ہوئی بحث میں زیادہ تر نے مرکزی حکومت کی ہی حمایت کی اور موضوعات کی تین فہرٹیں تیار کی گئیں۔ مرکزی فہرست، ریاستی فہرست اور مشترکہ (باہم مربوط) فہرست۔
- 17- قومی زبان کے سوال پر دستور ساز اسمبلی کی زبان سے متعلق کمیٹی نے یہ تجویز پیش کی کہ دیوناگری رسم الخط میں تحریر ہندی ہندوستان کی سرکاری زبان ہوگی۔ ہندی کو قومی زبان بنانے کے لیے ہمیں بتدریج آگے بڑھنا چاہیے۔
- 18- دستور ساز اسمبلی میں اقلیتیوں کے مدوں پر بحث ہوئی۔ دولت اور پس ماندہ طبقتوں اور خواتین کے حقوق پر بھی بحث ہوئی۔
- 19- دستور ساز اسمبلی میں پس ماندہ طبقات کے لیے جداگانہ انتخابات کی حمایت اور مخالفت میں ہوئی بحثوں کے نتیجوں میں فرقہ وارانہ تشدد کو دیکھتے ہوئے امید کرنے جداگانہ انتخابات کی مانگ چھوڑ دی۔
- 20- قومی زبان ہندی کو بیکر بحث ہوئی اور یہ طے پایا گیا کہ اس میں آپسی میل جول ہونا چاہیے۔
- 21- آرومی دھولیکر جی ہندی کو قومی زبان بنانے کے بہت بڑے حامی تھے۔
- 22- صرف دو باتوں پر ہی عام رائے تھی وہ تھیں بالغانہ رائے دہی، اور سیکولرزم جو دستور کے مرکزی خصوصیات میں تھے۔
- 23- دستور ساز اسمبلی میں ہوئی بحثیں ہمیشہ عام رائے سے متاثر ہوئی تھیں۔ اس کے لیے اخبار ریڈیو اور پریسیڈنٹ کا سہارا لیا گیا۔
- 24- آئین کی خصوصیات قلمبند اور لچیلہ آئین، مرکز اور ریاست کی طاقت کا بٹوارہ، آزاد عدلیہ، سیکولرزم، پارلیمنٹری نظام طاقتور مرکزی حکومت، بالغانہ ووٹ دینے کا حق، بنیادی حقوق اور فرانس۔

مختصر ترین سوالات ایک نمبر

- 1- 15 اگست 1947ء بہت سارے ہندوؤں اور مسلمانوں اور سکھوں کے لیے ایک دردناک انتخاب کا سامنا تھا۔ کیسے۔
- 2- نوزائیدہ ملک کے سامنے کون کون سی اہم دشواریاں تھیں؟
- 3- لسانی اقلیت کیا چاہتے تھے؟
- 4- دستور ساز اسمبلی میں قومی پرچم سے متعلق تجاویز کس نے پیش کیں؟

- 5- نوآبادیاتی حکومت کے دوران صوبائی حکومتوں نے ہندوستانوں کی حصہ داری بڑھانے کے لیے کون کون سے قوانین پاس کیے۔
- 6- سردار پٹیل نے جداگانہ انتخابات کے بارے میں کیا کہا؟
- 7- ذیلی فہرست کے مضمائین پر کون قانون بنا سکتا تھا؟
- 8- ایک طاقتور مرکز کا ہونا کیوں ضروری ہے؟
- 9- شفافیت اور تعلیمی حقوق دستور کے کس باب میں دیئے گئے ہیں۔
- 10- لفظ اقلیت سے کیا مراد ہے؟

Objective Type Question

- 11- بمبئی کی ہمسامتا کمیٹی کا تعلق ہے:-
- (الف) خواتین کے لیے انصاف کی مانگ
- (ب) خواتین کے لیے جداگانہ انتخابات کے حلقہ کی مانگ
- (ج) خواتین کے لیے ریزرویشن کی مانگ
- (د) اقلیتوں کے لیے جداگانہ انتخابات کی مانگ
- 12- ورج ذیل آرٹیکل میں سے کس میں گورنر کی سفارش پر مرکزی حکومت ریاستی حکومت کے تمام حقوق اپنے ہاتھ میں لیتی ہے۔
- (الف) آرٹیکل 370 (ب) آرٹیکل 256
- (ج) آرٹیکل 356 (د) آرٹیکل 110
- 13- مندرجہ ذیل میں سے کون آئین ساز اسمبلی کے صدر تھے؟
- (الف) ڈاکٹر راجندر پرساد (ب) جواہر لال نہرو
- (ج) بھیم راؤ امبیڈکر (د) سی راج گوپال چاریہ

- 14- آئین ساز اسمبلی کے بارے میں کون سا بیان درست ہے؟
- (i) آئین ساز اسمبلی کے مباحثے عوامی رائے سے متاثر ہوئی تھیں۔
- (ii) مسلم لیگ نے اس کی مخالفت کی۔
- (iii) قانون اسمبلی کی ڈرافٹنگ کمیٹی کے صدر رامید کر تھے۔
- (الف) صرف اول (i) ٹھیک ہے۔
- (ب) صرف دوسرا (ii) اور تیسرا (iii) صحیح ہے۔
- (ج) صرف پہلا I اور تیسرا III صحیح ہے۔
- (د) سبھی غلط ہیں۔

- 15- دستور ساز اسمبلی کے ممبران میں سے کس کا تعلق انتظامیہ سے تھا
- (i) ڈاکٹر اجندر پراساد (ii) بی۔ ایس۔ راؤ
- (iii) ایس۔ این۔ منشی (iv) کے۔ ایم۔ منشی
- (الف) صرف (i) صحیح ہے
- (ب) صرف (ii) اور (iii) صحیح ہے
- (ج) صرف (iv) صحیح ہے
- (د) صرف (i) اور (ii) اور (iii) اور (iv) صحیح ہے

16- مقاصد تجویز منہرجی نے کب پیش کی؟

- (الف) 13 دسمبر 1947 (ب) 26 نومبر 1945
- (ج) 26 جنوری 1947 (د) 15 اگست 1947

17- اقلیتوں کے لیے جدا گانا انتخابات کے سب سے بڑے حمایتی کون تھے؟

- (الف) آروی دھلیکر (ب) بی بی بہادر
- (ج) بیگم عجاز رسول (د) سردار بلہ بھائی ٹیل

18- کس نے یہ کہا تھا کہ اقلیت لفظ کی تشخص معاشی بنیاد پر کی جانی چاہیے

(الف) جے پال سنگھ (ب) این جی رنگا

(ج) مہاتما گاندھی (د) بال کرشن شرما

19- مہاتما گاندھی کے مطابق قومی زبان میں کون سی خوبیاں نہیں ہونی چاہئیں۔

(الف) ایک گروہ اور طاقتور زبان ہونی چاہیے

(ب) اسے انسان خیالات اور احساسات کے پورے مجموعے کا اظہار کرنے والی ہونی چاہیے۔

(ج) قومی زبان ایسی ہونی چاہیے جسے لوگ آسانی سے سمجھ سکیں

(د) مختلف لوگوں کے سچے رسائل کا ذریعہ ہونی چاہیے

20- جوڑے ملائیے

مضمون	فہرست
A- آمدنی اور اس کا ری ٹیکس	1- مرکزی فہرست
B- زمین اور جائیداد ٹیکس	2- ریاستی فہرست
C- سکسٹم اور سیمین ٹیکس	3- مستر کی فہرست

صحیح ترتیب ہے

(الف) C-1 A-2 B-3

(ب) C-1 B-2 A-3

(ج) B-1 A-2 C-3

(د) A-1 B-2 C-3

21- نیچے دی گئی تصویر کو غور سے دیکھیے اور بتائیے کہ 14 اگست 1947 کی آدھی رات کو دستور اسمبلی میں بولتا ہوا یہ کون شخص ہے؟



معروضی سوالات

- 1- ہندوستان کا آئین کب عمل میں لایا گیا۔
- 1- 26 جنوری 1949
- 2- 26 دسمبر 1950
- 3- 26 جنوری 1950
- 4- 15 اگست 1947
- 2- دستور ساز اسمبلی میں بھارت سرکار کے صلاح کار کون تھے۔
- 1- کے۔ ایم۔ منشی
- 2- ایس۔ این۔ کھر جی
- 3- آ۔ اے۔ کے۔ ایزر
- 4- بی۔ این۔ رادھ
- 3- ہندوستانی آئین کی تشکیل کے خاکہ کو تیار کرنے میں وقت صرف ہوا۔
- 1- دسمبر 1946 سے نومبر 1949 تک
- 2- نومبر 1946 سے نومبر 1949
- 3- جنوری 1946 سے نومبر 1950 تک
- 4- دسمبر 1946 سے جنوری 1950 تک

- 4- آئین ہند کی تشکیل کس کے ذریعے ہوئی۔
- 1- ڈاکٹر بھیم راؤ امبیڈکر
2- ڈاکٹر راجندر پرساد
3- بی۔ این۔ راؤ۔
4- دستور ساز اسمبلی
- 5- مندرجہ ذیل جملے کو درست کر کے لکھیے۔
”13 دسمبر 1946 کو موتی لعل نہرو نے آئین ساز اسمبلی میں مقاصد تجویز پیش کی۔“
- 6- جوڑے ملائیے۔
- | | |
|---------------------------|-------------------------|
| A- ایس۔ این۔ کھر جی | 1- آئینی صلاح کار |
| B- بی۔ این۔ راؤ | 2- معروف معیشت دان |
| C- ڈاکٹر۔ بی۔ آر۔ امبیڈکر | 3- معروف وکیل |
| D- کے۔ ایم۔ منشی | 4- آئین کے خاص خاکہ ساز |
- A-iv, B-i, C-ii, D-iii -A
A-iv, B-i, C-iii, D-ii -B
A-ii, B-iii, C-iv, D-i -C
A-i, B-ii, C-iii, D-iv -D
- 7- مندرجہ ذیل بیان کو درست کر کے لکھیے۔
”آئین ہند کی تشکیل میں 3 سال 10 ماہ اور 24 دن کا وقت لگا۔“
- 8- ذیل میں دو بیان دیئے گئے ہیں۔ جن میں ایک بیان A اور دوسرا بیان سبب R ہے۔
بیان A: 13 دسمبر 1946 کو جواہر لعل نہرو نے آئین ساز اسمبلی میں مقاصد تجویز پیش کی۔
سبب R: ”ہم صرف نقل کرنے والے لوگ نہیں ہیں۔“
- 1- صرف بیان A درست ہے۔
2- صرف سبب R درست ہے۔
3- بیان A اور سبب R دونوں درست ہیں اور سبب R بیان A کا درست وضاحت نہیں کرتا ہے۔

- 4- بیان A اور سبب R دونوں درست ہیں اور سبب R بیان A کا درست وضاحت بھی کرتا ہے۔
9- ذیل میں دیئے گئے اشاروں کو پڑھ کر درست جواب دیجیے۔

الف- ان کا خیال تھا کہ جداگانہ انتخاب، اقلیتوں کے لیے خطرناک ثابت ہوگا۔

ب- ”انہوں نے کہا تھا کہ مصنوعی وقاداری کے لیے کوئی جگہ نہیں“

1- جی۔ بی۔ کریڈانی

2- جواہر لعل نہرو

3- کے۔ ایم۔ منشی

4- جی۔ بی۔ پنت

10- آئین ہند کی بنیاد ہے۔

1- 1946 کے کابینہ مشن پلان پر

2- 1919 کے مونٹگومری چیمس فورڈ پر

3- 1935 کے حکومت ہند ایکٹ پر

4- 1947 کے ماؤنٹ بیٹن پلان پر

اقتباس پر منحصر سوال

نیچے دیئے گئے اقتباس کو غور سے پڑھیے اور درج ذیل میں سے کن ہی تین کے جواب دیجیے۔

”ہم نے کبھی بھی خصوصی مراعات نہیں مانگیں“

(We have never asked for privileges)

بہمنی کی ہنسنا مہذ خواتین کے لیے انصاف کا مطالبہ کیا اور محضو ذہنیوں یا جداگانہ انتخابی حلقہ کا مطالبہ نہیں کیا:

ہم نے کبھی بھی خصوصی مراعات نہیں مانگیں ہم نے سماجی انصاف، معاشی انصاف اور سیاسی انصاف کے لیے مطالبہ کیا ہے ہم نے اس برابری کا مطالبہ کیا جس سے صرف باہمی عزت اور ہم کا بنیاد بن سکتی ہے جس کی بنا پر

مرد اور عورت کے درمیان حقیقی باہمی تعاون ممکن نہیں ہے۔

-A خواتین کے لیے انصاف کی مانگ کس نے کی تھی؟

(الف) ممبئی کی ہنسماہتانی (ب) پونا کی ہنسماہتانی

(ج) مدراس کی بیلا یودھان نے (د) پونا کی بیلا یودھان نے

-B خواتین کے لیے انصاف کی مانگ کا مطلب ہے؟

(الف) سماجی انصاف (ب) معاشی انصاف

(ج) سیاسی انصاف (د) کسبھی

-C نیچے دو بیانات دیئے ہیں۔ جن میں سے ایک کو بیان (A) اور دوسرے کو سبب (R) کے طور پر دیا گیا ہے۔

بیان (A)۔ معاشی انصاف ہی سماجی انصاف کا دروازہ ہے۔

سبب (R)۔ جنسی تعصب کو صرف کچھ بیٹئیں محفوظ کر کے ختم نہیں کیا جاسکتا۔

(الف) صرف بیان A صحیح ہے۔

(ب) صرف سبب R صحیح ہے۔

(ج) بیان A اور سبب R دونوں صحیح ہیں لیکن R بیان A کی وضاحت نہیں کرتا۔

(د) بیان A اور سبب R دونوں صحیح ہیں اور سبب R بیان A کی وضاحت کرتا ہے۔

-D خواتین کے لیے انصاف کی مانگ کیوں اٹھائی گئی؟

(الف) تقسیم کے دوران خواتین پر ہوئے ظلم کی وجہ سے

(ب) مرد اور عورت کے درمیان حقیقی تعاون کے بغیر آپسی عزت اور سمجھ ممکن نہیں ہے۔

(ج) خصوصی حقوقوں کے ملے بغیر انصاف ملنا ممکن ہے۔

(د) درج بالا کسبھی

تصویر کو دیکھ کر کن ہی تین سوالوں کا جواب دیجیے۔



A۔ تصویر میں کوئی دو مہمان شخصیتیں ہیں۔

(الف) امپیرل کراؤنڈ ایکٹ راجندر پراساد

(ب) ڈاکٹر بی آرا امپیرل کراؤنڈ اور سردار ولہ بھائی پٹیل

(ج) سردار پٹیل اور ڈاکٹر راجندر پراساد

(د) بی این راؤ اور ڈاکٹر راجندر پراساد

B۔ دستور ساز اسمبلی کے صدر تھے۔

(الف) بی این راؤ (ب) امپیرل کراؤنڈ

(ج) ڈاکٹر راجندر پراساد (د) سردار پٹیل

C۔ دستور ساز اسمبلی کے ڈرافٹنگ کمیٹی کے صدر تھے۔

(الف) بی این راؤ (ب) امپیرل کراؤنڈ

(ج) ڈاکٹر راجندر پراساد (د) سردار پٹیل

D۔ نیچے دو بیان دیئے گئے ہیں جن میں سے ایک کو بیان (A) اور دوسرے کو سبب (R) دیا گیا ہے۔

- بیان (A)۔ دستور ساز اسمبلی میں ہوئے بحث و مباحثہ عام رائے سے بھی متاثر ہوتے تھے۔
- سبب (R)۔ دستور ساز اسمبلی ان لوگوں کی امیدوں کے اظہار کا ذریعہ مانی جا رہی تھی جنہوں نے آزادی کی تحریک میں حصہ لیا تھا۔
- (الف) صرف بیان A درست ہے۔
- (ب) صرف بیان R درست ہے۔
- (ج) بیان A اور سبب R دونوں صحیح ہیں لیکن سبب R بیان A کی وضاحت نہیں کرتا۔
- (د) بیان A اور سبب R دونوں درست ہیں اور سبب R بیان A کی وضاحت کرتا ہے۔

مختصر جواب والے سوالات (تین نمبر والے)

- سوال نمبر 1۔ دستور ہند کے ”اہداف قرار داد“ میں کن اصولوں پر زور دیا گیا ہے؟ وضاحت کیجیے۔
- سوال نمبر 2۔ اہداف قرار داد میں ”جمہوری“ لفظ کا استعمال نہ کرنے کے لیے جواہر لال نہرو نے کیا وجہ بتائی تھی؟
- سوال نمبر 3۔ دستور ہند 26 جنوری 1950 کو نافذ کرنے کے پس پردہ دستور سازوں کی منشا کو واضح کیجیے۔
- سوال نمبر 4۔ دستور ساز مجلس میں ”جداگانہ انتخابی حلقوں“ کی حمایت میں دیے گئے بیانات کی وضاحت کیجیے۔
- سوال نمبر 5۔ دستور ہند کس طرح مرکزی حکومت اور ریاستوں کے اختیارات کو تحفظ مہیا کرتا ہے؟
- سوال نمبر 6۔ این۔ جی۔ رانگا کے ذریعہ ’اقلیت لفظ کی تشریح کس طرح کی گئی اور انہوں نے ملک میں آئی کس گہری کھائی کی طرف اشارہ کیا؟ وضاحت کیجیے۔
- سوال نمبر 7۔ ”دستور ساز اسمبلی میں ہونے والے مباحثوں کو عوامی رائے کس طرح متاثر کرتی تھی؟“ اس بیان کی وضاحت کیجیے۔
- سوال نمبر 8۔ ”دستور ساز اسمبلی انگریزوں کے منصوبوں کو شرمندہ تعبیر کرنے کی کوشش کر رہی تھی“ سوہ ناتھ لاہری کے اس بیان کی وضاحت کیجیے۔
- سوال نمبر 9۔ آئین میں کتنی فہرستیں بنائی گئی تھیں؟ ہر ایک فہرست کے تحت آنے والے کسی ایک عنوان کا نام لکھیے۔
- سوال نمبر 10۔ ہندوستانی آئین کی کوئی تین خصوصیات کو بیان کیجیے۔

- سوال نمبر 11- وضاحت کیجیے کہ 1946ء سے پہلے آئینی ارتقاء، دستور ساز اسمبلی کے ذریعے کئے گئے ارتقاء سے کس طرح مختلف تھا؟
- سوال نمبر 12- دستور ساز اسمبلی میں ہونے مباحثوں کے دوران بہت سے لیڈران نے ایک مضبوط مرکز کا مطالبہ کیوں کیا؟
- سوال نمبر 13- تجویز مقاصد کب اور کس کے ذریعے پیش کیا گیا۔ اور کس طرح ایک تاریخی تجویز تھی۔ وضاحت کیجیے۔
- سوال نمبر 14- پسماندہ طبقوں کی حفاظت کی حمایت میں بی آر اے مہیڈ کر کے ذریعے اٹھائے گئے اقدامات کو خلاصہ کیجیے۔
- سوال نمبر 15- آئین کی تشکیل سے پہلے کے کچھ سال اٹھل پٹھل (بد امنی) سے بھرے ہوئے تھے۔ مثال دیتے ہوئے سمجھائیے۔

طویل جواب والے سوالات (آٹھ نمبر والے)

- سوال نمبر 1- دستور بند کو تیار کرتے وقت با اختیار مرکز کی حمایت میں مختلف لوگوں کے ذریعے دی گئیں دلائل کو پیش کیجیے۔
- سوال نمبر 2- دستور ساز اسمبلی میں کل کتنے ممبران تھے؟ وہ چھ ممبران کون تھے جنہوں نے سب سے اہم رول ادا کیا؟ ان کے خیالات اور دستور سازی میں ان کے کردار پر بحث کیجیے۔
- سوال نمبر 3- ”دستور ساز اسمبلی کے زیادہ تر ممبران ہندوستان میں علاحدہ انتخابی حلقوں کے نظریے کے مخالف تھے، اس قول پر تبصرہ کیجیے۔
- سوال نمبر 4- ”اقلیت“ سے کیا مراد ہے؟ آئین میں ان کے مفادات کے تحفظ کے لیے کیا اقدامات کیے گئے ہیں؟ بیان کیجیے۔
- سوال نمبر 5- گاندھی جی کے مطابق قومی زبان کی کیا خصوصیات ہونا چاہئیں؟ دستور ساز اسمبلی میں زبان کے تنازعہ کو حل کرنے کے لیے کیا طریقہ اختیار کیا گیا؟
- سوال نمبر 6- وضاحت کیجیے کہ آئین ہند مرکزی حکومت اور ریاستی حکومتوں کے حقوق کا تحفظ کس طرح کرتا ہے؟
- سوال نمبر 7- دستور ہند کو تشکیل دینے کے دوران پسماندہ ذاتوں کے حقوق کے تحفظ کو واضح کیجیے؟

اقتباس پر مبنی سوالات (چھ نمبر والے)

1- مندرجہ ذیل اقتباس کا بغور مطالعہ کیجیے اور متعلقہ سوالات کے جواب دیجیے۔

”بہت خوب، جناب۔ جرأت مند الفاظ، باوقار الفاظ“

سومنا تھلہا ہری نے کہا تھا:

ٹھیک، جناب، میں پنڈت نہرو کو اس بات کے لیے مبارکباد دینا چاہتا ہوں کہ انہوں نے ہندوستانوں کے طرز فکر و احساس کو عمدہ پیرائے میں بیان کیا، جب انہوں نے کہا کہ ہندوستانی لوگ، انگریزوں کے ذریعہ عائد کی گئی کوئی بھی بات قبول نہیں کریں گے۔ عائد کرنے کے اس طرح کے عمل پر اعتراض اور ناراضگی کا اظہار کیا جائے گا۔ انہوں نے اضافہ کرتے ہوئے کہا کہ اگر ضرورت ہوئی تو ہم جدوجہد کی وادی میں سیر کریں گے۔ بہت خوب، جناب، جرأت مند الفاظ، باوقار الفاظ۔

لیکن غور کرنے کا نکتہ یہ ہے کہ اس چیلنج کو آپ کب اور کس طرح بروئے کار لانے جا رہے ہیں۔ ٹھیک ہے، جناب معاملہ یہ ہے کہ عائد کرنے کا عمل یہاں کیا جا رہا ہے، نہ صرف برطانوی منصوبے نے مستقبل کا کوئی دستور بنا دیا ہے... جو انگریزوں کے لیے اطمینان بخش معاہدے پر منحصر ہوگا بلکہ یہ اشارہ کرتا ہے کہ ہر چھوٹے سے چھوٹے اختلاف کے لیے آپ کو دفعتی عدالت (Federal Court) تک دوڑنا ہوگا یا وہاں انٹینڈ میں حاضر ہو کر چنا ہوگا یا برطانوی وزیر اعظم کلیمنٹ اٹلی (Clement Attlee) یا کسی اور کو پکارنا ہوگا۔ صرف یہی حقیقت نہیں ہے، ہم منصوبوں کی جو بھی تدبیر سوچیں، اس دستور ساز اسمبلی کے تحت برطانوی بند قوتوں، برطانوی فوج اور ان کی معاش و مالیاتی جان لیوا عفریت کے سائے میں ہیں جس کا مطلب ہے کہ فیصلہ کن اقتدار بھی انگریزوں کے ہاتھ میں رہے گا اور اقتدار کا سوال ابھی تک حتمی طور پر طے نہیں ہوا ہے جس کا مطلب ہے کہ مستقبل ابھی تک پوری طرح ہمارے ہاتھوں میں نہیں ہے، نہ صرف یہ بلکہ حال ہی میں اسمبلی اور دیگر افراد کے ذریعہ دیے گئے بیانات سے یہ واضح ہو گیا ہے کہ اگر ضرورت پڑی تو وہ حتیٰ کہ آپ کو پورے طور سے تقسیم کرنے کی دھمکی دیں گے۔ اس کے معنی ہیں جناب کہ اس ملک میں کوئی آزادی نہیں ہے جیسا کہ کچھ دنوں قبل سردار ولہ بھائی پٹیل نے کہا تھا، ہمارے پاس صرف آپس میں لڑنے کی آزادی ہے۔ ہم صرف اتنی ہی آزادی حاصل کر پائے ہیں..... اس لیے ہماری عاجزانہ تجویز ہے کہ سوال اس منصوبے کی تفصیلات کی توضیح کے ذریعہ کچھ حاصل کرنے کا نہیں ہے بلکہ یہاں اور ابھی آزادی کا اعلان عبوری حکومت اور ہندوستان کے لوگوں سے اپیل کرنے، مرد کشی کی جنگ و جدل کو روکنے اور اپنے دشمن کے خلاف تیار رہنے جس کے ہاتھ میں ابھی تک چابک ہے یعنی برطانوی سامراجیت کو دیکھنے کا ہے اور باہم مل کر اس سے لڑنے کے لیے آگے بڑھیں اور اس کے بعد جب ہم آزاد ہو جائیں گے تو بعد ازاں ہم اپنے ڈھوؤں کو طے کر لیں گے۔

سوالات

- 1-1 سو مانتھ لاہری، پنڈت جواہر لال نہرو کو کس بات پر مبارکباد دینا چاہتے تھے؟
- 2-2 ”دستور ساز اسمبلی برطانوی اثر کے تحت کام کر رہی ہے“ اس جملے کے راقم کو ایسا کیوں محسوس ہوتا ہے؟
- 2-3 ”سرکاری سرکاری کاغذوں سے نہیں ہٹیں! سرکار عوام کی خواہشوں کا آئینہ ہوتی ہیں“ وضاحت کیجیے۔
- 2-2 مندرجہ ذیل اقتباس کو پڑھ کر نیچے دیئے گئے سوالوں کے جواب دیجیے۔

قومی زبان کی کیا خصوصیات ہونی چاہئیں؟

(What should the quantities of a national language be?)

اپنی موت سے کچھ ماہ قبل مہاتما گاندھی نے زبان کے سوال پر اپنے نظریات دوہراتے ہوئے کہا تھا:

یہ ہندوستانی نذوق منسکرت زدہ ہندی ہونی چاہیے اور نہ ہی فارسی زدہ اردو لیکن دونوں کا ایک خوشگوار آمیزہ ہونا چاہیے۔ اسے جہاں کہیں بھی ضروری لگے مختلف علاقائی زبانوں کے الفاظ بھی بے تکلفانہ داخل کر لینے چاہئیں۔ اور غیر ملکی زبانوں سے بھی الفاظ جذب کر لینے چاہئیں جو آسانی اور بہتر انداز میں ہماری قومی زبان کے ساتھ گھل مل سکیں اس طرح ہماری قومی زبان ایک فنی اور طاقتور آلے کی طرح یقیناً ترقی پذیر بن جائے گی جو انسانی خیالات اور جذبات کے مکمل دائرہ کا اظہار کرنے کی اہل ہوگی۔ خود کو ہندی یا اردو کے ساتھ محدود کر لینا فہم و فراست اور حسب الوطنی کے جذبے کے خلاف ایک جرم ہوگا۔

ہریجن سیوک، 12 اکتوبر 1947

سوالات

- 1-1 ہندوستانی زبان سے کیا مراد ہے؟
- 2-2 قومی زبان کی کیا خوبیاں ہونی چاہئیں؟
- 2-3 ہندی کی حمایت کرنے والے کچھ دوسرے لوگوں کے نام بتائیے۔

تواریخ درجہ XII

وقت 3 گھنٹے

کل نمبرات: 80

عام ہدایت :

- 1- سارے سوالوں کے جواب لازم ہیں کچھ سوالوں کے متبادل بھی دیئے گئے ہیں۔ ہر ایک سوال کے نمبران کے سامنے درج کئے گئے ہیں۔ ان پر پے میں 5 حصے ہیں۔
- 2- حصہ الف (سوال نمبر 1 سے 16) مختصر سوال (1) نمبر کے ہیں ان کے جواب ایک لفظ یا ایک جملوں میں لکھیں۔
- 3- حصہ ب (سوال نمبر 17 سے 19) ذرائع پر منحصر ایک جواب ہدے لے مختلف سوال ہیں ہر ایک سوال 3 نمبر کا ہے۔ ہر ایک سوال کے 4 ذیلی حصے ہیں جن میں سے کسی تین ذیلی حصوں کے جواب دیجیے۔
- 4- حصہ ت (سوال نمبر 20 سے 23) میں ہر ایک سوال کے نمبرات ہیں۔ ہر ایک سوالوں کے جوابات زیادہ سے زیادہ 100 لفظوں میں دیجیے۔
- 5- حصہ ث (سوال نمبر 24 سے 26) میں ہر ایک سوال کے 8 نمبر کا ہے ہر ایک سوال کا جواب زیادہ سے زیادہ 350 لفظوں میں دیجیے۔
- 6- حصہ ج (سوال نمبر 27 سے 29) ذرائع پر منحصر ہے۔ ہر ایک سوال 5 نمبر کا ہے۔
- 7- حصہ د (سوال نمبر 30) نقشے سے متعلق ہے جس میں علامتوں کی شناخت اور اہم نکات کی نشاندہی شامل ہے۔

حصہ الف)

کسی 15 سوالوں کے جواب دیجیے۔

- 1- بڑپا سے جوتے ہوئے کھیتوں سے نشانیاں ملی ہیں۔

(a) بناوٹی سے	(b) کالی پیٹنگن سے
(c) شور تو گھٹی سے	(d) موہن جو دازو سے
- 2- معاشیات کے شاہکار (مصنف) ہیں

(a) میگنھیٹر	(b) مہارشی سنو
--------------	----------------

(c) چائیکہ (d) ہری شین

3- کس صدی میں مہابھارت کو مکمل طور پر پیش کیا گیا۔

(a) 1919ء میں (b) 1420ء میں

(c) 1921ء میں (d) 1922ء میں

4- مندرجہ ذیل بیان کو درست کیجیے۔

منوہر تی کا مجموعہ 200 قبل مسیح سے 300ء کے درمیان ہوا۔

5- مندرجہ ذیل تصویر کو فورسے دیکھیے اور بتائیے کہ یہ تصویر کس کی ہے۔



6- ”منزل یا راہیو پر بندھم“ گرنیٹھ کا تعلق کس قوم سے ہے؟

7- کس بھکتی روایت کے تحت برہمنکڈھ پر چاندنی کا ”لنگ“ چڑھایا جاتا ہے؟

8- ورجے نگر سلطنت کی تلاش کس کے ذریعے کی گئی؟

9- ناپک اور امر ناپک میں کیا فرق ہے؟

- 10- نیچے دو بیان دیئے گئے ہیں۔ جن میں سے ایک کو بیان (A) کی شکل میں اور دوسرے کو بیجہ (R) میں شکل دکھایا گیا ہے۔
 بیان (A)۔ قدیم مغل سلطنت کے بارے میں جواز پر مبنی تحریر کریں۔
 بیجہ (R)۔ کیا مغل شہنشاہوں کے دور حکومت کی اہم واقعات کی معلومات ہوتی ہے۔
 (a) صرف بیان (A) صحیح ہے (b) صرف بیجہ (R) صحیح ہے۔
 (c) بیان (A) اور بیجہ (R) دونوں صحیح ہیں لیکن (R) بیان (A) کا مدلل جواز نہیں ہے۔
- 11- مہا بھارت گرنٹھ کے فارسی ترجمہ کو کس نام سے جانا جاتا ہے؟
- 12- کون سے علاقے کو سنتھالوں کی زمین اعلان کیا گیا؟
- 13- پانچویں رپورٹ برٹش پارلیامنٹ میں کب پیش کی گئی؟
 مطابقت کیجیے۔

	کالم (1)	کالم (2)	
(i)	نائب سکریٹری	لارڈ ڈلوزی	(a)
(ii)	ڈاکٹرین آف لپس Doctorine of lapse	جوسف ٹوئل ایٹس	(b)
(iii)	سٹی رسم کا خاتمہ	لارڈ ویلوی	(c)
(iv)	ان میوٹیم	ولیم ہنک	(d)

(A)	(i)	(ii)	(iii)	(vi)
(B)	a	b	c	d
(C)	c	a	d	b
(D)	d	a	c	b

مندرجہ ذیل میں سے کون سے بیان لاہور سیشن کے لیے درست ہیں۔

- (الف) یہ دسمبر 1929 میں منعقد کیا گیا
 (ب) اس میں مکمل طور پر سوراخ کا اعلان کیا گیا۔
 (ت) اس کی صدارت پنڈت جواہر لال نہرو نے کی۔
 (A) بیان الف اور ت

(B) بیان ب اور ت

(C) بیان الف ب اور ت

(D) کوئی بھی نہیں

16- اقلیت کے لیے جداگانہ انتخاب کے سب سے زیادہ طرف دار تھے۔

(a) آر۔وی۔ دھولپار

(b) بی۔ پوکر بہادر

(c) بیگم احساس رسول

(d) سردار ولید بھائی ٹیل

17- نیچے دئے گئے اقتباس کو غور سے پڑھیے اور کن ہی تین سوالوں کے جواب دیجیے۔

حصار (Citadels)

کوکہ زیادہ تر ہڑپائی بستیوں میں مغربی رخ پر ایک چھوٹا سا اونچا حصہ، اور ایک بڑا مشرق حصہ ہوتا ہے مگر ان میں بعض بعض جگہ کچھ تہذیبیاں بھی نظر آتی ہیں۔ دھولا ویر اور لوٹھل (گجرات) کے مقامات پر پوری بستی کی قلعہ بندی کی گئی تھی اور شہر کے اندر بھی مختلف حصوں کو دیوار کے ذریعے الگ کیا گیا تھا۔ لوٹھل کے اندر بالائی حصار کو دیوار بنا کر الگ نہیں کیا گیا تھا مگر اسے اونچائی پر ہی بنایا گیا تھا۔

1- سندھو گھاٹی تہذیب میں ہڑپا کے بعد دوسری تلاش کیا گیا سب سے مشہور مقام ہے۔

(a) چھو ڈو (b) بالاکوٹ

(c) ناگیشور (d) موہن جوداڑ

2- مندرجہ ذیل میں کونسی تحریر قلعے میں پائی گئی ہے۔

(a) مال کو دام

(b) میان اسنا ناگھار

(c) الف اور ب دونوں

(d) مندرجہ ذیل بالادونوں میں سے کوئی نہیں

3- نیچے دو بیانات دیئے گئے ہیں اس میں سے ایک کو بیان الف کی شکل میں دوسرے کو بیج کی شکل میں دکھایا گیا ہے۔

بیان - الف: - قلعے کو ایک اونچی جگہ پر بنایا گیا تھا۔

وجہ (R) - قلعے کی قلعہ بندی کچے اینٹوں کے چبوتروں پر بنی تھی۔

(a) صرف بیان (A) صحیح ہے (b) صرف وجہ (R) صحیح ہے۔

(c) بیان (A) اور وجہ (R) دونوں صحیح ہیں لیکن وجہ (R) بیان (A) کا وضاحت نہیں کرتا۔

(d) بیان A اور وجہ R دونوں صحیح ہیں اور وجہ (R) بیان (A) کا وضاحت کرتا ہے۔

4- مندرجہ ذیل بیان کو غور سے پڑھیے اور صحیح متبادل (Option) کو منتخب کیجیے۔

(i) قلعے کو قلعہ بند کیا جاتا تھا۔

(ii) قلعے پر ایسی تحریریں پائی گئی ہیں جن کا استعمال ممکنہ (Probably) مخصوص عامہ کے طور پر کیا گیا تھا۔


(a) (i) اور دوسرا دونوں صحیح ہے۔

(b) صرف (ii) دوسرا صحیح ہے۔

(c) صرف (i) پہلا ہی صحیح ہے۔

(d) کوئی بھی بیان صحیح نہیں ہے۔

18- یہ ایک مغل کتاب خانہ کی تصویر پر اسے غور سے دیکھیے اور کن ہی تین سوالوں کے جواب دیجیے۔



میلان کیجیے۔

کالم A		کالم B		-1
بادشاہ نامہ	(i)	تلفظ	(a)	
اکبر نامہ	(ii)	ظہیر الدین محمد بابر	(b)	
ہمایوں نامہ	(iii)	عبدالحمید لاهوری	(c)	
	(iv)	گل بدن بیگم	(d)	

2- مندرجہ ذیل میں دو بیان دیئے گئے ہیں جن میں سے ایک کو بیان الف (A) اور دوسرے کو جہ (R) کی شکل میں دکھایا گیا ہے۔

بیان (A) تیار مسودوں کو ایک بیش قیمت شے ہو جی انا شا اور خوبصورتی کے کاموں کی شکل میں ڈے (Day) کہا جاتا تھا۔
جہ (R) اس طرح خوبصورتی کو وجود میں لاکران مسودوں کے محافظ مغل بادشاہ اپنی صلاحیتوں کو دکھارہے ہیں۔

- (a) صرف بیان A صحیح ہے۔
(b) صرف جہ R صحیح ہے۔
(c) بیان A اور جہ R دونوں صحیح ہیں لیکن جہ R بیان کا وضاحت نہیں ہے۔
(d) بیان A اور جہ R دونوں درست ہیں اور جہ R بیان A کی وضاحت ہے۔

3- مندرجہ ذیل بیانیوں کو نوٹ سے پڑھیے۔

- (i) نسبتاً جہانگیر کا پسندیدہ تحریر (فن) تھی
(ii) یہ ایک تحلیل شدہ فن تھا۔
(iii) قلم اور روشنائی کی مدد سے لکھی جاتی تھی
(a) تینوں بیانات درست ہیں۔
(b) (ii) اور (iii) دونوں درست ہے۔
(c) صرف (ii) درست ہے۔

4۔ کتب خانہ میں کون سا پروگرام منعقد ہوتا تھا۔

(a) نئی مسودہ کی تخلیق کی جاتی تھی

(b) مسودہ کا مجموعہ رکھا جاتا تھا۔

(c) اسے پکی گھر بھی کہتے تھے۔

(d) مندرجہ بالا سبھی

اقتباس پر مبنی سوالات (چہ نمبر والے)

مندرجہ ذیل اقتباس کا بغور مطالعہ کیجیے اور متعلقہ سوالات کے جواب دیجیے۔

کل ہم نمک ٹیکس قانون توڑیں گے

5 اپریل 1930 کے دن مہاتما گاندھی نے ڈانڈی میں کہا تھا:

جب میں نے سارہ مٹی کو اپنے ساتھیوں کے ساتھ ڈانڈی کے سمندری ساحل کے چھوٹے سے گاؤں کے لیے چھوڑا تھا تو میرے ذہن میں یہی یقین نہیں تھا کہ ہم کو اس مقام تک پہنچنے دیا جائے گا۔ اس وقت جب میں سارہ مٹی میں تھا تب یہ انو اچھی کہ مجھے گرفتار کیا جاسکتا ہے۔ میں نے سوچا کہ حکومت شاید میرے ساتھیوں کو ڈانڈی تک آنے دے گی لیکن مجھے یقیناً نہیں آنے دے گی۔ اگر کوئی شخص میرے اوپر دانستہ ناقص عقیدہ کے الزام کا اظہار کرتا ہے تو میں اس الزام سے انکار نہیں کروں گا۔ میرے یہاں تک پہنچنے میں امن اور عدم تشدد کی طاقت کی معمولی تدبیر حق بجانب نہ ہوگی۔ اس طاقت کو آفاقی طور پر محسوس کیا جاتا ہے۔ کاش حکومت، اگر یہ چاہے تو وہ اس کام کی انجام دہی کے لیے خود کو مبارک باد دے سکتی ہے کیونکہ وہ ہم میں سے ایک کو گرفتار کر سکتی تھی۔ جب حکومت یہ کہتی ہے کہ ان کے پاس امن کی اس فوج کو گرفتار کرنے کی ہمت نہیں تھی تو ہم اس بات کی تعریف کرتے ہیں اس طرح کی فوج کو گرفتار کرنے میں حکومت شرم محسوس کرتی ہے۔ جو شخص کوئی ایسا کام کرنے میں شرمندگی محسوس کرتا ہے۔ جس سے اس کا پڑوسی ناخوش ہو تو وہ شخص مہذب ہے۔ حکومت ہم لوگوں کو گرفتار نہ کرنے کے لئے مبارکباد کی مستحق ہے۔ بالفرض اس نے یہ کام عالمی رائے کے خوف سے صرف بچنے کے لیے ہی کیا ہو۔

کل ہم نمک قانون توڑیں گے خواہ حکومت اس کو برداشت کرتی ہے یا نہیں۔ یہ سوال الگ ہے۔ ہو سکتا ہے کہ حکومت یہ برداشت نہ کرے لیکن اس جماعت کے لئے جو صبر و استقامت اور ضبط و تحمل کا اس نے مظاہرہ کیا ہے وہ اس کے لئے مبارکباد کی مستحق ہے۔

اگر مجھے ہجرات میں باقی ملک کے سارے ممتاز لیڈروں کے ساتھ گرفتار کر لیا جاتا ہے تو کیا ہوگا، یہ تحریک اس یقین پر مبنی ہے کہ جب ایک ملک خواب و غفلت سے بیدار ہو جاتا ہے اور آگے بڑھنے لگتا ہے تو اسے لیڈر کی ضرورت نہیں ہوتی۔

(i) گاندھی جی کے ذریعہ دائی مارچ کی گئی۔

(a) 12 مارچ 1929 (b) 12 مارچ 1930

(c) 12 مارچ 1931 (d) 12 مارچ 1920

2 نیچے دیئے گئے بیان جن میں سے ایک کو بیان (A) کی شکل میں اور دوسرے کو بیجہ (R) کی شکل میں دکھایا گیا ہے۔

بیان (A) نامک ایک حق جس مدے کو گاندھی جی اسے منتخب کیا یہ اگلی نہایت عقلمندی کی مثال تھی۔

بیجہ (R) گاندھی جی نے انگریزی حکومت کے خلاف عوام الناس کو متحد کرنا چاہتے تھے۔

(a) صرف بیان (A) درست ہے

(b) صرف بیجہ (R) درست ہے

(c) بیان (A) اور بیجہ (R) دونوں صحیح ہے اور بیجہ (R) بیان (A) کا جواز دیتا ہے۔

3۔ نمک سٹیپ گرہ مند بیجہ ذیل میں کن وجوہات سے قابل بیان ہے؟

(a) مہاتما گاندھی جی دنیا کی نظر میں سامنے آئے۔

(b) یورپی اور افریقی پولیس نے ایک دوسرے کو کوریج Coverage دی۔

(c) خواتین نے بھی ان میں بڑھ۔ چڑھ کر حصہ لیا

(d) انگریزی سرکار کی بنیاد ڈالی

صحیح متبادل چنئے

(a) صرف (a) صحیح ہے (b) اور (b) صحیح ہے

(c) کبھی درست ہے (d) مند بیجہ ذیل میں سے کوئی بھی نہیں

4۔ نمک تحریک کے بعد کتنے کول میز کانفرنس منعقد کیے گئے؟

(a) 1 (b) 2 (c) 3 (d) 4

حصہ ت

- 20- آٹا قدیمہ میں آرٹس کو کس طرح پیش کر کے اور اس کی پہچان کرتے تھے۔
- 21- بھوپال کی بیگموں نے سانچی کے استوپ اور اس کی تحفظ میں کیا تعاون دیا۔
تین نکات کے ذریعے ظاہر کیجیے۔
- 22- ویرشیو Shave کون تھے؟ سماج میں رائج کن برائیوں کا انہوں نے مخالفت کی؟
- 23- 1857 کی باغیوں کے ذریعے جاری کردہ اعلان نے ذات اور مذہب کا فرق کے بغیر سماج کے تمام طبقوں کا احقرہ کہا جاتا تھا۔ بیان کیجیے۔

حصہ ج

- 24- این جی کے ذریعے ’اقلیت‘ لفظ کی تشریح کس طرح کی گئی اور انہوں نے دیس میں پھیلے کس عظیم کہانی کی جانب اشارہ کیا وضاحت کیجیے۔
- 25- ان حقائق کو بیان کیجیے جو یہ دکھاتے ہیں کہ بھائی چارہ اور شادی سے متعلق برہمنوں کے اصول وضوابط کی پاسداری نہیں ہوئی تھی۔

یا

- کیا مہا بھارت کے وقت عورت و مرد املاک پر برابر اختیار رکھتے تھے؟
26- جواز سے مطابقت رکھتے ہوئے سمجھائیے۔
مغلوں کے ماتحت طبقوں کو ایک گلدستے کی شکل میں بیان کیا گیا ہے۔
اس بیان سے متعلق مغل Abhigyar طبقے پر تنقید کیجیے۔

یا

- مغل دربار میں واقعہ نگاری کو ایک جامداد کے طور پر دیکھا جاتا تھا اس بیان کے بارے میں واقعہ نگاری کی ترتیب اور بنانے کے طریقے کے بارے میں بتائیے۔

حصہ ج

27- ان مختلف اقسام کے ذرائعوں کا جائزہ کیجیے جن کی بنیاد پر گاندھی جی کا سفر اور تحریک آزادی کی تواریخ کو دوبارہ تعمیر کیا جاسکتا ہے۔

یا

ان مخصوص واقعات کی تفصیل بیان کیجیے جن کے نتیجے کے طور پر؟؟؟؟؟؟؟؟ احتجاج شروع ہوا۔ اس کی خاص خصوصیات کا ذکر کرتے ہوئے اس احتجاج میں مہاتما گاندھی کے کردار کی وضاحت کیجیے۔

28- مندرجہ ذیل مثالوں کو نوٹ سے پڑھیے اور اسکے ذیل میں دئے گئے سوالوں کے جواب لکھیے۔

مندرجہ ذیل اقتباس کا بغور مطالعہ کیجیے اور متعلقہ سوالات کے جواب دیجیے۔

بادشاہ کا اضطراب

جب بادشاہ دیونم بیاداسی آٹھ برس سے حکومت کر رہا تھا تو کلنگ (کالنگ) (آج کا ساحلی اڑیسہ) اس نے فتح کیا۔

ایک سو پچاس ہزار شہر بدر کیے گئے۔ ایک سو ہزار قتل کر دیئے گئے اور بہت سے مر گئے۔

اس کے بعد اب جبکہ کلنگ (کالنگ) لیا جاپکا دیونم بیادھمہ کے گہرے مطالعے میں، دھمہ سے محبت میں اور لوگوں میں دھمہ کی ہدایت دینے میں منہمک ہے۔

کلنگ کے ملک کو فتح کر لینے کے سلسلے میں یہ دیونم پیا کا پچھتاوا ہے۔

یہ بات دیونم بیاداسی کے خیال میں بڑی تکلیف دہ اور قابل مذمت ہے کہ جب کوئی شخص کسی غیر مشتوہ (ملک) کو فتح کر رہا ہو (تو) قتل، موت اور لوگوں کی شہر بدری وہاں (واقع ہو).....

سوالات

- 1- دیونم بیاداسی کسے کہا گیا ہے؟ 1
- 2- کتابت کی اہمیت اور حدود کا تذکرہ کیجیے۔ 2
- 3- بادشاہ اشوک پر کلنگ کی جنگ کا کیا اثر پڑا؟ 2

مندرجہ ذیل اقتباس کا بغور مطالعہ کیجیے اور متعلقہ سوالوں کے جواب دیجیے۔

گل بدن بیگم

گل بدن بیگم کے ذریعے تحریر ”ہمایوں نامہ“ ایک دلچسپ کتاب ہے جو ہمیں مغلوں کی گھریلو دنیا کی ایک جھلک مہیا کرتی ہے۔ گلبدن بیگم بابر کی بیٹی ہمایوں کی بہن اور اکبر کی پھوپھی تھیں۔ گلبدن بیگم روانی سے ترکی اور فارسی میں لکھ سکتی تھیں۔ جب اکبر نے ابو الفضل کو اپنے عہد کی تاریخ لکھنے کی ہدایت دی تو اس نے اپنی پھوپھی سے بابر اور ہمایوں کے وقت کی آپ بیتی لکھنے کی درخواست کی تاکہ ابو الفضل اس سے اپنی تاریخ کے لیے مواد اخذ کر سکے۔

گلبدن نے جو تحریر کیا وہ مغل بادشاہوں کی مداح سرائی نہ تھی بلکہ اس نے شہزادوں اور بادشاہوں کے درمیان ہونے والی آویزش اور تناؤ کے ساتھ ہی ان میں سے کچھ آویزشوں کو حل کرنے میں خاندان کی عمر رسیدہ خواتین کے اہم کردار کے متعلق بھی بڑی تفصیل سے تحریر کیا تھا۔

سوالات

- 1- گلبدن بیگم کون تھیں؟ ان کے ذریعے کون سی کتاب تحریر کی گئی؟
- 2- ہمایوں نامے میں کس کا تذکرہ کیا گیا ہے؟
- 3- عمر رسیدہ خواتین کا اہم کردار کیا تھا؟

مندرجہ ذیل اقتباس کو پڑھ کر سوالات کے جواب دیجیے۔

-30

قومی زبان کی کیا خصوصیت ہونی چاہیے؟

(What should the qualities of a national languages be?)

اپنی موت سے کچھ ماہ قبل مہاتما گاندھی نے زبان کے سوال پر اپنے نظریات دوہراتے ہوئے کہا تھا:

یہ ہندوستانی نسل سنسکرت زدہ ہندی ہونی چاہیے اور نہ ہی فارسی زدہ اردو لیکن دونوں کا ایک خوشگوار آمیزہ ہونا چاہیے۔ اسے جہاں کہیں بھی ضروری لگے مختلف علاقائی زبانوں کے الفاظ بھی بے تکلفانہ داخل کر لینے چاہیے۔ اور غیر ملکی زبانوں سے بھی الفاظ جذب کر لینے چاہئیں جو آسانی اور بہتر انداز میں ہماری قومی زبان کے ساتھ گھل مل سکیں اس طرح ہماری قومی زبان ایک غنی اور طاقتور آلے کی طرح یقیناً ترقی پذیر بن جائے گی جو انسانی خیالات اور جذبات کے مکمل دائرہ کا اظہار کرنے کی اہل ہوگی۔ خود کو ہندی یا اردو کے ساتھ محدود کر لینا فہم و فراست اور حسب الوطی کے جذبہ کے خلاف ایک جرم ہوگا۔

- (i) ہندوستانی زبان سے کیا مراد ہے؟ 1
- (ii) قومی زبان کی کیا خصوصیات ہونی چاہئیں؟ 2
- 3- ہندی کی حمایت کرنے والے کچھ دوسرے لوگوں کے نام بتائیے۔ 2

حصہ د

نقشے اور سوالات

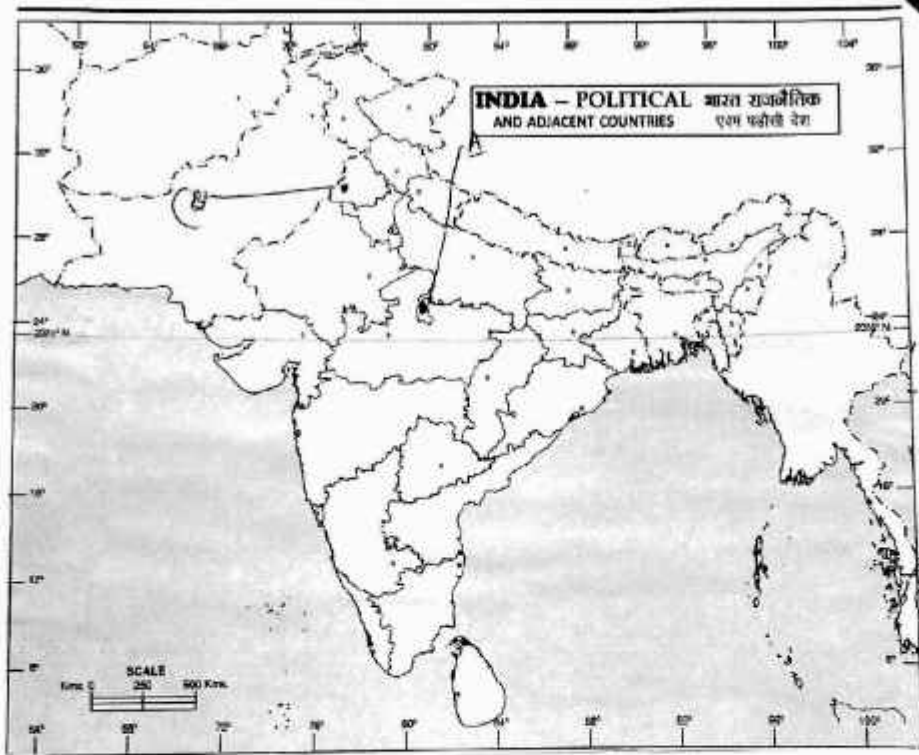
31- بھارت کے دیئے گئے سیاسی لائنیں اور نقشے میں مندرجہ ذیل کو مناسب نقطوں سے دکھائیے اور ان کے نام لکھیے۔

(الف) اور ہڑپا

(ب) دھولاویر اور موہن جو دازو

پانی پت اور آگرہ

بھارت کے دیئے ہوئے سیاسی خطوں اور نقشے کو مندرجہ ذیل مناسب نقطوں سے دکھائیے اور ان کے نام لکھیے۔



تواریخ درجہ XII

وقت 3 گھنٹے

کل نمبرات: 80

عام ہدایت :

- 1- سارے سوالوں کے جواب لازم ہیں کچھ سوالوں کے متبادل بھی دیئے گئے ہیں۔ ہر ایک سوال کے نمبران کے سامنے درج کئے گئے ہیں۔ ان پرچے میں 5 حصے ہیں۔
- 2- حصہ الف (سوال نمبر 1 سے 21) مختصر سوال (1) نمبر کے ہیں ان کے جواب ایک لفظ یا ایک جملوں میں لکھیں۔
- 3- حصہ ب (سوال نمبر 22 سے 27) ذرائع پر منحصر ایک جواب بدلے مختلف سوال ہیں ہر ایک سوال 3 نمبر کا ہے۔ ہر ایک سوال کے 50-60 لفظوں میں جواب دیں۔
- 4- حصہ ت (سوال نمبر 28 سے 30) میں ہر ایک سوال کے نمبرات ہیں۔ ہر ایک سوالوں کے جوابات زیادہ سے زیادہ 200-250 لفظوں میں دیجئے۔
- 5- حصہ ث (سوال نمبر 31 سے 33) میں ہر ایک سوال کے 4 نمبر کا ہے ہر ایک سوال کا جواب زیادہ سے زیادہ 350 لفظوں میں دیجئے۔
- 6- حصہ د (سوال نمبر 34) نقشے سے متعلق ہے جس میں علامتوں کی شناخت اور اہم نکات کی نشاندہی شامل ہے۔

سیکشن-A

کسی 15 سوالوں کے جواب دیجئے۔

- 1- ہڑپائی تہذیب کے سیور مقام کالی بنگہ موجودہ دور میں کس ہندوستانی صوبہ میں قائم ہے۔
(الف) ہریانہ میں
(ب) اتر پردیش میں
(ت) گجرات میں
(ث) راجستھان میں
- 2- ہڑپا تہذیب میں پائی گئی رسم الخط کا نام لکھیں۔
- 3- مندرجہ ذیل بیان کو درست کیجئے اور دوبارہ تحریر کیجئے۔
پتھروں کی تحریر کو (Pictography) کہتے ہیں

4- کس کتاب میں شادی کے 8 طریقے (روایتوں) کا ذکر کیا گیا ہے۔

(الف) مہابھارت میں

(ب) رامائن میں

(ت) منواسرقتی میں

(ث) گیتا میں

-5



6- جین مذہب میں تیرتھنکر کی کل تعداد کتنی ہے۔

7- عمل ہرینادی یوپر بندھم کس کے بارے میں بیان درست ہے۔

(الف) یہ الوارننتوں کا خاص مجموعہ کا نام تھا۔

(ب) اسکا ذکر ایک قمل وید کی شکل میں کیا جاتا ہے

(ت) اس گرنٹھ کی اہمیت سنسکرت کے چاروں ویدوں کو بتایا گیا ہے

(ث) یہ اچھوتوں نے پورا کیا

8- بابا گرو نانک، بابا فرید، رومی داس اور کیر داس کی وانی کا کس کتاب میں ذکر ہے۔

9- کالم (i) کو کالم (ii) سے صحیح طریقے سے ملائیے

الف	وہجے نگر	(i)	چٹن کیشور مندر	کالم i
ب	بہمی	(ii)	وہجے نگر	کالم ii
ت	تجناور	(iii)	ماتری دیوں تمپا دیودی کے نام کا شہر	
ج	بیلور	(iv)	ورولہ شور مندر	

صحیح جواب مندرجہ ذیل ہیں۔

(الف) iii	ب	iv	ت	i	ث	ii
(ب) i	ت	ب	(i)	ت	iv	ث
(ت) i	الف	ب	iv	ت	iii	ث
(ث) ii	الف	ب	iii	ت	iv	ت

10- وہجے نگر کے مشہور و معروف حکمران کرشن دیورائے کا تعلق کس خاندان Dynasty سے تھا۔

- (a) سلو خاندان Dynasty سے
 (b) تلو خاندان Dynasty سے
 (c) سنگم خاندان Dynasty سے
 (d) اداوید خاندان سے

11- مغل خاندان (Mughal Dynasty) کی بنیاد کس نے قائم کی

12- کس ہندو گرتھ کا ترجمہ فارسی زبان میں رزم نامہ "Razam nama" کے نام سے کیا گیا۔

- (a) منو اسمرتی
 (b) مہا بھارت
 (c) رامائن
 (d) گیتا

13- امعاون کی معاہدہ کی شروعات کس برطانیہ گورنر جنرل نے کی؟

14- نیچے دو بیان دیئے گئے ہیں، جن میں سے ایک کو بیان (A) کی شکل میں اور دوسرے کو وجہ (R) کی شکل میں دکھایا گیا ہے۔

بیان (A) 1921 میں دکن ہند کے مسافت کے دوران گاندھی جی نے سوتی کپڑے پہننے شروع کر دیئے۔

وجہ (R) ایسا انہوں نے غریبوں کے ساتھ ہمدردی کا رویہ قائم کرنے کے مقصد سے کیا۔

- (a) صرف بیان (A) درست ہے
- (b) صرف جہ (R) درست ہے
- (c) بیان (A) اور جہ (R) دونوں صحیح ہیں لیکن جہ (R) بیان (A) کا مدلل جواز نہیں ہے۔
- (d) بیان (A) اور جہ (R) دونوں صحیح ہیں اور جہ (R) بیان (A) کا جواز ہے۔
- 15۔ انگریزوں نے ستی (Sati) رسم کو ختم کرنے کا قانون کس سال جاری کیا۔

(a) 1829 میں

(b) 1828 میں

(c) 1856 میں

(d) 1859 میں

16۔ ان میں سے کسے ”ایک اکیلی فوج“ کا تمغہ دیا گیا ہے۔

(a) جان مٹھائی John mathai کو

(b) سردار بلدیو سنگھ کو

(c) سی۔ ایچ۔ بھابھا C.H. Bha Bha کو

(d) مہاتما گاندھی

حصہ ب

جب قدیم ترین نظام کا انکشاف ہوا

نالوں کے متعلق ”میکے نے بیان کیا تھا کہ

”اب تک دریافت ہوئے قدیم نظاموں میں یقیناً یہ سب سے مکمل نظام ہے۔“ نیر گھر مرزک کے نالے سے ملحق تھا۔ بڑی اور اہم نالیاں اینٹوں اور سالے سے بنائی گئی تھیں اور انھیں اس طرح اینٹوں سے ڈھک دیا گیا تھا کہ صفائی کے لئے انھیں ہٹایا جاسکے۔ کہیں کہیں ان ڈھکنوں کے لیے چوڑے کا پتھر بھی استعمال کیا گیا تھا۔ گھر کی نالیاں پہلے ایک نالیاں یا ہودی میں گرتی تھیں۔ جن میں ٹھوس کوڑا نیچے بیٹھ جاتا تھا اور گند پانی گلیوں کی نالی میں چلا جاتا تھا۔ جگہ جگہ کافی لمبی لمبی نکاسی نالیاں دی گئی تھیں اور ان کے نالیاں تھے جو صفائی میں مدد دیتے تھے۔ آٹا رند ہرے کا ایک عجوبہ یہ بھی ہے کہ ان نکاسی نالیوں کے پاس جگہ جگہ ”کوڑے کی قسم کے کچھ چھوٹے ٹھوسوں نے

ڈھیر بھی ان نکاس نالیوں کے کنارے پڑے ملے ہیں جن میں زیادہ تر ریت تھا..... جن سے اندازہ ہوتا ہے کہ نالیوں کی صفائی کے بعد کوڑا ہمیشہ نہیں اٹھایا جاتا تھا۔“

(ERNEST MACKAY, EARLY INDUS CIVILISATION-1948 سے ماخوذ)

نکاس کا یہ نظام صرف بڑے شہروں کی ہی انوکھی خصوصیت نہیں تھا، یہ چھوٹی بستیوں میں بھی ملا ہے۔ جیسے لوٹھل میں جہاں مکان گارے کی اینٹوں کے بنائے گئے ہیں، نالیاں وغیرہ کچی اینٹوں سے بنی ہیں۔

1- نالیوں کے بارے میں میسے کے ذریعے تحریری کون سا بیان درست ہے۔

(a) یہ اب تک تلاش کی گئی سب سے قدیمی پر نالی پرنالی parnali تھی

(b) ہر رہائش کو گلی کی نالیوں سے منسلک کیا گیا

(c) کچھ مقام پر ڈھکنے کے لیے چونا پتھر کا استعمال کیا گیا تھا

(d) پانی کا نکاس (بھاؤ) صرف بڑے شہروں تک محدود تھا

2- لوٹھل (Lothal) میں بنی رہائش کیسی اینٹوں سے بنے تھے؟

(a) کچی

(b) پکی

(c) پتھر ملی

(d) نقاشی دار

3- نالو کے ارد گرد ملے ریت کے چھوٹے چھوٹے ڈھیر کے لیے لفظ کا استعمال کیا گیا ہے؟

(a) قدرت کا عجب

(b) آٹا رقدیرہ کا عجب

(c) تواریخ کا عجب

(d) مندرجہ بالا سبھی

4- وہ کونسا مقام تھا جہاں مکان کچی اینٹوں سے لیکن نالیاں کچی اینٹوں سے بنی تھیں؟

(a) کالی بنگا

(b) دھولا ویرا

(c) لوٹھل

(d) ناگیشور

18- اس مجسمے کی شناخت کیجیے اور اس کے نام لکھیے اور ان کے ذریعہ دواہم تعلیم کا ذکر کیجیے۔



18- صرف مہینا غالب علم کے لیے۔

مندرجہ ذیل اقتباس کا بغور مطالعہ کیجیے اور متعلقہ سوالات کے جواب دیجیے۔

جنگلات کی صفائی اور مقیم زراعت کے متعلق

راج محل کی پھلی پہاڑیوں سے گزرتے ہوئے بکانن نے لکھا:

اس علاقے کا منظر بہت ہی عمدہ ہے یہاں کی زراعت خاص طور پر گردش کرتی ہوئی ٹھک وادیوں میں چاروں طرف دھان کی زراعت پھرتے درختوں کے ساتھ صاف کی گئی زمین اور چٹانی پہاڑیاں بے عیب ہیں، اس کے باوجود اس علاقے میں کچھ ترقی کے ظہور اور وسیع پیمانے پر اصلاح شدہ زراعت کی، جس کے لئے یہ علاقہ انتہائی اشرافیہ ہے۔ لکڑی کی جگہ یہاں لُسر (ریشم کا کیڑا) اور لاک کی ضرورت کو پورا کرنے کے لیے وسیع پیمانے پر آسان اور پالاس کے باغات لگائے جاسکتے ہیں۔ باقی جنگل کو بھی صاف کر دینا چاہیے اور بڑے حصہ پر زراعت کرنی چاہیے۔ اگرچہ اس مقصد کے لیے جو جگہ مناسب نہ ہو وہاں پنکھیا، کھجور اور مہوا کے درخت لگائے جاسکتے ہیں۔

سوالات

(1) راج محل کی پہاڑیوں کی خوبصورتی کو دیکھتے ہوئے بکانن کا اس کے پیچھے کیا مقصد تھا؟

- (a) نامعلوم کی دریافت
- (b) قدرتی محبت
- (c) نوآبادیاتی اصول کی تشہیر

(d) قبائل کے فلاح و بہبودی کا جذبہ۔

2- فرانسیسی بوکاشن اپنے سوجھاؤں کے مخاطب کر رہا ہے۔

(a) زمینداروں کو

(b) (بھارت) ہندوستان کی عوام کو

(c) ایسٹ انڈیا کمپنی کو

(d) برٹش میجر آف پالیامنٹ

3- بوکاشن کو، وسوا کی کیا سمجھتے تھے

(a) ایک دارشک (b) محبت فطرت

(c) ایک مسیحا (d) انگریزوں کا ایجنٹ

4- فرانسیسی بوکاشن پیٹھے سے کیا تھے؟

(a) ایک طب (معالج) (b) استاذ (معلم)

(c) ایک تاجر (d) تاریخ دان

19- دیئے گئے اقتباس کو غور سے پڑھیے اور درج ذیل میں سے کبھی تین سوالوں کے جواب دیجیے۔

مندرجہ ذیل اقتباس کا بغور مطالعہ کیجیے اور متعلقہ سوالات کے جواب دیجیے۔

صحیح سماجی کردار

مہا بھارت کے آدی پاروں کی ایک کہانی اس طرح ہے:

ایک مرتبہ کورورا جنگماروں کے تیر اندازی کے برہمن استاذ درونا کے پاس نشا (شکاری سماج) کا جنگل واسی لہنگو یہ آیا۔ جب دھرم سے واقف درونا نے اسے اپنا شاگرد بنانے سے انکار کر دیا تو لہنگو یہ جنگل واپس چلا گیا اور اس نے مٹی سے درونا کا ایک بٹ بنا لیا اور اسے اپنا استاذ سمجھتے ہوئے اپنے طور پر تیر اندازی کی مشق شروع کی۔ کچھ عرصے بعد اس نے تیر اندازی میں بڑی مہارت حاصل کر لی۔ ایک دن کورورا جنگماروں پر گئے اور ان کے کتے نے جنگل میں گھومتے پھرتے لہنگو یہ کو دیکھ لیا۔ جب کتے نے سیاہ فام نشا دکی بوسو گھسی جس کے جسم پر مٹی کی پوڑی جمی ہوئی تھی اور کالے ہرن کی کھال میں لپٹا ہوا تھا، اس نے بھونکنا شروع کر دیا۔ اس پر غصے میں آکر لہنگو یہ نے اس کے منہ میں سات تیر بھر دیئے۔ جب کتا پاٹڑوؤں کے پاس پلٹا تو وہ تیر اندازی کے اس غیر معمولی مظاہر کو دیکھ کر حیران رہ گئے۔ انھوں نے لہنگو یہ کو ڈھونڈ نکالا جس نے اپنا تعارف درونا کے ایک شاگرد کی حیثیت سے کرایا۔

درونا نے اپنے شاگرد ارجن سے ایک بار کہا تھا کہ وہ اس کے شاگردوں میں بے مثال ہوگا۔ ارجن نے اسے وہ بات یاد دلائی۔ درونا لہنگو یہ کے پاس پہنچا تو اس نے درونا کو پہچان کر اپنے استاد کی طرح عزت و احترام کیا۔ جب درونا نے اپنی قمیص کے طور پر اپنے دائیں ہاتھ کا اگوشا طلب کیا تو لہنگو یہ نے بے جھجک اسے کاٹ کر درونا کو دے دیا۔ لیکن اس کے بعد جب اس نے اپنی چمکی انگلیوں سے تیر چلائے تو ان میں وہ پھرتی باقی نہیں رہی تھی جو پہلے تھی۔ اس طرح درونا نے اپنا وچن پورا کیا، کوئی ارجن سے بہتر نہیں تھا۔

سوالات

- 1- آپ کا کیا خیال ہے کہ درونا برہمن ہوتے ہوئے تیر اندازی کیسے کے کام کو دھرم سوتروں کے مطابق انجام دے رہا تھا؟
 - 2- درونا کو اپنا اگوشا کاٹ کر دینے کے بعد کیا لہنگو یہ کو افسوس ہوا؟ اپنے خیالات کا اظہار کیجیے۔
 - 3- کہانی کا جائزہ لیجیے اور لہنگو یہ کے کردار کو واضح کیجیے۔
 - 1- درونا نے لہنگو یہ کو اپنا شاگرد بنانے سے منع کر دیا تھا کیونکہ وہ ایک..... تھا۔
- (الف) برہمن (ب) نشاد
(ت) راجپوت (ث) دیوتا
- 2- درونا ارجن کو دیئے وعدے کو کس طرح پورا کیا؟
- (الف) لہنگو یہ کا اگوشا مانگ کر
(ب) ارجن کو اعلیٰ تعلیم دے کر
(ت) (الف) اور (ب) دونوں
(ث) صرف الف
- 3- کیا آپ درونا کے طرز عمل کو لہنگو یہ کے مطابق منصفانہ مانتے ہیں؟
- (الف) ہاں (ب) نہیں
(ت) الف اور ب (ث) صرف ت
- 4- درونا کس خاندان کے شہزادوں کو تیر اندازی کی تعلیم دیتے تھے؟
- (الف) نشاد (ب) کورو خاندان

(ت) برہمن (ث) ویش (Vaish)

20- مندرجہ ذیل دو بیانات دیئے گئے ہیں۔ جن میں سے ایک کو بیان (A) کی شکل میں اور دوسرے کو وجہ (R) کی شکل میں دکھایا گیا ہے۔

بیان (A)۔ مہاتما گاندھی نے 12 مارچ 1930 کو ساہی آشرم سے داغڑی شروعات کی۔

(a) صرف بیان (A) درست ہے

(b) صرف وجہ (R) درست ہے

(c) بیان (A) اور وجہ (R) دونوں درست ہیں لیکن وجہ (R) بیان (A) کا جواز نہیں ہے

(d) بیان (A) اور وجہ (R) دونوں درست ہے اور وجہ (R) بیان (A) کا جواز ہے۔

حصہ ت

21- ہزارم الخط ایک رزمی ہے تشریح کیجیے۔ 3

21- کس حد تک برصغیر میں پانی مساجد کا کتنی دوسری جگہوں کی مساجد سے مشابہت ہے۔ 3

22- 1857 میں باغیوں نے اتحاد کے تصور کو کس طرح شرمندہ تعبیر کیا۔ 3

23- انگریزوں نے 1857 کی بغاوت کے کچلنے کے لیے کیا قدم اٹھائے 3

حصہ ت

24- مونہن جوڈاڑو کی خصوصیت کا ذکر کریں 8

یا

سندھو گھائی تہذیب کی شہری تعمیرات کا ذکر کریں

25- سلطنت اور درباریوں کی روایت رزم و رواج پر روشنی ڈالتے ہوئے مغل دربار اور انتظامیہ کی موجودہ ہندوستانی انتظامیہ کے نظم و نسق سے مقابلہ کیجیے۔

یا

مغلوں کے افسران کو ایک گلدستے کی شکل میں بیان کیا جاتا تھا۔

مندرجہ بالا بیان کو غلط امراء طبقہ کی پیش نظر بیان کیجیے۔
 26- گاندھی جی نے ہندوستانی قومی تحریک کو ایک عام تحریک میں کس طرح بدل دیا۔

یا

دسمبر 1929 میں کانگریس لاہور سیشن کی اہمیت کا خلاصہ کریں۔

یا

26 جنوری 1930 کو یوم آزادی منانے کے لیے گاندھی جی کی ہدایات کا ذکر کیجیے۔

حصہ ج

27- دیئے گئے اقتباس کو غور سے پڑھ کر مندرجہ ذیل سوالوں کے جواب لکھیے۔

مسلم لیگ کی قرارداد: 1440

مسلم لیگ کی 1940 کی قرارداد میں مطالبہ کیا گیا کہ جغرافیائی طور پر ملحق اکائیوں کو علاقوں کی شکل میں نشان زد کیا جائے جن کی تشکیل ضرورت کے لحاظ سے ایسے علاقوں کی نئی صورت سے کی جائے کہ ان علاقوں کے جو شمال مغربی اور مشرقی حلقوں میں مسلمان تعداد میں اکثریت میں ہوں ان کو اکٹھا کر کے ایک ”آزاد ریاست“ تشکیل دے دی جائے جس میں شریک اکائیاں خود مختار اور مقتدر ہوں گی۔

سوالات

(i) مسلم لیگ کے اہم مانگ کی پہچان کیجیے۔

(ii) مسلم لیگ کے خود مختاری کی مانگ کی وجہ کا تجزیہ کیجیے۔

(iii) 1940 کے مسلم لیگ کی ”تجویز“ کے مختلف پہلوؤں کا تجزیہ کیجیے۔

28- مندرجہ ذیل اقتباس کو پڑھ کر دیئے گئے سوالات کے جواب لکھیے۔

اگنی سے ایک پراتھنا

اگنی سے ایک پراتھنا یہ رگ وید کے دو اشلوک ہیں جو آگ کے دیوتا کے لیے دعائیں ہیں۔ اس دیوتا کے سامنے قربانیاں پیش کی جاتی تھیں تاکہ دوسرے دیوتاؤں تک پہنچا جاسکے۔

پیش کروے۔ اے طاقتور! ہماری اس قربانی کو دیوتاؤں کے سامنے۔ اے وہ کہ جو دشمنند ہے، دینے میں فراخ دل ہے ہمیں عطا کر۔
 اے پجاری! او فرخدا، اے اگنی، حاصل کر قربانی سے ہمارے لیے زیر دست دولت حاصل کر لے۔
 اے اگنی؛ سدا بہارا! اس کے لیے جو تیر پوجا کرنے غذا (کاتھنہ)، لاجواب گائے، اولاد، جو ہماری نسل آگے بڑھائے۔۔۔
 اس قسم کے اشلوک خاص قسم کی منسکرت میں نظم کیے گئے تھے۔ انہیں پجاری خاندان کے لوگوں کو زبانی یاد کرایا جاتا تھا۔

سوالات

- (i) ویدک منسکرت اہم کیوں تھی۔
- (ii) ویدک روایات کے کن ہی دور وراج و عقائد کو لکھیے۔
- (iii) لوگ ”اگنی“ سے کیا مانگ کرتے تھے۔

-29-

کولن میکنزی

کولن میکنزی کی پیدائش 1754 میں ہوئی تھی جو ایک انجینئر، سر ویر (امین پینشن) اور کارٹوگرافر (نقشہ نگار) کی حیثیت سے مشہور ہوئے۔ 1815 میں انھیں ہندوستان کا پہلا سرویٹر جنرل مقرر کیا گیا۔ اور 1821 میں اپنی وفات تک اسی عہدے پر فائز رہے۔ ہندوستان کے ماضی کو بہتر طریقے سے سمجھنے اور نوآبادی کے انتظام کو آسان بنانے کے لئے وہ مقامی تاریخوں کو جمع کرنے اور تاریخی مقامات کا سروے کرنے کی مہم میں مشغول ہوئے۔ اس نے کہا کہ ”برطانوی حکومت کے زیر اثر آنے سے پہلے جنوب خراب انتظامات کی بدبختی سے طویل عرصہ تک جدوجہد کرتا رہا“۔ وجہ نگر کے مطالعہ سے میکنزی کو یہ یقین ہو گیا کہ ایسٹ انڈیا کمپنی مقامی لوگوں کے مختلف قبیلے، جو اس زمانے میں بھی عام عوام کی آبادی کی تشکیل کرتے ہیں، کو اب بھی غالب طور پر متاثر کرنے والے ان میں سے بہت سے ادارے، قوانین اور رسم و رواج کے متعلق بہت سی فائدہ مند معلومات حاصل کی جاسکتی ہیں۔

سوالات

- (i) کالین میکنزی کون تھا؟
- (ii) میکنزی نے وجیے نگر سلطنت دو بارہ دریافت کی کوشش کس طرح کی۔
- (iii) ایسٹ انڈیا کمپنی کے لیے وجیے نگر سلطنت کا مطالعہ کر طرح کارگر تھا۔

حصہ د

Section-F

نقشے کے سوالات Map Question

1+1+1 = 3

3- ہندوستان کے دیئے گئے سیاسی نقشے پر مندرجہ ذیل مقاموں کی نشاندہی کیجیے۔

(a) دھولا ویر ایک ترقی یافتہ ہڑپا کا مقام

یا

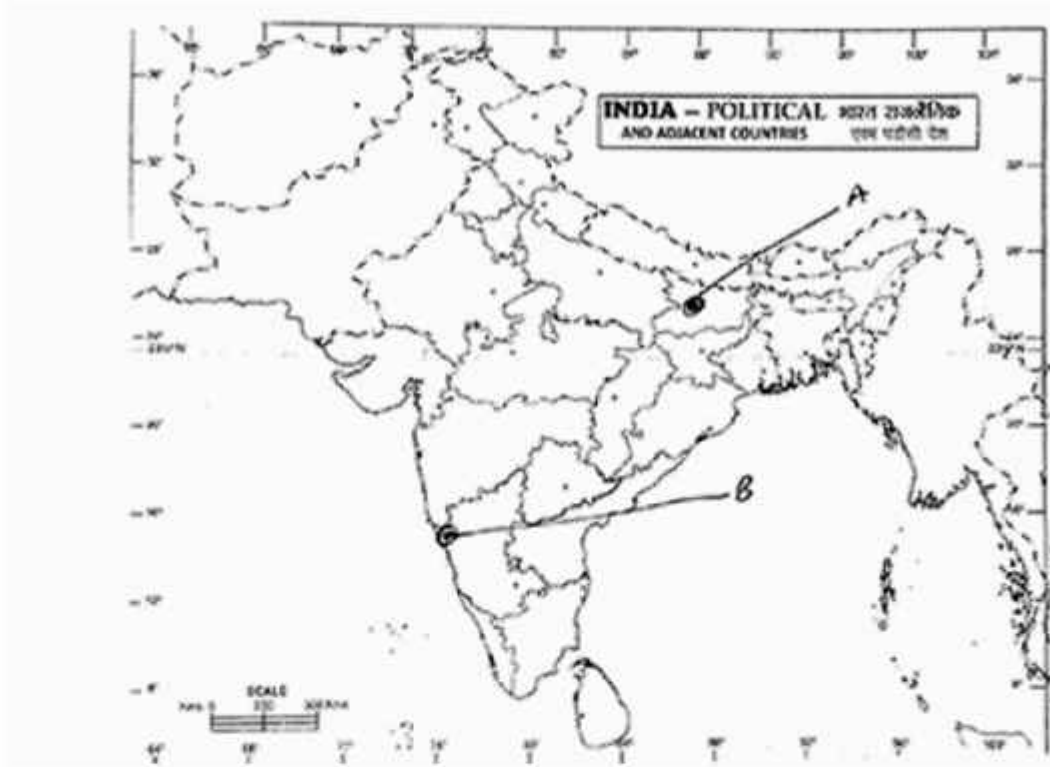
ہڑپا

(b) اجیر مغلوں کے ماتحت ایک علاقہ

یا

کووا

(c) بنارس



30۔ ہندوستان کے دیئے گئے اسی سیاسی نقشے پر قومی احتجاج سے متعلق دو مقام A B دکھائے گئے ہیں، ان کی شناخت کیجیے اور ان کے نام لکھیے۔

$$1+1=2$$

نوٹ: مندرجہ ذیل سوال صرف ناچینوں کے لیے سوال نمبر 30.1 اور 30.2 کی جگہ پر ہے۔

یا

30.2 مغل حکمران کی کسی دو دارالسلطنت کا نام لکھیں۔

تواریخ

درجہ XII

وقت 3 گھنٹے

کل نمبرات: 80

عام ہدایت :

- 1- سارے سوالوں کے جواب لازم ہیں کچھ سوالوں کے متبادل بھی دیئے گئے ہیں۔ ہر ایک سوال کے نمبر ان کے سامنے درج کئے گئے ہیں۔ ان پر پے میں 5 حصے ہیں۔
- 2- حصہ الف (سوال نمبر 1 سے 21) مختصر سوال (1) نمبر کے ہیں ان کے جواب ایک لفظ یا ایک جملوں میں لکھیں۔
- 3- حصہ ب (سوال نمبر 22 سے 27) ذرائع پر مختصر ایک جواب بدلے مختلف سوال ہیں ہر ایک سوال 3 نمبر کا ہے۔ ہر ایک سوال کا جواب 50 سے 60 الفاظ میں دیں۔
- 4- حصہ ت (سوال نمبر 28 سے 30) میں ہر ایک سوال کے 8 نمبر ہیں۔ ہر ایک سوال کا جواب زیادہ سے زیادہ 100 لفظوں میں دیجئے۔
- 5- حصہ ث (سوال نمبر 31 سے 33) ذرائع پر مختصر سوال ہیں۔ ہر ایک سوال 4 نمبر کا ہے۔
- 6- حصہ ج (سوال نمبر 34) نقشے سے متعلق ہے جس میں علامتوں کی شناخت اور اہم نکات کی نشاندہی شامل ہے۔

حصہ (الف)

کسی 15 سوالوں کے جواب دیجئے۔

- 1- مگدھ کی شروعاتی راجدھانی تھی
(a) پانڈلی پوتر
(b) کاش
(c) راجگیر
(d) متھرا
- 2- ہندوستانی آثار قدیمہ کا جنک کسے مانا جاتا ہے۔
1.

3- مندرجہ ذیل بیان کو درست کر کے پھر سے لکھیے۔

1

مغل مادرا نے طور سے ترکی حکمران تیمور کے خاندان سے تھے جبکہ پدرانہ طور پر چنگیز خان سے متعلق تھے۔

4- ان میں سے کون سا بیان امر نامک انتظام کی صحیح تشریح کرتی ہے۔

1

(i) یہ وجہ نگر کا اہم سیاسی عمل تھا

(ii) یہ دی سلطنت کے ایکٹانظم سے متاثر تھا۔

(الف) i صرف

(ب) ii صرف

(ت) i اور ii دونوں

(ث) ان میں سے کوئی نہیں

5- نیچے دیئے گئے تصویروں کو نوٹ سے دیکھئے اور بتائیے کہ یہ تصویر کن سے متعلق ہے۔



5- صرف ہاییا طلباء کے لیے سوال نمبر 5 کی جگہ پر آئین ساز کمیٹی کی پرا روپ (Drafting) کمیٹی کے

1

صدر تھے۔

(الف) سردار لہنھی بھائی پٹیل

(ب) جواہر لعل نہرو

(ت) بی۔ پی۔ پنت

(ث) بی۔ آر۔ امبیڈکر

- 6- امراء طبقہ کیا ہے۔ 1
- 7- زیارت کا مطلب کیا ہے؟ 1
- (الف) کرشن کی بھگتی میں گایا جانے والا گیت
 (ب) بادشاہ اکبر کے درگاہ کی زیارت
 (ت) صوفی سنتوں کے مزاروں کا سفر
 (ث) صوفی سنتوں کے یوم پیدائش پر موم بتی جلانا
- 8- ”جب وہ ایک پتھر سے سانپ کو دیکھتے ہیں تو اس پر دودھ چڑھاتے ہیں۔ اگر اصلی سانپ آجائے تو کہتے ہیں مارو مارو بسوننا کے ذریعے تخلیق کر دہ بیان کا مقصد کیا ہے؟ 1
- 9- جو دار تھے 1
- (الف) حفاظتی دستے
 (ب) امیر کسان
 (ت) ٹیکس ملازمین
 (ث) ایک پیاری آدمی واسی
- 10- مندرجہ ذیل میں سے صحیح جوڑوں کو منتخب کیجیے۔ 1
- (i) ڈیہنگو پیس فارس
 (ii) نیکولو ڈی کونٹی اٹلی
 (iii) دیہارتے باروسا چین
- (الف) i اور ii دونوں درست ہیں
 (ب) صرف ii درست ہے
 (ت) i اور ii اور iii سبھی درست ہیں
 (ث) صرف iii درست ہے

- 11- گاندھی جی کے سیاسی سفر اور قومی احتجاج کی تواریخ کو فہرست بنانے کے لیے کارآمد کسی دو ذرائعوں کے نام لکھیے۔
- 1
- 12- آئین کے مطابق طاقت ور مرکزی سرکار کی حمایت میں دی جانے والی کسی ایک دلیل کو لکھیے۔
- 1
- 13- ہڑپا تہذیب میں نشی شہر قلعے سے کس طرح مختلف تھا۔
- 1
- 14- نیچے دو بیان دیئے گئے ہیں جس میں سے ایک کو بیان (A) کی شکل میں اور دوسرے کو جہ (R) کی شکل میں دکھایا گیا ہے۔
- 1
- بیان (A) ساتواہن حکومت میں عورتوں کا کردار اہم تھا۔
 جہ (R) ساتواہن حکمرانوں کو ان کے مادرانہ نام سے مخاطب کیا جاتا تھا۔
- (الف) صرف بیان (A) صحیح ہے
 (ب) صرف جہ (R) صحیح ہے
 (ت) بیان (A) اور جہ (R) دونوں صحیح ہیں پر جہ (R) بیان (A) کا جواز نہیں ہے۔
 (ث) بیان (A) اور جہ (R) دونوں صحیح ہیں اور جہ (R) بیان (A) کا جواز ہے۔
- 15- وجئے نگر سلطنت کا سرپرست (Guardian) دیوتا تھا
- 1
- 16- مندرجہ ذیل کو ایک دوسرے سے ملائیں
- (i) البیرونی ازبکستان
 (ii) ابن بطوطا مورکو
 (iii) فرانشا برنیر اٹلی
- B (الف) i اور ii دونوں صحیح ہیں
 (ب) صرف ii صحیح ہے
 (ت) i اور ii اور iii سبھی صحیح ہیں
 (ث) صرف iii صحیح ہے

حصہ (ب)

17- دیئے گئے ذرائعوں کو فوجوں سے پڑھئے اور مندرجہ ذیل میں سے کسی تین سوالوں کے جواب دیجیے۔

$$1+1+1=3$$

آتش کی پوجا

یہاں پر رگ وید کے لیے گائے دو بند ہیں جن میں آگ دیوتا کا خوش آمدید کیا گیا ہے شکتی مثالی دیو، آپ ہماری آہوتی دیوتا ہوں تک لے جائیں اپنے بدھی شتیہ۔ آپ آسب کے داتا ہیں۔ پوروہت ہمیں خوب سارے کھانے کی چیزیں دیں ہے آگنی یگ کے ذریعے ہمارے لیے بے شمار دولت لادیں۔ ہے آگنی جو آپ کے لیے پارتھنا کرتا ہے اس کے لیے آپ ہمیشہ کے لیے نہایت سحت مند اور نیکو بگائے لادیں۔

-A- درج بالا چھند میں کس دیوتا کی عبادت کی گئی ہے۔

(الف) سورج

(ب) آگنی (آگ)

(ج) اندر

(د) ہوا، (وايو)

-B- یگ کا مقصد درج ذیل میں سے کون سا نہیں تھا۔

(الف) بیٹے کی خواہش کے لیے

(ب) دولت کی خواہش

(ت) لڑکی کی خواہش

(ث) گائے کی خواہش

صحیح بیان کو چنئے

-C-

(i) آگنی دیوانساؤں کی قربانی کو دیوتاؤں تک لے جاتے تھے۔

(ii) قومی گائے کے لیے لوگ آگ کی پوجا کرتے تھے۔

(الف) صرف i

(ب) صرف ii

(ت) i اور ii دونوں

(ث) ان میں سے کوئی نہیں

-D رگ وید کی تعلیم دی جاتی تھی۔


(الف) تحریری شکل میں

(ب) دھیان لگا کر

(ت) تحریری شکل میں دھیان لگا کر

(ث) زبانی طور پر

-18



-A پیش کردہ عمارت تصویر سے متعلق ہے۔

(الف) سلطنت کے دور سے

(ب) وجے نگر سلطنت سے

(ت) مغل دور سے

(ث) برٹش دور سے

-B پیش نظر عمارت کی تصویر عمیق رشتوں کو دکھاتا ہے۔

(الف) علاء الدین خلجی اور نظام الدین اولیا کے درمیان

(ب) پشتیوں اور مغل صوبوں کے درمیان

(ت) بھگتی سنتوں اور ان کے ماننے والوں کے درمیان

(ث) وجے نگر راجا اور ان کے جیالوں کے درمیان

-C یہ عمارت بنائی گئی تھی۔

(الف) اکبر کے ذریعے (ب) شاجہاں کے ذریعے

(ت) کرشن دیورائے کے ذریعے (ث) شیخ مہین الدین چشتی کے ذریعے

-D (الف) دہلی میں (ب) بمبئی میں

(ت) آگرہ میں (ث) فتح پور سیکری میں

صرف مہیا طلبا کے لیے

دیئے گئے امتحان کو نوٹوں سے پڑھیے اور دیئے گئے تین سوالوں کے جواب لکھیے۔

’عظیم اور ادنیٰ‘

روایات

’عظیم‘ اور ’ادنیٰ‘ جیسی اصطلاح بیسویں صدی کے سماجی علوم کے ماہر رابرٹ ریڈ فیئلڈ کے ذریعہ ایک زرعی سماج کے ثقافتی معمولات کو بیان کرنے کے لیے استعمال کی گئی ہیں۔ اس ماہر سماجی علوم نے دیکھا کہ کسان ان رسم و رواج اور مذہبی عبادات کو ادا کرتے تھے۔ جن پر سماج کے غالب طبقے جیسے پرہت اور راجہ کے ذریعہ عمل کیا جاتا تھا۔ ان رسم و رواج کو ریڈ فیئلڈ نے ’عظیم‘ روایات کا نام دیا۔ اس کے ساتھ ہی زرعی سماج دیگر مقامی معمولات پر بھی عمل پیرا تھا جو اس ’عظیم‘ روایات سے ضروری طور پر میل نہیں کھاتی تھیں۔ ان کو

اس نے ”ادنی“ روایات کے زمرے میں شامل کیا ہے ریڈ فیلمڈ نے یہ بھی دیکھا کہ ”عظیم“ اور ”ادنی“ دونوں ہی روایات میں وقت کے ساتھ ہونے تعامل کے عمل کے سبب تبدیلیاں ہوئیں۔

اگرچہ دانشوران طریقہ عمل اور زمروں کی اہمیت سے انکار نہیں کرتے لیکن وہ ان اصطلاحات میں جو نظام مراتب ابھر کر سامنے آتا ہے۔ اس سے پریشان نظر آتے ہیں۔ اسے نشان زد کرنے کا ایک طریقہ ان اصطلاحات کو حوالہ نشان ”عظیم“ اور ”ادنی“ کے ساتھ استعمال کیا جائے۔

صرف بیجا طلبا کے لیے سوال نمبر 18 کی جگہ پر دیئے گئے ہیں۔

ذرائع کو نو سے پڑھیے اور مندرجہ ذیل میں سے کسی تین سوالوں کے جواب دیجیے۔

A۔ علم روایات سے مراد ہے

(الف) آخری واسی کی روایت

(ب) غیر برہمنی روایت

(ت) رامت رڈفلڈ کی روایت

(ث) راجا اور پر وہت کی روایت

C۔ زرعی سماج کے کردار سے متعلق صحیح متبادل کو چنیں

(الف) زمیندار سماج ادنی روایت سے نفرت کرتے تھے۔

(ب) زمیندار لوگ صرف پر وہت اور راجا کے ذریعے پیش کیے گئے روایتوں کی پاسداری کیا کرتے تھے۔

(ت) ادنی اور عظیم روایت سے ان کا کوئی تعلق نہیں تھا۔

(ث) کسان ادنی اور عظیم دونوں روایتوں پر عمل کرتے تھے۔

صحیح بیان کو چنئے

(i) ادنی اور عظیم لفظ سے پد سو پانا تمک () آواز ابھر کر آتی ہے۔

(ii) کسانوں کو صرف رسوخ دار روایتوں پر عمل درآمد ہونا چاہیے۔

(الف) صرف i

(ب) صرف ii

(ت) i اور ii دونوں

(ش) ان میں سے کوئی نہیں

سوالات نمبر 13

مندرجہ ذیل اقتباس کا بغور مطالعہ کیجیے اور متعلقہ سوالوں کے جواب دیجیے۔

تعلقہ دار کیاسوچتے تھے

تعلقہ داروں کے رویہ کو رائے بریلی کے نزدیک واقع کاننگر کے راجہ ہنونت سنگھ نے بے حد عمدہ ڈھنگ سے ظاہر کیا۔ بغاوت کے دوران ہنونت سنگھ نے ایک انگریز افسر کو پناہ دی تھی اور محفوظ مقام تک پہنچایا تھا۔ افسر کو رخصت کرتے وقت ہنونت سنگھ نے اس سے کہا تھا:

صاحب آپ کے ملک کے لوگ اس ملک میں آئے اور ہمارے راجاؤں کو دھکیل دیا۔ آپ اپنے افسران کو بھیج کر ضلعوں میں جاگیروں کی حق ملکیت کا معاوضہ کراتے ہیں۔ ایک ہی جھگڑے میں آپ نے مجھ سے میری زمین چھین لی جو میرے خاندان کی قدیم عہد سے تھی۔ میں نے اطاعت اختیار کر لی۔ اچانک آپ کی بد قسمتی شروع ہو گئی۔ اس زمین کے لوگ آپ کے خلاف اٹھ کھڑے ہوئے تب آپ میرے پاس آئے جس کو آپ نے محروم کر دیا تھا۔ میں نے آپ کو بچایا لیکن اب۔ اب میں اپنے خادموں کو لے کر لکھنؤ جا رہا ہوں تاکہ آپ کو ملک سے باہر نکلنے کی کوشش کروں۔

A- ہنونت سنگھ کے مطابق لوگوں کے غصے کی وجوہات تھیں۔

(الف) راجاؤں کو ان کے صوبوں سے باہر کر دینا

(ب) کسانوں سے زمین چھین لینا

(ت) حکومت کا رویہ استحصال آمیز تھا

(ش) مندرجہ بالا سارے

B- ہنونت سنگھ تھے۔

(الف) تعلقہ دار

(ب) برٹش آفیسر کا ملازم

(ت) ایک تاجر

(ش) ایک فن کا

- C- تعلق داروں کی بے دخلی کے نتیجے ہوئے
- (الف) برٹش سرکار کے خلاف بغاوت
- (ب) کسانوں کا استحصال بند ہو گیا
- (ت) تعلق داروں کا استحصال گھٹ گیا
- (ث) (الف) اور (ب) دونوں
- D- دی گئی مثالیں منحصر ہیں۔

- (الف) سنہ 1857ء کے بغاوت پر
- (ب) عدم تشدد و احتجاج پر
- (ت) بھارت چھوڑنا و احتجاج پر
- (ث) 1857ء کے بغاوت پر

23- رعیت سے کیا مراد ہے؟ خودکاشت اور پائی کاشت میں فرق ظاہر کیجیے۔

24- حکمران عہدے اصولوں اور درباری رواجوں پر روشنی ڈالتے ہوئے غل دربار اور انتظامیہ کی موجودہ ہندوستانی نظم و ضبط سے مقابلہ کیجیے۔

8

یا

مغل تواریخ میں ہمیں اس بات کی جھلک دیتے ہیں کہ کیسے شاہی نظریے اور خیالات کس طرح عملی جامد پہنائے جاتے تھے۔ وضاحت کیجیے۔

25- نسلی بھید اور قومی کاموں سے متعلق برہمنوں کے اصول کا پورے طور پر عمل نہیں ہوتا تھا۔ وضاحت کیجیے۔

یا

قدیم سماجی اصول و ضوابط کے مطالعہ کے لیے مہا بھارت ایک بہتر وسیلہ ہے۔ اس بیان کے مطابق اپنے خیالات پیش کیجیے۔

26- 19 ستمبر 1947ء کو بلی میں مہاتما گاندھی کی آمد بڑی لمبی اور سخت گرمی کے بعد برسات کی بوندوں

8

کے آنے جیسا تھا۔

یا

عدم تعاون تحریک امن کی نظر سے ناکام رہی لیکن اثرات کے نظر یہ سے کامیاب رہی۔ یہ خود مختاری کے لئے ایک تجربہ (Training) تھا اس بیان کی تشریح عدم تعاون تحریک کے اثرات کے حوالے سے کیجیے۔

-27

28- مندرجہ ذیل مثالوں کو بخور پڑھیے اور اس کے نیچے سوالوں کے جواب دیجیے۔
2+2=4

کالن میکینزی کا لینن مائیکو

1754ء میں کالن کی پیدائش نے ایک اہمیت نگرانی اور مصور کی شکل میں شہرت حاصل کی۔ 1815ء میں انہیں پہلا سروریزنر بنا لیا گیا اور 1821ء میں تادم حیات اس عہدے پر فائز رہے۔ ہندوستان کے ماضی کو بہتر ڈھنگ سے سمجھانے اور غیر ملکی انتظامیہ کو آسان بنانے کے لیے انہوں نے تواریخ سے متعلق (استحانہ) مقامی رسم و رواج کا مجموعہ (سنگلن) اور تواریخی مقامات کا جائزہ لینا شروع کیا۔ وہ کہتے ہیں "برٹش حکومت کے زیر اثر و جے نگر کے مطالعہ سے میکینزی (میکو) کو یہ یقین ہو گیا کہ کچھ "مقامی لوگوں کے ایک الگ قبیلوں، جو اس وقت بھی آبادی کا ایک بڑا حصہ تھے۔

جسے اب بھی متاثر کرنے والے ان میں سے کئی تنظیمیں تو انہیں اور رسم و رواج سے متعلق نہایت ضروری اور اہم معلومات فراہم کرنی تھی۔

28.1- کالن میکینزی کون تھا؟

28.2- کالن میکینزی نے کس مشہور شہر کی کھوج کی؟

28.3- کالن میکینزی نے جانچ کیوں شروع کیا؟

29- مندرجہ ذیل مثالوں کو بخور پڑھیے اور اس کے نیچے دیئے گئے سوالوں کے جواب دیجیے۔

”منقسم وفاداری کے لیے کوئی جگہ نہیں ہو سکتی“

گویندولپھ پنت نے ویسل دی کہ وفادار شہری بننے کے تعلق سے لوگوں کو صرف فرقہ اور خود پر مہر کوڑ سونچنے کا عمل بند کرنا ہوگا:

جمہوریت کی کامیابی کے لیے فرد کو مضبوط نفس میں تربیت لینی ہوگی۔ جمہوریت میں فرد کو خود اپنے لیے اور دوسروں کے لیے زیادہ فکر کرنی ہوگی۔ منقسم وفاداری کے لیے کوئی جگہ نہیں ہو سکتی۔ تمام طرح کی وفاداریاں، ریاست کے ارد گرد مہر کوڑ ہونی چاہئیں۔ اگر جمہوریت میں آپ حریف وفاداریاں پیدا کریں یا آپ ایسا نظام بناویں جس میں کوئی فرد یا گروہ اپنے اسراف پر روک لگانے کے بجائے وسیع یا دیگر مفادات کے لیے کچھ پروا نہیں کرتے تو پھر جمہوریت کا انجام دہشت ناک ہے۔ اے۔ ڈی۔ جلد دوم

سوالات

- 1- جمہوریت میں وفادار شہریوں کی کیا خصوصیت ہونی چاہیے؟ 2
- 2- آئین مرتب کرتے وقت جداگانہ انتخاب کی مانگ کیوں کی گئی تھی 2
- 3- کوئٹہ ولیم پنت اس مانگ کے مخالف کیوں تھے دو وجوہات بیان کیجیے۔ 2

حصہ د

نقشے کے سوالات

30.1 - ہندوستان کے دیئے گئے سیاسی نقشے پر مندرجہ ذیل مقامات کو درج کیجیے۔

(الف) کوئٹہ ایک ہڑپائی مقام

اور

(ب) سانچی - ایک خاص بودھ مقام

(ت) اجیر - اکبر کے ماتحت ایک علاقہ

اور

کانپور 1857 کے بغاوت کا ایک خاص مرکز

(ث) امرتسر

30.2 - بھارت کے دیئے گئے اس سیاسی نقشے پر قومی احتجاج سے متعلق دو مقام A, B درج کئے گئے ہیں انہیں پہچانے اور ان کے

نام لکھیے۔

نوٹ: مندرجہ ذیل سوال صرف نامیاء طلباء کے لیے ہیں۔

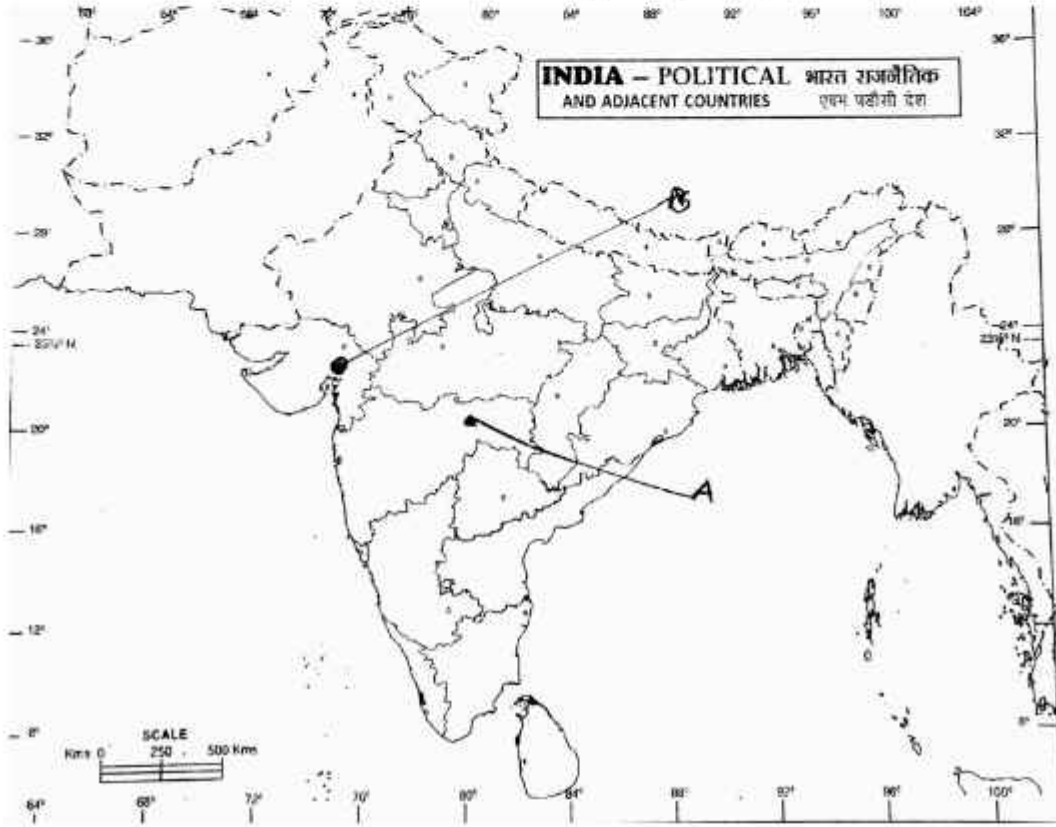
30.1 - تعداد 30.1 اور 30.2 کے مقام پر ہے۔

30.1 - چھٹی صدی قبل مسیح کسی تین مرکزوں کے نام لکھیے۔

یا

کوئی تین بودھ مقامات کے نام لکھیے۔

30.2 - 1857ء کی بغاوت کے کسی دو مرکزوں کے نام لکھیے۔



مارکنگ اسکیم

XII

مشقی سوالنامہ کے لیے

- 1- راج گھڑ
- 2- سراپچیر رکنگھم
- 3- مغل ماں کی طرف سے چنگیز خان سے تعلق رکھتے تھے جبکہ باپ کی طرف سے ترک حکمران تیمور کے خاندان سے تھے۔
- 4- (الف) (i) اور (ii) دونوں
- 5- دستور پر دستخط کے وقت کا
- 6- صرف نابینا طالب علم کے لیے
- 7- (ج) ڈاکٹر مجید راؤ امبیڈکر
- 8- ایسی حکومت جس میں حاکم کے تحت ایک گروہ کے ہاتھ میں ہوتا ہے۔
- 9- (ج) صوفی سنت کے مزار کا سفر
- 10- اندھائی تین ضرب کاری
- 11- (ب) صرف (ii) صحیح ہے
- 12- (ب) امیر کاشیکار
- 13- اختیارے واج آف لیٹر (کوئی دوسرا تسلیم شدہ ہوتا)
- 14- ملک کو متفق رکھنے کے لیے (کوئی دوسرا تسلیم شدہ ہوتا)
- 15- برج کی اونچائی پر مشرق کی جانب میں نچلا شہر۔ عام لوگوں کے لیے مغرب کی جانب واقع (کوئی سچائی)
- 16- (ب) صرف وہ R صحیح ہے۔
- 17- (ب) I اور II دونوں صحیح ہیں

- 17- A (الف) آگ
 -B (ب) بیٹی کی حصول
 -C (ج) I اور II دونوں
 -D (د) زبانی طور پر
- 18- A مغل کے وقت سے
 -B (ب) پشٹیوں اور مغل حکومت کے درمیان
 -C (الف) اکبر کے ذریعہ
 -D (ج) فتح پور سکری میں
- صرف مہینا کے لیے سوال نمبر 18 کی جگہ
- A- (ج) حاکم اور محکوم کا رواج
 -B (الف) ایک سماجی علوم
 -C (الف) کاشتکار چھوٹے اور بڑے دونوں طرح کے رواج پر عمل کرتے تھے۔
 -D (ج)
- 19- A (ج) مذکورہ بالا سبھی
 -B (الف) تعلق دار
 -C (الف) انگریزی حکومت کے خلاف بغاوت
 -D (ج) 1857 کی بغاوت

حصہ ج

- 20- (i) عیسائی مبلغ کے سرگرمیوں اور مذہب تبدیلی کا خطرہ
 (ii) مذہبی اور تہذیبی علاقوں میں کمیٹی کے دستخط سے غیر محفوظ کا جذبہ
 (iii) مذہب کے علاوہ سماجی، تہذیبی، سیاسی، اور معاشی اعتبار سے پرانی، سخت دل، اور استبدادی نظام۔

- (iv) کوئی اور تسلیم شدہ نکات
- 21- (i) بودھ سماجی نظریے کے مطابق سماجی تعلقات کے ماتحت بادشاہ کا عہدہ لوگوں کے ذریعہ انتخاب کرنے پر جبکہ پرش سکت کے مطابق یہ ایک الہامی نظام
- (ii) بودھ سماجی نظریہ کے مطابق معاشی اور سماجی تعلقات کو بنانے میں انسانی عمل کا ہاتھ جبکہ پرش سکت نے چار ذاتوں کا وجود پر ہمارے جسم سے ہے۔
- (iii) بودھ سماجی نظریہ کے مطابق اگر انسان ایک جیو کو بنائے رکھنے کے لیے ذمہ دار تھے تو مستقبل میں اس میں تبدیلی بھی لاسکتے تھے۔ جبکہ پرش سکت کے مطابق یہ ایک الہامی نظام۔
- (iv) کوئی اور تسلیم شدہ نکات
- 22- (i) صوفی سنتوں کی مذہبی اعتماد..... اور لوگوں کا ان پر یقین
- (ii) زیادہ تر رعایا اسلام کو ماننے والے نہیں تھے اور صوفی سنتوں پر ان کا یقین تھا۔
- (iii) عام آدمی کا صوفی سنتوں کی طرف جھکاؤ تھا۔
- (iv) کوئی اور تسلیم شدہ نکات
- 23- (i) مغل عہد میں ہندوستانی و فارسی ذریعہ کاشتکار کے لیے رعیت یا مجربان لفظ کا استعمال کرتے تھے۔
- (ii) خود کاشت وہ کسان تھے جو گاؤں میں رہتے تھے جن میں ان کی زمین تھی۔
- (iii) ماہی کاشت، وہ کسان تھے جو دوسرے گاؤں میں ٹھیکے پر کھیتی کرتے آتے تھے۔
- (iv) کوئی اور تسلیم شدہ نکات
- 24- (i) حکمرانی کے نظریات میں الہامی روشنی کا نظریہ
- (ii) مغل بادشاہت کے حاکم خود کو ایک عظیم اور مفتوح رعایا پر حکومت کے لیے منتخب مانتے تھے اور صلح مکمل کے اصول
- (iii) سماجی تعلقات کے شکل میں انصاف پر عمل خود مختاری کے اصول
- (iv) مغل بادشاہوں کے ذریعہ مغلوں اور علاقائی راجاؤں کو ملا کر مغل حکومت کو تشکیل دی گئی۔
- (v) مغل کے دور حکومت میں عمل اور تخت و تاج تقریباً پوری طرح سے ایک ہی بادشاہ تک محدود تھی۔
- (vi) دربار کا مرکز تخت شاہی تھا

- (vii) مغل سلطنت کا ایک اہم ستون اس کے افسران کا ایک ذل تھا جسے مورخ امراء طبقہ کہتے تھے۔ امراء طبقے کی تقرری مختلف ذاتوں اور مذہبی لوگوں میں سے کی جاتی تھی۔
- (viii) مغل مہذب طبقات کے مابین اسے حیثیت ملنے کرنے والے قانون تھے۔
- (ix) درباری معاشرے میں سماجی اختیار کا رد عمل میں دربار میں بتائے گئے مخاطب، اخلاقیات، اور بولنے کے طے شدہ قانون بنائے گئے تھے۔
- (x) سجد و تسلیم زمین بوشی، (قدم بوسی)
- (xi) آج ہندوستان جمہوری نظام ملک کے آئین کبھی شہریوں کو یکساں دیکھ دیتا ہے۔ مذہب، ذات، رنگ، جنس اور علاقے کی بنیاد پر کوئی تفریق نہیں۔
- (xii) کوئی دوسرے قابل تسلیم نکات

یا

- (i) واقعہ نگار واقعہ کو لگانا مرتبہ خلاصہ پیش کرتے
- (ii) یہ واقعہ نگار مغل سلطنت کی تنظیموں کے بارے میں شواہد و اطلاعات کا ذخیرہ تھا۔
- (iii) اس کے حقیقی اسباب کا مقصد ان امیدوں کو پیش کرنا تھا جنہیں مغل حکمران اپنے علاقے میں لا کر کرنا چاہتے تھے۔
- (iv) یہ واقعہ نویس اس سلطنت کے تحت آنے والے کبھی لوگوں کے سامنے ایک باوقار ریاست کی جھلک دکھانے کے منصوبے کے تحت لکھے گئے
- (v) ان کا مقصد ان لوگوں کو جنہوں نے مغل حکومت کی مخالفت کی ان کو یہ بتانا ہی تھا کہ ان کی ساری مخالفت کا نا کام ہونا طے ہے۔
- (vi) حاکم یہ بھی طے کرنا چاہتے تھے کہ آنے والی نسلوں کے لیے ان کے نظام کا خلاصہ موجود ہے۔
- (vii) اکبر نامہ، اکبر کے دور، شاہنامہ شاہ جہاں کے دور، اور عالم گیر نامہ، اورنگ زیب کی دور حکومت کے دربار اور بادشاہ کی تاریخ کے بارے میں بتاتا ہے۔
- (viii) کوئی دوسرے نکات جو اقتباس سے متعلق ہو۔
- (i) -25 شاستروں کے مطابق چھتری ہی راجا ہو سکتے ہیں لیکن کئی اہم شاہی خاندان کی بنیاد دوسرے ذرائع سے ہوئی۔ جیسے موریا، سولنگھ اور کٹو۔

- (ii) سیاسی طاقت کا استعمال وہ ہر شخص کر سکتا تھا جو حمایت و ذرائع جٹا سکیں۔ شہنشاہیت (راجتو) چھتری کل میں پیدا ہوئے شاید ہی منحصر ہوتا تھا۔
- (iii) شنگ حکمران جو وسط ایشیا سے ہندوستان آئے تھے وہ ہر صم لوگ پلچے، بریز اور غیر ملکی مانتے تھے۔
- (iv) ستواہن خاندان کے سب سے مشہور راجا کوتھی پتر سہری ست کافی نے خود کو ایک انوٹھا براہمن اور ساتھ ہی چھتریوں اہم کو چلنے والا بتاتا تھا۔
- (v) ستواہن براہمن مانتے تھے جبکہ براہمن شاستری کے مطابق راجا کو چھتری ہونا چاہیے۔
- (vi) ستواہن میں ان لوگوں سے ازواجی تعلقات استوار کیے جو اس ذاتی نظام سے باہر تھے۔
- (vii) ستواہن باہمی شادی دیاہ کو مانتے تھے نہ کہ خارجی شادی کو مانتے تھے۔
- (viii) کئی تاجر براہمن اور چھتری تھے۔
- (ix) پر بھاوتی گپت نے ورن نظام کے برعکس اگر ہان دان کیا۔
- (x) ستواہن حاکموں کو ماں کے کوڑے سے پیچانا جاتا تھا۔
- (xi) کوئی دوسرے تسلیم نکات

یا

- (i) بھائی چارہ کے رشتوں میں بدلاؤ: ایک سطح پر مہا بھارت ایسی کی کہانی ہے جو بھائیوں کے دو گروہوں کو روکنے اور پانڈوؤں کے درمیان زمین اور حکومت کو لیکر ہوئے تنازع کی تصویر پیش کرتی ہے۔ دونوں ہی گروہ گرو خاندان سے وابستہ تھے۔ یہ تنازع ایک جنگ میں تبدیل ہو گیا جس میں پانڈوؤں کی جیت ہوئی۔
- (ii) مہا بھارت کی اصلی کہانی نے پداری نسب نامہ کے نظریہ کو مضبوط کیا۔
- (iii) اعلیٰ عزت والے خاندان کی کم عمر کی لڑکیوں اور عورتوں کی زندگی کو بہت ہی احتیاط سے پرورش کی جاتی تھی جس سے صحیح وقت پر اور صحیح شخص سے ان کی شادی کی جاسکے۔
- (iv) کنیاوان یعنی شادی میں لڑکی کے نذرانے کو باپ کا ایک اہم مذہبی ذمہ داری مانی گئی تھی۔
- (v) اس وقت داخلی زوجیت، خارجی زوجیت، کثیر زوجیت، کثیر شوہریت کا رواج رائج تھا۔
- (vi) عورت کا مقام بھی اہم تھا۔ دروپدی کی بے عزتی جنگ کا سبب بنی۔ کنئی کا کردار باعزت مقام والی عورتوں کی

بہتر مقام کا نمونہ ہے۔ گاندھاری نے بھی دریودھن کو جنگ نہ کرنے کا مشورہ دیا۔ جسے دریودھن نے نہیں مانا اور جنگ ہار گیا۔

(vii) راجا ووں میں جو اکیلے کا رواج یہ ظاہر کرتا ہے کہ ان میں برائیاں آگئی تھیں۔ کوروؤں نے فریب اور دھوکہ بازی کا جوا استعمال کیا وہ اخلاقی رواں کو ظاہر کرتا ہے۔

(viii) برہمنوں نے معاشرہ کے لیے وسیع پیمانے پر قانون بنائے۔

(ix) کوئی دوسرے قابل تسلیم نکات

(i) فرقہ وارانہ میل جول بحال کرنے کے لیے گاندھی جی نے عدم تشدد کے نظریے کو ایک بار پھر آزمایا۔

(ii) وہ مشرقی بنگال کے نوآکھلی (موجودہ بنگلہ دیش) سے بہار کے گاؤں میں اور اس کے بعد کلکتہ اور دہلی کے فسادات میں جھلسی ہوئی جموں پڑپٹیوں کے معائنے کے لیے نکل پڑے۔

(iii) ان کی کوشش تھی کہ ہندو مسلمان ایک دوسرے کو ماریں۔

(iv) ہر جگہ انہوں نے اقلیت کے لوگوں کو (ہندو اور مسلمانوں) دلاسا دیا۔

(v) دہلی میں انہوں نے ہندو اور مسلمانوں دونوں کے درمیان بھروسہ اور یقین بنانے کی کوشش کی۔

(vi) جان بچانے کے لیے بھاگ کر پرانے قلعہ کر بھٹیٹر والے کیمپ میں پناہ لینے والے شاہد احمد دہلوی نام کے دہلی کے ایک مسلمان نے 9 ستمبر 1947 کو دہلی میں گاندھی جی کے آنے کو "ایک بڑی لمبی اور سخت گرمی کے بعد برسات کی فواروں کے آنے جیسا محسوس کیا"

(vii) دہلوی نے اپنی تحریروں میں لکھا ہے کہ مسلمان ایک دوسرے سے کہنے لگے کہ اب دہلی بچ جائیگی۔

(viii) دہلی میں جب گاندھی جی نے دیکھا کہ دہلی کا دل کہلانے والی چاندنی چوک کی سڑک پر ایک بھی مسلمان نہیں تھا اسی شام کو انہوں نے اپنی تقریر میں کہا کہ "ہمارے لیے اس سے زیادہ شرم کی بات کہا ہو سکتی ہے کہ چاندنی چوک پر ایک بھی مسلمان نہیں ہے۔"

(ix) دہلی میں مسلمانوں کو شہر سے باہر نکلنے کی سوچ سے تنگ آ کر انہوں نے روزہ (شروع کر دیا۔ جس میں پاکستان سے آئے ہندو اور پناہ گزین بھی فاقہ میں ان کے ساتھ بیٹھے تھے۔

(x) مولانا آزاد نے لکھا ہے کہ اس (فاقے) روزہ کا اثر "آسام کی بجلی جیسا رہا۔ لوگوں نے مسلمانوں کے (خاتمے) سفاکے کی کوشش بیکار دکھائی دینے لگی۔

- (xi) کوئی دیگر نقطہ نظر اور
- (i) عدم تعاون سے پہلے گاندھی جی نے چپارن، کیز اور احمد آباد میں کامیاب ترین مقامی احتجاج چلانے۔
- (ii) رولٹ ایکٹ کے خلاف احتجاج اور ایک سچے قومی رہنما کی شکل میں ابھرنا۔
- (iii) گاندھی جی کے مطابق عدم تعاون کا ٹھیک ڈھنگ سے عمل پیرا ہوجانے تو بھارت ایک سال کے اندر خود مختار بن جائے گا۔
- (iv) عدم تعاون کے دوران طلباء نے اسکولوں اور کالجوں کا بائیکاٹ کیا۔
- (v) وکیلوں نے عدالت میں جانے سے منع کر دیا۔
- (vi) کئی قصبوں اور شہروں میں مزدور طبقہ ہڑتال پر چلا گیا۔ جس سے 70 لاکھ کام کے دنوں (Working days) کا نقصان ہوا تھا۔
- (vii) دیہات بھی بے چینی کی وجہ کرا احتجاج ہی بن رہے تھے۔
- (viii) شمالی آندھرا کی پہاڑی آدی واسیوں نے جنگل کے قوانین کی اندیکھی کر دی۔
- (ix) اودھ کے کسان نے ٹیکس ادا نہیں کئے
- (x) کوماؤن (Kumaon) کے کسانوں نے غیر ملکی افسران کا سامان ڈھونڈنے سے منع کر دیا۔
- (xi) ان تمام چیزوں کے لیے یکجہتی، قربانی، آپسی صلاح مشورے اور اصول، ضوابط کا پابند (مہذب) ہونا ضروری تھا۔ یہ اعلیٰ سطحی حکومت کے لیے بنیادی باتیں تھیں۔
- 1857 کی بغاوت کے بعد پہلی بار عدم تعاون کے نیچے کے طور پر برٹش حکومت بنیا دہلی گئی۔ فروری 1922 میں کسانوں کے ایک جماعت نے چوری چوراہوں میں ایک پولس انٹیشن پر حملہ کراس میں آگ لگا دی۔
- ان نڈر تیش والے حادثے میں کئی پولس والوں کی جان چلی گئی۔
- فساد کی وجہ کرا گاندھی جی نے یہ احتجاج فوری طور پر واپس لے لیا۔
- (xii) مہاتما گاندھی کے بارے میں امریکی مصنف (Lois Fisher) لوئی فیشر نے لکھا ہے کہ عدم تعاون، بھارت اور گاندھی جی کے زندگی کی مدت کا ہی نام ہو گیا۔ عدم تعاون سکون کے نھٹہ نگاہ سے نفی لیکن اثر کے نھٹہ نگاہ سے بہت اثر انداز تھا۔

(xiii) کوئی دوسرا نقطہ نظر۔

حصہ ج

- 1+2=3
- 27.1 - راجا اشوک موریا کو
- 27.2 الفاط کا اہل طریقے سے بیان ہونا۔
- (ii) الفاط کا (فتا) ختم ہو جانا
- (iii) کوئی دوسرا نقطہ نظر (کوئی دوسرا نقطہ)
- 27.3 ویدنا دانی تھا اور گناہوں کے لیے اسے افسوس ہوا
- (ii) جنگ کی جگہ دھم کی پالیسی کو اپنایا۔
- (iii) کوئی دوسرا نقطہ نظر (کوئی دوسرا نقطہ)
- 2+1+2=5
- 28.1 ایک مخصوص سروے اور نقشے کو تیار کرنے والا
- (ii) بھارت کا پہلا سرویر (Surveyor, General) جنرل
- 28.2 - ہمہ کی
- 28.3 - بھارت کے ماضی کو بہتر ڈھنگ سے سمجھنے کے لیے۔
- (ii) غیر ملکی حکمرانوں کو آساں بنانے کے لیے
- (iii) کوئی دوسرا نقطہ نگاہ
- 1+2+2=5
- 29.1 - اجتماعیت اور خود کو درمیان میں رکھ کر سوچنے کی عادت نہ ہو
- (ii) روحانی حکمرانی ہو
- (iii) کوئی دوسرا نقطہ نگاہ۔ کوئی دوسرا نقطہ نگاہ
- 29.2 - طبقتوں کے درمیان نظریاتی اختلاف کو کم کر کے ہم آہمی لانے کے لیے (کوئی دوسرا نقطہ نظر)
- 1+2+2=5
- 29.3 - اس سے (لگن) جذباتی لگاؤ پھیلے گا جو جانے کی بجائے ساری لگاؤ ہیں صرف صوبہ پر مرکوز ہوتی چاہیے۔

(ii) جمہوریت میں پری اسپروٹھی ہونے سے جمہوریت کا ڈوبنا معین ہے۔

(iii) کوئی دوسرا نقطہ نظر (کوئی دیکھنا)

حصہ ج

1+1=2

(A) مبینی -30.2

(B) احمد آباد

صرف نابینا طلباء کے لیے سوال نمبر 30.1 اور 30.2 کی جگہ پر
-30.1 معھرا، وارانسی، اجین، (دوسرے ملحق مقامات بھی تسلیم شدہ) (کوئی تین)

اور

سارنا تھ، بودھ گیا، کوشی نگر، لمبی، سراوتی (Shira Vasti) دوسرے ملحق مقامات بھی تسلیم شدہ (کوئی تین)

-30.2 دلی، میرٹھ، لکھنؤ، بنارس، کوالیر، جبل پور، آگرہ (دوسرے متعلق مقامات بھی تسلیم شدہ) (کوئی دو)

Multiple Choice

مضمون—5

- 11 ث
- 12 ب
- 13 ت
- 14 الف
- 15 ت
- 16 ب
- 17 ث
- 18 ت
- 19 الف
- 20 ت
- 21 فرانسيس برنيئر

مضمون—6

- 11 ث
- 12 ث
- 13 الف
- 14 ب
- 15 ت
- 16 الف

- 17 ت
- 18 الف
- 19 الف
- 20 ث
- 21 بودھ دیوی—مادی پتی

مضمون—7

- 11 ت
- 12 ث
- 13 ب
- 14 الف
- 15 ث
- 16 ب
- 17 الف
- 18 ث
- 19 ب
- 20 ث
- 21 کمل محل

مضمون—8

- 11 ب
- 12 ث

الف -13

ش -14

الف -15

ب -16

ش -17

الف -18

ب -19

الف -20

21- اپنے آشراداتوں کو اکبر نامہ کی پانڈولہی دے رہے ہیں

Multiple choice سوالوں کے جواب دیجیے

ت -11

الف -12

ب -13

ت -14

ب -15

ب -16

ش -17

ب -18

الف -19

ش -20

21- پروہت راجا

مضمون—2

ب	-11
ت	-12
الف	-13
ث	-14
الف	-15
ت	-16
الف	-17
ث	-18
ث	-19
الف	-20
سکھ شرس	-21

مضمون—3

ب	-11
ث	-12
ت	-13
الف	-14
ث	-15
ب	-16
ب	-17
الف	-18

- 19 ث
 -20 ت
 -21 شری کرشن ارجن کو ہدایت دیتے ہوئے

مضمون—4

- 11 ث
 -12 ت
 -13 ب
 -14 الف
 -15 ت
 -16 ث
 -17 الف
 -18 ب
 -19 الف
 -20 ث
 -21 مذہبی تبدیلیاں

مضمون—9

- 11 الف
 -12 ب
 -13 ب
 -14 ث

الف	-15
ب	-16
الف	-17
ت	-18
ت	-19
الف	-20
بلند دروازہ فتح پور سکری	-21

مضمون—10

الف	-11
ت	-12
ث	-13
الف	-14
الف	-15
ت	-16
ث	-17
الف	-18
ث	-19
ب	-20
سدھو ماہی	-21

مضمون—11

- 11 الف
- 12 ب
- 13 الف
- 14 ث
- 15 الف
- 16 ب
- 17 الف
- 18 ت
- 19 الف
- 20 ت
- 21 نا صاحب

مضمون—12

- 11 ب
- 12 الف
- 13 ت
- 14 الف
- 15 ب
- 16 ب
- 17 ت
- 18 ت

- 19 ب
- 20 ب
- 21 بمبئی ریلوے اسٹیشن

مضمون-13

- 11 ت
- 12 الف
- 13 ث
- 14 ت
- 15 ب
- 16 ت
- 17 ت
- 18 ت
- 19 ت
- 20 الف
- 21 مہاتما گاندھی

مضمون-14

- 11 ت
- 12 ب
- 13 الف
- 14 ث

- 15 ب
- 16 ت
- 17 ش
- 18 ش
- 19 ب
- 20 ت
- 21 خان عبدالغفار خان

مضمون—15

- 11 الف
- 12 ت
- 13 الف
- 14 ت
- 15 ب
- 16 الف
- 17 ب
- 18 ب
- 19 ت
- 20 ب
- 21 پنڈت جواہر لعل نہرو

تاریخ - درجہ XII
مشقی سوالنامہ نمبر-1

وقت 3 گھنٹے

کل نمبرات: 80

عام ہدایت :

- 1- کبھی ہدایت غور سے پڑھیں اور پابندی کریں۔
- 2- سارے سوالوں کے جوابات لازم ہیں۔ اس سوالنامے میں کل 34 سوال دیئے گئے ہیں۔
- 3- یہ سوالنامہ 5 حصوں پر منقسم ہے۔
- 4- حصہ الف میں (سوال 1 سے 21) معروضی سوال ہیں جو ایک نمبر والے ہیں۔
- 5- حصہ ب (سوال نمبر 22 سے 27) 3 نمبر کا ہے۔ ہر ایک سوال کا جواب 50 سے 60 الفاظ میں دیں۔
- 6- حصہ ج (سوال نمبر 28 سے 30) میں ہر ایک سوال 8 نمبر کا ہے۔ ہر سوال کا جواب 200 سے 250 الفاظ میں دیں۔
- 7- حصہ ڈ (سوال 31 سے 33) زرائع پر منحصر سوال ہے۔ ہر سوال 4 نمبر کا ہے۔
- 8- حصہ و (سوال 34) نقشے سے متعلق ہے۔ جس میں مقامات کی شناخت اور اہم نکات کی نشاندہی شامل ہے۔ یہ سوال 5 نمبر کا ہے۔ نقشہ کو اپنی جواب کی کاپی کے ساتھ منسلک کرنا ہے۔
- 9- حسب ضرورت سوالات کے درمیان متبادل اور شرائط دیئے گئے ہیں۔

حصہ (الف)

- 1- مگدھ کی شروعاتی راجدھانی تھی

(a)	پاٹلی پوتر	(b)	کاش
(c)	راجگیر	(d)	متررا

- 2- ہندوستانی آثار قدیمہ کا جنگل کے مانا جاتا ہے۔
- 1
- 3- مندرجہ ذیل بیان کو درست کر کے پھر سے لکھیے۔
- 1
- مغل مادرا نے طور سے ترکی حکمران تیسور کے خاندان سے تھے جبکہ پدرانہ طور پر چنگیز خان سے متعلق تھے۔
- 4- ان میں سے کون سا بیان امر نامک انتظام کی صحیح تشریح کرتی ہے۔
- 1
- (i) یہ وجہ نگر کا اہم سیاسی عمل تھا
- (ii) یہ دلی سلطنت کے ایک ناظم سے متاثر تھا۔
- (الف) صرف i
- (ب) صرف ii
- (ت) i اور ii دونوں
- (ث) ان میں سے کوئی نہیں
- 5- نیچے دیئے گئے تصویروں کو غور سے دیکھئے اور بتائیے کہ یہ تصویر کن سے متعلق ہے۔



- 5- صرف ماہی طلباء کے لیے سوال نمبر 5 کی جگہ پر آئین ساز کمیٹی کی پراروپ (Drafting) کمیٹی کے (
- 1
- صدر تھے۔

(الف) سردار بسھی بھائی پٹیل

(ب) جواہر لعل نہرو

(ت) جی۔ بی۔ پنت

- (ث) بی۔ آر۔ امبیڈکر
- 6- امراء طبقہ کیا ہے۔ 1
- 7- زیارت کا مطلب کیا ہے؟ 1
- (الف) کرشن کی بھگتی میں گایا جانے والا گیت
- (ب) بادشاہ اکبر کے درگاہ کی زیارت
- (ت) صوفی سنتوں کے مزاروں کا سفر
- (ث) صوفی سنتوں کے یوم پیدائش پر موم جلی جلانا
- 8- ”جب وہ ایک پتھر سے سانپ کو دیکھتے ہیں تو اس پر دودھ چڑھاتے ہیں۔ اگر اصلی سانپ آجائے تو کہتے ہیں مارو مارو بسوننا کے ذریعے تخلیق کردہ بیان کا مقصد کیا ہے؟
- 9- جوت وار تھے 1
- (الف) حفا نلقی وستے
- (ب) امیر گسان
- (ت) نکیس ملا زمین
- (ث) ایک پیاری آدی واسی
- 10- مندرجہ ذیل میں سے صحیح جوڑوں کو منتخب کیجیے۔
- (i) ڈیمنگو پیس — فارس
- (ii) نیکولو ڈی کوئی — اٹلی
- (iii) دیہارتے باربوسا — چین
- (الف) i اور ii دونوں درست ہیں
- (ب) صرف ii درست ہے
- (ت) i اور ii اور iii سبھی درست ہیں
- (ث) صرف iii درست ہے

- 11- گاندھی جی کے سیاسی سفر اور قومی احتجاج کی تواریخ کو فہرست بنانے کے لیے کارآمد کسی دو ذرائعوں کے نام لکھیے۔
1
- 12- آئین کے مطابق طاقت و مرکز کی سرکاری حمایت میں دی جانے والی کسی ایک دلیل کو لکھیے۔
1
- 13- ہڑپا تہذیب میں نشیبی شہر، قلعے سے کس طرح مختلف تھا۔
1
- 14- نیچے دو بیان دیئے گئے ہیں جس میں سے ایک کو بیان (A) کی شکل میں اور دوسرے کو وجہ (R) کی شکل میں دکھایا گیا ہے۔
1
- بیان (A) ساتواہن حکومت میں عورتوں کا کردار اہم تھا۔
وجہ (R) ساتواہن حکمرانوں کو ان کے مادرانہ نام سے مخاطب کیا جاتا تھا۔
(الف) صرف بیان (A) صحیح ہے
(ب) صرف وجہ (R) صحیح ہے
(ت) بیان (A) اور وجہ (R) دونوں صحیح ہیں پر وجہ (R) بیان (A) کا جواز نہیں ہے۔
(ث) بیان (A) اور وجہ (R) دونوں صحیح ہیں اور وجہ (R) بیان (A) کا جواز ہے۔
- 15- ورجے نگر سلطنت کا سرپرست (Guardian) دیوتا تھا
1
- 16- مندرجہ ذیل کو ایک دوسرے سے ملائیں
(i) البیرونی ازبکستان
(ii) ابن بطوطا مورکو
(iii) فرانسس برنیر اٹلی
- B (الف) i اور ii دونوں صحیح ہیں
(ب) صرف ii صحیح ہے
(ت) i اور ii اور iii سبھی صحیح ہیں
(ث) صرف iii صحیح ہے

17- مندرجہ ذیل میں سے کون سا تباہل جنوبی ہندوستان کے گاؤں میں ”ویلاز“ اور ”ادی مائی“ کسانوں کے بارے میں بتاتا ہے۔

(الف) ویلاز ایک کھیتی ہر اور ادی مائی زمیندار

(ب) ویلاز زمیندار اور ادی مائی کھیتی ہر

(ت) ویلاز کسان اور ادی مائی زمیندار

(ث) ویلاز زمیندار اور ادی مائی داس

18- دیئے گئے بیان کو پڑھیے اور آٹا قدیمہ کے ضابطوں کی پہچان کریں۔

”یہ قدیم زمانے کے حیوان کے باقیات ماہر ہوتے ہیں۔ انہوں نے حیوانوں کی ہڈیوں کی تحقیق و مطالعہ سے ہڑپا کے لوگوں کی زندگی گزارنے کے طریقوں کا پتہ لگایا ہے۔ اور اس نتیجہ پر پہنچے ہیں کہ ہڑپائی لوگ کچھ جانوروں کو پالتے تھے۔“

1- ماہر بناتات 2- ماہر حیاتیات

3- ماہر آٹا قدیمہ 4- ماہر نشریات

19- ذیل میں دیئے گئے کونسا جوڑوں میں سے جوڑا، بدھ علامتوں سے متعلق نہیں ہے۔

(الف) وہ مقام - مراقبہ میں بدھ

(ب) کبیر - بدھ کا خطبہ

(ج) بودھی درخت - بدھ کی پیدائش

(د) استوپ - مہاپری بنیان

20- دیئے گئے بیان کو پڑھ کر مہابھارت کے کردار کی پہچان کیجیے۔

☆ ”گورہ اور پانڈو کے گرو نے

☆ ایک لویہ کو اپنا شاگرد قبول نہیں کیا“

- (الف) گرووٹسٹھ (ب) گروویاس
(ج) گروسنڈیٹی (د) گروروانہ چاریہ

21- مہاجن پدوں کے تعلق سے کون سا بیان درست نہیں ہے۔

(الف) صرف ملدھ، کوشل، گندھارا اور آونتی ہی مہاجن پد تھے۔

(ب) زیادہ تر مہاجن پد حکمران کے ماتحت تھے۔

(ج) گن اور سنگھ جیسے ریاستوں میں عوام کا گروپ حکومت کرتا تھا۔

(د) ہر مہاجن پد میں ایک قلعہ بند دارالحکومت شہر ہوتا تھا۔

1- I, II اور III (2) II, III اور IV

3- I, III اور IV (4) I, II اور IV

حصہ

22- اٹھارہویں صدی کے دوران، بنگال کے زمینداروں کے اقتدار کو ایسٹ انڈیا کمپنی کنٹرول کرتی تھی وضاحت کیجیے۔

23- 1857 کی بغاوت میں افواہوں اور پمپشن کو بیوں کا کس حد تک تعاون تھا۔ وضاحت کیجیے۔

24- بودھک سماجی معاہدہ کا اصول کس طرح برہمن مت میں نظیر مرہے مختلف تھا؟

25- حکمران طبقہ صوفی سنتوں سے اپنے رشتہ مستحکم کیوں رکھنا چاہتے تھے؟

26- رعیت سے کیا مراد ہے؟ خودکاشت ارباب ہی کاشت کے فرق کو واضح کیجیے۔

27- موسم کے دو خاص گردشوں کے دوران، 16 ویں اور 17 ویں صدی کے دوران زراعت کس طرح کی جاتی تھی۔ مختلف فصلوں کی مثال دے کر سمجھائیے۔

یا

16 ویں صدی اور 17 ویں صدی کے درمیان زراعت معاشرہ میں خواتین کے کردار کو بیان کیجیے۔

27۔ وجے نگر کی جغرافیائی حیثیت/پوزیشن کی دو اہم خاصیتوں کی وضاحت کیجیے۔

یا

وجے نگر سلطنت میں امرنا یک کون تھے اور ان کا کیا عمل و کردار تھا، سمجھائیے۔

حصہ ج

28۔ ذات پات کے نظام اور ریاستی فرائض، براہمنی اصولوں کا مکمل طور پر پابندی نہیں ہوتی تھی۔

یا

قدیم سماجی اصولوں کے مطالعہ کے لیے مہا بھارت ایک بہترین ذریعہ/ماخذ ہے۔

29۔ 19 ستمبر 1947 کو دہلی میں مہاتما گاندھی کی آمد، طویل اور سخت گرمی کے بعد برسات کی پھواروں کے آنے جیسا تھا۔ اس بیان کی وضاحت کیجیے۔

30۔ ’عدم تعاون، امن کے نظریہ سے منفی لیکن اثر کے نقطہ نظر سے مثبت تھا۔ یہ اپنی حکومت کے لیے ایک تجربہ تھا‘۔ اس بیان کی وضاحت عدم تعاون تحریک کے پس منظر میں کیجیے۔

31۔ ذیل میں دیئے گئے اقتباس کو پڑھیے اور سوالوں کے جواب دیجیے۔

بادشاہ کا اضطراب

جب بادشاہ دیوئم حکومت کر رہا تھا تو کنگ (کالک) (آج کا ساحلی اڑیسہ) اس نے فتح کیا۔ ایک سو پچاس ہزار شہر بدر کیے گئے۔ ایک سو ہزار قتل کیے گئے اور بہت سے مر گئے۔

اس کے بعد اب جبکہ کلنگ (کا ملک) لیا جا چکا۔ دیونم پیا دھمہ کے گہرے مطالعہ میں دھمہ سے محبت میں اور لوگوں میں دھمہ کی ہدایت دینے میں منہمک رہے۔ کلنگ کے ملک کو فتح کر لینے کے سلسلے میں یہ دیونم پیا کا چچھتاوا ہے۔ یہ بات دیونم پیا واسی کے خیال میں بڑی تکلیف دہ اور قابل مذمت ہے کہ جب کوئی شخص کسی غیر مفتوحہ (ملک) کو فتح کر رہا ہو (تو) قتل، موت اور لوگوں کے شہر بدری وہاں (واقع) ہو۔

سوالات

- 1- دیونم پیا واسی کسے کہا گیا ہے؟
- 2- کتبائت کی اہمیت اور صد و دکان ذکر کیجیے۔
- 3- بادشاہ اشوک پر کلنگ کی جنگ کا کیا اثر پڑا؟

-32-

کولن میکنزی

کولن میکنزی کی پیدائش 1754 میں ہوئی تھی جو ایک انجینئر سر وینر (امین پیمائش) اور کارٹوگرافر (نقشہ نگار) کی حیثیت سے مشہور ہوئے۔ 1815 میں انھیں ہندوستان کا پہلا سر وینر جنرل مقرر کیا گیا۔ اور 1821 میں اپنی وفات تک اسی عہدے پر فائز رہے۔ ہندوستان کے ماضی کو بہتر طریقے سے سمجھنے اور نوآبادی کے انتظام کو آسان بنانے کے لئے وہ مقامی تاریخوں کو جمع کرنے اور تاریخی مقامات کا سروے کرنے کی مہم میں مشغول ہوئے۔ اس نے کہا کہ ”مرطانی حکومت کے زیر اثر آنے سے پہلے جنوب خراب انتظامات کی بدبختی سے طویل عرصہ تک جدوجہد کرتا رہا“۔ وجے نگر کے مطالعہ سے میکنزی کو یہ یقین ہو گیا کہ ایسٹ انڈیا کمپنی مقامی لوگوں کے مختلف قبیلے، جو اس زمانے میں بھی عام عوام کی آبادی کی تشکیل کرتے ہیں، کو اب بھی غالب طور پر متاثر کرنے والے ان میں سے بہت سے ادارے، قوانین اور رسم و رواج کے متعلق بہت سی فائدہ مند معلومات حاصل کی جاسکتی ہیں۔

سوالات

- (i) کالین میکنزی کون تھا؟

- (ii) میکٹھی نے ویجے نگر سلطنت دو بار روہریافت کی کوشش کس طرح کی۔
 (iii) ایسٹ انڈیا کمپنی کے لیے ویجے نگر سلطنت کا مطالعہ کر طرح کارگر تھا۔

-33

”منقسم وفاداری کے لیے کوئی جگہ نہیں ہو سکتی“

کوہندولہ پنت نے دلیل دی کہ وفادار شہری بننے کے تعلق سے لوگوں کو صرف فرقہ اور خود پر مرکوز سوچنے کا عمل بند کرنا ہوگا: جمہوریت کی کامیابی کے لیے ہر فرد کو خود مضبوط نفس میں تربیت یعنی ہوگی۔ جمہوریت میں ہر فرد کو خود اپنے لیے اور دوسروں کے لیے زیادہ فکر کرنی ہوگی۔ منقسم وفاداری کے لیے کوئی جگہ نہیں ہو سکتی۔ تمام طرح کی وفاداریاں، ریاست کے ارد گرد مرکوز ہونی چاہئیں۔ اگر جمہوریت میں آپ حریف وفاداریاں پیدا کریں یا آپ ایسا نظام بنا دیں جس میں کوئی فرد یا گروہ اپنے اسراف پر روک لگانے کے بجائے وسیع یا دیگر مفادات کے لیے کچھ پروا نہیں کرتے تو پھر جمہوریت کا انجام وراثت نامک ہے۔

سی. اے. ڈی. جلد دوم

سوالات

- 1- جمہوریت میں وفادار شہریوں کی کیا خصوصیت ہونی چاہیے؟
- 2- آئین مرتب کرتے وقت جداگانہ انتخاب کی مانگ کیوں کی گئی تھی
- 3- کوہندولہ پنت اس مانگ کے مخالف کیوں تھے دو وجوہات بیان کیجیے۔
- 34- (1) بھارت کے سیاسی نقشہ پر مندرجہ ذیل مقامات کی نشاندہی کیجیے۔

(الف) لوتھل - ایک ہڑپائی مقام

یا

سانچی - ایک اہم بودھ مقام

(ب) اجیر - اکبر بادشاہ کے ماتحت علاقہ

یا

کانپور - 1857 کا اہم مرکز

(ج) امرتسر

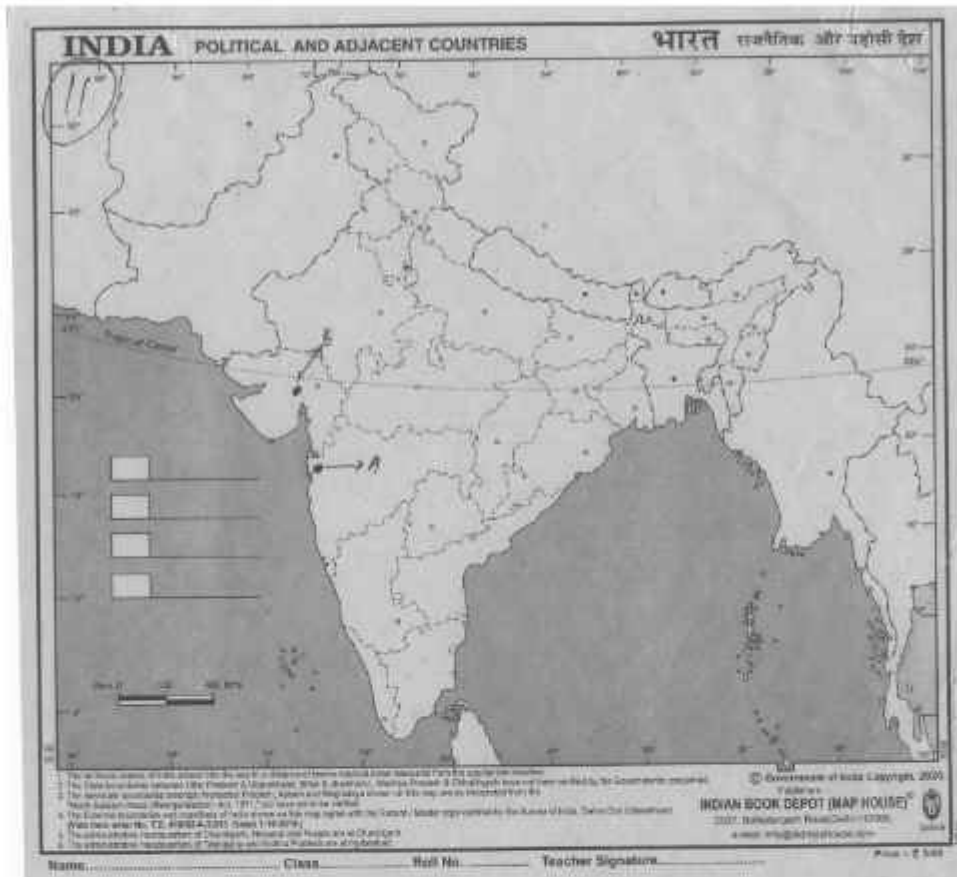
34- (2) بھارت کی اسی سیاسی نقشہ پر آزادی کو قومی تحریک سے متعلق مقام A, B نشان زد کیے گئے ہیں انہیں پہچاننے اور ان کے نام لکھیے۔

نوٹ: مندرجہ ذیل سوال صرف نابریا طالب علموں کے لیے ہے۔
چھٹی صدی ق۔ م کے کوئی تین اہم شہروں کے نام لکھیے۔

یا

کوئی تین اہم بدھ مقامات کے نام لکھیے۔

1857 کی بغاوت کوئی دو اہم مراکز کے نام لکھیے۔



تاریخ - درجہ XII
مشقی سوالنامہ نمبر-2

وقت 3 گھنٹے

کل نمبرات: 80

عام ہدایت :

ذیل ہدایات کو غور سے پڑھیں اور پابندی کریں۔

- 1- اس سوالنامے میں کل 34 ہیں۔ سبھی سوال لازمی ہیں۔
- 2- اس سوالنامہ کو پانچ حصوں میں الف، ب، ت، ث، ج منقسم کیا گیا ہے۔
- 3- حصہ الف میں سوال 1 سے 21 تک معروضی سوال ہر سوال 1 نمبر کے ہیں۔
- 4- حصہ ب میں سوال 22 سے 27، 3 نمبر والے ہیں۔ ہر سوال کا مختصر زیادہ سے زیادہ 50 سے 60 الفاظوں میں دیں۔
- 5- حصہ ت میں سوال 28 سے 30، 8 نمبر والے ہیں۔ ہر سوال کا جواب 200 سے 250 الفاظ میں دیں۔
- 7- حصہ ث سوال 31 سے 33 زراعت پر دیئے گئے ہیں۔ ہر سوال 4 نمبر کا ہے۔
- 8- حصہ ج میں سوال 34 نقشہ پر منحصر ہے اور 5 نمبر کا ہے۔ نقشہ کو جواب کاپی کے ساتھ بائیں دھنا ہے۔
- 9- حسب ضرورت سوالات کے درمیان متبادل اور شرائط دیئے گئے ہیں۔

حصہ (الف)

- 1- برطانیہ کے دور حکومت میں بمبئی (ممبئی میں)؛ فنڈ کی کئی محمول پالیسی تھی۔
- 1- استمراری بندوبست
- 2- قصوت
- 2- رعیت واڑی
- 4- چنی
- 2- ذیل میں دیئے گئے بیاناتوں پر غور کیجیے۔
- (i) بمبئی (ممبئی) کے ہنسماہتے نے خواتین کے لیے انصاف کی مانگ کی۔

(ii) دکھنی ولالو دھان نے سماجی محرمیوں کو فوراً ختم کرنے کی دلیل دی۔

مندرجہ بالا میں درست بیان ہے۔

A- صرف i B- صرف ii

C- دونوں i اور ii D- دونوں میں سے کوئی نہیں۔

3- ذیل میں کون سا بیان میرٹھ کے باغیوں، جنہوں نے بغاوت کی شروعات کی تھی، سے متعلق نہیں ہے۔

(a) سپاہیوں نے 10 مئی 1857 کو دہلی کی طرف کوچ کیا۔

(b) سپاہیوں نے ہتھیاروں کے گودام پر قبضہ کیا۔

(c) بغاوت کی شروعات نیو انٹیسٹری سے ہوئی۔

(d) سپاہی چاہتے تھے کہ بادشاہ عالم شاہ بغاوت کی رہنمائی کریں۔

4- ذیل میں دو بیان دیئے گئے ہیں۔ جن میں سے بیان A کی شکل میں اور دوسرا بیان R سبب کی شکل میں دیئے گئے ہیں۔ ان میں سے درست متبادل بتائیے۔

بیان A: الوارا اور نیا رستوں نے ذات پات کے نظام کی مخالفت کی۔

سبب R: بھگتی سنت مختلف سماجی پس منظر سے تھے۔

(الف) بیان A اور سبب R دونوں صحیح ہیں اور سبب R بیان A کی صحیح وضاحت بھی کرتا ہے۔

(ب) بیان A اور سبب R دونوں صحیح ہیں پر سبب R بیان A کی وضاحت نہیں ہے۔

(ج) صرف بیان A صحیح ہے۔

(د) صرف سبب R صحیح ہے۔

5- کول میز کانفرنس سے متعلق مندرجہ ذیل بیانات پر غور کریں۔

(i) کانگریس اور اہم لیڈروں نے پہلی کول میز کانفرنس میں شرکت سے انکار کیا۔

(ii) دوسری کول میز کانفرنس میں شرکت کے لیے بھارتیہ راشنریہ کانگریس نے گاندھی جی کو نامزد کیا۔

(iii) بی۔ آر۔ امبیڈ کرنے تینوں کول میز کانفرنس میں حصہ لیا۔

(iv) برطانوی حکومت دوسری کول میز کانفرنس میں آزادی کی بنیادی مانگ پر راضی ہوئی۔

(1) iv اور iii, ii, i (2) ii, i اور iii

(3) iv اور iii, ii (4) ii, i اور iv

6- بڑپا تہذیب میں مجسمہ سازی کے تعلق سے مندرجہ ذیل بیانیوں پر غور کریں۔

1- ناگیشور اور بالاکوٹ شنگھ سے بنی پیداواری اشیاء کے مرکز تھے۔

2- نیلے رنگ کا پتھر لاجوردنی افغانستان میں شور تو گھٹی سے لایا جاتا تھا۔

درست بیان ہے۔

(A) صرف i (B) صرف ii

(C) دونوں i اور ii (D) ان میں سے کوئی نہیں

7- قدیم میسوپوٹامیہ کی تحریروں میں تانبہ ”مگان“ نامزد مقام سے لانے کا تذکرہ کیا گیا ہے۔ یہ مقام آج ہے۔

(1) عراق (2) اومان (3) افغانستان (4) نیشاپور

8- وجے نگر کے حکمران کی شناخت بتائیے۔

1- وہ ہلویش سے تھے۔

2- انہوں نے 1512AD میں راجپور دوآب پر قبضہ کیا۔

9- جملہ کو درست کر کے، پتھر سے لکھیں۔

درودین شنگ وُش کا طاقت ور حکمران تھا۔

10- مندرجہ ذیل جوڑوں کو درست کر کے ملائیے۔

فہرست A	فہرست B
کوئٹہ	ہرش چرت
ہری شین	ارتھ شاستر
میگستھینز	الہ باد کا ستون کتبہ
بان بھٹ	یونان سفیر

صحیح متبادل بتائیں۔

A	B	C	D	
i	ii	iii	iv	(الف)
ii	iii	iv	i	(ب)
iii	ii	iv	i	(ج)
ii	iii	i	iv	(د)

11- عبدالرزاق سمرقندی کو کس کے سفر نامہ سے حوصلہ افزائی ملی۔

(1)	ابن بطوطہ	(2)	الہیرونی
(3)	میگستھینز	(4)	مارکوپولو

12- ذیل میں سے کوئی خصوصیت وجہ نگر کے امر نایکوں میں نہیں تھی۔

(الف) امر نایک فوجی کمانڈر تھے۔

(ب) امر نایکوں کو حکومت کرنے کے لیے ریاست کے کچھ حصے دیئے گئے تھے۔

(ج) امر نایک حکمرانوں کو تحائف بھیجا کرتے تھے اور اپنی وفاداری دکھانے کے لیے خود دربار میں پیش ہوتے تھے۔

13- آئین اکبری کا تیسرا حصہ ہے جو سلطنت کے مالی پہلوؤں کی جانکاری دیتا ہے۔

14- اٹھارویں اور انیسویں صدی کے درمیان زمیندار طاقتور کیسے بنے۔

(1) شہروں میں بسنے سے

(2) کسانوں کو قرض دینے سے

(3) بہت زیادہ ملکیت ہونے سے

(4) حکومت برطانیہ میں محصولات کو ادا کرنے سے

15- کوروا اور پانڈوکا تعلق..... جن پر سے تھا۔

(1) کرو (2) گدھ (3) پانچال (4) گندھار

16- ذیل میں سے کوئی تعلیم چین فلسفے سے متعلق نہیں ہے۔

الف۔ مکمل کائنات جاندار ہے

ب۔ عدم تشدد (اہسا)

ج۔ پیدا کش اور پتر جنم کا چکر کرموں (عمل) پر منحصر ہے۔

د۔ نروان (نجات) کے لیے درمیاندر راستہ ہی ضروری ہے۔

17- جنگم کا..... برادری (کیوٹی) سے تعلق ہے۔

(1) الوار (2) جین (3) بودھ (4) لنگایت

18- بھگوان مہاویر کے تعلق سے ذیل بیانیوں پر غور کریں۔

الف۔ بھگوان مہاویر 24 ویں تیر تھنکر تھے

ب۔ جین عالموں نے پراکرت، سنسکرت، ہمل وغیرہ زبانوں میں ادب کو تخلیق کیا۔

ج۔ جین مت کے دو فرقتے ہیں تان اور مہاپان ہیں۔

د۔ جین مت کی شروعات رشبھ دیو کے ذریعے ہوئی۔

صحیح متبادل بتائیے۔

- (1) iii اور ii, i
(2) iv اور ii, i
(3) iv اور iii, ii
(4) iv اور iii, ii, i

-19 "سلسلہ" کے لفظی معنی کیا ہیں۔

- (1) بھکتی (2) شاگرد (3) زنجیر (4) خدا کے برابر

-20 زیادہ تر کشان حکمرانوں نے کس خطاب کا انتخاب کیا۔

- (1) دیو پتر (2) دیونا مہیے (3) دیوراج (4) دیوتلیہ

-21 دی گئی تصویر میں یورپین پوشاک پہنے اس شخص کو پہچانئے اور اس کا نام بتائیے۔



بیانی سے معذور طلباء کے لیے سوال 21 کے بدلے

ابن بطوطہ اپنی ہندوستانی سیاحت کے دوران کن دو شہروں سے متاثر ہوا؟

- 1- دہلی اور اندرو
- 2- دہلی اور سورت
- 3- دہلی اور احمد آباد
- 4- دہلی اور دولت آباد

حصہ ب

22- اکبر کے دور حکومت میں زرعی زمین کی تقسیم کی وضاحت کیجیے۔

یا

16 ویں اور 17 ویں صدی میں مغل دور حکومت میں دیہی معاشرہ کی روزمرہ کی زندگی کی تفصیل بیان کریں۔

23- 1857 کے باغیوں کو کچلنے کے لیے برٹش حکومت نے جو طریقے اپنائے ان کا جائزہ لیجیے۔

24- خلافت تحریک کی تھی۔ گاندھی جی نے اسے عدم تشدد تحریک سے کیوں جوڑا؟

25- تاریخ ہند میں اشوک کے کتبوں کی کیا اہمیت ہے۔

26- آئین ساز اسمبلی میں مختلف ممبروں کے ذریعے قبائلیوں کی جن مسائل اور مشکلات کو اٹھایا گیا ان کو بیان کریں۔

27- ابو الفضل نے محصولات (لگان) کو ’راج شاہی کی کمائی‘ کیوں بتایا۔ اس کی وضاحت کیجیے۔

یا

آپ کس طرح مانتے ہیں کہ ہندوستان میں آئیوا لے سیاحوں کو یہاں کی غیر مساوی حالات کی جانکاری کے طور پر دیکھتے ہیں۔

28- زمینداروں نے اپنی زمینداری کو نیلامی سے بچانے کے لیے کیا طریقے اپنائے۔

یا

1770 اور 1780 کی دہائی میں راج محل کی پہاڑیوں کے لیے برطانوی افسروں کا رویہ کیسا تھا؟ اس کا تجزیہ کیجیے۔

29- 19 ویں صدی کے یورپی دانشوروں نے دیوی، دیوتاؤں کی تصویروں سے کیا سمجھا۔ اس کی وضاحت کیجیے۔

یا

دیوتاؤں کے مختلف اوتاروں کے اردگرد دوشینو وا کس طرح پھیلا، اس کی تشریح کیجیے۔

30- ”مہانومی ڈبید“ کی تخلیق (بناوٹ) اور اہمیت پر روشنی ڈالیں۔ کس سیاح نے مہانومی ڈبید اور سہامندپ کو مشترکہ طور پر ”فتح کا مقام“ کا نام دیا۔

یا

”کرشن دیودائے حکومت میں توسیع اور استحکام ہوا۔ اس بیان کے پس منظر میں سلطنت کے استحکام اور زوال کی وضاحت کیجیے۔“

حصہ ث

31- مندرجہ ذیل اقتباس کو غور سے پڑھیے اور سوالات کے جوابات دیجیے۔

دو خونی قرابت دار لڑے کیوں؟

یہ سنسکرت مہا بھارت کا آدمی پارون (لفظی معنی پہلا حصہ) کا اقتباس ہے جس میں یہ بیان کیا گیا ہے کہ کوروں اور پانڈوں میں یہ جھگڑا کھڑا کیوں ہوا؟

کورو (بھائی)..... دھرت راشٹر کے بیٹے تھے۔ اور پانڈو (بھائی)..... ان کے رشتے کے چچا زد بھائی تھے۔

چونکہ دھرت راکشتر اندھا تھا اس لیے اس کا چھوٹا بھائی پانڈو ہستنا پور کے تخت پر بیٹھا (ملا خطلہ ہو) نقشہ
 (1)..... بہر حال پانڈو کی بے وقت موت کے بعد، دھرت راکشتر ہی بادشاہ ہو گیا کیونکہ (خاص) راج کمار
 ابھی بہت چھوٹے تھے۔ جیسے جیسے یہ راج کمار ساتھ ساتھ بڑے ہوئے ہستنا پور کے شہریوں نے پانڈوؤں کے
 لیے اپنی ترجیح کا اظہار شروع کر دیا۔ کیوں کہ یہ بھائی کوروؤں سے زیادہ لائق اور نیک تھے۔ کوروؤں میں سب
 سے بڑے بھائی در پو دھمن کے دل میں اس کی خلش پیدا ہوئی۔ وہ اپنے باپ کے پاس پہنچا اور اس سے کہا کہ تم
 نے اپنے (جسمانی) عیب کی وجہ سے تخت نہیں لیا حالانکہ یہ تمہیں ہی مل رہا تھا۔ اگر پانڈو پدربہسی (اصول)
 کے تحت اپنے باپ پانڈو سے تخت حاصل کر لیتا ہے تو اس کا بیٹا بھی اسی قانون وراثت سے اور پھر اس کا بیٹا،
 اور آگے تک (نبی ہوگا) ہم اور ہمارے بیٹے شاہی جانشینی سے محروم کر دیے جائیں گے۔ دنیا اور زمین کے
 مالک کی نگاہوں میں ہماری حیثیت کتر ہو جائے گی۔

اس جیسے کلوے خالص لفظی اعتبار سے ممکن ہے حقیقت نہ ہوں مگر اس سے ہمیں یہ اندازہ ضرور ہو جاتا ہے کہ اس
 کے مرتب کرنے والے کیا سوچتے تھے۔ کبھی کبھی، جیسا کہ زیر نظر صورت حال میں نظر آتا ہے، ان میں متضاد
 خیالات بھی موجود ہوتے تھے۔

سوالات

- (الف) مہا بھارت رزمیہ میں کتنے موضوع ہیں۔
 (ب) مہا بھارت میں کن دو چھپرے بھائیوں کی کہانی ہے؟
 (ج) آپ کے مطابق اس اقتباس میں کس طرح کے سماجی حالات کو دکھایا گیا ہے۔ اپنے جواب کے حق میں ایک
 دلیل دیں۔

33۔ ذیل اقتباس کو غور سے پڑھیں اور سوالات کے جوابات دیں۔

مذہبی رسومات اور حقیقی دنیا

یہ باسونا کے ذریعے لکھا گیا ایک وچن ہے:

جب وہ پتھر میں تراشے سانپ کو دیکھتے ہیں تو اس پر دو وہ چڑھاتے ہیں۔

اگر اصلی سانپ آجائے تو کہتے ہیں ”مار ڈالو۔ مار ڈالو“۔

دیوتا کے اس خدمت گار کو جسے اگر غذا دی جائے تو وہ کھا سکتا ہے، وہ کہتے ہیں ”دور
ہنو۔ دور ہو“۔

لیکن بھگوان کی شبیہ کو جو کھا نہیں سکتی وہ کھانے پیش کرتے ہیں۔

سوالات

(الف) باسونا کون تھے؟

(ب) اس اقتباس میں باسونا کس رسم کا ذکر کیا ہے؟

(ج) رسموں کے متعلق باسونا کے نظریہ کو بیان کیجیے۔

33۔ ذیل اقتباس کو نو رے پڑھیے اور سوالات کے جوابات دیجیے۔

مہاتما گاندھی جدید عہد کے شدید نقاد تھے جس میں مشینوں نے انسانوں کو غلام بنا کر محنت کو بے دخل کر دیا تھا۔ وہ چرخہ کو
انسانی سماج کے ایک ایسے مظہر کے طور پر دیکھتے تھے جس میں مشینوں اور کمنا لوجی کی ستائش نہیں کی جائے گی۔ مزید برآں
چرخہ غریب لوگوں کو اضافی آمدنی فراہم کر سکتا تھا اور انہیں خود کفیل بنا سکتا تھا۔



میرا احتجاج مشینوں کے لیے خبط سے ہے۔ یہ خبط ان مشینوں کے لیے ہے جنہیں محنت بچانے والی مشینوں کہا جاتا ہے۔
لوگ اس وقت تک محنت بچاتے رہیں گے جب تک ہزاروں افراد بغیر کام کے اور بھوک سے مرنے کے لیے گلی سڑک پر نہ
پھینک دیئے جائیں۔ میں بنی نوع انسانی کے کسی ایک حصہ کے لیے نہیں بلکہ سبھی کے لیے وقت اور محنت بچانا چاہتا ہوں
میں دولت کی یکجا فراہمی، کچھ ہی لوگوں کے ہاتھوں میں نہیں بلکہ سبھی کے ہاتھوں میں کرنا چاہتا ہوں۔

بنگلہ انڈیا، 13 نومبر 1924

کھدر تمام مشینوں کو تباہ کرنا نہیں چاہتی بلکہ یہ اس کے استعمال کو منضبط کرتی ہے اور اس کی کمزور ترقی پر نظر رکھتی ہے۔ یہ مشینوں کا استعمال انتہائی غریب لوگوں کے لیے ان کی اپنی چھوٹی میٹریں میں کرتی ہے۔ پیپہ اپنے آپ میں ہی مشین کا ایک نقش حصہ ہے۔

ایک انڈیا 17 مارچ 1927

A-34۔ دیئے گئے ہندوستان کے سیاسی نقشہ پر مندرجہ ذیل کی نشاندہی کریں۔

(الف) بودھ گیا۔ جہاں بھگوان بودھ کو علم حاصل ہوا۔

(ب) احمد آباد۔ وہ مقام جہاں گاندھی جی نے 1918 میں مل مزدوروں کی حمایت میں شریک ہوئے۔

(ج) میرٹھ۔ وہ مقام جہاں اتر پردیش میں فوجی بغاوت شروع ہوئی۔

B-34۔ اس نقشہ پر بڑی تہذیب ک دو مقام A اور B کے طور پر نشان زد کیے گئے ہیں ان کے نام لکھیں۔



نوٹ:

